


四川省自贡市 2018 年中考历史真题试题

第 I 卷(选择题共 20 分)

在每小题给出的四个选项中，只有一项是符合题目要求的，每小题 1 分。

1. 某历史学习小组收集了以下图片，其探究图中工具最有可能出现的朝代为 ()



- A. 隋朝 B. 唐朝 C. 明朝 D. 清朝

【解答】依据教材知识可知，唐朝农民改进犁的构造制成曲辕犁，还创制了新式灌溉工具筒车。所以 B 选项符合题意。故选 B。

2. 下列选项与“古代对外友好交往”这一主题不符的是 ()

- A. 玄奘西行 B. 鉴真东渡 C. 郑和下西洋 D. 戚继光抗倭

【解答】鉴真东渡、玄奘西行、郑和下西洋都属于中外友好交往，戚继光抗倭属于中外冲突，性质不同，所以 D 选项属于与“古代对外友好交往”这一主题不符的内容。故选 D。

3. 宋人载：“舟师识地理，夜则观星，昼则观日，阴晦则观指南针”，可知指南针的直接作用 ()

- A. 推广民众教育 B. 消除封建制度 C. 发现美洲 D. 推动启蒙运动

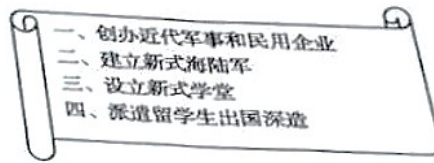
【解答】本题考查的是指南针的发明与应用。对上述材料理解最准确的是指南针在宋代已用于航海事业，所以指南针的直接作用是有利于发现美洲，C 选项符合题意。故选 C。

4. ……的签订，中国的主权和领土完整遭到破坏，古老的中国开始被卷入世界资本主义的旋涡。文前省略的是 ()

- A. 《南京条约》 B. 《天津条约》 C. 《马关条约》 D. 《辛丑条的》

【解答】1842 年 8 月《南京条约》签订，《南京条约》中规定中国割地、赔款、五口通商等，使中国国家主权和领土完整开始遭到破坏，古老的中国开始沦为资本主义国家的原料产地和商品销售市场，据此，A 选项符合题意。故选 A。

5. 右图为某同学的课堂笔记，反映的史实是（ ）



- A. 洋务运动 B. 戊戌变法 C. 辛亥革命 D. 新文化运动

【解答】仔细观察图片并结合所学知识可知，洋务运动，创办一批近代军事工业和民用工业。筹建南洋、北洋、福建三支海军，兴办近代学堂，培养军事、外交、科技人才；派遣学生到外国学习等。因而 A 符合题意。故选 A。

6. 右图所示的建筑，位于上海兴业路 76 号，是青少年爱国主义教育基地。它见证了（ ）



- A. 新文化运动诞生 B. 中国共产党成立
C. 人民军队的创建 D. 国民大革命发动

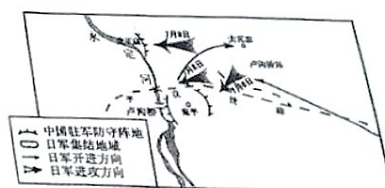
【解答】材料一中的“上海的兴业路 76 号”与中共一大的召开（或者中共的成立）有关。故选 B。

7. “铁壁合围难突破，暮色苍茫别红都。强渡湘江血如注，三军今日奔何处？娄山关前庭战急，遵义城头赤帜竖。舵手一易齐桨橹，革命从此上新途。”革命上“新途”的转折点是指（ ）

- A. 四渡赤水 B. 飞夺泸定桥 C. 三大主力会师 D. 遵义会议的召开

【解答】1935 年 1 月，中共中央政治局在贵州遵义召开扩大会议。这次会议是中国共产党历史上一个生死攸关的转折点，标志着中国共产党从幼稚走向成熟。题干中革命上“新途”的转折点是指遵义会议的召开。故选 D。

8. 历史地图可以使我们直观生动了解历史。下图反映的历史事件是（ ）



- A . 九一八事变 B . 七七事变 C . 八一三事变 D . 西安事变

【解答】仔细观察图片并结合所学知识可知，卢沟桥事变又称七七事变，所以 B 选项符合题意。故选 B。

- 9 . 某班开展以“一场深刻的工业化建设(1953-1957)” 为主题的课题讨论。据此判断，他们讨论的是 ()

- A . 解放西藏 B . 土地改革 C . 三大改造 D . “一五”计划

【解答】解放西藏是在 1950 年；土地改革发生在 1950-1952 年；一五计划发生在 1953-1957 年；1953 年-1956 年，三大改造运动。故选 D。

- 10 . “周恩来，这是一个光荣的名字、不朽的名字。每当我们提起这个名字就感到很温暖、很自豪。”下列选项中能体现周恩来“光荣”和“不朽”的是 ()

① 领导南昌起义②提出和平共处五项原则③参加万隆会议④加入世贸组织

- A . ②③④ B . ①②③ C . ①②④ D . ①③④

【解答】据所学知识可知，1927 年，周恩来参与领导南昌起义；1953 年周恩来提出和平共处五项原则；1955 年周恩来参加万隆会议，提出“求同存异”的方针。题干中能体现周恩来“光荣”和“不朽”的是①②③。故选 B。

- 11 . 党的十一届三中全会以后，经济体制改革首先在农村的广阔天地展开。下列说法不正确的是 ()

- A . 实行家庭联产承包责任制 B . 农民有了生产和分配的自主权
C . 农民获得了土地所有权 D . 极大调动了农民的生产积极性

【解答】结合所学可知，党的十一届三中全会以后农村经济体制改革实行的是家庭联产承包责任制，使得农民有了生产和分配的自主权，促进了农业的发展，极大调动了农民的生产积极性，促进农村经济的发展，故 C 错误；ABD 正确。故选 C。

- 12 . 1989 年 3 月，中央军委批准，确定 1949 年 4 月 23 日为人民海军纪念日。中国人民解放军的第一支海军为 ()

- A . 北洋舰队 B . 华东军区海军 C . 东海舰队 D . 南海舰队

【解答】据所学知，新中国成立前夕，我国建立了第一支海军--华东军区海军。新中国成立后，又相继建立了北海、东海和南海舰队。故选 B。

13. 14-16 世纪，欧洲文化领域发生了代表新兴资产阶级的“发掘和继承古希腊罗马传统，追求个性解放和思想自由的运动”。这场运动是（ ）

- A. 文艺复兴运动 B. 新航路开辟 C. 美国南北战争 D. 殖民扩张

【解答】14 世纪，文艺复兴运动在当时人们看来是古希腊罗马的复兴，故名“文艺复兴”，其实质是资产阶级叩响近代社会大门的思想解放运动。A 符合题意。故选 A。

14. 文学艺术是社会政治经济的反映，被誉为“俄国革命的镜子”的文化巨匠创作的作品有（ ）



- ①《战争与和平》 ②《罗密欧与朱丽叶》 ③《复活》 ④《安娜·卡列尼娜》 A. ①②③
B. ①②④ C. ①③④ D. ②③④

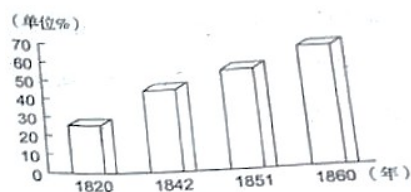
【解答】列夫·托尔斯泰是 19 世纪俄国著名作家，代表作有《战争与和平》、《安娜·卡列尼娜》、《复活》，其创作的作品有①③④。《罗密欧与朱丽叶》是莎士比亚的作品。故选 C。

15. 某同学在自主学习中摘录了“1640 年”“权利法案”“克伦威尔”等关键词，你认为他正在学习（ ）

- A. 英国资产阶级革命 B. 法国大革命 C. 美国独立战争 D. 启蒙运动

【解答】结合所学可知题干描述的英国资产阶级革命的史实。故选 A。

16. 下面是英国城镇人口比重变化图，出现这种变化的主要原因（ ）



- A. 就业机会的变化 B. 外来人口的增加

C. 工业革命的影响

D. 大规模资本输出

【解答】读图可知：英国在 19 世纪城镇人口所占的比重迅速增加，这主要得益于工业革命的完成。故选 C。

17. 以下选项对明治维新描述正确的有 ()

① 实现富国强兵②废除黑奴制度③走上资本主义道路④保留了天皇制度

A. ①②③

B. ①②④

C. ②③④

D. ①③④

【解答】②废除黑奴制度与日本明治维新无关，据此可排除 ABC 三个选项。故选 D。

18. 俄国十月革命在共产主义运动史上的地位 ()

A. 标志着马克思主义的诞生

B. 标志着高度集中的政治经济体制形成

C. 是实施社会主义工业化的开端

D. 是人类史上第一次胜利的社会主义革命

【解答】1917 年，列宁领导十月革命，推翻了资产阶级临时政府，建立了世界上第一个社会主义国家。故选 D。

19. 据下图信息，罗斯福总统采取的“行动”是 ()



“八年前，当这个共和国的生命似乎由命中注定的恐惧而停止时，……我们迅速、大胆、果断地采取了行动。”
——罗斯福 1941 年讲话

A. 对外进行侵略扩张

B. 推行“杜鲁门主义”政策

C. 放任经济自由发展

D. 加强国家对经济的全面干预

【解答】罗斯福新政的特点是加强国家对经济的干预。故选 D。

20. 小张探究“二战后世界格局的演变”时，取材不符合这一主题的是 ()

A. 《资产阶级统治的巩固与扩大》

B. 《经济全球化趋向的形成》

成》

C. 《“一超多强”局面的成因》

D. 《世界多极化发展趋势报告》

告》

【解答】19 世纪六七十年代是资本主义统治巩固和扩大时期，资产阶级统治的巩固，

小张探究“二战后世界格局的演变”时，取材不符合这一主题。故选A。

第Ⅱ卷(非选择题 共 20 分)

21. 探究历史人物的活动，有助于我们加深对历史的理解。(共 20 分)

(一)有为君主

(1)请将下列不同朝代的历史事件与相应的帝王进行匹配。(用字母表示)(4分)

南北归于统一	设置台湾府	文成公主入藏	营建北京城
A	B	C	D
隋文帝	唐太宗	明成祖	康熙

(2)结合所学知识，任选一位帝王，加以简要评价。(2分)

(二)英雄儿女

材料一 人民英雄纪念碑是中国历史上最大的纪念碑，碑底座的八幅巨大浮雕镌刻着 170 多个人物形象，生动而概括地表现出中国人民 100 多年来革命历程。以下是其中的四幅。



A. 虎门销烟



B. 武昌起

义



C. 抗日游击战争



D. 五四运

动

(1)将上述图片所示重大事件按时间先后顺序(用字母表示)。(2分)

(2)根据材料一并结合所学知识，任选一幅说明其入选人民英雄纪念碑浮雕的理由。(2

分)

(3)上述材料反映了怎样的革命历程。(2分)

(三)科学明珠

材料二

<p>北宋著名科学家__①__发明世界上最早的活字印刷术，推动了近代印刷术的发展。其发明对于促进世界文明的发展起到了重要作用；明朝著名药物学家__②__经过不懈努力，写出部具有总结性的药理学巨著《本草纲目》，被誉为“东方医学巨典”。它创立了世界上最先进的分类法，推进了世界生物学的发展。</p> <p>——摘自川教版教材等</p>	<p>近现代科学技术成就带来了远远超越以往的影响，以发现万有引力、创立经典力学的__③__为代表的近代科学家，为推动改变世界的工业革命做出了巨大贡献；以创立相对论的__④__为代表的现代科学家的科研成果，带来许多划时代的技术创新，从根本上改变着人类的生产方式和生活方式。</p> <p>——摘自岳麓版教材</p>
---	--

(1)阅读材料二，请在①、②、③、④空白处填入相应的内容。(4分)

(2)请从材料中摘取科学成就对社会影响的三个关键句，并用一句话加以说明。(4分)

【答案】一、(1) 隋文帝：A；唐太宗：C；明成祖：D；康熙：B。

(2) 示例：隋文帝是一位杰出的地主阶级政治家，他最大的功绩是统一全国

二、(1) ABDC。

(2) 示例：虎门销烟；理由：虎门销烟是中国人民禁烟斗争的伟大胜利，显示了中国人民抗击外来侵略的坚强意志。

(3) 反封建，求民主。

三、(1) ①毕昇；②李时珍；③牛顿；④爱因斯坦。

(2) 毕昇发明的活字印刷术对于促进世界文明的发展起到了重要作用，李时珍创立了世界上最先进的分类法，推进了世界生物学的发展。牛顿等近代科学家为推动改变世界的工业革命做出了巨大贡献，以爱因斯坦为代表的现代科学家的科研成果，带来许多划时代的技术创新，从根本上改变着人类的生产方式和生活方式；中外科学家都为推动人类的文明进步作出了卓越贡献。

