

2020年衡阳市初中学业水平考试试卷历史

满分 100 分 考试时量 90 分钟。

一、选择题

1. 历史图片的解读是学习历史的重要能力，下列图片突出反映的历史现象是



胡人汉服图



汉人胡食图

- A. 北方统一
 - B. 民族融合
 - C. 中外交流
 - D. 文化昌盛
2. 如果给下图所示的鉴真塑像做文字注解，应该选择



- A. 西游天竺，求取佛经
 - B. 政启开元，治宏贞观
 - C. 东渡日本，弘扬佛法
 - D. 主动请缨，征战海外
3. 2015年中国科学家屠呦呦获得了诺贝尔医学奖。下列古代人物中，与屠呦呦同属医学领域的是
①华佗 ②张仲景 ③祖冲之 ④李时珍
- A. ①②③
 - B. ①②④
 - C. ①③④
 - D. ②③④
4. 明清时期，“苏湖熟，天下足”的状况已不复存在，唐寅曾描绘苏州等地“五更市贾何曾绝，四远方言总不同”，工商业成为民众生计的主要来源和国家赋税的重要来源。这说
- A. 江南地区农业落后
 - B. 自然经济开始解体
 - C. 江南地区工商业发达
 - D. 南方经济落后于北方
5. 漫画针砭时弊，在一定程度上能揭示历史真相。下侧漫画反映的事件

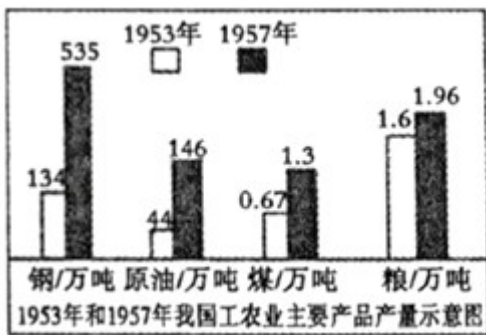


- A. 践行“实业救国”政策
B. 开启中国近代化道路
C. 进行制度变革尝试
D. 传播民主科学思想
6. 一位俄国记者记述了 1900 年 6 月 2 日发生在天津火车站的一幕：月光照耀着这些莽汉，照耀着他们的大刀和旗帜。一排子弹射过去，大旗倒下了，又举了起来，接着又倒了下去。这描写的是
- A. 三元里民众抗英斗争
B. 太平军抗击洋枪队
C. 义和团抗击八国联军
D. 国民革命军的北伐
7. “它使中国两千多年的皇帝制度彻底崩溃，是中国帝制与共和意识的分水岭，尽管它的结局是悲剧性的……”材料中的“它”是指
- A. 废除丞相
B. 太平天国运动
C. 辛亥革命
D. 新文化运动
8. “我们不出兵，让敌人压至鸭绿江边……首先对东北不利，整个东北边防军将被吸引住，南满电力将被控制。”此话表明中国人民志愿军出兵朝鲜的原因是（ ）
- A. 促进朝鲜统一
B. 提升中国的国际地位
C. 为了保家卫国
D. 防止朝鲜战争的爆发
9. 澳门从 1999 年到 2018 年,经济总量由 518.7 亿澳门元增长到 4446.7 亿澳门元，经历了开埠以来最为辉煌的时期。澳门经济繁荣发展的重要制度保障是
- A. 政治协商制度
B. 人民代表大会制度
C. “一国两制”制度
D. 民族区域自治制度
10. 宪法是法之统帅，是一国法律的“母法”和根本大法。下列哪项属于我国第一部社会主义类型的宪法
- A. 《中国人民政治协商会议共同纲领》
B. 《中华人民共和国民法通则》

C. 《中华人民共和国义务教育法》

D. 1954年《中华人民共和国宪法》

11. 如图为建国初期我国主要工业品产量变化柱状图。其中数据变化的主要原因是



A. 土地改革的完成

B. 抗美援朝的推动

C. 一五计划的实施

D. 人民公社化运动的推行

12. 《走向丰衣足食的世界》一书中写道：“他在农业科学上的成就击败了饥饿的威胁，领导着人们走向丰衣足食的世界。”文中的“他”是指

A. 焦裕禄

B. 邓稼先

C. 袁隆平

D. 钱学森

13. 一导游带团出国旅游，导游解说到：巍峨耸立的金字塔，令人毛骨悚然的木乃伊，美丽如画的文字……这里的文明成就令人惊叹，也令人迷惑。“这里的文明”诞生于

A. 黄河流域

B. 两河流域

C. 尼罗河流域

D. 印度河流域

14. 文艺复兴时期的知识分子正处于古典文明再生的时代，他们的生活重心不再只有上帝，也还关注现实人生，强调人的价值和尊严。这表明当时“知识分子”追求的是

A. 自由主义思想

B. 复兴希罗马古典文化

C. 人文主义思想

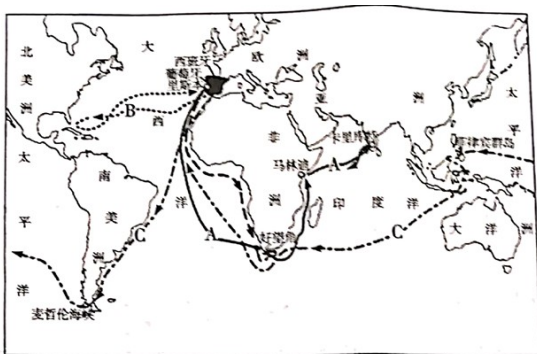
D. 民主平等思想

15. 如下图为国际社会主义运动整体发展趋势示意图，其中②处对应的历史事件是（ ）

- A. 刘发 B. 刘巴 C. 马殷 D. 李东阳
22. 北宋时期，湖南有两大著名书院，其中位于衡阳城北的是
- A. 岳麓书院 B. 应天书院 C. 石鼓书院 D. 白鹿洞书院
23. 1911年10月10日，武昌起义爆发，全国率先响应武昌起义的省是
- A. 河南省 B. 安徽省 C. 江西省 D. 湖南省
24. 抗日战争时期，国民党正面战场由防御到反攻的转折点是
- A. 长衡会战 B. 湘西会战 C. 衡宝战役 D. 常德会战
25. 被新中国文化部授予“中国人民杰出 艺术家”称号的湖南湘潭人是
- A. 齐白石 B. 田汉 C. 贺绿汀 D. 徐悲鸿

二、非选择题

26. 读下列图，回答问题新航路开辟示意图



新航路开辟示意图



- (1) 写出左图中 A、B、C 三条航线的开辟者。B 航线开辟于哪年？
- (2) 谈谈新航路开辟的影响。
- (3) 右图人物是谁？其主要事迹是什么？
- (4) 他身上有哪些精神品质值得我们学习？
27. 历史上中华民生不息勤劳、智慧、团结、勇敢，留下了丰厚 文明遗产。阅读下列材料，回答相关问题。
- 【治国理政】**
- 材料一 汉兴，扫除繁苛，与民休息。至于孝文，加之以恭俭，孝景遵业，五六十载之间，至于移风易俗，黎民醇厚，周云成康，汉言文景，美矣！
- 《汉书·景帝纪》
- (1) 依据材料一，归纳文景之治出现的原因。

【物质文明】

材料二 关于宋代制瓷业的材料



自 1949 年以来，考古发现的古代瓷窑遗址分布于我国十九个省、市、自治区的 170 个县，其中分布有宋窑的达 130 个县，占总数的 75%。由于宋瓷大量向海南诸国出口，成为当时风靡世界的畅销货，因而在对外贸易的港口附近建立了不少的瓷窑。如福建路泉州、同录、南安、安溪、莆田所制瓷器，多通过泉州港出口；两浙路武义、东阳以及其他州县的烧瓷，则通过州、明州出口。

——摘编自漆侠《宋代经济史》

(2) 根据材料二，结合所学知识，归纳宋代制瓷业的特点。

【文化价值】



陕西黄陵县黄帝陵

(3) 假如你是一名导游，就如图黄帝陵遗址写一段简短的解说词（包括人物身份、主要贡献和影响）。


28. 中国共产党的初心和使命，就是为中国人民谋幸福，为中华民族谋复兴。在今年的抗疫斗争中，中国共产党人表现出勇于担当、不辱使命的铮铮风骨。阅读下列材料，完成相关问题。

【开天辟地】

材料一 中国共产党的建立大事年表

- ①1919 年，《新青年》出版“马克思主义研究专号”，刊载了李大钊的文章《我的马克思主义观》
- ②1920 年夏，在共产国际的帮助下，陈独秀在上海建立了中国第一个共产党早期组织。
- ③1921 年 7 月中共“一大”召开，宣告了党的成立，通过了党的第一个纲领确定了党的中心工作是领导和组织工人运动。
- ④在党的组织和推动下，从 1922 年初到 1923 年春，全国掀起了第一次工人运动的高潮。

(1) 请从材料一的大事年表 4 个信息中任选两个信息提出一个论题，并用材料信息和所学知识对论题进行说明。（要求：论题明确，论证有据，史论结合，表述清楚。）



【抗日烽火】

材料二 1937年11月，朱德的家信：“我担负革命工作昼夜奔忙，十余年来坚（艰）苦生活，无一文薪水，与士卒同甘苦，决非虚语…近来转战华北，常处在敌人后方，一月之内二十九日行军作战…我决不能再顾家庭，家庭亦不能再累我革命……为国为民族求生存，决心抛弃一切，一心杀敌

——据央视大型综艺《信·中国》首期

(2) 根据材料二指出，信中体现了人民军队的哪些优良传统？并结合所学知识，分析朱德“转战华北”的重大意义。

【开放浪潮】

材料三 在对外开放的过程中，兴建经济特区成为一个重大突破。经过30多年的发展深圳从只有“一条街道、一盏红绿灯、一个小公园”的小镇，迅速崛起成为一座现代化大城市，创造了世界工业化、城市化和现代化发展史上的奇迹。

——摘自岳麓书社《中国历史》（八年级下册）

(3) 我国兴建的第一批经济特区除深圳外，还有哪几个？根据材料三并结合所学知识概括设立经济特区的作用（不得摘抄材料原文）。

29. 特朗普实行“美国优先”政策，用贸易战和提高军费对欧盟实行威压，欧盟被迫加强团结和自谋生存，以一个独立的力量在国际舞台上发挥越来越重要的作用。追溯欧洲历史，阅读下列材料，回答相关问题

【文明溯源】

材料一 我们的制度之所以被称为民主制，是因为城邦是由大多数人而不是极少数人加管理。……我们不但服从那些当权者，我们还遵守法律，尤其是遵守那些保护受伤害者的法律，不论这些法律是成文法还是未写成文字。”

——【古希腊】伯里克利《在阵亡将士国葬礼上的演讲》

(1) 根据材料一，归纳伯里克利时期古希腊民主政治的特点。

【近代传奇】

材料二 1750—1914 年，欧洲人成功地将自己的优势地位转变为世界性的霸权：19 世纪末，欧洲势力控制了大部分亚洲和几乎整个非洲地区……三个历史进程——革命、工业化及帝国主义——可以帮助我们理解欧洲人……何以逐渐地拉制了世界。

——摘编自杰里·本特利赫伯特·齐格勒《新全球史》

(2) 根据材料二，结合所学知识，分析“欧洲人成功地将自己的优势地位转变为世界性的霸权”的政治和经济因素各是什么？

材料三 第一次世界大战期间，英国失去了其对外投资的四分之一，法国失去了三分之二而德国则失去了其全部对外投资……第二次世界大战之后，不可阻挡的革命浪潮席卷诸殖民帝国，极其迅速地结束了欧洲的统治。正如欧洲在 19 世纪最后 20 年中迅速获得其大部分殖民地那样，欧洲在第二次世界大战后同样短的时期内又失去了其大部分殖民地。

——摘编自斯塔夫里阿诺斯《全球通史》

(3) 根据材料三，概括两次世界大战分别对欧洲产生了什么影响？

(4) 综合上述材料及探究，从欧洲历史的发展中你得到了怎样的启示？

试卷相关说明

本试卷的题干、答案和解析均由组卷网 (<http://zujian.xkw.com>) 专业教师团队编校出品。登录组卷网可对本试卷进行**单题组卷**、**细目表分析**、**布置作业**、**举一反三**等操作。

试卷地址：[在组卷网浏览本卷](#)

组卷网是学科网旗下的在线题库平台，覆盖小初高全学段全学科、超过 900 万精品解析试题。关注组卷网服务号，可使用移动教学助手功能（布置作业、线上考试、加入错题本、错题训练）。



学科网长期征集全国最新统考试卷、名校试卷、原创题，赢取丰厚稿酬，欢迎合作。
钱老师 QQ : 537008204 曹老师 QQ : 713000635