

# 2015年漳州市初中毕业暨高中阶段招生考试

## 历史试题

(考试形式：开卷满分：100分 考试时间：60分钟)

友情提示：请把所有答案填写(涂)到答题卡上!请不要错位、越界答题!!

姓名\_\_\_\_\_ 准考证号\_\_\_\_\_

一、单项选择题(本大题共20小题，每小题2分，共40分。每小题只有一个正确选项。请在答题卡的指定位置填涂所选答案的字母。)

1. 2014年8月，“跨越海洋——中国海上丝绸之路九城市文化遗产精品联展”在漳州展出，漳州地区可以参展的代表性作品有

- A. 半坡彩陶盆      B. 唐三彩      C. “克拉克”瓷      D. 景德镇瓷

2. 漳州文化艺术源远流长，下列文艺活动中被誉为“世界第一流的艺术”的是



- A. 大鼓凉伞      B. 布袋木偶戏      C. 芗剧      D. 竹马戏

3. 我国历史上第一个朝代是

- A. 夏朝      B. 商朝      C. 周朝      D. 秦朝

4. 如右表所示，这与北魏孝文帝的哪一项内容有关

- A. 改官制      B. 禁胡服  
C. 通婚姻      D. 改姓氏

鲜卑族姓	汉族姓
拓跋	元
步六孤	陆
独孤	刘

5. 今年印度总理莫迪访问，谱写了中印关系的新篇章。下列属于中印交流史上的友好使者是

- A. 张骞      B. 鉴真      C. 玄奘      D. 郑和

6. 北宋后期，一位四川商人在当地购买一批蜀锦，他最方便使用的货币是

- A. 铁钱      B. 铜钱      C. 交子      D. 会子

7. 李克强总理今年4月到福州三坊七巷参观严复故居。以下属于严复的译著是

- A. 《海国图志》      B. 《天演论》  
C. 《狂人日记》      D. 《新青年》

8. 图2是五四运动时期的纪念章，它最让我们铭记的五四精神是

- A. 和平      B. 自由  
C. 平等      D. 爱国



9. 下列不属于抗日战争时期的历史事件是

- A. 卢沟桥事变      B. 南京大屠杀  
C. 台儿庄战役      D. 辽沈战役

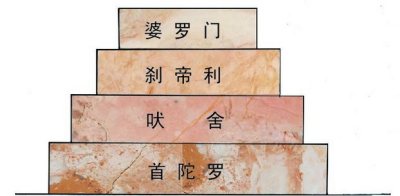
10. “百日维新成果”、“国家建立的最高学府”、“改称北京大学”这些信息点共同指向

- A. 清华大学      B. 京师大学堂      C. 复旦大学      D. 黄埔军校

11. 标志中国新民主主义革命取得伟大胜利，实现了民族解放和国家独立的历史事件是

- A. 人民解放战争的胜利      B. 新中国的成立

- C.三大改造的完成  
D.香港澳门回归
12. 被誉为“两弹元勋”的人物是  
A.黄继光 B.王进喜 C.邓稼先 D.焦裕禄
13. 2015年5月习近平访问并出席俄罗斯胜利日庆典,中俄积极构建全面战略协作伙伴关系。回顾历史,以下属于我国20世纪90年代的外交成就是  
A.周恩来出席万隆会议 B.中国重返联合国  
C.中美正式建交 D.中国加入亚太经合组织
14. “口述历史”是以收集和使用口头史料来研究历史的一种方式。就再现中共“十一届三中全会”的历史情境,最适合的访谈对象是  
A.新中国的工人代表 B.恢复高考后的大学生  
C.参加该会议的党代表 D.改革开放后的企业家
15. 1978年,安徽凤阳小岗生产队18户村民立下一份将田地包干到户的生产契约。这种“包干到户”的生产形式,发展成后来的  
A.家庭联产承包责任制 B.人民代表大会制  
C.民族区域自治制度 D.社会保障制度
16. 如图3所示,实行该制度的国家是  
A.古埃及 B.古印度  
C.古巴比伦 D.古希腊
17. “自由、平等”是社会主义核心价值观的基本内容。被马克思称为人类历史上“第一个人权宣言”的是  
A.《独立宣言》 B.《人权宣言》 C.《共产党宣言》 D.《解放黑人奴隶宣言》
18. 1933年与1922年相比,整个资本主义世界工业生产下降1/3以上,贸易总额缩减2/3,这说明了1929年爆发的世界经济大危机  
A.破坏性特别大 B.传播特别快 C.矛盾特别尖锐 D.持续时间特别长
19. 如果以“二战后世界格局的演变”为学习主题,以下属于这一主题的内容是  
① 巴黎和会 ② 杜鲁门主义 ③ 《北大西洋公约》 ④ 科索沃战争  
A.①② B.③④ C.①②③ D.②③④
20. 微信红包与2015年春节联欢晚会的互动,让其成为年夜饭的主菜单,“微信红包”除夕当日微信红包收发总量达10.1亿次。这的出现最主要利益于  
A.网络科技的发展 B.航天技术的进步  
C.报刊事业的革新 D.经济全球化发展



## 二、改错辨析题(共20分)

(一)改错题(21-24小题每题均有一处错误,找出错误并改正。每小题2分,共8分)

21. 1927年,井冈山会师是中国共产党独立领导武装斗争的开始。  
22. 为实现祖国统一大业,邓小平提出了“求同存异”的伟大构想。  
23. 宣扬人文主义的文艺复兴运动兴起于英国。  
24. 1938年召开的慕尼黑会议,把纵容法西斯侵略的冷战政策推向顶峰。

(二)辨析题(每小题均有两处错误,请写出错误并说明理由,每小题6分,共12分)

25. 清朝时期涌现了许多抗击外来侵略的光辉业绩:戚继光在沿海抗击倭寇、郑成功收复台湾和平定大小和卓(木)叛乱等,有利于国家的巩固和发展。  
26. 1955年,漳州市某人民公社通讯员小王正用广播通知:工作队准备开始划分土地,请相互转告。

三、材料解析题(第27题10分。第28题10分·共20分)

27. (10分) 今年我国两会提出“智慧城市”的新理念, 发展问题得到更多关注。阅读下列材料, 回答问题。

材料一 如图5

材料二 它是我国12世纪初的一幅杰出风俗画, 集中表现了北宋政治经济中心汴京繁荣热闹的景象, 具有深刻的社会意义。

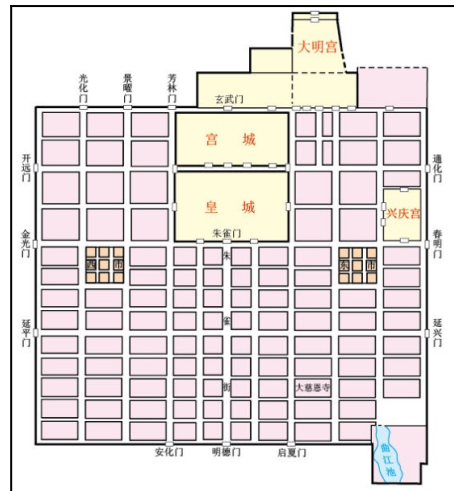
——北师大《历史》七下教师用书

材料三 1918年, 护法军政府粤总司令陈炯明率部入闽, 建立以漳州为中心的闽南护法区。护法军政府提出“提倡新文化, 建设新社会”, 推行了不少进步措施, 漳州出现了新气象。漳州向近代化城市迈进了一大步。

——《漳州历史》

材料四 工业化、城市化的飞速发展, 大大地改变现代社会生活的属性。……进入20世纪以后, 汽车的普及大大扩展了人们的远足能力, 驱车上班或郊游日渐成为一种时尚。

——华师版《世界历史》九下教师用书



(1)材料一图中5是我国古代哪个城市的平面示意图?(2分)

(2)材料二中的“风俗画”名称是什么?(2分)

(3)材料三中出现“新气象”, 使漳州被称作什么?(2分)

(4)结合所学知识, 请你谈谈我们在城市发展过程中应注意什么问题?(2分)

28. (10分)拿破仑是个传奇历史人物, 他给我们留下了许多值得思考的历史问题。阅读下列材料, 回答问题。

材料一 “恰巧拿破仑这个科西嘉人做了被弄得筋疲力尽的法兰西共和国所需要的军事独裁者。”

——恩格斯

材料二 《拿破仑法典》第一次确认了民事权利平等、废除贵族特权、财产所有权无限和契约自由等民法基本原则。有些国家以该法典为蓝本制定本国的民法典。

——改编自北师大版《历史》九年级上册

材料三 拿破仑通过不断的对外战争建立起辽阔的大帝国, 将比利时、荷兰、德意志和意大利的一部分据为直接统治区, 间接统治的地区则有意大利王国、莱茵联邦、威斯特伐利亚王国、西班牙王国、瑞士、华沙大公国等。

——华师版《世界历史》九年级上册

材料四 1810——1826年, 波澜壮阔的拉丁美洲独立运动, 粉碎了西班牙、葡萄牙的殖民枷锁, 创建了17个独立国家, 基本奠定了现代拉美的政治版图。



图6 《拿破仑法典》封面

(1)材料一中的“军事独裁者”建立了什么帝国统治?(2分)

(2)根据材料二,该法律是什么性质的法典(2分)

(3)材料三中的拿破仑战功显赫。他一生经历许多著名战役,请列举一例与他有关的战役。(1分)

(4)材料四中的拉丁美洲运动与欧洲革命息息相关。请你列举拉丁美洲独立运动领导人一位。(2分)

(5)根据以上四则材料,概括出拿破仑的活动对社会发展的推动作用。(3分)

四、综合题(第29题10分,第30题10分,共20分)

29.(10分)近代化(也叫早期现代化)是近代以来世界各国发展的必由之路,其探索充满艰辛,艰辛孕育新的发展。让我们一起探索它的发展历程。

【图示历史】

鸦片战争以后,一股向西方学习的新思潮萌发,近代中国向西方学习经历了三个层次。

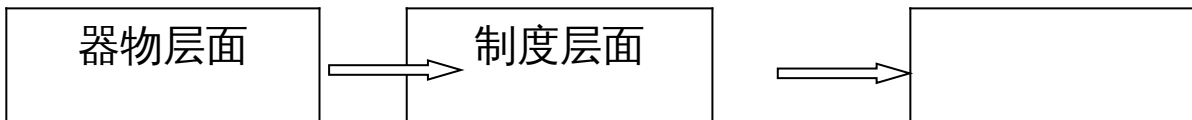


图7

(1)近代中国在学习器物层面上,提出了什么口号?(2分)在学习制度层面了结束了中国两千多年封建帝制的历史事件是什么?(2分)如图7所示,第三层面空白处应该填写什么内容?(2分)

【图说历史】



图8

(2)图8反映的是当时社会在移风易俗方面出现的什么变化?(2分)

【探究历史】

(3)综合以上探究,请你概括出近代化包含哪几个方面的内容?(2分)

30. (10分)2015 年是世界人民反法西斯战争胜利 70 周年。为了纪念这一事件，世界各国纷纷举办庆祝活动，某地要建立一个二战纪念馆，请同学们帮忙出谋划策。

### 第一展厅 照片厅

—— 照片铭记历史瞬间

图 9      图 10

(1) 图 9 是苏联 1941 年红场阅兵的照片，当时苏联的最高领导人是谁？(2 分)

图 10 铭刻的是二战期间召开的一次重要会议，这是哪一场会议？(2 分)

### 第二展厅 文献厅

—— 文献再现历史情境

(2) 以上文献的签订有何历史意义？(2 分)

### 第四展厅

### 第三展厅 音像厅

—— 歌曲唤醒历史记忆

(3) “起来，不愿做奴隶的人们，把我们的血肉筑成我们新的长城，中华民族到了，最危险的时候！”以上歌词出自哪一首歌曲？(2 分)

(4) 请你模仿示例，为纪念馆设计第四展厅（不可与前面重复）。(2 分)

示例 主题：照片厅 内容：红场阅兵照片

主题：            内容：

2015年漳州市初中毕业暨高中阶段招生考试

历史参考答案及评分建议

一、单项选择题(本大题共20小题,每小题2分,共40分。)

题号	1	2	3	4	5	6	7	8	9	10
答案	C	B	A	D	C	C	B	D	D	B
题号	11	12	13	14	15	16	17	18	19	20
答案	B	C	D	C	A	B	A	A	D	A

二、改错辨析题(共20分)

(一)改错题(每小题2分,共8分。错别字一个字扣1分)

21. 错误:井冈山会师 改正:南昌起义

22. 错误:“求同存异” 改正:“一国两制”

23. 错误:英国 改正:意大利

24. 错误:冷战政策 改正:绥靖政策

(二)辨析题(每小题6分,共12分)

25. (1) 错误:戚继光在沿海抗击倭寇

理由:戚继光抗倭发生在明朝,不是清朝。

(2) 错误:平定大小和卓(木)叛乱

理由:平定大小和卓(木)叛乱是清朝内部巩固统一多民族国家的措施,不属于抗击外来侵略的范畴。

26. (1) 错误:人民公社

理由:人民公社化运动发起于1958年。

(2) 错误:开始划分土地

理由:土地改革于1952年底基本完成。

三、材料解析题(第27题10分,第28题10分,共20分)

27. (1)长安(2分)

(2)《清明上河图》(2分)

(3)“中国南部革命中心”(2分)

(4)卡尔·本茨。(2分)

(5)城市发展与环境保护的关系;城市发展与文物保护的关系;城市发展与传承地域文化的关系。(符合题意,意思相近即可,一点1分,共2分)

28. (1)建立法兰西第一帝国(2分)

(2)资产阶级(2分)

(3)奥斯特里茨战役、滑铁卢战役等(举出一例即可)(1分)

(4)玻利瓦尔、圣马丁、伊达尔哥等(举出一例即可)(2分)

(5)拿破仑的统治巩固了法国大革命的成果;他颁布的《拿破仑法典》,为其他国家制定民法典的提供了范本;他的对外扩张,打击了欧洲各国的封建势力,一定程度上使法国大革命的某些成果推广到其他所征服的地区;推动了拉丁美洲独立运动。(一点1分,共3分)

四、综合题(第29题10分,第30题10分,共20分)

29. (1)“自强”、“求富”(2分) 辛亥革命(2分) 思想文化层面(2分)

(2)剪发辫(2分)

(3)政治民主化、经济工业化、思想科学化、社会生活西化(一点1分,共2分)

30. (1)图9 斯大林(2分) 图10 雅尔塔会议(2分)

(2)标志着世界反法西斯统一战线(同盟)最终形成(2分)

(3) 《义勇军进行曲》(2分)

(4) 示例 主题：实物厅 内容：美国“密苏里”号军舰  
遗址厅 纳粹德国集中营

(主题 1 分，内容 1 分，共 2 分)