

## 2010年全国中考按课标汇编——中国现代史部分

### (一)中华人民共和国的成立和巩固

#### 【内容标准】

(1) 讲述开国大典的史实，认识新中国成立的历史意义。

7. (2010年荆门市) 对联是中华民族优秀传统文化的主要组成部分，具有很强的时代性。下列对联中反映新中国成立的是 ( D )
- A. 食堂巧煮千家饭，公社饱暖万人新 B. 改革开放同添异彩，经济建设共展宏图  
C. 扎根农村干革命，志在全球一片红 D. 万里河山归人民，五亿群众庆新生
- 10 (2010年福州市) 右图是中华人民共和国国庆 60 周年庆典上的镜头，与它相关的历史事件是 (B)
- A. 三大战役 B. 新中国成立  
C. 西藏和平解放 D. 土地改革
- 21 (2010年东莞市) 1949年中华人民共和国建立，中国历史从此揭开了新的篇章。对“新篇章”理解不正确的是 (A)
- A. 标志着中国从此走上社会主义道路  
B. 标志着新民主主义革命胜利  
C. 标志中国半殖民地半封建时代结束  
D. 标志着中国人民成为国家的主人
- 15 (2010年贵港市) 结束了一百多年来帝国主义勾结封建统治者剥削压迫中国人民的历史事件是 (C)
- A. 西藏的和平解放 B. 抗美援朝战争的胜利  
C. 中华人民共和国的成立 D. 中华民国的成立
- 3、(2010年河池市) 五星红旗第一次冉冉升起，孙爷爷和家人齐集天安门经历的活动是 (A)
- A. 开国大典 B. 中华民国的成立  
C. 南京国民政府成立 D. 武汉国民政府的成立
1. (2010年河北省) 2009年10月1日，首都各界庆祝中华人民共和国成立60周年大会在北京天安门广场隆重举行，20万军民以盛大的阅兵仪式和群众游行欢庆伟大祖国的这一盛大节日。国庆盛典 (B )
- ① 展示了新中国成立以来取得的巨大成就 ② 显示了人民军队的威武强大  
③ 表明我国已进入全面小康社会 ④ 激发了中国人民的民族自豪感  
A. ①②③ B. ①②④ C. ①③④ D. ②③④
15. (2010年衡阳市) 拿破仑曾说:中国是一只沉睡的雄狮，它一旦醒来，整个世界都会为之颤抖。标志着雄狮醒来、“中国人民站起来了”的历史事件是 B
- A. 中国抗日战争胜利 B. 中华人民共和国成立  
C. 中华人民共和国恢复在联合国合法席位 D. 北京奥运会召开
- 9 (2010年苏州市) 历史谱写着歌曲，歌声凝聚着历史。有一首歌唱道：“让我告诉世界，中国命运自己主宰；让我告诉未来，中国进行着接力赛……”。你知道中国人民“命运自己主宰”开始于 ( ) B
- A. 三大战役取得胜利 B. 中华人民共和国成立  
C. 社会主义制度建立 D. 第一个五年计划实施
- 10 (2010年泰州市) 右面的邮票是为了纪念中国人民政治协商会议第一届全体会议胜利

召开而发行的。关于这次会议的说法不正确的是

- A. 会议的主要任务是讨论建立新中国的有关事宜
- B. 会议通过了具有临时宪法性质的《共同纲领》
- C. 会议制定了中国第一部社会主义类型的宪法——《中华人民共和国宪法》
- D. 会议选举产生了中华人民共和国中央人民政府委员会

解析：第一届中国政治协商会议是新中国的筹建会议，会议通过了具有临时宪法性质的《共同纲领》，选举产生了中华人民共和国中央人民政府委员会等内容；ABD 都是正确的。C 选项，制定中国第一部社会主义类型的宪法——《中华人民共和国宪法》，与之相关的是 1954 年 9 月在北京召开的第一届全国人民代表大会。答案：C

10. (2010 年无锡市) 2010 年 3 月 14 日，国务院总理温家宝在十一届全国人大三次会议的记者见面会上说：“我们国家的发展不仅是要搞好经济建设，而且要推进社会的公平正义，促进人的全面和自由发展，这三者不可偏废。……我认为，公平正义比太阳还要有光辉。”新中国成立后，党和国家非常重视民主法制建设，建国初期起到临时宪法作用的是 (C)

- A. 《中华民国临时约法》
- B. 《刑法》
- C. 《共同纲领》
- D. 《中华人民共和国宪法》

14 (2010 年盐城市) 毛泽东词句“……人民五亿不团圆。一唱雄鸡天下白，万方乐奏有于阗……”反映的重大历史事件是 (D)

- A. 长征结束
- B. 西安事变和平解决
- C. 抗日战争胜利
- D. 新中国成立

1. (2010 年宁夏) 中国现代史是党领导全国各族人民进行社会主义现代化建设的历史，其

开端是 (D)

- A. 1911 年辛亥革命
- B. 1919 年五四运动
- C. 1921 年中国共产党成立
- D. 1949 年中华人民共和国成立

24 (2010 年青岛市) “我们所做的一切都是为了让人民生活得更加幸福、更有尊严。”这是温家宝总理在今年的两会上对尊严内容的阐述 (如右图)。追溯历史，中华民族摆脱屈辱，有了“站起来”的“尊严”开始于 (B)

- A. 中华民国成立
- B. 新中国的成立
- C. 抗美援朝的胜利
- D. 一五计划完成



18. (2010 年四川省乐山市) 2009 年 10 月 1 日，新中国建国 60 周年庆典上，天安门广场以复兴之路为主题，举行了盛大的阅兵式和群众游行。下面是一组庆典上的游行方阵，其中喻指新中国诞生的是 (A)



- A. 开天辟地方阵
- B. 艰苦创业方阵
- C. 春天的故事方阵
- D. 走进新时代方阵

(2) 简述西藏和平解放的基本史实。

22. (2010 年河北省) 我国是一个统一的多民族国家，加强民族团结，维护国家统一是中华民族的最高利益。左宗棠收复新疆、西藏和平解放在统一多民族国家的发展历程中具有重要地位。两者取得成功的相同原因有 (C)

- ① 得到了当地各族人民的支持和拥护
- ② 采取了正确的策略

- ③与当地地方政府达成了和平解放协议 ④进行了充分的军事准备  
A. ①②③ B. ②③④ C. ①②④ D. ①③④

21. (2010年綦江县) 在古代,我国中央政府十分重视对西藏的管理,新中国成立以后党和国家也为西藏地区的发展作不懈努力,并取得了辉煌的成果。请回答:

- (1)列举清朝政府加强管理西藏地区的史实两例。(2分)  
(2)1951年西藏是通过什么方式实现了解放?西藏的解放有何历史意义?(3分)  
(3)建国后我国政府在西藏实行怎样的民族管理制度?(1分)

21(1)A.顺治帝和康熙帝先后册封喇嘛教首领五世达赖和五世班禅;

B.雍正时,设置驻藏大臣,代表中央与达赖和班禅共同管理西藏;

C.通过“金奔巴瓶”制度确定达赖、班禅继承人时,由驻藏大臣督办。(2分)(任举两点即可)

(2)和平解放(1分);A.使祖国大陆实现了统一;B.使西藏人民摆脱了帝国主义的侵略和奴役,为西藏的民主改革创造了条件,给西藏的发展带来了光明的前途。(2分)

(3)民族区域自治制度(1分)

31. (2010年娄底市) 2010年3月,全国对口支援新疆工作会议在北京召开。会议强调:“进一步加强对口援疆工作,是新形势下中央新疆工作总体部署的重要组成部分是加强新疆发展、维护新疆稳定的重要举措。……把作为我国反分裂、反渗透、反恐怖主战场的新疆经济社会发展搞上去,需要进一步动员组织全国力量,支援新疆、发展新疆。”

结合所学知识,回答相关问题:

#### 【民族交往】

(1)汉朝时,汉武帝派张骞两次出使西域,建立了西汉与西域各国的友好关系,促进了西域的开发,开辟了一条从长安出发,经河西走廊、今新疆地区,到达中亚、西亚和南亚,通往欧洲的商道,该商道史称什么?(2分)它的开辟有何意义?(2分)

#### 【主要管辖】

(2)新疆自古以来就是中国领土不可分割的一部分。清朝时期率军收复新疆的英雄是谁?(2分)请举一例我国古代政府加强对新疆管理,维护祖国统一的史实。(2分)

(3)新中国成立后,为体现少数民族人民当家作主,中央在新疆实行怎样的政治制度?(2分)

#### 【新疆发展】

**材料一** 改革开放以来,新疆经济综合能力大大增强:2004年新疆生产总值达到2200亿元,农业生产总值750亿元,比1955年增长17倍;各族人民生活水平显著提高:2004年城镇人均可支配收入元,农民人均收245元,全区人口平均寿命67.41岁。

——摘自新华网

**材料二** 2009年7月5日,新疆乌鲁木齐市发生了打砸抢烧严重犯罪事件,这是一直典型的境外指挥,境内行动,有预谋、有组织的不断改进性犯罪事件。

——摘自人民网

(4)结合以上材料,谈谈你对促进新疆进一步发展的建议。(2分)

(3)讲述黄继光、邱少云等英雄事迹,体会志愿军战士的爱国主义和革命英雄主义精神。

16. (2010年芜湖) 国际关系史是历史学习的一个重要内容。某校历史小组同学围绕以下三个主题开展了探究活动,请你参与并帮助他们回答问题。

主题一:今年是抗美援朝战争爆发60周年。60年前,中国人民志愿军奉命出兵朝鲜,

同朝鲜军民并肩作战，五战五捷，把美国侵略军赶回到“三八线”附近，取得了抗美援朝战争的胜利。

(1) 简述中国人民志愿军出兵朝鲜的原因。(3分)

(2) 抗美援朝战争的胜利有什么历史意义？(3分)

主题二：1999年，以美国为首的北约越过联合国安理会，对南联盟进行狂轰滥炸，造成南联盟的重大人员伤亡和物质损失中国驻南大使馆也遭北约导弹袭击，这就是科索沃战争。其间，美国首次打出了“人权高于主权”的旗号。

(3) 应该如何评价科索沃战争？(2分)

(4) 美国提出的“人权高于主权”的实质是什么？(2分)

主题三：中美建交后，仍不断有摩擦和冲突，如，2004年撞机事件，2009年美国向台湾出售武器等。因此，有同学认为还是不与美国建交为好；有的同学则认为，中美之间虽然有一定的摩擦和冲突，但双方有更广泛的合作空间，应该友好合作。

(5) 请谈谈你对中美关系的认识。(2分)

16. (1) 美国侵略朝鲜，并严重威胁中国的安全，应朝鲜民主主义共和国的请求，中国政府派兵援助。(3分)

(2) 捍卫了我国的安宁，巩固了新生的人民民主专政，为我国经济建设创作了和平环境；大大提高了我国的国际地位，也为保卫世界和平作出了巨大的贡献。(3分)

(3) 是美国对世界多极化趋势的挑战，表明世界多极化趋势将是长期的、曲折的斗争过程；以美国为首的北约违背国际法基本准则，公然对一个联合国成员国动武，严重削弱了联合国的作用。(2分)

(4) 它的实质是美国为首的西方国家干涉别国内政的借口，同时也美国作为超级大国实施霸权主义、推行其全球战略目标的途径。(2分)

(5) 中美两国是世界大国，同时也是社会制度与意识形态不同的两个大国家，两国关系直接影响到世界的和平、稳定、发展具有重要意义。(4分) (本题不拘泥于文字表述；答出其他符合题意的答案可酌情给分)

8 (2010年荆门市)。“一条大河波浪宽，风吹稻花香两岸……”这是电影《上甘岭》的主题曲。在这次战役中牺牲的英雄是 ( A )

A. 黄继光 B. 毛岸英 C. 邱少云 D. 罗盛教

4 (2010年吉林省) 为了抗美援朝、保家卫国，“雄赳赳，气昂昂，跨过鸭绿江”的部队是 (D)

A. 中国工农红军 B. 八路军、新四军 C. 中国人民解放军 D. 中国人民志愿军

21. (2010年达州市) 下列四支由中国共产党领导的部队按组建的先后顺序排列，正确的一项应是 (D)

① 中国工农红军第四军 ② 八路军一一五师 ③ 东北野战军 ④ 中国人民志愿军

A. ④③②① B. ②③①④ C. ①③②④ D. ①②③④

8. (2010年四川省眉山市)“雄赳赳，气昂昂，跨过鸭绿江……”1950年10月，中国人民志愿军高唱着这首歌，奔赴朝鲜前线。中国人民志愿军开赴朝鲜是因为

① 朝鲜内战爆发 ② 美国出兵侵略朝鲜 ③ 美国侵略军严重威胁中国安全 ④ 朝鲜政府请求中国出兵援助

A. ①②③④ B. ①③④ C. ②③④ D. ①②④

9. (2010年綦江县)“雄赳赳，气昂昂，跨过鸭绿江……”展现了当年我国志愿军战士抗美援朝，保家卫国的英雄风采。抗美援朝战争爆发距今 (C)

A. 40周年 B. 50周年 C. 60周年 D. 70周年

9. (2010年日照市) 今年是抗美援朝战争开始60周年，被誉为“最可爱的人”的志愿军英

雄人物是 ( D )

A . 雷锋 B . 王进喜 C . 邓稼先 D . 黄继光

(4) 知道《中华人民共和国土地改革法》，理解废除封建土地制度的意义。

9 . (2010年河南省) 新中国成立后，党和政府采取了一系列措施巩固新生的人民政权。下列事件中，既巩固了政权，又促进了经济发展，为国家工业化创造了条件的是 【B】

A . 和平解放西藏 B . 土地改革 C . 抗美援朝 D . 制定宪法

16 . (2010年黄石市) 1950年新中国进行了一次轰轰烈烈的土地改革。这次土地 ①解放了农村生产力 ②建立了土地公有制 ③为国家工业化建设准备了条件 (D) ④废除了封建土地制度

A . ①②③ B . ②③④ C . ①②④ D . ①③④

4 . (2010年长春市) 新中国成立后，我国存在两千多年的封建土地制度被彻底摧毁。主要是因为 (A)

A . 土地改革的完成 B . 农业生产合作社的建立  
C . 人民公社化运动的开展 D . 家庭联产承包责任制的实行

10 (2010年苏州市) 下表反映了1950年和1954年中国农村不同阶层人口及其占有土地的比重，导致这一比重变化的原因是 (A)

	1950年(%)		1954年(%)	
	人口比重	土地占有比重	人口比重	土地占有比重
贫农、中农	85.5	45.2	92.1	91.4
富农、地主	14.5	54.8	7.9	8.6

A . 土地改革已经完成 B . 农业合作化运动  
C . “包产到户”的实施 D . 人民公社化运动

2 . (2010年宁夏) 辽宁宽甸县农民给毛主席的一封信中说：“我们祖祖辈辈做梦都在想着有一天自己能有三亩、五亩的地，-----现在这个梦想实现了。”这封信内容反映的历史背景是 (B)

A . 全国农业合作化高潮 B . 土地改革运动  
C . “大跃进”运动 D . 改革开放新时期

14 (2010年威海市) 下表为四川省资中县某镇三个村阶级结构变动情况表(单位：户)。表中阶级结构变动的直接原因是 (B)

年份	雇农	贫农	中农	富农	新富农	地主	其他
1948年	83	197	116	18	0	27	2
1953年	3	74	355	0	4	0	7

A . 新中国的成立 B . 土地改革的完成  
C . 第一届全国人民代表大会的召开 D . 社会主义改造的顺利完成

14 . (2010年绍兴市) 实现好、维护好广大人民群众根本利益历来是中国共产党农村工作的重中之重。下列标志着我党已实现彻底消灭封建土地制度，真正解放农民这一目标的事件是 ( ) A

A . 土地改革的完成 B . 对农业的社会主义改造  
C . 人民公社化运动的开展 D . 家庭联产承包责任制的推行

## (二)社会主义道路的探索

### 【内容标准】

(1) 了解第一个五年计划的基本任务。

13 (2010年汕头市) 为了有计划地进行社会主义建设,我国政府编制了发展国民经济的第一个五年计划。计划提出要集中主要力量 (A)

- A.发展重工业            B.发展轻工业、农业和商业  
C.培养建设人才        D.把生产合作社合并为人民公社

9 (2010年荆门市) .一五计划期间我国建立了东北工业基地,其中心是 ( A )

- A . 鞍山钢铁公司    B . 长春第一汽车制造厂  
C . 沈阳第一机床厂    D . 宝山钢铁公司

5 (2010年吉林省) 1956年,一座宏伟的汽车城——第一汽车制造厂在长春建立。下列与其相关的事件是 (C)

- A . 实行土地改革            B . 实行农业合作化  
C . 实行第一个五年计划        D . 中共八大的召开

3 (2010年宁夏)“我国第一个五年计划取得了重大成就。”下列史实中可以证明这一结论的是 (C)

① 武汉长江大桥建成 ②开展了大炼钢铁的群众运动 ③长春汽车制造厂、鞍山钢铁公司等重工业企业投产 ④新藏、青藏、川藏公路及宝成铁路修通

- A . ①②③            B . ①②④            C . ①③④            D . ②③④

(2) 知道 1954 年颁布了第一部《中华人民共和国宪法》。

12 . (2010年福建莆田市) 宪法是国家的根本大法。1954年9月,通过《中华人民共和国宪法》的大会是 D

- A . 中国共产党第一次全国代表大会  
B . 中国共产党第八次全国代表大会  
C . 中国人民政治协商会议第一届全体会议  
D . 第一届全国人民代表大会第一次会议

12 (2010年广东省) 在第一届全国人民代表大会上,毛泽东说:“这次会议是标志着我国人民从 1949 年建国以来的新胜利和新发展的里程碑……”。这次会议被称为“里程碑”的理由是 ( D)

- A . 通过了《共同纲领》            B . 确立了土地改革的路线  
C . 公布了“一五计划”            D . 通过了第一部《中华人民共和国宪法》

27 (2010年东莞市) 改革开放以来,我国初步建立具有中国特色社会主义法律体系框架。这一框架的核心是 (A)

- A . 《中华人民共和国宪法》            B . 《中华人民共和国刑法》  
C . 《中华人民共和国刑事诉讼法》        D . 《中华人民共和国民法通则》

16 . (2010年泰安市) 刘爷爷是第一届全国人民代表大会的代表,他参与和表决了会议通过的所有文件和决定,下列各项属于这些文件和决定的是 (C)

- A . 第一个五年计划  
B . 停止使用“以阶级斗争为纲”的口号  
C . 第一部《中华人民共和国宪法》  
D . 党在社会主义初级阶段的基本路线

25 (2010年青岛市) 2010年3月14日,十一届人大三次会议通过了修改《选举法》的决定,首次实现城乡选举的“同票同权”,标志着我国民主法制建设进一步完善。第一部《中华人民共和国宪法》制定于 (C)

- A . 1949年            B . 1953年            C . 1954年            D . 1956年

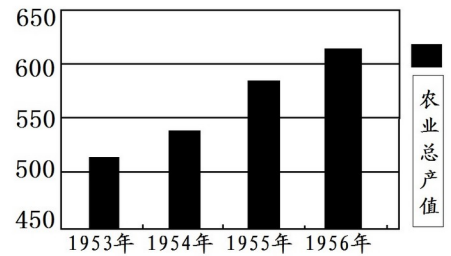
15 (2010年威海市) 我国第一部社会主义类型的宪法是 (C)

- A . 《中国人民政治协商会议共同纲领》    B . 《中华人民共和国土地改革法》

- C. 《中华人民共和国宪法》                      D. 《中华人民共和国刑法》

5. (2010年安徽) 1953-1956年我国出现右图所示农业经济状况的主要原因是……  
 ……………【B】

- A.土地改革 运动  
 B.农业合作化运动  
 C.“大跃进”运动  
 D.人民公社化运动



(金额单位: 亿元)

6 (2010年广州市) 1956年某日上海50万人冒雨集会, 副市长兴奋地宣告: “我国资本主义最集中的城市开始进入社会主义社会了!” 他如此激动是因为上海完成了 ( ) D

- A. 土地改革                      B. “一五”计划  
 C. “大跃进”                      D. 资本主义工商业改造

13 (2010年广东省) 创建于清康熙八年(1669年)的北京同仁堂是中药行业著名老字号。1954年同仁堂响应国家号召, 顺利实现了公私合营。公私合营出现在 (B)

- A. 土地改革运动时期                      B. 三大改造时期  
 C. 人民公社化运动时期                      D. 文化大革命时期

14. (2010年河北省) 右图所示的“江苏省江宁县公私合营股票”, 其印发的主要目的是 (D)

- A. 建立人民民主政权  
 B. 满足农民获得土地的愿望  
 C. 引导农民走合作化道路  
 D. 实现对私营工商业的社会主义改造



12 (2010年岳阳市) 三大改造的完成在我国探索社会主义道路过程中最突出的意义在于: (D)

- A. 彻底摧毁了封建土地制度                      B. 极大解放了农村生产力  
 C. 初步奠定了社会主义民主和法制的基础                      D. 确立了社会主义经济制度

24. (2010年武汉市) 1949年以来, 中国在消除贫困、提高人民生活水平方面取得了巨大成就, 显示了社会主义制度的优越性。中国建立起社会主义基本制度的标志是 (B)

- A. 大陆基本上完成了土地改革  
 B. 社会主义三大改造基本完成  
 C. 家庭联产承包责任制的实施

11 (2010年南京市) 右表中两种所有制经济百分比出现的主要原因是 (B)

1956年国民经济中公私经济成分的比较

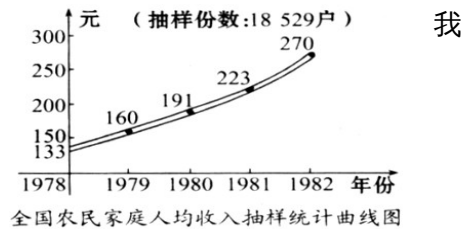
项 目	社会主义公有制经济	私有制经济
国民收入	92.9%	7.1%
工业总产值	100%	-
商品零售额	95.8%	4.2%

- A. 土地改革的基本完成                      B. 三大改造的基本完成  
 C. 家庭联产承包责任制的实行                      D. 国有企业改革的深化

27 (2010年宿迁市) 右图反映了1978年以来我国农民家庭人均收入

的变化情况。这一变化的主要原因是 (D)

- A. 土地改革的完成
- B. 农业生产合作社的开展
- C. 大跃进和人民公社化运动的掀起
- D. 家庭联产承包责任制的实行



8 (2010年徐州市) 某电视剧中有这样一个情景,上海市东亚面粉厂的孙老板亲率员工敲锣打鼓地向上海市领导报喜:东亚面粉厂接受公私合营。据此推测当时我国正在进行

- (A)
- A. 三大改造
- B. “一五”计划的实施
- C. “大跃进”运动
- D. 人民公社化运动

13 (2010年龙岩市) 社会主义制度在我国初步建立的标志是 A

- A. 三大改造的完成
- B. 《中华人民共和国宪法》的颁布
- C. 土地改革的完成
- D. 中共十一届三中全会的召开

19 (2010年山东聊城市) 今年8月,某工厂将举行百年厂庆座谈会,准备邀请一位当年亲身经历过公私合营的工人师傅讲厂史。下面四位师傅中最合适的应是 (A)

- A. 75岁的李会师
- B. 62岁的宋支前
- C. 58岁的王援朝
- D. 52岁的赵跃进

12 (2010年潍坊市) 社会主义道路探索时期,中国人民在民主法制建设方面取得的重大成就就是 (B)

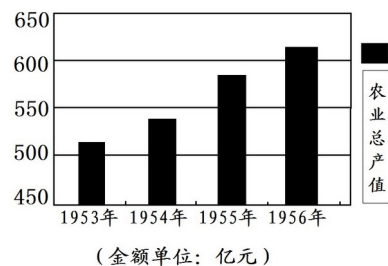
- A. 颁布了《共同纲领》
- B. 颁布《中华人民共和国宪法》
- C. 制定过渡时期总路线
- D. 颁布《中华人民共和国刑法》

(3) 知道对农业、手工业和资本主义工商业的社会主义改造基本完成是社会主义制度在我国建立的标志。

5. (2010年安徽) 1953-1956年我国出现右图所示农业经济状况的主要原因是……………

……………【B】

- A. 土地改革 运动
- B. 农业合作化运动
- C. “大跃进”运动
- D. 人民公社化运动



6 (2010年广州市) 1956年某日上海50万人冒雨集会,副市长兴奋地宣告:“我国资本主义最集中的城市开始进入社会主义社会了!”他如此激动是因为上海完成了 ( ) D

- A. 土地改革
- B. “一五”计划
- C. “大跃进”
- D. 资本主义工商业改造

13 (2010年广东省) 创建于清康熙八年(1669年)的北京同仁堂是中药行业著名老字号。1954年同仁堂响应国家号召,顺利实现了公私合营。公私合营出现在 (B)

- A. 土地改革运动时期
- B. 三大改造时期



亲身经历过公私合营的工人师傅讲厂史。下面四位师傅中最合适的应是 (A)

A . 75 岁的李会师 B . 62 岁的宋支前 C . 58 岁的王援朝 D . 52 岁的赵跃进

16 (2010 年贵港市) 我国进入社会主义初级阶段是在哪一事件后? (A)

A . 三大改造的基本完成 B . 中共十三大的召开

C . 第一个五年计划的完成 D . 中共十一届三中全会的召开

(4) 了解"大跃进"和人民公社化运动是探索社会主义建设道路过程中的严重失误


22 (2010 年东莞市) 右图是中华人民共和国建国后创作的一幅宣传画, 从中可以读出的历史信息有 (D)

① 创作的时间是 1958 年——1960 年间②反映了我国人民要求改变经济落后面貌的迫切愿望③可知当时存在浮夸风现象④我国掌握了粮食高产技术

A . ①②④

B . ①③④ C . ②③④

D . ①②③



分) 28 (2010 年贵港市) 在中国近现代史上, 土地和农村问题是中国革命和社会主义建设的重要问题。

请回答:

(1) 1905 年中国同盟会在它的政治纲领中就土地问题提出了什么主张? (1 分)

(2) 中国共产党在八七会议上确定的总方针中有关土地问题的内容是什么? (1 分)

(3) 新中国成立后接着开展的土地的要求, 中央人民政府公布了什么法令? 接着开展的土地改革运动在哪一年基本完成? (2 分)

(4) 在探索建设社会主义的道路中, 我国在 1958 年出现了违背经济规律、超越社会发展阶段的哪两大运动? (2 分)

(5) 20 世纪 80 年代我国农村改革的主要内容是什么? 它首先在哪个省开始? (2 分)

4、(2010 年河池市)“人有多大胆, 地有多大产”。与这个口号相关的事件是 (C)

A . 农业合作化运动 B . 土地改革 C . “大跃进”运动 D . “文化大革命”

8. (2010 年邵阳市) 右图为 1958 年 9 月 4 日山东潍县大众报社出版的“号外”, 它反映的社会现象是 (D )

A. 注重科学、实事求是 B. 注重农业、忽视工业

C. 思想解放、对外开放 D. 急于求成、“左”倾浮夸

11 . (2010 年无锡市) 1956 年 - 1966 年是我国“探索社会主义道路”的时期, 下列哪一项全面反映了其历史阶段特征? (D)

A . 遭到建国 来最严重的挫折和失误

B . 社会主义经济持续和稳定发展

C . 社会主义民主政治建设取得重大进展

D . 正确与失误、成就和挫折错综交织

11 (2010 年莱芜市)“悟空跳山没跳过, 他说山中有妖魔。大山一听哈哈笑, 这是社员炼的铁。”这首诗歌反映的史实是 (B)

A . 实行全行业公私合营 B . 发动了大跃进运动

C . 工厂停产“闹革命” D . 实行分田包产到户

16 (2010 年临沂市) 右图是某学习小组在研究性学习中收到的一幅图片。根据图片内容判断, 该学习小组研究的课题是 (B)

A . 土地改革



- B. “大跃进”运动
- C. 农业生产合作社运动
- D. “文化大革命”

16 (2010年威海市) 1958年6月12日,《人民日报》报道:河南省遂平县卫星农业社2.9亩小麦试验田亩产达3530斤。这篇浮夸报道的出现反映了“左”倾错误的泛滥,“左”倾错误出现的原因是(B)

- ①中共八大的指引 ②对我国所处的发展阶段认识不足 ③对如何建设社会主义缺乏经验 ④忽视了客观的经济规律
- A. ①②③ B. ②③④ C. ①②④ D. ①③④

23. (2010年达州市) 今年,某人五十岁生日时,朋友们决定以歌曲联唱的形式来表示祝贺。如果朋友首先唱的是他童年时的一首歌,这首歌是(D)

- A. 《在希望的田野上》 B. 《春天的故事》
- C. 《北京欢迎您》 D. 《学习雷锋好榜样》

23. (2010年潮州市) (9分) 我国农村60年的发展见证了共和国风雨历程。阅读材料,回答问题:

材料一:据不完全统计,新中国成立初期特别是“一五”时期,农民人均收入年均增长率达10%左右。1978年后,农民人均收入更是大幅提高,年均增长率达到12.7%。

材料二:下面两幅图反映了社会主义建设初期出现的失误与挫折。



(2) 材料二中的图一和图二各反映了哪两大历史事件? (2分)

(3) 上述材料说明了我国农村60年的发展既有经验又有教训,这对当前我国社会主义建设有哪些启示? (4分)

23. (1) “一五”期间,我国先后完成了土地改革和农业的社会主义改造; (2分) 1978年开始实行家庭联产承包责任制。 (1分)

(2) 图一反映了大跃进运动,图二反映了人民公社化运动。 (2分)

(3) 必须始终坚持改革,充分调动生产积极性;必须正确认识我国社会主义所处的发展阶段;必须遵循经济发展的客观规律,不能急于求成。 (4分)

19. (2010年温州市) 有人根据右图编了一首顺口溜:“一棵玉米冲九霄,彩云拴住玉米腰,吓得月亮直弯腰。”这首顺口溜反映的现象出现于(C)

- A. 土地改革时期 B. “一五计划”时期
- C. 大跃进时期 D. 文化大革命时期

10. (2010年日照市) “队里肥猪大又长,猪身横跨太平



洋”；“决心苦战十五年，赶上英国不发愁”这种民谣应该出现在哪个时期？（ ） C  
 A．土地改革 B．三大改造  
 C．大跃进运动 D．文化大革命

(5) 讲述王进喜、邓稼先、焦裕禄等先进人物艰苦创业和全心全意为人民服务的事迹。

10. (2010年三明市) 在全国开展的“双百人物”评选活动中，邓稼先、王进喜、焦裕禄、袁隆平被提名为候选人。他们身上共同的优秀品质是 (A)  
 A. 热爱祖国，敬业奉献 B. 清廉执政，一心为民  
 C. 献身科学，淡泊名利 D. 会战石油，艰苦创业

15 (2010年江西省) (8分) 历史视角——用历史眼光看人生。阅读材料，回答问题。  
 材料一 如右图。


(1) 右边旧照片上的人物是谁？(2分)  
 (2) “宁可少活二十年，拼命也要拿下大油田。北风当电扇，大雪当炒面，天南地北来会战，誓夺头号大油田。干！干！”从他的话中，你感悟到了怎样的时代精神？(2分)



干

(1) 王进喜。(2分)  
 (2) 艰苦创业的精神等。(2分)

4 (2010年宁夏) 在全面建设社会主义进程中，下列人物事迹共同体现的时代精神是 ( A )




王进喜



焦裕禄



雷锋



邓稼先

① 艰苦创业 ② 全心全意为人民服务 ③ 同仇敌忾抗击侵略 ④ 国际主义人道主义  
 A. ①② B. ①③ C. ②③ D. ③④

11 (2010年苏州市) “铁人”王进喜克服重重困难打出大庆第一口油井，焦裕禄为改变兰考面貌献出生命，邓稼先完成我国第一颗原子弹的理论设计方案，他们的事迹出现在 (B)



A．新中国成立时期 B．探索建设社会主义道路时期  
 C．“文化大革命”时期 D．社会主义现代化建设新时期

(6) 简述“文化大革命”中民主法制和国民经济遭受严重破坏的主要史实，认识“文化大革命”给国家和人民带来了严重灾难。

12 (2010年泰州市) “文化大革命”中，身为国家主席的刘少奇被诬陷为“叛徒、内奸、工

贼”，惨遭批斗，失去人身自由。这突出表明文革期间

- A. 民主与法制被肆意践踏                      B. 国民经济发展缓慢  
C. 教育科学文化事业遭到严重摧残              D. 法律面前人人平等

解析：“文化大革命”不是任何意义上的革命和社会进步，它是一场由领导者错误发动、被反革命集团利用、给党和人民带来严重灾难的内乱。从题目中的刘少奇案，说明了文革期间民主与法制被肆意践踏。

答案：A

19. (2010年深圳市) 老人依旧清楚地记得那个疯狂的年代：作为学生的他，戴着红卫兵的袖章，四处张贴大字报，批斗所谓的“牛鬼蛇神”……这个年代是 (C)

- A “大跃进”时期                      B 农村人民公社化时期  
C 文化大革命时期                      D 土地改革时期

23 (2010年东莞市) 在“文化大革命”期间，国家主席刘少奇含冤而死，这一事件突出地反映了 (C)

- A. 法律面前人人平等    B. 人民群众行使监督权    C. 民主与法制被践踏    D. 党内出现了叛徒内奸

17 (2010年贵港市) 下列哪一事件与林彪反革命集团的覆灭有关？ (A)

- A. “九一三”事件    B. 毛泽东逝世  
C. “四五”运动    D. “四人帮”被粉碎

18. (2010年浙江省义乌市) 2009年，“吴晗先生诞辰100周年·逝世40周年”纪念会在北京和家乡义乌相继举行。下列与吴晗先生含冤逝世有关的运动是 (D)

- A. 抗美援朝    B. 大跃进运动    C. 人民公社运动    D. 文化大革命

### (三)建设有中国特色社会主义

#### 【内容标准】

(1) 认识中国共产党十一届三中全会是我国社会主义现代化建设史上的伟大转折。

12 (2010年福州市) 决定右图中这一伟大决策的会议是 (B)

- A. 遵义会议  
B. 中共十一届三中全会  
C. 中共八大  
D. 第一届全国人民代表大会



议

24 (2010年东莞市) 20世纪以来的中国发生了三次历史巨变，促进“第三次巨变”的领导人是 (C)

- A. 孙中山    B. 毛泽东    C. 邓小平    D. 胡锦涛

25 (2010年东莞市) 十一届三中全会奠定了中国社会最近三十年“不动摇、不懈怠，不折腾”的基调。十一届三中全会确定的指导思想是 (B)

- A. 多快好省地建设社会主义                      B. 解放思想，实事求是  
C. “一国两制”的构想                              D. 三个代表思想

5. (2010年长春市) 右图是1998年为了纪念一次转折性会议召20周年而发行的纪念章，这次会议是 (C)

- A. 第一届全国人民代表大会    B. 中共八大  
C. 十一届三中全会              D. 中共十二大

12 (2010年南京市) 中国共产党重新确立解放思想、实事求是思想路线的会议是 (C)

- A. 遵义会议    B. 中共七大



C.中共十一届三中全会

D.中共十五大

38 (2010年宿迁市) (本题8分) 某班同学在观看新中国建国60周年庆典后,想了解1919年以来中华民族的奋斗历程,他们发现在九十年的历史进程中,中华民族经历了“三个三十年”的伟大探索与实践,于是分成三个小组对三个阶段开展探究学习。

请你加入他们的学习活动并积极发表意见:

(1) 第一小组(1919—1949年):学习中决定搞一期“新民主主义革命图片展”,一位同学将《武昌首义》图片列入其中。你认为适合吗?说明理由。(3分)

(2) 第二小组(1949—1979年):在梳理重大事件后,认为在1956年、1978年有两件大事推动了中国社会的历史性转折。你认为的是哪两件大事?(2分)

(3) 第三小组(1979—2009年):想给学习活动明确一个主题,你觉得在“民族独立”、“曲折发展”、“和平崛起”三个词语中,哪一个最贴切?(1分)

(4) 在深入学习后,大家对中国共产党的领导地位有了进一步认识。请你简要加以概括。(2分)

38. (1) 不适合。(1分) 因为武昌起义爆发于1911年,是资产阶级民主革命或旧民主主义革命。(2分,答出时间或性质均可)

(2) 三大改造完成、十一届三中全会召开(2分)

(3) 和平崛起。(1分)

(4) 只有中国共产党才能救中国或只有中国共产党才能发展中国或中国共产党是中国革命和建设事业的领导核心。(2分,价值观正确即可)

32 (2010年威海市) 阅读下列材料:

材料一:卫鞅(指商鞅)曰:“治世不一道,便国不法古。故汤武不循礼而王,夏殷不易礼而亡。复古者不可非,而循礼者不足多。”孝公曰:“善”。以卫鞅为左庶长,卒定变法之令。

——《史记·商君列传》

材料二:中国当时的一些有识之士受到第二次鸦片战争中圆明园被焚的极大刺激与震撼,感到学习西方先进军事技术势在必行,终于启动了一场持续30多年(19世纪60~90年代)的“自强运动”……从而启动了中国现代化的最初步伐。

——马克圭主编《世界文明史》

材料三:1978年12月18日的北京,白雪皑皑,空气新鲜。在“文革”结束之后,中国面临向何处去的重大历史关头,在这里召开了一次关系党和国家前途命运的极为重要的会议,……作出了把党和国家的工作重点转移到经济建设上来和实行改革开放的战略决策。

请回答:

(1)材料一反映了商鞅的什么主张?商鞅变法产生了怎样的历史影响?(2分)

(2)材料二中的“自强运动”指我国近代化探索中的什么运动?简要概述该运动的主要内容。(2分)

(3)材料三中的会议是指哪次会议?这次会议召开的历史意义是什么?(3分)

32. (1)主张按现实需要改变传裂的治理国家的政策。(只要符合题意,言之有理,即可得1分)秦国经济得到发展,军队战斗力不断垫强,发展成为战国后期最富强的封建国家。(1分)

(2)洋务运动(0.5分) 创办军事工业和民用企业、筹建新式海车、兴办新式学堂。(1.5分)

(3)中共十一届三中全会。(1分) 是建国以来党的历史中具有深远意义的转折点,完成了党的思想路线、政治路线和组织路线的拨乱反正,是改革开放的开端;中国历史开始进入

社会主义现代化建设的新时期。(2分)

、(2010年四川省宜宾市)材料解析题(12分,阅读下列材料,按要求回答问题)

材料一:人具有高贵的理性,人具有伟大的力量,人的行为像天使,人的智慧像天使。

——莎士比亚

(1)材料一中莎士比亚的名言反映了当时的西欧流行什么社会思潮?这一思潮的核心主张是什么?(4分)

材料二:我们现在认定只有两位先生,可以救治中国政治上、道德上、学术上、思想上一切的黑暗。

——陈独秀

(2)材料二中的“两位先生”指什么?为了实现其主张,陈独秀等掀起了一场什么重大运动?(3分)

材料三:(见右图)



(3)材料三文章所示的鲜明观点是什么?这篇文章的发表而引发的大讨论,与中共十一届三中全会的召开有何联系?(5分)

(1)文艺复兴。人文主义。(2)民主、科学。新文化运动。(3)实践是检验真理的唯一标准。这次讨论为十一届三中全会的召开奠定了思想基础,也为开创改革开放的新局面作了思想准备。

由  
十  
科

22.(2010年资阳市)徐小明同学的爸爸收藏了刊登右图所示文章的一份报纸,下列不能作为收藏理由的是该文章的发表(D)

- A.标志中国思想理论界开始了关于真理标准问题的讨论
- B.有利于打破长期以来个人崇拜和教条主义的束缚
- C.推动了当时人们思想的解放
- D.停止了“以阶级斗争为纲”口号的使用



11.(2010年娄底市)“我们唱着东方红,当家作主站起来,我们讲着春天的故事,改革开放富起来。”歌词中歌颂的两位伟人是(C)

- A.孙中山和毛泽东 B.孙中山和邓小平 C.毛泽东和邓小平 D.刘少奇和邓小平

34.(2010年湘潭市)中国共产党几十年的历史中留下了一个个光辉的足迹。据此回答:

- (1)中国共产党的成立是开天辟地的大事,中共成立于何时何地?(2分)
- (2)中共七大把什么确立为党的指导思想?(2分)
- (3)中共十一届三中全会对党和国家的工作重点做了怎样的规定?(2分)这次大会有何意义?(2分)
- (4)中国共产党的发展历程说明了中国共产党是什么性质的政党?(2分)

34、(1)1921年(1分)上海(1分)

(2)毛泽东思想(2分)

(3)作出了把党和国家的工作重点转移到经济建设上来的战略决策。(2分)是建国以来党的历史上的伟大转折,标志着我国进入社会主义现代化建设的新时期。(2分)

(4)是一个与时俱进的政党;代表中华民族根本利益;代表中国先进生产力;代表中国最广大人民根本利益的政党等(答对2点给2分,其它答案言之有理亦可酌情给分)

24. (2010年黄石市) 探究实践题 (8分) 2010年5月世博会在上海开幕,某校历史探究学习小组以“中国与世博会”为题进行探究性学习,他们搜集了如下素材:

一.世界博览会是展示世界文明最新成果的盛会。1876年在美国费城举办的世博会上,电话、双重电报机、冰库车等大量的美国科技成果展现在世人面前……中国首次派代表参加此次世博会,展品有丝绸、茶叶、瓷器等。

二.上海世博会荟萃了国内外科技最新成果。在准备世博会的4年多时间里,我国共实施了科技攻关项目232项,取得具有自主知识产权的科技成果1000多项,许多项目已在世博园区的建设的运营管理体系中得到充分应用,使游客充分领略了中国的发展成就。

他们就这两段材料展开了探究活动。请你也参与活动,完成下列探究性学习活动

(1)中国在1876年参加世博会时已经有了一些洋务企业,为什么展品不是以科技含量较高的工业品为主?(2分)

答:当时洋务运动才刚刚开始,工业品以仿制为主,科技水平低;当时洋务企业以军事为主,产品不便于参与展览

(2)请完成下列有关上海的大事简表(2分)

1842年:《南京条约》开辟上海为通商口岸

1921年:中共在上海成立

(3)费城博览会100年的1978年,我国召开的十一届三中全会是上海能顺利举办此次世博会的重要历史因素,为什么?(3分)

答:十一届三中全会作出把工作重心转移到经济建设上来,实行改革开放的伟大决策,中国进入社会主义现代化建设新时期;改革开放以来,我国综合国力增强;国际地位提高

(4)请就中国参加世博会到兴田舍一届高科技世博会的历程谈谈自己的感想(1分)

答:国力强弱决定国家在国际上的地位。或者在中共领导下,中华民族开始了伟大的复兴之路。(言之有理即可)

(2)知道家庭联产承包责任制的主要内容,了解生产关系一定要适应生产力发展需要的基本原则。

18 (2010年佛山市) 阅读材料,结合所学知识回答。

**材料一** 早稻亩产三万六千九百多斤、花生亩产一万多斤的高产“卫星”,从湖北麻城县麻溪河乡和福建南安县胜利乡的田野上腾空而起了。这是今年我国农业生产上又一件大喜事。

——1958年8月13日《人民日报》社论

**材料二** 河北抚宁县杜庄炼铁厂二号六点五立方公尺小高炉,……13日的产量由过去的三吨多提高到七点五吨;在这一基础上,职工们又继续改进了操作方法,16日创造了七点九八吨的新记录。

——1958年8月23日《人民日报》

**材料三** 广东高明杨梅镇农民刘时进一家五口,承包村集体耕地8亩、坡地30亩,其中水田4亩,种植水稻两季,每年可收获稻子约八千斤,其它种植荔枝、龙眼等果树,刘伯说“这可是我的宝贝,我家新建的小洋楼靠的就是它们呢。”近年刘伯一家日子越过越好了。

——摘自佛山某中学李祥同学《1992年农民生活状况的调查》

问题:

(1)据材料一、二指出当时中国工农业发展模式是什么?(2分)结果如何?(4分)

(2)材料一和材料三相比哪一段材料内容更真实可信?(2分)为什么?(3分)

1) 模式：大跃进。(2分)

结果：工农业生产遭到严重破坏；我国经济发展陷入长期停滞的困境。(4分)

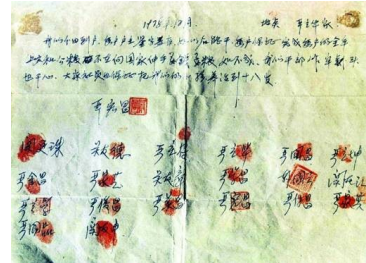
(2) 材料三。(2分)

实施家庭联产承包责任制；农民自主经营，调动了生产的积极性；提高了人民的生活水平。(3分)

15 (2010年汕头市) 右图是20世纪70年代小岗村18位农民按下的红手印的“包产到户”契约。

下列对这一契约出现的原因的叙述，不正确的是(A)

- A. 人们公社调动了农民的生产积极性
- B. 农民渴望改变贫穷落后的生活状况
- C. 农民缺少生产自主权
- D. 农民家庭收入很少



10. (2010年河南省) 下列选项能够体现新中国成立以来我党创新精神的是 【C】

- ① 第一个五年计划的实施
- ② 资本主义工商业改造过程中的赎买政策
- ③ “一国两制”构想
- ④ 家庭联产承包责任制

A. ①②③ B. ①②④ C. ②③④ D. ①③④

22 (2010年鄂州市) (7分) 阅读下列材料，结合所学知识回答问题。

材料一：



图9 农民在拔除地主立的界碑

材料二：



图10 农民报名入社

材料三：



图11 凤阳县农民喜庆丰收

(1) 图9情景所反映的重大历史事件是什么？(2分) 该事件彻底废除了在中国存在了2000多年的什么制度？(1分)

(2) 观察图10情景，“入社”的“社”指什么？(1分)“入社”就是要引导农民走什么道路？(1分)

(3) 分析图11情景，凤阳县农民为什么能够喜获丰收？(2分)

- (1) 土地改革。(2分) 封建土地制度。(1分)
- (2) 农业生产合作社。(1分) 集体化道路。(1分)
- (3) 实行了包产到户(或家庭联产承包责任制)。(2分)

33 (2010年四川省成都市) (8分) 20世纪70年代末，我国掀起了农村改革的浪潮。观察下列两幅图片，回答问题。



图 A 农民领取生产承包合同

图 B 广汉县向阳人民公社在全国率先摘掉人民公社牌子，挂上了乡党委、乡政府、乡农工商联公社三块新牌子

- (1)以上两幅图片反映了中国农村经济体制发生了什么重大变化？首先实行改革试点的是哪两个省份？（4分） **实行了家庭联产承包责任制 四川、安徽**
- (2)中国农村经济体制改革有何积极作用？（4分） **分散经营和统一经营相结合，从根本上克服了人民公社的经营管理体制的弊端，打破了农业生产经营和生产上的大锅饭，极大地调动了农民的社会主义积极性，解放了农村生产力，促进了农村经济的发展。**

36. **(2010年十堰市)** (8分) 新中国以来，党和政府一直十分关注农村问题，在农村问题上进行了一系列政策性探索。其中 1950 年开始的土地改革、人民公社化运动和十一届三中全会后的农村改革是三次非常重要的探索。

请回答：(1) 三次探索哪些是成功的，哪些是探索中的严重失误？（3分）

- (2) 土地改革在所有者方面有何变化？（2分）
- (3) 十一届三中全会后，农村改革的主要内容是什么？（1分）
- (4) 选择三次探索中成功的一次探索，谈谈其意义。（2分）

**36. (1) 土地改革和十一届三中全会后的农村改革是成功的。（2分）人民公社化运动是探索中的严重错误。（1分）**

- (2) 废除地主阶级封建剥削的土地所有制，实行农民的土地所有制。（2分）**
- (3) 实行家庭联产承包责任制（1分）**
- (4) 土地改革：废除土地剥削制度，极大地解放了生产力，推动力农业生产的恢复和发展，为新中国的工业化创造力量条件；依靠在土地改革中形成的有组织的阶级队伍，中国共产党完成了对旧乡村的改造，为以后在农村推行当的各项政策奠定了基础。或：十一届三中全会后的农村改革：使农民在生产上获得了更多的自主性，调动了农民生产积极性，促进了生产的发展，农村面貌由此发生显著变化。（2分）**

9. **(2010年邵阳市)** 1982年，中共中央发出的第一个关于“三农”问题的“一号文件”明确指出：包产到户、包干到户或大包干都是社会主义生产责任制。该“一号文件”着眼于（A）

- A.改革农村生产关系**      B.城市支持农村，工业反哺农业  
C.推进城乡一体化建设      D.建立社会主义生产经济体制

34 **(2010年岳阳市)** 为了实现中华民族的伟大复兴，中国人民经历了艰苦的探索。结合所学知识，回答下列问题：

- (1) 辛亥革命为中华民族的伟大复兴迈出了重要一步，实现了中国 20 世纪第一次历史巨变。你认为这里所说的“历史巨变”主要指什么？（2分）
- (2) 抗日战争的胜利对中华民族的复兴有何重大意义？（4分）
- (3) 中华人民共和国的成立为中华民族的复兴创造了怎样的基本条件？请你列举两位创建共和国的湘籍元勋。（3分）
- (4) 十一届三中全会作出了怎样的伟大决策，开创了中华民族复兴的新局面？（2分）

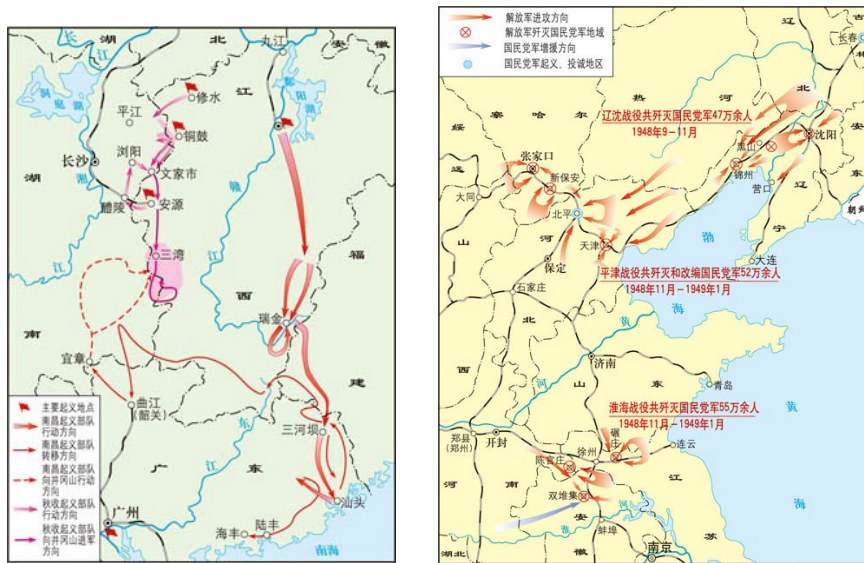
34、（1）废除了两千多年的封建专制制度

（2）抗日战争的胜利是中国人民近百年来第一次取得完全胜利的民族解放战争。它洗雪了民族耻辱，成为中华民族由衰败到振兴的转折点。

（3）中国从此走上了独立、民主、统一的道路。确立了我国的基本政治制度，使中国迈入长治久安的历史时期。      毛泽东、彭德怀

（4）改革开放

20. (2010年长春市) 顾首回眸，感受中华民族伟大复兴的历程。



【革命征途】 (1) 写出以上两幅地图中所反映的重大历史事件各一件，并说出其影响。(4分)

【建设进程】 (2) 写出一五计划期间在工业和交通运输业上所取得成就。(两项即可) 在社会主义现代化建设新时期，我党提出并实行了哪一伟大决策？(3分)

【走向辉煌】 (3) 2001年我国承办了哪一外交盛会？新世纪，还有哪些重大事件让我们为之骄傲，请写出一例。(2分)

18 (2010年吉林省) 新中国成立后，中国共产党对社会主义道路进行不断探索，基本建立起社会主义制度，并在实践中找到了中国特色社会主义道路，在各方面取得了显著成就。依据提示信息，完成表格内容。(7分)

提示信息	相关史实
(1) 建立制度	
(2) 严重失误	
(3) 伟大转折	
(4) 特色理论	
(5) 显著成就	
启 示	

18. (1) 三大改造的基本完成(1分)

(2) “大跃进和人民公社化运动(或文化大革命)(答出一点即可给分)(1分)

(3) 中共十一届三中全会(或实行改革开放)(1分)

(4) 邓小平理论(或建设有中国特色社会主义理论等)(1分)

(5) 成就可从改革开放、对外交往、民主法制、国防建设等方面回答。

例：实行家庭联产承包责任制；发展乡镇企业；实行国有企业改革；建立深圳、珠海、汕头、厦门、海南经济特区；开放上海、广州等 14 个沿海开放城市；设立上海浦东开发

区；香港和澳门回归祖国；提出和平共处五项原则；提出“求同存异”的方针；尼克松访华签署《中美联合公报》；中日建交；中美建交；中国恢复在联合国的合法席位；中国承办亚太经合组织会议；中国加入世界贸易组织；中国成功举办奥运会和世博会；颁布第四部《中华人民共和国宪法》等；建立人民空军、人民海军；组建战略导弹部队等。

(答出以上要点之一即可得1分。其他答案符合题意也可给分)(共2分)

启示：只有在中国共产党的领导下，中国人民才能实现国家的富强和民族的振兴；改革开放使我国综合国力不断提高，国家日益繁荣；以经济建设为中心，坚持改革开放；经济政策的制定要依据国情，实事求是，遵循经济发展的客观规律；更坚定了建设中国特色社会主义的信念等。

(答出以上要点之一即可给分；其他答案观点正确，符合题意也可给分)(1分)

改革开放以来，我国发生了翻天覆地的变化，取得了令人瞩目的成就。据此，回答第12-14题。

14 (2010年南京市) 游行语往往打上了时代烙印。下列游行语出现在改革开放后的是(D)

- A. 抗美援朝      B. 大跃进      C. 红卫兵      D. 网上购物

13 (2010年扬州市) 某陈列馆举办“建国后农村生产关系变革”图片展。现有以下四幅图片，请按时间先后顺序排列(D)



- ① 农民加入合作社    ② 人民公社食堂    ③ 土地改革    ④ 小岗村“分田到户”字据
- A. ①②④③      B. ②③①④      C. ④②③①      D. ③①②④

7 (2010年宁夏) 材料题

材料一：我国农村长期实行的是集中管理，集中劳动，统一分配……。在所有制上表现为“一大二公”；在经营方式上是“单打一”、“瞎指挥”；在分配方式上是“大锅饭”。

——刘宗绪《历史学科专题讲座》

材料二：大包干，大包干，直来直去不拐弯。保证国家的，留足集体的，剩下都是自己的。

——农民歌谣

回答：

- (1) 材料一反映的是二十世纪五十年代后期我国农村开始实行的\_\_\_\_\_制度。(2分)
- (2) 材料二反映的是十一届三中全会以来在我国农村实行的\_\_\_\_\_。(2分)
- (3) 联系所学知识，概括说明材料一和材料二内容对我国农村产生的不同影响(4分)
- (1) 人民公社(2分)
- (2) 家庭联产承包责任制(2分)
- (3) 挫伤了农民生产的积极性；给农业生产造成了严重破坏(2分)

极大地调动了农民的积极性；推动了农业生产的发展，乡镇企业发展迅速(2分)

13 (2010年滨州市) 新中国成之后，我国对农村生产关系进行了几次重大调整，其中促进了农业生产发展的有：①土地改革 ② 农业合作化③ 人民公社化 ④ 家庭联产承包责任制(A)

- A. ①②④    B. ①②③    C. ② ③④    D. ①③④

28 (2010年东营市) (16分) 阅读材料，结合所学知识回答问题。

材料一 夺取全国胜利，这只是万里长征走完了第一步。……我们不但善于破坏一个旧世界，我们还将善于建设一个新世界。

——毛泽东在中共七届二中全会上的报告

(1) 建国初期，中国共产党为了“建设一个新世界”，采取了哪些重大措施？(4分)

**材料二** 1958年几千万人开始了大炼钢铁，不仅钢铁厂开足马力，土高炉也遍地开花，到了10月底就达到了几百万座。……北戴河会议后，全国农村一哄而起，大办人民公社。没有经过试验，只用一个多月的时间久基本实现公社化。

(2) 材料二反映了我党在探索社会主义建设道路过程中犯下的什么严重失误？(4分)

**材料三** 我们即将迎来改革开放三十周年，……从那时以来……社会主义中国的面貌……发生了历史性变化……从农村到城市、从经济领域到其他各个领域，全面改革的进程势不可挡地展开了。

(3) 材料三中的“历史性变化”的起点是什么？(2分) 在农村的改革实行的是什么政策？

(2分) 对城市改革的重点是什么？(2分)

(4) 我国的社会主义建设既有成功的经验，也有失误的教训，你从中得到怎样的认识？(2分)

(1) 进行土地改革；编制了第一个五年计划；颁布中华人民共和国第一部宪法；对农业、手工业、资本主义工商业进行社会主义改造(或三大改造)。(4分)(答出其中两项即可得满分)

(2) “大跃进”和人民公社化运动。(4分)

(3) 中共十一届三中全会的召开。(2分) 实行家庭联产承包责任制。(2分) 对国有企业的改革。(2分)

(4) 政策的制定要符合国情；生产关系要适应生产力发展等。(2分)(不拘泥答案，言之有理即可得分。)

22. (2010年山东省济宁市) 在安徽省风阳县小岗村档案室里有这样一份档案表，请你仔细阅读，然后分析一下表中农民收入增加的主要原因(D)

安徽省风阳县小岗生产队1976与1979年收入对比表

时间	粮食产量	人均口粮	人均分配收入
1976年	35000斤	230斤	32元
1979年	132300斤	800斤	200元

A. 新中国成立

B. 土地改革完成

C. 对外开放政策的实施

D. 家庭联产承包责任制的推行

43 (2010年山东聊城市) 遵义会议、十一届三中全会是党的历史上的重要转折点。请回答：

(1) 简述遵义会议为挽救党和红军作出的重大决策。(4分)

(2) 十一届三中全会是建国以来党的历史上的伟大转折。按要求填写下表。(4分)

	转折的表现
思想路线	
工作重心	
领导核心	

(3) 两次会议后中国革命和建设呈现出新的局面，试分别概述新局面的表现。(2分)

43. (1) 决策：全力解决博古等人军事上和组织上的错误；取消了博古在军事上的指挥权；肯定了毛泽东的正确主张；确立了以毛泽东为核心的党中央的正确领导；会后确定毛泽东、周恩来

恩来等指挥军事。(4分。每点1分，答出其中4点即得满分。)

(2)

	转折的表现
思想路线	彻底否定“两个凡是”的方针；重新确立解放思想、实事求是的思想路线。(1分，答出其中1点即可。)
工作重心	停止使用“以阶级斗争为纲”的口号；把党和国家工作重心转移到经济建设上来；实行改革开放。(2分。每点1分，答出其中两点即得满分。)
领导核心	形成以邓小平为核心的党中央领导集体。(1分)

(3)遵义会议后：红军打乱敌人追剿计划，跳出敌人包围；胜利完成长征。(1分，答出其中1点即可。)

十一届三中全会后：改革开放；开创了建设中国特色社会主义道路；现代化建设取得巨大成就。(1分，答出其中1点即可。)


2 (2010年淄博市) (6分) 阅读下列材料，回答问题。

材料一：1958年，“放开肚皮吃饭，鼓足干劲生产”，成为一时间传遍大江南北的著名口号。

材料二：“包字万岁！早包早富，迟包迟富，不包永远不能富。”这是20世纪70年代末广州郊区的宣传标语。

(1) 材料一反映的是我党在探索社会主义建设道路的过程中发动的哪两次运动？(2分)

(2) 分析材料二得知，我国在农村实行了什么政策？这一政策产生了什么影响？(2分)

(3) 通过对以上材料的对比分析，你能得出什么认识？(2分)

(1) (2分) 大跃进运动 (1分)；农村人民公社化运动 (1分) (两个运动顺序可颠倒)

(2) 家庭联产承包责任制 (1分)；农村生产得到大发展，农村富裕起来 (1分)

(3) 制定经济政策要从实际出发，不能违背客观规律；制定政策要适合本国国情，遵循生产关系适应生产力发展的原则。(开放性试题，其中任意两点即可，其它符合题意的也可酌情得分，2分)

6 (2010年山西省) 新中国成立后，党和政府为提高农村生产力，调动农民生产积极性，采取的正确措施有 (C)

① 颁布《中华人民共和国土地改革法》

② 实施第一个五年计划

③ 开展人民公社化运动

④ 实行家庭联产承包责任制

A. ①②③

B. ①②④

C. ①③④

D. ②③④

9. (2010年四川省眉山市) 邓小平是中国改革开放的总设计师，在进行的农村改革措施中，最能体现产业结构调整的是

A. 家庭联产承包责任制

B. 实行乡镇管理体制

C.多种经济成份并举      D.乡镇企业异军突起

21、(2010年嘉兴市)[历史天空] (10分)

民以食为天，中国古代历朝重视农业生产。新中国成立后，我国在实践中明确提出农业是国民经济的基础。阅读材料，回答问题。

人民智慧 在我国农耕文明史上，集中了无数劳动人民的智慧。生产工具的重要发明和生产技术的发展推动了古代生产力的发展。

(1) 请列举两种我国古代劳动人民发明的农业生产工具。(2分)

帝王之道 “民，水也；君，舟也。水能载舟，亦能覆舟。”-----唐太宗

(2) 请说出唐太宗的这一治国思想在农业政策上的具体体现及其影响。(4分)

探索发展 新中国成立以来，我国农业生产在曲折中不断发展。粮食生产是农业生产的重要组成部分，下图是 1949—1989 年我国粮食产量变化折线图。

(3) 说出引起 A 点（注：1959 年）前后粮食产量变化的历史事件，分析引起 B 点之后粮食产量变化速度加快的主要原因。(4分)

21、(1) 春秋时期铁农具；唐朝曲辕犁、筒车；宋朝秧马。(答出两种即可)

(2) 轻徭薄赋，不误农时。经济得到恢复和发展，社会安定。

(3) “大跃进”和人民公社化运动。实行家庭联产承包责任制，极大地激发了广大农民的生产积极性，促进了农业生产迅速发展。

18 (2010年菏泽市) 2010年1月31日中央一号文件由新华社授权发布，文件再次聚焦三农，推出了一系列强农惠农新政策。“三农”问题关系农民的切身利益。识读下列图文资料，结合所学知识回答问题：(10分)

材料一：废除地主阶级封建剥削的土地所有制，实行农民的土地所有制……为新中国的工业化开辟道路。

(1) 材料一出自建国初期的哪一部法律文件？废除封建土地所有制有何意义？(3分)

材料二：下图为人民群众高举“人民公社好”标语牌。

1958年、1959年、产量分别为2亿吨、1.7

(2) 在1958年短短全国农村就实现了人民公社化，材料中数据说明了什么突出的问题？请生这一结果的原因。(2



1960年、我国粮食总亿吨、1.435亿吨。两三个月的时间里，社化。材料中数据说结合所学知识分析产分)

材料三：

安徽凤阳小岗村	粮食产量	人均口粮	人均分配收入
1976年	35000斤	230斤	32元
1979年	132300斤	800斤	200多元



(3) 是什么政策给安徽凤阳小岗村的农民带来了实惠？这项政策的主要内容是什么？(3分)

(4) 结合所学知识及身边的变化，就政府应如何制定农业政策谈谈你的感想。(2分)

11. (2010年日照市) 1978年被称为“中国命运大转折”的一年，这一“大转折”指的是 (B

)

A. 中共八大 B. 十一届三中全会 C. 中共十四大 D. 中共十五大

12. (2010年日照市)“当年曾分田翻身当家做主人，今岁又分田勤劳致富奔小康”与“今岁又分田”直接相关的是 (D)

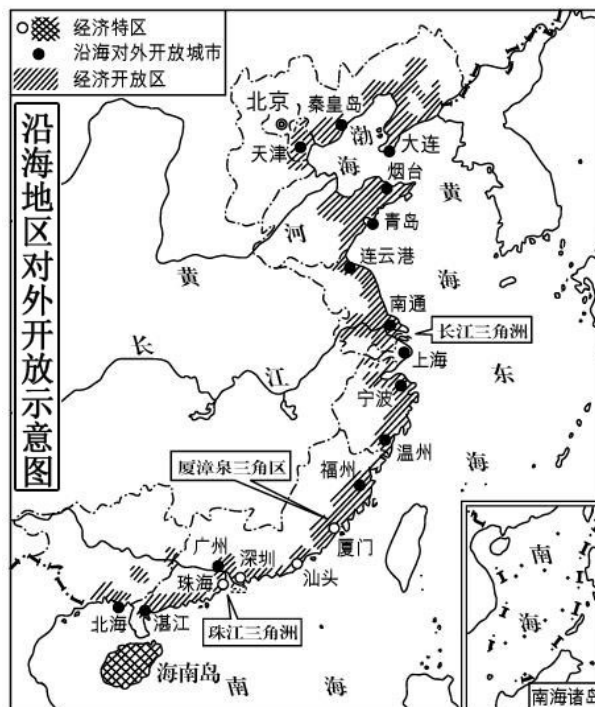
A. 土地改革 B. 农业合作化 C. 人民公社化运动 D. 家庭联产承包责任制

(3) 以深圳等经济特区的建立为例，探讨经济特区在社会主义现代化建设中的作用和影响。6. (2010年长春市) 它曾是最早被迫开放的通商口岸，又是我国首批建立的经济特区，它是 (D)

A. 南京 B. 上海 C. 深圳 D. 厦门

26. (2010年福建莆田市) 阅读下列材料并回答问题：

材料一 沿海地区对外开放示意图



材料二 从特区可以引进技术，获得知识，学到管理，管理也是知识。特区成为开放的基地，不仅在经济方面，培养人才方面使我们得到好处，而且会扩大我国的对外影响。听说深圳治安比过去好了，跑到香港去的人开始回来，原因之一是就业多，收入增加了，物质条件也好多了，可见精神文明说到底是从物质文明来的嘛！

——邓小平

(1) 根据材料一，我国最早设置的四个经济特区分布在哪两个省份？(4分)

(2) 根据材料二，概括我国建设经济特区的主要好处。(4分)

(3) 经济全球化给我国带来了机遇与挑战。在今后的对外开放中，我们应当如何面对？请你提1个合理化建议。(2分)

27. (1) 福建省，广东省。(4分)

(2) 有利于引进外国先进技术；有利于学习外国先进的管理经验；有利于培养各种人才；有利于扩大中国的对外影响；有利于刺激就业，增加收入。(4分。答出其中2点即可，其他言之有理也可)

(3) 以经济建设为中心，积极开展社会主义现代化建设；实施“科教兴国”战略，提升国际竞争能力；积极参与各种国际组织，开展国际间的交流与合作。(2分。)

答出其中 2 点即可，其他言之有理也可)

26 (2010 年广东省) 活动探究：

第 16 届亚洲运动会将于 2010 年 11 月在广东广州举行。为迎接亚运，宣传广东，学校决定举办一次主题展示活动。请你参加活动并回答下列问题：

展示一：古代海外贸易篇

(1) 清朝统治者严格限制海外贸易，实行闭关锁国政策，曾经只允许开放哪个城市作为对外通商的唯一口岸？(1 分)

展示二：近代社会变革篇

(2) 鸦片战争后，英国通过什么条约迫使清政府开放广州等通商口岸？(1 分) 随着民族危机的加剧，康有为和梁启超领导了什么运动？(1 分) 该运动对中国社会发展的突出作用是什么？(1 分)

(3) 1924 年国民革命运动兴起，孙中山在广州创办了哪一所学校？(1 分) 1926 年 7 月，广东国民政府领导了一场什么战争？(1 分) 该学校的创办和这场战争的胜利进军有什么关系？(2 分)

展示三：现代改革开放篇

(4) 20 世纪 70 年代末，南粤大地吹响了改革开放的号角。因改革开放而“一夜崛起的城市”是指哪个城市？(1 分) 以该城市为例，说一说经济特区在社会主义现代化建设中的作用。(2 分)

(5) 结合上述内容，谈谈你在这次探究活动中获得的启示？(2 分)

26. (1) 城市：广州 (得 1 分)

(2) 条约：《南京条约》 (得 1 分)

运动：维新变法运动 (得 1 分)

作用：在社会上起到了思想启蒙的作用 (得 1 分)

(3) 学校名称：中国国民党陆军军官学校或黄埔军校 (得 1 分)

战争：北伐战争 (得 1 分)

关系：黄埔军校培养了大批的优秀政治军事人才为北伐战争的胜利进军奠定了基础。(得 2 分)

(4) 城市：深圳。(得 1 分)

作用：深圳成为对外开放的窗口；为进一步扩大开放积累了经验

(说明：答对任意 1 点可得满分 2 分，其它相近意思答案可酌情给分)

(5) 启示：不断解放思想；坚持改革开放；坚持科学发展观；注重培养人才等。

(说明：答到任何 2 点可得满分 2 分，言之有理酌情给分。)

26 (2010 年东莞市) 从 1985 年起，东莞步和跨越式发展新阶段。这得益于东莞地处 (D)

A. 高新技术区 B. 经济开放区 C. 沿海城市 D. 经济特区

11. (2010 年河南省) 改革开放以来，我国逐步形成了经济特区——沿海开放城市——沿海经济开放区——内地的对外开放格局。1988 年设立的海南省属于这一格局中的 [A]


A. 经济特区 B. 沿海开放城市 C. 沿海经济开放区 D. 内地

16. (2010 年衡阳市) 1983 年，一位去南方打工的衡阳小伙子给家乡亲人的信中写道：“我来到这座城市，曾是鸦片战争中被迫开放的第一批港口之一，现在则是改革开放中建立的四个经济特区之一，国家的变化真大呀！”这个小伙子打工的城市是 A

A. 厦门 B. 广州 C. 海南 D. 上海

13 (2010 年南京市) 在对外开放的过程中，我国逐步形成了全方位、多层次、宽领域的





英国鸦片船驶入黄埔港



轮船招商局旧址



浦东新面貌

- (1) 图一所示战争结束后签订了什么条约？此条约的签订对上海有什么影响？(2分)
- (2) 图二所示企业创办于近代哪一运动中？该运动后期提出了什么口号？(2分)
- (3) 图三上海浦东由桑田简屋、一穷二白的落后地区，发展成为今天国际化的经济中心和金融中心，主要得益于什么？(2分)

1. (6分) (1) 《南京条约》(1分)；上海被开放为通商口岸(1分) (2) 洋务运动(1分)；求富(1分) (3) 实行改革开放(或者把上海开放为沿海开放城市)(1分) 设立上海浦东开发区(1分)

7 (2010年山西省) 如今，上海浦东已经成为一座外向型、多功能、现代化的新城区。提出开发开放浦东的领导人是 (B)

- A.毛泽东      B. 邓小平  
C. 江泽民      D. 胡锦涛

6. (2010年长春市) 它曾是最早被迫开放的通商口岸，又是我国首批建立的经济特区，它是 (D)

- A. 南京      B. 上海      C. 深圳      D. 厦门

(4) 知道国有企业改革的主要内容。

5、(2010年河池市) 1993年底，工厂要和港商合资成立股份公司，这一事件是 (D)

- A.资本主义公私合营      B. 国有企业的破坏  
C.外资独资商业的改革      D.国有企业的改革

15. (2010年河北省) 前世界银行驻华首席经济学家华而诚曾讲到，“如果说此前中国一直在隧道中探索，1992年应该说人们终于看到了隧道口的光亮。”这一认识得出的主要依据是中国 (D)

- A. 实行了家庭联产承包责任制      B. 建立了经济特区  
C. 进行了国有企业改革      D. 提出了建立社会主义市场经济体制

41 (2010年山东聊城市) 阅读下列材料：

我国的经济体制改革在经历了80年代初以农村改革为重点的第一阶段，和80年代中后期以城市为重点、城乡联动、全面改革以来，以中国共产党十四大为标志，改革进入了新阶段。

——宁可主编《中国经济发展史》

请回答：

(1) 第一阶段农村改革的重大举措是什么？(2分) 十四大确定的改革目标是什么？(2分)

(2) 据材料和所学知识，概括我国经济体制改革的主要特点。(2分)

41. (1) 实行家庭联产承包为主的责任制；(2分) 目标：建立社会主义市场经济体制。(2分)

(2) 特点：首先在农村推行，之后在城市全面展开；先试点后推广；逐渐突破计划经济体制；

探索建立社会主义市场经济体制。(2分。每点1分,答出其中两点即得满分。)

21 (2010年山东聊城市) 1984年3月24日,55位厂长、经理联名在报纸上发出“请给我们松绑”的呼吁。“松绑”就是迫切要求(B)

- A. 优先发展重工业 B. 扩大企业自主权  
C. 建立现代企业制度 D. 设立经济特区

13 (2010年泰州市) 1993年后,大批国有企业积极进行公司制、股份制改革,出现了邯鄹钢铁总厂等一批先进典型。这表明我国经济体制改革的目标是

- A. 建立计划经济体制 B. 建立社会主义市场经济体制  
C. 加强国家干预经济 D. 实行“自由放任”的经济政策

(5) 说出我国颁布的《中华人民共和国民法通则》和《中华人民共和国刑法》等重要法律,了解社会主义民主与法制建设的重大进展。

51 (2010年湛江市) (10分)民主与法制的建设是国家政治生活的重要内容。请阅读材料,回答问题。

材料一 中华人民共和国的一切权力属于人民。人民行使权力的机关是全国人民代表大会和地方各级人民代表大会。

材料二 “民法是国家的基本法律,民法规范平等主体之间财产关系和人身关系,它是社会生活的基本准则。”——出自中国社会科学院法学所民法室主任孙宪中教授语

材料三 对任何人犯罪,在适用法律上一律平等。不允许任何人有超越法律的特权。刑罚的轻重,应当与犯罪分子所犯罪行和承担的刑事责任相适应。

请回答:

(1)材料一出自1954年颁布的哪部文件?(1分)它是在什么会议上制定的?(1分)

(2)哪个时期我国的民主法制建设成果突出,逐步走上了依法治国的道路?(1分)材料二所说的是1986年颁布的哪部法律文件?(1分)材料三是指1997年修改后的哪部法律文件?(1分)

(3)我国在建国初期保障农民翻身成为土地主人的法律文件是什么?(1分)保障少数民族真正实现当家作主的基本政治制度是什么?(1分)1986年以来,保障我们中小学生享受免费受教育机会的法律依据是什么?(1分)

(4)结合所学知识,谈谈你对加强民主与法制建设的认识。(2分)

(6) 认识邓小平理论是改革开放和社会主义现代化建设的指导思想。

18. (2010年黄石市) 中国共产党哪次全国代表大会在党章中将邓小平理论确立为党的指导思想?(C)

- A. 十三大 B. 十四大 C. 十五大 D. 十六大

13. (2010年日照市) 邓小平是我国改革开放的总设计师。以下与邓小平有关的是 ①建立第一个农村革命根据地②指挥百团大战 ③提出社会主义初级阶段的基本路线 ④强调发展才是硬道理 (C)

- A. ①②③④ B. ②③ C. ③④ D. ②④

28 (2010年东莞市) 邓小平理论是马克思列宁主义同中国实际相结合的又一次历史性飞跃,是当代中国的马克思主义。‘邓小平理论’这个科学称谓首次使用是在 (C)

- A. 中共七大 B. 中共八大二次会议  
C. 中共十五大 D. 中共十七大

18 (2010年贵港市) 我国实现四个现代化的根本前提是 (B)

- A. 坚持改革开放 B. 坚持四项基本原则  
C. 坚持自力更生 D. 坚持科教兴国

19 (2010年贵港市) 决定把建设有中国特色社会主义理论作为中国改革开放和现代化建设的指导方针的会议是 (C)

A. 中共十二大 B. 中共十三大 C. 中共十四大 D. 中共十五大

25. 新中国成立后, 涌现出大批全心全意为人民服务的杰出人物, 人民分别给予了他们许多光荣的称号, 下面图片中人物与图片下的称号不相逢的是 (B)



A. 改革开放的总设计师 B. 抗洪英雄 C. 两弹元勋 D. 县委书记的好榜样

7. (2010年长沙市) 每个时代都有自己的流行语。下列流行语与时音对应不正确的是 (B)

- A. 大跃进——20世纪50年代后期
- B. 家庭联产承包责任制——20世纪60年代
- C. 经济特区——20世纪80年代
- D. 北京奥运——21世纪初

18 (2010年吉林省) 新中国成立后, 中国共产党对社会主义道路进行不断探索, 基本建立起社会主义制度, 并在实践中找到了中国特色社会主义道路, 在各方面取得了显著成就。依据提示信息, 完成表格内容。(7分)

提示信息	相关史实
(1) 建立制度	
(2) 严重失误	
(3) 伟大转折	
(4) 特色理论	
(5) 显著成就	
启 示	

18. (1) 三大改造的基本完成(1分)

(2) “大跃进和人民公社化运动(或文化大革命)(答出一点即可给分)(1分)

(3) 中共十一届三中全会(或实行改革开放)(1分)

(4) 邓小平理论(或建设有中国特色社会主义理论等)(1分)

(5) 成就可从改革开放、对外交往、民主法制、国防建设等方面回答。

例: 实行家庭联产承包责任制; 发展乡镇企业; 实行国有企业改革; 建立深圳、珠海、汕头、厦门、海南经济特区; 开放上海、广州等 14 个沿海开放城市; 设立上海浦东开发区; 香港和澳门回归祖国; 提出和平共处五项原则; 提出“求同存异”的方针; 尼克松访华签署《中美联合公报》; 中日建交; 中美建交; 中国恢复在联合国的合法席位; 中国承办亚太经合组织会议; 中国加入世界贸易组织; 中国成功举办奥运会和世博会; 颁布第四部《中华人民共和国宪法》等; 建立人民空军、人民海军; 组建战略导弹部队等。

(答出以上要点之一即可得 1 分。其他答案符合题意也可给分)(共 2 分)

启示：只有在中国共产党的领导下，中国人民才能实现国家的富强和民族的振兴；改革开放使我国综合国力不断提高，国家日益繁荣；以经济建设为中心，坚持改革开放；经济政策的制定要依据国情，实事求是，遵循经济发展的客观规律；更坚定了建设中国特色社会主义的信念等。

(答出以上要点之一即可给分；其他答案观点正确，符合题意也可给分)(1 分)

12 (2010 年苏州市)“发展才是硬道理”、“特区姓‘社’不姓‘资’”的观点出自 (D)

A. 马克思主义 B. 列宁主义 C. 毛泽东思想 D. 邓小平理论

31 (2010 年苏州市)现代化建设始终与建设的目标和建设的手段密切相关。阅读下列材料：

**材料一** 在党的七大、七届二中全会和《中国人民政治协商会议共同纲领》上，都把建设新中国的战略目标确定为由农业国变为工业国，实现国家工业化……1953 年，中共提出了中国现代化的蓝图——逐步实现国家的社会主义工业化的总路线。……1959 年 12 月 24 日，周恩来提出：“需要加快建设我们的国家，使我们国家更快地成为具有现代工业，现代农业，现代科学技术和现代国防的社会主义强国。”在 1964 年三届人大一次会议上，周恩来概括毛泽东的提议，在《政府工作报告》中宣布：“整个国民经济将进入一个新的发展时期，要努力把中国建设成为一个具有现代工业，现代农业，现代科学技术的现代化强国。”

——《现代化知识干部读本》

**材料二** 1987 年党的十三大对社会主义现代化内涵作了全新发展，即不仅要实现农业、工业、国防和科学技术现代化，而且要在社会主义初级阶段，在坚持党的基本路线的基础上建设成为富强、民主、文明的社会主义现代化国家。

——《关于中国现代化道路的历史思考》

**材料三** 20 世纪在世界现代化发展道路上有着三次重要的改革调整机遇：一次是在 20 年代初的俄国，一次是在 30 年代的美国，还有一次是在 70 年代末期以来的中国。

——《走向 21 世纪的中国和世界》

请回答：

- (1)根据材料一、二，20 世纪下半叶我国对现代化目标的确定有过哪些变化?(2 分)
  - (2)与我国现代化目标的变化相对应的经济体制的重大变化是什么?(1 分)
  - (3)根据材料三并结合所学知识，分别指出俄、美两国在现代化发展道路上的重要改革调整是什么?(2 分)
  - (4)综合上述材料，指出我国现代化建设面对的主题是什么?(1 分)
31. (1)20 世纪 50 年代确定的目标是工业化；50 年代末到 60 年代发展为“四化”(即工业、农业、科技和国防的现代化)；80 年代后期(党的十三大)确定为“四化”以及社会、政治的现代化，即“富强、民主、文明的社会主义现代化”。
- (2)由高度集中的计划经济向市场经济转变。
  - (3)俄国新经济政策；美国罗斯福新政。
  - (4)现代化建设的目标和手段。

15 (2010 年盐城市)把邓小平理论确立为党的指导思想的重要会议是 (D)

A. 遵义会议 B. 中共七大 C. 中共十一届三中全会 D. 中共十五大

6 (2010 年宁夏)中国共产党第十五次全国代表大会的重大历史贡献是 ( D )

- A. 形成了以邓小平为核心的党中央领导集体
- B. 通过了《中国人民政治协商会议共同纲领》
- C. 粉碎江青反革命集团，结束了“文化大革命”
- D. 确立邓小平理论是改革开放和社会主义现代化建设的指导思想和光辉旗帜

一、(2010年山东省济宁市) 请你阅读下列材料, 根据要求完成问题 (本题7分)

1978年, 中共中央在北京召开十一届三中全会。会议作出把党和国家的工作重心转移到社会主义建设上来, 实行改革开放的伟大决策。之后, 我国在深圳、珠海、汕头、厦门建立四个经济特区。1987年, 邓小平在中国共产党十三次全国代表大会上提出了党在社会主义初级阶段的基本路线。1992年, 中国共产党十四次全国代表大会上决定建立自给自足市场经济体制。1997年, 中国共产党十五次全国代表大会把“三个代表”确立为党的指导思想, 成为指导我国改革开放和社会主义现代化建设的旗帜。2007年10月, 中国共产党十七次全国代表大会把科学发展观写入党章。

6. 上述材料是小虎同学学习完“建设有中国特色的社会主义”后, 根据教材内容及所了解的相关信息进行的部分总结。材料中有四处错误, 请你帮他找出。错误处用下划线标出并在相应的位置改正。(原题划线部分不的改动, 四分)

“十届三中全会”改为“十一届三中全会”; “社会主义现代化建设”改为“经济建设”; “自给自足”改为“社会主义”; “三个代表”改为“邓小平理论”。

7. 材料中提到的我国建立“经济特区”始于哪一年? 继经济特区后, 我国进一步开放沿海港口城市, 请举出两个。(三分)

1980年; 天津、上海、大连、秦皇岛、烟台、青岛、连云港、南通、宁波、温州、福州、广州、湛江、北海 (任选两个即可)。

12 (2010年莱芜市) “南海吹来改革风, 九天降下开放雨”, 这是一幅广为流传的对联。它反映的史实不包括 (A)

- A. 当时中共中央的主要领导人提出两个凡是方针
- B. 我国在沿海地区设立经济特区
- C. 我国实行对外开放政策
- D. 邓小平发表南巡讲话

45 (2010年青岛市) 请将历史上部分重要会议的名称及其意义对应连线。(每线0.5分, 共计3分)

会议名称	意义 (内容、地位、影响)
遵义会议	建国以来党的历史上具有深远意义的转折
中共七大	为争取抗日战争的胜利和实现中国的光明前途准备了条件
中共十一届三中全会	是党的历史上生死攸关的转折点
中共十二大	提出建立社会主义市场经济体制
中共十三大	阐明了社会主义初级阶段的基本路线
中共十四大	提出建设有中国特色的社会主义

23. (2010年资阳市) 中国共产党社会主义初级阶段的基本路线提出的时间是 (C)

- A. 19世纪80年代后期
- B. 20世纪80年代初期
- C. 20世纪80年代后期
- D. 20世纪90年代初期

20. 2010年浙江省宁波市(6分) 阅读材料, 回答问题。

材料一: 2010年5月9日, 俄罗斯隆重举行纪念卫国战争胜利65周年阅兵式, 20多个国家的领导人和国际组织代表参加了纪念活动, 并向为反法西斯战争胜利献出生命的无名烈士墓献花。国家主席胡锦涛参加庆典时强调: “今天的和平来之不易, 值得倍加珍惜。”

材料二: 2009年10月1日, 中华人民共和国成立六十周年国庆阅兵式隆重举行, 展示了国威军威。近百年抗争求独立, 六十年奋斗铸辉煌。在不断的探索中, 中国共产党领导全国各族人民开创了有中国特色的道路。

(1)材料一反映了当今时代的哪一个主题?(1分)


(2)材料二中的“两条独具特色的道路”是指哪两条道路?(2分)

(3)上述两则材料对实现中华民族的伟大复兴有哪些启示?(3分)

20 . (1)和平(1分) (2)农村包围城市的独特的革命道路；中国特色社会主义道路。(2分)

(3)努力争取和平的国际环境(1分)坚持中国共产党领导；坚持从中国国情出发(一切从实际出发)；坚持社会主义道路；坚持改革开放；各民族团结一心等。(2分。两方面，言之有理即可)

21 . (2010年浙江省丽水市) (8分) 20世纪以来，中国人民在前进道路上经历了三次历史性巨变，展现了中华民族呕心沥血的奋斗历程，结合所学知识，完成下列表格。

人物图像			
人物姓名 (2分)	①	②	邓小平
历史功绩 (4分)	③	领导人民建立中华人民共和国，确立社会主义制度	④
共同追求 (2分)	⑤		

21 . (8分) ①孙中山；②毛泽东；③领导辛亥革命推翻了统治中国两千多年的君主专制制度，使民主共和思想深入人心。④实行改革开放，中国的发展进入现代化建设新时期。(若答“开辟建设中国特色社会主义道路”也可) ⑤争取民族独立和人民自由幸福(国家富强)，实现中华民族的伟大复兴。(言之有理即可)

10 . (2010年浙江省台州市) 共和国走过60年风风雨雨，实现了入世梦、奥运梦、飞天梦……这证明了 D。

①我国各族人民的共同理想已经实现 ②改革开放是强国之路 ③我国已成为发达国家 ④以经济建设为中心是兴国之要

A . ①② B . ③④ C . ①③ D . ②④

5 (2010年江西省) 江西省永丰县潭城乡龙洲村某农户墙上刷有一条“坚定不移地沿着中国特色社会主义道路前进！”的标语。从内容上分析，这条标语是下列哪一时期刷写的(D)

A.土地改革时期 B.三大改造时期 C.文化大革命时期 D.改革开放时期

29 (2010年龙岩市) 20世纪是中国和世界发生巨变的100年，下列四位伟人以其卓越的贡献站在了时代的前列。

(1) 根据下列内容提示，完成表格。(8分)

伟大人物	重大事件	历史巨变
孙中山	<u>A</u> 革命	中国人民醒过来
毛泽东	<u>B</u> 成立	中国人民站起来

<u>  C  </u>	改革开放	中国人民富起来
列宁	十月革命	第一个 <u>  D  </u> 国家诞生

(2) 从上述伟人的身上，我们可以学到哪些优秀品质？(2分)

#### (四)民族团结与祖国统一

##### 【内容标准】

(1) 了解我国实行民族区域自治制度的主要史实。

23. (2010年河北省)我国是一个统一的多民族国家，加强民族团结，维护国家统一是中华民族的最高利益。)为维护、巩固民族团结，我们要( D)

- ① 坚持和完善民族区域自治制度                      ② 坚持各民族一律平等  
③ 尊重各民族的语言文字、风俗习惯                ④ 加大对少数民族地区的扶持力度

A. ①④                      B. ③④                      C. ①②③                      D. ①②③④

世界上的多民族国家在处理民族问题方面有不同的制度模式，中国采用的是 A。A 是在国家统一领导下，各少数民族聚居的地方设立自治机关，行使自治权，实行区域自治。

由于成功地实行 A，中国少数民族依法自主地管理本民族事务，民主地参与国家和社会事务的管理，保证了中国各民族不论大小都享有平等的经济、政治、社会和文化权利，共同维护国家统一和民族团结，反对分裂国家和破坏民族团结的行为，形成了各民族相互支持、相互帮助、共同团结奋斗、共同繁荣发展的和谐民族关系。

——摘自《中国的民主政治建设》(白皮书 2005 年)

(1)材料中的“A”处指的是我国对少数民族实施的一项基本政治制度，请写出它的名称。在宜昌市范围内，举出一个实行少数民族自治的例子。(4分)

(2) 20 世纪 80 年代，国家开始加大对少数民族地区的经济投入，到 90 年代，全国 80%以上的少数民族地区解决了温饱问题。你认为这一成就的取得与中国共产党召开的哪次转折性会议有直接联系？如今我国不断在西藏、新疆等地巨额投资，得益于本世纪初我国对少数民族地区实施的哪一项战略政策？(6分)

(3)和谐的民族关系需要我们共同来维护，请你为营造更加和谐的民族关系提出合理化建议。(不少于两条)(5分)

23. (1)答案：民族区域自治。(2分) 长阳土家族自治县或五峰土家族自治县。(2分)

(2) 答案：十一届三中全会。(3分) 西部大开发。(3分)

(3)答案示例：国家加大对少数民族地区的投资、国家派干部和大学毕业生支援少数民族建设、关心少数民族的生活，提高少数民族的生活水平等等。评分说明：只要符合题意，写出 2 条或以上的建议的，表述准确即可得满分。满分 5 分。

27. (2010年衡阳市) (14分) 在推进现代化和实现民族复兴的伟大进程中，实行科学协调发展，正确处理各种矛盾，构建和谐社会，是一个重要的政治保证。阅读材料，结合所学知识，回答有关问题：

##### 【古代经验教训】

材料一 《汉书·食货志》记载：“至于始皇，遂并天下……收泰半之赋，发闾左之戍(戍：服兵役)，男子力耕不足粮饷，女子纺织不足衣服。”董仲舒也说：秦朝“田租口赋……二十倍于古”。

(1) 秦朝建立了中国历史上第一个大一统王朝，但它统治残暴，因而二世而亡，十分短命。材料一反映了秦朝暴政哪些方面的表现？(4分)

材料二 唐太宗曰：“夫以铜为镜，可以正衣冠；以古为镜，可以见兴替；以人为镜，可以知得失。我常保此三镜，以防己过。”

(2) 唐朝是一个长治久安的朝代并创造了中国古代文明的辉煌，一个重要的原因是，调整政策，理顺关系，协调发展。材料二“以人为镜，可以知得失”反映了唐初贞观政策哪一内容？此外，贞观政策在经济方面有何措施？（4分）

### [近代民生探索]

材料三 实行“平均地权”，办法是核定地价，照价纳税，涨价归公，不使少数人垄断国家财富。

(3) 在近代民主革命过程中，孙中山提出了三民主义的伟大思想，即民族主义、民权主义、民生主义。材料三反映了孙中山三民主义中哪一主义的具体主张，来力图构建社会和谐？（2分）

### [当代和谐建设]

材料四 中华人民共和国成立后，特别是进入改革开放时期，在中国共产党的领导下，我国积极探索协调发展，努力构建和谐社会。一是通过发展经济，改善人民生活；二是加强民主法制建设，保障人民权利；三是实行正确的民族政策，维护民族团结。

(4) 列举教材上所讲的新中国颁布的一部重要法律文献。（2分）

(5) 新中国实行民族平等、民族团结、共同繁荣的民族政策，并在制度上予以保障，请写出我国在少数民族聚居地区实行的政治制度。（2分）

**27. (14分) (1) 赋税沉重；兵役、徭役繁重。(4分)**

**(2) 知人善任，重视纳谏。提倡节俭，轻徭薄赋。(4分)**

**(3) 民生主义。(2分)**

**(4) 《中华人民共和国宪法》、《中华人民共和国民法通则》、《中华人民共和国刑法》、《中华人民共和国义务教育法》等。(2分。答其中一部即可)**

**(5) 民族区域自治制度。(2分)**

38. (2010年无锡市) 中华民族有着悠久的历史，有着强大的凝聚力，几千年来，各民族生生不息，共同创造了灿烂的中华文明。在历史发展长河中，统一成为历史发展的主流，统一更是国家振兴的重要基础。近代以来，中国经历了百年沧桑，在中国共产党的领导下，祖国统一大业稳步推进，中华民族逐步实现了伟大复兴。请你根据所学知识，回答下列有关西藏和台湾的问题。

(1) 西藏是我国领土不可分割的一部分。早在哪个朝代，西藏就成我国的正式行政区？(0.5分) 清朝时，与达赖和班禅共同管理西藏事务的中央政府代表叫什么？(0.5分)

(2) 台湾两次与回归祖国，第一次在古代，第二次在近代。现在海峡两岸交往日益密切，回答：

① 明清时期，台湾在哪一历史事件后重新回到了祖国怀抱？(0.5分)

② 近代通过哪个不平等条约，造成了台湾和祖国大陆的分离？(0.5分)

③ 近代史上，台湾在哪一历史事件后重新回到了祖国怀抱？(0.5分)

④ 造成台湾和祖国大陆再次分离的主要原因是什么？(0.5分)

⑤ 现在我国处理海峡两岸关系的原则是什么？(0.5分)

⑥ 如果让你给台湾的中学生写一封信，你想表达的主要观点是什么？(不得摘抄试卷上的有的原话)(0.5分)

16 (2010年徐州市) (8分) 国家统一，民族融合是中国历史发展的主流。阅读下列材料，结合所学知识回答问题：

材料一 骞始开通西域道也。

——引自《汉书·张骞传》

材料二 高祖曰：“……今欲断诸北语，一从正音……三十以下，见在朝廷之人，语音不听仍旧。若有故为，当降爵黜官，各宜深戒。”

——引自《魏书·献文六王传·咸阳王禧传》

材料三 各少数民族聚居的地方，……按照民族聚居的人口多少和区域的大小，分别建立各族自治县。在各民族杂居的地方及民族自治区内，各民族在当地政权机关中均应有相当名额的代表。

——引自《中国人民政治协商会议共同纲领》

(1)材料一中的“西域”狭义上是指今天我国的什么地方?(1分)该地正式归属中央政权管辖的标志是什么?(1分)

(2)材料二是中国古代哪次改革的内容?(1分)这次改革对于中华民族的发展有何积极意义?(2分)

(3)材料三表明新中国成立后我国在少数民族聚居地区主要实行的政治制度是什么?(1分)结合所学知识说明实行这一制度的意义。(2分)

16.(1)新疆天山南北地区(答新疆也对)。(1分)西域都护的设置。(1分)

(2)北魏孝文帝改革。(1分)加速了黄河流域民族大融合的过程。(2分)(符合题意、言之成理即可适当给分)

(3)民族区域自治制度。(1分)保障了少数民族当家做主的政治权利(或保障了少数民族平等管理国家事务和自主管理本民族事务的政治权利);有利于民族团结、社会稳定和少数民族地区的发展;维护了国家的统一;维护了中华民族大家庭的根本利益。(1点1分,答出2点即给2分。符合题意、言之成理即可给分)

7. **2010年浙江省宁波市**我国是统一的多民族国家,民族团结是我国处理民族关系的原则之一。下列做法有利于民族团结的是 AAA

- ① 尊重各民族的宗教信仰、风俗习惯 ② 帮助少数民族地区发展经济  
③ 实行民族区域自治制度 ④ 在国家机关统一使用汉字与普通话  
A. ①②③ B. ①②④ C. ①③④ D. ②③④

(2) 简述香港、澳门回归的史实,说明“一国两制”的科学构想是推进祖国和平统一大业的基本方针。

22 (2010年达州市) .下列选项中人物和地点的搭配,有误的一项是 (C)


- A.毛泽东——开国大典时的天安门城楼 B.王进喜——大庆油田  
C.邓小平——回归后的香港 D.江泽民——中共十四大会场

36. (2010年四川省乐山市) (10分) 我国是一个统一的多民族国家,维护祖国统一是中华儿女不变的追求。阅读下列材料,回答问题。

材料一



香港回归政权交接仪式



澳门回归政权交接仪式

材料二



**胡锦涛会见台湾国民党主席连战 台湾旅客乘坐深航班机开心回家 台湾歌手范晓萱成都演唱会**

**材料三** 1998年，全国已先后成立内蒙古、新疆、广西、宁夏、西藏5个民族自治区和30个自治州、120个自治县（旗）。

——川教版《中国历史》

八年级下册

(1) 材料一体现了哪一构想的成功运用？（1分）

(2) 材料二中你能获取什么信息？体现了中国共产党对台湾问题的基本方针是什么？（2分）

(3) 材料三反映出新中国成立后，党和政府为解决民族问题采取了什么政治制度？结合所学知识指出其历史意义。（3分）

(4) 历史证明，民族问题解决不好，会导致国家的分裂和民族冲突。请举两例世界现代史史实说明。（2分）

(5) 综观上述材料和问题，请谈谈你的认识。（2分）

(1) “一国两制”。（1分）

(2) 信息：两岸交流的加强。（1分）

基本方针：“和平统一，一国两制”。（1分）

(3) 民族区域自治；（1分）保障了少数民族当家作主的政治权利；维护了国家的统一；有利于民族团结、社会稳定和少数民族地区的发展。（任2点2分）

(4) 巴以冲突和阿以矛盾、印巴冲突、苏联解体、南斯拉夫社会主义联邦共和国分裂、科索沃问题、朝鲜半岛问题。（任2点2分）

(5) 认识：民族团结、国家统一有利于社会稳定和发展；民族团结、国家统一有利于全世界的和平与发展；民族团结、国家统一有得利于民族融合和经济文化交流。统一是各国人民的共同愿望；不和谐因素仍然存在，维护民族团结、国家统一任重道远。（采意给分，任2点2分）

12. (2010年娄底市) 下列图片反映的历史事件是 (D)



A. 海峡两岸关系发展 B. 社会生活日新月异

C. 国防建设成就斐然 D. 香港澳门回归祖国

13. (2010年重庆市) 2009年12月20日是澳门回归祖国十周年的纪念日。把党中央多年来酝酿的和平统一祖国的构想创造性地概括为“一国两制”，为澳门回归祖国开辟了正确道路的是 (B)



A



B



C



D

20 (2010年綦江县) .阅读下列材料：

材料一 在以毛泽东为核心的第一代中央领导集体的领导下，新民主主义革命取得伟大胜利，建立了新中国，并确立了社会主义基本制度。这是中国社会在 20 世纪实现的第二次历史性的巨大变化。

——中国共产党党史研究室《中国共产党简史》

材料二 20 世纪的最后 20 年，在世界的东方，中国进行了一场卓有成效的社会变革，解放了思想的中国人焕发出蓬勃的创造力，书写了一个时代最为传奇的一页。

——电视片《复兴之路》解说词

请同答：

- (1)结合所学知识指出新民主主义革命胜利和社会主义制度确立的标志分别是什么？(2分)
- (2)指出材料二中取得“卓有成效的社会变革”是以我党哪次重大会议为开端？这次会议作出了怎样的重大决策？(2分)
- (3)材料二中带领中国人民“书写了一个时代最为传奇的一页”的领导人是谁？他为祖国统一大业作出的贡献是什么？(2分)

20.(1)新中国的成立(或中华人民共和国的成立)(1分)；三大改造的完成(1分)。

(2)十一届三中全会(1分)；改革开放(或把党和国家工作重心转移到经济建设上来)(1分)。

(3)邓小平(1分)；提出“一国两制”的构想，成功解决了香港、澳门问题。(1分)。

17. (2010年绍兴市) 澳门回归十多年来，GDP 以年均近 15% 的增幅快速增长，人均 GDP 已达 3.9 万美元，成为全球最活跃的微型经济体。这一事实表明，“一国两制”的实行

( ) C

- A. 融洽了中国人民的感情
- B. 增强了中华民族的文化认同感
- C. 刺激了特区经济的繁荣和发展
- D. 保持了特区生活方式的长期不变

46. (2010年达州市) 阅读下列材料，结合教材回答问题。

材料一：1951 年关于西藏问题的签字仪式在北京举行(图略)

——摘自川教版《中国历史》八年级下册

材料二：“我相信我的政府不能永远忍受一半奴役一半自由的状况。”

——摘自林肯在 1858 年 6 月的演讲《裂开的房子》

材料三：“乡愁是一湾浅浅的海峡，我在这头，大陆在那头。”

——摘自台湾著名作家余光中的《乡愁》

(1) 依据材料一回答：为解决西藏问题，中央人民政府主要采取的方式是什么？为加快西藏的发展，党和政府组织修建了一条“神奇的天路”，这条“天路”是指什么？(2分)

(2) 依据材料二回答：林肯政府为结束“一半奴役一半自由的状况”最终采取的方式是什么？在此过程中，哪一决策的出台激发了黑奴的革命情绪，扭转了战局？(2分)

(3) 依据材料三回答：目前我国解决“乡愁”问题的基本国策是什么？(1分)

(4) 上述三段材料涉及的共同问题是什么？(1分)

46. (1) 和平方式(或和平谈判方式)(1分)青藏铁路(1分)

- (2) 战争方式 (或武力统一的方式) (1分) 《解放黑奴宣言》(1分)
- (3) 一国两制(1分)
- (4) 国家统一的问题 (1分)

35 (2010年四川省成都市) (13分) 香港、澳门问题的产生和最终解决,反映了中国从贫穷落后走向独立富强的历史进程。依据史实,回答下列问题。

(1)19世纪40年代,西方列强通过哪一次侵略战争导致香港问题出现?举出与此相关的不平等条约的名称。(2分) **鸦片战争**

**《南京条约》**

(2)香港、澳门分别是什么时候回归祖国的?(2分)

**1997年7月1日 1999年12月20日**

(3)香港、澳门最终能够顺利回归祖国的主要原因是什么?(4分)

**我国综合国力的增强;“一国两制”科学构想的提出;全国人民的支持;港澳自古以来就是我国的领土等等**

(4)香港和澳门回归祖国的历史意义是什么?(5分)

**是中华民族百年盛事,洗雪了民族耻辱,振奋了民族精神;促进港澳发展,推动解决台湾问题。**

15 (2010年滨州市) 香港、澳门回归祖国后,社会、经济制度及人们的生活方式没有改变,经济持续繁荣发展,国际贸易和世界全融中心的地位进一步巩固,这主要是因为实施了 (B)

- A.民族区域自治制度
- B.“一国两制”方针
- C.独立自主的外交政策
- D.中国共产党领导的多党合作的政治制度

15 (2010年南京市) .“一国两制” (D)

- A.是20世纪90年代邓小平提出的
- B.最初是为解决香港问题提出的
- C.首先在澳门问题上得到成功运用
- D.是新时期推进祖国和平统一大业指导方针

33. (2010年泰安市) 在近现代史上,中国社会性质发生了由封建社会到半殖民地半封建社会,由半殖民地半封建社会到新民主主义社会,由新民主主义社会到社会主义社会的三次变化。据此,结合所学知识,回答下列问题。

(1) 列强入侵是近代中国由封建社会转变为半殖民地半封建社会的主要因素,请分别写出促使中国开始沦为半殖民地半封建社会和直接导致中国完全沦为半殖民地半封建社会的列强侵华战争及其签订的不平等条约的名称。(4分)

(2) 在近代列强侵华的过程中,处于亚洲的日本表现尤为猖獗。请写出日本在20世纪30年代发动的三次侵华事变和制造的一次屠杀中国人达30万之上的惨案名称。(4分)

(3) 伴随列强的入侵,中国各阶层为救国,开始了学习西方的近代化探索历程。请完成下面的中国近代化发展历程结构图(4分)



(4) 在中国人民的探索与斗争中,中国社会性质又先后发生了向新民主主义社会和社

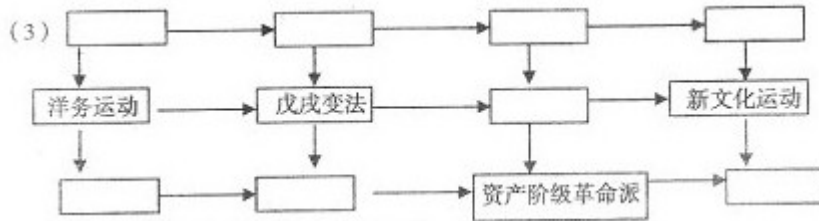
会主义社会的两次转变。请写出我国进入社会主义社会初级阶段的时间和标志。(2分)

(5) 进入社会主义初级阶段的中国，在祖国统一方面取得了令世界瞩目的成就。请举2例说明。(2分)

33.(1) 开始沦为半殖民地半封建社会：鸦片战争，《南京条约》(1个要点1分，共2分) 完全沦为半殖民地半封建社会：八国联军侵华战争，《辛丑条约》(1个要点1分，共2分)

(2) 九一八事变、七七事变(或卢沟桥事变)、八一三事变；南京大屠杀(1个要点1分，共4分)

(3)



(戊戌变法答百日维新也可。1空1分，共4分)

(4) 1956年底；(1分) 对农业、手工业和资本主义工商业的社会主义改造基本完成(或三大改造基本完成)(1分)

(5) 香港回归、澳门回归(2分)

22 (2010年泰州市) 鸦片战争是中国历史的一块界碑，自此，中国社会一步步沦为半殖民地半封建社会，中华民族百余年艰苦卓绝的伟大复兴历史也由此拉开了大幕。100多年来，中国经历了求索与奋斗，告别了曾经的苦难，正以崭新的面貌融入世界。阅读电视政论片《复兴之路》有关解说词，回答问题。(8分)

探索篇

以1861年1月总理各国事务衙门成立为起点，中国近代第一次由清政府主导的自主探索开始了，史称洋务运动。……残酷的现实证明，洋务运动无法实现其目的，不是中国现代化的方向。

戊戌变法它在政治上是具有君主立宪的目标和理想，在经济上呢，它是推动了民族的工商业的发展。

(1) 洋务运动提出的口号是什么？从戊戌变法政治和经济主张看，维新派代表了哪一阶级的要求？(2分)

解析：洋务派前期(19世纪60—70年代)以“自强”为口号，兴办近代军事工业；后期(19世纪70年代—90年代)以“求富”为口号，兴办近代民用企业。维新派的政治主张是“君主立宪”，经济主张是“推动了民族的工商业的发展”，由此可知维新派代表了资产阶级的利益。

参考答案：①自强、求富；②资产阶级

1919年爆发的五四运动，进一步推动了马克思主义在中国的传播及其与工人运动的结合。一些倾向于社会主义的知识分子，开始在马克思主义的旗帜下集合起来。1921年7月，中国共产党第一次全国代表大会召开。

(2) 中国共产党第一次全国代表大会的召开有何重大意义？(2分)

参考答案：自从有了中国共产党，中国革命的面貌从此焕然一新。

有人说，在中华民族伟大复兴的征途上推翻封建帝制的孙中山，为中国打开了思想进步的闸门；建立起新中国的毛泽东，让中国人民从此站了起来；而挽救了社会主义的邓小平为中国找到了一条使国家强盛、人民富裕的道路。

(3)毛泽东为建立新中国，将马克思主义普遍原理与中国革命实际相结合，探索出了一条怎样的正确革命道路?(2分)

解析：1927年9月，毛泽东率领工农革命军进军井冈山，建立了中国第一个农村革命根据地——井冈山革命根据地。井冈山革命根据地的创建，是中共探索农村包围城市、武装夺取政权这一正确革命道路的开始。

参考答案：农村包围城市、武装夺取政权或井冈山道路或工农武装割据

跨越篇

2007年7月1日，香港，这个中国近代百年沧桑的特殊见证者，以它在回归祖国10年中所走过的历程骄傲地告诉世人：中华民族伟大复兴的航船早已驶出了1840年的海面。两年后，澳门也将迎来回归祖国10周年。

(4)香港、澳门的回归，是邓小平提出的哪一创造性构想的成功运用?(1分)

解析：此构想首先是针对台湾问题提了出来，后成功地运用于解决香港和澳门问题，1984年，中英两国正式签署联合声明，宣布中华人民共和国政府将于1997年7月1日对香港恢复行使主权，设立香港特别行政区。1987年，中葡两国政府也签署联合声明，宣布中华人民共和国政府将于1999年12月20日对澳门恢复行使主权，设立澳门特别行政区。

参考答案：一国两制

感悟篇

(5)回首过去的100多年，历史发生了沧桑巨变，走出了一条清晰的轨迹。一个有着灿烂文明的民族今天渴望再创辉煌，有许多历史经验应该去继承和发扬，请你写出其中之一。(1分)

参考答案：落后就要挨打；在中国走资本主义道路行不通；坚持中国共产党的正确领导；坚持实事求是；要有创新精神；答一点即可。

33 (2010年连云港市) 邓小平指出，实现祖国统一应实行“一个国家，两种制度”。当前，在这一方针指导下我国已成功解决了 (B)

A. 台湾问题 B. 港澳问题 C. 落后问题 D. 发展问题

9 (2010年鄂州市) “紫荆开后白莲开，喜事翩跹接踵来。神州大地齐欢庆，一国两制谱新篇。”诗歌中的“喜事”指 (C)

A. 新中国成立 B. 西藏和平解放 C. “一国两制”提出 D. 香港、澳门回归

8 (2010年广州市) “一国两制”构想不适用于下列哪一地区? ( ) A

A. 深圳 B. 香港 C. 台湾 D. 澳门

16 (2010年广东省) “紫荆绽后白莲开，喜事踮跹接踵来。神州大地齐欢庆，一国两制添新彩。”诗中的“喜事”是指 (C)

A. 新中国成立 B. 西藏和平解放 C. 香港、澳门回归 D. 祖国统一

(3) 了解祖国大陆与台湾经济文化交往日益密切的史实，认识祖国统一是历史发展的必然趋势。

14 (2010年汕头市) 2009年12月12日，台湾行政院院长吴敦义说：“两岸关系始终是台湾社会的冲突点，台湾没那个本事搞独立，搞了内部也分裂，外部可能有危机只有不负责任的人才会认为应该搞一个独立国”。与此同时，台独支持者在“立法院”门口前依惯例喊口号，但是没有人媒体捧场。这说明 (D)

- A. 两岸统一的障碍基本消除
- B. 两岸统一大业已经完成
- C. 国民党内部面临分裂
- D. 两岸统一趋势不可逆转

19. (2010年黄石市) 海基会和海协会达成九二共识是指 (A)

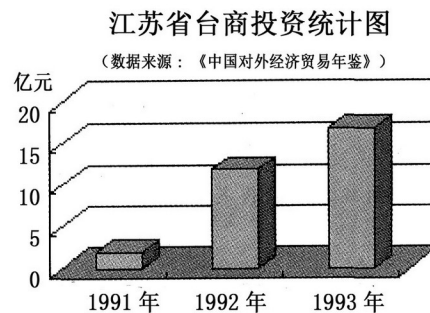
- A. 海峡两岸均坚持一个中国原则 B. 加强两岸经济交流, 互补互利  
C. 两岸直接实现通邮、通航、通商 D. 双方领导人以适当身份互访

25. (2010年武汉市) 随着海峡两岸直接“三通”的开启, 两岸经济文化交往日益频繁, 这将造福两岸同胞, 促进中华民族伟大复兴。下列关于台湾的表述, 正确的是 (B)

- ①1860年《北京条约》签订, 中国被迫将台湾割让给日本  
②1945年抗日战争胜利, 宝岛台湾回到祖国怀抱  
③改革开放新时期, “和平统一、一国两制”是解决台湾问题的基本方针  
A. ①② B. ②③ C. ①③

10 (2010年徐州市) 观察右图, 这一时期台商在江苏投资情况发生变化的原因不包括 (B)

- A. 邓小平南方谈话  
B. 香港、澳门的回归  
C. 中共十四大的召开  
D. 海峡两岸经济文化交流的加强



27 (2010年龙岩市) 阅读下列材料:

2010年2月12日, 在中华民族传统节日

春节到来之际, 中共中央总书记胡锦涛来到福建, 亲切看望在这里创业发展的台商, 并向广大台湾同胞致以新春的祝福。2月13日 (农历大年三十) 胡锦涛冒着细雨专程前往上杭县古田镇, 亲切看望了老红军等革命老区干部群众, 并代表党中央向他们表示崇高敬意和诚挚慰问。



——摘自新华网

图3 胡锦涛亲切看望老红军

请回答:

(1) 中国共产党曾在上杭县古田镇召开过什么重要会议? (2分) 请从闽西历史的角度, 谈谈胡总书记为什么代表党中央向闽西老区干部群众表示崇高敬意? (2分)

(2) 为了收复台湾, 两岸人民曾共同抗击过哪两个殖民国家? (4分) 为了和平统一台湾, 邓小平创造性地提出了什么伟大构想? (2分)

(3) 请你为推动海峡两岸关系的进一步发展提出一条合理化建议。 (2分)

27. (1) 古田会议 (红四军党的第九次代表大会)。 (2分)

因为在革命战争年代, 闽西人民曾为中国革命付出巨大牺牲和作出重大贡献。 (2分)

(2) 荷兰, (2分) 日本。 (2分) “一国两制”。 (2分)

(3) 坚决拥护党和政府的对台政策; 积极推动两岸经济文化的合作交流, 实现互利共赢; 组织与台湾中学生增进友谊的活动等。 (言之有理或举出具体方案均可给2分)

18 (2010年威海市) 台湾舞剧《薪传》曾在大陆演出, 引起轰动, 它反映了祖国大陆和台湾同胞一脉相承的亲情关系。下列关于海峡两岸关系发展的重大事件, 按其发生的先后顺序, 排列正确的是 (B)

- ①“汪辜会谈”的举行 ②“和平统一, 一国两制”对台基本方针的形成  
③江泽民“八项主张”的提出 ④台湾当局“三不”政策的调整  
A. ①②③④ B. ②④①③ C. ②①③④ D. ④②①③

4 (2010年淄博市) 右图预示两岸关系进入了一个崭新的发展阶段, 两岸关系和平发展最根本的前提是 (A)



- A. 坚持一个中国的原则 B. 坚持资本主义道路  
C. 坚持国共两党平等对话 D. 坚持社会主义道路

33 (2010年湘潭市) 新华网北京3月3日电：全国政协十一届三次会议3日在北京开幕。民革中央和部分政协委员建议两岸共同纪念辛亥革命100周年的提案“未提先热”，受到各方瞩目，在台湾岛内引起了共鸣。据此回答：

(1) 孙中山领导辛亥革命的指导思想是什么？(2分) 武昌起义发生在哪一年？(2分)

(2) 你认为辛亥革命最大的历史功绩是什么？(2分)

(3) 我国当前推进祖国和平统一大业的基本方针是什么？(2分) 两岸如果共同举行纪念辛亥革命100周年活动有何意义？(2分)

33、(1) 三民主义。1911年

(2) 推翻了清朝统治，结束了两千多年的封建帝制，建立了资产阶级共和国，有利于资本主义的发展和社会进步。(四点中任答一点即可得2分)

(3) “一国两制”。(2分) 有利于两岸经济文化交流，有利于祖国的和平统一。(2分，其它答案如遏制台独势力等亦可酌情得分)

14 (2010年日照市) . 我国《反分裂国家法》中规定“……以和平方式实现祖国统一，最符合台湾海峡两岸同胞的根本利益”实现神龛和平统一的前提和基础是 ( )

- A. 坚持一个中国的原则 B. 坚持社会主义道路的原则  
C. 坚持不动用武力的原则 D. 坚持反对外国干涉的原则

11 (2010年福州市) 2009年，北京故宫博物院向台北故宫举办的“雍正——清世宗文物大展”提供了37件(套)文物展品。这体现了海峡两岸的 (C)

- A. 商贸往来 B. 探亲访友  
C. 文化交流 D. 捐资赈灾

## (五)国防建设与外交成就

### 【内容标准】

(1) 了解人民海军和人民空军建立的史实。

8 (2010年山西省) 近年来，我国海军多次完成亚丁湾护航任务。这充分表明 (D)

- A. 中国海军活动范围扩大 B. 中国政府重视外交活动  
C. 中国海军武装力量强大 D. 中国为维护世界和平做出贡献

30 (2010年湛江市) 1949年4月，中国人民解放军华东军区海军正式建立，从此人民海军不断发展壮大，至今已经发展成为保卫祖国现代化建设的一支重要力量。湛江是哪支舰队的主要基地？(A)

- A. 南海舰队 B. 北海舰队 C. 华东军区海军 D. 东海舰队

(2) 以人民解放军导弹部队的建立和发展为例，说明科技强军的重要性。

16 (2010年南京市) . 2009年10月1日，在国庆阅兵式上，多种新型战略导弹经过天安门广场。外国军事评论家答：中国战略导弹部队实现了历史性跨越。这支部队创建于 (C)

- A. 1949年 B. 1964年 C. 1966年 D. 1970年

(3) 知道和平共处五项原则的主要内容，简述周恩来出席万隆会议的史实。

7 (2010年广州市) 2008年周恩来同志诞辰110周年，下列属于周恩来参与的重大活动是 ( ) D

- ① 黄埔军校 ② 南昌起义 ③ 秋收起义  
④ 重庆谈判 ⑤ 万隆会议

A . ②③④⑤ B . ①③④⑤ C . ①②③④ D . ①②④⑤

26. (2010年武汉市) 现在,我国已同 100 多个国家建立了外交关系,“我们的朋友遍天下”。在中国政府制定的外交原则、政策和战略中,奠定新中国外交事业基础的是 (A)

A.和平共处五项原则 B.中国永远不称霸的政策 C.不与大国结盟的战略

14 (2010年扬州市) 在 20 世纪 50 年代召开的一次国际会议上,“周恩来并不打算改变任何一个坚持反共立场的领导人的态度,但是他改变了会议的航向”,这是因为周恩来提出了 (D)

A . 独立自主原则 B . 和平共处原则 C . 团结反帝方针 D . 求同存异方针

13 . (2010年无锡市) 周恩来与印度、缅甸总理共同倡导,被大多数国接受,并成为处理国与国之间关系的基本准则是 (A)

A . 和平共处五项原则 B . 独立自主的和平外交

C . “求同存异” D . 资源共享,优势互补

12 (2010年滨州市) 一位美国记者评论周恩来在某次重大会议中的作用时说:“周恩来并不打算改变任何一个坚持反共立场的领导人的态度,但是他改变了会议的航向。”该会议是 (B)

13 (2010年莱西市) 万隆会议期间,菲律宾外长罗慕洛高度评价周恩来总理的讲话:“这个演说是出色的、和解的,表现了民主精神。”他这样说的原因是 B

A . 万隆会议是第一次没有殖民主义国家参加的国际会议

B . 周恩来提出了“求同存异”的方针

C . 会议讨论了亚非国家发展问题

D . 周恩来提出了和平共处五项原则

(4) 讲述我国恢复在联合国合法席位和中美建交等史实。

20 (2010年山东聊城市) 一位老新闻记者自豪地说:“上个世纪 70 年代,我曾写过一篇题为‘跨洋握手’的新闻稿。”该新闻稿报道的应是 (C)

A . 亚非会议圆满成功 B . 中国恢复在联合国的合法席位

C . 尼克松访问中国 D . 上海亚太经合组织会议召开

1

15 (2010年广东省) 1971 年 11 月,美国《时代》周刊以“The Chinese Are Coming (中国人来了)”作为封面标题,表明新中国将会在未来的国际事务中发挥更大作用。与此相关的历史事件是 (B)

A . 中国参加万隆会议 B . 中国恢复在联合国的合法席位

C . 中国提出和平共处五项原则 D . 中美正式建立外交关系

23 . (2010年河南省) (6分)阅读材料,回答下列问题。

材料一 20 世纪 50 年代,新中国积极同邻近国家和新兴独立国家发展友好关系,参加了一系列外交活动并产生了积极的影响,国际政治舞台开始有了“中国声音”,中国的国际地位大大提高。

材料二 20 世纪 70 年代,我国外交取得了显著成就,其中之一就是西方世界许多国家与中国建交。如:日本、美国、意大利、加拿大、联邦德国、澳大利亚、英国等。

材料三 改革开放以后,特别是进入 20 世纪 90 年代,中国政府开展了务实的、全方位外交活动,发展同所有国家的友好关系,积极参加国际及区域性组织,在双边与多边外交领域内取得了一系列重大成就,为改革开放和现代化建设创造了和平有利的国际环境。

(1)20 世纪 50 年代,国际政治舞台上的“中国声音”主要指什么?(2 分)

(2)20 世纪 70 年代,为中国外交新局面的出现创造了良好国际环境的事件是什么?(1

分)

(3)分别列举一个 20 世纪 90 年代以来中国参加的国际及区域性组织。(2 分)

(4)根据上述材料,说明一个国家调整外交政策的出发点是什么?(1 分)

(1)和平共处五项原则;求同存异方针。(2 分)


(2)中国在联合国合法席位的恢复;中美关系开始走上正常化道路。(一条即可,1 分)

(3)国际组织:世界贸易组织;区域性组织:亚太经合组织。(其他符合题意也可,2 分)

(4)维护国家根本利益。(意思相近即可,1 分)

12. (2010 年黄冈市) 观看图 3, 图片中的情景应最早在下列哪次会议或事件中出现 (C)

- A. 亚非会议
- B. 日内瓦会议
- C. 第 26 届联合国大会
- D. 中美建交



五星红旗在联合国大厦前飘扬  
图3

20. (2010 年黄石市) 右边是一则新闻报道中采用的图片, 被命名为《乔的笑》。与这则新闻报道有关的历史事件是 (A)

- A. 中国在联合国席位得到恢复
- B. 申报 1990 年亚运会取得成功
- C. 申报 2008 年奥运会取得成功
- D. 2001 年中国加入 WTO 取得成功



10 (2010 年荆门市) . 尼克松在回忆 1972 年访华时说: “当我们的手相握时, 一个时代结束了, 另一个时代开始了。”

尼克松所说的“另一个时代”开始的标志是签署了 ( B )

- A. 《中美友好通商航海条约》
- B. 《中美联合公报》
- C. 《中美建交公报》
- D. 《中美八一七联合公报》

10. (2010 年湖北省宜昌市) 第二轮中美战略与经济对话于 2010 年 5 月 25 日在北京

结束。“分歧中合作, 仍是中美双方的主基调。”这是台湾《旺报》对目前中美关系的评论。与中美关系进入正常化发展阶段相关的历史事件是 ( D )

- A. 倡导和平共处五项原则
- B. 万隆会议
- C. 恢复中国在联合国的合法席位
- D. 中美建交



5 (2010 年宁夏) 有关新中国成立六十周年成就展内容先后排序正确的是 ( C )

- ① 西藏和平解放
  - ② 基本完成农业、手工业和资本主义工商业的社会主义改造
  - ③ 成功举办北京奥运会, 积极筹办上海世博会
  - ④ 党的十一届三中全会召开, 实现伟大的历史转折
- A. ①②③④      B. ②①③④      C. ①②④③      D. ③④②①

33 (2010 年岳阳市) 阅读下列材料:

材料一: 1842 年, 英国同清政府签订了《南京条约》。条约规定: 中国割让香港岛给英国; 赔款 2100 万元; 开放广州、宁波、福州、厦门、上海五处为通商口岸; 英商在华进出口货物应缴纳的税款, 中国须同英国商定。

材料二: 1919 年 1 月, 在法国巴黎召开的“和平会议”上, 中国代表提出了取消帝国主义在华特权、废除“二十一条”等要求。遭到操纵会议的英、法、美等国的拒绝。会议无理决定把德国在山东攫取的一切权益转给日本。

材料三: 一个美国记者评论周恩来在万隆会议中的作用时说: “周恩来并不打算改变任

何一个坚持反共立场的领导人的态度，但是他改变了会议的航向。”

材料四：1971年11月15日，乔冠华率中国代表团首次参加第26届联合国代表大会。联合国大厅里出现了盛况空前的欢迎场面。乔冠华激动的心情难以抑制，仰天开怀大笑。

请回答：

- (1) 依据材料一，找出《南京条约》中破坏中国领土完整的条款。(2分)
- (2) 依据材料二，结合所学知识，指出中国外交在巴黎和会上得到了怎样的结果？这一结果在中国引发了一场什么运动？(3分)
- (3) 依据材料三，结合所学知识，周恩来在万隆会议上提出了什么观点，从而“改变了会议的航向”？(2分)
- (4) 依据材料四，结合所学知识，指出乔冠华为何“开怀大笑”？(2分)
- (5) 依据上述四则材料，你能得出怎样的结论？(2分)

33、(1) 中国割让香港岛给英国

- (2) 中国代表提出的要求遭到拒绝，会议无理决定把德国在山东攫取的一切权益转给日本。五四运动
- (3) “求同存异”的方针
- (4) 中国恢复在联合中的合法席位
- (5) 弱国无外交

12 (2010年株洲市) 1971年11月8日美国《时代》周刊将周恩来总理作为封面人物，是因为下列哪一历史事件提高了中国的国际地位 B

- A. 万隆会议的召开
- B. 中国恢复在联合国的合法席位**
- C. 中美关系正常化
- D. 中国第一次以五大国之一的身份参加日内瓦会议

17. (2010年泰安市) 1971年10月25日，第26届联合国大会通过了阿尔巴尼亚等23国有关中国的某提案。从此，五星红旗飘扬在联合国大厦前。这一提案应是 (A)

- A. 恢复中国在联合国的合法席位**
- B. 中国加入世贸组织
- C. 中日正式建立外交关系
- D. 中美正式建立外交关系

17 (2010年徐州市) (6分)中美关系的缓和是20世纪70年代中美两国的共同要求。根据材料，结合所学知识回答问题：

周恩来说：“你的手伸过世界最辽阔的海洋来和我握手——25年没有交往了呵！”……从尼克松与周恩来握手的时刻起，(见右图)“一个时代结束了，另一个时代开始了”。



——以上摘编自尼克松回忆录《领导者》

(1)中美“25年没有交往”的主要原因是什么？

(1分)材料中所说的“一个时代结束了，另一个时代开始了”的含义是指什么?(2分)

(2)1972年中美双方在上海签署的《联合公报》同意按什么原则来处理两国关系?(1分)

(3)中美正式建立外交关系是在哪一年?(1分)中美关系的改善有何历史意义?(1分)

(1)美国长期以来坚持敌视中国的政策。(1分)(符合题意、言之成理即可给1分)

中美结束了长期对立的僵局，开始走向关系正常化。(2分)(符合题意、言之成理即可适

当给分)

(2)和平共处五项原则。(1分)

(3)1979年。(1分)有利于世界和平与发展。(1分)(符合题意、言之成理即给1分)

16 (2010年盐城市) 某同学在自主学习时收集了以下几幅图片,符合这组图片的恰当主题应当是 (A)



周恩来在万隆会议演讲

A. 新中国的外交成就

C. 统一大业的完成



毛泽东会见尼克松

B. 国防现代化的起步

D. 两岸交流的密切



乔冠华开怀大笑

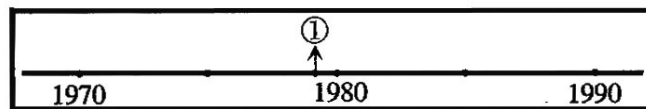
6 (2010年江西省) 下面年代尺中的“①”处,适合标注的历史事件是 (D)

A. 万隆会议

B. 第26届联大

C. 中国和日本建交

D. 中国和美国建交



13 (2010年东营市) 有人用“梅开三度”来形容20世纪70年代新中国的外交成就,你认为“梅开三度”不包括 (D)

A. 中日两国正式建立外交关系

B. 中美两国正式建立外交关系

C. 中国在联合国合法席位的恢复

D. 提出和平共处五项原则

24. (2010年山东省济宁市) 20世纪中后期,有位美国在联合国代表就一件大事发表感慨“这是联合国历史上的转折点”。结合右图判断,这个“转折点”是 (B)

A. 1955年万隆会议召开

B. 1971年中国在联合国的合法席位得到恢复

C. 1972年中日建立外交关系

D. 1979年中美建立外交关系



48 (2010年青岛市) 阅读下列材料:

材料一 1972年2月,尼克松乘坐的飞机缓缓降落在北京机场,尼克松走下飞机舷梯,离地面还有三四级台阶时,就向前来迎接的中国总理周恩来伸出手。两位领导人紧紧握手达一分钟之久。周恩来诚挚地说:“总统先生,你把手伸过了世界最辽阔的海洋和我握手,25年没有交往了啊!”尼克松也动情地说:“我感到很荣幸,终于来到了你们伟大的国家。”

材料二 不同时期中美领导人的握手(如下图)。



请回答：(6分)

- (1) 材料一中提到中美之间“25年没有交往”，你认为主要原因是什么？(1分)  
1972年美国总统尼克松访华时，中美两国签署了哪一重要文件？(1分)
- (2) 除中美关系外，20世纪70年代中国的外交事业还取得了许多重大成就，请列举两例。(2分)
- (3) 材料二中的三幅照片记录了中美两国领导人在不同时期的会晤，对其中反映的信息，最恰当的理解是( ) (1分)
- A. 中美友好是历史发展的主流，符合两国人民的共同利益  
B. 美国是世界上最强大的国家，中国畏惧美国而与之交往  
C. 中国的国际地位迅速提高，美国的霸主地位岌岌可危  
D. 中美友好源远流长，近现代史上从没有过摩擦和对抗
- (4) 中美之间的关系，从几十年的敌对恢复到邦交正常化，由此你能得到什么认识？(1分)

(1) 主要原因：美国对中国共产党和新中国长期实行敌视政策。(1分)

文件：《中美联合公报》。(1分)

(2) 成就：1971年中国恢复在联合国的合法席位；1972年中日建交等。(2分，两例即可)

(3) A (1分)

(4) 认识：外交政策应随着国际形势的变化而变化；外交政策的发展变化必须符合国情；没有永恒的敌人，只有永恒的利益等。(1分，答出一点，或言之有理即可)

19. (2010年四川省乐山市) 小兵同学准备制作主题为“新中国的外交成就”的网页，收集了下列材料，其中不能入选网页的是(D)

- A. 中国在联合国合法席位的恢复  
B. 中美建交  
C. 周恩来率团出席亚非会议  
D. 四川省委书记率团到台湾开展“天府四川宝岛行”活动

34 (2010年威海市) 1921年7月，中国共产党第一次全国代表大会在上海召开，一个新生的力量出现在了政治的舞台上。中国共产党的成立从根本上改变了二十世纪中国的命运。

(1)中共一大确定的党的中心任务是\_\_\_\_\_。\_\_\_\_\_起义打响了武装反抗国民党反动统治的第一枪。中国共产党建立的第一个农村革命根据地是\_\_\_\_\_。(2分)

(2)在红军长征途中召开的\_\_\_\_\_会议，挽救了党、挽救了红军、挽救了革命。红军长征胜利的伟大历史意义是什么?(3分)

(3)西安事变发生后，中国共产党是怎样促成西安事变和平解决的?(1分)

(4)二十世纪五十年代，中国率先提出的处理国与国之间关系的基本准则是什么?列举二十世纪七十年代新中国在外交方面取得的两例重要成就。(3分)

34. (1)领导工人运动(1分) 南昌起义 井冈山革命根据地(各0.5分)

(2)遵义(1分) 粉碎了国民党反动派泄丞红至的企图，保存了党和红军的基干力量，使中国革命转危为安。(2分)

(“中国共产党从全民族的利益出发，主张和平解决，党中央派周恩来等到西安调停，与各方面进行协商。(1分)

(4)和平共处五项原则。(1分)中国在联合国的合法席位得到恢复，中美建立了正式外交关系、中日建立了正式外交关系。(答对其中两点就可得2分)

(5) 以我国参与“亚太经合组织”的活动等史实为例，说明我国在国际事务中发挥的作用。

7. (2010年四川省眉山市) 读图回答问题：



图一

图二

图三

请回答：

(1) 图一中万隆会议期间的周恩来有何突出的功绩？(2分)

(2) 图二中“乔”因何事而笑？该事件应发生在哪一年？(2分)

(3) 图三中领导人是参加了\_\_\_\_\_年召开的亚太经合组织会议而合影。(1分)

(4) 三幅图是新中国外交成就的缩影，你认为这些成就的取得说明了什么？(2分)

8 (2010年宁夏) 我国奉行社会主义独立自主的外交方针，倡导和坚持和平共处五项原则，维护世界和平，在国际事务中发挥越来越重大的积极作用。

回答：

(1) 指出和平共处五项原则的主要内容(4分)

(2) 简述二十世纪七十年代我国对外关系取得的显著成就(4分)

(3) 列举改革开放以来我国积极参与国际事务活动的具体事例(2分)

(1) 互相尊重主权和领土完整、互不侵犯、互不干涉内政、平等互利、和平共处

(2) 1971年，恢复中国在联合国的合法席位(1分)

1972年，美国总统尼克松访华，美国承认只有一个中国，台湾是中国的一部分(1分)

1972年，中日建交(1分)

1979年，中美建交(1分)

★所举其他事例，只要真实、符合题意要求，均可

(3) 1991年，中国加入“亚太经合组织”，积极参与其活动。或2001年，亚太经合组织会议在上海举行 中国加入世界贸易组织(WTO) 2001年，中国、俄罗斯、哈萨克斯坦、吉尔吉斯斯坦、塔吉克斯坦和乌兹别克斯坦六国元首或(中俄等六国元首)在上海签署了《“上海合作组织”成立宣言》

★所举其他事例，只要真实、符合题意要求，均可

17 (2010年南京市) .20世纪70年代，中国外交事业取得一系列成就。下列属于这一时期的外交成就有①提出和平共处五项原则②恢复在联合国的合法席位③中美正式建立外交关系④承办亚太经合组织会议(B)

A. ①②③

B. ②③

C. ①③④

D. ②④

### (六)科技、教育与文化

#### 【内容标准】

(1) 知道“两弹一星”的成功研制、“籼型杂交水稻”的培育推广等标志性成果，以及“863”计划的制定。

17 (2010年广东省) 他“用一粒种子改变了世界”；他有“杂交水稻之父”的美誉。他是(C)

A. 钱学森 B. 侯德榜 C. 袁隆平

D. 邓稼先

23. (2010年杭州市) 2010年2月，由中国教育报和中国教育电视台联合主办的

“2009 年度中国教育新闻人物”评选结果揭晓，钱学森获得了“中国教育新闻人物特别奖”。

钱学森是 (A)

- A. 为我国原子弹研制作出贡献的科学家
- B. 被称为“纺织大王”的爱国资本家
- C. 提出我国蕴藏着丰富石油资源的地质学家
- D. 曾获得诺贝尔奖的教育学家

2. (2010 年河北省) 2009 年 10 月 1 日，首都各界庆祝中华人民共和国成立 60 周年大会在北京天安门广场隆重举行，20 万军民以盛大的阅兵仪式和群众游行欢庆伟大祖国的这一盛大节日。新中国 60 年光辉历程给我们的启示是 (B)

- ① 要坚持中国共产党的正确领导
- ② 我国现阶段社会的主要矛盾得到解决
- ③ 改革开放是强国之路
- ④ 中国特色社会主义制度具有优越性

- A. ①③④
- B. ①②④
- C. ②③④
- D. ①②③

9. (2010 年河北省) 曾有人问钱学森：中国搞导弹行不行？他坚定地回答：外国人能干的，中国人为什么不能干？！这体现了钱学森具有 (B)

- ① 爱国主义情怀
- ② 团结合作的精神
- ③ 强烈的民族自信心
- ④ 全球观念

- A. ②③
- B. ①③
- C. ②④
- D. ③④

10. (2010 年河北省) 钱学森经常告诫科技工作者：“如果不创新，我们将成为无能之辈！我们要敢干！”这启迪我们 (C)

- A. 没必要引进国外的先进技术
- B. 做别人没做过的事就一定能成功
- C. 国家要实施人才强国战略，培养创新型人才
- D. 我国科技水平与发达国家相比还有很大差距

17. (2010 年黄石市) 在社会主义建设过程中涌现出大批先进人物。被誉为“两弹元勋”的是 (B)

- A. 李四光
- B. 邓稼先
- C. 王进喜
- D. 袁隆平

32 (2010 年岳阳市) 阅读下列材料：

材料一：蔡侯祠

材料二：综观 18 世纪末 19 世纪初期的中国科学技术，就是这样：在近代科学的园地仍然是空白一片；在传统科学的发展中，则由点由于中西文化交流的中断……整个中国科学技术在封建专制主义的严重束缚下，走进了死胡同。在西方科学技术普遍繁荣的年代，中国科学技术却陷入了停滞状态…… ——《中西 500 年对比》

材料三：新中国成立以来，党和政府高度重视科学技术的发展，取得了举世瞩目的成就。

请回答：

(1) 材料一中的蔡侯祠是为了纪念 \_\_\_\_\_ (人名) 而建造的。他最突出的贡献是 \_\_\_\_\_，这项贡献在中国古代科技史上有何重要地位？(4 分)

(2) 依据材料二，找出中国科学技术“陷入停滞”的主要原因。(4 分)

(3) 依据材料三，结合所学知识，指出党和政府在重视科学技术方面制定了怎样的国策？  
( 2 分)

(4) 建国以来，我省在信息技术方面取得的最突出成就是什么？请再举一例我省在其他方面取得的重大科技成就。(4 分)

- 32、(1) 蔡伦 改进造纸术  
 (2) 封建专制主义的严重束缚 闭关锁国政策中断了中西文化交流  
 (3) 科教兴国  
 (4) 千万亿次超级计算机系统 袁隆平培育杂交水稻

11 (2010年株洲市) 电影《横空出世》再现了新中国在艰苦条件下研制原子弹的过程。新中国的科技成果“两弹一星”除原子弹外，还有 C

- A 氢弹 第一颗人造地球卫星 B. 氢弹 第一颗实用通信卫星  
 C 导弹 第一颗人造地球卫星 D. 导弹 第一颗实用通信卫星

7. (2010年长春市) 1980年，杂交水稻栽培技术成为中国转让给美国的第一项农业科技专利。该技术的发明人是 (D)

- A. 王进喜 B. 邓稼先 C. 焦裕禄 D. 袁隆平

11 (2010年泰州市) 1956年对中国人民来说是“非同寻常的一年”。在这一年，新中国取得的主要成就有

- ①“大跃进”运动在全国范围内发动起来  
 ②基本完成三大改造，标志着社会主义制度在我国基本建立  
 ③中共八大在探索建设社会主义道路过程中取得了重要成果  
 ④中国第一颗人造地球卫星“东方红1号”发射成功

- A. ①④ B. ①③ C. ②③ D. ③④

解析：① 1958年，“大跃进”运动在全国范围内发动起来；② 1956年，基本完成三大改造，标志着社会主义制度在我国基本建立；③ 1956年，中共八大在探索建设社会主义道路过程中取得了重要成果；④ 1970年，我国第一颗人造地球卫星“东方红1号”成功发射。答案：C

12. (2010年无锡市) 1971年4月24日，在神州大地无数地方的人们，怀着无比激动的心情，目睹了我国第一颗人造地球卫星伴随着《东方红》的悦耳曲调划过夜空。我国第一颗人造地球卫星是 (A)

- A. 神舟一号 B. 神舟五号  
 C. 东方红一号 D. 神舟七号

17 (2010年盐城市) 1964年10月16日，我国第一颗原子弹爆炸成功。为此作出重大贡献的人物是 (C)

- A. 王进喜 B. 詹天佑 C. 邓稼先 D. 袁隆平

14 (2010年龙岩市) 图2中的人物“用一粒种子改变了世界”，这位科学家是 C

- A. 邓稼先 B. 詹天佑  
 C. 袁隆平 D. 侯德榜

15 (2010年龙岩市) 党和政府实施“科教兴国”的战略开始于 C

- A. 20世纪初 B. 20世纪80年代  
 C. 20世纪90年代 D. 21世纪初

14 (2010年东营市) 下列哪项科技成就是改革开放以来取得的 (B)





图 2



第一颗原子弹 “神舟 5 号” “东方红一号” “中近程导弹”  
 爆炸成功 发射成功 发射成功 发射成功  
 A B C D

23. (2010 年山东省济宁市) 他是 2004 年“感动中国”人物，他获得了这样的颁奖词：“他是一位真正的耕耘者，当他还是一个乡村教师的时候，已经具有颠覆世界权威的胆识，当他名满天下的时候，却仍然专注于田畴，淡泊名利，一介农夫，播撒智慧，收获富足。他毕生的梦想，就是让所有的人远离饥饿。喜看稻菽千重浪，最是风流”。他是 (D)

A. 钱学森 B. 李四光 C. 邓稼先 D. 袁隆平

14 (2010 年莱芜市) “马克思说过，科学技术是生产力，事实证明这讲得很对。依我看，科学技术是第一生产力。”最能体现这一说法的是 C

A. “铁人”王进喜参加大庆石油会战 B. 中国宣布不会首先使用核武器  
 C. 袁隆平培育成籼型杂交水稻 D. 实行家庭联产承包责任制

15 (2010 年临沂市) 2009 年 9 月，邓稼先“100 位为新中国成立作出突出贡献的英雄模范人物”之一。他为中国核武器的研制作出了卓越贡献，被誉为中国的 (A)

A. “两弹元勋” B. “杂交水稻之父” C. “铁人” D. “炮兵英才”

1

19 (2010 年威海市) 德国《汉诺威汇报》曾就我国某项重大科技成就发表评论：中国正在奋起直追，中国人进入太空的事实证明了这个经济正在迅速崛起的国家的实力。这项科技成就是指 (B)

A. 第一颗原子弹的爆炸成功 B. “东方红 I 号”卫星的发射成功  
 C. “神舟 5 号”飞船的往返成功 D. “东方魔稻”的育种成功

13 (2010 年潍坊市) “惊世两弹，冲天一星”是中华民族的荣耀与骄傲。标志着中国跻身世界航天科技大国之列的是 (C)

A. 原子弹试验爆炸成功 B. 中近程导弹发射成功  
 C. 第一颗人造地球卫星发射升空 D. 载人航天飞船遨游太空

24. (2010 年达州市) 南非世界杯如今正如火如荼地进行着，通过卫星转播，我们能坐在电视机旁欣赏到万里之外球星的精彩表演。我国第一颗人造地球卫星是 (A)

A. “东方红一号” B. “神舟一号” C. “嫦娥一号” D. “长征一号”

9. (2010 年乌鲁木齐市) 2010 年 6 月 7 日，胡锦涛总书记在中国科学院和工程院院士大会上强调指出：要大力发展空间和海洋科学技术。我国在大力发展空间技术方面，成功发射的第一艘载人飞船是

A. 东方红一号 B. 神州一号 C. 神州五号 D. 神州六号

7. (2010 年芜湖) 我国是爱好和平的国家，却依然研制出原子弹，其主要原因是 (B)

A. 为新的世界大战作准备  
 B. 打破帝国主义的核垄断，粉碎其核威胁，维护世界和平

C.向国外反华势力炫耀我国的军事实力

D.打击美国对台政策

14 (2010年福州市) 2009年,袁隆平入选“100位新中国成立以来感动中国人物”的理由是(D)

- A.研制“两弹一星”      B.揭开“制碱奥秘”  
C.修建“京张铁路”      D.育成“籼型杂交水稻”

13. (2010年福建莆田市)“两弹一星”的伟业,是新中国建设成就的重要象征,是中华民族的光荣与骄傲,也是人类文明史上一个勇攀科技高峰的空前壮举。这里的“一星”指的是A

- A.“东方红1号”卫星      B.“神舟”五号载人飞船  
C.“长征1号”运载火箭      D.“神舟”六号载人飞船

18. (2010年深圳市) 班级要出一期庆祝国庆节的板报,主题是反映社会主义建设时期的成就。下面可选的题材是(D)

- A.长征胜利      B.重庆谈判  
C.开国大典      D.“两弹一星”

14 (2010年广东省) 标志着我国打破西方国家核垄断的国防科技成就是(A)

- A.原子弹的成功爆炸      B.核导弹的成功试验  
C.氢弹的成功爆炸      D.第一颗人造卫星的成功发射

(2) 以计算机网络技术的应用为例,说明信息技术在促进我国社会发展中的重要作用。

18 (2010年南京市) .世界科技蓬勃发展,国际竞争日趋激烈。1986年,我国为加快高技术的发展,开始实施(A)

- A.“863”计划      B.“希望工程”  
C.“科教兴国”战略      D.西部大开发战略

27 (2010年青岛市) 2009年10月1日这一天,国庆阅兵使央视网创造了全球互联网发展史上视频直播在线观看最高的历史记录,这充分表明第三次科技革命中哪一领域的技术得到广泛应用(C)

- A.航天技术      B.自动化技术      C.计算机技术      D.新材料技术

6、(2010年河池市) 下列哪一项成果最能体现中国古代“秀才不出门,便知天下事”的说法变成了现实(D)

- A.书本      B.电视      C.报纸      D.计算机网络

29. (2010年武汉市) 武广高铁的开通使武汉进入高铁时代,给武汉经济发展带来了新的机遇。高铁乘客可以网上聊天、网上交易。人们感慨,网络生活真是无处不在!这表明我们正处在(C)

- A.蒸汽时代      B.电气时代      C.信息时代

(3) 列举九年义务教育基本普及和高等教育迅速发展的史实,认识教育发展在“科教兴国”战略中的地位。

13 (2010年福州市) 邓小平说:“一个十亿人口的大国,教育搞上去了,人才资源的巨大优势是任何国家比不了的。”保障中国“十亿人口”基础教育的是(A)

- A.《中华人民共和国义务教育法》      B.《劳动和社会保障法》  
C.863计划      D.《中华人民共和国民法通则》

11. (2010年三明市) 2010年“两会”政府工作报告中强调,要促进义务教育均衡发展。义务教育属于(B)

- A.幼儿教育      B.双基教育      C.职业教育      D.高等教育

15. (2010年日照市) 在党和政府实施的教育发展战略中, 作为科教兴国奠定工程的是 (B)

A. 素质教育 B. 九年义务教育 C. 职业教育 D. 高等教育

(4) 了解我国文化艺术和体育事业的主要成就。31 (2010年湛江市) 2010年11月12日至27日, 第16届亚运会将在广东省广州市举办。令广东人感到自豪的是, 中国第一个打破世界纪录的运动员也是广东人, 他就是 ( )

A. 陈镜开 B. 容国团 C. 许海峰 D. 何冲

## (七) 社会生活

### 【内容标准】

(1) 以人们衣、食、住、行、用等方面的变化为例, 说明改革开放对人们生活方式所产生的影响。

13 (2010年江西省) (10分) 历史视角——外国人眼中的中国。阅读材料, 回答问题。

### 【回顾历史】

材料一 (1895年) 《纽约时报》评论说: “是日本人打开了世界的眼界, 让人们看到大清帝国真正的无能……清国政体是一个明显失败的政体……”

材料二 美国哈佛大学历史系教授柯伟林说: “中国从1945年开始就已经崭露头角了……因为到1945年……中国还是联合国安理会常任理事国之一。因此, 到了1945年, 中国至少是一个名义上的大国。”

——以上材料引自中国民主法制出版社《复兴之路(上)》

(1) 结合所学知识, 说说当时日本人是怎样“让人们看到走清帝国真正的无能”? (1分)

(2) 据材料一和材料二, 说说在外国人眼中, 中国的形象发生了怎样的变化? (1分) 结合所学知识, 说说发生这一变化的主要原因是什么? (2分)

### 【关注现在】

材料三 如右图: 1985年西方观察家对中国和西欧部分国家国民生产总值的预测。(材料引自徐中约的《中国的奋斗》)

(3) 据材料三, 说说在当时的外国人眼中, 中国的国民生产总值将会发生怎样的变化? (2分)

(4) 作为世界上最大的发展中国家, 中国经济实力出现如右图所示的变化趋势, 将会对世界政治格局的演变产生怎样的影响? (2分)

### 【思考未来】

(5) 你认为未来的中国应该树立怎样的国际形象? (2分)

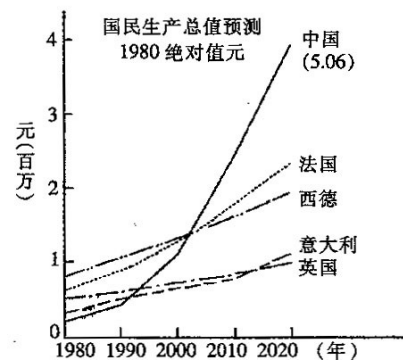
(1) 在甲午中日战争中, 日本将大清帝国打败, 强迫清政府签订了《马关条约》。(1分)

(2) 变化: 中国由弱(无能)变强(强大), 国际地位有了提高。(1分) 原因: 中国取得了抗日战争的胜利,(1分) 为世界反法西斯战争作出了巨大贡献。(1分)

(3) 变化: 从20世纪80年代开始, 中国的国民生产总值将不断增长,(可以不写时间, 1分) 并逐渐超过西欧主要国家。(1分)

(4) 影响: 推动世界政治格局向多极化方向发展。(2分)

(5) 民富国强、维护世界和平、促进世界经济发展、成为一个负责任的大国等。(言之有理, 任意两点即可, 每点1分, 共2分。表达意思不清楚, 酌情扣分。)



36 (2010年连云港市) 妇女解放是近代以来中国历史发展的一个缩影。结合材料和所学知识,回答问题。(10分)

(1) 梁启超在1896年的《变法通议·论女学》中说到:

“ (现在有人说) 欲强国必由女学 (女子教育), 人多疑 (怀疑) 之。” “ (受西方列强震撼) 而思效 (学习) 其长者, 则惟是船舶之雄也, 枪炮之利也, 铁路之速也……” (而这些都是妇女不能做的)。“故谋国者曰:教妇人非所急也, 而不知西人之强在此 (女子教育)。”

请回答:文中学习西方列强“枪炮”“铁路”等是指什么运动?梁启超要求发展女子教育的目的是什么?为此,他与康有为等发起了什么运动?(3分)

(2) 1920年,陈独秀在有关女工工资待遇、劳动时间等问题的讨论中,写到:

大家要晓得二十世纪的劳动运动,已经是要求管理权时代,不是要求待遇时代了。无论待遇如何改良,终不是自由的主人地位。

请回答:20世纪,中国“工人阶级”开始登上舞台的标志是什么?文中陈独秀在争取女工权利问题上提出怎样的目标?在实现这一目标中,中国共产党领导人民赢得民主革命胜利的标志是什么?(3分)

(3) 某世界级服装设计大师曾说:

当时第一次(1978年)来到中国的时候,整个中国连男女都分不出来,都是一片灰色。我觉得我为中国也做了一些贡献,就是把颜色带到了中国。

请回答:这位服装大师把“颜色带到中国”并流行起来,主要得益于中国采取了什么国策?“服装颜色在中国流行”。给中国妇女生活带来了怎样的影响?(2分)

(4) 由上述近代以来中国妇女解放的历史中,你能得出哪些认识?(2分)

36. (1) 洋务运动。强国(救亡图存)。戊戌变法。(3分)

(2) 五四运动。争取管理权或自由权。建立新中国。(3分)

(3) 改革开放。丰富生活(提高生活质量)。(2分)

(4) 妇女解放是中国近代以来先进中国人的奋斗目标;中国共产党致力于实现妇女解放和提高妇女生活水平;与世界其他国家相互学习中实现妇女解放的重要途径。(由本题归纳的其他言之成理的答案,均可给分。任意2点2分)

20 (2010年威海市) 改革开放以来,人们的衣食住行发生了巨大变化。下列对这一变化的表述不正确的是(A)

- A. 人们买衣服要凭布票  
B. 吃饭讲究营养均衡,粗细搭配  
C. 人们的居住环境有了显著的改善  
D. 开私家汽车出行的人越来越多

23 (2010年潍坊市) (16分) 物质生活的变化主要反映在衣、食、住、行等方面,这些变化描绘出了历史发展的轨迹。阅读材料,回答问题。

材料一 吴老太爷从乡下来到上海,坐进(20世纪)30年代的汽车里,像一具刚从棺材里爬出来的僵尸。南京路上,到处是光怪陆离的灯光和高耸的摩天大楼。最让吴老太爷大受刺激的,是一位身穿高开叉旗袍的时髦少妇,……这情形,不禁让吴老太爷全身发抖。终于,吴老太爷大叫一声,昏死过去……

——小说《子夜》

(1) 材料一中,吴老太爷见到了哪些新鲜事物?他的反应说明了什么?(4分)

材料二 中央政务院于1953年10月发布命令:粮食实行计划供应,凭证定量购买,粮票出现了。这一时期,除了购粮需要粮票外,其它生活必需品,如油、布、糕点等同样需要凭票证购买。甚至在重大节日还出现了节日补助票……

(2) 材料二反映了人们物质生活中的什么现象?为什么会出现这一现象?(6分)

材料三 上世纪60、70年代,大柳村人只有很少的生活必需品,日常消费压缩到最低

限度。80年代以来，90%以上的村民住进了新房；村民娶亲用的“彩礼”也由自行车、缝纫机、手表、收音机等“旧四大件”，变成了彩电、冰箱、洗衣机、摩托车等“新四大件”。

(3) 据材料三，概括指出大柳村人生活发生的变化。概述这一变化出现的原因。(6分)

(1) 旗袍(或汽车、电灯、摩天大楼，答对一项即可得2分)

说明：旧势力难以接受新事物。(言之有理即可得2分)

(2) 现象：凭票证定量购买生活用品。(2分)

原因：物资短缺；生产力水平不高。(4分)

(3) 变化：从贫穷到富裕。(言之有理即可得2分)

原因：改革开放；实行家庭联产承包责任制。(4分)

(2) 知道就业制度的变化，认识社会发展改变了人们的就业观念。

26. (2010年十堰市) 改革开放以来，我国对就业制度进行了重大改革，下列各项对我国民权的就业模式描述不正确的是(A)

A. 政府“统包统配”

B. 劳动者自主就业

C. 市场调节就业

D. 政府促进就业

(3) 以医疗保险制度的建立为例，说明社会保障制度在社会发展中的重要作用。

11. (2010年浙江省台州市) 右边漫画有利于解决我国B带来的问题。

A. 人口素质低

B. 人口老龄化

C. 人口数量多

D. 人口分布不均衡



1. (2010年东营) 下列地区以和平方式获得解放的是(B)

A. 天津 B. 西藏 C. 新疆 D. 湖南

2. (2010年东营) 对土地改革的意义理解不正确的是(C)

A. 废除了两千多年的封建土地制度 B. 巩固了人民政权  
C. 建立了土地公有制 D. 为国家工业化建设准备了条件

3. (2010年东营) 中共十一届三中全会决定把党和国家的工作重心转移到(A)

A. 经济建设 B. 法制建设 C. 科技建设 D. 国防建设

4. (2010年东营) 2010年4月12日，国家主席胡锦涛在华盛顿举行的核安全峰会上讲话。标志我国拥有核武器的事件是(A)

A. 第一颗原子弹爆炸成功 B. 中近程地地导弹试飞成功  
C. 第一颗人造地球卫星发射成功 D. 第一艘载人飞船发射成功

5. (2010年东营) 一批外国友人要到被称为“中国经济特区的代表，对外开放的窗口”，他们要参观的城市是(B)

A. 上海 B. 深圳 C. 厦门 D. 广州

6. (2010年东营) 昔日“盈盈一水间，脉脉不得语”，如今“轻轻一拨号，频频传佳音”。海峡两岸经济文化交流日益密切是哪一基本方针的体现(C)

A. 和平方式解放 B. “一国两制”  
C. “和平统一，一国两制” D. 八项主张

7. (2010年东营) 以培育“东方魔稻”而著称, 并在2001年获得国家最高科学技术奖的是 (B)

A. 邓稼先 B. 袁隆平 C. 钱三强 D. 杨利伟

8. (2010年东营) 《863计划纲要》选择首批发展的高技术领域不包括 (D)

A. 生物技术 B. 信息技术 C. 能源技术 D. 海洋高技术

9. (2010年东营) 20世纪90年代以来, 我国实施“科教兴国”发展战略, 科教兴国的奠基工程是 (A)

A. 九年义务教育 B. 小学教育 C. 中等教育 D. 高等教育

9. (2010年呼和浩特市) 20世纪60年代, 他带病坚持工作, 率领河南兰考人民艰苦奋斗, 治理灾害, 使贫穷面貌开始改变。人民称颂创“党的好干部”。他是 (B)

A. 孔繁森 B. 焦裕禄 C. 雷锋 D. 王进喜

10. (2010年呼和浩特市) 我国社会主义现代化建设新时期开始于 (D)

A. 新中国成立 B. 第一届全国人大的召开

C. “文革”结束 D. 十一届三中全会的召开

24. (2010年呼和浩特市) 在社会主义道路的探索过程中, 我国和苏联都采取了一定的成就。二战前斯大林领导苏联经济建设取得哪些成就? (2分) 确立了怎样的政治经济体制? (1分) 我国为解决对资本主义工商业进行社会主义改造的问题, 有何创新举措 (政策)? (1分) 20世纪50年代, 我国在民主政治建设上取得什么成就? (1分)

24. 建设成就: 完成了第一、第二个五年计划, 使苏联从一个传统的农业国变成强盛的工业国, 国防力量大为加强。 (2分)

创新举措: 赎买政策 (1分)

民主政治建设成就: 颁布第一部《中华人民共和国宪法》 (1分)

注意: 材料题和问答题, 学生所做答案要点与参考答案要点不同, 只要符合题意, 可酌情给分。

6. (2010年包头市) 20世纪70年代, 能说明中国对外关系取得突破性进展的历史事件是 ( ) C

A. 提出和平共处五项原则 B. 参加万隆会议

C. 实现中美关系正常化 D. 加入世界贸易组织

7. (2010年包头市) 以下对应关系搭配恰当的一组是 ( ) D

A. 新中国成立——标志着社会主义现代化建设新时期的开始

B. 西藏和平解放——实现了祖国完全统一

C. 抗美援朝——结束了中国半殖民地半封建社会的历史

D. 土地改革完成——我国农村彻底废除封建土地剥削制度

16. (2010年包头市) 近代以来, 为实现中华民族独立与富强, 先进的中国人站在时代前列, 在屈辱与抗争中奋起, 在艰难与探索中前进。阅读材料回答问题 (13分)

材料一 孙中山是20世纪中国走在时代前列的第一个伟人, 他一次又一次革命的努力, 最终推动了武昌起义的爆发。他的革命思想和实践, 对近现代中国产生了深远的影响。

(1) 20世纪初中国第一次历史性巨变是指哪一个历史事件? (1分) 此次事件的伟大功绩有哪些? (3分)

材料二 毛泽东是20世纪中国走在时代前列的第一个伟人, 从南昌起义到井冈山会师, 以毛泽东为代表的共产党人找到了一条符合中国国情的革命道路。

(2) 请说出井冈山革命根据地创立和发展的重大革命意义。 (2分)

材料三 在社会主义革命和建设时期, 我们确立了社会主义制度。在一穷二白的基础上建立了比较完整的工业体系, 使古老的中国以崭新的姿态屹立在世界东方。

(3) 我国何时确立社会主义制度? (1分) 其标志是什么? (1分)

材料四 30 年的历史经验归结到一点，就是把马克思主义基本原理同中国具体实际相结合，走自己的路，建设有中国特色的社会主义。

(4) 开启我国改革开放历程的是哪次会议？(1 分) 请你用两项具体史实证明中国共产党建设有中国特色社会主义的成功实践。(4 分)

16. (1) 历史事件：辛亥革命；伟大功绩：推翻了清王朝的统治；结束了两千多年的封建帝制；颁布了具有资产阶级共和国宪法性质的《临时约法》；民主共和观念深入人心。(4 个要点每点 1 分，任意 3 点即可，总分不得超过 3 分) (2) 意义：是中国共产党探索农村包围城市，武装夺取政权这一正确道路的开始(2 分)；(3) 1956 年(1 分)；标志是：三大改造的完成(1 分)；(4) 十一届三中全会(1 分)；成功实践：家庭联产承包责任制，解放了农村生产力。一国两制，香港、澳门的回归。建立经济特区，便于引进外来技术，促进我国经济建设。国有企业改革，提高企业活力。颁布一系列法律文件，加强民主法治，为现代化建设提供法律保障。(每点 2 分，任意 2 点即可，要求：史论结合)