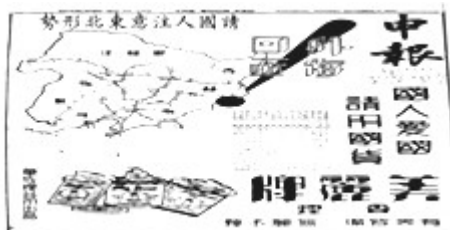


## 四川省宜宾市 2018 年中考历史真题试题

一、选择题（本卷共 10 小题，每小题 2 分，共 20 分。在每小题给出的四个选项中，其中只有一项是符合题目要求的）

1. 商鞅变法的措施中有利于直接提高军队战斗力的是（ ）  
A. 承认土地私有 B. 建立县制 C. 奖励军功 D. 奖励耕织
2. 唐太宗“轻徭薄赋”的措施体现的思想是（ ）  
A. 仁政爱民 B. 有教无类 C. 兼爱非攻 D. 严刑峻法
3. 明清时期，成为广大城乡人民重要的文化活动的是（ ）  
A. 小说创作 B. 书法鉴赏 C. 戏剧表演 D. 名画收藏
4. 阅读旧报纸可以获取丰富的历史信息。从右图《申报》所登载的信息可推知当时中国（ ）



- A. 民族企业集中在轻工业 B. 面临着严重的民族危机  
C. 国产香烟质量远高于洋烟 D. 欧洲列强放弃了经济掠夺
5. 下面三幅图片所代表的宗教分别是（ ）



释迦牟尼图



耶稣受难图



清真寺图

- A. 基督教 佛教 伊斯兰教 B. 道教 基督教 伊斯兰教  
C. 伊斯兰教 基督教 道教 D. 佛教 基督教 伊斯兰教
6. 新航路开辟后，美洲的烟草、可可、马铃薯等作物由西班牙人带回欧洲，后来又传到其他地区；麦子、水稻、甘蔗、葡萄等则随欧洲移民一起进入美洲。这段材料说明新航路的开辟（ ）  
A. 使世界完全连成了一个整体 B. 促进了资本主义发展  
C. 丰富了世界各地人们的生活 D. 使美洲遭到残酷掠夺
7. 英国“光荣革命”后制定了《权利法案》，美国独立战争后制定了 1787 年宪法，第一届中国人民政治协商会议通过了《中国人民政治协商会议共同纲领》，这些说明（ ）

A . 新政权才需要法制建设 B . 民主需要以法制作保障

C . 三国法制建设十分完善 D . 法制建设必定带来民主

8 . “18 世纪的英国恰好是煤炭价格低廉而人力成本昂贵的国家。在逐利的工厂主看来，推广机器生产可以利用廉价的煤炭替代昂贵的劳动力，从而产生更大的利润。”据此可知工厂主推广机器生产的原因是（ ）

A . 煤炭资源缺乏 B . 劳动力较丰富 C . 海外市场广阔 D . 追逐更大利润

9 . 曾经国际舞台上的主角之一苏联，常常和美国在合作中竞争，在对抗中妥协，对世界局势产生重大影响。下列史实体现美苏“在对抗中妥协”的是（ ）

A . 美国对日本宣战 B . 古巴导弹危机

C . 苏联入侵阿富汗 D . 苏联最终解体

10 . 下列史实与推论搭配正确的是（ ）

A . 史实：1936 年美国农业收入增加近 1 倍，工业恢复到 1929 年水平，国民收入增加了 50% . ；推论：罗斯福新政取得了显著成效

B . 史实：工业方面：除大企业仍由国家管理外，允许私人 and 外国资本家经营一些中小企业。；推论：列宁开始放弃社会主义道路

C . 史实：欧盟成员国内部人员、资本和货物可以自由流通，各成员国公民有统一的欧洲护照。；推论：欧洲实现了政治一体化目标

D . 史实：战后日本积极引进最新科技成就，促进了日本经济持续高速的发展。；推论：日本成为了一个政治性大国

## 二、解答题（共 2 小题，满分 27 分）

11 . （11 分）2018 年习近平总书记在考察长江三峡时强调：“大国重器，一定要掌握在自己手中。”阅读材料，完成下列要求。

材料一 1880 年 9 月 16 日，左宗棠创办的兰州机器织呢局（呢绒纺织工厂）开工。他委托胡雪岩向德国商人购买机器设备 1200 多件，并从德国聘请匠师十多人。左宗棠离开兰州后，德国技师三年合约期满回国。1884 年初织呢局因锅炉破裂从此停工。

——整理自《科普中国》

（1）根据材料一并结合所学，指出兰州机器织呢局是近代中国哪次探索中创办的企业？该企业“因锅炉破裂从此停工”说明它面临什么困境？

材料二 新中国初期，我国石油严重短缺，60 多岁的地质学家李四光带领技术人员跋山涉水进行石


油勘探。在勘探最困难的时候，李四光鼓励大家：“我们一线的生机，还是在我们的民族，大家打起精神，举起锄头向前挖去。”终于，1959年勘探出了大庆油田。随后，在各部门的共同努力下，大港、胜利、华北大油田相继找到，中国摘掉了“贫油”的帽子。

——摘自岳麓版高中历史教材选修四

(2) 举出一名新中国早期的国防科研工作者及其贡献。根据材料二结合所学，概括这些科研工作者身上有什么共同精神？

材料三 党的十八大以来，政府对科技创新投入快速增长（见右图），总规模已位居世界前列，天宫、蛟龙、天眼、悟空、墨子、大飞机等重大科技成果相继问世。

(3) 根据以上三则材料并结合所学，列举把“大国重器掌握在自己手中”需要具备的条件。



12. (16分) 从古至今，人类文明在交流与碰撞中不断向前迈进。阅读材料，完成下列要求。

材料一 如图一图二

(1) 根据材料一，指出古代文明交流的两种方式，结合所学分析其不同影响。

材料二 中美关系正常化45年来，中美早已互为对方第一大贸易伙伴国，2016年中美贸易总额为5194.8亿美元，而且中美两国GDP约为世界一半。2016年中美两国双向直接投资额约600亿美元，中国企业在美直接投资为456亿美元，较2015年增加两倍。美国出口的26%的波音飞机、16%的汽车、15%的集成电路，目的地都是中国。

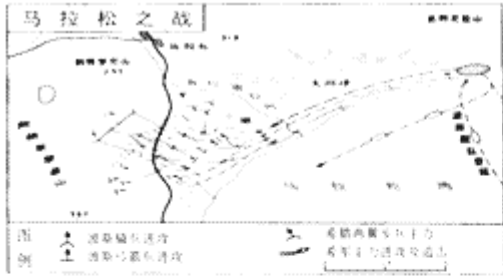
——摘自中宣部时事报告杂志社《时事》总第223期

(2) 根据材料二概括中美经贸关系的特点，并结合所学分析其积极影响。

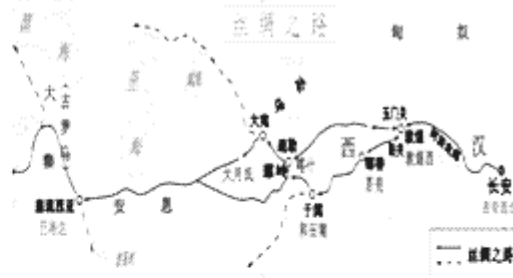
材料三 2018年中美贸易摩擦的相关漫画

(图三：2018年3月美国总统特朗普宣布对中国进口商品加征关税，挑起中美“贸易战”，中国随即坚决回击，一时间双方贸易领域出现剑拔弩张的局势；图四：2018年5月中美率各自代表团互访，经过艰难谈判，双方达成部分共识推动关系走向缓和。)


(3) 材料三中从图三到图四表明中美关系发生了什么变化？综合上述材料分析变化的原因。




图一



图二



图三 硝烟弥漫



图四 对等谈判

### 三、解答题 (共 1 小题, 满分 13 分)

13. (13 分) 社会发展是多种因素共同作用的结果。阅读材料, 完成下列要求。

材料一

①19 世纪后半叶中国所经受的屈辱和灾难使传统的以自我为中心的中国进行了痛苦的自我反省、重新评价和重新组织。……

②1898 年夏颁发了一系列彻底的改革法令……许多闲职将被取消; 地方政府将更加集中在北京的领导之下; 新学校将传播欧洲的学风; 西方式的生产方法将受到鼓励; 国家将按西方的方式建立一支由应征入伍者组成的军队。

③但是, 维新派缺乏经验, 这些措施始终停留在纸上。

④皇太后在军队的支持下发动政变, 废黜了不幸的皇帝, 废除所有的改革法令, 杀害了六位维新派领导人。

⑤“百日维新”……的失败清楚地表明, 试图通过自上而下的改良来使中国现代化是无效的, 唯一的办法是从下面进行革命。

——选自斯塔夫里·阿诺斯《全球通史》

(1) 通过阅读和整理文字材料来了解历史事件是学习历史的基本方法之一。阅读时应从材料中取出构成历史事件的基本要素, 如背景、经过、内容、结果、影响等。阅读材料一, 将句子番号填入下表相应空格里。

要素	句子番号	要素	句子番号
背景	_____	结果	_____
内容	_____	影响	_____

(2) 随着资本主义的产生和发展，自然科学从宗教神学的束缚中逐渐解放出来，获得了极大发展。

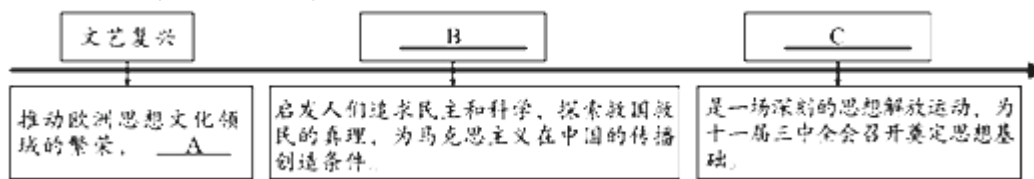
判断下列说法是否正确，正确的划“√”，错误的划“×”。

① 牛顿在力学上的主要成就是建立了完整的力学理论体系。\_\_\_\_\_

② 爱迪生研制出碳丝灯泡为人类利用电能奠定了理论基础。\_\_\_\_\_

③ 爱因斯坦上世纪初提出的相对论奠定了近代物理学基础。\_\_\_\_\_

材料二 思想是行动的先导



(3) 结合所学，将材料二图示中空缺的内容补充在下列横线上。

A\_\_\_\_\_

B\_\_\_\_\_

C\_\_\_\_\_

(4) 综合以上信息，谈谈你对人类社会发展的认识。

## 参考答案与试题解析

一、选择题（本卷共 10 小题，每小题 2 分，共 20 分。在每小题给出的四个选项中，其中只有一项是符合题目要求的）

1. 商鞅变法的措施中有利于直接提高军队战斗力的是（ ）

A. 承认土地私有 B. 建立县制 C. 奖励军功 D. 奖励耕织

**【分析】** 本题以商鞅变法的影响为依托，考查的是商鞅变法的知识。

**【解答】** 商鞅变法的法令规定，奖励军功，根据军功大小授予爵位和田宅，非常没有军功的旧贵族的特权。该措施使秦国军队的战斗力不断增强。

故选：C。

2. 唐太宗“轻徭薄赋”的措施体现的思想是（ ）

A. 仁政爱民 B. 有教无类 C. 兼爱非攻 D. 严刑峻法

**【分析】** 本题考查唐太宗的相关知识，掌握其主要统治措施。

**【解答】** 唐太宗“轻徭薄赋”的措施体现的思想是仁政爱民。唐太宗亲身经历过隋末农民战争，认识到人民群众力量的伟大。吸取隋亡的教训，明白统治者不可过分压榨农民；政府要轻徭薄赋，发展生产；皇帝要勤于政事，善于虚心纳谏。

故选：A。

3. 明清时期，成为广大城乡人民重要的文化活动的是（ ）

A. 小说创作 B. 书法鉴赏 C. 戏剧表演 D. 名画收藏

**【分析】** 本题以明清时期城乡人民重要的文化活动为切入点，主要考查戏剧的产生与发展。

**【解答】** 明清时期戏剧表演成为城乡人民重要的文化活动，清朝中后期，北京成为戏班荟萃之地，各种地方戏曲都在这里上演，形成百家争艳的局面。后来，以徽剧和汉调为基础，融合吸收了其他剧种的曲调和表演方法，在 19 世纪中期初步形成一个新的剧种——京剧。

故选：C。

4. 阅读旧报纸可以获取丰富的历史信息。从右图《申报》所登载的信息可推知当时中国（ ）

A. 民族企业集中在轻工业 B. 面临着严重的民族危机

C. 国产香烟质量远高于洋烟 D. 欧洲列强放弃了经济掠夺

**【分析】** 本题以《申报》所登载的信息为切入点，考查九一八事变的相关知识。

**【解答】**由材料中的信息“请国人注意东北形势”可知，这反映的是九一八事变，1931年9月18日，日本发动了侵略中国的九一八事变，中国的民族危机加深，局部抗战开始。

故选：B。

5. 下面三幅图片所代表的宗教分别是（ ）



释迦牟尼图



耶稣受难图



清真寺图

A. 基督教 佛教 伊斯兰教 B. 道教 基督教 伊斯兰教

C. 伊斯兰教 基督教 道教 D. 佛教 基督教 伊斯兰教

**【分析】**本题考查了世界三大宗教。在世界范围内影响较大的宗教有佛教、基督教、伊斯兰教三大宗教。

**【解答】**题干三幅图片所代表的宗教分别是佛教、基督教、伊斯兰教。公元前6世纪古印度的乔达摩·悉达多（释迦牟尼）创立佛教，宣扬“众生平等”反对婆罗门的特权地位。1世纪时产生于巴勒斯坦一带的基督教，创始人是耶稣，他教导人们忍受苦难，死后可以升入“天堂”。7世纪时穆罕默德在阿拉伯半岛的麦加创立了伊斯兰教，“伊斯兰”是阿拉伯语“顺从”的意思。伊斯兰教的信徒称为“穆斯林”，意为“信仰‘真主’安拉的人”。伊斯兰教的创始人穆罕默德的学说后来集录成为伊斯兰教的经典《古兰经》。

故选：D。

6. 新航路开辟后，美洲的烟草、可可、马铃薯等作物由西班牙人带回欧洲，后来又传到其他地区；麦子、水稻、甘蔗、葡萄等则随欧洲移民一起进入美洲。这段材料说明新航路的开辟（ ）

A. 使世界完全连成了一个整体 B. 促进了资本主义发展

C. 丰富了世界各地人们的生活 D. 使美洲遭到残酷掠夺

**【分析】**本题以美洲的烟叶、玉米和马铃薯由西班牙人带回欧洲并传遍世界。水稻、甘蔗等植物，马、牛、驴等动物，以及先进的生产方式则随着欧洲移民一起进入美洲为切入点，考查新航路开辟。理解新航路开辟的意义。

**【解答】**“新航路开辟后美洲的烟叶、玉米和马铃薯由西班牙人带回欧洲并传遍世界。水稻、甘蔗等植物，马、牛、驴等动物，以及先进的生产方式则随着欧洲移民一起进入美洲”反映了新航路开

辟的影响，说明新航路开辟推动了世界范围内的经济文化交流，从四个选项看，C符合题意。

故选：C。

7. 英国“光荣革命”后制定了《权利法案》，美国独立战争后制定了 1787 年宪法，第一届中国人民政治协商会议通过了《中国人民政治协商会议共同纲领》，这些说明（ ）

- A. 新政权才需要法制建设
- B. 民主需要以法制作保障
- C. 三国法制建设十分完善
- D. 法制建设必定带来民主

**【分析】** 本题主要考查中外历史上的民主法制建设的相关史实。重点掌握《权利法案》、美国 1787 年宪法、《中国人民政治协商会议共同纲领》的相关史实。

**【解答】** 据“英国‘光荣革命’后制定了《权利法案》，美国独立战争后制定了 1787 年宪法，第一届中国人民政治协商会议通过了《中国人民政治协商会议共同纲领》”可知，这些说明民主需要以法制作保障。英国通过了《权利法案》，美国制定了 1787 年宪法，第一届中国人民政治协商会议通过了《中国人民政治协商会议共同纲领》，这都是用立法的形式来巩固革命的成果，说明民主需要以法制作保障。

故选：B。

8. “18 世纪的英国恰好是煤炭价格低廉而人力成本昂贵的国家。在逐利的工厂主看来，推广机器生产可以利用廉价的煤炭替代昂贵的劳动力，从而产生更大的利润。”据此可知工厂主推广机器生产的原因是（ ）

- A. 煤炭资源缺乏
- B. 劳动力较丰富
- C. 海外市场广阔
- D. 追逐更大利润

**【分析】** 本题以“18 世纪的英国恰好是煤炭价格低廉而人力成本昂贵的国家。在逐利的工厂主看来，推广机器生产可以利用廉价的煤炭替代昂贵的劳动力，从而产生更大的利润。”为切入点，考查第一次工业革命。

**【解答】** 由“在逐利的工厂主看来，推广机器生产可以利用廉价的煤炭替代昂贵的劳动力，从而产生更大的利润。”可知，工厂主推广机器生的原因是追求更大利润。ABC 在材料中均无体现。

故选：D。

9. 曾经国际舞台上的主角之一苏联，常常和美国在合作中竞争，在对抗中妥协，对世界局势产生重大影响。下列史实体现美苏“在对抗中妥协”的是（ ）

- A. 美国对日本宣战
- B. 古巴导弹危机

C. 苏联入侵阿富汗 D. 苏联最终解体

**【分析】** 本题以曾经国际舞台上的主角之一苏联，常常和美国在合作中竞争，在对抗中妥协，对世界局势产生重大影响为依托，考查美苏争霸的知识点。注意掌握相关基础知识。

**【解答】** 曾经国际舞台上的主角之一苏联，常常和美国在合作中竞争，在对抗中妥协，对世界局势产生重大影响。体现美苏“在对抗中妥协”的是古巴导弹危机。20世纪五六十年代，苏联的经济和军事实力远不及美国，美国在美苏争霸中占据优势。1962年，发生了古巴导弹危机。经过一段时间对峙后，苏美均作出让步，苏联从古巴撤走导弹和轰炸机，美国解除对古巴的海上封锁。危机遂告平息。

故选：B。

10. 下列史实与推论搭配正确的是（ ）

A. 史实：1936年美国农业收入增加近1倍，工业恢复到1929年水平，国民收入增加了50%。；推论：罗斯福新政取得了显著成效

B. 史实：工业方面：除大企业仍由国家管理外，允许私人和外国资本家经营一些中小企业。；推论：列宁开始放弃社会主义道路

C. 史实：欧盟成员国内部人员、资本和货物可以自由流通，各成员国公民有统一的欧洲护照。；推论：欧洲实现了政治一体化目标

D. 史实：战后日本积极引进最新科技成就，促进了日本经济持续高速的发展。；推论：日本成为了一个政治性大国

**【分析】** 本题主要考查罗斯福新政的相关史实。识读题干材料，得出正确结论。

**【解答】** 据“1936年美国农业收入增加近1倍，工业恢复到1929年水平，国民收入增加了50%”可知，罗斯福新政取得了显著成效。据“工业方面：除大企业仍由国家管理外，允许私人和外国资本家经营一些中小企业。”可知，列宁开始放弃战时共产主义政策，开始实行新经济政策。据“欧盟成员国内部人员、资本和货物可以自由流通，各成员国公民有统一的欧洲护照。”可知，欧洲朝着政治一体化目标迈进。据“战后日本积极引进最新科技成就，促进了日本经济持续高速的发展。”可知，日本成为仅次于美国的第二号资本主义经济大国。

故选：A。

二、解答题（共2小题，满分27分）

11. （11分）2018年习近平总书记在考察长江三峡时强调：“大国重器，一定要掌握在自己手

中。”阅读材料，完成下列要求。

材料一 1880年9月16日，左宗棠创办的兰州机器织呢局（呢绒纺织工厂）开工。他委托胡雪岩向德国商人购买机器设备1200多件，并从德国聘请匠师十多人。左宗棠离开兰州后，德国技师三年合约期满回国。1884年初织呢局因锅炉破裂从此停工。

——整理自《科普中国》

（1）根据材料一并结合所学，指出兰州机器织呢局是近代中国哪次探索中创办的企业？该企业“因锅炉破裂从此停工”说明它面临什么困境？


材料二 新中国初期，我国石油严重短缺，60多岁的地质学家李四光带领技术人员跋山涉水进行石油勘探。在勘探最困难的时候，李四光鼓励大家：“我们一线的生机，还是在我们的民族，大家打起精神，举起锄头向前挖去。”终于，1959年勘探出了大庆油田。随后，在各部门的共同努力下，大港、胜利、华北大油田相继找到，中国摘掉了“贫油”的帽子。

——摘自岳麓版高中历史教材选修四

（2）举出一名新中国早期的国防科研工作者及其贡献。根据材料二结合所学，概括这些科研工作者身上有什么共同精神？

材料三 党的十八大以来，政府对科技创新投入快速增长（见右图），总规模已位居世界前列，天宫、蛟龙、天眼、悟空、墨子、大飞机等重大科技成果相继问世。

（3）根据以上三则材料并结合所学，列举把“大国重器掌握在自己手中”需要具备的条件。



**【分析】** 本题考查洋务运动、社会主义建设英模人物、两弹一星，掌握相关的基础知识。

**【解答】**（1）据材料一“1880年9月16日，左宗棠创办的兰州机器织呢局（呢绒纺织工厂）开工。他委托胡雪岩向德国商人购买机器设备1200多件，并从德国聘请匠师十多人。左宗棠离开兰州后，德国技师三年合约期满回国。1884年初织呢局因锅炉破裂从此停工”并结合所学可知，兰州机器织呢局是近代中国洋务运动中创办的企业，该企业“因锅炉破裂从此停工”说明它面临缺乏技术、缺乏人才的困境。

（2）邓稼先为中国核武器的研制作出了卓越贡献，被誉为中国的“两弹元勋”。邓稼先主持原子弹研制，参加氢弹研制，是中国的“原子弹之父”。据材料二“新中国初期，我国石油严重短缺，60多

岁的地质学家李四光带领技术人员跋山涉水进行石油勘探。在勘探最困难的时候，李四光鼓励大家：‘我们一线的生机，还是在我们的民族，大家打起精神，举起锄头向前挖去。’终于，1959年勘探出了大庆油田。随后，在各部门的共同努力下，大港、胜利、华北大油田相继找到，中国摘掉了‘贫油’的帽子”并结合所学可知，这些科研工作者身上有艰苦奋斗、忘我工作、追求卓越、创新精神、自力更生、不计报酬、为国奉献等共同精神。

(3) 根据以上三则材料并结合所学可知，把“大国重器掌握在自己手中”需要具备的条件是国家独立，符合国情的政治制度（制度保障）（制度创新），人才（教育发展），技术（先进科技），政策支持（政府重视）（加大科技投入），经济发展，爱国主义，奋斗精神等。

故答案为：

(1) 洋务运动；困境：缺乏技术；缺乏人才。

(2) 邓稼先；成功研制出中国第一颗原子弹；精神：艰苦奋斗、忘我工作、追求卓越、创新精神、自力更生、不计报酬、为国奉献等。

(3) 条件：国家独立；符合国情的政治制度（制度保障）（制度创新）；人才（教育发展）；技术（先进科技）；政策支持（政府重视）（加大科技投入）；经济发展；爱国主义；奋斗精神等。

12. (16分) 从古至今，人类文明在交流与碰撞中不断向前迈进。阅读材料，完成下列要求。

材料一 如图一图二

(1) 根据材料一，指出古代文明交流的两种方式，结合所学分析其不同影响。

材料二 中美关系正常化45年来，中美早已互为对方第一大贸易伙伴国，2016年中美贸易总额为5194.8亿美元，而且中美两国GDP约为世界一半。2016年中美两国双向直接投资额约600亿美元，中国企业在美直接投资为456亿美元，较2015年增加两倍。美国出口的26%的波音飞机、16%的汽车、15%的集成电路，目的地都是中国。

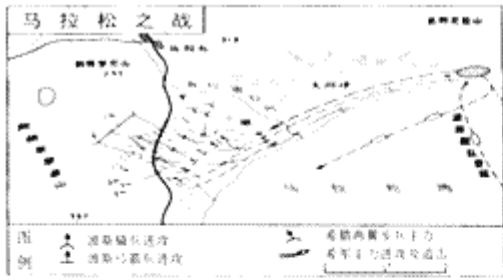
- - 摘自中宣部时事报告杂志社《时事》总第223期

(2) 根据材料二概括中美经贸关系的特点，并结合所学分析其积极影响。

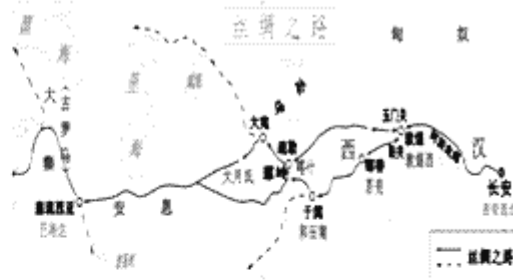
材料三 2018年中美贸易摩擦的相关漫画

(图三：2018年3月美国总统特朗普宣布对中国进口商品加征关税，挑起中美“贸易战”，中国随即坚决回击，一时间双方贸易领域出现剑拔弩张的局势；图四：2018年5月中美率各自代表团互访，经过艰难谈判，双方达成部分共识推动关系走向缓和。)


(3) 材料三中从图三到图四表明中美关系发生了什么变化？综合上述材料分析变化的原因。




图一



图二



图三 硝烟弥漫



图四 对等谈判

**【分析】** 本题以从古至今，人类文明在交流与碰撞中不断向前迈进为切入点，考查希波战争、丝绸之路、中美交往、经济全球化。

**【解答】** (1) 图一希波战争，属暴力冲突；图二丝绸之路，属和平交往。暴力冲突带来灾难；和平交往有利于友好往来。

(2) 由“中美关系正常化 45 年来，中美早已互为对方第一大贸易伙伴国”可以看出，中美经贸关系的特点是互为对方第一大贸易伙伴国。积极影响是促进双方经济发展；有利于双方建设和保持友好关系；有利于提高人民生活水平；有利于促进经济全球化。

(3) 由图三：2018 年 3 月美国总统特朗普宣布对中国进口商品加征关税，挑起中美“贸易战”，中国随即坚决回击，一时间双方贸易领域出现剑拔弩张的局势；图四：2018 年 5 月中美率各自代表团互访，经过艰难谈判，双方达成部分共识推动关系走向缓和，可以看出，从图三到图四中美关系发生的变化是由紧张到缓和。变化原因包括：对抗会带来灾难；和平交流有助于发展；中国综合实力的提升等。

故答案为：

(1) 方式：暴力冲突；和平交往；影响：暴力冲突带来灾难；和平有利于友好往来。

(2) 特点：互为对方第一大贸易伙伴；积极影响：促进双方经济发展；有利于双方建设和保持友好关系；有利于提高人民生活水平；有利于促进经济全球化。

(3) 变化：由紧张到缓和；原因：对抗会带来灾难；和平交流有助于发展；中国综合实力的提升等。

三、解答题 (共 1 小题, 满分 13 分)

13. (13 分) 社会发展是多种因素共同作用的结果。阅读材料, 完成下列要求。

材料一

①19 世纪后半叶中国所经受的屈辱和灾难使传统的以自我为中心的中国进行了痛苦的自我反省、重新评价和重新组织。……

②1898 年夏颁发了一系列彻底的改革法令……许多闲职将被取消; 地方政府将更加集中在北京的领导之下; 新学校将传播欧洲的学风; 西方式的生产方法将受到鼓励; 国家将按西方的方式建立一支由应征入伍者组成的军队。

③但是, 维新派缺乏经验, 这些措施始终停留在纸上。

④皇太后在军队的支持下发动政变, 废黜了不幸的皇帝, 废除所有的改革法令, 杀害了六位维新派领导人。

⑤“百日维新”……的失败清楚地表明, 试图通过自上而下的改良来使中国现代化是无效的, 唯一的办法是从下面进行革命。

——选自斯塔夫里·阿诺斯《全球通史》

(1) 通过阅读和整理文字材料来了解历史事件是学习历史的基本方法之一。阅读时应从材料中提取出构成历史事件的基本要素, 如背景、经过、内容、结果、影响等。阅读材料一, 将句子番号填入下表相应空格里。

要素	句子番号	要素	句子番号
背景	①	结果	③④
内容	②	影响	⑤

(2) 随着资本主义的产生和发展, 自然科学从宗教神学的束缚中逐渐解放出来, 获得了极大发展。

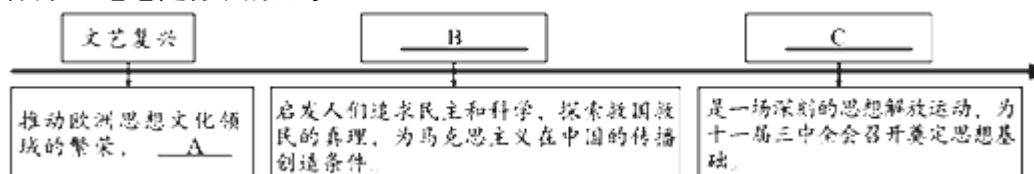
判断下列说法是否正确, 正确的划“√”, 错误的划“×”。

① 牛顿在力学上的主要成就是建立了完整的力学理论体系。√

② 爱迪生研制出碳丝灯泡为人类利用电能奠定了理论基础。×

③ 爱因斯坦上世纪初提出的相对论奠定了近代物理学基础。×

材料二 思想是行动的先导



(3) 结合所学，将材料二图示中空缺的内容补充在下列横线上。

A 促进欧洲资本主义的发展

B 新文化运动

C 关于真理检验标准的讨论

(4) 综合以上信息，谈谈你对人类社会发展的认识。

**【分析】** 本题以社会发展是多种因素共同作用的结果为切入点，考查戊戌变法、文艺复兴、新文化运动、十一届三中全会、近代科学成就。

**【解答】** (1) 材料一反映的是戊戌变法。材料表述中，背景①；内容②；结果③④；影响⑤。

(2) 英国科学家牛顿提出了运动三大定律和万有引力定律建立了完整的力学理论体系，被誉为“科学之父”。①正确。爱迪生研制出碳丝灯泡为人类利用电能奠定了实践基础，而不是理论基础。②错误。奠定了近代物理学基础的牛顿力学，不是爱因斯坦的相对论，③错误。

(3) 由“文艺复兴”可知，A 促进欧洲资本主义的发展；由“民主与科学”可知，B 新文化运动；由“为十一届三中全会召开奠定理论基础”可知，C 关于真理检验标准的讨论。

(4) 开放性试题，言之有理即可。科技进)、思想解放、政治改革是推动社会进步的动力。

故答案为：

(1) 背景①；内容②；结果③④；影响⑤。

(2) ①√；②×；③×。

(3) A 促进欧洲资本主义的发展；B 新文化运动；C 关于真理检验标准的讨论。

(4) 科技进步、思想解放、政治改革是推动社会进步的动力。