

2010年浙江省各地市中考

历史试题汇编

▲历史上不同地区文化交流

一.了解张骞通西域和丝绸之路概况

1、(2010年义乌卷)

【材料一】《汉书西域传》记载：“鄯善国，本名楼兰，去阳关千六百里，去长安六千一百里。户千五百七十，口四万四千一百。”专家指出：作为南北两条丝绸之路的交汇点，楼兰城当时充分吸纳了来自东西各方交通和商业资源潜力，加之邻近孔雀河，河道密布而水量充盈，楼兰城曾经在丝绸之路上辉煌一时。——2001年1月17日《南方都市报》

【材料二】楼兰曾有积粟百万，威服外国的壮举，曾有挟制丝路，左右西域的辉煌。然而人类活动的加剧以及水系的变化和战争的破坏，使原本脆弱的生态环境进一步恶化，最终导致楼兰地区由绿洲变成了荒漠。——2001年1月18日《华声报》

阅读材料，结合所学知识回答：(8分)

- (1) 途经楼兰王国商路的东方起点是哪一城市？(1分) 往西方贩运的货物主要有什么？(1分)
- (2) 根据材料二，指出楼兰王国消失的原因。(3分)
- (3) 要避免楼兰的悲剧重演，走可持续发展道路，我们应该遵循哪些原则？(3分)
 - (1) 长安(1分) 丝绸、陶瓷、铁器、漆器等(写出其中的一点即给1分)
 - (2) 人类活动的加剧，水系的变化，战争的破坏(每点1分，共3分)
 - (3) 公平性原则。持续性原则。共同性原则(每点1分，共3分)

二.比较郑和下西洋和新航路开辟的概况及作用

▲历史上有代表性的科技发明

三.知道中国古代重要的科技成就和重要发明

1、(2010年绍兴卷)(15分)一切始于世博会。阅读材料，回答问题。

(1) 世博会是科技成果的收藏者和展示者。请你为下列科技成果与最早展示它的世界博览会连线。(3分)

- | | |
|-------|-------------------|
| ① 蒸汽机 | A . 1851 年伦敦世博会 |
| ② 飞机 | B . 1873 年维也纳世博会 |
| ③ 电动机 | C . 1904 年圣路易斯世博会 |

(2) 世博会是文明演进的承载者和推动者。世博会直面人类社会发展的矛盾与困境，它

不断变化的主题传递着人类文明发展的新理念。下表中世博会的不同主题共同反映出哪一发展理念？为什么这一理念备受世人关注？（8分）

近 30 年来部分世博会主题一览表

年份	举办地	主题
1982年	美国诺克斯维尔	能源——世界的原动力
1984年	美国新奥尔良	河流的世界——水乃生命之源
1985年	日本筑波	居住与环境——人类居家科技
1990年	日本大阪	人类与自然
1999年	中国云南	人与自然——迈向 21 世纪
2005年	日本爱知县	超越自然——大自然的智慧再发现
2010年	中国上海	城市，让生活更美好

（3）播种希望，开启未来是上海世博会承担的使命。请结合所学知识，分析相关链接中的城市生活案例是如何向世人展示城市能让生活风美好的。（4分）

【相关链接】丹麦欧登塞赛倡导将骑自行车作为一种娱乐修闲的方式，推行骑自行车取代汽车的公共计划；西班牙马德里致力“公共廉租屋的创新实验”，为穷人建造好房子，让每一个人都感到城市的舒适和宜居；日本展馆面对老龄化社会，展示了能承担看护、医疗和家政援助具有高难度控制技术的伙伴机器人；德国展馆展示了只有参观者齐声鼓掌或呼喊才能在空中轻易摇摆的重达 1.5 吨的金属球……

25.（15分）（1）①——A；②——C；③——B。（2）人与自然和谐相处的理念（可持续发展理念）。自然资源是人类安身立命的基本条件，自然环境是人类赖以生存和发展的物质基础，20世纪60年代以来出现的一系列人口、资源、环境问题已严重制约人类的生活、生存和发展，使人们认识到必须寻求一条人口、资源与环境相互协调的可持续发展道路，维护好人类生存和发展必需的资源和环境基础。（3）倡导低碳生活方式；崇

尚公平和正义；发挥科技对生活的作用；重视人与人之间的团结合作。

四.知道近代工业革命中有代表性的成就

1、(2010年温州卷)世博会的主题既体现了全球的共同兴趣，也涉及市民的日常生活以及他们最关注的领域。

材料一：1933年美国芝加哥世博会第一次提出世博会主题——“一个世纪的进步”。科学的巨大力量贯穿着人类历史的进程。这个世纪的进步就是科学技术应用的结果。科技改变生活，科技改变世界。

(1)请我列举一项工业革命期间给人们生活带来巨变的科技成就。(2分)

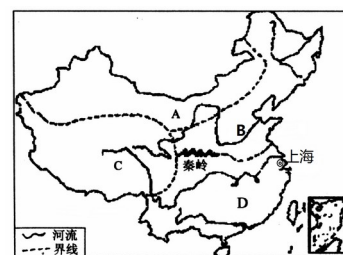
2、(2010年台州卷)甬台温铁路通车，实现了台州人民的百年夙愿。火车最早的发明者是▲。

A. 瓦特 B. 哈格里夫斯 C. 史蒂芬孙 D. 福特

3、(2010年台州卷)★走进上海世博 感受灿烂文明★(9分)

2010年5月1日，以“城市，让生活更美好”为主题的上海世博会揭开帷幕。潇潇是一位九年级学生，他们一家开始了世博之旅。

【探寻上海】在世博园门口，他们聆听导游介绍上海的自然、人文和历史知识，加深了对上海的了解。



(1)读右图写出上海所处地理分区D的名称。四大区域差异的关键因素是什么?(2分)

(2)上海见证了中国近代史。《▲》的签订使上海成为最早被迫开放的城市；1921年7月，发生在这里的中国历史上开天辟地的大事是▲。(2分)

【参与世博】他们随导游来到中国展馆，看到许多琳琅满目的展品，其中不乏古代中国的科技典范。

(3)请你写出以下两项科技典范入选的理由。(2分)

古代科技典范	入选理由
指南针	① ▲
印刷术	② ▲

【感悟世博】他们一天的参观中，发现一些从来没见过的产品，如：海宝机器人、3D人工智能、TD-LTE通信、氢能源汽车、门票射频识别系统……

(4)这些新产品的出现依靠什么力量？这种力量对我国现代化建设有何作用？(3分)

(1)南方地区；气候因素(气温与降水)。(2分)

(2)南京条约；中共一大的召开(中国共产党成立)。(2分)

(3)①推动世界航海业的发展；②促进了人类文化的交流与发展。(2分)

(4)科学技术(1分)；科学技术是第一生产力；科技创新能力，已越来越成为综合国力竞争的决定性因素；为现代化建设提供了智力支持(发展科技有利于实现经济振兴和社会主义现代化)(答对其中两点给2分)

▲历史上重要事件与人物

五．知道春秋战国时期的著名思想家及其主张

1、(2010年温州卷)学了“百家争鸣”知识后，同学们在一起讨论本班任课老师的管理风格。下列说法正确的有

- ① 语文赵老师善于因材施教，以德治班，熟谙儒家真谛
- ② 数学钱老师深入了解学生，知己知彼，颇有道家风范
- ③ 科学孙老师讲究顺其自然，无为而治，典型墨家做法
- ④ 社会李老师严格执行班规，照章办事，深受法家影响

A. ①② B. ①④ C. ②③ D. ③④

2、(2010年义乌卷)在美国西点军校，一个2000多年前的中国人提出的“知己知彼，百战不殆”的军事思想受到了学员的追捧。这个人

A.孙臧 B.孔子 C.韩非子 D.孙武

六．说明秦始皇、汉武帝和唐太宗的主要活动及影响

1、(2010年义乌卷)阅读材料，结合所学知识回答：(9分)

义乌位于浙江中部，目前实有人口180多万，以汉族为主，有回、苗、壮等23个少数民族。秦王政二十五年(前222年)置乌伤县，属会稽郡。唐武德四年于乌伤置稠州，六年分设乌孝、华川两县，七年(624年)废稠州，合两县称义乌市。1988年5月撤县设市。

(1)在秦王政设乌伤县前，义乌实行的是什么行政管理制度？(1分)

(2)唐武德七年(624年)设“义乌县”，三年后的义乌人迎来了一个历史上著名的封建“治世”，这一“治世”的名称是什么？(1分)它主要表现在哪些方面？(2分)

(3)义乌撤县设市时中国最鲜明的时代特点是什么？(2分)

(4)开放的义乌吸引了大量少数民族群众，作为义乌人，在日常交往中应如何维护民族团结？(2分)

(1) 分封制 (1分) 圆形方孔钱 (1分)

(2) 贞观之治 (1分) 政治比较清明，经济得到恢复与发展，民族关系融洽，社会安定，国力增强。(从不同角度写出两点即给2分，共2分)

(3) 改革开放 (2分) (只写改革或对外开放给1分)

(4) 尊重各民族的宗教信仰、风俗习惯、语言文字 (写出两点即给2分，共2分。)

答出其它符合题意的要点，也可酌情给分)

2、(2010年衢州卷)“地方推行郡县制，小篆成为规范字，焚书坑儒搞专制。”这一顺口溜反映的是▲实行的统治措施。

A.秦始皇 B.汉武帝 C.唐太宗 D.宋太祖

3、(2010年丽水卷)“从地方推行郡县制，小篆成为规范字，焚书坑儒搞专制。”这一顺口溜反映的是_____实行的统治措施。

A.秦始皇 B.汉武帝 C.唐太宗 D.宋太祖

4、(2010年湖州卷)在汉代，人们把玉门关、阳关以西，包括今天新疆以及更远的地区称为西域。下列属于中国古代政府加强对今天新疆地区管理的举措有

- ① 西汉政府设立“西域都护府” ② 汉武帝平准噶尔贵族叛乱
- ③ 清政府在该地区实施改土归流 ④ 清朝平定天山南路的回部贵族叛乱

A. ①③ B. ②③

(1)根据材料一，说明法西斯的“邪恶”表现。（2分）

(2)1942年是“正义战胜邪恶”的关键一年，请举出这一年影响战争走向的两件大事。（2分）

材料二：中国作为亚洲反法西斯战争的主战场，抗击了70%的日本侵略军，最终以3500多万儿女捐躯为代价，战胜了日本法西斯。

(3)中国抗日战争胜利的根本原因是什么？简述抗日战争在世界反法西斯战争中的作用。（4分）

(4)1945年2月，英、美、苏三国领导人举行会议，讨论有关战后重大问题，请说出这次会议的名称。（1分）世界反法西斯战争胜利后，世界形成了东西方对峙的格局，简述其形成的原因及标志。（5分）

(1)德国法西斯对犹太人实行种族灭绝政策。日本法西斯对中国人民实行血腥屠杀。（写出一点得1分）

(2)1942年初，签署《联合国家宣言》，建立反法西斯联盟。

1942年开始的斯大林格勒保卫战并最终胜利，成为整个反法西斯战争的重要转折点。（2分，言之成理，既可得分）

(3)根本原因：中华民族的觉醒和民族团结的结果。（2分，如答全民族的抗战或抗日民族统一战线的胜利均得2分，答美国在日本投放原子弹和苏联参战均不给分）

作用：是世界反法西斯战争的一部分，为世界反法西斯战争的胜利作出了巨大贡献。（2分）

(4)雅尔塔会议。（1分）

原因：战后美国成为世界头号强国，为实行称霸全球的战略，放弃了战时与苏联的结盟，转而反苏、反共；（2分）

战后苏联的国际威望有了很大的提高，大批人民民主国家诞生，形成了社会主义阵营。（2分）

标志：“北大西洋公约组织”和“华沙条约组织”两大军事集团成立。

九．了解1929~1933年资本主义世界经济危机，理解罗斯福新政的特点及作用

1、(2010年义乌卷)1929年爆发的经济危机席卷了整个资本主义世界。下列没有被波

及的国家是

- A.日本 B.苏联 C.美国 D.德国

2、(2010年衢州卷) 罗斯福新政实施期间,为解决严重的失业问题,采取的主要措施是

- A.提供工作机会代替赈济 B.规定最低工资标准
C.规定最高工时标准 D.允许工人与雇主集体谈判

3、(2010年湖州卷) 下列属于罗斯福新政内容的有

- ①在金融领域进行一系列改革 ②国家承建公共工程
③取消最低工资和最高工时标准 ④建立社会保障制度

- A.①②③ B.②③④
C.①②④ D.①③④

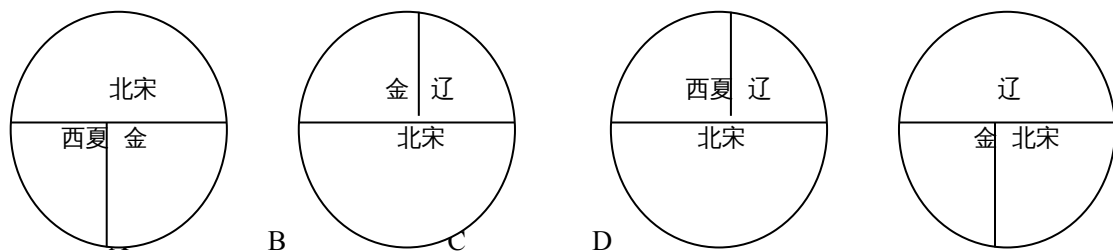
4、(2010年台州卷) 美国历史上的罗斯福新政让美国逐步摆脱经济危机,新政的特点是▲。美国奥巴马政府以史为鉴,出台了一系列复苏经济的刺激计划以摆脱金融危机。

- A.政府干预经济 B.规定工人最低工资和最高工时
C.采取以工代赈 D.建立社会保障制度

▲历史上的政权更替

十.了解中国古代主要朝代的兴替

1、(2010年衢州卷) 下面能大致反映北宋与少数民族政权并立的示意图是



2、(2010年湖州卷) 下列有关中国古代主要朝代兴替呈现正确的是

- ①夏→商 ②秦→汉 ③元→宋 ④隋→唐
A.①②③ B.①②④
C.①③④ D.②③④

3、(2010年杭州卷) 2010年1月13日,中国社会科学院在北京举办年度考古学论坛,“河南安阳曹操高陵”被列为2009年中国考古六大新发现之一,引起了社会各个层面的普遍关注。下列关于曹操事迹的表述,不正确的是

- A.“挟天子以令诸侯”,取得政治优势
B.与刘备、孙权联军在赤壁展开激战
C.完成北方的统一
D.废掉汉献帝,建立魏国

▲统一的多民族国家

十一．说明清朝的建立及其对国家统一的贡献

1、(2010年义乌卷) 下列属于清政府采取的巩固统一的多民族国家的措施是

- A.在西南率先改土归流 B.在北方修筑长城
C.设筑藏大臣 D.派郑和下西洋

2、(2010年衢州丽水卷) 清朝政府为巩固和发展统一的多民族国家，采取的措施有

① 实行三省六部制 ②在西南少数民族地区推行改土归流 ③设立驻藏大臣 ④平定准噶尔部、回部贵族叛乱

- A . ①②③ B . ②③④ C . ①②④ D . ①③④

▲近代中国逐渐落伍

十二．了解鸦片战争前欧美和中国的政治经济概况

1、(2010年杭州卷) 16世纪前后，欧洲诞生了新的社会阶层，人们的思想观念发生变化。以下事例能作为上述观点佐证的有

- ① 新兴资产阶级大力宣传人文精神
②“知识就是力量”观点的提出，大大深化了人们对自然的认识
③ 哥白尼提出的“日心说”被誉为“科学革命的开端”
④16世纪被称为“科学的世纪”

- A . ①②③④ B . ①②③ C . ①③ D . ②④

2、(2010年金华卷) (10分) [被世界漠视的时区]1601年，明朝万历年间，一台庞大的机械钟表出现在京城街头。但在一个习惯用暮鼓晨钟计时的王朝，那是一个与世界无关的“北京时间”。中国远离着世界，世界却在近代化进程中突变。

(1) 发端于欧洲的世界近代史，都是以西方国家的近代化节点作为时间标志。请列举这些作为西方国家的近代化节点的历史史实，至少二例。(4分)

(2) 远离世界的中央帝国，偶有近代化的声响扰乱清梦，却依然在沉睡中浑然不觉。请列举一个中国近代扰乱清梦、追求近代化的史实。(2分)

[受人瞩目的北京时间]二十国集团领导人伦敦金融峰会新闻中心的时间显示墙上，只悬挂着3个时钟：“华盛顿时间”、“伦敦时间”和“北京时间”。

(3) 短短60年，新中国将一个几百年来被世界漠视的时区，标注为举世瞩目的“北京时间”。这一切，始于60年前那个开天辟地的时间。这一开天辟地的历史事件是什么？(2分) 结合所学知识，说说为什么这一事件成为中华民族的历史新纪元？(2分)

(1) 英国资产阶级革命、法国资产阶级革命、美国独立战争、工业革命。(答出二点即可。4分)

(2) 洋务运动、维新变法、辛亥革命。(任举一例即可，2分)

(3) 1949年，中华人民共和国成立。(2分) 中国共产党领导中国人民取得新民主主义革命的胜利，结束了半殖民地半封建社会，人民成了国家的主人。(2分，若

答出综合国力增强，得1分。)

十三．分析近代中国逐渐落伍的原因

▲近代历史上中国人民的奋斗历程

十四．说明近代资本主义国家对对中国的主要侵略活动及其影响

1、由于中国人闭关自守，骄傲自满，三次灾难性的战争使他们受到了巨大的刺激。第一次是1840—1842年同英国的战争，第二次是1856—1860年同英、法的战争，第三次是1894—1895年同日本的战争。在这些战争中所遭到的耻辱性的失败，迫使中国人打开大门……（摘自美国斯塔夫里阿诺斯《全球通史》，有删改）。据些回答16—18题：

1. (2010年温州卷) 材料中的第一次战争是指

- A. 鸦片战争 B. 第二次鸦片战争 C. 甲午战争 D. 八国联军侵华战争

2、(2010年湖州卷) 在中国近代，下列哪一条约签订以后出现了右图局面

- A. 《南京条约》
B. 《北京条约》
C. 《马关条约》
D. 《辛丑条约》



3、(2010年台州卷) 圆明园遗迹静静地向世人诉说着历史的耻辱，百余年前这一世界名园遭受 ▲ 野蛮的劫掠焚毁，沦为废墟。

- A. 日本侵略军 B. 英法联军
C. 沙俄军队 D. 八国联军

十五．说明洋务运动、戊戌变法和辛亥革命的概况及影响

由于中国人闭关自守，骄傲自满，三次灾难性的战争使他们受到了巨大的刺激。第一次是1840—1842年同英国的战争，第二次是1856—1860年同英、法的战争，第三次是1894—1895年同日本的战争。在这些战争中所遭到的耻辱性的失败，迫使中国人打开大门……（摘自美国斯塔夫里阿诺斯《全球通史》，有删改）。据些回答16—18题：

1. (2010年温州卷) 材料中的第二次战争失败后，清政府一些官员认识到西方“坚船利炮”的威力。掀起了一场向西方学习军事技术，以求自强的运动。这场运动是指

- A. 洋务运动 B. 维新变法运动 C. 新文化运动 D. 五四运动

2. (2010年温州卷) 材料中的第三次战争的交战双方，同样装备着“坚船利炮”，却以清朝的惨败而告终。它暴露了清朝政治体制的腐朽。清朝实行的政治制度是

- A. 三权分立制 B. 民主共和国制度 C. 君主专制制度 D. 君主立宪制度

3、(2010年义乌卷) 1862年洋务派开设的同文馆，是中国最早的新式学堂。下列关于这个学堂创办初期的场景描述，正确的是

- A. 有一些外国教师在学堂授课 B. 学堂座落在环境优美的上海黄浦江畔
C. 学生入学后一律要剪掉辫子 D. 大批科举出身的人纷纷涌入学堂学习

4、(2010年绍兴卷) (12分) 从史料中汲取信息是学习和研究历史的基本方法。

阅读史料“外国人眼中的中国印象”，回答问题。

史料一



图① 18 世纪初欧洲漫画 图② 19 世纪末日本漫画 图③ 2009 年美国《时代》封面

史料二 昔同治（1862~1874）初年，德相毕士麻克（人名）语人曰：“三十年后，日本其兴，中国其弱乎？日人之游欧洲者，讨论学业，讲求官制，归而行之；中人之游欧洲者，询某厂船炮之利，某厂价值之廉，购而用之，强弱之原，其在此乎？”

——引自梁启超《论变法不知本原之害》

请回答：

（1）请你列举 18 世纪前中国在科技方面取得的一项重大成就及其对世界的影响，以印证图①制作者所表达的中国印象的合理性。（2 分）

（2）图②作者心目中的中国印象与图①对比发生了巨大变化，对引起这一变化的原因史料二中的德相毕士麻克早在同治初年就阐述了自己的观点，请你运用所学知识概括出这一观点，并结合近代中国有关史实予以说明。（6 分）

（3）图③的作者用“中国时刻”表达着对当今中国崛起的肯定和赞叹。在中华民族复兴的伟大“时刻”，作为炎黄子孙的你，应当如何从这二三百年的发展历程中吸取精神力量，自觉承担起历史责任？（4 分）

24.（12 分）（1）本题是开放性设问，学生答案只要列举 18 世纪前中国在科技方面的一项重大成就及其对世界的影响即可。示例：宋元时期的火药武器应用于战争，是人类战争史上的巨大转折点。（2）德相毕士麻克认为引起这一变化的原因在于中国看重学习西方的先进技术，没有学习西方的思想和政治制度，以“自强”、“求富”为口号的洋务运动只注重西方先进技术等的学习，没有触动中国的政治体制，最终导致甲午战争中的惨败。

（3）我们要树立民族自信心，做民族精神的传播者、弘扬者和建设者，要胸怀天下，放眼世界，有开放的心态，要勇于创新，锐意改革；立足实践，从小事做起，做一个自觉承担社会责任的公民。

5、（2010 年衢州卷）（8 分）20 世纪以来，中国人民在前进道路上经历了三次历史性巨变，展现了中华民族呕心沥血的奋斗历程。结合所学知识，完成下列表格。

人物图像			
人物姓名 (2分)	①	②	邓小平
历史功绩 (4分)	③	领导人民建立中华人民共和国，确立社会主义制度。	④
共同追求 (2分)	⑤		

① 孙中山 ②毛泽东 ③领导辛亥革命推翻了统治中国两千多年的君主专制制度，使民主共和思想深入人心。④实行改革开放，中国的发展进入现代化建设新时期。（若答“开辟建设中国特色社会主义道路”也可） ⑤争取民族独立和人民自由幸福（国家富强），实现中华民族的伟大复兴。（言之有理即可）

6、(2010年宁波卷) (10分)阅读材料，回答问题。

翻开从鸦片战争到五四运动近 80 年的历史，人们发现温和的改良无法从根本上改变中国落后挨打的现实，必须彻底埋葬旧制度。于是革命党人举起义旗，发动革命，推翻旧王朝，建立了中国第一个共和制政府。然而，这场革命引起的变化毕竟是有限的。清王朝皇冠落地后，不平等条约没有废除；从农村到城市，很多人家还是把君主当作神来供奉。

(1)材料中的“改良”和“革命”是指哪些历史事件?它们有哪些共同之处?(5分)

(2)这场“革命”给中国社会带来了哪些变化?结合材料谈谈对“这场革命引起的变化毕竟是有限的”这句话的认识。(5分)

(1)洋务运动、戊戌变法、辛亥革命。(2分)探索现代化道路、向西方学习、力图挽救中华民族危难等。(3分)

(2)推翻了君主专制制度；民主共和思想深入人心；社会生活发生变化等。(3分)中国半殖民地半封建的社会性质没有改变；多数中国人的精神面貌没有根本改变。(2分。照抄材料不给分)

7、(2010年台州卷) 下列仁人志士中，主张进行革命，推翻清朝统治，仿效西方建立资产阶级民主共和制度的是 ▲。




A B C D

十六.了解新文化运动和五四运动概况

1、(2010年杭州卷)图二为中国近代史上一位伟大人物,以下简短说明与图片人物相吻合的是

- A. 创办《新青年》杂志,率先举起“民主”、“科学”大旗
- B. 发表《新纪元》一文,歌颂十月革命
- C. 率先提出用白话文代替文言文
- D. 创作《狂人日记》,批判封建礼教



图二

十七.了解中国共产党的成立及其创建红色根据地的概况

十八.了解北伐战争和红军长征的概况

十九.知道抗日战争中的重大事件,探讨抗战胜利的原因和意义

1、(2010年温州卷)(11分)

【兄弟阋墙】

1936年10月21日,蒋介石对张、杨(指张学良和杨虎城)进行训话,一再强调,要分清敌人的远近,事情的缓紧。不“安内”,而轻言抗日,便是是非不明。

——《中华民族抗日全史》

我跟蒋先生(指蒋介石)的冲突,就是他是要“安内攘外”,我是要“攘外安内”。

——《张学良口述历史》

(1)在1927—1936年的十年中,蒋介石为了“安内”,对中国革命犯下了哪些罪行?(2分)

(2)1936年,为了让蒋介石由“安内”转向“攘外”,张学良、杨虎城采取了什么行动?(2分)

【同仇敌忾】

毛泽东说:“直到现在国民党还是一个大政党,拥有庞大的军队,这个军队在抗战头两年打仗打得比较好,现在总算也还在打日本……”

——《同赫尔利的谈话》

(3)请列举国民党军队“在抗战头两年打仗打得比较好”的一闪战役。(2分)

(1) 1927年4月12日,蒋介石背叛革命,大肆屠杀共产党员和革命群众;从1930年

开始，蒋介石先后发动五次对中央革命根据地的“围剿”

(2) 1936年，张学良、杨虎城在西安发动“兵谏”，扣押了蒋介石，要求他停止内战，联共抗日（或答：1936年，张学良、杨虎城发动西安事变）。

(3) 台儿庄战役

2、(2010年绍兴卷) 实物资料是一种历史证据。二战中，日本侵略者对人类犯下了不可饶恕的罪行。下列可用来证明日军所犯罪行的史料包括（ ）C

- ① 731部队相关遗址 ② 奥斯威辛集中营遗址
③ 南京大屠杀惨案相关遗址 ④ 斯大林格勒战役照片
A. ①④ B. ②③ C. ①③ D. ②④

3、(2010年湖州卷) 中国抗日战场是世界反法西斯战争的东方主战场。抗战时期，中国军民伤亡人数达3500多万，直接经济损失超过1000亿美元。材料直接反映了中国的抗日战争

- ① 是世界反法西斯战争的组成部分 ② 直接抗击了德、意、日法西斯国家
③ 为世界反法西斯战争付出了重大牺牲 ④ 得到了爱好和平与正义的国家和人民的支持
A. ①② B. ②④
C. ①③ D. ③④

二十. 理解解放战争胜利的原因及意义

1、(2010年温州卷) (11分)

【败走麦城】

1950年，败退台湾的蒋介石在反思失败的原因时曾说，此次战争（指解放战争）的失败实在是国民党自己打倒了自己！

(4) 你如何看待蒋介石的这一说法？请简要说明理由。(5分)


如1：蒋介石的观点是有道理的。国民党内部不团结，政治上实行独裁，失去民心。

如2：蒋介石的观点是没有道理的。中国共产党赢得了人民群众普遍的拥护和信任；毛泽东的高超军事指挥艺术，人民解放军的英勇战斗才是国民党失败的原因。

如3 蒋介石的观点是片面的。综合上述两方面理由即可。

2、(2010年义乌卷) 右图选自教材《新中国的诞生》一课，编写人员选用这幅图的主要目的是为了说明

- A. 中国共产党的坚强领导
B. 当时中国的社会生产力低下
C. 毛泽东具有高超的军事指挥艺术
D. 民心向背是战争胜负的关键因素



3、(2010年杭州卷) 某地初中同学在开展小组合作学习时，从20世纪40年代中期的国民党报刊中，查阅到一些民主人士对毛泽东的称赞：“弥天大勇”、“一身系天下之安危”。这些民主人士主要称赞毛泽东


- A. 建立井冈山革命根据地的创举 B. 赴重庆与国民党谈判的胆魄
C. 在北平召开新政治协商会议的决定 D. 建立中华人民共和国的伟业

▲共和国的风雨历程

二十一. 理解改革开放前新中国成长的曲折历程

1、(2010年温州卷) 有人根据图2编了一首顺口溜：“一棵玉米冲九霄，彩云拴住玉米腰，吓得月亮直弯腰。”这首顺口溜反映的现象出现于

- A. 土地改革时期
- B. “一五计划”时期
- C. 大跃进时期
- D. 文化大革命时期



2、(2010年义乌卷) 2009年，“吴晗先生诞辰100周年”和家乡义乌相继举行。下列与吴晗先生含冤逝世有关

- A. 抗美援朝
- B. 大跃进运动
- C. 人民公社运

3、(2010年绍兴卷) 实现好、维护好广大农民群众根本利益历来是中国共产党农村工作的重中之重。下列标志着我党已实现彻底消灭封建土地制度，真正解放农民这一目标的事件是

- A. 土地改革的完成
- B. 对农业的社会主义改造
- C. 人民公社化运动的开展
- D. 家庭联产承包责任制的推行

4、(2010年湖州卷) (9分) 我国农村60年发展见证了共和国风雨历程。阅读材料，回答问题：

材料一：据不完全统计，新中国成立初期特别是“一五”时期，农民人均收入年均增长率达10%左右。1978年后，农民均收入更是大幅提高，年均增长率达到12.7%。

材料二：下面两幅图反映了社会主义建设初期出现的失误与挫折。



农民在表决心

图一



1958年9月10日，《人民日报》刊登了《中共中央关于在农村建立人民公社问题的决议》

图二

(2) 材料二中的图一和图二各反映了哪两大历史事件？(2分)

(3) 上述材料说明了我国农村60年的发展既有经验又有教训，这对当前我国社会主义建设有哪些启示？(4分)

(1)“一五”期间，我国先后完成了土地改革和农业的社会主义改造；(2分) 1978年开始实行家庭联产承包责任制。(1分)

(2) 图一反映了大跃进运动，图二反映了人民公社化运动。(2分)

(3) 必须始终坚持改革，充分调动生产积极性；必须正确认识我国社会主义所处的发展阶段；必须遵循经济发展的客观规律，不能急于求成。(4分)

5、(2010年杭州卷) 2010年2月，由中国教育报和中国教育电视台联合主办的“2009年度中国教育新闻人物”评选结果揭晓，钱学森获得了“中国教育新闻人物特别奖”。钱学森是

- A. 为我国原子弹研制作出贡献的科学家
- B. 被称为“纺织大王”的爱国资本家
- C. 提出我国蕴藏着丰富石油资源的地质学家
- D. 曾获得诺贝尔奖的教育学家

▲改革开放以来中国发生了巨大变化

二十二. 理解党的十一届三中全会的内容和意义

二十三. 了解“一国两制”的涵义及其实践

1、(2010年绍兴卷) 澳门回归十多年来，GDP以年均近15%的增幅快速增长，人均GDP已达3.9万美元，成为全球最活跃的微型经济体。这一事实表明，“一国两制”的实行

- A. 融洽了中国人民的感情
- B. 增强了中华民族的文化认同感
- C. 刺激了特区经济的繁荣和发展
- D. 保持了特区生活方式的长期不变

2、(2010年金华卷) 澳门回归十年来，生产总值由472.87亿澳门元增加到1718.67亿澳门元；到2009年底，政府财政储备是1999年的40多倍。这些成就的取得离不开

- ①“一国两制”方针的正确指引
 - ②澳门毫不动摇地坚持社会主义制度
 - ③中央人民政府对澳门的支持
 - ④澳门特区政府高效施政、高度自治
- A. ①②④ B. ①②③ C. ②③④ D. ①③④

▲和平与发展

二十四. 理解和平与发展是当今世界的主题

二十五. 分析威胁世界和平的主要因素

二十六. 了解发达国家和发展中国家的地域分布，分析造成南北问题的原因

1、(2010年宁波卷) (6分) 阅读材料，回答问题。

材料一：2010年5月9日，俄罗斯隆重举行纪念卫国战争胜利65周年阅兵式，20多个国家的领导人和国际组织代表参加了纪念活动，并向为反法西斯战争胜利献出生命的无名烈士墓献花。国家主席胡锦涛参加庆典时强调：“今天的和平来之不易，值得倍加珍惜。”

材料二：2009年10月1日，中华人民共和国成立六十周年国庆阅兵式隆重举行，展示了国威军威。近百年抗争求独立，六十年奋斗铸辉煌。在不断的探索中，中国共产党领导全国各族人民开创了有中国特色的社会主义道路。

- (1) 材料一反映了当今时代的哪一个主题?(1分)
- (2) 材料二中的“两条独具特色的道路”是指哪两条道路?(2分)
- (3) 上述两则材料对实现中华民族的伟大复兴有哪些启示?(3分)

(1) 和平(1分) (2) 农村包围城市的独特的革命道路；中国特色社会主义道路。(2分)

(3)努力争取和平的国际环境(1分)坚持中国共产党领导；坚持从中国国情出发(一切从实际出发)；坚持社会主义道路；坚持改革开放；民族团结一心等。(2分。两方面，言之有理即可)

2、(2010年丽水衢州卷) 2009年，全球饥饿人口数量达到10.2亿，平均每6秒钟就有一个孩子饿死，非洲大陆仍然是饥饿的重灾区。这说明

- A. 南北贫富差距是世界不安宁的根源 B. 发展中国家都分布在非洲
C. 发展仍然是当今世界的一大主题 D. 和平问题依然没有得到解决

3、(2010年湖州卷) 下列事件反映发展主题的是

- ① 美国政府向阿富汗增兵 ② G20峰会商讨应对金融危机
③ 中国—东盟自由贸易区全面启动 ④ 胡锦涛与奥巴马共同出席核安全峰会

- A. ②③ B. ②④
C. ①③ D. ①④

4、(2010年杭州卷) 冷战结束以后，世界局势的发展引人注目。对于当今世界局势的表述，正确的有

- ① 世界正在向多极化发展 ② 和平成为时代主题之一
③ 公正、合理的国际新秩序已经建立 ④ 霸权主义、强权政治有新的表现

- A. ①②③④ B. ①③
C. ②④ D. ①②④

▲人口、资源与环境

二十七. 说明我国人口、资源、环境的现状及其对社会发展的影响

二十八. 掌握我国解决人口、资源、环境问题的措施

二十九. 理解人口、资源、环境问题之间的关系，树立可持续发展意识

1、(2010年温州卷) 世博会的主题既体现了全球的共同兴趣，也涉及市民的日常生活以及他们最关注的领域。

材料一：1933年美国芝加哥世博会第一次提出世博会主题——“一个世纪的进步”。科学的巨大力量贯穿着人类历史的进程。这个世纪的进步就是科学技术应用的结果。科技改变生活，科技改变世界。

(1)请我列举一项工业革命期间给人们生活带来巨变的科技成就。(2分)

材料二：下表是几届世博会的主题

时间	主题
1998年	海洋——留给未来的遗产
2000年	人类——自然——科技——发展
2005年	自然、城市、和谐——生活的艺术

(2)以上各届世博会的主题共同体现了人类在寻求怎样的发展道路？(3分)

材料三：2010年上海世博会的主题是“城市，让生活更美好”。结合这一主题，上海某调查组进行了一次调查，图6是其中一组数据。

(3)从图6可以看出，就业是公众最为关注的因素，请从我国人口特点的角度来分析就业难的原因。(4分)

(4)从图6中选择一个你关注的因素(除“就业”外)，谈谈其

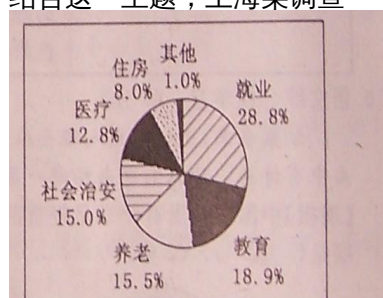


图6 公众认为影响城市美好生活的最重要因素

存在的问题及解决对策。(4分)

(1) 举出一项工业革命期间的科技成果即可。如：电灯

(2) 可持续发展之路

(3) 人口数量大、人口素质不高，给社会带来了严峻的就业压力。

(4) 选择一个因素，问题表述清楚，解决对策合理即可。如：我关注的因素是“医疗”：其存在的问题是“就医难，看病贵”；解决对策是：政府要加大资金投入，加强社区医院建设完善医疗保障制度。

2、(2010年绍兴卷)(15分) 一切始于世博会。阅读材料，回答问题。

(1) 世博会是科技成果的收藏者和展示者。请你为下列科技成果与最早展示它的世界博览会连线。(3分)

① 蒸汽机

A . 1851 年伦敦世博会

② 飞机

B . 1873 年维也纳世博会

③ 电动机

C . 1904 年圣路易斯世博会

(2) 世博会是文明演进的承载者和推动者。世博会直面人类社会发展的矛盾与困境，它不断变化的主题传递着人类文明发展的新理念。下表中世博会的不同主题共同反映出哪一发展理念？为什么这一理念备受世人关注？(8分)

近 30 年来部分世博会主题一览表

年份	举办地	主题
1982 年	美国诺克斯维尔	能源——世界的原动力
1984 年	美国新奥尔良	河流的世界——水乃生命之源
1985 年	日本筑波	居住与环境——人类居家科技
1990 年	日本大阪	人类与自然
1999 年	中国云南	人与自然——迈向 21 世纪
2005 年	日本爱知县	超越自然——大自然的智慧再发现
2010 年	中国上海	城市，让生活更美好

(3) 播种希望，开启未来是上海世博会承担的使命。请结合所学知识，分析相关链接中的城市生活案例是如何向世人展示城市能让生活风美好的。(4分)

【相关链接】丹麦欧登塞赛倡导将骑自行车作为一种娱乐休闲的方式，推行骑自行车取代汽车的公共计划；西班牙马德里致力“公共廉租屋的创新实验”，为穷人建造好房子，让每一个人都感到城市的舒适和宜居；日本展馆面对老龄化社会，展示了能承担看护、医疗和家政援助具有高难度控制技术的伙伴机器人；德国展馆展示了只有参观者齐声鼓掌或呼喊才能在空中轻易摇摆的重达 1.5 吨的金属球……

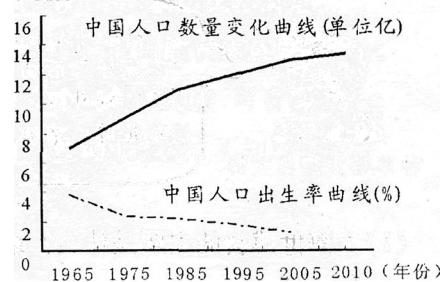
25. (15分) (1) ①——A；②——C；③——B。(2) 人与自然和谐相处的理念(可持续发展理念)。自然资源是人类安身立命的基本条件，自然环境是人类赖以生存和发展的物质基础，20世纪60年代以来出现的一系列人口、资源、环境问题已严重制约人类的生活、生存和发展，使人们认识到必须寻求一条人口、资源与环境相互协调的可持续发展道路，维护好人类生存和发展必需的资源和环境基础。(3) 倡导低碳生活方式；崇尚公平和正义；发挥科技对生活的作用；重视人与人之间的团结合作。

3、(2010年宁波卷) 中国的北京、上海、南京等30多个城市积极参与2010年“地球一小时”熄灯活动，全球有6000多个城市10多亿人共同参与。这说明

- ①我国积极实施可持续发展战略 ②解决环境与资源问题的关键靠科技
③节能减排已成为每个人的自觉行动 ④倡导低碳生活得到世界各国的积极响应
A. ①② B. ①④ C. ②③ D. ③④

4、(2010年宁波卷) (8分)请结合右图，回答问题。

- (1)右图呈现了我国的哪些人口问题?(2分)
(2)上述人口问题对我国发展带来哪些不利影响?
(3分)
(3)结合所学知识分析右图中两条曲线形成的原因。
(3分)



- (1)①我国人口持续增长；②人口总量大。(2分)
(2)①生态失衡(或环境恶化)；②就业压力增大，影响人民生活水平的提高(或上学难、就医难、住房难、交通拥挤等)；③资源的人均占有量减少(或资源短缺)制约经济的发展等。(3分)
(3)原因：①人口基数大，新增人口多；老年人口数量增长很快(人均寿命延长或自然死亡率降低)。(1分)②实行计划生育，人口出生率下降。(1分)③人口出生率下降，使人口增长速度趋缓。(1分)

▲当代市场经济对个人和社会生活的影响

三十. 知道现代经济中“看不见的手”和“看得见的手”

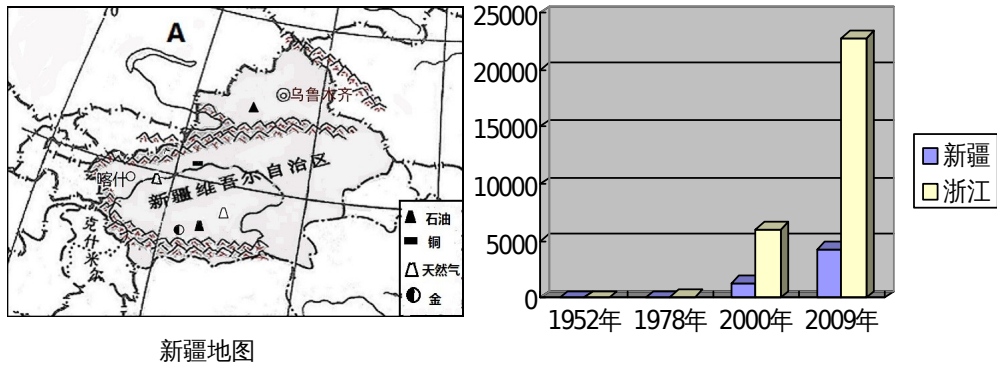
三十一. 理解“因地制宜、优势互补”在区域经济发展中的重要意义

1、(2010年台州卷)★建设美好新疆 构筑民族长城★(14分)

古老的丝路诉说着曾经的辉煌，某班学生开展以“新疆的昨天、今天和明天”为主题的探究活动，请你参与。

※ 收集信息

信息一：



信息二：

最近，中央批准设立喀什经济特区，举全国之力把喀什建设成为世界级的国际化大都市。喀什是古代“丝绸之路”的交通要冲，具有“五口通八国，一路连欧亚”的独特区位优势，是祖国向西开放的重要门户。

※ 整理分析

【昔日新疆】

(1) 新疆是古代西域一部分，请写出西域正式归属中央政权的时间、标志性事件？(2分)

(2) 伴随着共和国的风雨历程，1952年—1978年新疆、浙江经济发展缓慢，请你谈谈主要原因。(3分)

【今日新疆】

(3) 读新疆地图，A是我国的邻国▲，是世界上最大的内陆国。请列举新疆人民因地制宜发展农牧业的生产方式两例。(3分)

(4) 结合图表中的信息分析为什么国家设立喀什为经济特区？(3分)

※ 拓展延伸

【明日新疆】

(5) 新疆是我国多民族聚居的区域，我们中学生应该如何维护民族团结？(3分)

(1) 西汉(公元前60年)；西域都护府的设立。(2分)

(2) 经历大跃进运动、人民公社化运动、文化大革命等挫折。(3分)(若从政策存在失误等方面回答酌情给分)

(3) 哈萨克斯坦；(1分)利用天山四季放牧、利用坎儿井(发展绿洲农业)浇灌。(2分)

(4) 喀什地理位置优越，与我国邻国中五国相接壤，有利于对外开放；自然资源丰富，可以把资源优势转化为经济优势；为了加速新疆的经济发展，缩小东西部差距，实现共同富裕。(3分)

(5) 自觉履行维护民族团结的责任和义务；尊重各民族的宗教信仰，尊重各民族的风俗习惯，尊重各民族的语言文字；与破坏民族团结和制造民族分裂的言行作斗争。(3分)

▲经济全球化

三十三．理解经济全球化的趋势及其影响

1、(2010年温州卷) 海尔集团在全球建立了29个制造基地，191个海外贸易公司，全球员工总数超过6万人，已发展成为大规模的跨国企业集团。这一现象体现的世界经济发展趋势是

- A．区域集团化 B．政治多极化
C．产品单一化 D．经济全球化

2、(2010年湖州卷) (10分) 2010年5月至10月，第41届世博会在中国上海举行。世博会就是一个微缩的世界，是“地球村”的生动写照。置身宏大的世博园，人们最能切身感受到的是“盖今之天下，乃地球合一之天下”的道理。上海世博会既是向世界展示中国的舞台，也是世界加强与中国沟通的桥梁。这是中国的机遇，也是世界的机遇。

根据材料，回答问题：

(2) 材料体现了当今世界哪一发展趋势？这一发展趋势对世界经济的发展产生怎样的积极影响？(4分)

(2) 经济全球化。(2分) 经济全球化有利于世界范围内资源的合理配置；有利于各国各地区加强经济技术合作；有利于世界经济和人类的发展。(2分)

3、(2010年金华卷) 当今国际社会，在美国领先世界的同时，欧盟努力地用同一个声音说话，“金砖四国”(巴西、俄罗斯、印度、中国)、“展望五国”(越南、印尼、南非、土耳其、阿根廷) 在经济快速发展的同时，也正在国际事务中发挥越来越大的作用。这一现象表明

- A、当今世界的发展问题基本解决 B、国际格局走向多极化
C、经济发展趋向全球化 D、国际经济新秩序已基本建立

▲国际组织

三十四．知道欧盟、世界贸易组织和联合国及其作用

1、(2010年义乌卷) 2010年，希腊因债务危机引发了国内大规模罢工。对希腊债务危机最有可能进行实质性干预的区域性国际组织是

- A. 欧洲联盟 B. 联合国 C. 世界贸易组织 D. 亚太经合组织

2、(2010年杭州卷) 某国际组织的基本职能是：制定和监督多边贸易规则，组织多边贸易谈判，解决成员国之间的贸易争端。该组织是

- A．联合国 B．七十七国集团
C．欧洲联盟 D．世界贸易组织

3、(2010年台州卷) 震后向海地派遣维和部队的国际组织是 ▲。

- A．世贸组织 B．欧盟 C．联合国 D．绿色和平组织

