

黄石市2016年初中毕业生学业考试

文科综合试题卷

姓名：

准考证号：



注意事项：

- 1.本试卷分试题卷和答题卡两部分。考试时间为100分钟。满分80分，其中思想品德40分，历史40分。
- 2.考生在答题前请阅读答题卡中的“注意事项”，然后按要求答题。
- 3.所有答案均须做在答题卡相应区域，做在其他区域无效。

第I卷 (选择题 共35分)

第I卷共35题。1~19题为历史学科试题，20~35题为思想品德学科试题。每题1分，共35分。在每题所列的四个选项中，只有一项是最符合题目要求的。

- 1.黄石地区是中华民族的发祥地之一，远在三四百万年前，我们的祖先就在这里栖息。解放后，在这里建立了黄石工矿特区，随后设立了省辖市。今年8月是黄石市建市
A.65周年 B.66周年 C.55周年 D.56周年
- 2.第五次反“围剿”失利后，阳新、大冶的革命根据地被分割包围，革命一度转入低潮。但阳新、大冶边界的_____等地的游击战一直坚持斗争到抗日战争前夕，被称为“红旗不倒的地方”。
A.南山头、龙角山 B.北山头、龙角山 C.南山头、龙港 D.北山头、龙港
- 3.与商周同期，我国西南地区盛行一种独特的青铜文化——“三星堆”文化。下列属于“三星堆”文化的青铜器是



- A.四羊方尊 B.司母戊鼎 C.青铜立人像 D.毛公鼎
- 4.北京故宫里有一块牌匾上写着“中正仁和”，其中“仁”的思想来自
A.墨家 B.儒家 C.道家 D.法家
 - 5.《史记·商君列传》载，“集小郡、乡邑聚为县，置令、丞，凡（共）三十县。”材料反映了当时
A.实行分封制 B.建立县制 C.确立行省制 D.推行郡国并行制

- A.成为俄国历史的转折点 B.没有任何成效
C.废除了农奴制 D.保留了大量封建残余
- 16.第二次世界大战的重要转折点是
A.英法对德宣战 B.太平洋战争的爆发 C.斯大林格勒战役 D.诺曼底登陆
- 17.有关下表的分析不正确的是

1950—1970年主要资本主义国家经济增长率统计表

联邦德国	意大利	法国	英国	日本	美国
6.7%	5.6%	5.3%	2.9%	9.6%	3.5%

- A.主要资本主义国家经济都有增长 B.联邦德国经济增长率超过美国
C.美国丧失了资本主义世界头号经济大国的地位 D.日本经济增长率居首位
- 历史学习包括史实的确认、解释、规律揭示、概念形成和价值认同等基本环节，
请结合所学回答 18—19 题。
- 18.下列关于“三角贸易”的表述正确的是
A.“三角贸易”的路线是：欧洲——美洲——非洲——欧洲
B.“三角贸易”促进了欧洲资本主义的发展
C.葡萄牙是“三角贸易”的主要经营者
D.“三角贸易”带来了亚非拉的经济繁荣
- 19.“思想解放是社会变革的先导，能促进社会的进步。在历史上，一批又一批思想家站在
在
时代的前沿，提出了先进的思想理论。”下列能够论证上述观点的史实有
①文艺复兴 ②新文化运动 ③五四运动 ④《共产党宣言》的发表
A. ①②③ B. ②③④ C. ①②④ D. ①③④

第 II 卷 (非选择题 共45分)

第 II 卷共 7 题。36~38 题为思想品德学科试题，共 24 分；39~42 题为历史学科试题，共 21 分。

- 39.【历史年表】阅读材料，结合所学知识，分别将下面中外历史某时期的年代标尺示意图补充完整。(共 7 分)

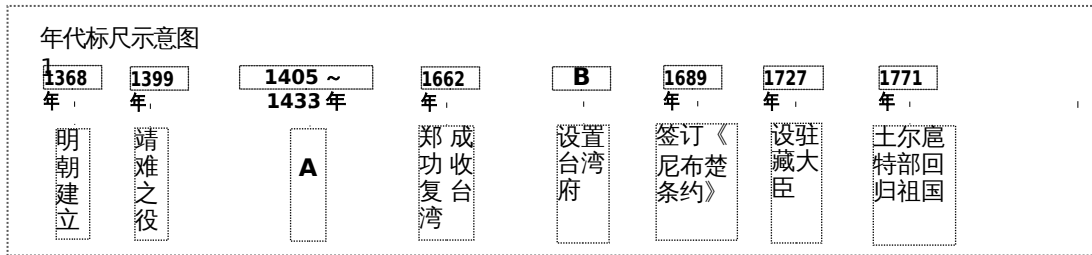
材料一

1368 年，朱元璋建立明朝。1399 年，明成祖朱棣通过“靖难之役”称帝。1405 年，为了加强同海外各国的联系，明成祖派遣郑和下西洋。至 1433 年，郑和前后七下西洋，促进了中国和亚非各国的经济交流，加强了我国和亚非各国的友好关系。

从 16 世纪开始，一些欧洲殖民者，相继来中国进行侵略活动。明朝后期，荷兰殖民者侵占了台湾，郑成功率领将士于 1662 年初击败荷兰殖民者，台湾重新回到祖国怀抱。1683 年，清军进入台湾。第二年，清朝设置台湾府，隶属福建省。17 世纪中期，沙俄侵入我国黑龙江流域，在雅克萨和尼布楚修筑城堡。为保卫边疆，康熙帝命令清军围攻侵略军，并获胜利。1689 年，中俄双方经过平等协商，签订了第一个边界条约《尼布楚条约》。

1727年，清朝设驻藏大臣，与达赖、班禅共同管理西藏事务。乾隆帝时，回部大小和卓发动反清叛乱，最终清军平定了叛乱，并设置伊犁将军，管辖新疆地区。1771年土尔扈特部回归祖国，受到清政府的妥善安置。

——摘编自人教版《中国历史·7年级下册》



(1)A. _____ B. _____ (将对应内容分别填入答题卷中；2分)

(2)根据上述材料并结合所学知识，简述清政府加强对边疆地区的管辖有何重要意义？(1分)

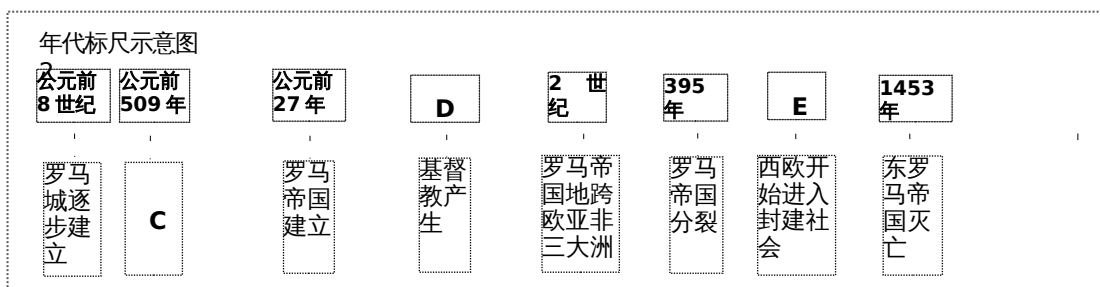
材料二

公元前8世纪，罗马城逐步建立起来。公元前509年，罗马建立了共和国。之后，逐步征服了意大利半岛。公元前49年，凯撒夺取政权。公元前27年，屋大维开始独揽国家大权，罗马共和国被罗马帝国取代。到了2世纪，罗马帝国成为地跨欧亚非三大洲的帝国。

1世纪，基督教产生于巴勒斯坦一带。在西欧长期动乱的过程中，基督教会乘机扩大势力和影响，教皇和教会不仅是西欧最大的土地所有者，还是西欧封建制度的精神支柱。

3世纪起，罗马帝国爆发了全面危机。395年，罗马帝国分裂为东、西两部分。476年，西罗马帝国被日耳曼人灭亡，西欧开始进入封建社会。6世纪，东罗马帝国四处征伐，帝国日益衰落。1453年，君士坦丁堡被土军攻陷，东罗马帝国灭亡。

——摘编自人教版《世界历史·9年级上册》



(3)C. _____ D. _____ E. _____ (将对应内容分别填入答题卷中；3分)

(4)罗马帝国从建立到分裂持续了多少年？(1分)

40.【判断分析】(共3分)

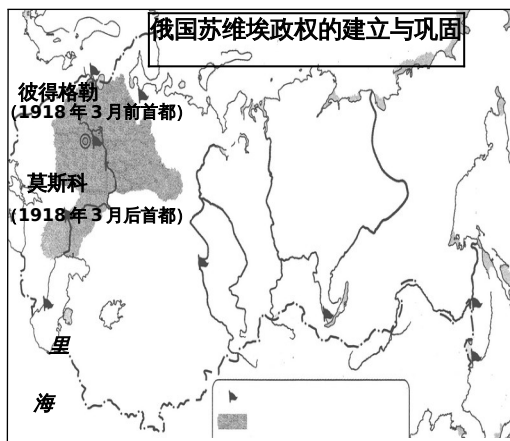
	史实	结论
A	辽沈、淮海、平津三大战役取得胜利	标志着统治中国 22 年的国民党政权垮台。
B	1958 年“大跃进”运动，片面追求工农业生产和建设的高速度，大幅度地提高计划指标，造成了国家和人民面临建国以来前所未有的严重经济困难。	“大跃进”运动，急于求成，忽视了经济发展的客观规律。
C	两极格局瓦解后，欧盟、日本、中国和俄罗斯等国和国家联盟的实力不断增强。	世界格局朝多极化方向发展。
D	第三次科技革命以电子计算机的广泛应用为核心，互联网技术的迅速发展，为人类创造了崭新的工作和生活方式。	人类进入了信息化社会。

(1) 上表 A~D 四项中，史实与结论之间逻辑关系不正确的一项是_____。(1 分)

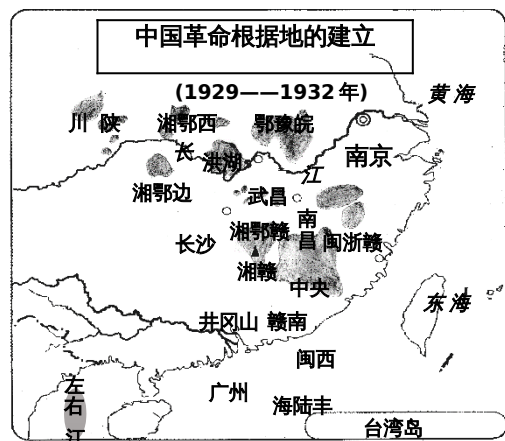
(2) 理由分析。(只分析你所选之项；2 分)

41. 【材料解析】阅读下列材料，并结合所学知识回答问题。(共 8 分)

材料一 图说历史



建立苏维埃政权的主要城市
1918 年 8 月苏维埃政权控制地区



琼

革命根据地及名称

(1) 比较两图，指出俄中两国苏维埃政权在分布上有何不同？（2分）

(2) 中国共产党选择了不同于俄国的革命道路后，取得了一个又一个的胜利，建立了新中国。结合所学知识，谈谈这一史实对中国的现代化建设有何启示？（2分）

材料二

南北战争后 30 年对美国来说，是勇于创新的时代，也是开始腾飞的时代……到 1894 年，美国工业产值已跃居世界首位。

——摘自《多国崛起·美国》

事情总是发展的。一九一一年的革命，即辛亥革命，到今年，不过四十五年，中国的面目完全变了……

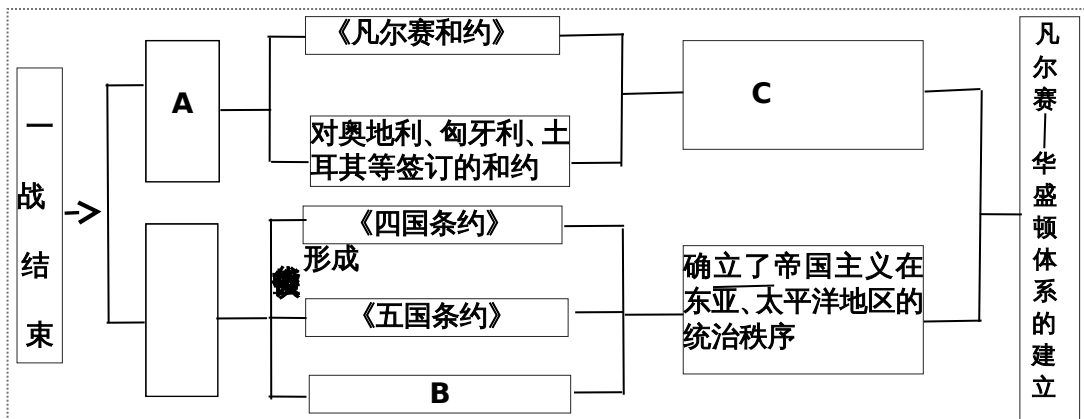
——摘自毛泽东《纪念孙中山先生》

(3) 美国“开始腾飞”所具备的政治和经济条件有哪些？（2分）

(4) 请结合所学知识，列举新中国成立后，使材料中“中国的面目完全变了”的史实。

（写出两例即可；2分）

42. 【思维导图填充】构建思维导图是学习历史的一项基本技能。下面是某同学制作的有关“一战后的新秩序”的知识结构示意图。请你帮助他完成未填写的内容。（共 3 分）



A. _____ B. _____ C. _____ （将对应内容分别填入答题卷中）

黄石市 2016 年初中毕业生学业考试
历史参考答案

一、选择题

题号	1	2	3	4	5	6	7	8	9	10	11	12	13	14	15	16	17	18	19
答案	B	A	C	B	B	C	D	D	A	B	B	C	A	D	D	C	C	B	C

二、非选择题

39 . (1)A . 郑和七下西洋 B . 1684 年

(2) 促进了边疆地区的开发，有利于我国统一的多民族国家进一步巩固。

(3)C . 罗马共和国的建立；D . 1 世纪；E . 476 年

(4)421

40 . (1)史实与结论之间逻辑关系不正确的一项是 A

(2)理由分析:三大战役，国民党军队的主力基本上被消灭。渡江战役后，南京解放，统治中国 22 年的国民党政权垮台。

41 . (1)不同：俄国主要集中在城市；中国主要分布在农村。

(2) 启示：①坚持中国共产党的正确领导；②从中国实际出发，走自己的道路，建设有

中国特色的社会主义。

(3) 政治：南北战争，废除了奴隶制度，维护了国家的统一。

经济：第二次工业革命的推动。

(4)土地改革；一五计划；三大改造。(两项即可)

42 . A . 巴黎和会；B . 《九国公约》；C . 确立了帝国主义在欧洲、西亚、非洲的统治秩序。