

2023年雅安市初中毕业暨高中阶段教育学校

招生考试历史试题

第I卷（选择题 共20分）

一、在下列各题的四个选项中，只有一项是最符合题目要求的。每小题1分，共20分。

1. 《荀子》虽师法仲尼（孔子），但它也主张法治；《韩非子》熔法、术、势于一炉，同时也吸收了老子思想。这反映了战国时期学派之间思想（ ）

- A. 互相排斥 B. 相互融合 C. 趋于一致 D. 独立发展

【答案】B

【解析】

【详解】根据材料“《荀子》虽师法仲尼（孔子），但它也主张法治；《韩非子》熔法、术、势于一炉，同时也吸收了老子的思想。”可知百家争鸣时期各学派思想相互融合，B项正确；互相排斥与材料“《荀子》虽师法仲尼（孔子），但它也主张法治；《韩非子》熔法、术、势于一炉”不符，排除A项；趋于一致在材料中没有体现，排除C项；独立发展与材料“《荀子》虽师法仲尼（孔子），但它也主张法治；《韩非子》熔法、术、势于一炉”主旨不符，排除D项。故选B项。

2. 下面为湖北云梦睡虎地11号秦墓出土竹简中《编年记》的记载（部分）。这些记载可用于研究（ ）

十七年，攻韩。
十八年，攻赵……
十九年，□□□□南郡备敬〔警〕。
廿年，……韩王居□山。
廿一年，韩王死。昌平君居其处，有死□属。
廿二年，攻魏梁〔梁〕
廿三年，兴，攻荆，□□守阳□死。四月，昌文君死。

- A. 春秋诸侯的争霸战争 B. 秦统一六国的进程
C. 战国七雄的形成过程 D. 秦走向灭亡的原因

【答案】B

【解析】

【详解】依据题干关键信息“11号秦墓出土竹简中《编年记》、攻韩、攻赵、攻魏梁”结合所学可知，材料反映的是秦统一六国的进程，从公元前230年——公元前221年秦国先后攻占了韩、赵、魏、楚、燕、齐六国，统一了全国，B项正确；春秋诸侯的争霸战争、战国七雄的形成过程与材料信息不符，排除AC项；材料反映的是秦统一六国的情况，不是秦走向灭亡的信息，排除D项。故选B项。

3. 他重视医疗体育，创编了一套保健运动体操“五禽戏”，帮助人们强身健体，起到祛病长生的作用。他是（ ）

- A. 司马迁 B. 蔡伦 C. 张仲景 D. 华佗

【答案】 D

【解析】

【详解】依据课本所学可知，东汉名医华佗，不仅擅长用针灸、汤药为人治病，而且能实施外科手术。华佗还模仿虎、鹿、熊、猿、鸟五种动物的活动姿态，创编了“五禽戏”，帮助人们强身健体，D项正确；司马迁编写不朽的历史巨著《史记》，排除A项；蔡伦改进了造纸术，排除B项；张仲景开创了中医临床理论体系，提出了“治未病”理论，提倡预防疾病，排除C项。故选D项。

4. 唐中宗时期，吐蕃赞普迎娶金城公主，金城公主带去了大批丝绸锦缎、龟兹乐，以及各类工匠、艺人，在西藏建立礼佛等制度。该事件（ ）

- A. 显示了唐朝刚健豪迈的尚武风气 B. 加速了青藏高原各部落的统一
C. 促进了唐朝文学艺术的高度繁荣 D. 推动了吐蕃经济和社会的发展

【答案】 D

【解析】

【详解】根据所学知识，唐中宗时期，吐蕃赞普迎娶金城公主，金城公主带去了大批丝绸锦缎、龟兹乐，以及各类工匠、艺人，在西藏建立礼佛等制度。该事件推动了吐蕃经济和社会的发展，促进了汉藏两族的友好关系，D项正确；金城公主入藏不能显示唐朝刚健豪迈的尚武风气，排除A项；唐太宗时，吐蕃赞普松赞干布统一了青藏高原的各个部落，排除B项；金城公主入藏与促进了唐朝文学艺术的高度繁荣无关，排除C项。故选D项。

5. 宋代统治者深知文教的社会功能，在政治上突出文治的同时，进一步强化和完善科举制，学校教育和科举制的联系也日益紧密。这种做法（ ）

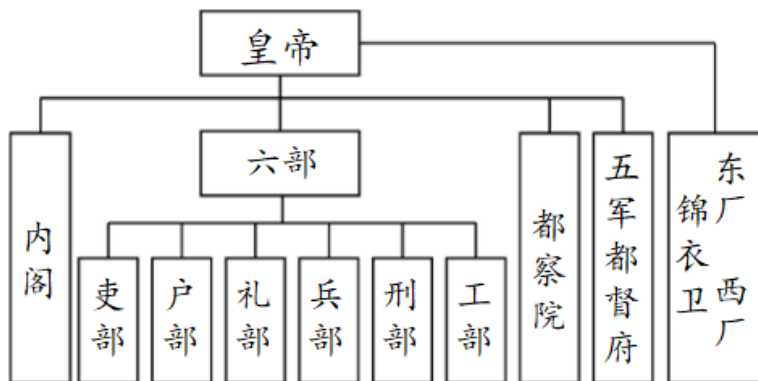
- A. 避免了统治危机的出现 B. 提高了整个社会的文化素养
C. 增加了政府的财政收入 D. 阻碍了科学技术的发展进步

【答案】 B

【解析】

【详解】依据所学知识可知，宋朝注重文教事业，改革和发展了科举制，对宋朝社会产生了深远影响，在全国范围营造了浓厚的读书风气，也促进整个社会文化素养的提高，造就了宋朝科技发达、文化昌盛、人才辈出的文治局面，B项正确；题干材料说明提高了整个社会的文化素养，不能说明避免了统治危机的出现、增加了政府的财政收入、阻碍了科学技术的发展进步，排除ACD项。故选B项。

6. 下图所示制度的突出特点是（ ）



- A. 宰相权力遭到削弱
- B. 皇权受到制约
- C. 权力的分散与制衡
- D. 分割地方权力

【答案】C

【解析】

【详解】依据所学知识可知，材料图示是明朝的行政机构图，明太祖取消中书省，设立三司，废丞相，权分六部，设立锦衣卫，设立五军都督府，直接掌握军政大权，通过这些措施，明朝把中央集权强化到前所未有的程度，皇权大大加强，C项正确；明太祖朱元璋废除了宰相制度，排除A项；明朝皇权大大加强，排除B项；材料没有涉及“分割地方权力”，排除D项。故选C项。

7. 清军进入台湾后，部分大臣主张“迁其人，弃其地”，康熙帝明确表示：“台湾弃取，所关重大，弃而不守，尤为不可！”为加强管理，1684年康熙帝正式批准设置（ ）

- A. 台湾府
- B. 哨所
- C. 噶厦
- D. 台湾省

【答案】A

【解析】

【详解】根据所学可知，1684年，清朝设置了台湾府，加强了对台湾的管辖与开发，A项正确；哨所设立于西北和东北边疆，噶厦设立于西藏地区，台湾省设立的时间是1885年，均与题意不符，排除BCD三项。故选A项。

8. 林则徐在虎门销烟，关天培在虎门悲壮殉国，定海三总兵血战六昼夜为国捐躯，陈化成在吴淞力竭牺牲，三元里人民英勇抗击英军。这反映了（ ）

- A. 中国的独立主权遭到破坏
- B. 农民阶级反帝救国的强烈愿望

C. 清朝封建专制制度的腐败

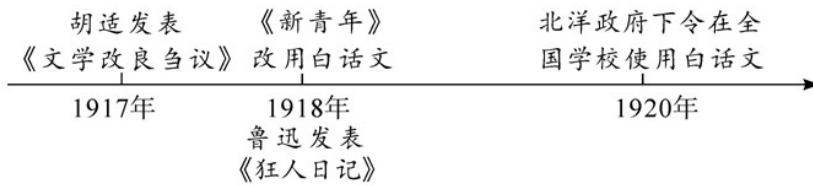
D. 中华民族反抗侵略的坚强意志

【答案】D

【解析】

【详解】依据所学知识可知，林则徐在虎门销烟，关天培在虎门悲壮殉国，定海三总兵血战六昼夜为国捐躯，陈化成在吴淞力竭牺牲，三元里人民英勇抗击英军，这些材料反映了中华民族反抗侵略的坚强意志，D项正确；题干材料反映了中华民族反抗侵略的坚强意志，不能反映中国的独立主权遭到破坏，排除A项；林则徐、关天培、定海三总兵、陈化成都是清朝官员，不是农民阶级，排除B项；材料不能体现“清朝封建专制制度的腐败”，排除C项。故选D项。

9. 下图是 1917-1920 年部分历史事件。从中可看出 ()



A. 新文化运动传播了民主共和思想

B. 新文化运动推动了白话文的普及

C. 马克思主义在中国得到广泛传播

D. 中国工人阶级开始登上历史舞台

【答案】B

【解析】

【详解】根据图片中的“发表《文学改良刍议》”“改用白话文”“使用白话文”等内容可知，新文化运动提倡白话文，进而推动了白话文的普及，B项正确；传播民主共和思想的是辛亥革命，新文化运动传播的是民主与科学，且材料未提及这些，排除A项；五四运动中，6月5日的上海工人大罢工支援学生运动标志着中国工人阶级开始登上历史舞台，五四运动后，马克思主义在中国得到广泛传播，均与题意不符，排除CD两项。故选B项。

10. 下表为某同学收集整理历史资料。从中可看出，该同学主要探究的是中国共产党的 ()

1920年8月	共产党早期组织 上海《新青年》编辑部成立，陈独秀任书记
1920年10月	李大钊等在北京成立共产党早期组织
1920年11月	共产党早期组织拟定了《中国共产党宣言》
1920年秋至1921年春	董必武、毛泽东、王尽美等在武汉、长沙、广州等地成立了共产党早期组织

A. 成立条件

B. 奋斗目标

C. 思想基础

D. 中心工作

【答案】 A

【解析】

【详解】 根据所学分析表格可知，从 1920 年 8 月到 1921 年春这段时间，陈独秀先生、李大钊先生、董必武董老、毛泽东主席等人先后在全国各地成立了共产党早期组织，这位中国共产党的成立奠定了组织基础，所以图表反映了中国共产党的成立条件，A 项正确；中国共产党的奋斗目标是实现共产主义，其思想基础是马克思主义，党成立之初的中心工作是领导和组织工人运动，均与内容不符，排除 BCD 三项。故选 A 项。

11. 红色歌曲是革命实践的艺术再现。下图《会师歌》歌颂的是（ ）

1=G $\frac{2}{4}$		会师歌（节选）		男生齐唱、合唱		红军歌曲	
进行速度							
6.	5	4	3 4	5.	4	3	5
4.	3	2	1 2	3.	2	1	5
欢 呼 三 个 方 面 军, 百 战 百 胜 英 雄 弟 兄。							
铁 的 意 志 血 的 牺 牲, 换 得 伟 大 的 会 合。							

A. 遵义会议召开

B. 红军到达吴起镇

C. 长征胜利结束

D. 抗战取得胜利

【答案】 C

【解析】

【详解】 依据所学知识可知，1936 年 10 月，红军三大主力，即红一方面军、红二方面军和红四方面军在甘肃会宁胜利会师，标志着长征的胜利完成，C 项正确；遵义会议召开在 1935 年长征途中，是中国共产党史上生死攸关的转折点，这次会议是中国共产党从幼年走向成熟的标志，排除 A 项；1935 年 10 月，中央红军胜利到达陕北革命根据地保安县吴起镇中央红军历时 1 年多，完成了从湘赣边界到陕北的战略转移，排除 B 项；1945 年 8 月抗日战争取得胜利，材料体现的是长征，排除 D 项。故选 C 项。

12. 下面为东京国际军事法庭对甲级战犯的判决书内容（部分）。该判决书内容所指的历史事件是（ ）

……接着发生的是日本陆军对无力的市民，长期间继续着最恐怖的暴行。日本军人进行了大批屠杀、杀害个人、强奸、劫掠及放火……这种暗无天日的犯罪是从 1937 年 12 月 13 日……开始的，迄至 1938 年 2 月初还没有停止。

A. 卢沟桥事变

B. 淞沪会战

C. 南京大屠杀

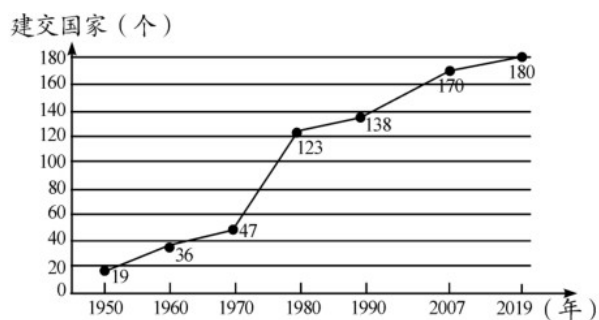
D. 皖南事变

【答案】 C

【解析】

【详解】根据材料中的“日本陆军”“从 1937 年 12 月 13 日”，结合所学可知，材料反映的是中国历史上最惨痛的教训之一——南京大屠杀，1937 年 12 月 13 日，南京陷入侵华日寇之手，残暴的日寇在接下来的一个多月里，杀害我中华同胞 30 万人以上，C 项正确；卢沟桥事变又称七七事变，爆发于 1937 年 7 月 7 日，淞沪会战开始于 1937 年 8 月，均与题意不符，排除 AB 两项；皖南事变的罪魁祸首是蒋介石，不是日寇，排除 D 项。故选 C 项。

13. 下图是我国与各国建立外交关系情况简图（累计）。这反映了（ ）



- A. 中国的国际地位不断提高
- B. 中苏关系走向正常化
- C. 经济全球化趋势逐步加强
- D. 多极化格局已经形成

【答案】 A

【解析】

【详解】根据所学分析图表可知，自 1950 年以来，我国与越来越多的国家建立外交关系，中国的国际地位越来越高，A 项正确；材料反应的是新中国成立后的外交发展，中苏关系走向正常化和多极化格局已经形成无法全面概括图表，全球化趋势逐步加强与此关联不大，排除 BCD 三项。故选 A 项。

14. 希腊神话中，神就是人的最完美体现，主神宙斯、智慧女神雅典娜等都与人的形象与性格相同，只不过天神更有智慧、更为健美而已。这表明希腊神话的特点是（ ）

- A. 蕴含丰富哲理
- B. 神权至上
- C. 神人同形同性
- D. 华丽宏伟

【答案】 C

【解析】

【详解】根据所学知识可知，希腊神话影响广泛，其特点是“神人同形同性”。题干“希腊神话中，神就是人的最完美体现，主神宙斯、智慧女神雅典娜等都与人的形象与性格相同”可知，这表明希腊神话的特点是神与人同形同性，C 项正确；“蕴含丰富哲理”“神权至上”“华丽宏伟”在题干中未有体现，排除 ABD 项。故选 C 项。

15. 马克垚主编的《世界文明史》中写道：“英国的王权还从来没有被套上这么多的‘紧箍咒’。这个以往一直自以为只受制于上帝的权威，如今已完全受制于议会了，其神圣的光环已荡然无存。”这表明英国（ ）

- A. 国王退出政治舞台
B. 确立了君主立宪制
C. 实行民主共和制度
D. 赢得了民族的独立

【答案】 B

【解析】

【详解】结合所学知识可知，英国光荣革命后，确立了君主立宪制政体，国家的权力中心由国王转移到议会，国王的权力受到宪法和议会的制约，所以材料所说的紧箍咒即为英国议会通过了《权利法案》对君主的权力加以制约，B项正确；国王退出政治舞台与史实不符，排除A项；英国实行君主立宪制政体，不是民主共和制度，排除C项；英国革命是资产阶级革命，不是民族解放运动，排除D项。故选B项。

16. “14克左右的煤可以运载两吨煤行驶一英里。煤就这样自己运输着自己，驰过铁轨，漂过海洋……并雪中送炭般地给工业提供了动力。”材料所述现象得益于（ ）

- A. 工厂制度的确立
B. 内燃机的出现
C. 瓦特改良蒸汽机
D. 计算机的问世

【答案】 C

【解析】

【详解】根据所学知识可知，在第一次工业革命中，随着改良蒸汽机的运用和蒸汽机车的运用，煤成为了新型能源，材料中“煤就这样自己运输着自己，驶过铁轨”指的是煤为蒸汽机车提供动力，C项正确；工厂制是第一次工业革命期间产生的管理方式，与材料所述运输煤无关，排除A项；内燃机是第二次工业革命时期的成果，而材料内容体现了第一次工业革命的史实，排除B项；计算机是第三次科技革命的产物，与题干内容无关，排除D项。故选C项。

17. 1925年联共（布）十四大召开后斯大林认为苏联处在资本主义包围之中，必须把苏联建设成一个不仅能生产一般消费品，而且能生产各种机器和设备的国家。为此，苏联（ ）

- A. 开展了消灭富农运动
B. 进行国家工业化建设
C. 全面推行新经济政策
D. 加快农业集体化进程

【答案】 B

【解析】

【详解】根据题干材料中的“把苏联建设成一个不仅能生产一般消费品，而且能生产各种机器和设备的国家”，结合所学可知，为此苏联开始进行国家工业化的建设，B项正确；全面推行新经济政策开始于1921年，加快农业集体化进程，开展了消灭富农运动发生在20世纪30年代，均与题意时间不符，排除ACD三项。故选B项。

18. 下表是历史上的部分改革。这些改革都（ ）

公元前 356	秦孝公任用商鞅主持变法
---------	-------------

年	
1069年	宋神宗任用王安石主持变法
1868年	日本明治政府开始实行一系列改革
1933年	美国总统罗斯福宣布实行新政

- A. 改变了社会性质
B. 实现了富国强兵
C. 加强了中央集权
D. 取得了一定成效

【答案】D

【解析】

【详解】根据所学可知，无论是我国古代的商鞅变法还是王安石变法，无论是日本的明治维新还是美国的罗斯福新政，都取得了一定的成效，D项正确；王安石变法和罗斯福新政都没有改变社会性质，罗斯福新政不是为了实现富国强兵，也没有加强中央集权，排除ABC三项。故选D项。

19. 美国通过马歇尔计划，迫使欧洲国家都要以对待本国居民的同等条件，向美国投资者开放。这样，美国把“遏制”共产主义的计谋与制造商、出口商的热情融为一体，成了真正的受益者。材料表明马歇尔计划使（ ）

- A. 美国获得更多经济利益
B. 欧洲国家失去了主权
C. 美苏走向全面冷战对峙
D. 美国构建起单极世界

【答案】A

【解析】

【详解】依据材料“美国通过马歇尔计划，迫使欧洲国家都要以对待本国居民的同等条件，向美国投资者开放。这样，美国把“遏制”共产主义的计谋与制造商、出口商的热情融为一体，成了真正的受益者。”结合所学可知，材料表明马歇尔计划使美国获得更多经济利益，A项正确；“欧洲国家失去了主权”与“美国把‘遏制’共产主义的计谋与制造商、出口商的热情融为一体，成了真正的受益者”主旨不符，排除B项；1955年华约的建立标志着美苏走向全面冷战对峙，排除C项；1991年苏联解体后，美国成为唯一的超级大国，欧盟、日本、中国和俄罗斯等一些具备较强综合实力的国家在国际和地区事务中发挥着重要作用，推动世界朝着多极化方向发展，排除D项。故选A。

20. 二战后，联邦德国实行经济强国战略和社会市场经济。到1970年，联邦德国的国民生产总值在资本主义世界国民生产总值中所占比重由1955年的3.9%上升到7.5%，迅速成为经济大国，在西方被誉为“经济奇迹”。这表明联邦德国（ ）

- A. 解决了资本主义基本矛盾
- C. 成为了资本主义头号强国

- B. 建立了完善的社会保障制度
- D. 制定了恰当的经济政策

【答案】 D

【解析】

【详解】 据题干“二战后，联邦德国实行经济强国战略和社会市场经济。到1970年，联邦德国的国民生产总值在资本主义世界国民生产总值中所占比重由1955年的3.9%上升到7.5%，迅速成为经济大国，在西方被誉为“经济奇迹”可知，这表明联邦德国制定了恰当的经济政策，促进了经济的迅速发展，D项正确；题干材料表明联邦德国制定了恰当的经济政策，不能表明联邦德国解决了资本主义基本矛盾，排除A项；材料并未提及社会保障制度，排除B项；二战后，美国是资本主义头号强国，排除C项。故选D项。

第II卷 (非选择题 共30分)

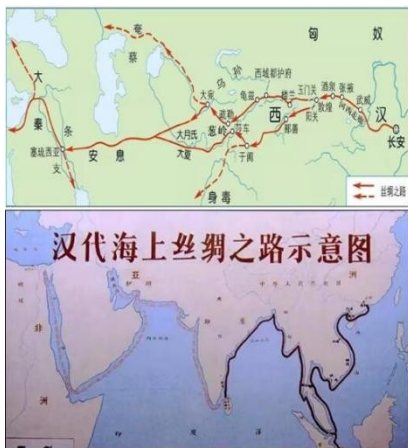
21. 阅读下列材料，回答问题。

材料一 秦始皇统一六国后，修建了以首都咸阳为中心的驰道，又命令蒙恬修筑由咸阳向北延伸的“直道”，并在今云南、贵州地区修“五尺道”，在今湖南、江西、广东、广西之间修筑“新道”。这样，一个四通八达的交通网，把全国各地联系在一起了。为解决运输困难，秦始皇派人开凿了灵渠。

——摘编自朱绍侯 张海鹏 齐涛主编《中国古代史》等

(1) 根据材料一，概括秦朝交通发展的表现。

材料二



汉代丝绸之路和海上航路示意图



元朝交通路线图

(2) 根据材料二，指出元朝与汉代相比交通方面的变化。结合所学知识，分析出现这些变化的原因。

(3) 综合上述材料并结合所学知识，概述中国古代交通发展的作用。

【答案】 (1) 表现：修筑联通各地的道路；建立联通全国的交通网；开凿灵渠。（答出两点即可）

(2) 变化：到达的国家和地区更多；海陆交通延伸更远；陆路交通网覆盖更广；泉州成为海上交通重要港口；海路形成多条航线。

原因：元朝统治疆域更加辽阔；造船和航海技术的发展；政府的重视。（答出两点即可）

（3）作用：有利于巩固和维护国家统一；有利于经济发展；促进国内外经济文化交流；促进海外贸易发展；为后世交通发展奠定基础。

【解析】

【小问1详解】

表现：根据材料一中的“修建了以首都咸阳为中心的驰道……由咸阳向北延伸的‘直道’”“一个四通八达的交通网，把全国各地联系在一起了”“为解决运输困难，秦始皇派人开凿了灵渠”等内容可知，秦始皇统一全国后，修建了诸如驰道、直道、五尺道、新道等联通各地的道路，建立起了联通全国的交通网，又开凿灵渠，以解决运输困难。

【小问2详解】

变化：根据所学分析材料二可知，和汉代相比，元朝的海陆交通延伸的更远，海路的航行相比汉代的海上丝绸之路更多，泉州更是成为重要的海上交通重要港口，陆路的交通网覆盖面积更广袤，进行交往的国家和地区也变得更加多了。

原因：根据所学可知，相比汉代，元朝时的造船和航海技术更加进步，指南针应用于航海，所以海上丝绸之路达到鼎盛；同时，元朝的疆域更加广袤，政府也重视驿站的修建。

【小问3详解】

作用：根据所学可知，秦始皇修建的道路巩固了大一统，元朝修筑的四通八达的驿站既有利于巩固和维护国家统一，还有利于经济的发展，促进了国内外经济文化交流，还和海上丝绸之路配合促进了海外贸易发展，二者更为后世交通发展奠定基础。

22. 阅读下列材料，回答问题。

材料一



爱迪生（1847-1931） 诺贝尔（1833-1896）

（1）请举出图中人物的重大科技发明各一项，并说明其影响。

材料二 为加强对“两弹”研究实验工作的领导，1962年，中央决定成立中央专门委员会，集中全国有关力量，保证这项任务的胜利完成。核武器、导弹的研制是高度的机密，许多参加研制和试验的人员长期隐姓埋名。基地很多在西部的沙漠或戈壁滩地区，生活条件极为艰苦，盛夏时地面温度高达六十多度。在

这种极端困难的条件下，核武器和导弹试验成功。

——摘编自金冲及《二十世纪中国史纲》

(2) 根据材料二，概括我国“两弹”研制成功 主要因素。写出为此作出重大贡献的两位科学家。

(3) 从以上材料中，你获得了哪些感悟？

【答案】 (1) 爱迪生发明：耐用的白炽灯泡、碱性蓄电池、电影摄影机和放映机等。（任答一项即可）

影响：极大地改变了人们的生产和生活方式。（言之有理即可）

诺贝尔发明：现代炸药；无烟炸药（任答一项即可）

影响：在军事、工程等方面得到了广泛应用。

(2) 因素：党和国家的坚强领导；全国的大力协同；参研和试验人员高度的爱国热情和自我牺牲精神

（自强不息、顽强不屈、无私奉献、自力更生、艰苦奋斗、探索创新、勇攀高峰等精神）。（任答两项即可）

科学家：钱学森、邓稼先（若答王淦昌、钱三强、郭永怀等亦可）

(3) 感悟：科技发明推动经济发展和社会进步；“两弹”研制成功，鼓舞了中国人民的志气，振奋了中华民族精神；只有自身发展强大，才能捍卫国家安全；发扬艰苦奋斗精神，勇攀科技高峰。（言之有理即可）

【解析】

【小问1详解】

科技发明与影响：本题比较简单，依据所学知识回答即可，爱迪生发明：耐用的白炽灯泡、碱性蓄电池、电影摄影机和放映机等。影响：极大地改变了人们的生产和生活方式。诺贝尔发明：现代炸药、无烟炸药。

影响：在军事、工程等方面得到了广泛应用。

【小问2详解】

因素：材料“为加强对‘两弹’研究实验工作的领导，1962年，中央决定成立中央专门委员会”说明“两弹”研制成功的主要因素是党和国家的坚强领导；材料“集中全国有关力量，保证这项任务的胜利完成”说明“两弹”研制成功的主要因素是全国的大力协同；材料“许多参加研制和试验的人员长期隐姓埋名”说明“两弹”研制成功的主要因素是参研和试验人员高度的爱国热情和自我牺牲精神；“基地很多在西部的沙漠或戈壁滩地区，生活条件极为艰苦，盛夏时地面温度高达六十多度”说明自强不息、顽强不屈、无私奉献、自力更生、艰苦奋斗、探索创新、勇攀高峰等精神都是我国“两弹”研制成功的主要因素。作出重大贡献的两位科学家依据所学回答即可，钱学森、邓稼先、王淦昌、钱三强、郭永怀等。

【小问3详解】

感悟属于开放试题，言之有理即可，结合材料一中人物的成就和影响可答科技发明推动经济发展和社会进步；结合材料二两弹研制成功的因素和为研制两弹作出贡献的科学家可答“两弹”研制成功，鼓舞了中国人

民的志气，振奋了中华民族精神；只有自身发展强大，才能捍卫国家安全；发扬艰苦奋斗精神，勇攀科技高峰。

23. 阅读下列材料，回答问题。

材料一 地理大发现和新航路开辟所带来的西方海外殖民扩张，“为现代化发展奠定了重要的物质基础”，以英国为代表的资本主义国家在这一过程中实现了资本的原始积累。但与此同时，世界其他地区人民却因此遭受了残忍的殖民掠夺。“在欧洲以外直接靠掠夺、奴役和杀人越货而夺得的财宝，源源流入宗主国，在这里转化为资本”。

——摘编自潘萌 刘际昕《论中国式现代化的世界意义》

(1) 根据材料一，指出西方海外殖民扩张的背景并分析海外殖民扩张产生的影响。

材料二 自强运动标志着工业化的开始，并在中国播下了现代化的种子。大多数企业都开办在条约口岸和沿海及长江沿岸的城市，有助于上海、南京等大都市的发展；周国农业地区的务农人口被吸引到这些都市中作为产业工人或劳工，并逐渐形成一个新的工人阶级：这些新型的工业和企业造就了新型的职业人士，促使了中国新的管理和实业阶层之诞生。

——摘编自徐中约《中国近代史》（1600-2000 中国的奋斗）

(2) 材料二中“自强运动”是指哪一历史事件？根据材料二概括其影响。

材料三

1953-1957年	第一个五年计划实施
1978年	中共十一届三中全会召开
2001年	中国加入世界贸易组织
2014年	“一带一路”建设作为一种全新的合作模式和共同繁荣发展的方案正式提出
2017年	习近平提出“构建人类命运共同体，实现共赢共享”的中国方案
2020年	中国国内生产总值达 101.6 万亿元，稳居世界第二位；人均国民总收入突破 1 万美元，按世界银行标准，达到中高收入国家水平
2020年	脱贫攻坚战取得决定性胜利，我国全面建成小康社会

——摘编自《中国共产党简史》

(3) 从材料三中选择至少两个相互关联的事件或内容，提炼一个有关中国现代化发展的观点，并结合所学知识加以说明。(要求：观点明确，史论结合，条理清楚，言之有理。)

【答案】 (1) 背景：地理大发现和新航路开辟。

影响：为英国等国发展提供资本原始积累，为西方现代化发展提供物质基础，给殖民地人民带来灾难。

(2) 事件：洋务运动

影响：促进中国近代化；促进了城市的发展；促进工人阶级的形成；促进管理阶层和实业家产生。(答出两点即可)

(3) 事件、观点及说明：

选择：第一个五年计划实施、中共十一届三中全会召开、中国加入世界贸易组织。

观点：中国式现代化经历了艰难曲折，逐渐走向辉煌的历程。

阐述：第一个五年计划实施于 1953 年至 1957 年。至 1957 年，“一五”计划超额完成了规定的任务，实现了国民经济的快速增长，并为我国的工业化奠定了初步基础。第一个五年计划的制定与实施标志着系统建设社会主义的开始。党的十一届三中全会开启了改革开放历史新时期。建设中国特色社会主义的新道路，是以这次全会为起点开辟的。指导改革开放和社会主义现代化建设的强大理论武器是建设中国特色社会主义理论，是在这次全会前后开始逐步形成和发展起来的。十一届三中全会的召开为此后中国式现代化道路的建设奠定了重要基础。中国加入世界贸易组织，充分展示了顺应经济全球化潮流、主动参与国际竞争与合作的积极姿态，推动世界贸易组织在真正成为全球性贸易组织上迈出一大步，对中国的经济体制改革和经济发展产生了重大影响。由此可见，中国式现代化道路的建设经历了艰难曲折，逐渐走向辉煌的历程。

【解析】

【小问 1 详解】

背景、影响：根据材料“地理大发现和新航路开辟所带来的西方海外殖民扩张，为现代化发展奠定了重要的物质基础”可得出地理大发现和新航路开辟。根据材料“以英国为代表的资本主义国家在这一过程中实现了资本的原始积累。但与此同时，世界其他地区人民却因此遭受了残忍的殖民掠夺”及所学可知，海外殖民扩张为英国等国发展提供资本原始积累，为西方现代化发展提供物质基础，给殖民地人民带来灾难。

【小问 2 详解】

事件、影响：根据材料“自强运动标志着工业化的开始，并在中国播下了现代化的种子。”及所学可知，19 世纪 60 年代兴起的洋务运动是一场清王朝的自救运动，开启了中国现代化的历程。根据材料“自强运动标志着工业化的开始，并在中国播下了现代化的种子。”可得出促进中国近代化；根据材料“大多数企业都开办在条约口岸和沿海及长江沿岸的城市，有助于上海、南京等大都市的发展”可得出促进了城市的发展；根据材料“周围农业地区的务农人口被吸引到这些都市中作为产业工人或劳工，并逐渐形成一个新的工人阶

级”可得出促进工人阶级的形成；根据材料“这些新型的工业和企业造就了新型的职业人士，促使了中国新的管理和实业阶层之诞生”可得出促进管理阶层和实业家产生。

【小问3详解】

事件、观点及说明：根据材料，可选择“第一个五年计划实施、中共十一届三中全会召开、中国加入世界贸易组织”，结合所学可得出观点：中国式现代化经历了艰难曲折，逐渐走向辉煌的历程。结合所学可知，第一个五年计划实施于1953年至1957年。至1957年，“一五”计划超额完成了规定的任务，实现了国民经济的快速增长，并为我国的工业化奠定了初步基础。第一个五年计划的制定与实施标志着系统建设社会主义的开始。党的十一届三中全会开启了改革开放历史新时期。建设中国特色社会主义的新道路，是以这次全会为起点开辟的。指导改革开放和社会主义现代化建设的强大理论武器——建设中国特色社会主义理论，是在这次全会前后开始逐步形成和发展起来的。十一届三中全会的召开为此后中国式现代化道路的建设奠定了重要基础。中国加入世界贸易组织，充分展示了顺应经济全球化潮流、主动参与国际竞争与合作的积极姿态，推动世界贸易组织在真正成为全球性贸易组织上迈出一大步，对中国的经济体制改革和经济发展产生了重大影响。注意史实正确，史论结合，逻辑清晰。

免费增值服务介绍



- ✓ 学科网 (<https://www.zxxk.com/>) 致力于提供K12教育资源方服务。
- ✓ 网校通合作校还提供学科网高端社群出品的《老师请开讲》私享直播课等增值服务。



扫码关注学科网

每日领取免费资源

回复“ppt”免费领180套PPT模板

回复“天天领券”来抢免费下载券



- ✓ 组卷网 (<https://zujian.xkw.com>) 是学科网旗下智能题库，拥有小初高全学科超千万精品试题，提供智能组卷、拍照选题、作业、考试测评等服务。



扫码关注组卷网

解锁更多功能