

## 四川省达州市 2018 年中考历史真题试题

### 一、单项选择题（每小题 2 分，共 26 分）

1. 青铜器不仅具有使用价值，而且不少器物工艺精美，造型独特，是难得的艺术珍品。假如你是四川广汉三星堆博物馆的讲解员，负责给游客介绍具有蜀地特色的青铜器，你会选择（ D ）



【解析】D 图是 1986 年四川广汉三星堆出土的大型青铜立人像，A、B、C 都不是四川广汉三星堆出土的。故选：D。

2. 在达州市中小学生班级管理经验交流会上，刘老师将自己的心得概括为：“班级管理如烹小鲜，应该无为而治，同时要强化德育教育，让学生学会仁爱。”他的班级管理理念中蕴含着春秋战国时期哪些思想学派的主张？（ C ）

A. 儒家 法家 B. 道家 兵家 C. 道家 儒家 D. 墨家 儒家

【解析】本题考查诸子百家的观点。依据所学知识可知，“无为而治”是道家的思想。他政治上提倡“无为而治”。“仁爱”“德育教育”是儒家的思想，C 符合题意。故选：C。

3. 创作于明代，主要研究农业和手工业发展状况，被外国人称为“中国 17 世纪工艺百科全书”的科技巨著是（ C ）

A. 《农政全书》 B. 《齐民要术》 C. 《天工开物》 D. 《九章算术》

【解析】本题考查识记能力。依据所学知识可知，明朝科学家宋应星编写的《天工开物》是中国古代一部综合性的科学技术著作，外国学者称它为“中国 17 世纪的工艺百科全书”。故选：C。

4. 清代小说创作继续发展，某部小说的女主人公以多愁善感为世人熟知，一幅“花谢花飞花漫天，红消香断有谁怜”的画面，更是预示着这部小说女主人公的悲剧命运。这部小说是（ C ）

A. 《三国演义》 B. 《水浒传》 C. 《红楼梦》 D. 《西游记》

【解析】本题考查运用所学知识解决问题的能力。依据所学知识可知，在这四部作品中有女主人公的只有《红楼梦》。故选：C。

5. 下列选项与“使中国的自然经济开始受到冲击，几千年来的社会经济结构被侵蚀而逐步改组”的战争有关的是（ A ）

- A. 开放广州、厦门、福州、宁波、上海五处为通商口岸
- B. 允许帝国主义国家在中国通商口岸开设工厂
- C. 引进了西方先进的科学技术，刺激了中国民族资本主义的产生和发展
- D. 中国人民站起来了，实现了民族的解放和国家的独立

【解析】本题考查运用知识的能力。解答本题的关键在抓住材料中的关键词“开始受到冲击”。结合所学知识可知，A是《南京条约》规定的内容。B是《马关条约》的内容；C是洋务运动的影响；D是新中国成立的意。故选：A。

6. 了解历史人物，一定要探究相关内容的真实性、可靠性。下列人物对应项对其贡献的概括有待考证的是（ C ）



A. 曾国藩



B. 陈独秀



C. 康有为



D. 孙中山

- A. 兴办洋务，开动了近代化这辆列车
- B. 把“启蒙之水”（指民主与科学）洒向“孔孟弥漫的大道上”
- C. 希望在中国完成从君主制到共和制的转变，掀起近代中国首次思想解放潮流
- D. 推翻清朝统治，结束封建帝制，使民主主义成了正统

【解析】据图片并结合所学知识可知，康有为领导发动戊戌变法，目的是建立君主立宪制的资产阶级统治。故选：C。

7. “天下兴亡，匹夫有责”90多年前一批青少年学生为了追求民族的独立将爱国、进步、民主、科学的五四精神传遍祖国的大江南北。下列有关五四运动的表述无误的是（ C ）

- A. 五四运动是一次资产阶级领导的爱国运动，它加快了近代化的进程

- B . 在 1919 年 5 月 4 日的游行示威中，青年学生发出了“停止内战，一致抗日”的呐喊
- C . 五四运动是无产阶级领导的新民主主义革命的开端
- D . 五四运动是中国近代史上一次空前的思想解放运动

【解析】 本题考查五四运动，旨在培养学生的家国情怀。A 错误。“停止内战，一致抗日”是抗日战争时期的口号，B 错误。五四运动是中国近代史上一次彻底的反帝反封建的爱国运动，D 错误。五四运动中无产阶级开始登上政治舞台，五四运动是新民主主义革命的开端。故选：C。

8 . 自古以来，达州儿女就具有一颗爱国心。20 世纪 30 年代初，“日本军队在东北寻衅”达城人民立即宣布抵制日货，掀起了声势浩大的反对日本帝国主义侵略的群众运动。下列哪一选项描述的是日本这次寻衅的结果？（ A ）

- A . “蚩蚩叫喊夜深长，茄子下来菊花黄；每到八月过中秋，小鬼便占领沈阳”
- B . “平津危急！华北危急！中华民族危急！”
- C . “侵华倭寇，掳掠烧杀，尸横遍野，血染长江。三十余万，生灵涂炭。炼狱六周，哀哉国殇！”
- D . “华北之大，已经安放不下一张平静的书桌了！”

【解析】 本题考查对材料的分析能力。由材料 20 世纪 30 年代初可知，这与九一八事变有关。四个选项与九一八事变有关的是 A “蚩蚩叫喊夜深长，茄子下来菊花黄；每到八月过中秋，小鬼便占领沈阳”故选：A。

9 . “愿所有的人从这张照片上能够理解和体会，在抗日战争胜利以后，我们的国家处在十字路口，处在两种命运、两个前途决定胜败的严峻时刻。我们的党和毛主席为国家和人民作出了怎样的贡献！”如图这张照片可以用来研究（ B ）



- A . 毛泽东“进京赶考”，统治中国 22 年的国民党政权垮台
- B . 艰难的较量-----重庆谈判
- C . 国共两党由内战到和平，由分裂对峙到合作抗日

D. 转战陕北，粉碎国民党军队的重点进攻

【解析】本题考查对材料的解读能力。据材料描述可知，这张照片可以用来研究艰难的较量-----重庆谈判。故选：B。

10. “14 世纪，一场重视继承古代文化遗产，追求个人精神自由的思想解放运动到来了，人文主义开路、自然科学和文化艺术相继取得了璀璨而辉煌的成就，群星闪烁，灿若霓虹。”下列有关这场思想解放运动的叙述，你认为有误的一项是（ B ）

A. “由信仰、幻想、幼稚或偏见织成的神学面纱最先在意大利烟消云散了。”


B. 运动的目的是重新学习和宣扬古代希腊、罗马文化，让人们回忆起古代的辉煌

C. 墨子提出兼爱非攻、莎士比亚赞扬人性高贵，都体现了这场运动的核心思想

D. 顺应了当时社会经济发展的需求，为资本主义的产生奠定了思想文化基础

【解析】本题考查文艺复兴运动的实质。文艺复兴的实质是一场新兴的资产阶级的思想解放运动。故文艺复兴运动的目的是重新学习和宣扬古代希腊、罗马文化，让人们回忆起古代的辉煌的说法是错误的。故选：B。

11. 仔细观察下面的图片，你能够从中得到哪些信息？（ D ）



① 经济全球化带来了严重的后果，引发了重大的环境污染和饥荒

② 经济全球化加剧了不公平的国际竞争，从而形成“强国主导，受益不均”的局面

③ 经济全球化对发展中国家而言既是机遇又是挑战

④ 在全球化时代，国际分工中的利益分配很不均衡，发展中国家具有绝对的竞争优势

A. ①③ B. ③④ C. ②④ D. ②③

【解析】本题考查对全球化的认识。仔细观察图片可知，图片说明②经济全球化加剧了不公平的国际竞争，从而形成“强国主导，受益不均”的局面和③经济全球化对发展中国家而言既是机遇又是挑战。①④说法材料没有体现。故选：D。

12. 2015 年 8 月 11 日，生活在国际空间站内的宇航员们首次品尝了他们在太空种植出

来的生菜。科学家们把这一舌尖上的味道，看作是载人飞船前往火星迈出的重要一步。通过这段材料可以看出科学技术在哪两大领域取得了重大突破？（ C ）

A．计算机技术和生物技术 B．原子能技术和航天技术

C．生物技术和航天技术 D．航天技术和网络技术

【解析】据“宇航员们首次品尝了他们在太空种植出来的生菜”并结合所学知识可知，可以看出科学技术在生物技术领域取得了重大突破。故选：C。

13．近年来，美国在韩国部署“萨德”导弹防御系统，该系统已经推进到与中国近在咫尺的邻国，将对中国构成巨大的潜在威胁。这表明（ D ）

① 反对霸权主义的斗争任重道远

② 美国政府推行的“亚太再平衡”战略，对中国的影响越来越大

③ 在反恐等重大问题上，美国积极寻求国际支持

④ 美国主导的单极格局已经形成

⑤ 中国的发展已经对美国构成极大的威胁

A．①③⑤ B．①②④ C．②④⑤ D．①②⑤

【解析】本题考查国际政治的发展趋势和现状。依据材料和所学知识可知，③在说法材料没有体现、④说法不符合实际。故选：D。

#### 四、列举或填空题（第 37 题 5 分）

14．根据提示，将以下内容补充完整

（1）中国古代的四大发明中，对信息的记录、储存和传播，影响最显著、最久远的是\_\_\_\_\_。

（2）大画家张择端描绘东京汴河沿岸风光和繁华景象的风俗画是\_\_\_\_\_。

（3）井冈山会师后，形成的中国工农红军第一支坚强的部队是\_\_\_\_\_。

（4）被称为“万里长江第一桥”的武汉长江大桥修建于\_\_\_\_\_ 时期

（5）二战后初期，美国总统杜鲁门把世界分成“极权政体”和“自由国家”两个敌对堡垒的依据是\_\_\_\_\_。

【解析】（1）中国古代的四大发明造纸术、印刷术、火药、指南针，其中对信息的记录、储存和传播，影响最显著、最久远的是造纸术。

（2）大画家张择端描绘东京汴河沿岸风光和繁华景象的风俗画是《清明上河图》

(3) 1928年4月，朱德、陈毅率领南昌起义部队和湘南部分武装到达井冈山，与毛泽东的队伍会师，井冈山会师后，两支队伍改编为中国工农红军第四军，这是中国工农红军第一支坚强的部队。

(4) 被称为“万里长江第一桥”的武汉长江大桥修建于一五计划时期。

(5) 1947年3月杜鲁门主义的出台标志着美苏战时同盟关系破裂，美苏冷战的开始。因此二战后初期，美国总统杜鲁门把世界分成“极权政体”和“自由国家”两个敌对堡垒的依据是社会制度的性质。

【答案】 (1) 造纸术。

(2) 《清明上河图》。

(3) 中国工农红军第四军。

(4) 一五计划。

(5) 社会制度的性质。

#### 五、材料解析题 (第38题6分，第39题6分，共12分)

15. 创新是一个民族的灵魂，是一个国家兴旺发达的不竭动力。阅读下列材料，重温中外历史上各国政府在农业建设方面的重大举措。

材料一：建国以来农村政策调整概况表 (节选)

实行时间	农村政策	主要内容	重要影响
1950-1952年	进行土地改革	①	农业生产迅速恢复和发展
1953-1956年	对农业的社会主义改造	引导农民参加农业生产合作社	促进农村经济发展
1978年以来	②	包产到户，自负盈亏	农民生产积极性大大提高

材料二：1861年，俄国沙皇亚历山大二世签署关于废除农奴制度的法令。法令规定，农奴具有人身自由，包括有权离开土地，有权拥有财产，有权以自己的名义进行诉讼、立约等活动；地主不能买卖或交换农奴，不能禁止农奴结婚，也不能干涉农奴的家庭生活；农奴在获得“解放”时，可以得到一块份地，但必须出钱赎买。授与农奴的份地，在法律上仍是地主的财产，农奴只有“永久使用”权。

材料三：美国政府与农民签订合同，国家给农民适当的补贴，让农民缩减耕地和屠宰牲畜在《农业调整法》（1933年5月通过）生效的头一年，屠宰了二千三百万头牛，六百四十万头猪，减少了三百万公顷小麦播种面积和四百万公顷棉花播种面积。法案实施后，农产品价格回升到1909-1914年农业繁荣时期的水平。

-----摘编自李纯武《简明世界通史》

(1) 仔细阅读建国以来农村政策调整概况表，结合所学知识，写出①处我国的土地所有制形式和②处的农村政策。

(2) 根据材料二回答：1861年改革，农奴获得人身自由，为俄国资本主义的发展提供了什么条件？

(3) 据材料三，概括美国对农业进行调整采取的措施及特点。

(4) 综合上述三则材料所述，你能够得出什么结论？

【解析】(1) 本题考查建国后农村土地所有制的改革变迁。土地改革的内容是把地主的土地分给农民，即由地主土地所有制转变为农民土地所有制。因此①农民的土地所有制。由“1978年以来，包产到户，自负盈亏”结合所学，十一届三中全会后，党在农村实行家庭联产承包责任制，家庭联产承包责任制是在坚持土地公有制的前提下，改变经营管理方式实行分户经营、自负盈亏的政策，可知，②家庭联产承包责任制。据此作答即可。

(2) 本题考查农奴制改革的影响。由农奴在获得“解放”时，可以得到一块份地，但必须出钱赎买，可知，1861年改革，农奴获得人身自由，为俄国资本主义的发展提供了丰富的劳动力和广泛的市场、资金。

(3) 本题考查对材料的概括能力。由“美国政府与农民签订合同，国家给农民适当的补贴，让农民缩减耕地和屠宰牲畜”可知，美国对农业进行调整采取的措施是鼓励农民减产并给予补贴。其特点是国家干预经济。

(4) 本题属于开放性试题，言之有理即可。

【答案】(1) 农民的土地所有制；家庭联产承包责任制。

(2) 为资本主义的发展提供了丰富的劳动力和广泛的市场、资金。

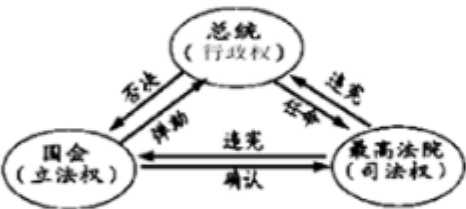
(3) 鼓励农民减产并给予补贴；国家干预经济。

(4) 农业政策的调整要符合国情（或要符合经济发展的客观规律或要从实际出发；改革是社会发展的动力；生产关系要适应生产力的发展等）。

16. 政治文明的不断进步是社会发展的标志。某学校九年级（2）班同学对民主和法

制进行了探究，请你参与下面的活动。

材料阅读 问题探究

材料阅读	问题探究
<p>材料一 美国前总统小布什在演讲中说：“人类千万年的历史，最为珍贵的是实现了对统治者的驯服。只有驯服了他们，才不会害人。我现在就是在笼子里对你们讲话。”</p>	<p>(1) 哪一部文件的制定标志着人类首次将王权关进了制度的笼子里？ (1分) 该文件的颁布，使英国逐步确立起什么政治体制？</p>
<p>材料二 如图是美国国家权力构成示意图</p> 	<p>(2) 如图这种权力结构的确立，直接是依据哪一部法律文献？请简要概括这种国家权力构成的特点</p>
<p>材料三 第一条：人们生来自由，权利平等，第十七条：私有财产神圣不可侵犯 --摘编自法国《人权宣言》 1804年，《拿破仑法典》颁布实施。在拿破仑帝国时期，曾经强迫在法国占领下的欧洲一些国家和地区实行此法典。</p>	<p>(3) 材料三中《人权宣言》实质上是维护哪一阶级的利益？拿破仑法典在欧洲的推行起到了什么积极作用？</p>

【解析】 (1) 本题考查《权利法案》的相关知识。据材料一“将王权关进了制度的笼子里”可知，材料反映了《权利法案》的内容，该法案的颁布，使英国逐步确立起君主立宪制的政治体制。

(2) 本题考查 1787 年美国宪法。据材料示意图并结合所学知识可知，1787 年美国宪法规定，美国总统享有行政权，国会和最高法院分别掌握立法和司法权，三权分立，相互制约，避免出现权利过于集中的专制局面。

(3) 本题考查《人权宣言》和《拿破仑法典》。法国大革命中颁布的《人权宣言》，宣称人们生来自由，权利平等，私有财产神圣不可侵犯，实质上是维护资产阶级的利益；《拿破仑法典》打击了欧洲封建势力，推动了欧洲资本主义的发展。

【答案】 (1) 《权利法案》；资产阶级君主立宪制。

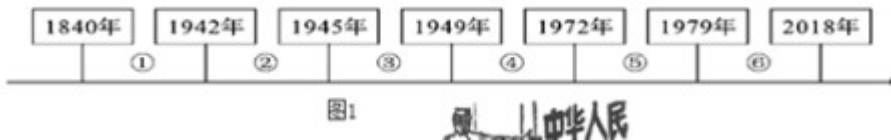
(2) 《1787 年宪法》；三权分立（或分权和制衡；互相制约，互相监督）。

(2) 资产阶级；打击了欧洲封建势力，推动了欧洲资本主义的发展。

#### 四、解答题（共 1 小题，满分 12 分）

17. 中国是世界上最大的发展中国家，美国是最强的发达国家，中美新型大国关系的构建非常重要。

材料一：中美关系发展史



材料二：1941年12月，中美关系发生了转折性变化。美国开始正视中国战场对于抗击日本的巨大作用，迫切需要中国战场牵制和消耗日本的战斗力。

--张殿清《抗日战争时期的中美关系及启示》

材料三：如图2漫画名为“眼疾”。漫画中，站着的医生说：“难道你连六亿人口的中华人民共和国也看不见吗？”坐着的美国国务卿杜勒斯回答：“我看不见。我只能看见蒋介石。”



材料四：2018年4月4日，美国政府决定对中国输美的1333项500亿美元的商品加征25%的关税。相对的，国务院关税委员会决定对原产于美国的大豆、汽车、化工品等14类106项商品加征25%的关税。中美贸易战一触即发。

根据材料结合所学知识回答以下问题：

(1) 在材料一的①阶段发生了一场美国直接参与的侵华战争，战后中国的社会性质发生了什么变化？在③阶段美国是如何支持蒋介石加紧进行内战准备的？在⑤阶段中美关系发展呈现出怎样的趋势？

(2) 根据材料二，简析使导致当时中美关系发生“转折性变化”的事件是什么？此后不久，国际社会出现了一副题为“UNITED we will win”（团结，我们就能获胜）的宣传画。哪一文献的发表体现了该宣传画“团结”的主题？

(3) 由杜勒斯的“眼疾”可以推断出当时美国政府对华是什么态度？请用一具体事实予以佐证。

(4) 根据材料四并结合所学知识分析，当美国对华进行贸易威胁时，主要是什么因素导致中国态度越来越强硬（1分）你认为中美关系怎样才能健康稳定地发展？

(5) 回顾过去，中美关系经历了曲折的发展历程。展望未来，中美关系要想健康稳定的发展，美国政府在台湾问题上必须坚持什么原则？为维护中华民族根本利益，中国政府制定了怎样的对台基本方针？当前，我国政府解决台湾问题还存在哪些不利因素？（答出一方面即可）

【解析】（1）本题考查时空观念这一核心要素。在材料一的①：八国联军侵华战争。在③阶段美国帮助蒋介石准备内战。在⑤阶段中美关系正常化。据此作答即可

（2）本题考查运用所学知识解决问题的能力。据材料二可知，使导致当时中美关系发生“转折性变化”的事件是日本偷袭美国珍珠港，美国对日宣战。此后不久，国际社会出现了一副题为“UNITED we will win”（团结，我们就能获胜）的宣传画。1942年《联合国家宣言》的发表体现了该宣传画“团结”的主题。

（3）本题考查对材料的解读能力。由杜勒斯的“眼疾”可以推断出当时美国政府对华是全面敌对或者反共的态度。如命令第七舰队开进台湾海峡，干涉中国内政；美国发动对朝鲜的战争，威胁我国安全；派飞机轰炸中国边境。

（4）据材料四并结合所学知，当美国对华进行贸易威胁时，主要是中国的综合国力增强；国际地位提高导致中国态度越来越强硬。中美之间要增进了解，增强互信；遵循和平共处五项原则，求同存异；加强合作，互利共赢，才能健康稳定地发展。

（5）本题考查我国对台政策方针，依据所学知识直接作答即可。当前，我国政府解决台湾问题还存在的有利因素有台独分子坚持台独立场；国外反华势力的干扰等。

【答案】（1）中国完全陷入了半殖民地半封建社会的深渊（没有“完全”二字不给分）；美国用飞机、军舰将54万国民党军队运到内战前线；中美关系正常化或中美冰释雪融。

（2）日本偷袭美国珍珠港，美国对日宣战；《联合国家宣言》。

（3）全面敌对或者反共；命令第七舰队开进台湾海峡，干涉中国内政；美国发动对朝鲜的战争，威胁我国安全；派飞机轰炸中国边境（答出一点即可）

（4）中国的综合国力增强；国际地位提高（任答其中一点均可）①中美之间要增进了解，增强互信；②遵循和平共处五项原则，求同存异；③加强合作，互利共赢。（答到任一点即可）

（5）一个中国原则；和平统一，一国两制；台独分子坚持台独立场；国外反华势力的干扰（答出一点即可）