

2019年广西河池市中考历史试题

第I卷 选择题

一、单项选择题（共15小题，每小题2分，共30分。各小题的备选项中，只有一个最符合题意，请你用2B铅笔在答题卡上将选定的答案标号涂黑。）

(2019·广西河池) 1. 使外国侵略势力进一步深入中国腹地的条约是 ()

- A. 《南京条约》 B. 《马关条约》 C. 《北京条约》 D. 《辛丑条约》

(2019·广西河池) 2. 太平天国运动时期曾流传着一首歌谣：“天父杀天兄，终归一场空，打起包裹回家去，还是当长工。”此歌谣中“天父杀天兄”指的是 ()

- A. 金田起义 B. 永安建制 C. 天京事变 D. 天京陷落

(2019·广西河池) 3. 了解因果关系，是学习历史的基本要求之一。以下因果关系对应正确的是 ()

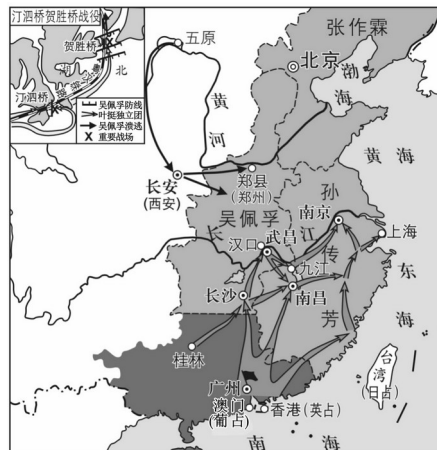
- A. 鸦片战争——是中国近代化的开端
B. 南昌起义——推翻了清王朝的反动统治
C. 九一八事变——标志着中国全民族抗战的开始
D. 辛亥革命——宣告了中国两千多年君主专制制度的终结

(2019·广西河池) 4. “国民若有救国的决心，要先把私通日本的卖国贼政府推翻，然后可以废除密约，争回山东，除了这个法子，是万万不行的。”这材料反映的事件是 ()

- A. 义和团运动 B. 新文化运动 C. 五四运动 D. 秋收起义

(2019·广西河池) 5. 识读历史地图是学习和研究历史的重要方法。右图为中国近代某一战争的形势示意图，这场战争 ()

- A. 使中国革命转危为安
B. 基本推翻北洋军阀的统治
C. 实现了孙中山的三民主义
D. 完成反帝反封建的革命任务



(2019·广西河池) 6. 1941年12月，日军调集10余万兵力，以空军为掩护，对某地发动进攻。面对日军的进攻，中国军队与日军鏖战肉搏，反复争夺阵地，最后取得了会战的胜利。这场“会战”是 ()

- A. 淞沪会战 B. 武汉保卫战
C. 台儿庄战役 D. 第三次长沙会战

(2019·广西河池) 7. 在中国特色社会主义理论体系中，属于马克思主义关于发展的世界观和方法论的集中体现是 ()

- A. 邓小平理论 B. “三个代表”重要思想
C. 科学发展观 D. 习近平新时代中国特色社会主义思想

(2019·广西河池) 8. 某一份公报规定：美利坚合众国承认中华人民共和国政府是中国的唯一合法政府。在此范围内，美国人民同台湾人民保持文化、商务和其他非官方关系。与这一份公报规定相关的外交成就是 ()

- A. 尼克松访华 B. 中美正式建交 C. 基辛格秘密访问中国 D. 中日正式建交

(2019·广西河池) 9. 习近平主席强调，文明因多样而交流，因交流而互鉴，因互鉴而发展。追忆历史，使世界开始连为一体，对人类的文明交流有重大影响的历史事件是 ()

- A. 文艺复兴 B. 光荣革命 C. 启蒙运动 D. 新航路的开辟

(2019·广西河池) 10. 在资产阶级革命中, 资产阶级通过颁布法律文献来规范资本主义社会的统治秩序。下列关于欧美大国法治建设的表述符合史实的是 ()

- A. 美国颁布1787年宪法确立了君主立宪制
- B. 英国通过《权利法案》确立了三权分立原则
- C. 拿破仑主持制定的民法典传播了马克思主义思想
- D. 法国通过《人权宣言》传播了资产阶级自由民主思想

(2019·广西河池) 11. 下表反映了1838~1870年英国铁路里程变化的情况。对这一变化的出现作出突出贡献的历史人物是 ()

时间	1838年	1850年	1870年
铁路里程(单位:英里)	500	6600	15500

- A. 斯蒂芬森
- B. 哈格里夫斯
- C. 爱迪生
- D. 瓦特

(2019·广西河池) 12. 下列选项中, 属于洋务运动和彼得一世改革的共同影响是 ()

- A. 都使本国走向富强的道路
- B. 都触动了本国的旧社会制度
- C. 都开启了本国近代化的进程
- D. 都有利于本国封建主义的发展

(2019·广西河池) 13. “一个极端残暴腐败透顶的帝国(奥匈帝国)为了在欧洲争夺霸权, 就凭借武力奴役另一个弱小但倔强的民族, 并驱使其成员参加一场由于分赃不均而引起的大屠杀。”这表明了这场“大屠杀”是 ()

- A. 帝国主义的掠夺战争
- B. 地区性经济利益冲突
- C. 资产阶级性质的革命
- D. 种族间矛盾激化的结果

(2019·广西河池) 14. 假如你在1936年踏上苏联的国土, 你能看到的是 ()

- A. 列宁在领导彼得格勒武装起义
- B. 书店里新出版的新宪法
- C. 贵族宣读“解放”农奴的法令
- D. 苏联军民开始抗击德国法西斯

(2019·广西河池) 15. 右边的两幅图片, 是美国企图实现由其主宰国际秩序的称霸战争。这场战争 ()



美军轰炸南斯拉夫联盟共和国



美国轰炸中国驻南大使馆

- A. 促使经济全球化形成
- B. 使中东和平受到威胁
- C. 是对多极化趋势的挑战
- D. 强化联合国的主导作用

第II卷 非选择题

二、非选择题(共3小题, 每小题10分, 共30分。)

(2019·广西河池) 16. (10分) 请运用你所掌握的历史学习技能, 完成下面关于中国共产党领导中国革命和建设的相关问题。

【表格归纳】

材料一 中国共产党领导中国革命的部分史实简表

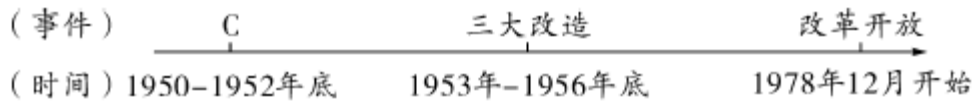
史实	结论
1921年7月, 中共一大的召开	标志着中国共产党的诞生
A	开辟了农村包围城市的革命道路
1949年10月, 开国大典	B

(1) 请模仿材料一简表内容的要求, 分别填写A、B两处的相关内容。“中共一大”确定党

的中心工作是什么？以上简表内的史实都发生在哪一个历史时期？（4分）

【线索梳理】

材料二 中国共产党领导中国建设的部分事件年代尺



(2) 根据材料二的“年代尺”提示，将C处补充完整和写出“三大改造”的基本完成所建立的制度名称。开启中国“改革开放”的会议确定了怎样的指导方针？（4分）

【关注现实】

材料三 四、五代中国人走过了一条艰难曲折、上下求索之路，在正确和错误、经验和教训中付出过高昂的代价，更取得了辉煌成就，开辟出中国特色社会主义道路。艰辛奋斗70年、波澜壮阔70年，一个积贫积弱、生产力水平十分落后的农业大国已经发展为世界第二大经济体、第一大工业国、第一大货物贸易国，迎来了中华民族伟大复兴的光明前景。

——王岐山在世界经济论坛2019年年会上的致辞

(3) 依据材料三指出我国经济建设取得的国际地位。（1分）

【论从史出】

(4) 综上所述，从中国共产党领导中国革命和建设所取得的成就中，你得出什么结论？（1分）

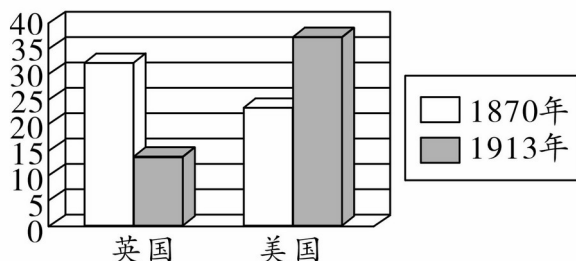
(2019·广西河池) 17. (10分) 探究大国崛起，启迪着今天，也影响着未来。阅读下列材料：

材料一


当日本在19世纪中叶开始面临西方资本主义国家的侵略威胁时，能够以这些国家为榜样，顺利地实现了本国的社会变革，走上独立的资本主义发展道路。

——《世界史·近代史稿》

材料二 历史图表



图一 英美两国1870年、1913年各占世界工业生产总值的比重(%)



图二 诺贝尔(1833~1896)

材料三 今年我们将迎来改革开放40周年。40年来，中国的改革开放事业波澜壮阔，取得了巨大成就。总结成功经验，关键一条就是我们坚持在社会主义制度下发展市场经济，不断理顺政府和市场的关系。

——秋石《论正确处理政府和市场关系》（2018年）

结合所学的知识，回答下列问题：

(1) 请列举材料一的“社会变革”在军事方面的措施。1968年日本成为资本主义世界的第二经济大国的内因是什么？（3分）

(2) 根据材料二回答：图一中，美国从1870年到1913年工业生产总值比重的发展趋势有什么变化？这一变化和哪一历史事件有关？图二人物在军事、工程等方面得到广泛应用的贡献是什么？（3分）

(3) 材料三认为我国改革成功的关键经验是什么？请用我国建立社会主义市场经济体制

的作用加以说明。(3分)

(4) 综合以上材料,归纳美国、日本和中国等大国崛起的因素。(1分)

(2019·广西河池) 18.(10分) 合作与发展是人类共同的主题。下面以“合作”为主题,请你联系所学的知识,探究下列问题。

【对比事件——感悟合作与对抗】

材料一 在联盟内部,各国的社会制度和意识形态并不一致,作战目的也不尽相同,虽然不时产生各种矛盾和斗争,但摧毁法西斯是他们的共同目标。正是这种根本利益使他们团结起来,互相配合支援,直到战争取得最后胜利。

——吴于廑、齐世荣《世界史》

(1) 材料一的“联盟”发生在哪一次战争中?依据材料一和所学的知识,归纳“联盟”的建立有什么意义?为抵抗日本法西斯对中国的侵略,国共两党实现第二次合作所建立的战线名称是什么?这次合作取得了什么成果?(4分)

材料二 杜鲁门的“对苏强硬”政策分裂了罗斯福建立的联盟。……斯大林也绝不想与西方和平相处。

——(美)威廉·J·本内特《美国通史》

(2) 依据材料二概括杜鲁门的“对苏强硬”政策的出台产生什么影响?(2分)

【解读史实——体验合作的魅力】

材料三 历史学习卡片

组织名称: <u> A </u> 建立时间: 1945年10月 总 部: 美国纽约

组织名称: <u> B </u> 建立时间: 1995年1月1日 总 部: 瑞士日内瓦

(3) 根据材料三“历史学习卡片”的提示,分别写出A、B两处的国际组织名称。它们的建立有什么作用?(3分)

【联系现实——构建合作的世界】

材料四 习近平指出,在各国彼此依存、全球性挑战此起彼伏的今天,各国要对接彼此政策,在全球更大范围内整合经济要素和发展资源,才能形成合力,促进世界和平安宁和共同发展。

——《“一带一路”国际合作高峰论坛圆桌峰联合公报》

(4) 综合上述四则材料及所学知识,谈谈世界各国应该如何“促进世界和平安宁和共同发展”?(1分)

参考答案

1. B 2. C 3. D 4. C 5. B 6. D 7. C 8. B 9. D 10. D
11. A 12. C 13. A 14. B 15. C

16. (1) A: 1927年10月,创建井冈山革命根据地; B: 标志中华人民共和国成立(或标志新中国成立。组织和领导工人运动;新民主主义革命时期。

(2) C: 土地改革;社会主义制度;解放思想、开动脑筋、实事求是、团结一致向前看的指导方针。

(3) 第二大经济体、第一大工业国、第一大货物贸易国。

(4) 只有中国共产党才能发展中国。(有理即可)

17. (1) 实行征兵制,建立新式军队,提倡忠君、服从、不怕死的“武士道”精神。推行非军事化和民主化改革;制定适当的经济政策,大力引进先进技术。

(2) 趋势:工业产值迅速增长(或上升);美国南北战争(或美国内战);炸药。

(3) 坚持在社会主义制度下发展市场经济,不断理顺政府和市场的关系。有利于实现经

济的协调发展和稳定高速增长，对现代化建设有巨大的推动作用，使中国的经济实力明显增强。（4）维护国家统一；进行适应国情的改革等。（符合史实，有理即可）

18.（1）第二次世界大战；相互支援，协同作战，逐渐扭转了战争的形势。赢得了第二次世界大战的全面胜利。

（2）标志着美苏战时同盟关系正式破裂，冷战开始。

（3）A：联合国；B：世界贸易组织；成为支撑、协调世界经济和政治的两大支柱，推动着世界的和平与发展。

（4）反对霸权主义和强权政治；各国应尽量以谈判磋商等和平方式来解决国际争端；致力于建立公正合理的国际新秩序；加强联合国和世界贸易组织的作用等等。（答案不唯一，有理即可）

会员升级服务第一拨 · 清北季



神马，有清华北大学霸方法论课；还有清华学霸向所有的父母亲述自己求学之路；

衡水名校试卷悄悄的上线了；

扫qq领取官网不首发课程，很多人我没告诉他啊！

会员qq专享等你来撩.....