

四川省遂宁市 2018 年中考文综（历史部分）真题试题

一、单项选择题（每小题 2 分，共 20 分）

1. 某校兴趣小组整理了以下历史信息：

① 虎门销烟②火烧圆明园③《马关条约》④义和团运动。

由此推断他们研究的主题是（ A ）

- A. 侵略与反抗 B. 近代化的探索
C. 内战烽火 D. 殖民扩张

2. 与中国以往近代化探索相比，辛亥革命最大的不同之处在于（ C ）

- A. 以自强求富为口号 B. 主张学习西方政治制度
C. 建立中华民国 D. 宣传民主和科学的思想

3. 习近平主席指出，弘扬践行社会主义核心价值观，必须发扬以爱国主义为核心的民族精神，它是中华民族坚强团结在一起的精神力量。下列能体现爱国主义精神的是（

D ）

- A. “驱除鞑虏，恢复中华” B. “变法图强，维新变法”
C. “物竞天择，适者生存” D. “外争国权，内惩国贼”

4. 2018 年 3 月 1 日，在北京人民大会堂举行纪念周恩来同志诞辰 120 周年座谈会。下列重大历史事件中周恩来直接参与的有（ B ）

- ① 领导秋收起义
② 推动西安事变和平解决
③ 赴重庆谈判
④ 提出和平共处五项原则

A. ①②③ B. ②③④ C. ①②④ D. ①③④

5. 恩格斯说：“意大利是一个典型的国家，自现代世界的曙光在那里升起的那个时代以来，它产生过许多伟大人物。”这里的“现代世界的曙光”是指（ C ）

- A. 西欧城市的兴起 B. 新航路的开辟
C. 文艺复兴 D. 基督教的创立

6. 俄国废除农奴制改革的影响之大，被人称为法国大革命后最伟大的社会运动。从废除农奴制法令的主要内容上看，它主要为资本主义发展直接提供了（ B ）

① 技术

② 自由劳动力

③ 市场

④ 资金


A. ①② B. ②④ C. ①②④ D. ②③④

7. 归纳和概括是学习历史的重要能力之一。美国通过独立战争，赢得了国家的独立；通过南北战争，维护了国家的统一。这两次战争的相同作用是（ D ）

A. 都是资产阶级革命 B. 都推翻了英国殖民统治

C. 都废除了黑人奴隶制 D. 都促进了资本主义发展

8. 某中学历史研究性学习小组收集了一组国际经济组织徽章。20 世纪末，世界上最大的经济体的徽章是（ C ）



9. 下表中各项文献与影响对应错误的是（ B ）

选项	文献	影响
A	《独立宣言》	标志着美国诞生

B	《人权宣言》	标志着法国资产阶级革命开始
C	《解放黑人奴隶宣言》	激发广大黑人奴隶的革命热情，使战争形势有利于北方
D	《联合国宣言》	标志着世界反法西斯联盟的建立

A . A B . B C . C D . D

10. “互联网+”是当今热门概念，指的是“互联网+各个传统行业”，即互联网与传统行业进行渗透、融合，促使传统行业改造升级，催生许多新兴产业。“互联网+”最能反映第三次科技革命的特点是（ D ）

- A . 科学技术不断转化为生产力
- B . 人类开始制造使用机器
- C . 新技术开始改变人们的生活
- D . 一种技术的发展引起好几种技术的革命

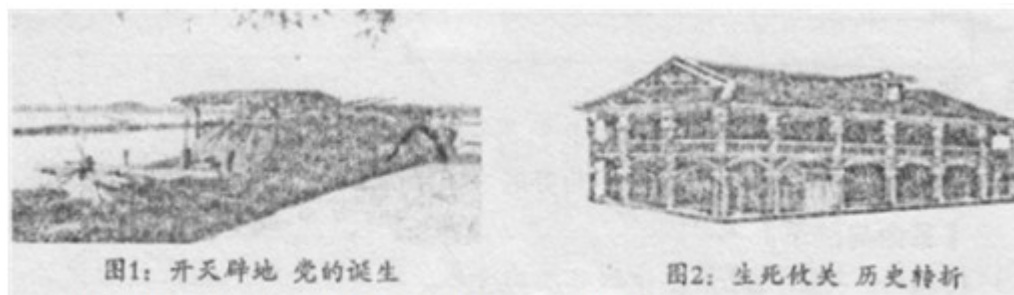
二、非选择题（11题 16分，12题 14分，共 30分）

11. “不忘初心，牢记使命，高举中国特色社会主义伟大旗帜，决胜全面建成小康社会，夺取新时代中国特色社会主义伟大胜利，为实现中华民族伟大复兴的中国梦不懈奋斗。”这是 2017 年 10 月 18 日召开的中共十九大的主题。

回顾中国共产党的奋斗历程，阅读材料，结合所学知识，回答下列问题。

【党的历程刻骨铭心】

材料一：



(1) 请写出与图一、图二相对应的党的重大会议名称。

材料二：这一伟大胜利，重新确立了中国在世界上的大国地位，使中国人民赢得了世界爱

好和平人民的尊敬。这一伟大胜利，开辟了中华民族伟大复兴的光明前景，开启了古老中国凤凰涅槃、浴火重生的新征程。

--习近平在抗战胜利 70 周年纪念大会上的讲话

(2) 材料中“这一伟大胜利”取得的主要原因是什么？

【党的探索前所未有】

材料三：1956 年国民经济中公私经济成分的比较

项 目	社会主义公有制经济	私有制经济
国民收入	92.9%	7.1%
工业总产值	100%	--
商品零售额	95.8%	4.2%

(3) 分析图表，你能得出什么结论？出现图表中这种情况的原因是什么？

(4) 经过几十年的建设社会主义道路的探索与发展，中国特色社会主义进入新时代。哪一历史事件标志着我国开始改变了工业落后的面貌，向社会主义工业化迈进？

【党的政策温暖你我】

材料四：2018 年，我们迎来改革开放 40 周年。海南，因改革开放而生，因改革开放而兴。如今，海南全面融入“一带一路”建设，不断加强与沿线国家和地区交流合作，2018 年 4 月，党中央决定支持海南全岛建设自由贸易区。

(5) 海南成为经济特区得益于什么政策？这一政策是哪次大会做出的抉择？

材料五：2017 年 12 月 4 日，当代著名诗人余光中于台湾逝世，《乡愁》是他漂泊异乡后所作的一首现代诗。诗歌表达了对故乡、对祖国恋恋不舍的一份情怀，更体现了诗人期望中华民族早日统一的美好愿望。

(6) 党和政府制定了怎样的对台基本方针来解决台湾同胞的“乡愁”问题？

(7) 中国一直坚持和平发展道路，在新中国建立以后就奉行怎样的外交政策？

【党的奋进砥砺前行】

(8) 综上所述，并结合所学，你认为中华民族的伟大复兴之路该如何继续？（至少答出两点）

【答案】 (1) 中共一大；遵义会议。

(2) 建立了以国共合作为基础的抗日民族统一战线，实行全民族抗战。

- (3) 社会主义公有制经济占据了主导地位；三大社会主义改造的完成。
- (4) 第一个五年计划的完成。
- (5) 改革开放政策；十一届三中全会。
- (6) “和平统一，一国两制”。
- (7) 独立自主的和平外交政策。
- (8) 坚持改革开放；坚持中国共产党的领导。

12. 构建和谐社会是世界人民的共同愿望。中国、美国、日本、俄罗斯和欧盟都是世界重要一极，它们的关系影响着世界局势的发展和变化。阅读材料，结合所学，回答下列问题。

【革命与改革】

材料一：英国用光荣革命的非暴力手段，建立了一种新的政治制度……制度营造出一种宽松、自由和开放的环境。否则，就难以想象，英国社会如何能在 18、19 世纪和平地实现现代化。

——钱乘旦《世界现代化历程》

(1) 材料中英国建立了一种新的政治制度指什么制度？它是通过什么法律文献开始确立起来的？

材料二：

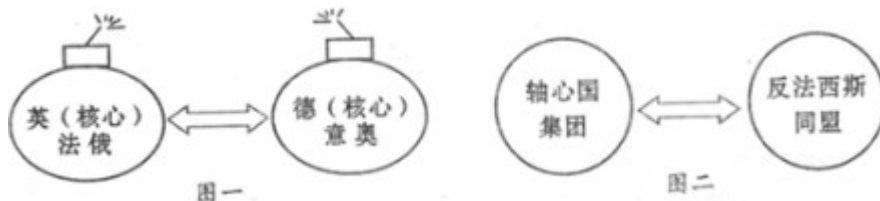
1874-1890 年美、德、英、法、日五国工业发展速度比较

国家	美国	德国	英国	法国	日本
工业发展速度%	5.2%	3.5%	1.7%	2.1%	12.1%

(2) 结合所学，从国内和国际两方面分析这一时期日本工业高速发展的主要原因。

【合作与对抗】

材料三：如图。



(3) 图一中两大军事集团的对抗最终引发了哪次战争？在图二两种力量交锋的这场战争中，成为转折点的战役是什么？

(4) 1991 年苏联解体，“冷战”时代宣告结束。然而当今一些西方大国仍以“冷战”思维和

“冷战”手段面对中国的崛起。历史上“冷战”时代开始的标志是什么？

【和平与共存】

材料四：19世纪中期，英国凭借机器的力量，成为“世界工厂”，逐步形成以英国为代表的欧洲主导世界的局面；后来居上的美国在20世纪大半时间主导全球；随着中国、俄罗斯、日本和欧盟等国家和国家联盟的实力不断增强，目前世界正处于“群雄竞起的时代”。

(5) 19世纪末20世纪初，美国实力超越英国，后来居上，你认为这种变化的根本原因是什么？

(6) 材料中“群雄竞起”反映了当今世界政治格局怎样的发展趋势？

材料五：2018年3月23日，美国总统特朗普宣布采取措施对中国钢铝产品加征关税，5月31日又对其盟友加拿大、墨西哥和欧盟的钢铝产品征收高关税。2018年4月14日，美、英、法发动了对叙利亚的空袭，使中东局势复杂化。与此同时，中国正致力于和平发展，扩大“一带一路”的朋友圈。

(7) 由此可见，当今世界格局下，人类社会的发展仍存在许多破坏和不利于团结的因素，为了国际关系的和谐，你认为世界各国应遵循怎样的规则面对未来？

【答案】(1) 君主立宪制；《权利法案》。

(2) 明治维新；工业革命。

(3) 一战爆发；斯大林格勒战役。

(4) 杜鲁门主义；

(5) 第二次工业革命。

(6) 多极化发展。

(7) 相互尊重国家主权；相互尊重别国利益；平等互利；和平共处；共同发展；共同维护世界和平与发展等。