

# 历史

说明：在四个选项中只有一个选项是正确的。

## 一、选择题（本题共 12 小题，每小题 2 分，共 24 分）

1. “文物承载灿烂文明，传承历史文化，维系民族精神，是老祖宗留给我们的宝贵遗产，是加强社会主义精神文明建设的深厚滋养。”下图所示文物铸造于（ ）



- A. 夏朝                                      B. 商朝                                      C. 春秋时期                                      D. 战国时期

2. “忆昔开元全盛日，小邑犹藏万家室。稻米流脂粟米白，公私仓廩俱丰实。”杜甫《忆昔》中描绘的情景出现的主要原因是（ ）

- A. 秦始皇建立中央集权制度                                      B. 汉武帝巩固大一统王朝  
C. 唐玄宗实行一系列改革                                      D. 宋朝政府鼓励海外贸易

3. 某历史学习小组开展主题探究活动，搜集了如下学习资源。由此判断他们探究 主题是（ ）



《虎门销烟》爱国影片邓世昌人物扫描义和团运动过程图片国共抗战战役汇总

- A. 西方列强殖民扩张                                      B. 领土主权遭到破坏  
C. 中华民族反抗侵略                                      D. 社会性质发生变化

4. 上海轮船招商局创立后的三年内，外轮在中国航运损失 1300 多万两白银；官办湖北织布局开办后，江南海关每年进口洋布减少 10 万匹。与上述内容相关的历史事件的影响是（ ）

- A. 对外国资本 入侵起了一定的抵制作用  
B. 在思想文化方面产生了广泛而持久的影响  
C. 使中国人民接受了一次民主与科学的洗礼  
D. 为新的革命力量登上历史舞台创造了条件

5. 红色圣地留下许多有重大纪念意义的红色印迹，为赓续红色血脉提供了重要资源。下列红色圣地与革命历史事件对应正确的是（ ）

- A. 南昌——中国共产党创建工农红军
- B. 井冈山——农村革命根据地创建
- C. 瑞金——红军的三大主力胜利会师
- D. 大别山——中共一大召开

6. 2022年，中国成功举办了第24届冬季奥林匹克运动会，向世界发出了“一起向未来”的时代强音，推动全球团结与合作。下列选项属于20世纪50年代推动中国同亚非各国团结与合作的是（ ）

- A. 提出了“求同存异”方针
- B. 恢复在联合国合法席位
- C. 中日正式建立外交关系
- D. 中美正式建立外交关系

7. 文艺复兴时期，英国有一位伟大的戏剧家，不论是写喜剧还是写悲剧，都能反映时代风貌和社会本质，充分体现了人文主义者的生活理想。这位戏剧家是（ ）

- A. 但丁
- B. 贝多芬
- C. 莎士比亚
- D. 巴尔扎克

8. 识读历史地图是历史学习的重要方法之对下面示意图解读正确的是（ ）

- ①促进了古代东西方文化的大交汇
- ②麦哲伦船队完成环球航行
- ③哥伦布横渡大西洋“发现”美洲大陆
- ④世界各地连为一个整体

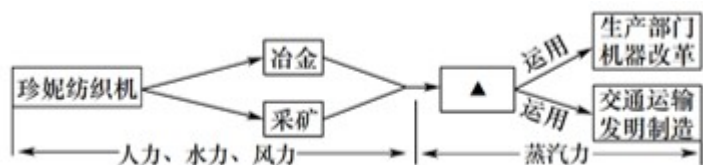


- A. ①②③
- B. ①②④
- C. ①③④
- D. ②③④

9. 19世纪中期，日本摆脱了半殖民地地位，走上了发展资本主义的道路。下列措施属于日本推动其资本主义发展的是（ ）

- A. 建立以天皇为中心的中央集权制度
- B. 农奴获得解放时可获得一份土地
- C. 南方叛乱地区的奴隶永远获得自由
- D. 推行“殖产兴业”，大力发展近代经济

10. 在工业革命过程中，解决动力问题是关键。下面“工业革命动力演进示意图”中“▲”处应填写的内容是（ ）



- A. 蒸汽机                      B. 内燃机                      C. 发电机                      D. 电动机

11. 世界反法西斯战争的胜利对维护世界和平、促进共同发展产生了重大而深远的影响。下面表格中对此次战争相关内容整理正确的是 ( )

序号	历史事件	重要影响
①	九一八事变	揭开了世界反法西斯战争的序幕
②	卢沟桥事变	标志世界反法西斯战争全面爆发
③	凡尔登战役	成为世界反法西斯战争的转折点
④	《联合国宣言》签署	标志世界反法西斯同盟正式形成

- A. ①②                      B. ①④                      C. ②③                      D. ③④

12. 历史史实是指对历史人物或事件的客观叙述，历史评价是指对历史现象或事件进行态度与价值的评判表达。下列表述属于历史评价的是 ( )

- A. 金字塔是古埃及法老为自己修建的角锥体状陵墓  
 B. 《共产党宣言》创造性地揭示了人类社会发​​展规律  
 C. 1917年11月7日，彼得格勒武装起义取得了胜利  
 D. 罗斯福为应付日益严峻的经济大危机实施了新政

## 二、非选择题 (本题共3小题，共26分)

13. 在漫长的历史进程中，我国各民族密切交往、相互依存、休戚与共，形成了中华民族多元一体的格局，共同推动了国家发展和社会进步。阅读材料，结合所学知识，回答问题。

鲜卑姓	改为汉姓
拓跋	→ 元
拔拔	→ 长孙
贺兰	→ 贺
独孤	→ 刘
.....	.....



图1 鲜卑族改用汉姓的情况

图2 唐朝阎立本《步辇图》

图3 达赖金印、班禅金印

材料：中华人民共和国各民族一律平等。国家保障各少数民族的合法的权利和利益，维护和发展各民

族的平等团结互助和谐关系。

.....

各少数民族聚居的地方实行区域自治，设立自治机关，行使自治权。

——《中华人民共和国宪法》

民族自治地方经济发展概况		
年份	农业总产值(亿元)	工业总产值(亿元)
1952年	46.5	11.4
1978年	155.6	212.1
2014年	11352.3	64369

- (1) 图 1 反映的是我国历史上哪次改革？这次改革有何历史意义？
- (2) 图 2 反映的历史事件的结果是什么？唐太宗在处理民族关系上实行怎样的政策？
- (3) 图 3 见证了清政府对哪一地区的管辖？元朝时对该地区实行直接管辖的中央机构是什么？
- (4) 材料体现了我国哪一项基本政治制度？分析材料中表格信息，可以得出什么结论？

14. 民主与法治建设经历了一个不断完善的过程，见证了社会的发展与进步。阅读材料，结合所学知识，回答问题。



图 1



我们不模仿我们的邻人，但我们是它们的榜样。我们政体确实可以称为民主政体，因为行政权不是长在少数人手里，而是握在多数人手中。

图 2

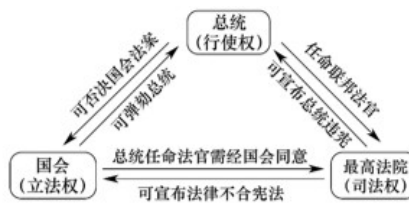


图 3

材料一：从表面上看似乎一切都没有变，只是换了国王……但实质上新国王是由议会创造出来的，没有议会就没有国王的王位……既然议会创造了国王，主权当然在议会。

——摘编自钱乘旦、许洁明《英国通史》

材料二：对德国来说，拿破仑并不像他的敌人所说的那样是一个专横跋扈的暴君……他把他的法典带到了他征服的国家里，这个法典比历来的法典都优越得多。

——摘编自恩格斯《德国状况》

- (1) 图 1 石柱上刻的法典是什么？图 2 人物主政时期，雅典民主政治出现了什么局面？
- (2) 材料一中“新国王”的权力受到限制所依据的法律文件是什么？英国由此逐渐形成了什么制度？
- (3) 材料二中“他的法典”是什么？

(4) 图3呈现的内容与哪一部宪法有关？该宪法的影响是什么？

15. 中华民族在伟大复兴的征程上，每一次历史性的飞跃都留下伟人的足迹。他们“应时代之变迁，立时代之潮头，发时代之先声”。某历史兴趣小组以“寻伟人足迹，观时代变迁”为主题开展探究活动，请你参与完成。

**【孙中山—民主革命的先行者】**



(1) 上面年代尺体现了孙中山的早期革命活动，请将①内容补充完整。孙中山领导的资产阶级革命的指导思想是什么？

**【毛泽东—新中国 缔造者】**



图1 遵义会议遗址



图2 中国共产党第七次代表大会会场



图3 开国大典

(2) 图1会议的召开标志着什么？

(3) 图2会议确立的中国共产党的指导思想是什么？该会议为哪场战争的最后一胜利准备了条件？

(4) 图3反映的历史事件在国际上产生了什么影响？

**【邓小平—改革开放总设计师】**

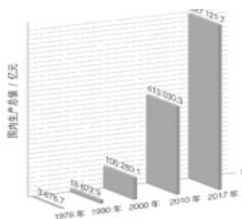


图4 改革开放以来国内生产总值增长情况



图5 香港、澳门特别行政区区徽

(5) 图4成就的取得源于哪次会议的召开？图5两个特别行政区的成立得益于哪一创造性构想的提出？

**【习近平—新时代的引领者】**

材料：中国特色社会主义进入了新时代，我们比历史上任何时期都更接近、更有信心和能力实现中华民族伟大复兴的目标。

——习近平

(6) 依据材料指出，“新时代”中国共产党必须长期坚持的指导思想是什么？它是我国哪一理论体系的重要组成部分？

(7) 通过以上学习探究，你得到了什么启示？

