

辽宁省大连市 2019 年初中毕业升学历史试题

一、选择题 (本题共 12 小题, 每小题 2 分, 共 24 分)

16. (2019·辽宁大连·16) 我国古代科技领域的四大发明对世界文明的进步贡献巨大。

在古代世界四大发明中出现于汉朝的是 ()

- A. 造纸术
- B. 火药
- C. 印刷术
- D. 指南针

【答案】A

17. (2019·辽宁大连·17) 历朝历代都注重加强对边疆地区的管辖。清朝前期加强对边疆和少数民族地区管辖的措施有 ()

- ①文成公主入藏
 - ②平定回部贵族叛乱
 - ③设立驻藏大臣
 - ④设置台湾府
- A. ①②③
 - B. ①②④
 - C. ①③④
 - D. ②③④

【答案】D

18. (2019·辽宁大连·18) 辽宁庄河流域发现的甲午沉船遗址(经远舰)入选“2018 年度全国十大考古新发现”。某班历史课上对此展开“我国海防发展”的学习活动。下列同学的表述与史实相符的是 ()



①“经远舰”所属的北洋舰队创建于鸦片战争时期

②邓世昌率领北洋舰队“致远舰”的全舰官兵英勇作战



③北洋舰队在黄海海战中全军覆没

④新中国成立后南海等三支舰队成为海军主要作战力量

- A. ①③
- B. ②④
- C. ①②④
- D. ②③④

【答案】B

19. (2019·辽宁大连·19) 红军长征中的“三大主力军, 西北高原胜利会合了。欢呼三个方面军, 百战百胜英雄弟兄。团结我们工农红军的全部力量……”材料中的“三大主力军”会合的地点是 ()

- A. 甘肃腊子口
- B. 陕西吴起镇

24. (2019·辽宁大连·24) 英国《权利法案》对国王在政治、经济、宗教等事务中的权力进行了严格限制。美国“1787年宪法”在国家权力方面采用立法、行政、司法三权分立、相互制衡的原则。上述两个文献内容体现的相同目的是 ()

- A. 防止最高统治者专权
- B. 加强封建专制统治
- C. 保证公民应有的权利
- D. 宣扬自由平等思想

【答案】A

25. (2019·辽宁大连·25) “日本资本主义工业特别是私人企业有了长足的发展，从1881年到1893年，工厂数目由1100家增加到3340家……”。材料中“长足的发展”得益于日本明治维新措施中的 ()

- A. 废藩置县
- B. 提倡文明开化
- C. 殖产兴业
- D. 允许土地自由买卖

【答案】C

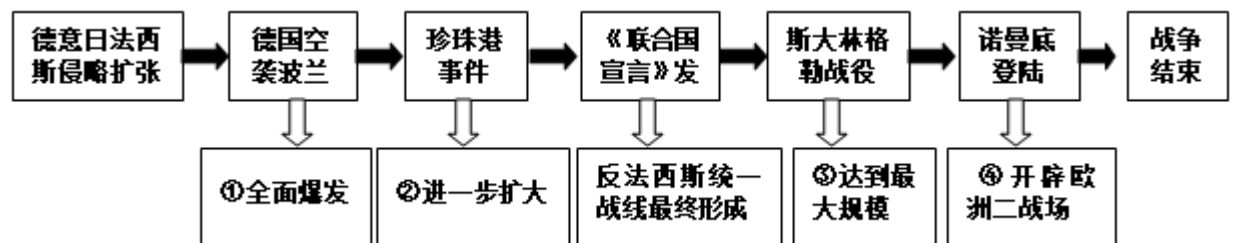
26. (2019·辽宁大连·26) “18世纪中期到19世纪中期，蒸汽机引起了欧洲生产领域的革命。……英国引领了这一历史发展的潮流，取得了技冠群雄、傲视全球的成果。”英国使用蒸汽机取得的成果是 ()



- A. 珍妮纺纱机
- B. “火箭号”机车
- C. 早期汽车
- D. 飞行者1号

【答案】B

27. (2019·辽宁大连·27) 第二次世界大战是人类有史以来规模最大的世界性战争，战火遍及全球。阅读如下战争进程示意图，对事件影响的描述对应正确的是 ()



- A. ①②
- B. ①④
- C. ②③
- D. ③④


【答案】 B

二、非选择题 (本大题共 3 小题, 共 26 分)


28. (2019·辽宁大连·28) (6分) 习近平总书记指出, 文明交流互鉴, 是推动人类文明进步和世界和平发展的重要动力。纵观历史长河, 中华民族和平友好的对外交往历史源远流长。

对外交往

缔结友谊桥梁



汉代人首马身丝绸
(新疆民丰尼雅遗址出土)



丝绸之路出土的东罗马
金币和波斯萨珊王朝银币

(1) 上图文物的发现表明开通丝绸之路的影响是什么? (1分)

展现大国风采


材料一 如果这些原则能为一切国家所遵守, 则社会制度不同的国家和平共处就有了保证。
——1954年6月《中印两国总理联合声明》

材料二 当我们的手相握时, 一个时代结束了, 另一个时代开始了。
——《尼克松回忆录》

(3) 材料一所说的外交原则是什么? (1分)

(4) 从中美关系的角度写出材料二中“另一个时代”指的是什么? (1分) 中美两国何时正式建立外交关系? (1分)

弘扬中华文化



日本奈良唐招提寺内的鉴真像

(2) 图片中人物的事迹见证了中国与哪个国家的友好交往? (1分) 请再举一个这一时期中外交往的事例。(1分)

对外交往

两汉

隋唐

宋元

明清

近代

现代

【答案】 (1) 丝绸之路成为东西方经济文化交流的桥梁。(1分)

(2) 日本(1分); 玄奘西行。(1分)

(3) 和平共处五项原则。(1分)

(4) 中美开始走向关系正常化。(1分) 1979年。(1分)

29. (2019·辽宁大连·29) (9分) 历史学习是用过去“人”的经历, 感染、熏陶、启示我们立足现实, 走向未来。阅读材料, 结合所学知识, 回答问题。

思想指导

材料一 马克思并未将自己限制在理论上和写作上。在他的一生中, 为组织和鼓励工人们, 他将知识活动同各种尝试结合起来。

——斯塔夫里阿诺斯《全球通史》

材料二 要拥护那德先生、使不得不及时孔教，礼法，旧思想，旧伦理，旧政治。要拥护那赛先生，便不得不反对旧艺术，旧宗教。

——《本质罪案之答辩书》（《新青年》）

- (1) 材料一中马克思在“理论上”和“写作上”的重大贡献分别是什么？（2分）
- (2) 材料二中的“德先生”和“赛先生”分别指什么？（2分）拥护“德先生”和“赛先生”的代表人物有谁？（列举一个人物即可）（1分）

政治先驱

材料三 此一省欲事，彼一省亦欲起事，不相联络，各自号召。终必成秦末二十四国之争……故现今之主义，总以互相联络为要。

——孙中山《与陈天华等的谈话》1905年

材料四 现在，我已经完成了赋予我的使命，我将退出这个伟大的舞台，并且向尊严的国会告别。

——华盛顿在向国会交出军权仪式上的讲话


- (3) 材料三中孙中山为“互相联络”建立了什么组织？（1分）
- (4) 材料四中“赋予我的使命”指的是什么？（1分）

科学发展

(5) 没有科学家们的发现，就没有现代人类文明。写出右图两位科学家各一项重大成就。（2分）



牛顿



达尔文

牛顿：_____ 达尔文：_____

- 【答案】** (1) 马克思主义（1分）；发表《共产党宣言》。（1分）
- (2) 民主（1分）；科学（1分）；陈独秀或鲁迅、胡适。（1分）
- (3) 中国同盟会。（1分）

(4) 领导美国独立战争。(1分)

(5) 发现万有引力定律或建立经典力学的完整体系——牛顿力学(1分) 发表《物种起源》(或确立生物进化学说。)(1分)

30. (2019·辽宁大连·30) (11分) 中国人民在中国共产党的领导下, 经过艰苦卓绝的斗争, 建立了新中国, 之后开始中国特色社会主义道路的探索。某校为迎接中华人民共和国70华诞, 开展以“重温历史·汲取力量”为主题的研学活动。下面是活动的任务单, 请你结合所学知识参与完成。

【会址之行】




图1 中共“一大”会址 图2 遵义会议会址

任务单一:

参观中共“一大”纪念馆和遵义会议纪念馆后, 思考并回答:

(1) 中共“一大”确定党的中心任务是什么?(1分)

(2) 遵义会议的重大历史意义是什么?(2分)

【古都之游】


任务单二:

在游览古都北京天安门广场和天安门城楼后, 思考并回答:

(3) 100年前, 爆发了一场“痛殴卖国贼, 火烧赵家楼, 除奸不惜死, 来把中国救”的爱国运动, 最能体现此次运动性质的口号是什么?(1分)

(4) 70年前, 毛泽东庄严宣告: 中华人民共和国中央人民政府今天成立了! 请你从中国共产党地位的变化。说明新中国成立的历史意义。(2分)

【场馆之旅】



深圳的历程和经验证明,
我们建立经济特区的政策
是正确的。邓小平 1984年

图3 18个农民按手印群雕 图4 邓小平视察深圳经济特区

(大包干纪念馆) 题词 (深圳博物馆)

任务单三：

参观大包干纪念馆和深圳博物馆后，思考并回答：

(5) 由小岗村农民的做法推广推广到全国的农村改革政策是什么？ (1分)

(6) 深圳经济特区的创办是十一届三中全会作出的哪一重大决策的具体表现？ (1分) 结合所学知识概括指出邓小平在这决策制定过程中发挥的重大作用。 (1分)

【研学之思】

(7) 通过参加以上研学活动，联系现实，谈谈你的感想。(至少写出两点) (2分)

【答案】 (1) 领导工人运动。(1分)

(2) 这次会议在中国革命的危关头，挽救了党，挽救了红军，挽了中国革命，遵义会议是党的历史上一个生死关的转折点，它标志着中国共产党在政治上走向成熟。(2分)

(3) 外争国权，内惩国贼 (1分)

(4) 中华人民共和国的成立，标志着中国共产党开始从领导人民为夺取全国政权而奋斗的党，变为领导人民掌握全国政权、进行社会主义革命和建设并长期执政的党 (2分)

(5) 家庭联产承包责任制 (1分)

(6) 作出了把党和国家工作中心转移到经济建设上来、实行改革开放的历史性决策 (1分)；我国社会主义改革开放和现代化建设的总设计师。(1分)

(7) 坚持党的领导；坚持改革开放；改革创新；弘扬五四精神 (言之有理即可)。(2分)

参考答案

一、选择题

16 . A 17 . D 18 . B 19 . C 20 . B 21 . D 22 . C 23 . D 24 . A 25 . C 26 . B 27 . B

二、材料题

28 . (6分)

- (1) 丝绸之路成为东西方经济文化交流的桥梁。(1分)
- (2) 日本(1分)；玄奘西行。(1分)
- (3) 和平共处五项原则。(1分)
- (4) 中美开始走向关系正常化。(1分) 1979年。(1分)

29 . (9分)

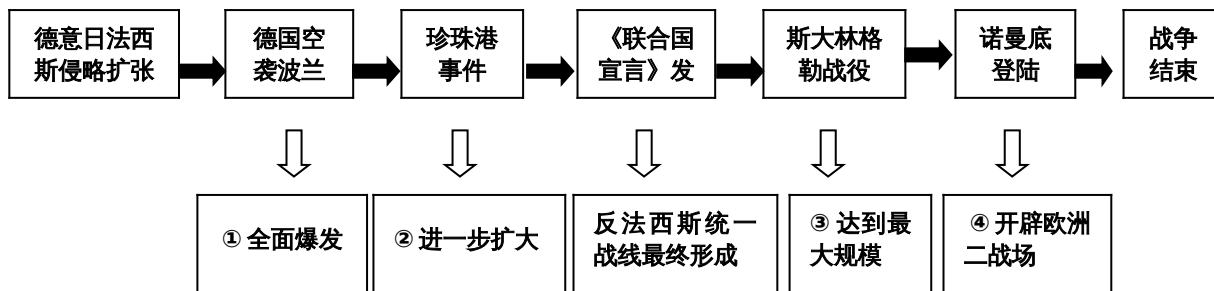
- (1) 马克思主义(1分)；发表《共产党宣言》。(1分)
- (2) 民主(1分)；科学(1分)；陈独秀或鲁迅、胡适。(1分)
- (3) 中国同盟会。(1分)
- (4) 领导美国独立战争。(1分)
- (5) 发现万有引力定律或建立经典力学的完整体系——牛顿力学(1分) 发表《物种起源》(或确立生物进化学说。)(1分)

30 . (11分)

- (1) 领导工人运动。(1分)
- (2) 这次会议在中国革命的危关头，挽救了党，挽救了红军，挽了中国革命，遵义会议是党的历史上一个生死关的转折点，它标志着中国共产党在政治上走向成熟。(2分)
- (3) 外争国权，内惩国贼(1分)
- (4) 中华人民共和国的成立，标志着中国共产党开始从领导人民为夺取全国政权而奋斗的党，变为领导人民掌握全国政权、进行社会主义革命和建设并长期执政的党(2分)
- (5) 家庭联产承包责任制(1分)
- (6) 作出了把党和国家工作中心转移到经济建设上来、实行改革开放的历史性决策(1分)；我国社会主义改革开放和现代化建设的总设计师。(1分)
- (7) 坚持党的领导；坚持改革开放；改革创新；弘扬五四精神(言之有理即可)。(2分)

28. (6分) 习近平总书记指出，文明交流互鉴，是推动人类文明进步和世界和平发展的重要动力。纵观历史长河，中华民族和平友好的对外交往历史源远流长。

缔结友谊桥梁	对外交往	展现大国风采
<p>汉代人首马身丝绸 丝绸之路出土的东罗马(新疆民丰尼雅遗址出土)金币和波斯萨珊王朝银币</p> <p>(1) 上图文物的发现表明开通丝绸之路的影响是什么? (1分)</p>		<p>材料一 如果这些原则能为一切国家所遵守，则社会制度不同的国家和平共处就有了保证。 ——1954年6月《中印两国总理联合声明》</p> <p>材料二 当我们的手相握时，一个时代结束了，另一个时代开始了。 ——《尼克松回忆录》</p> <p>(3) 材料一所说的外交原则是什么? (1分)</p> <p>(4) 从中美关系的角度写出材料二中“另一个时代”指的是什么? (1分)</p> <p>中美两国何时正式建立外交关系? (1分)</p>
<p>弘扬中华文化</p> <p>日本奈良唐招提寺内的鉴真像</p> <p>(2) 图片中人物的事迹见证了中国与哪个国家的友好交往? (1分) 请再举一个这一时期中外交往的事例。 (1分)</p>		



会员升级服务第一拨 · 清北季



神马，有清华北大学霸方法论课；还有清华学霸向所有的父母亲述自己求学之路；

衡水名校试卷悄悄的上线了；

扫qq领取官网不首发课程，很多人我没告诉他啊！

会员qq专享等你来撩.....