

2020年贵州省黔南州中考历史试题

一、选择题

1.河姆渡人和半坡居民遗址都在大河流域，因为


- A. 适宜航行、交通便利
- B. 河流湍急、地势险要，战略地位重要
- C. 环境优美、风景秀丽
- D. 水源丰富、土地肥沃，适宜农业生产

【答案】D

【解析】

【详解】河姆渡人生活在长江流域，半坡居民生活在黄河流域。河姆渡人和半坡居民遗址都在大河流域，是因为大河流域水源丰富、土地肥沃，适宜农业生产，故D符合题意；适宜航行、交通便利不属于河姆渡人和半坡居民遗址都在大河流域的原因，排除A；河流湍急、地势险要，战略地位重要与题干信息不符，排除B；环境优美、风景秀丽不属于河姆渡人和半坡居民遗址都在大河流域的原因，排除C。故选D。

2.公元前221年，秦国完成了统一大业。秦统一以后，在全国统一使用的标准货币是



【答案】A

【解析】

【详解】公元前221年，秦国完成了统一大业。秦统一以后，在全国统一使用的标准货币是圆形方孔半两钱，故A符合题意；BCD都是战国时期的货币，不符合题意。故选A。

3.三国时代，群雄并起，涌现出许多风云人物。以下历史人物与历史事迹对应正确的是

- A. 曹操——建立魏国
- B. 孙权——派卫温到夷洲
- C. 诸葛亮——发明翻车
- D. 司马懿——灭吴统一全国

【答案】B

【解析】

【详解】依据所学可知，230年，孙权派将军卫温率船队到达夷洲（今台湾），这是大陆和台湾交流的最早记载，因此历史人物与历史事迹相吻合的是B，B项符合题意；A项220年，曹丕建立魏国，排除；C

项翻车是三国曹魏马钧发明，排除；D项公元280年，西晋武帝司马炎灭吴，结束三国鼎立的分裂局面，重新统一全国，排除。故选B。

4.公元605年起，隋朝皇帝征发了几百万民工，开凿大运河。下列关于大运河的描述，正确的是

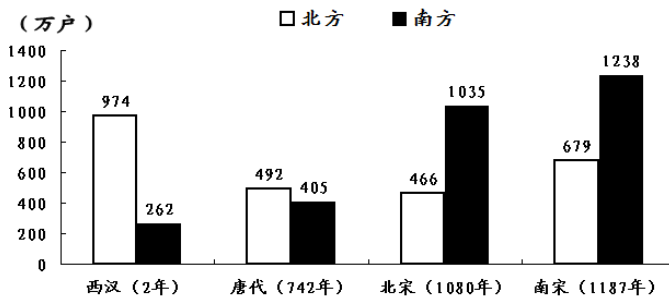
- A. 运河中心在长安
- B. 运河北抵余杭，南至涿郡
- C. 是隋文帝的政绩
- D. 起着贯通南北交通的作用

【答案】D

【解析】

【详解】隋朝大运河的开通，加强了南北地区的政治、经济和文化交流，起着贯通南北交通的作用，故D符合题意；隋朝大运河的中心在洛阳，排除A；隋朝大运河北抵涿郡，南至余杭，排除B；隋朝大运河是隋炀帝开通的，排除C。故选D。

5.如图呈现了西汉至南宋北方和南方人口户数的变化情况。这说明



- A. 北方财富增长
- B. 中央集权加强
- C. 经济重心南移
- D. 城市生活繁荣

【答案】C

【解析】

【详解】从唐朝中期开始的经济重心南移，到南宋完成。题干“西汉至南宋北方和南方人口户数的变化”反映出南方人口逐渐超过北方，说明经济重心南移完成。故C符合题意；北方财富增长、中央集权加强、城市生活繁荣在题干图表中不能体现，排除ABD。故选C。

6.清朝时期，文人大多埋头于古籍，不敢过问社会现实，考据之风大盛，形成为考据而考据的现象。这反映了清朝

- A. 文化专制加强
- B. 闭关锁国政策实行
- C. 科举制的创立
- D. 儒家学说地位提高

【答案】A

【解析】

【详解】依据所学可知，文字狱是清朝统治者为加强思想控制而对不利于他们统治言行进行严厉钳制的措施。主要发生在康熙、雍正、乾隆时期。清代的文字狱是清朝文化专制和民族统治的产物。其根本目的是

要在思想文化领域内树立起封建君主专制和满族贵族统治的绝对权威。这种文字狱造成了及其严重的社会后果，给中国文化的发展和社会进步带来了消极影响。因此文人大多埋头于古籍，不敢过问社会现实，考据之风大盛，这反映了清代思想专制加强，所以 A 项符合题意；B 项与题干信息无关，排除；C 项科举制创立于隋朝，排除；D 项儒家学说地位提高始于汉武帝，排除。故选 A。

7.2019 年 11 月，流失海外近 160 年的圆明园“马首”回归祖国。导致其流失的历史事件是

- A. 鸦片战争
- B. 第二次鸦片战争
- C. 甲午中日战争
- D. 八国联军侵华战争

【答案】 B

【解析】

【详解】第二次鸦片战争中，1860 年 10 月，英法联军闯入圆明园，抢劫了大批文物，后火烧圆明园。故 B 符合题意；鸦片战争、甲午中日战争、八国联军侵华战争与圆明园“马首”流失无关，排除 ACD，故选 B。

8.电视节目《百战经典·伟大的会议》对下图这样解说：“一座城市，因为一次重要会议与红色结缘；一座小楼，记录着中国革命的伟大转折；一次会议，从此改变了中国革命的历史进程”。解说词中的会议是指



- A. 中共二大
- B. 八七会议
- C. 遵义会议
- D. 中共七大

【答案】 C

【解析】

【详解】图片是遵义会议会址。长征中，1935 年 1 月，召开遵义会议，确立了毛泽东的正确领导。遵义会议挽救了党，挽救了红军，挽救了中国革命，是党的历史上生死攸关的转折点。故 C 符合题意；中共二大、八七会议、中共七大与图片信息无关，排除 ABD，故选 C。

9.电视剧《亮剑》中的八路军某部指挥员李云龙有句台词：“我们要主动‘关照’日本鬼子，让它尝尝被八路军打的滋味。”台词所指的战役是

- A 淞沪会战
- B. 台儿庄战役
- C. 武汉会战
- D. 百团大战

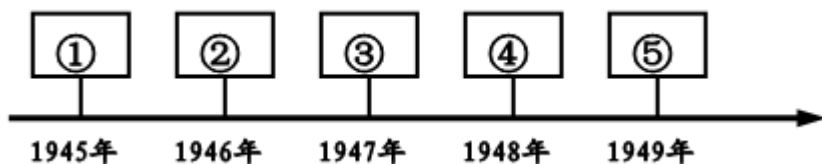
【答案】 D

【解析】

【详解】依据所学可知，为了粉碎敌人的“囚笼”，1940 年 8 月，八路军在彭德怀指挥下，组织一百多个团，在华北两千多公里的路线上，向日军发动大规模攻击，史称百团大战。它是抗日战争中中国军队主动

出击日军的规模最大战役，打出了敌后抗日军民的声威，振奋了全国人民争取抗战胜利的信心，在战略上有力地支持了国民党正面战场，体现了“我们要主动关照日本鬼子，让它尝尝被八路军打的滋味”，D项符合题意；而ABC三项均是国民党在正面战场的抗战，排除。故选D。

10.下列选项与年代尺①处相对应的是



- A. 重庆谈判 B. 内战爆发 C. 挺进大别山 D. 南京解放

【答案】A

【解析】

【详解】年代尺①处相对应的年代是1945年。重庆谈判发生在1945年8—10月，故A符合题意；全面内战爆发是1946年，排除B；刘邓大军挺进大别山是1947年，排除C；南京解放是1949年，排除D。故选A。

11.1949年10月1日，毛泽东在北京天安门城楼上向全世界庄严宣告：“中华人民共和国中央人民政府今天成立了！”这标志着



- A. 彻底摧毁我国两千年的封建土地制度
B. 中国开始进入了社会主义的初级阶段
C. 新中国真正成为了独立的自主的国家
D. 中国进入社会主义现代化建设新时期

【答案】C

【解析】

【详解】依据所学可知，1949年10月1日，中华人民共和国的成立，开辟了中国历史的新纪元。中国人民经过一百多年的英勇斗争，终于推翻了帝国主义、封建主义和官僚资本主义的统治，中国真正成为独立自主的国家，占人类总数四分之一的中国人从此站起来了，成为国家的主人，所以C项符合题意；A项与土地改革有关，排除；B项是三大改造的完成，排除；D项是十一届三中全会后，排除。故选C。

12.1954年9月，李某作为一名人民代表，到北京参加第一届全国人民代表大会。他亲历的活动应是

- A. 确定《义勇军进行曲》为代国歌
B. 编制第一个五年计划
C. 审议《中华人民共和国宪法》
D. 决定人民公社化运动

【答案】C

【解析】

【详解】1954年9月，第一届全国人民代表大会在北京召开。大会制定了《中华人民共和国宪法》。这是我国第一部社会主义类型宪法，也是我国有史以来真正反映人民利益的宪法。故C符合题意；确定《义勇军进行曲》为代国歌是1949年9月，中国人民政治协商会议第一届全体会议，排除A；第一个五年计划开始于1953年，排除B；人民公社化运动开始于1958年，排除D。故选C。

13.中共十一届三中全会后，中国迈出了对外开放的步伐。1980年中央决定兴办经济特区。下列成为首批经济特区的是

- A. 海南岛
B. 深圳
C. 福州
D. 上海

【答案】B

【解析】

【详解】依据所学可知，中共十一届三中全会后，中国迈出了对外开放的步伐。1980年，中央决定在广东、福建两省兴办深圳、珠海、汕头、厦门4个经济特区，实行特殊的经济政策和管理体制，促进中国经济的发展，因此成为首批经济特区的是深圳，B项符合题意；A项是1988年设立为经济特区，排除；CD项是沿海开放城市，排除。故选B。

14.如下图反映的是一个文明古国存在的一种社会等级制度。这个文明古国是



- A. 埃及
B. 巴比伦
C. 印度
D. 希腊

【答案】C

【解析】

【详解】依据图片信息，结合所学知识可知，古代印度实行种姓制度，分为婆罗门、刹帝利、吠舍、首陀罗四个等级，故C符合题意；埃及、巴比伦、希腊与图片信息不符，排除ABD，故选C。

15.德国的一位法学家说：“罗马曾经三次征服世界：第一次以武力，第二次以宗教，第三次以法律。”材料中的宗教指的是

- A. 道教
B. 基督教
C. 佛教
D. 伊斯兰教

【答案】 B

【解析】

【详解】依据所学可知，材料中 宗教指的是基督教。1 世纪，在罗马帝国统治下的巴勒斯坦地区诞生了基督教，创始人是耶稣，教导人们忍受苦难，死后可以升入“天堂”。早期基督教反对罗马暴政，谴责富人剥削。公元 2 世纪以后，基督教教义发生变化，宣扬忍耐顺从、君权神授等思想。4 世纪后期，罗马帝国确定基督教为国教，大大促进了基督教的传播。800 年的圣诞节，教皇在罗马为查理举行了加冕礼，称查理为“罗马人的皇帝”。因此，查理被称为“查理大帝”或“查理曼”。他统治时期的法兰克王国，史称“查理曼帝国”，所以 B 项符合题意；A 项是中国土生土长得宗教，排除；C 项起源于古印度，流行于亚洲，排除；D 项兴起于阿拉伯半岛，排除。故选 B。

16. 有人认为英国“革命前是国王的议会，革命后是议会的国王”，这表明英国资产阶级革命后确立了

- A. 君主专制 B. 君主立宪制 C. 总统制 D. 民主共和制

【答案】 B

【解析】

【详解】由“革命前是国王的议会，革命后是议会的国王”，这表明英国资产阶级革命后确立了君主立宪制，故选 A。

17. 日本明治维新后，在社会上出现了兴建洋房洋楼的热测，这源于明治维新

- A. 加强中央集权，废藩置县 B. 实行征兵制，建立新式军队
C. 发展近代工业，改革地税 D. 提倡文明开化，向西方学习

【答案】 D

【解析】

【详解】结合所学知识可知，明治维新在社会生活方面，提倡文明开化，向西方学习，改造日本的教育、文化和生活方式。日本明治维新后，在社会上出现了兴建洋房洋楼的热测，这源于明治维新提倡文明开化，向西方学习。故 D 符合题意；加强中央集权，废藩置县属于明治维新政治方面的措施，与题干信息不符，排除 A；实行征兵制，建立新式军队属于明治维新军事方面的措施，与题干信息不符，排除 B；发展近代工业，改革地税促进了日本经济的发展，排除 C。故选 D。

18. 下面图一和图二分别宣传 20 世纪 30 年代的苏联、美国实施的经济措施，这两项措施的实施



图一—五年计划，四年完成 图二积极劳动，以工代赈

- A. 都体现了国家对经济的干预
B. 都暴露了发展重工业的弊端
C. 说明了两国的经济环境相同
D. 都迅速推进本国工业化完成

【答案】A

【解析】

【详解】依据图一“一五计划”结合所学知识可知，1928年，苏联开始实施第一个五年计划，优先发展重工业，体现了国家对经济的干预。依据图二“以工代赈”结合所学知识可知，图二属于罗斯福新政的措施，罗斯福新政的特点是国家干预经济。故A符合题意；罗斯福新政与发展重工业无关，排除B；斯大林等苏联领导人认为，苏联经济远比西方资本主义国家的经济落后，苏联应该摒弃资本主义国家走过的工业化道路，优先发展重工业，因此苏联开始实施第一个五年计划。为了应对经济大危机，罗斯福实行新政。排除C；迅速推进本国工业化完成与罗斯福新政不符，排除D。故选A。

19.1941年，罗斯福曾说：“你可以把它（战争）比作一场英式足球赛，我们就好像是预备队，闲坐在旁的长凳上瞧人家的，俄国（苏联）和中国形成先上场的第一队……在球赛进行到我们的先锋队员快要疲乏的时候，我们就应该参加进去，做最后一击，以决定全局的胜利。”导致美国“参加进去”的事件是

- A. 卢沟桥事变
B. 日军突然袭击珍珠港
C. 诺曼底登陆
D. 《联合国家宣言》签署

【答案】B

【解析】

【详解】第二次世界大战爆发后，1941年12月，日军偷袭珍珠港，美国对日宣战，太平洋战争爆发。故B符合题意；卢沟桥事变是中国全民族抗战开始的标志，排除A；诺曼底登陆发生在1944年，排除C；1942年《联合国家宣言》签署，标志着世界反法西斯联盟的建立，排除D。故选B。

20.20世纪以来，世界政治格局发生了多次演变，按其形成的先后顺序排列正确的一组是

- A. 凡尔赛—华盛顿体系→两极格局→多极化趋势
B. 多极化趋势→凡尔赛—华盛顿体系→两极格局
C. 两极格局→凡尔赛—华盛顿体系→多极化趋势
D. 两极格局→多极化趋势→凡尔赛—华盛顿体系

【答案】A

【解析】

【详解】依据所学可知，20世纪以来，一战后，帝国主义国家为重新分割世界，分别召开了巴黎和会和华盛顿会议，暂时调整了帝国主义对世界 统治新秩序，形成一战后的世界格局：凡尔赛—华盛顿体系。二战结束后，针对北约组织的建立，1955年，苏联华沙条约组织成立。从此欧洲出现了北约和华约两大军事政治集团对峙的局面，以苏联和美国为首的东西方两大集团对峙的两极格局最终形成。1991年底苏联解体，二战后的两极格局结束，世界暂时形成“一超多强”的局面，世界朝着多极化方向发展，但是到目前为止一个新的相对稳定的格局还没有形成。因此20世纪以来，世界政治格局出现了三次大的演变，按其形成的先后顺序排列正确的是凡尔赛—华盛顿体系→两极格局→多极化趋势，A项符合题意；综上所述BCD三项均不符合题意，排除。故选A。

二、列举题

21.根据下列提示，写出相对应的历史人物。

- (1) 公元前1600年，建立商朝的国王是_____。
- (2) 1279年，元朝完成全国统一时在位的皇帝是_____。
- (3) 19世纪中期出版的《物种起源》，其作者是_____。
- (4) 15世纪末，“发现”美洲的航海家是_____。

【答案】 (1). 汤 (2). 忽必烈 (3). 达尔文 (4). 哥伦布

【解析】

【详解】(1) 约公元前1600年，商汤灭夏，建立商朝。建立商朝的国王是汤。

(2) 1271年，忽必烈建立元朝。1276年，元灭南宋。1279年，元朝完成全国统一，当时在位的皇帝是元世祖忽必烈。

(3) 19世纪中期，英国达尔文的《物种起源》出版，作者提出了进化论的观点。

(4) 1492年，哥伦布从西班牙出发，横渡大西洋，发现了美洲新大陆。15世纪末，“发现”美洲的航海家是哥伦布。

22.根据下列提示，写出相对应的史实。

- (1) 标志着中国共产党诞生的会议是_____。
- (2) 打响了武装反抗国民党反动统治的第一枪是_____。
- (3) 中共十九大确立的中国共产党的指导思想是_____。
- (4) 1960年，非洲17个国家独立。这年被称为_____。

【答案】 (1). 中共一大 (2). 南昌起义 (3). 习近平新时代中国特色社会主义思想 (4). “非洲年”

【解析】

【详解】（1）1921年中共一大的召开，标志着中国共产党诞生。

（2）1927年8月1日的南昌起义，打响了武装反抗国民党反动统治的第一枪。

（3）2017年，中共十九大召开，习近平新时代中国特色社会主义思想被确立为中国共产党必须长期坚持的指导思想。

（4）1960年，非洲有17个国家获得独立。这年被称为“非洲年”。

三、解析与探究题

23.中国历史源远流长，文化辉煌灿烂。完成下列问题。

（1）春秋战国时期，学术思想非常活跃，出现了百家争鸣的景象。列举当时两位思想家的名字。

（2）唐朝是中国历史上诗歌创作的黄金时期。简述唐诗“黄金时期”的具体表现。

（3）经过27年的努力，李时珍编写出规模空前的药物学著作《本草纲目》。请谈谈《本草纲目》的历史地位与现实价值。

【答案】（1）孔子；老子；庄子；墨子等（举出两位即可）。

（2）题材丰富；风格多样；诗歌留存数量多；气象万千，名家辈出；

（3）它是我国古代规模空前的药物学百科全书；总结了我国古代药物学成就，丰富了我国药物学宝库，在世界医学史上占有重要的地位。

【解析】


【详解】（1）春秋战国时期，学术思想非常活跃，出现了百家争鸣的景象。孔子和老子是春秋时期著名的思想家。庄子、墨子、韩非等是战国时期著名的思想家。

（2）唐朝是中国历史上诗歌创作的黄金时期。唐诗题材丰富，风格多样，诗歌留存数量多，气象万千，名家辈出。这些都是唐诗“黄金时期”的具体表现。

（3）经过27年的努力，明代著名的医药学家李时珍编写出规模空前的药物学著作《本草纲目》。《本草纲目》是我国古代规模空前的药物学百科全书，总结了我国古代药物学成就，丰富了我国药物学宝库，在世界医学史上占有重要的地位。

24.近代以来，先进的中国人为挽救民族危亡，实现民族独立和国家富强，前赴后继地进行了艰辛的探索。阅读下列材料，回答问题。

材料一



图一洋务运动 图二谭嗣同殉难 图三辛亥革命 图四《新青年》杂志

材料二 李鸿章认为：“中国文武制度，事事远出西人之上，独火器万不能及……中国欲自强，则莫如学习外国利器。欲学习外国利器，则莫如觅制器之器。师其法而不必尽用其人。”

材料三 中国同盟会的政治纲领：驱除鞑虏，恢复中华，创立民国，平均地权。

- (1) 材料一中图二和图四分别反映的是什么运动？
- (2) 根据材料二、三，分别概括洋务运动与辛亥革命的政治主张。
- (3) 综上，概述近代先进的中国人向西方学习经历了哪些变化？

【答案】 (1) 戊戌变法；新文化运动；

(2) 学习西方先进技术；推翻清朝，建立资产阶级共和国；

(3) 经历了从学技术，到学制度；再到学思想文化的过程，具有由表及里、由浅入深、逐渐深入的特点。

【解析】


【详解】 (1) 依据材料一的图二信息“谭嗣同殉难”可知图二反映的是戊戌变法。谭嗣同是戊戌六君子之一，甘愿为变法流血牺牲。依据材料一的图四信息“《新青年》杂志”可知图四反映的是新文化运动。《新青年》是新文化运动的主阵地。

(2) 根据材料二的“中国欲自强，则莫如学习外国利器。欲学习外国利器，则莫如觅制器之器。师其法而不必尽用其人。”可以概括出洋务运动的政治主张是学习西方先进技术。根据材料三的“驱除鞑虏，恢复中华，创立民国，平均地权”，可以概括出辛亥革命的政治主张是推翻清朝，建立资产阶级共和国。

(3) 洋务运动是学习西方先进的技术，戊戌变法和辛亥革命是学习西方先进的政治制度，新文化运动是学习西方先进的思想文化，中国近代化探索历程是从学技术到学制度到学思想文化，具有由表及里、由浅入深、逐渐深入的特点。

25.下列电影镜头中的瞬间，是新中国珍贵的历史记忆，根据镜头画面，回答下列问题。

- 画面一：1964年10月16日，中国西部的荒漠地带，升腾起“朵巨大的蘑菇云。”
- 画面二：1971年11月15日，联合国大会上，中国外交部长乔冠华激动的心情难以抑制，开怀大笑。
- 画面三：1978年12月22日，大会宣布，党和国家工作的重点转移到经济建设上来。
- 画面四：1997年7月1日0时整，在雄壮的中华人民共和国国歌声中，政权交接仪式正式开始。



(1) 请对应以上历史画面，完成下表序号处的内容。

画面	事件名称	历史作用与意义
画面一	①	打破了帝国主义的核垄断，加强了我国的国防力量，大大提高了我国的国际地位。
画面二	②	是中国外交的重大胜利，有利于中国在国际事务中发挥更大作用。
画面三	③	开启了改革开放和社会主义现代化的伟大征程。
画面四	香港回归祖国	④

(2) 综上所述，我们伟大的祖国能够取得这些成就，应具备哪些条件？

【答案】 (1) ①我国第一颗原子弹爆炸成功；②中国重返联合国；③十一届三中全会召开；④标志着中国人民洗雪了百年国耻，在完成祖国统一大业的道路上迈出了重要的一步。

(2) 我国综合国力增强；国际地位提高等


【解析】

【详解】 (1) 依据画面一的“1964年10月16日，‘蘑菇云’”结合所学知识可知，1964年10月16日，我国第一颗原子弹爆炸成功，打破了帝国主义的核垄断，加强了我国的国防力量，大大提高了我国的国际地位。故①填我国第一颗原子弹爆炸成功；依据画面二的“1971年11月15日，联合国大会”结合所学知识可知，1971年11月15日，第26届联合国大会通过决议，恢复中国在联合国的合法席位。这是中国外交的重大胜利，有利于中国在国际事务中发挥更大作用。故②填中国重返联合国；依据画面三的“1978年12月，党和国家的工作重点转移到经济建设上来”结合所学知识可知，1978年12月召开的中共十一届三中全会，作出把党和国家的工作重点转移到经济建设上来，实行改革开放的伟大决策，开启了改革开放和社会主义现代化的伟大征程。故③填十一届三中全会召开；依据画面四的“1997年7月1日”结合所学知识可知，1997年7月1日，香港回归祖国，标志着中国人民洗雪了百年国耻，在完成祖国统一大业的道路上迈出了重要的一步。故④填标志着中国人民洗雪了百年国耻，在完成祖国统一大业的道路上迈出了重要的一步。

(2) 综合以上所述，中国第一颗原子弹爆炸成功，重返联合国，香港的回归，这些成就的取得，应具备的条件是我国综合国力增强；国际地位提高等。

26.阅读下列材料，回答问题。

材料一



图一

图二

材料二 珍妮纺纱机的发明者哈格里夫斯原是织工，后来做了木匠；骡机的发明者克伦普顿是个纺纱工兼织工……在 19 世纪，自然科学特别是热学、电磁学、化学等方面的新发展，开始与工业生产技术紧密地结合起来，在技术上取得一系列重大的突破……

——摘编自吴于廑、齐世荣主编《世界史·近代史编》

- (1) 材料一是第一次工业革命和第二次工业革命时期发明的交通工具，请分别指出这两种交通工具的名称及它们各自运用的动力机名称。
- (2) 根据材料二，分别概括第一次工业革命和第二次工业革命的特点。
- (3) 在近期的新冠肺炎疫情中，为了防疫需要，学生们都曾在家接受远程教育，这得益于第三次科技革命中的哪项科学技术的应用？
- (4) 以上科技发明对人类社会的进步有哪些积极作用？

【答案】 (1) 名称：火车；汽车；动力机：蒸汽机；内燃机；

(2) 第一次工业革命的发明者多是技术工人；第二次工业革命把科学研究与工业生产紧密地结合起来。

(3) 电子计算机技术；

(4) 改善了人们的生活；改变了人们的思想观念；促进了生产的发展和社会的进步；缩短了人们交流的距离等

【解析】

【详解】 (1) 依据所学可知，材料一是第一次工业革命和第二次工业革命时期发明的交通工具，这两种交通工具的名称是火车和汽车；它们各自运用的动力机是蒸汽机和内燃机。1785 年瓦特改进蒸汽机，蒸汽机成为主要的动力来源，带动了交通运输业的革新。第一次工业革命期间，1825 年，史蒂芬森设计制造的“旅行号”蒸汽机车在新铺设的铁路上试车成功，蒸汽机在交通运输业中的应用，使人类迈入了“铁路时代”，火车是蒸汽机为动力机。内燃机的发明是第二次工业革命中应用技术领域的另一项重大成就，解决了交通运输工具的发动机问题，在交通领域内引发了一场变革，因此汽车是以内燃机为动力机。

(2) 依据材料二“珍妮纺纱机的发明者哈格里夫斯原是织工，后来做了木匠；骡机的发明者克伦普顿是个

纺纱工兼织工……”可知，第一次工业革命特点是发明者多是技术工人；据材料“在 19 世纪，自然科学……的新发展，开始与工业生产技术紧密地结合起来，在技术上取得一系列重大的突破……”可知，第二次工业革命的特点是科学研究与工业生产紧密地结合起来。

(3) 在近期的新冠肺炎疫情中，为了防疫需要，学生们都曾在家接受远程教育，这得益于第三次科技革命中电子计算机技术的应用。第二次世界大战后兴起的第三次科技革命其核心是电子计算机的广泛使用，而计算机网络技术的发展是计算机产业最有前途的发展方向。国际互联网是全世界由计算机、计算机网络互相连接成的信息传输网络，是人类历史发展中的一个里程碑，把人类带入了“信息化时代”。

(4) 综合以上科技发明可知，对人类社会进步的积极作用有改善了人们的生活；改变了人们的思想观念；促进了生产的发展和社会的进步；缩短了人们交流的距离等。

试卷相关说明

本试卷的题干、答案和解析均由组卷网 (<http://zujian.xkw.com>) 专业教师团队编校出品。登录组卷网可对本试卷进行**单题组卷**、**细目表分析**、**布置作业**、**举一反三**等操作。

试卷地址：[在组卷网浏览本卷](#)

组卷网是学科网旗下的在线题库平台，覆盖小初高全学段全学科、超过 900 万精品解析试题。关注组卷网服务号，可使用移动教学助手功能（布置作业、线上考试、加入错题本、错题训练）。



学科网长期征集全国最新统考试卷、名校试卷、原创题，赢取丰厚稿酬，欢迎合作。
钱老师 QQ : 537008204 曹老师 QQ : 713000635