

2023年四川省宜宾市中考历史真题

(考试时间：60分钟；全卷满分：100分)

注意事项：

1. 答题前，务必将自己的姓名、座位号、准考证号填写在答题卡指定的位置并将答题卡座位号对应标号涂黑
2. 答选择题时，务必使用2B铅笔将答题卡上对应题目的答案标号涂黑，如需改动，用橡皮擦擦干净后，再选涂其它答案标号。
3. 答非选择题时，务必使用0.5毫米黑色签字笔，将答案书写在答题卡规定的位置上。
4. 所有题目必须在答题卡规定的位置上作答，在试卷上答题无效。

一、选择题：包括16小题，每小题3分，共48分。在每小题给出的四个选项中，只有一项是符合题目要求的。

1. 文物承载着历史的信息。运用图中所示文物可研究（ ）



河姆渡骨耜



河姆渡猪纹陶钵



半坡彩陶盆



河姆渡遗址稻谷

- A. 早期人类起源
 - B. 原始农耕生活
 - C. 远古炎黄联盟
 - D. 早期国家产生
2. 战国时期某一思想家认为，按商鞅之法组建的秦国军队是无礼义教化、求赏逐利的“盗兵”。这一观点代表（ ）
- A. 法家
 - B. 墨家
 - C. 儒家
 - D. 道家
3. 秦统一后实行“书同文”。下列能直接佐证这一史实的是（ ）
- A. 影视作品《大秦赋》
 - B. 司马迁的《史记》
 - C. 许慎的《说文解字》
 - D. 出土的里耶秦简

4. 《魏书》记载，北魏孝文帝改革前，举行祭典依北土旧俗，由有司代祭；改革后，按华夏礼制，由皇帝亲祭。这一变化（ ）

- A. 消除了民族之间的隔阂
- B. 推动了北魏统一南北
- C. 促进了鲜卑政权 汉化
- D. 提升了官员政治素养

5. 陕西西安慈恩寺中的大雁塔为唐朝时期所建，“雁塔题名”成为当时进士及第的代称。与其相关的是（ ）

- A. 科举制
- B. 三省六部制
- C. 察举制
- D. 九品中正制

6 综合下列信息可说明，宋代（ ）

<p>赋税(万贯)</p> <p>■北方 ■南方</p> <p>1045年(北宋) 1196年(南宋)</p> <p>两宋时期南北财政收入比较</p>	<p>“苏湖熟，天下足”</p> <p>——宋代民间谚语</p>	<p>浙江哥窑裂纹瓷器</p>
---	----------------------------------	-----------------

- A. 海外贸易兴盛
- B. 民族政权分立
- C. 制瓷技术高超
- D. 南方经济繁荣

7. 明清时期，商人、工匠、市井游民、普通妇女经常成为小说戏曲主人公，如《雷峰塔》中精通商道、向往世俗婚姻的白娘子。这一现象源于当时（ ）

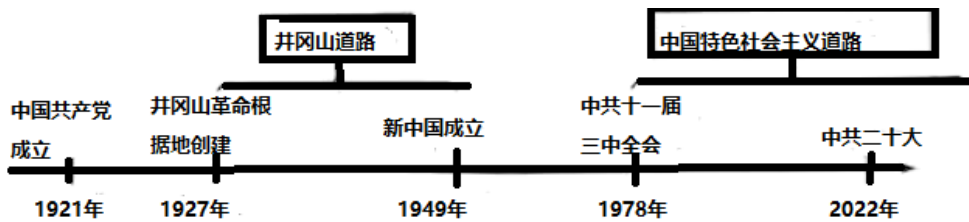
- A. 商品经济发展
- B. 女性地位提高
- C. 作者个人喜好
- D. 君主专制衰落

8. 下表是宜宾档案馆部分“抗战记忆”珍贵史料，体现了当时宜宾（ ）

江安·国立剧专	演出宣传救亡图存的戏剧，票价收入全部捐给前线
中元造纸厂	保存民族工业血脉，为持久抗战提供物资和军需保障
菜坝·军用机场	人民踊跃捐资、自带干粮参加抢建
李庄·红色记忆	积极主动接纳内迁的同济大学等文化科研机构

- A. 成为抗日战争主战场
- B. 积极参与全民族的抗战
- C. 建立起完整教育体系
- D. 文艺工作者是抗战主体

9. 依据教材构建“中国共产党百年探索历程”思维导图（如图）。这一历程体现了（ ）



- A. 经济建设的市场化
- B. 现代中国工业化
- C. 马克思主义中国化
- D. 社会生活信息化

10. 中医学是传统文化的瑰宝。下表信息反映了，中医学（ ）

姓名	时期	主要成就
扁鹊	东周	总结“望、闻、问、切”四诊法，一直被中医沿用
张仲景	东汉	写成《伤寒杂病论》，发展了中医学理论和治疗方法
李时珍	明朝	编写《本草纲目》，丰富了中医药学宝库，广为流传
屠呦呦	当代	萃取中医文化的精华，开创了有效治疗疟疾的新方法

- A. 成果丰硕，守正创新
- B. 实验为主，技术先进
- C. 中西结合，影响深远
- D. 着眼著书，传播世界

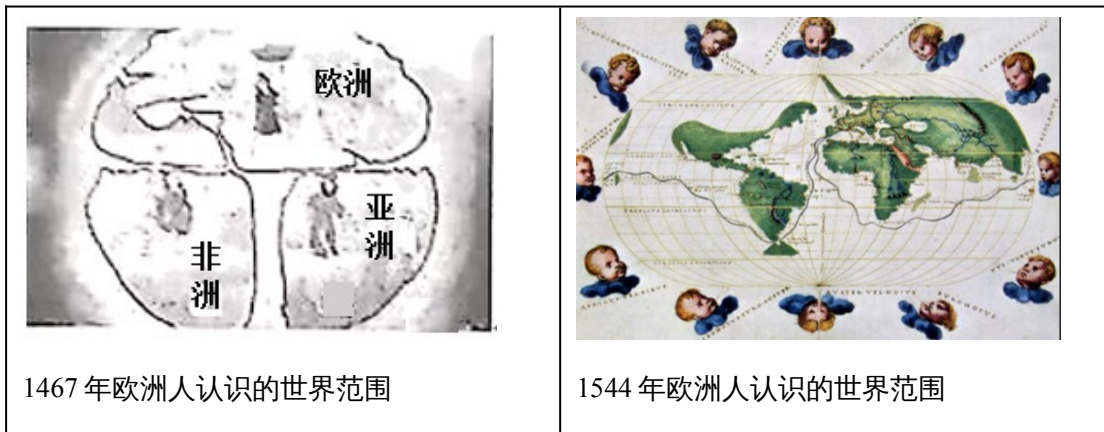
11. 在埃及太阳历 基础上创新了儒略历：吸收希腊建筑特点，创新出石拱门、穹顶；制定《十二铜表法》，成为欧洲法学的渊源。这说明，古罗马（ ）

- A. 成为欧亚文化发祥地
- B. 推动文化交流与传播
- C. 建立完整的法学体系
- D. 搭建了欧亚和平之桥

12. “效忠我的主人……主人凡践履契约……善待于我，赐我以应得……必将以他的意志为准则，绝无违背。”这一誓词指向中世纪西欧的（ ）

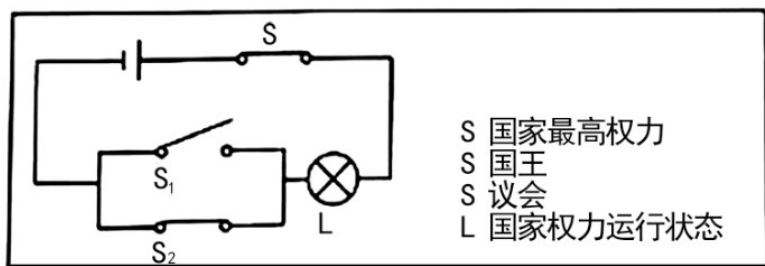
- A. 庄园经济制度
- B. 封君封臣制度
- C. 城市自治制度
- D. 宗教文化制度

13. 根据图可知，影响近代欧洲人重新认识世界的大事是（ ）



- A. 文艺复兴扩展
- B. 启蒙运动的兴起
- C. 新航路的开辟
- D. 东罗马帝国灭亡

14. 物理科代表巧用电路图表示 17 世纪后期某国家最高权力的转移（如图：打开 S_1 ，闭合 S 、 S_2 ，L 灯亮）。其意指（ ）



- A. 美国
- B. 英国
- C. 法国
- D. 日本

15. 1947 年，时任美国总统在国会演说，把世界分为“自由国家”和“集权政体”，美国政策必须是支持各“自由民族”来抵抗外来的压力。为此，美国（ ）

- A. 出台杜鲁门主义
- B. 积极促成联合国建立
- C. 支持欧洲共同体
- D. 恢复了华沙条约组织

16. 下表中周年大事件与其认识搭配正确的是（ ）

选项	时间	事件	认识
A	1883 年	德国工程师研制出内燃机	人类社会进入“蒸汽时代”
B	1943 年	斯大林格勒战役胜利	世界反法西斯战争结束
C	1953 年	中国实施“一五计划”	社会主义工业化完整体系建立
D	2003 年	神舟五号发射，杨利伟登上太	中国载人航天工程取得重大突破

		空	
--	--	---	--

A. A

B. B


C. C

D. D

二、非选择题：包括3小题，共52分。

17. 学校围绕“国际关系”开展主题式项目学习，请你按要求参与。

项目一 _____



鉴真像



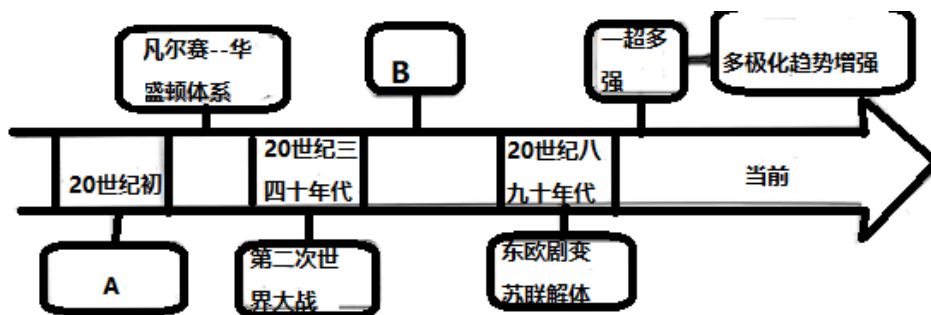
马可波罗像



郑和像

(1) 根据图拟定学习主题，任选图中两个人物写出与主题相关的史实。

项目二 20世纪以来国际格局演变（见图）



(2) 完善图中 A、B 处空格，结合所学分析影响国际格局演变的因素。

项目三 构建人类命运共同体（见图）



只有坚持相互尊重，平等相待，合作共赢，承载着人类全人类共同命运的“地球号”才能乘风破浪，平稳前行。

(3) 参照示例并结合现代史，举一史实说明中国力量发挥了怎样的作用。

示例：1955年，中国提出“求同存异”方针，促进万隆会议圆满成功，加强了亚非国家的团结与合作。

18. 城市发展是国家发展的缩影。阅读材料，回答问题。

材料一 法国首都巴黎早在14世纪就开始城市扩建。19世纪40年代，巴黎人口升至100万，政府成立规划处、颁布《巴黎扩区法令》等，进行城市大规模改造。经过改造，市区道路从384公里增加到420公里；人行道路两旁设置了相应公共设施；解决了废水排放、防洪、水源保护等问题。但也存在居住区域条件差异、贫穷疾病等问题导致社会撕裂，1871年巴黎公社革命便开始于落后的城东地区。

——摘编自《变革时代的城市现代化转型——以“巴黎大改造”为例》等

(1) 根据材料一，指出19世纪40年代以来巴黎城市改造的措施及存在问题。

材料二 深圳原是一个落后的边陲小镇，周围都是农田，人口2.3万人，面积只有2.9平方公里，道路不足3公里。1980年建立经济特区后，政府平均每年完成基建投资比1978年增长了50.8倍，其中利用外资占24.3%。经过6年的建设，人口增长了4倍，人均居住面积增加2.6倍，居全国前列；城市面积扩大至40平方公里；形成四通八达的道路交通网，呈现出一个现代化城市的雏形。深圳在大规模的城市建设中，创造出著名的三天一层楼的“深圳速度”，成为对外开放的窗口。

——摘编自《深圳经济特区年鉴1985》等

(2) 根据材料二，指出深圳城市发展的成果，结合所学分析原因。

(3) 综合上述材料并结合所学，提出一条现代化城市发展的建议。

19. 综合探究题。根据要求，完成探究。

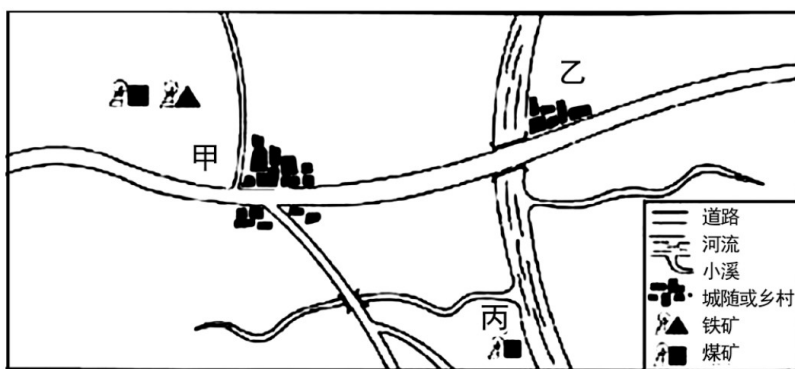
材料一 1872年，第一批留美学生（见图）由上海乘轮赴美，1875年最后一批送毕。按规定，学生出洋后，学习西学仍兼讲中学。“不准半途而废，亦不准入籍外洋”，学成后听候酌量器使，奏明委用。

——摘编自郑振铎《晚清文选》等



(1) 据材料一指出清政府派遣留美学生与近代哪一场运动有关？其目的何在？

材料二 1889年，张之洞调任湖广总督，购得大冶铁矿，准备选址建铁厂。

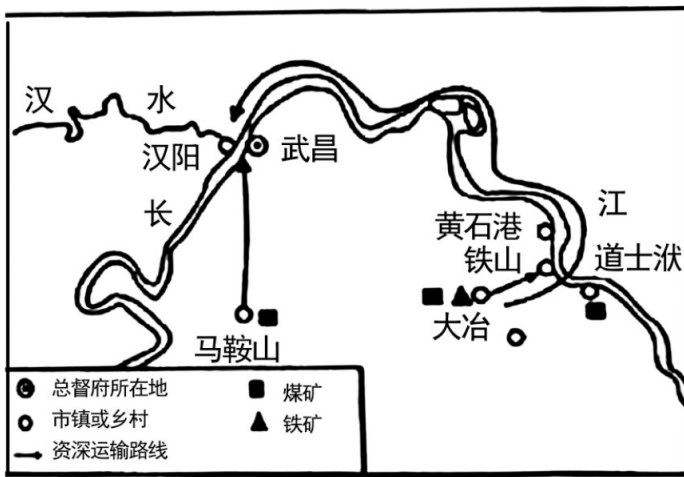


大冶选址区域示意图

(2) 假设你是当时留美回国学员，利用图并考虑近代工业发展条件（如：资源、交通等），在甲、乙、丙三处中推荐最合理的一处厂址，说明理由。

材料三 张之洞认为“大冶路远，照料不便，若建于汉阳，吾犹及见铁厂之烟囱也”，历经波折，最终选址汉阳（见图）。铁厂采取官办，动用官款5,829,629两，甲午战争后，清政府已无余力接济；1908年，盛宣怀将汉阳铁厂商办；一战期间，向日商借款3700万日元；抗战爆发后，国民政府把全部设备运往重庆，剩下的建筑悉数炸毁，成立五十年不到的汉阳铁厂，就此灰飞烟灭。

——摘编自陈真《中国近代工业史资料》等



- (3) 根据材料三，概括张之洞最终选址汉阳建铁厂的原因。
- (4) 结合汉阳铁厂的命运，谈谈你对中国近代化的认识。