

2010年全国中考历史试题按课标顺序汇编

——世界现代史部分

(一)苏联社会主义道路的探索

【内容标准】

(1) 简述俄国 1917 年彼得格勒武装起义的概况，了解世界历史上第一个社会主义国家的诞生及其重大意义。

17 (2010 年攀枝花市) 俄国十月革命和二月革命相比,不同之处是: (C)

- A.采取武装斗争的方式 B.工人是革命的主力
C.属于社会主义革命 D.布尔什维克党领导斗争

26 (2010 年四川省成都市) 十月革命胜利后,苏维埃政权为抗击国内外敌人实行过一系列非常措施,被称为 C

- A.临时政策 B.特殊政策
C.战时共产主义政策 D.新经济政策

13. (2010 年綦江县) 俄国十月革命一声炮响,鼓舞了被压迫民族的解放运动。下列关于十月革命的表述,不正确的是 (C)

- A.列宁亲自领导和指挥了彼得格勒武装起义
B.建立了第一个社会主义国家
C.是一次伟大的资产阶级革命

38 (2010 年青岛市) 2008 年度中国“十大流行语”排行榜上,排在前两位的是“北京奥运会”、“金融危机”,如果 1917 年的俄国也有一个“年度十大流行语”排行榜,你认为排在前两位的应是 (A)

- A.十月革命、人民委员会 B.苏联成立、新经济政策
C.农业集体化、新宪法 D.一五计划、赫鲁晓夫改革

22 (2010 年东营市) 从世界历史上看,社会主义第一次实现了从理论到实践,从理想到现实巨大飞跃的重大事件是 (B)

A.巴黎公社成立 B.俄国十月革命 C.“苏联”成立 D.宪章运动

21. (2010 年长春市) 在大国竞技的舞台上,各国总是你方唱罢我登场,扮演着一个个独一无二的角色。

君主立宪,工业先声,它曾一度雄居世界。

革命烈焰,巴黎公社,它践行着各种社会理想。

危局新政,科技引领,它是当今世界最富强的国度。

沙皇改革,十月革命,它曾建立起第一个社会主义国家。

根据以上材料,回答问题:

(1) 写出材料中提及的四个国家。(4分)

(2) 就文中划线部分史实任选其一进行介绍。(要求:史实准确,表述清晰流畅,字数 70 字左右。5分)

(3) 从上述国家的发展过程中,我们可以获得哪些启示?(1分)

18. (2010 年三明市) 与世界上第一个社会主义国家诞生相关的历史事件是 (C)

- A.俄国 1861 年改革 B.二月革命 C.十月革命 D.新经济政策

17 (2010年福州市) 1917年7月,俄国彼得格勒工人、士兵举行游行示威,要求“全部政权归苏维埃”。带领他们实现这一目标的是 (A)

- A. 列宁 B. 斯大林 C. 赫鲁晓夫 D. 戈尔巴乔夫

(2) 了解列宁在社会主义建设方面所做的探索。

11 (2010年菏泽市) 列宁认为,既然俄国无法直接过渡到社会主义,那么就“应该利用资本主义作为小生产和社会主义的中间环节”,这项对小农占优势的国家走社会主义道路有深远指导意义的政策是 (B)

- A. 战时共产主义政策 B. 新经济政策
C. 农业集体化政策 D. 工业化政策

40. (2010年四川省自贡市) 20世纪20年代,从本国国情出发,实行新经济政策,利用市场来建设社会主义的历史人物是 (D)

- A. 邓小平 B. 毛泽东 C. 马克思 D. 列宁

26. (2010年四川省乐山市) 右图反映的现象,出现的原因是 (C)

- A. 战时共产主义政策的实施
B. 农业集体化政策的实施
C. 新经济政策的实施
D. 斯大林模式的推行



1922年苏俄农民踊跃交纳粮食税

21 (2010年滨州市) 1921—1925年,苏俄(苏联)农业生产情况表

年份	1921年	1923年	1925年
项目			
粮食作物耕种面积(万公顷)	6620	7860	8730
粮食作物产量(亿普特)	22.13	34.55	44.24

苏俄(苏联)农业生产出现以上变化的原因是 (B)

- A. 十月革命的胜利 B. 新经济政策的实施
C. 斯大林模式的形成 D. 赫鲁晓夫改革

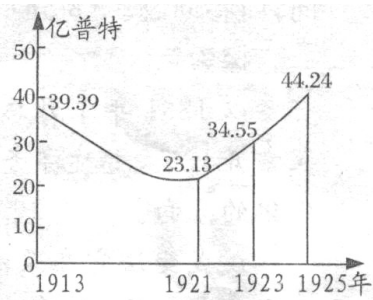
29 (2010年山东聊城市) 右边是苏俄(联)粮食产量变化曲线图。1921--1925年粮食产量迅速增长的主要原因是 (B)

- A. 《土地法令》的颁布
B. 新经济政策的实施
C. 第一个五年计划的实行
D. 农业集体化的推行



19 (2010年泰州市) 右图为苏俄(联)粮食产量变化曲线,其中影响1921~1925年变化的主要因素是

- A. 战时共产主义政策
B. 新经济政策
C. 斯大林模式
D. 戈尔巴乔夫的改革



解析:由图表可知,在1921~1925年这一时段,苏俄(联)粮食产量逐年上升,其重要原因是从1921年开始苏俄实行新经济政策;A

选项，战时共产主义政策在 1921 年之前；C 选项，1936 年苏联新宪法的制定，标志着斯大林模式形成；D 选项，戈尔巴乔夫的改革是在 20 世纪 80 年代末；答案：B

33 (2010 年盐城市) 中国、苏俄 (苏联) 两国革命和建设道路的探索过程既有相似之处，也存在差异。某校历史兴趣小组准备各对此进行学习和探究，请你参与其中，帮助他们解决问题。

步骤一 活动探究

活动 II：对两国革命道路的探究



(1) 要求：模仿小军对俄国革命道路的解说，帮小芳将中国革命道路开辟的解说词补充完。(1 分)

井冈山革命 (1 分)

活动 II：以两国建设道路的探索为研究对象，结合以下材料，探究相关问题：

“社会主义究竟是个什么样子，苏联搞了很多年，也并没有完全搞清楚。可能列宁的思路比较好，搞了……，但是后来苏联的模式僵化了” ——邓小平

(2) 材料中“列宁的思路比较好”是指实施了什么政策？(1 分)

新经济政策 (1 分)

(3) 在新中国成立初期的十年社会主义道路探索中，我们成功仿效了苏联的很多做法，但也有自己的创新，同时也出现过严重失误。请就“成功仿效”、“创新”和“失误”各举一例。(3 分)

“成功仿效”是第一个五年计划的实施 (1 分)；、“创新”是指改革开放 (1 分)；“失误”是指大跃进和人民公社化运动 (1 分，答文化大革命也对)

步骤二 感悟提高

(4) 比较两国探索的成功经验和惨痛教训，你得到的最大启迪是什么？(2 分)

要根据本国国情制定发展政策

21 (2010 年扬州市) 1921 年苏俄实施的新经济政策“新”在 (A)

- A. 把社会主义与市场、商品货币关系联系起来
- B. 实行工业国有化，取消自由贸易
- C. 排斥市场调节和价值规律
- D. 建立高度集中的经济政治体制

32. (2010 年十堰市) 1921 年，苏俄在国民经济陷于瘫痪的状态下，果断地在全国实施 (B)

A. 战时共产主义 B. 新经济政策 C. 一五计划 D. 农业集体化

23 (2010 年汕头市) 邓小平说：“社会主义究竟是个什么样子，苏联搞了很多年，也并没有完全搞清楚。可能列宁的思路比较好，搞了个新经济政策……”新经济政策的主要内容是 (C)

- A. 废除粮食税，实行余粮征集制
- B. 实行农业集体化政策，消灭地主阶级
- C. 允许多种经济并存，大力发展商品经济
- D. 推行计划经济，重点发展重工业

(3) 概述二三十年代苏联社会主义建设的重大成就和经济政治体制上存在的严重弊端。

42 (2010年东莞市) 斯大林创建的政治经济体制虽然使苏联取得巨大的建设成就,但这一模式也存在着严重的问题。斯大林模式在政治上的弊端是 (C)

- A. 优先发展重工业
- B. 排斥市场调节
- C. 权力高度集中
- D. 民主法制健全

22 (2010年岳阳市) 下列符合 20 世纪 30 年代的苏联情况的是: (D)

- A. 重工业由外国资本家经营
- B. 市场经济繁荣
- C. 经济危机严重
- D. 基本实现社会主义工业化

19 (2010年潍坊市) 斯大林曾说:“工业化的中心,工业的基础,就是发展重工业。”这一思想给苏联发展带来的直接影响是 (B)

- A. 建立了社会主义制度
- B. 导致了国民经济比例严重失调
- C. 加速了农业化的发展
- D. 形成了过度集中的经济管理体制

11 (2010年沈阳市) 右图为苏联工业化宣传画。画中人物领导苏联人民实现了社会主义工业化,成为世界上一流工业强国。是 (A)

- A. 斯大林
- B. 赫鲁晓夫
- C. 勃列日涅夫
- D. 戈尔巴乔夫




导他

18 (2010年攀枝花市) 运用数据进行分析学习的一种重要方法,从右图

数据变化中你能获得的正确信息是: (B)

- A. 苏联工业发展慢于德国
- B. 苏联工业产值跃居欧洲第一
- C. 苏联工业产值跃居世界第一
- D. 苏联农业得到迅速发展



是历史学

(二)凡尔赛-华盛顿体系下的西方世界

【内容标准】

(1) 了解凡尔赛和约、九国公约的基本内容。

18. (2010年襄樊市) 使中国“回复到几个帝国主义国家共同支配的局面”的国际会议是 (B)

- A. 巴黎和会
- B. 华盛顿会议
- C. 万隆会议
- D. 万国会议

23 (2010年贵港市) 第一次世界大战后召开的华盛顿会议建立了帝国主义在远东和哪一地区的“新秩序”? (C)

- A. 欧洲
- B. 西亚
- C. 太平洋地区
- D. 非洲

7. (2010年桂林市) 弱国无外交,落后遭欺凌。中外历史上一系列不平等条约的签定充分表明了这一深刻的道理。在《九国公约》中体现弱国无外交的内容是 (D)

- A. 中国赔款 2100 万元给英国
- B. 中国割让台湾和澎湖列岛给日本
- C. 划定东交民巷为“使馆界”
- D. 确立列强在华“门户开放”“机会均等”原则

16. (2010年无锡市) 右图是一战后的一幅漫画。三个黑衣从左向右依次是英国首相劳合·乔治、法国总理克里孟梭和美国总统威尔逊,没有上衣以背示人的是德国代表。英、法分立于断头台两侧,法国更是迫不及待地想将德国置于死地,美国虽然不赞同英法的做法,但迫于自身的实力有限,只有愁眉苦脸,摊手表示无奈。漫画指责巴黎和会上“三巨



头”对德国的不公平处理，犹如将德国送上断头台一般。他们最终和德国签订了 (B)

- A. 《九国公约》 B. 《凡尔赛和约》
C. 《五国公约》 D. 《四国公约》

32. (2010年达州市) 下列历史事件，按时间先后顺序排列
该是 (D)

① 凡尔登战役②五四运动③巴黎和会的召开④三国协约的
成

- A. ②③①④ B. ①②③④ C. ①③②④ D. ④①③②



应
形

12 (2010年山西省) 对下图相关史实的叙述，正确的是 (C)

- A. 打破了日本几乎独霸中国的局面
B. 彻底解决了帝国主义国家之间的矛盾
C. 德国的海外殖民地由英、法、日等国瓜分
D. 中国政府代表在《凡尔赛和约》上签字

27 (2010年四川省成都市) 在近现代国际关系史上，与 1919 年中国的“五四”运动爆发有
直接关联的国际会议是 A

- A. 巴黎和会 B. 华盛顿会议
C. 慕尼黑会议 D. 开罗会议

13 (2010年湘潭市) 巴黎和会是帝国主义的分赃会议，下列最能体现这一性质的是
(A)

- A. 德国的海外殖民地由英法日等国瓜分 B. 阿尔萨斯和洛林归还法国
C. 德国取消普遍义务兵役制 D. 德国支付大量赔款给战胜国

(2) 简述 1929-1933 年资本主义世界经济危机的影响。

16 (2010年鄂州市) 1933 年，罗斯福就任美国总统。在总统就职演说中，他鼓励美国人民
“真正让我们感到恐惧的，只是‘恐惧，本身。’”当时美国人感到恐惧的事情是 (B)

- A. 法西斯势力猖獗 B. 经济危机严重 C. 罗斯福推行“新政”D. 美国卷入二战

30 (2010年山东聊城市) 1932 年，某政要指出：“世界近两年正在倒退，各国……采取
危及世界和平的猜疑、恐惧和威胁的态度。”出现这一形势的主要原因是 (B)

- A. 同盟国和协约国军事对峙
B. 严重的经济危机波及世界
C. 亚洲战争策源地形成
D. 慕尼黑会议割让苏台德

10 (2010年沈阳市) 1932 年，美国工业生产指数比 1929 年下降了 46.2%，有 13 万家以
上工厂倒闭。农产品批发价格下跌了 54%，农民的农业净收入从 61 亿美元降到 20 亿美元，
100 多万家农场破产，许多农民流离失所。导致这一现象出现的原因是 (C)

- A. 罗斯福新政的实施 B. 法西斯政权的建立
C. 经济大危机的爆发 D. 马歇尔计划的实施

(3) 以“产业复兴法”为例，评价罗斯福新政在资本主义发展史上的作用。

18 (2010年福州市) “1929 年 10 月 24 日，美国纽约股市突然打了个喷嚏，这个喷嚏迅
速蔓延全球，所有资本主义国家都感冒了。”美国医治“感冒”的有效药方是 (B)

- A. 新经济政策 B. 罗斯福新政 C. 法西斯专政 D. 杜鲁门主义

20. (2010年福建莆田市) 下列对罗斯福新政的评述，不正确的是 C

- A. 美国资本主义的一次自我调节
- B. 资本主义发展史上的一个里程碑
- C. 根本上消除了资本主义经济危机
- D. 开创了资产阶级政府大规模干预经济生活的先河

22 (2010年广东省) 2008年以来,一场全球性金融危机导致了世界经济的不断恶化。2010年,二十国集团领导人举行峰会进一步研究应对策略,许多国家提出了政府干预经济的举措。下列最值得各国领导人借鉴的做法是 (B)

- A. 林肯颁布《宅地法》
- B. 罗斯福实施新政
- C. 杜鲁门推行冷战政策
- D. 马歇尔倡导欧洲复兴计划

17 (2010年吉林省) 阅读下列材料,回答问题。

材料一:“在那个距今二百多年前的时代里,殖民地联合起来挑战宗主国是破天荒的大事,宣布独立的北美13个英属殖民地……与大英帝国的战争一直艰苦地打了八年,才最终赢得了独立。”

——《大国崛起》解说词

材料二:“以1898年为界标,在此前50年美国集中解决国内统一和制度问题,在此后50年……以二次大战为标志,美国完成崛起的过程。”

——《大国兴衰的历史比较》

材料三:“1929年初,美国似乎日趋繁荣……10月,股票市场的价格跌到了最低点,世界范围的经济萧条随之而来,而且萧条的强烈程度和延续时间的长久都是空前的。”

——《全球通史》

- (1) 材料一中领导“北美13个英属殖民地”打败“大英帝国”的人物是谁?“宣布独立”的标志事件是什么?(2分)
- (2) 材料二中解决“国内统一”问题的人物是谁?解决“制度问题”的文献是什么?(2分)
- (3) 材料三中“经济萧条”指什么?美国摆脱“经济萧条”的事件是什么?(2分)
- (4) 从美国崛起的历程中,我们能得到什么启示?(1分)

17. (1)华盛顿(1分) 《独立宣言》的发表(1分)

(2)林肯(1分) 《解放黑人奴隶宣言》(1分)

(3)1929-1933年经济危机(或经济大危机)(1分) 罗斯福新政(1分)

(4)美利坚民族具有反抗精神;反对分裂,维护国家统一是国家最高利益;国家统一,可为经济发展创造良好的环境;适时的政策调整(改革)能推动社会进步;杰出人物能够推动历史发展等。

24 (2010年汕头市) 一位美国学者在评价罗斯福新政时写道:“其实罗斯福新政之所以成为神话,与其说是因为它经济上的成功,不如说是政治上的成功”。罗斯福新政在政治上的主要作用是 (C)

- A.使经济缓慢地恢复过来
- B.极大地改善了人民的生活
- C.调整和巩固了资本主义制度
- D.加强了中央集权

43 (2010年东莞市) 美国《政治周刊》评论说,美国新任总统奥巴马所提出的经济计划堪称“罗斯福新政”当代版。罗斯福新政的主要特点是 (D)

- A. 改变了美国外交策略
- B. 削弱国家资本主义垄断程度
- C. 根除了美国经济危机
- D. 政府对经济生活大规模干预

16. (2010年河南省) 历史学家认为罗斯福“改变了美国生活的全貌”。罗斯福主要改变了美国【 C 】

- A. 三权分立的政治体制
- B. 二战后对苏联的战略
- C. 政府对经济的放任政策
- D. 工业行业的不正当竞争

15 (2010年鄂州市) 法国元帅福煦曾预言：“这不是和平，这是20年的休战。”这句话评价的是(A)

A. 凡尔赛—华盛顿体系 B. 三国协约 C. 雅尔塔体系 D. 三国同盟

30. (2010年黄冈市) (8分) 在世界近现代史上，美、俄、日各国在不同时期都面临着重大的社会问题，通过改革(或变法)，这些问题都不同程度地得到解决，促进社会经济的发展。阅读下列材料，结合所学知识，回答下列问题：

材料一 随着克里米亚的灾难，农奴的不断上升的压力变得不可抗拒起来，……较有远见的贵族都赞同把农奴从以往一向将他们束缚在小块土地上的契约中解放出来。这样，贵族打算将小块土地上联成一片，采用有效、大规模的农业技术，并仅仅雇佣他们所需要的从前的农奴做散工，……由于这些情况相结合，亚历山大二世能在1861年3月1日颁布废除……的法令。……这是俄国历史上的一个重大转折点，……

——[美]斯塔夫里阿诺斯《全球通史》

材料二 ……由于日本在历史上曾有过大规模吸收中国文化，以促进本国文化发展的经验，日本人把移植外来文化视为当然的事情，只要能够适应形势，任何需要的东西都可以从海外引进，既无顾虑也不以为耻。因此，当日本在19世纪中叶开始面临西方资本主义国家的侵略威胁时，能够以这些国家为榜样，顺利地实现了本国的社会变革，走上独立的资本主义发展道路。

——吴于廑、齐世荣：《世界史·近代史编》

材料三 1920-1921年，苏俄遭遇大旱灾，许多人死于饥饿。1921年2月，喀琅施塔得水兵叛乱，甚至提出“要苏维埃，不要布尔什维克”的口号。为此，列宁说：“我们还不能实现从小生产到社会主义的直接过渡……所以我们应该利用资本主义作为小生产和社会主义的中间环节，作为提生产力的手段、途径、方法和方式。”

材料四 在1932年的总统选举中，民主党候选人罗斯福当选总统。面对“大萧条”现状，他坚定地认为，这个国家需要进行大胆地、坚持不懈的试验，如果试验失败，就再试行另一种方法，最重要的是要进行试验。

——材料三、四均选自人民版《普通高中课程标准教科书·历史必修第二册》

(1)根据材料一和材料二，19世纪60年代，俄国和日本为摆脱困境各进行了什么改革？其影响有何共同点？(3分)

(2)材料三、四中，苏俄和美国为摆脱困境各进行什么措施？各自的特点是什么？(4分)

(3)从上述材料中，给中国社会主义建设带来哪些启示？(1分)

(1)改革：俄1861年改革(俄废除农奴制)，日本明治维新(2分)

共同点：都走上资本主义道路，保留了大量的封建残余(1分)

(2)措施：新经济政策罗斯福新政(2分)

列宁的新经济政策是在探索社会主义道路中尝试用市场手段发展生产力(或利用商品，货币关系发展经济)新政是加强对资本主义国家经济干预、宏观管理(意思相近即可)(2分)

(3)①面对困境，应适时作出调整②社会主义既有市场也有计划，凡是为社会主义服务的，都是社会主义的。(答一点，言之有理即可)。(1分)

22. (2010年黄石市) (7分) 阅读材料回答问题

材料一：1933年6月罗斯福总统就职不久，美国国会通过了《国家工业复兴法》，授权罗斯福总统拟定工业公平竞争的法规。这些法规就企业的生产规模、价格水平、市场分配、工资标准和工作日时数等都作了详细的规定。

材料二：1932年美国汽车工业仅开工5%，全国工业生产下降了47%。1936年，银行恢复正常活动，农业收入增加了近一倍，许多工业部门恢复到1929年水平，国民收入比1933年增加了50%。

请回答

(1) 材料一反映出罗斯福新政的中心措施是什么？(1分) 结合所学指出罗斯福政府推动制定《国家工业复兴法》的目的是什么？(2分)

答：中心措施是对工业的调整(1分) 目的是防止出现盲目竞争引起的生产过剩，从而加强国家对资本主义工业的控制与调节。

(2) 根据材料二，结合所学知识指出罗斯福新政的实施，对美国和世界资本主义发展起到了哪些作用？(4分)

答：美国经济缓慢地恢复过来，人民的生活得到改善；资本主义制度得到调整巩固和发展；资本主义国家对经济的宏观调控得到加强。新政在美国世界资本主义发展史具有重要意义。

14. (2010年邵阳市) 为其他国家实施国家干预经济，进行体制性自我调整提供了宝贵经验的是(D)

- A. 1861年改革 B. 明治维新
C. 新经济政策 D. 罗斯福新政

32 (2010年宿迁市) 为资本主义进行体制性自我调整、实施国家干预经济提供宝贵经验的是(C)

- A. 战时共产主义政策 B. 新经济政策
C. 罗斯福新政 D. 法西斯专政

22 (2010年扬州市) 小施同学写了一篇有关罗斯福新政的小论文，其中对新政评价正确的是(B)

- ①从根本上消除了资本主义经济危机
②开创了资产阶级政府大规模干预经济的先河
③进一步提高了美国国家资本主义的垄断程度
④取得了很好的效果，使美国渡过了危机
A. ①②③④ B. ②③④ C. ①②③ D. ①③④

12 (2010年徐州市) 美国总统罗斯福说：“我们到底有没有实质的进步，不在于富的人更富，而在于贫穷的人也能有足够的生存来源。”为解决穷人的生存来源问题，提高就业率，他采取的“新政”措施是(B)

- A. 大力整顿银行 B. 兴办公共工程
C. 调整劳资关系 D. 缩减农业产量

27. (2010年泰安市) 20世纪30年代，一记者在美国纽约看到政府雇佣大批失业者去进行国家公共工程的建设。这一现象的出现得益于美国为应对1929—1933年经济大危机采取的哪一措施(A)

- A. 罗斯福新政 B. 科技立国战略
C. 法西斯专政 D. 斯大林模式

19 (2010年龙岩市) 罗斯福新政的中心措施是B

- A. 对农业的调整 B. 对工业的调整
C. 兴建公共工程 D. 实施“马歇尔计划”

49 (2010年青岛市) 阅读下列材料：

材料一 八大的路线是正确的。但是……没有能够在实践中坚持下去。八大以后，我们取得了社会主义建设的许多成就，同时也遭到了严重挫折。

材料二 罗斯福新政是在资本主义工业社会全面来临的时代，在传统的自由放任政策

再也不能适应生产力巨大发展的时候开辟的一条新的发展道路。

材料三 东欧各国大都照搬苏联的经济管理模式，片面发展重工业，忽视农业和轻工业，造成农、轻、重工业的严重失调。这使得素有“欧洲粮仓”之称的多数东欧国家，出现了食品短缺、消费品长期供不应求的现象。20世纪八、九十年代苏联、东欧等一些社会主义国家进行了改革，但最终失败，最终导致东欧剧变和苏联解体。

请回答：（6分）

（1）材料一中提到我国社会主义建设遭到“严重挫折”，这主要是因为党中央错误地发动了哪两场运动？（2分）

（2）结合材料二，指出罗斯福新政的特点及其影响。（2分）

（3）材料三中“苏联的经济管理模式”是什么？（1分）

（4）从两种不同意识形态国家的改革中，你能得到什么启示？（1分）

（1）运动：大跃进和人民公社化运动。（2分）

（2）特点：国家全面加强对经济的干预。（1分）影响：美国经济缓慢恢复，人民生活得到改善；资本主义制度得到调整、巩固与发展；资本主义国家对经济的宏观控制与管理得到加强；美国联邦政府的权力明显增强。（1分，答出任意一点即可）

（3）模式：斯大林模式（或高度集中的政治经济体制）。（1分）

（4）启示：经济建设不是一帆风顺的；经济建设一定要从本国的国情出发；勇于探索和创新；不同社会制度的国家在经济建设方面可以相互借鉴；盲目照搬他国的改革模式，忽视本国的国情，注定是要失败的等等。（1分，答出一点，且言之有理即可）

10（2010年山西省）下列历史知识的关联，不正确的是（C）

A. 英国资产阶级革命—《权利法案》

B. 法国资产阶级革命—《人权宣言》

C. 苏俄新经济政策—1936年宪法

D. 美国罗斯福新政—《国家工业复兴法》

45（2010年四川省巴中市）迄今为止，美国已有40多位总统宣誓就职，其中几位受命于危难之中并力挽狂澜，成为美国历史长河中耀眼的明星。请回答下列问题：

（1）被称为“美国国父”的是谁？（1分）他就职时面临什么重大的政治任务？（1分）

（2）林肯的主要贡献是什么？（2分）

（3）罗斯福就职时，正值美国遭受经济危机的重创，他为此采取了什么措施？（2分）

其中最主要的反危机措施是什么？（1分）他的对策结果如何？（2分）

（4）2008年以来，又一场金融危机波及全球，你认为我国该如何应对？（2分）

45.（1）华盛顿。（1分）摆脱英国殖民统治而实现国家独立。（1分）（2）维护了国家统一和解放了黑人奴隶。（2分）（3）罗斯福新政。（2分）对工业的调整。（1分）美国经济缓慢恢复，人民的生活得到改善；资本主义制度得到调整、巩固与发展，资本主义国家对经济的宏观控制与管理得到加强；美国联邦政府的权力明显增强。（2分）

（4）坚持改革开放，抓住机遇，积极发展；加大政府投资，扩大内需，加强基础设施建设；或积极的财政政策，适度宽松的货币政策。（1分）

28（2010年四川省成都市）在世界现代史上，带领人民克服1929—1933年经济危机，并在二战中全力打击法西斯侵略势力的美国总统是C

A. 乔治·华盛顿

B. 亚伯拉罕·林肯

C. 富兰克林·罗斯福

D. 哈里·S·杜鲁门

27（2010年四川省乐山市）美国总统奥巴马在2008年竞选获胜演说中说“美国的真正天赋在于，它懂得改变，让我们坚信我们能够并且即将取得成功……”。当20世纪30年代“大萧条”“大恐怖”的危机来临时，美国取得成功的“改变”是（B）

A. 废除黑人奴隶制度

B. 罗斯福新政

C. 杜鲁门主义 D. 马歇尔计划

16. (2010年湖州市)下列属于罗斯福新政内容的有 (C)

- ①在金融领域进行一系列改革 ②国家承建公共工程
③取消最低工资和最高工时标准 ④建立社会保障制度

A. ①②③ B. ②③④
C. ①②④ D. ①③④

3. 2007年下半年以来,由次贷危机引发的金融危机让美国再次遭受自由放任的市场经济之苦——经济低迷、公司倒闭、失业增加……这与1929~1933年的情况极为相似,当时的美国靠罗斯福新政逐渐走出困境。以史为鉴,罗斯福新政可供奥巴马政府战胜当前危机借鉴的内容有 (C)

- ①政府直接参与的经营管理活动 ②由国家承建公共工程
③建立社会保障制度 ④全面加强国家对经济的干预

A. ①②③ B. ①②④ C. ②③④ D. ①③④

14. (2010年浙江省台州市)美国历史上的罗斯福新政让美国逐步摆脱经济危机,新政的特点是 A。现在奥巴马政府以史为鉴,出台了一系列复苏经济的刺激计划以摆脱金融危机。

- A. 政府干预经济 B. 规定工人最低工资和最高工资
C. 采取以工代赈 D. 建立社会保障制度

24 (2010年莱芜市) 20世纪以来,世界各国有过许多成功的改革,其中影响较大的有苏俄的新经济政策、美国的罗斯福新政和中国的改革开放。(8分)

(1) 上文中苏俄、中国改革的主要领导人分别是谁?并结合所学知识谈谈中国改革开放所产生的影响。(3分)

(2) 分别概述新经济政策与罗斯福新政的主要措施。(2分)

(3) 自2008年9月以来,美国爆发的新一轮经济危机迅速席卷全球,如果说这次美国经济危机堪比“大萧条”的话,奥巴马实行的8380亿美元的经济刺激计划和某些国有化政策更像罗斯福新政。请指出奥巴马新政与罗斯福新政在应对经济危机中所体现出的共同特点。(2分)

(4) 三次改革的成功为我们提供了什么历史经验?(1分)

24. (1) 列宁、邓小平。(2分) 促进了经济发展,提高了中国的综合国力与国际竞争力。(1分,意思相近即可得分)

(2) 苏俄:允许多种经济并存,大力发展商品经济;(1分) 美国:国家对工业的调整。(1分)

(3) 加强国家对经济的干预和指导。(2分)

(4) 改革能促进社会进步与发展;改革应结合本国实际;应以史为鉴;应制定切实可行的政策等。(1分,言之有理即可得分)

24. (2010年呼和浩特市)在社会主义道路的探索过程中,我国和苏联都采取了一定的成就。二战前斯大林领导苏联经济建设取得哪些成就?(2分) 确立了怎样的政治经济体制?(1分)

我国为解决对资本主义工商业进行社会主义改造的问题,有何创新举措(政策)?

(1分) 20世纪50年代,我国在民主政治建设上取得什么成就?(1分)

24. 建设成就:完成了第一、第二个五年计划,使苏联从一个传统的农业国变成强盛的工业国,国防力量大为加强。(2分)

创新举措:赎买政策(1分)

民主政治建设成就:颁布第一部《中华人民共和国宪法》(1分)

注意:材料题和问答题,学生所做答案要点与参考答案要点不同,只要符合题意,可酌情

给分。

五、(2010年四川省宜宾市)分析探究(10分。请还要求完成下列问题)

材料一：(见右图)

- (1) 右图所示历史人物是谁？框中的这段话，映了他怎样的治国思想(2分)



为君之道，必须先存百姓，若损百姓以奉其身，犹割股以啖腹，腹饱而身毙。

反

年
总
活，

材料二：据美国《财富》杂志报道，1932年美国有3400万人没有任何收入，占全国人口总数的28%。千百万人只是因为像牲畜一样生才免于死亡。

1933年，罗斯福总统就职演说中指出：“我们最首要的任务是使人民有就业机会。假如我们明智地勇敢地去做，这不是一个不能解决的问题。由政府本身直接募工，任务就可以部分地完成。

- (2)导致《财富》杂志报道的现象出现的直接原因是什么？根据材料二指出，为解决这一问题，罗斯福总统提出了什么办法？(3分)

材料三：见右图



- (3)材料三中彩车上牌子所示的“联产承包”方式最早出现在我国哪个省？这种方式“好”在哪里？(3分)

- (4)综上，你得到什么启示？(2分)

(1)唐太宗。民贵君轻(爱惜民力、与民为善)。(2)原因：经济大危机的爆发。办法：实施罗斯福新政，大力兴建公共工程。(3)安徽。受到农民的普遍欢迎，提高了农民的劳动热情，促进了农业生产的发展。(4)启示：只有始终关注民生、不断改善民生，才能凝聚民心、集中民智、发挥民力，加快经济建设、构建和谐社会，达到民富国强。其他言之有理即可。

15.(2010年呼和浩特市)罗斯福政府根据《国家工业复兴法》，要求各工业企业制定本行业的公平经营规章，确定各企业的生产规模、价格水平、市场分配、工资标准和工作日时数等。国家对企业做出上述具体规定的直接目的是(B)

- A. 加强政府对经济的干预
- B. 防止出现盲目竞争引起生产过剩
- C. 消除经济危机
- D. 巩固资本主义制度

13(2010年菏泽市)毛毛听到同学们在兴致勃勃地谈论着什么，他听到了国家干预经济、上世纪30年代、兴办公共工程、蓝鹰运动等字眼，由此毛毛断定他们正在谈论的话题

应该是 (C)

A. 巴黎公社运动 B. 工业革命 C. 罗斯福新政 D. 辛亥革命

25. (2010年遂宁市) 美国在总统奥巴马在2008年竞选获胜演说中说“美国的真正天赋在于：它懂得改变。让我们坚信我们能够并且即将取得成功……”。当20世纪30年代“大萧条”“大动荡”的危机来临时，美国取得成功的“改变”是 () B

A. 废除黑人奴隶制度 B. 罗斯福新政 C. 杜鲁门主义 D. 马歇尔计划

(4) 通过国会纵火案和反犹暴行等事例，揭露德意日的法西斯暴行。4

33. (2010年达州市) 下列事件与1929~1933年经济危机完全无关的一项是 (C)

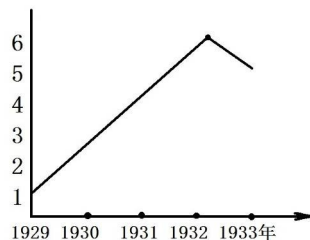
A. 罗斯福新政 B. 欧洲战争策源地形成
C. 新经济政策的实施 D. 日本发动侵略中国的“九一八事变”

14 (2010年湘潭市) 一位著名的记者曾经在1933年分别游历了苏联、美国、中国和德国，发出了以下四篇报道。你认为不正确的一项是(D)

A. 苏联的工业化建设蒸蒸日上 B. 罗斯福就任美国总统，实行新政
C. 中国东北三省已沦为日本殖民地 D. 德国进攻波兰，二战爆发

22 (2010年盐城市) 失业率是一个国家经济发展的影子。针对右图中失业严重的状况，德国采取的主要应对措施是 (A)

A. 建立法西斯专政
B. 加入“欧洲共同体”
C. 发动第一次世界大战
D. 寻求美国援助



19. 20世纪30-40年代，威胁世界和平与安全的主要因素是 (C)

A. 宗教纷争 B. 美苏争霸 C. 法西斯势力的侵略 D. 地区冲突

44 (2010年东莞市) 今年是世界反法西斯战争胜利65周年。法西斯主义曾经世界人民带来沉重灾难，历史上实行过种族灭绝政策的是 (A)

A. 德国法西斯 B. 意大利法西斯
C. 日本法西斯 D. 西班牙法西斯

20. (2010年衡阳市) 1933年，一位著名记者先后游历了苏联、美国、德国和日本，发出了以下四篇报道。你认为报道错误的是 D

A. 苏联工业化建设蒸蒸日上 B. 罗斯福在美国推行新政
C. 希特勒出任德国总理，法西斯上台 D. 日本明治政府开始维新

(三)第二次世界大战

【内容标准】

(1) 以慕尼黑会议为例，说明绥靖政策的实质和恶劣影响。

13. (2010年长春市) 从右图中能得到的信息是 (B)

A. 国际联盟的建立 B. 绥靖政策的实行
C. 杜鲁门主义的出台 D. 马歇尔计划的推行

24 (2010年贵港市) 把英法的绥靖政策推到了顶点，并产生了极其恶劣的影响的事件是 () D

A. 德国进攻波兰 B. 日本发动“七七事变”



C. 日本偷袭珍珠港 D. 《慕尼黑协定》的签订

17. (2010年河北省) 德国入侵波兰后, 许多人提出了疑问: “他们(指英国、法国) 扔出了两个‘小孩’(指奥地利和捷克斯洛伐克), 再扔出另一个‘小孩’(指波兰) 给‘狼群’以求躲避灾难的政策还能有收益吗?” 材料中的“政策”应是 (C)

A. 殖民扩张政策 B. 委任统治政策 C. 绥靖政策 D. “冷战”政策

15. (2010年河南省) 下列能够体现“弱国无外交”“强权即公理”这些霸权主义现象的是 [A]

① 巴黎和会 ② 华盛顿会议 ③ 慕尼黑协定 ④ 《联合国宣言》

A. ①②③ B. ②③④ C. ①②④ D. ①③④

19. (2010年襄樊市) 某班历史兴趣小组开展历史探究活动, 确定了四个探究主题, 其中不正确的是 (C)

A. 拿破仑与《法典》 B. 希特勒与法西斯 C. 罗斯福与巴黎和会 D. 列宁与十月革命

17. (2010年无锡市) 中国人常用“饮鸩止渴”来告诫人们, 不要只顾眼前利益, 而不顾将来的祸患。世界上英法把“饮鸩止渴”的绥靖政策推向顶峰的会议是 (C)

A. 巴黎和会 B. 华盛顿会议 C. 慕尼黑会议 D. 雅尔塔会议

36 (2010年临沂市) 阅读下列材料, 结合所学知识, 回答问题 (10分)

材料一 北京时间2008年11月5日, 巴拉克·奥巴马以压倒性优势获胜, 当选美国首位黑人总统, 扫除了有史以来的种族屏障。

——新华网纽约11月4日电

(1) 美国历史上因黑人奴隶制存废问题最终引发了哪一场战争? (2分) 在这场战争中颁布的哪一部法令文件废除了美国的黑人奴隶制度? (2分)

材料二 二十国集团伦敦金融峰会于2009年4月2日落下帷幕, 与会领导人就国际货币基金组织(IMF) 增资和加强金融监管等便于携手应对金融危机议题达成多项共识。

——《半月谈》2009年19期

(2) 依据材料二指出二十国集团伦敦金融峰会的主要议题是什么? (2分) 该材料反映出二十国集团处理这一议题的方式是什么? (2分)

(3) 回顾历史, 20世纪30年代, 国际社会面临着哪一侵略势力的威胁? (1分) 面对这种威胁, 英法等国希望以牺牲弱小国家的利益来安抚侵略者, 采取的是什么政策? (1分)

(1) 战争: 美国南北战争(或美国内战); (2分) 法令: 《解放黑人奴隶宣言》(2分)

(2) 议题: 应对便于金融危机。(2分) 方式: 携手应对(携手合作或和平协商等)。(2分)

(3) 威胁: 德日意法西斯。(1分) 政策: 绥靖政策。(1分)

20 (2010年攀枝花市) 将绥靖政策推向顶峰的历史事件是 (A)

A. 慕尼黑阴谋 B. 国会纵火案 C. 巴黎和会 D. 成立华沙条约组织


(2) 简述德国进攻波兰和苏联、日本偷袭珍珠港等导致第二次世界大战全面爆发和逐步扩大的主要事件。33. (2010年十堰市) 毛泽东说: “张伯伦以损人的目的开始, 以害己的结果告终。”下列各项与这一说法无关的是 (D)

A. 绥靖政策 B. 慕尼黑阴谋 C. 第二次世界大战 D. 鸦片战争

23 (2010年东营市) 罗斯福曾说, 1941年12月7日是“一个遗臭万年的日子”, 美国遭到了“突然和蓄谋的进攻”。那么, 在这个“日子”发生的事件是 (B)

A. 慕尼黑阴谋 B. 日军偷袭珍珠港 C. 诺曼底登陆 D. 美国轰炸南联盟

15. ((2010年梅州市) 2分) 第二次世界大战的太平洋战场



(1) 图 A 战役发生在 1942 年 12 月 7 日，那天日本偷袭美国在太平洋的海军基地_____，太平洋战争爆发，大战达到最大规模。

(2) 图 B 的战役发生在 1942 年 6 月，美军在_____海战中取得重大胜利，太平洋战场出现重大转折。

图 A 图 B

17. (2010 年娄底市) 1919 年《凡尔赛和约》签订后，协约国联军司令福煦说：“这不是和平，这是 20 年的休战。”下面哪一事件难了这一预言？(C)

- A. “一战”的全面爆发
- B. 太平洋战争爆发
- C. “二战”的全面爆发
- D. 亚洲策源地形成

26. (2010 年资阳市) 1940 年 4、5 月间，德军迅速向北欧和西欧推进，英国首相张伯伦受到强烈谴责，其主要原因是 (B)

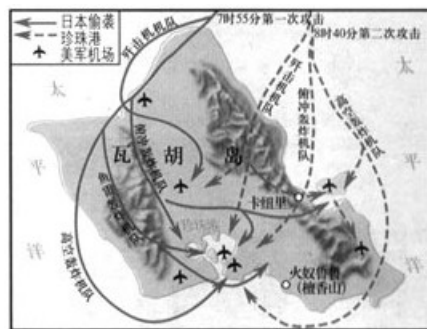
- A. 他是法西斯侵略的罪魁祸首
- B. 他推行绥靖政策，助长了法西斯的侵略气焰
- C. 他是丘吉尔的政敌
- D. 他推行和平外交政策

34. (2010 年达州市) 当法西斯德国在欧洲大陆疯狂扩张时，一直追随英国推行绥靖政策，最后却自食其果遭致亡国的是 (D)

- A. 奥地利
- B. 波兰
- C. 意大利
- D. 法国

8 (2010 年淄博市) 某同学使用右面的地图开展研究性学习，他确立的研究主题是 (B)

- A. 第二次世界大战全面爆发
- B. 第二次世界大战规模进一步扩大
- C. 第二次世界大战的转折
- D. 欧洲第二战场开辟



42 (2010 年四川省巴中市) 根据下列信息，完成与两次世界大战相关的内容 (4 分)

(1) 一战中被称为“绞肉机”的战役是_____。

(2) 二战全面爆发的标志是_____。

(3) 二战达到最大规模的标志是_____。

(4) 两次世界大战爆发的根本原因是_____。

31 (2010 年山东聊城市) “我要求国会宣布：自 1941 年 12 月 7 日——星期日日本进行无缘无故和卑鄙怯懦的进攻时起，合众国和日本进入战争状态。”日本的“进攻”是指 (C)

- A. 全面侵略中国
- B. 突袭苏联
- C. 偷袭珍珠港
- D. 诺曼底登陆

13 (2010 年徐州市) 2010 年 5 月 9 日，胡锦涛主席出席了俄罗斯卫国战争胜利 65 周年庆典。这次伟大的卫国战争开始于 (B)

- A. 德国突袭波兰
- B. 德国东侵苏联
- C. 日本偷袭珍珠港
- D. 莫斯科保卫战

23 (2010 年扬州市) 下列哪一事件发生后二战规模达到最大？(C)

- A. 德国突袭波兰
- B. 德国突袭苏联
- C. 太平洋战争爆发
- D. 诺曼底登陆

23 (2010 年岳阳市) 下列哪些事件使第二次世界大战扩大：(B)

- ① 德国进攻波兰
 - ② 德国入侵苏联
 - ③ 日本偷袭珍珠港
 - ④ 诺曼底登陆
- A、①② B、②③ C、①③ D、②④

(3) 通过联合国宣言和雅尔塔会议等史实，了解国际反法西斯联盟的建立及其作用。

18 (2010年临沂市) 十九世纪是大英帝国的全盛时期，号称“日不落帝国”。下列关于当时英国的说法，正确的是 ①英国率先完成工业革命 ②英国实行君主立宪制 ③英国是世界上最大的殖民国家 ④英国参加了国际反法西斯联盟 (B)

A. ①②③④ B. ①②③ C. ①② D. ③④

15 (2010年佛山市) 丘吉尔说：希特勒“入侵俄国，只不过是入侵不列颠的前奏……俄国面临的危险就是我们和美国面临的危险。”他认为英国应该 (B)

- A. 与德国讲和，避免被希特勒入侵
- B. 与不同制度的国家和人民共同反对法西斯侵略
- C. 提醒美国有被德国入侵的危险
- D. 与资本主义国家和人民共同反对法西斯侵略

15 (2010年湘潭市) 1990年10月3日0时，联邦德国与民主德国合并，德国重新统一。造成德国分裂的是哪一次国际会议的决议？(D)

A. 华盛顿会议 B. 慕尼黑会议 C. 德黑兰会议 D. 雅尔塔会议

25 (2010年贵港市) 右图反映的是 (D)

- A. 发表波茨坦公告 B. 签署《联合国宣言》
- C. 德国签署投降书 D. 雅尔塔会议“三巨头”



45 (2010年东莞市) 漫画往往是生动的历史。右图《绞死希特勒》描绘了苏美英联合打击德国法西斯的史实。这一情景最早出现于 (A)

- A. 《联合国宣言》签订后 B. 美英开辟第二战场后
- C. 雅尔塔会议后 D. 苏联美国参战后



18. (2010年湖北省宜昌市) 第二次世界大战期间，随着法西斯侵略战争的扩大，为了面对共同的敌人，一切遭受侵略的国家不断加强联合，逐步形成了 (C)

- A. 三国协约 B. 三国同盟 C. 国际反法西斯联盟 D. 欧洲联盟

24 (2010年扬州市) 作出二战后建立联合国重要决定的会议是 (D)

- A. 大陆会议 B. 巴黎和会 C. 华盛顿会议 D. 雅尔塔会议

23 (2010年盐城市) 当今世界有许多重大挑战需要各国通力合作，共同应对。在第二次世界大战中，正义力量携手合作，热同抵抗邪恶和暴力的标志性事件是 (D)

- A. 三国协约建立
- B. 三国同盟形成
- C. 《慕尼黑协定》签订
- D. 《联合国宣言》发表

29 (2010年滨州市) 大国间的会议对世界局势往往产生重大影响。读图，回答下列问题。



图一签署《凡尔赛和约》



图二华盛顿会议



图三参加慕尼黑会议的



张伯伦、达拉第、希特勒 丘吉尔在雅尔塔会议上和墨索里尼（左起）

- (1) 图 1 是哪次国际会议？这次会议和图二所示会议对世界局势产生了什么影响？
- (2) 图三所示慕尼黑会议反映出英法对德、意法西斯侵略扩张问题上作何态度？
- (3) 图四所示会议发生在哪次战争中？会议通过了哪些重大决议？据些可知，战后主导国际关系新格局的是哪两个国家？

(1) 巴黎和会 (2分) 列强建立起“凡尔赛—华盛顿体系” (2分)。

(2) 绥靖政策 (或妥协退让, 1分)。

(3) 第二次世界大战 (1分)。分区占领德国 (1分)；战后成立联合国 (1分)；苏联在结束欧战的三个月内参加对日作战 (1分)。美国和苏联 (1分, 只回答一个国家不给分)。

42. (1) 凡尔登战役。(2) 1939年德军偷袭波兰，英法对德宣战。(3) 珍珠港事件爆发。(4) 帝国主义政治经济发展不平衡的加剧。(4分)

29 (2010年四川省成都市) 在第二次世界大战中，世界反法西斯同盟正式形成的标志是 B

A. 太平洋战争的爆发

B. 《联合国宣言》的发表

C. 斯大林格勒保卫战的胜利

D. 开罗会议的召开

21 (2010年广州市) 阅读以下材料：

材料一 条约规定各国必须尊重中国的领土完整和主权独立，却没有采纳中国提出的取消领事裁判权，归还租借地，实现关税自主等正当要求。

材料二 库页岛和千岛群归苏联，维持外蒙古（蒙古人民共和国）现状，大连商港国际化，旅顺军港租给苏联作海军基地，中苏合营中东和南满铁路。

——均摘自《世界历史》

请回答：

- (1) 材料一反映的是哪次会议上签订的哪一条约？此次会议的中心议题是什么？ (3分)
- (2) 材料二出自哪一条约？它成为哪一国家对日作战的附加条件？ (2分)
- (3) 通过分析两则材料的共同之处，谈谈你的感悟。 (1分)

21. (1) 华盛顿会议《九国公约》协调彼此在东亚、太平洋地区的关系及限制海军军备 (3分) (2) 《雅尔塔秘密协定》；苏联 (2分)； (3) 两则材料内容都破坏了中国主权，一方面说明了大国推行强权政治，另一方面也说明了弱国无外交的道理 (答案符合题意即可, 1分)；

14. (2010年包头市) 决定成立联合国，并对二战后世界政治格局形成产生重要影响的会议是 () D

A. 巴黎和会

B. 华盛顿会议

C. 慕尼黑会议

D. 雅尔塔会议

(2010年呼和浩特市) 阅读材料，回答问题。

材料：宣言的签署，标志着世界反法西斯同盟的最终形成。此后，“联合国”在政治上互相合作，在军事上互相配合，对加速反法西斯战争的胜利起了重要作用。

- (1) 材料中的“宣言”指的是什么？ (1分)

(2) 签署宣言的国家又是怎样“在政治上互相合作，在军事上互相配合”的，请各举一个典型事例。(2分)

1) 《联合国宣言》(1分)

(2) 政治上：美英苏召开雅尔塔会议(1分)

军事上：诺曼底登陆(或苏联对日宣战，出兵中国东北和朝鲜)(1分)

14. (2010年东营) 关于《联合国宣言》签署时间、地点正确的是(A)

A. 1942年华盛顿 B. 1942年伦敦

C. 1943年华盛顿 D. 1943年莫斯科

19 (2010年菏泽市) 2010年是世界人民反法西斯战争胜利65周年。5月30日温家宝总理访问日本，在谈到历史问题时说，我们绝不会延续仇恨。阅读材料，回答问题。(7分)

材料一：1941年12月8日，美国总统罗斯福发表演说：“昨天，1941年12月7日——它将永远成为国耻日……不论要用多长时间才能战胜这次预谋的侵略，美国人民将以自己正义的力量去赢得彻底的胜利。”

(1) 1941年12月7日发生了什么事情？(1分)

材料二：宣言的签署，标志着世界反法西斯同盟的最终形成。此后，“联合国”在政治上互相合作，在军事上互相配合，对加速反法西斯战争的胜利起了重要的作用。

(2) 材料中的“宣言”指的是什么？签署宣言的国家是怎样“在政治上互相合作，在军事上互相配合”的？请你试举两例加以说明。(4分)

材料三 奥斯维辛集中营是纳粹德国时期建立的劳动营和灭绝营之一，由于有上百万人在这里被杀害，它又被称为“死亡工厂”。1979年，联合国教科文组织将其列入世界文化遗产名录。



带着孩子走向集中营毒气室的妇女

(3) 从奥斯威辛集中营列入世界文化遗产名录到温总理“绝不会、延续仇恨”的讲话，你认为我们应该如何珍惜今天的和平？(2分)

19. (2010年泉州市) 1942年苏联画家绘制了反映“二战”中三大盟国联合抗击德国法西斯的漫画(见右图)。画面上的三面国旗代表的国家不包括() A

A. 法国 B. 美国 C. 英国 D. 苏联



33. (2010年南京市) (12分) 阅读下列材料

材料一：“这位先生作为军官……将比联邦中的任何其他人士更能博得全美国的支持，更能联合东部十三州的真诚努力。”

——大陆会议上关于大陆军总司令人选的提议

材料二：这位身材不高，有着钢铁般意志和敏锐头脑的思想巨人，正在创造着人类历史上的奇迹：……他建立了第一个社会主义国家，独自与整个资本主义世界相抗衡，并成

功地粉碎了他们的一切武装干涉……

——《世界上下五千年》

材料三：“首先请允许我表明看书坚定的信念，即我们惟一所恐惧的就是恐惧本身——一种无名的、缺乏理性的、没有根据的恐惧，它会把由退却转变为前进所需要的种种努力毁掉。”

——1933年3月4日美国第32届总统就职演说

材料四：（他）号召人民抗击法西斯，说“红军、海军和苏联全体公民必须保卫每一卫苏维埃土地，战斗到最后的一滴血，来保卫城镇和村庄。”

——《世界历史》九年级下册（人民教育出版社）

结合所学知识，请回答：

- (1) 材料一中的“这位先生”应是谁？（1分）他领导了哪一场战争？（1分）战争胜利后，他主持制定了哪部宪法？（1分）
- (2) 材料二中的“他”是谁？（1分）他领导的哪一次革命建立了“第一个社会主义国家”？（1分）这场革命的性质是什么？（1分）
- (3) 材料三中的“总统”是谁？（1分）为战胜“恐惧”，这位总统实施了什么政策？（1分）
- (4) 材料四中的号召人应是谁？（1分）这位号召人通过哪一种建设模式使苏联成为工业强国？（1分）1945年2月，他和材料三中的“总统”共同参加了二战中的哪一国际会议？（1分）

(5) 根据以上四位人物的活动，概括他们对历史发展的共同作用。（1分）

(1) 华盛顿（1分）；美国独立战争（1分）；1787年宪法（1分）

(2) 列宁（1分）；俄国十月革命（1分）；社会主义革命（1分）

(3) 罗斯福（1分）；新政（国家干预经济）（1分）

(4) 斯大林（1分）；斯大林模式（高度集中的经济政治体制）（1分）；雅尔塔会议（1分）

18. (2010年无锡市) 联合国人道主义事务办协调厅在海地地震形势报告中称，“海地政府已经宣布搜寻与救援阶段结束。”报告还透露，“有132名被埋在废墟中的海地人被国际救援队成功救出。”材料中的联合国是在下列哪次会议上决定成立的？(A)

- A. 雅尔塔会议 B. 德黑兰会议 C. 开罗会议 D. 慕尼黑会议

(4) 简述斯大林格勒战役、诺曼底登陆和攻克柏林战役在反法西斯战争中的作用。

30 (2010年福州市) (13分) 某校开展“课外学史”活动，庆祝世界反法西斯战争胜利65周年，同学们把四种课外学史方式的资料制成网页，现邀你共同探究。

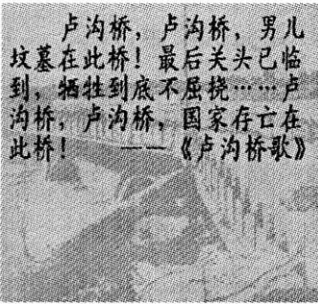


360安全浏览器 3.14 正式版

文件(F) 查看(V) 收藏(C) 账户(U) 工具(T) 帮助(H)

后退 前进 停止 刷新 主页 恢复 收藏 历史 无痕

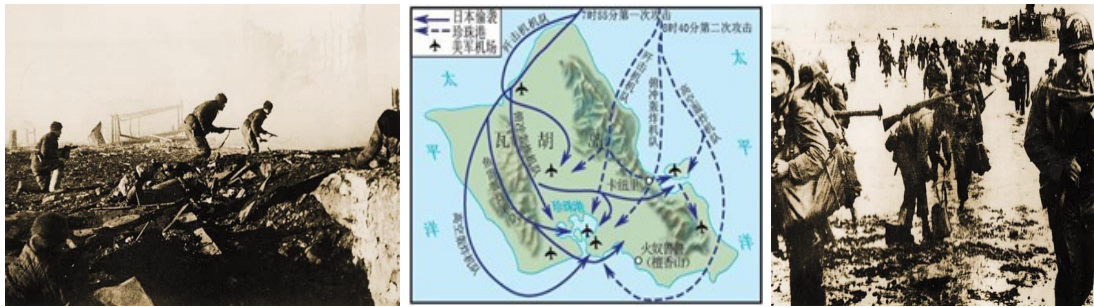
谷歌

纪念世界反法西斯战争胜利 65 周年

方式一：赏乐学史 more	方式二：观影学史 more
 <p style="text-align: center;">(1) 歌中反映了当年勇士们怎样的抗战决心？由此中国抗日战争进入什么局面？（4分）</p>	 <p style="text-align: center;">(2) 请写出影片中参加登陆作战的主要盟军力量。（2分）</p>
方式三：看图学史 more	方式四：识物学史 more
 <p style="text-align: center;">(3) 根据所学知识判断图中在德国国会大厦上挥舞旗帜的是哪国士兵？（1分）</p>	 <p style="text-align: center;">“日军南京受降仪式请柬”原件</p> <p style="text-align: center;">(4) 写出日本宣布无条件投降的时间。（2分）</p>
留言板 more	
<p style="text-align: center;">(5) 课外学史应注意历史材料的真实性，上述四种方式最符合此要求的是哪一种？请你再举一种课外学史的有效途径。（4分）</p>	

100%

30. (1)誓死抗战的决心；进入全民族抗战局面。（答案符合题意，言之有理即可）
 (2)美、英 (3)苏联 (4)1945年8月15日
 (5)方式四：识物学史。阅读书籍、寻访古迹、参观博物馆、上网搜索、听长辈讲过去的经历等。（答案符合题意，答出一点即可）
- 19 (2010年广州市) 根据战役图片的信息并结合所学知识，判断下列说法是否正确，正确的请划“√”，否则划“×”。（5分）



图一 图二 图三

- (1) 图一所反映的战役首次打破了德军“不可战胜”的神话。
- (2) 图二所反映的事件使二战达到了真正的世界规模。
- (3) 图三反映的是英美盟军开辟欧洲第二战场的军事行动。
- (4) 三幅图片所反映的战役一并构成二战的转折点。
- (5) 三个战役均在世界反法西斯同盟国家相互支援、配合下获得胜利。

19. (1) × (2) √ (3) √ (4) × (5) ×

23 (2010年广东省) 2010年5月9日，俄罗斯在莫斯科红场举行盛大的阅兵式，以纪念世界反法西斯战争胜利65周年。这场反法西斯战争的转折点是(C)

- A. 莫斯科战役 B. 诺曼底登陆 C. 斯大林格勒战役 D. 柏林攻坚战

9 (2010年吉林省) 第二次世界大战中，极大地消耗了德军的有生力量，成为重要转折点的战役是(C)

- A. 凡尔登战役 B. 莫斯科战役 C. 斯大林格勒战役 D. 诺曼底登陆

13、(2010年桂林市) 今年5月9日俄罗斯在莫斯科红场举行盛大庆典，隆重纪念卫国战争胜利65周年。胡锦涛主席应邀出席了庆典活动。在第二次世界大战暨世界反法西斯战争那战火纷飞的岁月，中国的抗日战争和苏联的卫国战争互相配合，两国军民并肩作战，共同谱写了抗击法西斯侵略者的壮丽凯歌，为世界反法西斯战争的胜利作出了重大贡献。

请围绕“中苏(俄)反法西斯战争”这一主题探究以下问题：

- (1) 请各举一战例说明中国和苏联如何沉重打击了日本和德国法西斯侵略者。(4分)
- (2) 请说出中苏军民并肩作战共同反击法西斯侵略的具体表现。(2分)
- (3) 中俄两国人民在反法西斯战争中用鲜血和生命凝结了深厚的友谊，如今中俄关系正处于良好的发展势头，请你为推动中俄关系的全面发展提两点建议。(2分)

13、(1) 中国的台儿庄战役，是抗战以来正面战场取得的最大的一次胜利，沉重地打击了日本侵略者的气焰；苏联的莫斯科保卫战，粉碎了德军不可战胜的神话。

(2) 中国军民从1937-1945年抗击了日本法西斯的侵略，苏联出兵中国东北，消灭了日本关东军。

(3) 中俄双方应加强经济、文化交流；中俄双方在处理国际事务中应加强沟通与协调，努力为世界的和平与发展作出贡献。

37. (2010年杭州市) (共14分) 2010年是世界反法西斯战争胜利65周年，世界各国开展了多种形式的纪念活动。第二次世界大战是一场法

西斯侵略与反法西斯侵略的战争，是正义占用邪恶的战争。

材料一：法西斯的暴行(图十，奥斯



图

图十一

威辛集中营的被关押者；图十一，毫无人性的日本法西斯分子)

(1)根据材料一，说明法西斯的“邪恶”表现。(2分)

(2)1942年是“正义战胜邪恶”的关键一年，请举出这一年影响战争走向的两件大事。(2分)

材料二：中国作为亚洲反法西斯战争的主战场，抗击了70%的日本侵略军，最终以3500多万儿女捐躯为代价，战胜了日本法西斯。

(3)中国抗日战争胜利的根本原因是什么？简述抗日战争在世界反法西斯战争中的作用。(4分)

(4)1945年2月，英、美、苏三国领导人举行会议，讨论有关战后重大问题，请说出这次会议的名称。(1分)世界反法西斯战争胜利后，世界形成了东西方对峙的格局，简述其形成的原因及标志。(5分)

(1)德国法西斯对犹太人实行种族灭绝政策。日本法西斯对中国人民实行血腥屠杀。(写出一点得1分)

(2)1942年初，签署《联合国家宣言》，建立反法西斯联盟。

1942年开始的斯大林格勒保卫战并最终胜利，成为整个反法西斯战争的重要转折点。(2分，言之成理，既可得分)

(3)根本原因：中华民族的觉醒和民族团结的结果。(2分，如答全民族的抗战或抗日民族统一战线的胜利均得2分，答美国在日本投放原子弹和苏联参战均不给分)

作用：是世界反法西斯战争的一部分，为世界反法西斯战争的胜利作出了巨大贡献。(2分)

(4)雅尔塔会议。(1分)

原因：战后美国成为世界头号强国，为实行称霸全球的战略，放弃了战时与苏联的联盟，转而反苏、反共；(2分)

战后苏联的国际威望有了很大的提高，大批人民民主国家诞生，形成了社会主义阵营。(2分)

标志：“北大西洋公约组织”和“华沙条约组织”两大军事集团成立。

46 (2010年东莞市)毛泽东说：“像希特勒这样的法西斯国家的军事生命是建立在进攻上面的，进攻一结束，它的生命也就完了。”下列战役中印证了毛泽东这一论断的是(B)

A.中途岛战役 B.斯大林格勒战役 C.诺曼底登陆战 D.柏林攻坚战

17. (2010年河南省)斯大林曾经说过：“这次行动按其计划的周密、规模的宏达和行动的巧妙来说，在战争史上还从来没有过类似的先例。”它“迫使希特勒德国在两个战场上同时作战”。斯大林所说的“这次行动”最直接的后果是【B】

A.斯大林格勒战役取得胜利 B.法国光复
C.意大利投降 D.攻克柏林

17 (2010年鄂州市)1943年2月，罗斯福在致斯大林的一封贺信中说：“是你们制止了侵略浪潮，成为盟军反侵略战争的转折点。”这一“转折点”是指(D)

A.诺曼底登陆战 B.《联合国家宣言》发表
C.苏军攻克柏林 D.斯大林格勒战役

34. (2010年十堰市)日本在第二次世界大战后迅速成为经济强国的原因不包括(A)

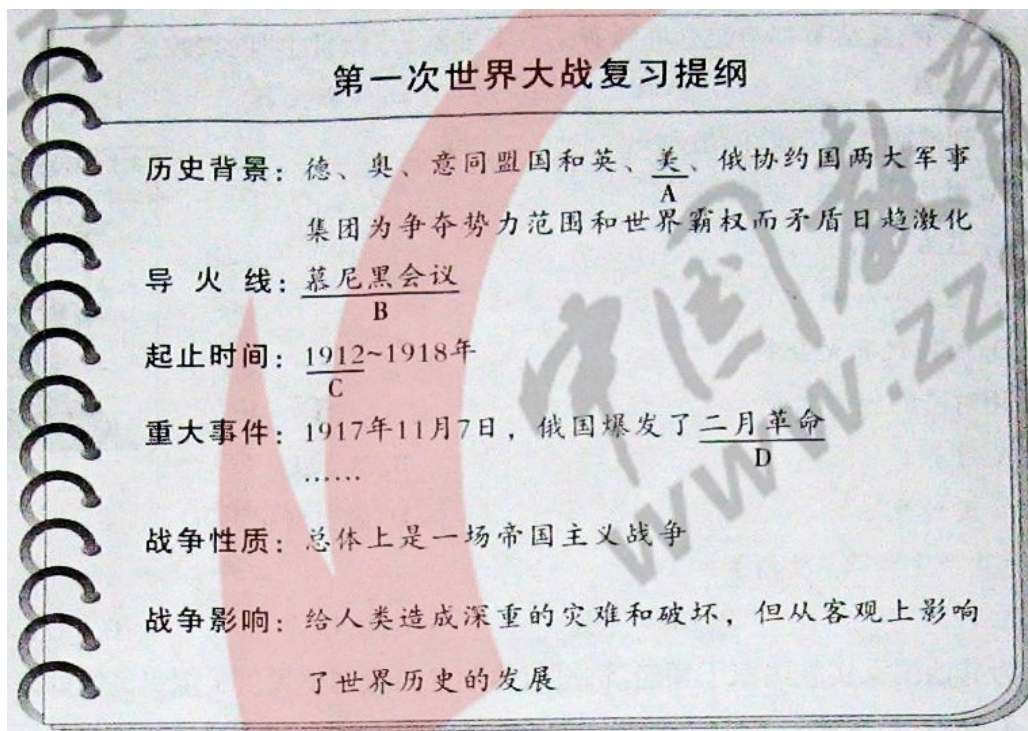
A.与德意签订《德意日三国同盟条约》 B.在美国推动下进行民主改革

C.美国的经济扶持

D.重视教育

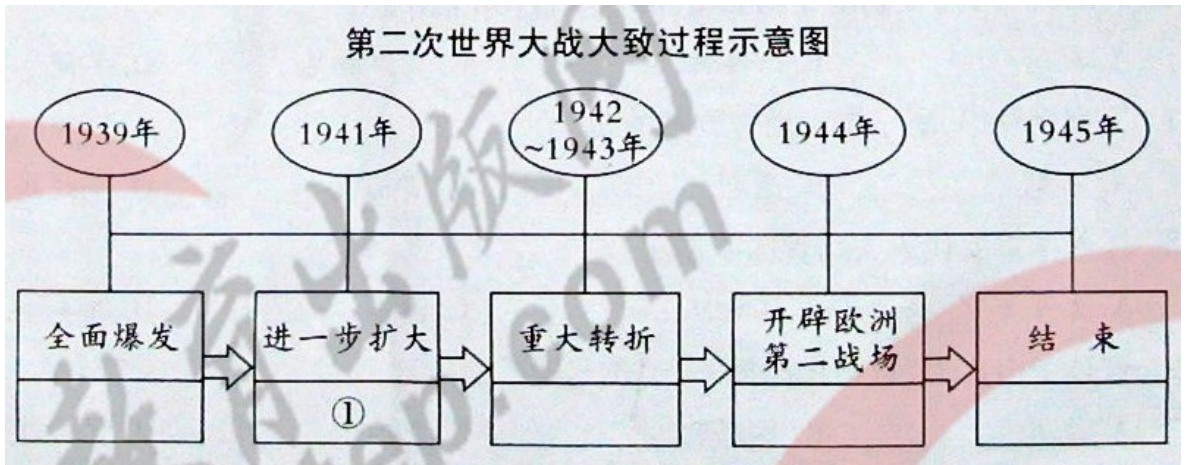
23. (2010年邵阳市) (14分) 20世纪上半期短短50年内发生了两次世界大战,给人类造成深重的灾难和破坏,至今还令世界上爱好和平的人们悲痛和愤恨。据此回答下列问题。

(1) 在下列虚拟的“第一次世界大战复习提纲”中,划线部分存在历史知识性错误,请予以更正。(8分)



(2) 从下列历史事件中, 选择符合题意的选项分别填入“第二次世界大战大致过程示意图”中的相应空格内(只填序号)。(4分)

① 日本偷袭珍珠港 ② 诺曼底登陆 ③ 德国进攻波兰、英法对德宣战 ④ 《联合国家宣言》发表 ⑤ 斯大林格勒战役 ⑥ 日本签署无条件投降书 ⑦ 德国投降



(3) 通过学习两次世界大战的历史，你有何感悟？(2分)

23. (1) A.法； B.萨拉热窝事件； C.1914年； D.十月革命

(2) 全面爆发：③； 重大转折：⑤； 开辟欧洲第二战场：②； 结束：⑥

(3) 要对军国主义、法西斯势力提高警惕并给予坚决的打击；通过联合国和平解决争端；历史的悲剧不能重演；反对战争、珍爱和平等。

16 (2010年株洲市) 1943年2月罗斯福为某一战役的胜利向斯大林贺喜：“是你们制止了侵略浪潮，成为盟军反侵略战争的转折点。”这一战役是 C

- A 诺曼底登陆战 B . 莫斯科战役
C 斯大林格勒战役 D 柏林战役

25 (2010年南京市) .下列与第二次世界大战有关的历史事件，按时间先后顺序排列，正确的是①诺曼底登陆②德国进攻波兰③慕尼黑阴谋④日本偷袭珍珠港 (D)

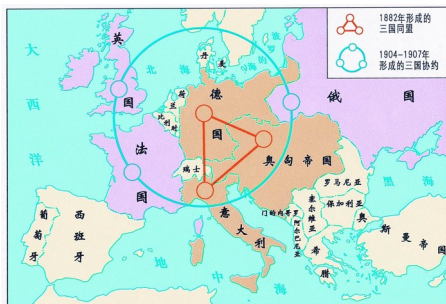
- A.②①③④ B.③④②① C.②③④① D.③②④①

32 (2010年苏州市) 在团结合作中实现共赢是人类一直追求的梦想。“团结”是一种艺术，“团结”并不是简单地、毫无规则地组成一个团体、集团或组织。根据提示，完成下列有关“团结合作”主题的探究活动。

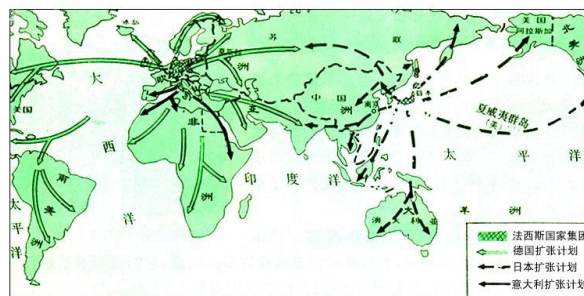
步骤一：回顾历史——了解国际关系中的不正当合作

(1)观察图一、二的世界形势，简要回答两图反映的不正当合作对世界产生的共同影响。

(1分)



图一 对峙中的两大集团



图二 丑陋的“轴心”(柏林—罗马—东京)

步骤二：史海寻贝——认识国际关系中的正当合作

(2)在人类面临生存和发展的挑战和危机时，各国之间的团结合作能有效地化解危机。请

你结合第二次世界大战中的典型事例加以说明：(2分)

步骤三：知彼知己——知道我国在国际关系中的“合作”

(3)新中国建立后，在外交方面为国际关系的发展做出了积极的贡献。请你列举 2001 年以来我国外交事业上能充分体现“团结合作”精神的事例。(1分)

步骤四：总结反思——理解现实中合作的艺术

(4)当今世界格局下，人类社会的发展仍存在许多破坏和不利于团结合作的因素，为了国际关系的和谐，你认为世界各国的合作应遵循怎样的原则?(2分)

32.(1)加剧世界局势紧张，使人类面临战争的威胁。

(2)反法西斯联盟的建立；诺曼底登陆。

(3)中国加入世界贸易组织(WTO)。

(4)相互尊重国家主权；相互尊重别国利益；平等互利；和平共处；共同发展；共同维护世界和平与发展等。

24 (2010年泰州市) 两次世界大战给世界人民带来了巨大的灾难，同时引起世人对“战争与和平”的深刻思考。据此回答下列问题：(7分)

(1)19世纪末 20世纪初，在欧洲形成了两大军事集团，它们之间的争斗酿成了第一次世界大战。请写出这两大军事集团的名称。(2分)

解析：由题目“它们之间的争斗酿成了第一次世界大战”，得知此题考查的是一战前的两大军事集团，学生如果答“同盟国与协约国”，理论上是不能得分的。

参考答案：三国同盟与三国协约

(2)20世纪二三十年代，德、意、日建立起法西斯统治，对内实行法西斯暴政，对外不断发动侵略战争。试举德国法西斯对内实行恐怖统治的史实一例。(1分)

解析：本题考查的是“德国法西斯对内实行恐怖统治的史实”，解题的关键词是“德国”“对内”“恐怖统治”，学生如果答意大利或日本法西斯的暴行是不得分的。

参考答案：国会纵火案、“水晶之夜”、屠杀犹太人等，答到一点即可。

(3)面对法西斯的侵略扩张，西方大国采取妥协退让的绥靖政策，该政策达到顶峰的标志是什么?(1分)

解析：绥靖政策,是指西方大国以牺牲小国利益，与法西斯妥协，换取暂时的和平。早在二战前，由于西方大国奉行绥靖政策，致使意大利很快吞并埃塞俄比亚。1938年9月德、意、英、法四国首脑签约规定“捷克斯洛伐克必须在10天之内把苏台德等地割让给德国”，将英法绥靖政策推向顶峰。

参考答案：签订《慕尼黑协定》

(4)二战爆发后，随着战争规模的不断扩大，受法西斯侵略的各国逐渐走向联合，国际反法西斯联盟建立，它对第二次世界大战产生了怎样的影响?(2分)

解析：1942年1月1日，美、英、苏、中等26个反法西斯国家在华盛顿共同签署了《联合国宣言》，标志着世界反法西斯同盟最终形成。

参考答案：反法西斯统一战线的建立，鼓舞了各国人民的斗志，大大增强了反法西斯力量，为最终打败法西斯奠定了坚实的基础。

(5)二战后，随着世人对“战争与和平”的思考，逐渐形成的当今世界两大时代主题是什么?(1分)

参考答案：和平与发展

40. (2010年无锡市) 近些年来,反映历史题材的影视剧作品层出不穷,请认真观察下面四个历史题材的影视剧,运用历史知识技能,完成相关任务。(1.5分)



- A. 《秦始皇》 B. 《我的1919》 C. 《七七事变》 D. 《珍珠港》

历史文化素养是人的知识结构中不可或缺的部分,它呆以提升人的修养.某文化机构为考查青年艺术人才综合素质,拟向全国征集考查选手文化素养的历史试题。请你从上面的影视中挑选 1 个话题,设计 1 个相关问题,写明答案和推荐理由,向该文化机构投稿。

要求:问题与话题有联系;问题表达简洁明了;答案准确无误;推荐理由,有说服力。

注意:答案全部写在答题卡上,抄例题不得分。

【例题】话题:我的1919

问题:中国新民主主义革命开始的标志是什么? 答案:五四运动

推荐理由:1919年爆发的五四运动是一次彻底的反帝反封建的爱国运动,是中国新民主主义的开端。

话题: 问题: 答案:

推荐理由:

18. (2010年河南省) 2009年12月1日,欧盟宪法正式生效。从此以后,世界上将有一个可以代表整个欧盟说话的人。下列对欧洲联盟的叙述,错误的是 【A】

- A. 增强了与美国争夺世界霸权的力量 B. 有利于世界多极化的发展
C. 有利于协调欧盟国家之间的关系 D. 提高了欧洲国家在国际上的地位

30. (2010年山东省济宁市) 第二次世界大战给人类带来了深重的灾难,下列历史事件按时间先后排列正确的是 (A)

① 德国突袭苏联 ② 德国突袭波兰 ③ 斯大林格勒战役 ④ 诺曼底登陆 ⑤ 太平洋战争 ⑥ 雅尔塔会议

- A. ②①⑤③④⑥ B. ②①⑤③⑥④
C. ①②③④⑤⑥ D. ②①③④⑥⑤

25 (2010年威海市) 某历史兴趣小组制作了有关“二战”的系列知识卡片,下列卡片内容错误的是 (D)

- A. “二战”爆发的时间:1939年 B. 雅尔塔会议的重要决定:建立联合国
C. 转折性战役:斯大林格勒战役 D. “二战”结束的标志:德国正式签署投降书

35. (2010年达州市) 美国巨片《拯救大兵瑞恩》是以诺曼底登陆为背景拍摄的,参与这次登陆战的主要是 (B)

- A. 英法盟军 B. 英美盟军 C. 美法盟军 D. 苏美盟军

28. (2010年四川省乐山市) 2010年4月10日,波兰总统卡钦斯基飞赴俄罗斯参加二战胜利纪念活动,不幸飞机失事遇难。今年是二战胜利 (C)

- A. 55周年 B. 60周年 C. 65周年 D. 70周年

13. (2010年四川省眉山市) 美国巨片《拯救大兵瑞恩》以1944年一场著名的登陆战为背景,谱写出惊天地、泣鬼神的雄壮诗篇,这场战役是

- A. 诺曼底登陆战 B. 大不列颠之战

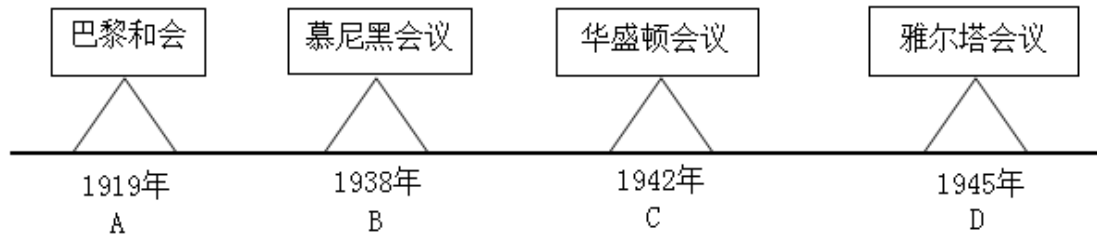
C.凡尔登战役 D.敦刻尔克撤退

10. (2010年四川省宜宾市) 下列历史事件,不是发生在第二次世界大战期间的是 (C)

A. 日军偷袭珍珠港 B. 斯大林格勒战役

C. 凡尔登战役 D. 诺曼底登陆

14.(2010年乌鲁木齐市). 下面是某中学历史兴趣小组制作的一个反映世界史上重要会议的年代尺。在这个年代尺上标出的会议中,决定对德国实行军事占领及苏联参加对日本法西斯作战的是



15. 20. (2010年重庆市) (1) 苏联军民付出巨大牺牲,捍卫了国家的主权和尊严;中国军民牵制并消灭了日本侵略者的大批兵力,付出了巨大的民族牺牲,有力地支持了世界各国的反法西斯斗争;中苏两国军民都为世界反法西斯战争的胜利做出了重大贡献。(3分)

(2) 中国:台儿庄战役、百团大战等。(1分,任举一例即可。其它符合题意的答案可同等给分,但总分不超过1分) 苏联:莫斯科保卫战、斯大林格勒保卫战、攻克柏林战役等。

(1分,任举一例即可。其它符合题意的答案可同等给分,但总分不超过1分)

(3) 铭记历史教训,加强国际协作,维护世界和平。(1分,其它符合题意的答案可同等给分,但总分不超过1分)

18. (2010年湖州市)中国抗日战场是世界反法西斯战争的东方主战场。抗战时期,中国军民伤亡人数达3500多万,直接经济损失超过1000亿美元。材料直接反映了中国的抗日战争 (C)

①是世界反法西斯战争的组成部分 ②直接抗击了德、意、日法西斯国家

③为世界反法西斯战争付出了重大牺牲 ④得到了爱好和平与正义的国家和人民的支持

A. ①②

B. ②④

C. ①③

D. ③④

36. (2010年襄樊市)【架起合作和友谊的桥梁】(7分)

“70多年前爆发的第二次世界大战,给世界和平带来空前的灾难。世界各国人民同仇敌忾,携手反法西斯侵略,保卫世界和平;与此同时,中国人民同日本侵略者进行了8年艰苦卓绝的斗争,……我们不会忘记,大批苏联红军远赴中国东北战场,同中国军民肩并肩对日作战,为中国夺取抗日战争最终胜利作出了重要贡献。”

——胡锦涛主席会见参加抗日战争的俄罗斯老战士时的讲话

请回答:

(1)国际反法西斯联盟建立的标志是什么?(1分)开辟了欧洲第二战场的军事行动指的是什么?(1分)

(2)“苏联红军远赴中国东北,参加对日作战”是哪次会议的决定?(1分)

(3)“8年艰苦卓绝的斗争”开始于哪一事件?(1分)列举中国军民抗击日本侵略并取得胜利的重大战役两例。(2分)

(4)回顾这场战争,你有什么感想?(1分)

(1)签署《联合国宣言》。(1分) 诺曼底登陆。(1分)

(2)雅尔塔会议。(1分)

(3)七七事变（或卢沟桥事变）。（1分）平型关大捷；台儿庄战役；百团大战。（学生只要答出其中两例即可，一例1分，共2分。）

(4)和平来之不易，悲剧绝不能重演；人类在对付共同挑战时，应团结一致；加强合作，才能求得共同发展；牢记战争伤痛，以史为鉴；远离战争，珍爱和平；警惕帝国主义法西斯主义的复活；要大力发展经济，提高综合国力，才能有效对付各种侵害。（评分说明：答出其中一条即可，1分。只要有追求和平和发展的主题意思就可给分。）

9. (2010年绍兴市) 实物资料是一种历史证据。二战中，日本侵略者对人类犯下了不可饶恕的罪行。下列可用来证明日军所犯罪行的史料包括 (C)

- ①731部队相关遗址 ②奥斯威辛集中营遗址
③南京大屠杀惨案相关遗址 ④斯大林格勒战役照片
A. ①④ B. ②③ C. ①③ D. ②④

10. (2010年绍兴市) 统计图表能帮助我们分析历史。从下表中我们可以分析得出的结论有 () C

第一、二次世界大战情况比较表

项目 名称	参战国 (个)	卷入人口 (亿)	参战人员 (亿)	伤亡人员 (亿)	直接经济损失 (亿美元)
第一次世界大战	30多	15	0.7	0.3	1805
第二次世界大战	60多	20	1.1	1.9	40000

- ①战争是人类的浩劫 ②两次战争引起了世界的剧烈震荡
③两次战争都是正义与邪恶的较量 ④和平事关各国人民的福祉
A. ①②③ B. ①③④ C. ①②④ D. ②③④

23 (2010年广州市) 有这样一个岛国：17世纪君主立宪政体的建立让她引领潮流；18世纪经济的突飞猛进令她独占鳌头；19世纪军事的扩张使她炫武东方；20世纪中期战争的创伤给她胜利的脸上增添了无奈与忧伤……

请判断材料中的“她”指哪个国家，并以“我看__国”为题写一篇小短文。（8分）

要求：

(1) 文中需包含材料提及的四项重大史实，并谈谈其中对你触动最大的一项史实的影响，以及它带给你的一点思考。

(2) 观点明确，史实准确，表达清晰流畅，字数80字左右。

23. 题目：我看英国 (1分)

史实：英国资产阶级革命；工业革命；鸦片战争（第二次鸦片战争）；第二次世界大战 (4分)；

影响：英国资产阶级革命确立起的君主立宪政体是对欧洲及至世界产生的最大政治影响，为英国资本主义的发展开辟了道路；工业革命为资本主义制度奠定了物质基础，确立了英国“世界工厂”的地位；鸦片战争是中国历史的开端；二战给人类造成深重的灾难（任选其一即可，1分）

思考：政治制度的先进，科学技术的进步是一个国家发展的重要条件。英国的军事扩张把被侵略国家带进灾难深渊，造成当地落后局面。战争给交战各国都带来灾难，制止战争，热爱和平应是人类共同要求与愿望（答出其中任意一方面即可，其他符合题意的答案也可，1分）

其他：语言流畅，条理清晰，字数80字左右 (1分)

20. (2010年重庆市) 阅读下列材料

2010年5月9日，俄罗斯隆重举行纪念反法西斯侵略取得胜利65周年庆典。国家主席胡锦涛和20多个国家和国际组织领导人出席了庆典，以下是人民日报的有关报道：

感天动地的世界反法西斯战争，把世界正义的力量团结在一起。从血火搏杀的欧洲战场，到逐岛争夺的太平洋战场；从同仇敌忾的亚洲战场，到大漠硝烟的非洲战场……世界各国人民为捍卫和平，奋起反击法西斯侵略……

……在第二次世界大战的欧洲主战场，苏联军民前仆后继、浴血奋战，付出了巨大牺牲，捍卫了国家的主权和尊严，为世界反法西斯战争的胜利建立了不可磨灭的历史功勋……在第二次世界大战的亚洲太平洋主战场，中国军民……牵制并消灭了日本侵略者的大批兵力……同时也以巨大的民族牺牲有力地支持了世界各国的反法西斯斗争，为世界反法西斯战争的胜利做出了不可磨灭的重大贡献。

请回答：

(1) 以上材料如何评价中苏两国军民在第二次世界大战中的贡献？(3分)

(2) 结合所学知识，分别各列举一例中、苏人民英勇抗击法西斯侵略的战役。(2分)

(3) 你认为重温第二次世界大战的历史有何现实意义？(1分)

54. (2010年攀枝花市) 小明整理了一段复习资料，请帮他找出错误并改正。

1938年9月1日，德军突袭捷克斯洛伐克，英法被迫对德宣战，第二次世界大战全面爆发。德军占领了包括法国在内的西欧和北欧许多国家，又对英国进行狂轰滥炸，英国首相张伯伦领导英国人民坚决抵抗。1941年6月，德军突袭苏联，战争规模扩大。1941年12月7日，日军偷袭太平洋美军基地中途岛，重创其太平洋舰队，第二天美国对日宣战，二战规模进一步扩大。1942年7月，德军进攻苏联战略重镇列宁格勒，苏军进行了殊死抵抗，扭转了战局。经过世界人民艰苦卓绝的斗争，意大利、德国先后投降。1945年9月2日，日本正式签署投降书，世界人民获得了反法西斯战争的胜利。

错误：_____；改正：_____ (2分)

错误：_____；改正：_____ (2分)

错误：_____；改正：_____ (2分)

错误：_____；改正：_____ (2分)

错误：_____；改正：_____ (2分)

54、错误：1938年；改正：1939年 (2分)

错误：捷克斯洛伐克；改正：波兰 (2分)

错误：张伯伦；改正：丘吉尔 (2分)

错误：中途岛；改正：珍珠港 (2分)

错误：列宁格勒；改正：斯大林格勒 (2分)

15. (2010年东营) 标志第二次世界大战结束的事件是 (D)

A. 1945年5月德国正式签署投降书 B. 1945年8月日本宣布无条件投降

C. 1945年8月美军在日本投下原子弹 D. 1945年9月日本正式签署投降书

26. (2010年遂宁市) 2010年4月10日，波兰总统卡钦斯基飞往俄罗斯参加二战胜利纪念活动，不幸飞机失事遇难。今年是二战胜利 () C

A. 55周年 B. 60周年 C. 65周年 D. 70周年

(四)主要资本主义国家的发展变化

【内容标准】

(1) 概述战后美国经济发展的主要特点。

37. (2010年四川省自贡市) 美国是一个年轻的国家，但其政治、经济和文化的发展都很

充分。下列关于美国的叙述，不正确的是（A）

- A. 《解放黑人奴隶宣言》使得所有奴隶都获得了自由
- B. 爱迪生发明的电灯改变了人类传统的照明方式
- C. 罗斯福新政提供了国家干预经济生活的范例
- D. 二战后初期美国经济出现了空前繁荣局面

25 (2010年汕头市) 小明是汕头市某中学的学生。以下是他在一篇历史小论文中对第二次世界大战后美国经济发展情况的表述，不符合史实的是（C）

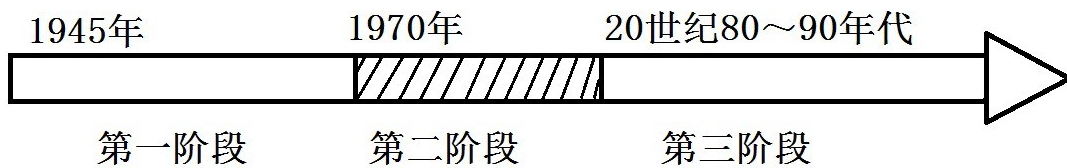
- A. 20世纪五六十年代经济持续发展
- B. 20世纪70年代中期经济遭受到严重打击
- C. 20世纪80年代进入新经济时代
- D. 20世纪90年代完成传统产业的技术改造

40 (2010年湛江市) 以下表格反映的是战后哪个国家经济发展的基本情况？（A）

历史时期	经济发展情况
20世纪五六十年代	高速增长的“黄金时期”，西部和南部发展尤为迅速。
20世纪70年代	出现负增长和“滞涨”现象。
20世纪80年代	经济好转，但负担加重。
20世纪90年代	经济持续稳定发展，仍然是世界上经济最发达国家。

- A. 美国
- B. 中国
- C. 日本
- D. 苏联

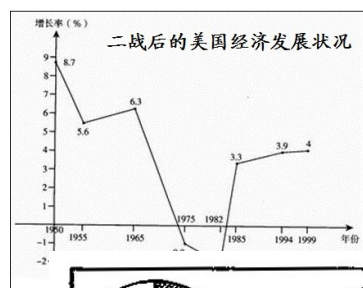
8. (2010年桂林市) 美国凭借强大的经济实力在国际舞台上扮演着重要的角色。“二战”以来，美国经济出现了几个不同的发展阶段。对图示中第二阶段美国经济发展的特点描述最准确的是（A）



- A. 发展速度放慢，出现严重经济危机
- B. 开始复苏和繁荣
- C. 经济实力膨胀，成为经济超级大国
- D. 进入知识经济时代

27 (2010年南京市) 右图 1975 - 1982 年的经济状况，出现的直接原因是（A）

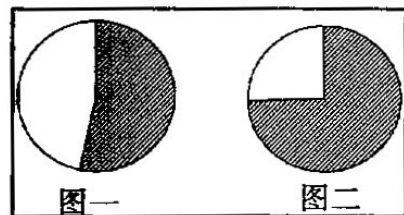
- A. 经济危机的影响
- B. 朝鲜战争的爆发
- C. 日本的崛起
- D. 冷战的开始



美国

10 (2010年江西省) 下面图一和图二的阴影部分所示，依次是 1948 年某国“工业生产总产值”和“黄金储备”占世界的比重。据此判断，这个国家是（C）

- A. 英国
- B. 日本
- C. 美国
- D. 苏联



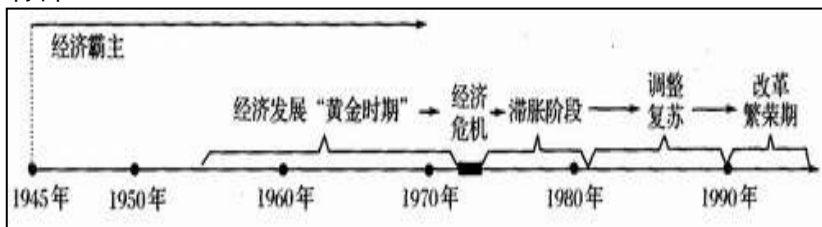
35. (2010年资阳市) (14分) 阅读材料，回答问题。

材料一 战后初期，美国经济持续发展，一片繁荣。尽管如此，但是在 20 世纪 50 年代的资本主义世界中，美国在工业生产、出口贸易等方面所占的比重都有显著下降，而西欧

六国（法、西德、意、荷、比、卢）所占的比重大大上升。……50年代中期以后，阿登纳说：“如果欧洲人不想再起了根本变化的世界里走下坡路的话，必须走向联合……否则欧洲各国将会沦为超级大国的附庸……”

——何春超主编的《国际关系史》

材料二



图一 二战后美国经济的发展状况示意图



图二 比尔盖茨

材料三 进入20世纪70年代，西欧和日本不可避免要导致与美国同盟国政治关系的变化，表现在西欧六国和日本在外交上的独立自主倾向日益发展……美国再也不能像战后初期和50年代那样，在西欧阵营里颐指气使，发号施令。

何春超主编的《国际关系史》

- (1) 根据材料一和所学知识回答，西欧各国为什么要走向联合？（4分）
- (2) 在材料二图一中找出美国经济发展的高峰期主要分布在哪些时段。要反映图一的相关信息，还可用哪些形式？（3分）
- (3) 根据材料和所学知识说明，进入70年代后，为什么美国再也不能像战后初期和50年代那样对西欧发号施令。（3分）
- (4) 材料二中人物在20世纪90年代成为世界首富与当时美国政府采取的哪些措施有关？（4分）

35. (14分) (1) 保障自己的安全和国际地位，避免成为超级大国的附庸；加强交流合作，促进经济的发展。（4分）

(2) 时段：20世纪50年代中期到70年代初期；20世纪90年代（或1990年后）。（2分）形式：文字表述，表格，坐标图，曲线图，柱状图等。（任意答出一种即可给分）（1分）

(3) 美国由于经济危机的困扰，综合国力迅速下降；西欧各国经济却迅速发展，综合国力和国际竞争力显著增强；西欧各国外交上更加独立自主。（3分）

(4) 进行社会经济改革；大力发展教育科技，信息产业为代表的高新技术迅速发展；完成传统产业的技术改造。（答出任意一点给2分，满分4分。）

24 (2010年岳阳市) 20世纪90年代美国发展最为迅速和产业是：(C)

- A、钢铁制造业 B、汽车制造业
C、信息产业 D、飞机制造业

18. (2010年东营) 20世纪90年代，美国进入新经济时代，新经济的主要特征是(D)

- A. 信息化高速度 B. 高速度低赤字
c. 低膨胀低失业率 D. 信息化全球化

25. (2010年泉州市) 阅读下列材料。回答问题。

材料一 作为一个国家，我们拒绝了任何彻底的革命计划。为了永远地纠正我们经济制度中的严重缺陷，我们依靠的是旧民主秩序的新应用。

——罗斯福演说

(1) “为了永远地纠正我们经济制度中的严重缺陷”这一目标在美国罗斯福新政中能否实现为什么？(4分)

材料二 二战后，美国经济以外向型经济为主，具体体现在对外直接投资即资本输出增加和跨国公司飞速发展。对外直接投资为美国获取了更大的利润，加强了美国在许多国家中的经济地位，但它同时也建立在对第三世界不公正掠夺的基础上。

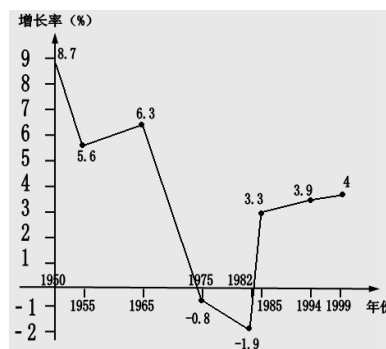
——摘自北师大版历史九下《教师教学用书》

(2) 指出材料二反映了二战后美国经济发展的哪一主要特点？(3分)

材料三 见下图 战后美国经济发展示意图

——摘自人教版历史九下《教师教学用书》

(3) 读上图，运用论从史出的方法，概括 1955～1994 年美国经济发展呈现的状态是什么？(3分)



25. (1) 不能。(1分) 新政公是一种政策调整，不可能从根本上改变资本主义制度的基本矛盾，也就无法消除资本主义经济危机。(3分) (2) 以外向型经济为主。(3分) (3) 周期性发展状态。等等。(3分)

(2) 知道欧洲联盟。

18 (2010年鄂州市) 有人断言：欧洲曾是两次世界大战的发源地，但是从今天的形势看，欧洲再次爆发大规模战争的可能性几乎不存在了。他得出这一结论的依据应是 (C)

- A. 联合国作用加强 B. 两极格局已经结束
C. 欧洲联盟的建立 D. 和平与发展已成世界潮流

28. (2010年福建莆田市) 阅读材料并回答问题：

材料一 欧洲共同体成长历程简表

时间	事件
1967年	欧共体成立
1973年	英国、丹麦和爱尔兰加入欧洲共同体
1981年	希腊加入欧洲共同体
1986年	葡萄牙和西班牙加入欧洲共同体

材料二 愿意在尊重他们的历史、文化和传统的同时加深他们人民间的团结；……

决心实现他们经济的强大和同步发展并根据本条约的规定建立一个包含一种单一及稳定的货币的经济和货币联盟；……

决定建立欧洲联盟……

——《欧洲联盟条约》

- (1) 根据材料一和所学知识，欧洲共同体是有哪三个组织合并而成？截止 1986 年欧洲共同体拥有多少个成员国？(4分)
(2) 根据材料二和所学知识，欧洲联盟成立于那一年？当前流通于欧盟的“单一及稳定的货币”是什么？(4分)
(3) 目前，欧洲正在经历一场债务危机，有人认为欧盟无法摆脱这场危机，对此你有什么评论？

28. (1) 欧洲煤钢共同体，欧洲经济共同体，欧洲原子能共同体；(3分) 12。(1分)


(2) 1993年；欧元。(4分)

- (3) 评论一：能够摆脱。欧盟内部能够协调一致，并有成功解决实际问题的经验；
 评论二：很难摆脱。这场危机比较严重，非短期可以解决；
 评论三：无法摆脱。这场危机会引发更为严重的社会危机，导致无法解决。（2分，答出其中一种评论即可，表态1分，理由1分。理由与表态相匹配即可）

16 (2010年佛山市) 主要资本主义国家经济增长率(%) 统计表

时间	日本	美国	英国	联邦德国	法国
1952-1960	8.2	2.8	2.7	7.5	4.8
1961-1970	11.2	4.1	2.8	4.8	5.8

- 据此可以说明日本 (A)
 A. 经济持续高速发展 B. 经济实力超过美国
 C. 成为第二经济大国 D. 成为世界政治大国
9. (2010年深圳市) 欧洲目前面临严重的金融危机，但欧洲各国能相互帮助，共渡难关。其中发挥主要作用的国际组织是 (C)
 A 联合国 B 世贸 C 欧盟 D 北约
- 25 (2010年广东省) 如今许多欧洲人正逐渐从“我是法国人”或“我是意大利人”转变为“我是欧洲人”。能够反映这一观念转变的图标是 (C)



- 10 (2010年吉林省) 依据“欧元”、“统一护照”、“世界最大的经济体”等信息，判断下列与其相关的组织是 (C)
 A. 国际联盟 B. 联合国 C. 欧洲联盟 D. 世界贸易组织
- 18 (2010年河北省) .“美国为支持马歇尔计划的实施总共支付了 125 亿美元。这一巨大的投资和欧洲的人力物力一起，使欧洲能够迅速复原，这一复原使欧洲的生产生活水平超过了战前的水平。”材料论述了 (A)
 A. 西欧经济恢复的原因 B. 西欧经济恢复的影响
 C. 北大西洋公约组织建立的背景 D. 欧洲共同体成立的原因
- 50 (2010年东莞市) 雨果曾预言“总有一天……所有的欧洲国家……都将紧紧地融合在一个高一级的整体里。”目前，欧洲“高一级的整体”已经建立，它的发展目标是 (D)
 A. 经济一体化 B. 政治一体化 C. 军事一体化 D. 经济政治一体化
20. (2010年襄樊市) 20 世纪末，世界上最大的经济体是 (D)
 A. 日本 B. 美国 C. 德国 D. 欧盟

30. (2010年衡阳市) (14 分) 2009 年底，希腊债务问题爆发，引发欧元危机，欧洲急剧动荡，欧盟前途扑朔迷离。探究欧洲的历史，回答下列问题。

[文明起源]

- (1) 气候温暖、面向海洋、港湾优良的希腊半岛曾诞生辉煌灿烂的古希腊文明，古

希腊文明成为欧洲文明的源头。古希腊的著名史诗是《_ _ _ _ _》。(2分)

[近代崛起]

(2) 进入近代，以资本主义为先导，欧洲文明强势崛起，猛烈扩张，发展为世界的中心。试说明 14 至 19 世纪初欧洲资本主义能够强势崛起的文化、政治、科技条件。(3分)

[战争梦魇]

(3) 在崛起过程中，欧洲各国纷争不休，战争不断，20 世纪先后掀起了两次世界大战，给世界人民带来空前劫难，也导致二战后欧洲的衰落。右图是西班牙画家毕加索的名画，请写出该图图名及其反映的历史信息。(4分)



[联合之路]

(4) 二战后，为实现欧洲复兴，并增大在美苏两极格局中的发言权，欧洲各国捐弃前嫌，走上联合之路，1967 年组成欧洲共同体，后建立欧洲联盟，简称“欧盟”，由区域性经济合作组织向经济政治一体化目标迈进。请写出欧盟的建立时间。(2分)

[福利困惑]

希腊建立从摇篮到坟墓的社会福利制度，社会福利保障不仅高昂而且名目繁多。希腊公务员数量占全国劳动人口的 10%，法律允许公务员在过了 40 岁之后就退休和领取退休金，甚至已去世公务员的未婚或离婚女儿，也可继续领取其父母的退休金。所有的政府和私人企业员工每年都能拿到 14 个月的薪金，此外，公务员可在复活节和夏天分别获得额外半个月的薪酬。一家媒体讽刺说，希腊人像亿万富翁那样消费，事实上他们连百万富翁都算不上，他们拿着士兵的工资，却过着国王的生活。由于社会福利和工资水平的增速一直超过 GDP 增长，造成劳动成本高，生产效率低，严重削弱了希腊经济的竞争力，也迫使政府不得不举借巨额债务以维持运转。2009 年，希腊的 GDP 不过 2500 多亿欧元，国家债务则高达 3000 亿欧元，平摊到 1100 万希腊公民的头上，相当于人均背负 2.67 万欧元的债务。

希腊债务问题在欧元区具有普遍性。2010 年 6 月，匈牙利也爆发了债务危机。西班牙、葡萄牙、意大利等国可能步其后尘。

(5) 二战后，欧洲各国普遍建立福利国家制度，实行高福利的社会保障，希腊的福利制度及其引起的债务危机只是目前欧洲发展所面临严重问题的一个缩影。当前，随着综合国力的增强，我国也在进行社会福利保障制度的建设，结合欧洲实行福利制度的历史，谈谈你对实行社会福利制度的主张，并说明理由。(3分)

30. (14分) (1) 荷马史诗。(2分)

(2) 条件：文化上通过文艺复兴(或启蒙运动)解放人们的思想；政治上通过资产阶级革命确立资本主义政治制度(或资产阶级统治)；科技上发生了工业革命。(3分)

(3) 图名：《格尔尼卡》。信息：控诉了法西斯的战争暴行。(4分)

(4) 1993年。(2分)

(5) 赞成说：实行社会福利制度，有利于提高劳动者生产积极性；我国是社会主义国家，更应加强社会保障；福利制度能体现国家以民为本，关爱民生；中国大多数地区还比较落后，民众生活困难；福利制度有利于促进社会和谐；随着经济发展和综合国力提高，国家也具有这种能力；实行福利制度的欧洲国家在二战后也曾经历较长时间的高速发展。(理由答出 2 点即可)

反对说：实行社会福利制度，使劳动者产生惰性；高额福利也给国家背上沉重负担；中国是世界上第一人口大国，会更不堪重负；欧洲的例子值得我们吸取教训；福利制度便

利有些人钻政策空子，滋生腐败；福利制度助长超前消费思想，容易造成金融风险；高福利容易导致高消费，会加大地球的资源 and 环境负担；高福利保障使人好逸恶劳，穷奢极欲，精神颓废，导致社会堕落。（理由答出 2 点即可）

辩证说：既实行福利制度，又注意适当的度。理由从两方面各举一点即可。

（3 分。观点 1 分，理由 2 分）

17（2010 年株洲市）有人为湖南卫视娱乐节目《咀一敌百》推荐这样一个题目：提示一：发行统一货币；提示二：成立于 1993 年；提示三：实行共同的外交政策；提示四：制定共同的防务计划。这个组织是 C

- A．三国同盟 B、联合国
C．欧洲联盟 D、世界贸易组织

34（2010 年扬州市）阅读下列材料：

材料一（总有一天）所有的欧洲国家……都将紧紧地融合在一个高一级的整体里。——雨果

材料二



——北师大版九下《历史》教材

材料三 2002 年以来，欧洲的老百姓感受到了每天都看得见、摸得着的“口袋里的欧洲”。

——《新课程历史教学研究与资源丛书》

请回答：

(1)20 世纪 60 年代欧洲国家为实现材料一中“高一级的整体”成立了什么组织？(1 分)

(2) 据材料二并结合所学知识，指出该组织成立的目的。(1 分)

(3) 材料三中“口袋里的欧洲”指的是什么？(1 分)

(4) 上述材料反映了欧洲什么发展趋势？(1 分) 给我们什么启示？(1 分)

28．（2010 年泰安市）初三学生小明暑假随爸妈去某地区旅游，发现当地大多数国家的居民拥有统一的护照、使用统一的货币。该地区最有可能是（B）

- A．东南亚 B．西欧 C．北美洲 D．南非

20（2010 年泰州市）二战后，西欧国家逐渐走上了联合发展的道路，由欧洲煤钢联营到欧洲共同体再到欧盟的出现，说明西欧国家联合的趋势是

- A．西欧国家之间的矛盾已完全消除
B．由经济合作走向经济政治一体化
C．由政治合作走向经济联合
D．西欧国家经济发展水平已无差别

解析：1951 年，法国、联邦德国、意大利、荷兰、比利时、卢森堡六国组建了“欧洲煤钢联营”，迈出欧洲联合的第一步；1967 年，欧共体成立；1993 年 11 月，欧盟成立，欧洲向政治经济一体化目标迈进。

答案：B

14（2010 年徐州市）20 世纪 80 年代以来，在世界范围内形成的区域性经济集团不包括（A）



A. 世界贸易组织 B. 欧洲联盟 C. 亚太经合组织 D. 北美自由贸易区

A. 世界贸易组织 B. 欧洲联盟 C. 亚太经合组织 D. 北美自由贸易区

23 (2010年滨州市) 下列标志所代表的国际组织，与欧元密切相关的是 (C)



A

B

C

D

33 (2010年山东聊城市) 旗帜、徽章有着特殊的寓意。

作为标志，右边的旗帜应该悬挂于 (C)

- A. 国际联盟总部 B. 联合国总部
C. 欧洲联盟总部 D. 世贸组织总部



24 (2010年潍坊市) (14分) 历史上的欧洲，曾遭受数次战争的蹂躏。战争带来了灾难，引起了人们深思。阅读材料，回答问题。

材料一 千余年来，欧洲大陆纷争不已……1870年到1945年主要发生在法德之间的几场大战导致了欧洲的分裂。

(1) 材料一中“导致了欧洲分裂”的大战主要有哪些？(4分)

材料二 每一政府保证对与各政府作战的轴心国成员及其仆从者使用其全部资源，不论军事的或经济的。每一政府保证与本宣言签字国政府合作，不与敌人缔结单独停战协定或和约。

——《联合国家宣言》

(2) 概括材料二的主要内容。《宣言》的发表有什么重大意义？(4分)

材料三 2003年3月10日，一位哈佛大学教授发表文章指出：“……法德两国共同推动的欧洲联合，一直到现在对整个欧洲都有强大的吸引力。”

(3) 材料三中的“欧洲联合”指什么？有哪些积极作用？(4分)

(4) 综合上述内容，你得到了什么认识？(2分)

(1) 普法战争；第一次世界大战；第二次世界大战；(答对两项即可得4分)

(2) 内容：签字国保证用自己的全部力量反对法西斯，不单独与敌人讲和。(2分)

意义：标志着世界反法西斯同盟最终形成。(2分)

(3) 欧洲一体化进程(2分)。作用：促进了发展，维护了和平。(2分)

(4) 认识：战争、对抗必然两败俱伤；和平、合作才能共同发展。(本题为开放性问题，只要言之有理即可得2分)

30 (2010年龙岩市) 近年来，国际间往来越发频繁，从国际金融峰会到联合国气候大会，人们关注的主题越来越多。某校九年级历史兴趣小组的同学正在开展以“加强国际合作，共创美好未来”为主题的探究活动，请你一起参与。

【走近学习生活】

小组成员想搜集有关国际合作的资料，请你给他们提供两个途径。（2分）

【探究世界历史】

- ① 世界连成一个整体，你认为最早可以追溯到哪一历史事件？（1分）
- ② 二战中，世界各国人民为了共同抗击法西斯形成了什么联盟？（2分）
- ③ 他们搜集的资料有：联合国、亚太经合组织、世贸组织、欧盟。其中我国没有加入的国际组织是哪个？（1分）

【感悟历史真谛】

- ① 你认为当今世界的主题是什么？（2分）
- ② 在经济全球化浪潮中，你认为世界各国之间存在什么关系？（2分）

30. **【走近学习生活】** 到图书馆、书店或互联网查找等。（2分，言之有理，答对一点给1分）

【探究世界历史】 ①新航路开辟。（1分）

② 国际反法西斯联盟。（2分）

③ 欧盟。（1分）

【感悟历史真谛】 ①和平与发展。（2分，答出其中一点给1分）

② 相互依存（合作交流）、（1分）相互竞争。（1分）（意思相近即可）

35 **（2010年四川省巴中市）** 目前世界上规模最大的区域性经济集团是_____。 A

- A. 欧盟
- B. 北美自由贸易区
- C. 亚太经合组织
- D. 世界贸易组织

30 **（2010年四川省成都市）** 20世纪50~70年代是西方经济快速恢复和发展时期，其中，西欧经济发展速度最快的国家是 D

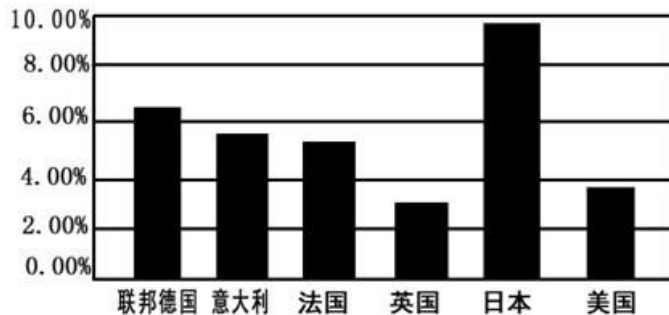
- A. 英国
- B. 法国
- C. 意大利
- D. 联邦德国

14. **（2010年四川省眉山市）** 欧盟是当今世界最大的经济体，到2007年已经拥有27个成员国。下列关于欧盟的说法不正确的是

- A. 欧盟各国将逐步使用单一的货币——欧元
- B. 成员国内部人员、资本和货物可以自由流通
- C. 不同国家的人可以自由地在任何一个成员国工作、学习或居住
- D. 成员国内有统一的军队

3. **（2010年四川省宜宾市）** 观察下图：（1950---1970年主要资本主义国家经济年均增长统计图）（4分）


1950-1970年主要资本主义国家经济年均增长率统计图




以下结论，能从上图中得出的，请在其括号中打√；与上图意思表达相反的，请在其括号中打×；上图中没有涉及的，请在其括号中打○。

- (1) 1950年~1970年，主要资本主义国家经济发展较快。 ()
 (2) “欧洲共同体”的成立，促进了成员国经济的发展。 ()
 (3) 1950年-1970年。美国经济发展低迷，经济危机深重。 ()
 (4) 主要资本主义国家经济发展不平衡。 ()
3. (1) √。
 (2) ○。(3) ×。(4) √。

24 (2010年攀枝花市) 图片中的历史：现在，很多欧洲人的观念从“我是法国人”或“我是德国人”转变为“我是欧洲人”。能够反映这一观念转变的标志是 (C)



15 (2010年菏泽市) 欧盟的旗帜是 (B)



11. (2010年梅州市) 法国作家雨果预言“总有一天……所有的欧洲国家……都将紧紧地融合在一个高一级的整体里……”1993年，欧洲初步实现这一预言而建立“高一级的整体”是 (B)

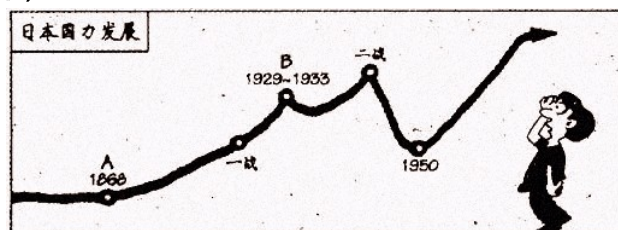
- A. 欧洲共同体 B. 欧洲联盟
 C. 世界反法西斯联盟 D. 联合国

(3) 简述战后日本成为资本主义经济强国的主要史实。

19 (2010年鄂州市) 日本成为经济大国后，一直在谋求政治大国的地位，出现了军国主义复活的现象。下列看法错误的是 (B)

- A. 军国主义的本质就是侵略 B. 军国主义复活是经济发展的必然结果
 C. 军国主义是对世界和平的严重威胁 D. 日本存在军国主义复活的社会土壤

19. (2010年长春市) 观察下面手绘简图：



请回答：

- (1) 该国在A处进行了哪次重要改革?使其社会性质发生了怎样的转变? (2分)
 (2) 一战后，它在1921年参加了为解决东亚、太平洋地区矛盾而召开的国际会议，并起

到主要作用。请写出这次会议的名称。(1分)

(3) 该图在B处也曾深受经济危机困扰,它是如何应对的?(1分)

(4) 请写出20世纪50年代后,其国力迅速增长的原因。(两点即可,2分)

49 (2010年东莞市) 二战后,日本经济持续高速发展,一跃成为仅次于美国的世界第二经济大国。日本成为第二大经济大国是在20世纪(C)

A. 50年代初 B. 60年代初 C. 70年代初 D. 80年代初

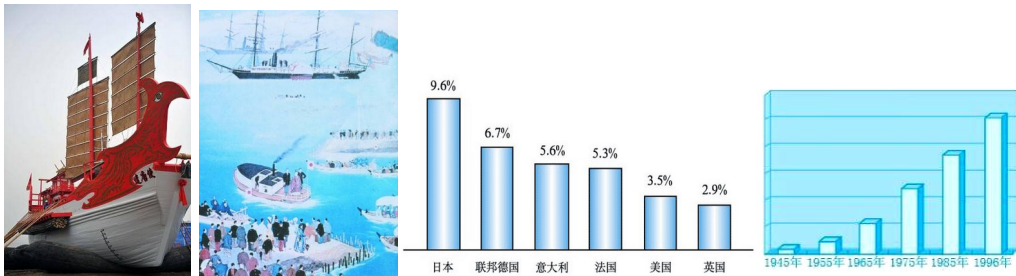
23 (2010年攀枝花市) 二战后欧洲资本主义国家和日本经济迅速恢复和发展的共同原因是(D)

① 美国的经济援助 ② 非军事化政策 ③ 高素质的劳动力优势 ④ 利用新的科学技术成果

A. ①② B. ②③ C. ②④ D. ①④

D. 暂时形成了“一超多强”局面。正朝多极化方向发展

25. (2010年河南省) (6分) 观察图表, 回答下列问题。



图一：遣唐使船 图二：1871年日本赴欧美参观团出港

图三：20世纪50-70年代主要资本主义国家经济增长率柱状图 图四：日本国民生产总值增长示意图

(1) 遣唐使对日本社会的发展产生了什么影响?(1分)

(2) 1871年日本使团赴欧美参观的主要目的是什么?(1分)

(3) 依据图三、图四, 概括二战后日本经济发展的特点, 并分析其原因。(3分)

(4) 上述材料反映出日本民族的哪一突出特点?(1分)

(1) 推动日本实行了大化改新, 促进了日本历史的进步。(答出仿照唐朝进行了政治、经济、文化的改革, 促使日本向封建社会转变也可, 1分)

(2) 考察了解欧美各国先进的制度和科学技术, 寻求富国强兵之路。(答出学习西方先进的政治制度、思想文化和科学技术, 探求富国强兵之路也可, 1分)

(3) 经济持续、高速增长。(1分) 第三次科技革命的推动; 战后民主改革; 人力发展科技教育; 美国的扶持; 制订符合国情的经济政策。(答出两条即可, 2分)

(4) 日本民族具有善于学习和吸纳外来文化的特点。(意思相近即可, 1分)

23 (2010年淮安市) 二战后, 日本政府根据国内外经济形势, 制定一系列合乎国情的经济发展政策。到20世纪80年代中期以后, 日本实行的促进经济发展的政策是(B)

- A. 利用美国的扶持
- B. 科技立国
- C. 推行非军事化政策
- D. 充分利用国内自然资源

25 (2010年扬州市) 下表为《20世纪50—70年代主要资本主义国家经济增长率简表》, 从中不能得到的信息是(D)

国家	日本	联邦德国	美国	英国
经济增长率(%)	9.6	6.7	3.5	2.9

- A. 日本经济持续高速增长
- B. 英国在主要资本主义国家中经济增长较慢
- C. 联邦德国在欧美主要资本主义国家中经济增长最快
- D. 美国丧失了资本主义世界头号经济强国的地位

19 (2010年莱芜市) 第二次世界大战后日本经济发展状况如图所示，它反映了当时 A

- A. 日本经济持续高速增长
- B. 日本成为世界上最大的经济体
- C. 日本继承了军国主义传统
- D. 日本成为美国的销售市场

37. (2010年无锡市) 阅读下列材料，回答问题 (3.5分)

材料一：美国崛起于19世纪末20世纪初，美利坚民族并不是北美大陆的首批开辟者，但经过100余年的开拓却构成了美洲领土最大的国家；虽然美利坚合众国不是第一个进行资产阶级革命的国家，但到了19世纪末工业总产值居世界第一。

(1)“美利坚民族并不是北美大陆的首批开辟者”，那么请问是谁率领船队成为美洲大陆的首批开辟者？(0.5分)

(2)美利坚合众国在18、19世纪通过两次资产阶级革命，为资本主义发展扫清的最大障碍分别是什么？(1分)

材料二：近现代历史中的日本，在19世纪和20世纪的中后期经历了两次重要的国家发展阶段，在危机中寻求出路，在较短的时间内脱颖而出、后来居上，寻事具备足以同世界强国抗衡的实力，令安乐窝之震惊，也值得世人认真思考和深入研究。

(3)日本在“在危机中寻求出路”，19世纪60年代，哪一历史事件使日本摆脱了危机，走上资本主义道路，成为历史上的重大转折点？(0.5分)

(4)20世纪80年代，日本实行什么政策促进了经济的发展？(0.5分)

材料三：《复兴之路》全景式追溯了中国近现代历史，更改且深情梳理了中华民族一百多年的伟大复兴道路……和其他大国的崛起不同，中国是从内忧外患的境地中一步步争取一独立自主和国家富强的。有着五千年辉煌灿烂历史的中华民族在那时候跌倒了，顽强的中国人民经过艰苦卓绝的斗争终于重新站起来了，中华大地焕发出了勃勃生机，中国人民富起来了。

(5)“中国是从内忧外患的境地中一步步争取一独立自主和国家富强的”，二十世纪中华民族“重新站起来了”的标志是指什么历史事件？(0.5分)

(6)十一届三中全会，党做了了了什么重大决策，使我国进入了社会主义现代化建设新时期，逐渐实现了国富民强？(0.5分)

9 (2010年淄博市) 1984年日本文部大臣在北京大学演讲时，说：“日本经济发展的原动力是大力开采人的脑力、心中的智慧资源和文化资源。”这反映了日本政府在发展经济中特别重视 (B)

- A. 推行非军事化政策
- B. 大力发展教育
- C. 引进最新的科学技术成就
- D. 制定恰当的经济政策

17 (2010年山西省) 根据图片提示信息，回答问题。(6分)



图一 《联合国宣言》签署仪式



图二 周恩来在万隆会议上发言



图三 上海 APEC 会议领导人



图四 欧盟旗帜

(1) 分别说出四幅图片历史事件的重要作用。(4分)

(2) 这些历史事件共同反映了怎样的主题?(2分)

(1) 《联合国宣言》的签署,标志着世界反法西斯联盟的形成,成为反法西斯战争胜利的根本保证。(1分)

万隆会议提出“求同存异”的原则,加强了中国与亚非各国的团结与合作。(1分)

上海 APEC 会议为促进亚太地区的交流与合作做出了贡献。(1分)

欧盟的成立,为成员经济的发展和国际地位的提高发挥了重要作用,促进了欧洲一体化的进程。

(2) 各国应加强交流与合作;(1分) 促进团结,共同发展。(1分)

33 (2010年四川省巴中市) 第二次世界大战后,日本经济迅速恢复和发展的外部条件主要是____。(D)

A. 实行民主化改革

B. 重视发展科技和教育

C. 积极开拓国内外市场

D. 美国的大力援助和扶持

48. (2010年达州市) 战后初期美国经济一枝独秀,增长强劲,西欧和日本却经济萧条,百废待兴。通过不懈的努力,战争的创伤被逐渐抚平,与美国的强烈反差激励着西欧和日本追赶的步伐。到20世纪70年代初,整个西方经济出现了空前繁荣的局面。

(1) 西欧国家为重振雄风和提高国际地位,成立了一个什么组织?该组织统一使用的货币是什么?(2分)

(2) 到20世纪70年代,美国、联邦德国、日本三国按经济实力强弱,应该如何排序?(3分)

(3) 用史实说明20世纪德国历史发展中的成败有“美国因素”的影响。(成败至少各举一例)(4分)

(4) 从西欧、日本战后经济迅速恢复和发展中,我们能够借鉴些什么?(2分)

(5) 在资本主义国家经济高速发展的同一时期,东欧社会主义国家也相继进行了改革,其中最有成效的是哪一个国家?人们是怎么赞美该国的?(2分)

48. (1) 欧共体或欧盟(1分) 欧元(1分)

(2) 美国、日本、联邦德国(由强到弱排序每正确一个得1分)(3分)

(3) 成：二战前期，美国实行的中立政策纵容了法西斯德国的侵略；二战后初期，美国通过马歇尔计划，促进联邦德国经济的恢复和发展。败：一战后期，美国参战加速了德国的失败；二战后期，美国参战打击了德国法西斯的气焰（成败各举其中一例即可，4分）

(4) 坚持科教兴国，发展高新科技；积极参与国际合作与竞争（或意思相近即可）（2分）

(5) 匈牙利（1分）“东欧消费者的天堂”（1分）

16.阅读下表内容后判断：

国家	时间	经济发展情况	发展原因	发展结果
联邦德国	20世纪50年代到70年代	增长迅速	凭借原有的经济基础；得益于第三次科技革命的兴起；借助美国马歇尔计划的援助；采取各种干预经济生活的措施。	1960年，成为西方世界仅次于美国的第二经济大国。到20世纪70年代，在资本主义世界工业生产中所占比重跃升。
日本	20世纪50年代到80年代	高速发展	实行民主化改革；重视科学技术；注重教育和人才培养；美国的大力援助和扶持。	20世纪80年代后期成为世界第二经济大国。

以下表述是从上表信息中得出的，请在括号内划“√”；违背了上表信息所表达的意思，请在括号内划“×”；是上表信息没有涉及的，请在括号内划“○”。

- (1)从20世纪50年代起，日本、联邦德国开始进入经济高速增长时期。（ ）
- (2)日本、联邦德国经济高速发展都得到了美国的援助。（ ）
- (3)1955年，日本工业已恢复到战前的最高水平。（ ）
- (4)1960年，联邦德国成为世界头号经济大国。（ ）
- (5)1967年，联邦德国、法国、意大利等国成立了欧洲共同体。（ ）

17.（2010年包头市）在世界历史舞台上，大国的发展带动着世界经济发展的进程，影响着国际格局的调整。阅读下列材料回答问题：（12分）

材料一 18世纪中期到19世纪中期，蒸汽和机器引起了欧洲工业生产的革命，世界从此掀开了新的一页。一位英国经济学家说：我们已经位居世界经济中心。大洋洲有我们的牧羊场，北美西部草原上有我们的牛群，南非和澳大利亚的黄金流向伦敦，印度人和中国人为我们种茶，而且我们的工业品已遍布势力到达的每一个地方……。

(1) 依据材料一并结合所学知识，概述英国成为世界经济中心的条件。（至少三项）（3分）

材料二 美国在19世纪已经具有世界经济大国的实力……二战又使美国成为当之无愧的世界霸主。在发展过程中，面对来自国内外的各种挑战，积极应对，有效调整。

(2) 19世纪中期至20世纪中期美国是怎样应对或解决下列问题的？（3分）

问题一 南北分裂——

问题二 20世纪30年代经济危机——

问题三 法西斯侵略的威胁——

材料三 日本是二战的祸首之一，它在给世界带来灾难的同时，本国也遭到了沉重的打击。可是，日本不仅很快清除了战争废墟，还实现了经济的飞速发展。

(3) 列举二战后日本成为经济大国的原因。(4分)

(4) 纵观世界大国经济发展的历程,你认为发展中国家应如何顺应当今世界经济潮流?(2分)

17. (1) 英国确立资产阶级统治;最早进行并完成工业革命;拥有广阔的海外殖民地;以牛顿为代表的近代科学发展。(每点1分,任意3点即可,总分不得超过3分) (2) 南北分裂——通过战争(南北战争),镇压叛乱,维护统一。20世纪30年代经济危机——实行罗斯福新政,加强国家对经济的干预。法西斯侵略威胁——组成世界反法西斯联盟,协同行动,打败法西斯。(只要美国参与的反法西斯具体史实,也可得分)(每点1分,共3分) (3) 美国经济上扶持;战后进行民主改革;大量引进世界先进技术;注重国家对经济的干预;制定切实可行的发展规划;长期坚持“教育先行”战略,重视人才培养;实行“贸易立国”战略;注意保持政策一贯性和连续性;(每点1分,任意4点即可,总分不得超过4分) (4) 制定防范风险措施;注重科技教育;学习先进技术;学习先进的经济管理经验;加强国际间的合作与交流;树立可持续发展的观念;建立和完善市场经济体制。(每点1分,任意2点即可)

16. (2010年东营)第二次世界大战以后,日本经济迅速崛起,下列有关表述正确的是(C)

①完全依靠本国力量,取得战后经济的迅速发展②20世纪70年代成为仅次于美国的经济大国③20世纪80年代中期以后,实行“科教兴国”政策④随着经济发展,谋求政治大国的欲望膨胀

A. ①② B. ①④ C. ②④ D. ③④

23. (2010年泉州市)20世纪20~30年代,苏联人民在列宁领导下,工业总产值跃居欧洲第一位,实现了国家工业化。(6分)

错误: _____

理由: _____。

23. 错误:苏联人民在列宁领导下,实现了国家工业化。(2分)

理由:20世纪20~30年代,苏联实现国家工业化是在斯大林领导下;(2分)

列宁领导时期实施的是新经济政策。(2分)

(五)社会主义国家的改革与演变

【内容标准】

(1) 了解赫鲁晓夫改革。

(2) 知道戈尔巴乔夫改革和苏联解体。

14. (2010年芜湖)20世纪七八十年代,中苏两国都进行了改革,然而改革的结果却不同,阅读下列材料回答问题。

材料一:戈尔巴乔夫上台后,大声疾呼要对国家进行根本性的变革和改造。1986年,苏共二十七大通过了经济改革纲领,会后又颁布了一系列关于经济体制改革的法令,由于经济改革阻力太大,成效低下,戈尔巴乔夫又仓促转向政治体制改革。1990年3月,修改宪法,取消苏共的法定领导地位,实行总统制和多党制。在“政治多元化”和“公开化”的口号下,无政府状态在全国迅速蔓延,罢工浪潮此起彼伏,反对党纷纷成立,民族分离、国家分裂势力迅速抬头。

——摘自华东师大版和人教版《世界历史》九年级下册

(1) 从材料一可以看出,20世纪八十年代苏联改革的结果怎样?(3分)

(2) 导致苏联改革出现上述结果的客观历史因素是_____。(2分,填字母代号)

- A.“八一九”事件 B. 戈尔巴乔夫的“新思维”
C. 斯大林模式的弊病 D. 急于求成的激进改革措施

(3) 材料二:十一届三中全会后,在邓小平建设有中国特色社会主义理论的指导下,中国的改革开放取得了巨大成就,在世界风源急剧变幻的情况下,中国的社会主义制度经受住了严峻的考验。

——摘自华东师大版和人教版《中国历史》八年级下册

(3) 对比材料一、材料二,分析中国的改革取得巨大成功的原因有哪些?(4分)

(1) 改革激化了苏联社会的各种矛盾,引发了社会的动荡和分裂,导致了苏联的解体 and 苏共的垮台。(3分。若只答“苏联解体”,给2分)

(2) C (2分)

(3) ①坚持以经济建设为中心,大力发展生产力;②坚持共产党的领导和社会主义方向,坚持马克思主义指导地位不动摇;③重视国内的民族问题,正确处理民族关系;④抵制西方鼓吹的某些思想和价值观。(4分,每点1分。答出其他符合题意的答案可酌情给分)

(本题答出其他符合题意的答案可酌情给分)

17. (2010年东营) 1992年,国内一旅游团要出国旅游,在旅游行程表中不会出现的国名是(B)

- A. 法国 B. 苏联 C. 意大利 D. 英国

13 (2010年广州市)“横空出世一战中,社会制度初显优;反法西斯建大功,一朝解体两极终”。它描述的是下列哪个国家?() B

- A. 英国 B. 苏联 C. 美国 D. 中国

50 (2010年湛江市) (10分)俄国历史悠久,在世界近现代史上发挥了重要的作用。请回答下列问题:

(1) 标志着俄国正式走上资本主义道路的历史事件是什么?(1分) 1991年苏联解体,使苏联从社会主义向资本主义演变,哪位领导人的改革直接导致了苏联解体?(1分)

(2) 1917年,俄国十月革命取得胜利并建立了世界上第一个社会主义国家。为恢复和发展经济,1921年,在列宁的领导下,苏俄开始实行什么政策?(2分) 这个政策的实行对该国有什么重要的作用?(2分)

(3) 苏联是第二次世界大战中抗击法西斯侵略的重要力量。苏德战场的转折点,也是第二次世界大战根本转折点的战役是什么?(1分) 为加快反法西斯战争的最后胜利,1945年初,苏、美、英三国领导人在苏联举行什么国际会议?(1分) 中国人民也为世界反法西斯战争的胜利作出了巨大贡献,请写出抗日战争中分别由国共两党领导的取得胜利的两次著名战役。(2分)

32. (2010年河北省) 阅读材料,回答问题。(9分)

材料一 以俄共为主的左翼政治派别仍然把列宁视为自己的领袖和精神象征。他们认为,列宁领导建立的社会主义国家使劳动人民当家作了主人,是列宁把俄国从战争中拯救出来。列宁倡导人民政权,反对人剥削人的制度,这些对于今天和未来的俄罗斯来说仍然具有现实意义。俄罗斯右翼政治派别则对列宁、布尔什维克和苏联社会主义制度持极端仇视态度。

材料二 俄罗斯绝大多数学者仍然认为,列宁和“十月革命”不仅改变了俄国,也改变了世界,改变了资本主义本身。人们应该以历史的态度来对待历史。少数右翼学者认为,苏联历史中一切阴暗的东西都源于列宁,苏联的制度从一开始就错了。

材料三 在普通百姓心目中,列宁是穷苦人的救星,是公正的象征。在社会分配严重两极分化的今天,普通百姓更加怀念社会主义时代的福利。

- (1) 材料一、二、三分别是俄罗斯哪三个群体对列宁的评价？(3分)
- (2) 据材料和所学知识，指出他们作出评价的相同背景。(2分)
- (3) 在上述背景下，我们仍然认为列宁是伟大的无产阶级革命家、社会主义建设道路的开拓者。请用所学的中外史实加以说明。(4分)

32. (1) 政治派别(或政党)、学者、普通百姓。

(2) 苏联解体；俄罗斯现状(或俄罗斯经济不景气，国际地位下降)。

(3) 革命家：列宁领导十月革命，建立了世界上第一个社会主义国家；十月革命使马克思主义开始在中国传播，为中国革命指出了新的道路。开拓者：列宁实施新经济政策，探索了建设社会主义的道路等。

19. (2010年河南省) 亚历山大二世、列宁、戈尔巴乔夫是俄国历史上的重要人物。他们都对当时而临的社会问题进行了改革。下列对他们所领导的改革评价准确的是 【 B 】

- A. 三次改革都使国家性质发生了变化
- B. 亚历山大二世改革，促进了俄国资本主义的发展
- C. 列宁的改革，形成了世界上第一个社会主义国家
- D. 戈尔巴乔夫改革，加强了共产党对国家的领导

37 (2010年连云港市) 历史发展具有阶段性特征，几乎每十年国家，每个领域都有突出的主题，这个主题就是这个时代的最大特征。

示例：20世纪20年代的苏联(苏俄)是“走向强国的时代”；30年代的美国是“战胜危机的时代”；40年代的世界是“战争的时代”；50年代的中国是“成绩大于失误的时候”；60年代的世界格局是“争霸的时代”。

据此并结合所学知识，回答：(12分)

(1) 30年代，美国“战胜危机”的主要措施被统称为什么？50年代，中国取得的“成绩”在政治和外交上各有哪些表现(每领域各举一史实即可)？(3分)

(2) 图片能够反映当时的历史信息。分别指出，下列图片能说明“示例”中20世纪的哪一主题？(3分)



图一：华盛顿的“和平鸽”



图二：绞死希特勒



图三：工业化之路

(3) 仿照“示例”中表述时代主题的方法，概括20世纪“20年代的世界格局”和“80年代的苏联”的时代主题，并各举一个能说明该主题的典型史实。(4分)

(4) 上述问题和解答，呈现出怎样的历史学习过程？(2分)

37. (1) 罗斯福新政。(1分) 政治：制定社会主义类型宪法、建立社会主义制度。(任意1点1分) 外交：提出和平共处五项原则、提出“求同存异”方针。(任意1点1分)

(2) 图一：争霸的时代。图二：战争的时代。图三：走向强国的时代。(3分)

(3) 建立凡尔赛—华盛顿体系；《九国公约》等。走向剧变；戈尔巴乔夫改革。(4分)

(4) 感知—理解—运用。(2分) [由阶段特征回扣具体史实；由具体史实概括阶段性特

征；由感知到模仿这一方法解决问题。（任意 2 点 2 分）]（由本题归纳的其他言之成理的答案，均可给分）

11（2010 年江西省）有学者评论某次改革时说：“天冷，本想弄点木材烤烤手，想不到竟将整个房子烧了。”据此判断，他评说的是（D）

A. 列宁新经济政策 B. 罗斯福新政 C. 邓小平改革 D. 戈尔巴乔夫改革

27（2010 年威海市）《大国崛起》解说词中讲到：1991 年，克里姆林宫的红旗悄然落下，红色的年轮在大国兴起的舞台上刻写了 74 圈。导致“红旗悄然落下”的事件是（A）

A. 苏联解体 B. 东欧剧变 C. 赫鲁晓夫改革 D. 美苏争霸

17.（2010 年乌鲁木齐市）俄国十月革命和中国新民主主义革命胜利后，都选择了走社会主义道路。苏联和中国都对社会主义道路进行了探索，在社会主义革命和建设过程中都进行了改革，但是产生的结果却截然不同。

结合所学知识，回答下列问题：

（1）苏联和新中国分别成立于何时，第一任最高领导人是何人？（4 分）

（2）苏联和新中国在向工业化迈进时都制定了什么计划？集中力量重点发展什么？两国计划的实施结果分别是怎样的？（6 分）

（3）1978 年开始的中国经济改革和 1985 年苏联进行的经济改革，主要领导人分别是谁？两国经济改革的结果怎样？（4 分）

（4）苏联和中国社会主义道路的探索实践及其结果给我们以什么启示？（2 分）

（3）以匈牙利为例，了解东欧社会主义国家的改革运动。

22（2010 年攀枝花市）东欧剧变给我们的最大启示是（A）

- A. 社会主义建设必须与本国实际相结合
- B. 社会主义建设必须坚持独立自主
- C. 社会主义建设应不断进行改革
- D. 社会主义建设必须加强对西方“和平演变”的抵制

41.（2010 年四川省自贡市）社会主义是一项前无古人的崭新事业，从 20 世纪 50 年代中期起，东欧各国相继进行了改革。其中被誉为“东欧消费者的天堂”的是（A）

A. 匈牙利 B. 东德 C. 苏联 D. 南斯拉夫

42.（2010 年四川省自贡市）下列组合中，不存在因果关系的一项是（C）

- A. 东欧剧变——社会制度发生根本性变化
- B. 杜鲁门主义的提出——揭开了“冷战”的序幕
- C. 北大西洋公约组织建立——标志着两极格局的形成
- D. 东欧剧变和苏联解体——世界两极格局崩溃

35.（2010 年泰安市）阅读下列材料，回答相关问题。

材料一 1999 年，世纪之交，英国广播公司举行民意测验：评选一千年来最伟大的思想家。结果，马克思主义理论的创立者之一——卡尔·马克思当选为最伟大的思想家。

材料二 材料三



列宁同志清扫地球



肥猪赛大象，就是鼻子短。
全社杀一口，足够吃半年。

材料四 1978—2009年中国国民经济部分年份对比简表

项目	1978年	1990年	1997年	2000年	2002年	2009年
我国国内生产总值(亿元)	3624.1	18547.9	74462.6	89442.6	102398	335353
城镇居民家庭人均支配收入(元)	343.4	1510.2	5160.3	6280	7703	17175

(1) 材料一中“马克思主义理论”诞生于____年，其标志是____。(2分) 在马克思主义指导下无产阶级建立政权的第一次伟大尝试是____(1分)

(2) 材料二漫画反映了____(革命事件)对世界的巨大影响。(1分) 此后，建立的第一个社会主义国家是____。(1分)

(3) 20世纪80年代末90年代初，东欧各社会主义国家风云突变，在一年之内，执政四十多年的各国政党纷纷丧失政权。请指出东欧剧变的实质。(2分)

(4) 材料三漫画反映的现象出现在中国共产党错误发动的哪一运动中?(1分) 中共错误发动这一运动的原因是什么?(2分)

(5) 材料四图表反映了改革开放以来，我国国民经济实力出现了怎样的变化趋势?(1分) 做出改革开放的伟大决策是在哪次会议上?(1分) 这次会议重新确立的党的思想路线是什么?(1分)

(6) 中国社会主义建设与东欧各国取得结果不同，坚持科学理论指导是重要原因。请写出在中共十五大上被确定为党的指导思想的理论体系名称。(1分)

35.(1) 1848年；(1分) 《共产党宣言》的发表；(1分) 巴黎公社(1分) (2) 十月革命；(1分) 苏维埃俄国(或苏联)(1分) (3) 社会制度的变化(2分) (4) 大跃进运动(或大跃进和人民公社化运动)；(1分) 中国刚刚从革命战争转向社会主义建设，党和人民对我国社会主义所处的发展阶段认识不足，对如何建设社会主义缺少经验，又急于求成，忽视了客观经济规律。(2分)

(5) 不断提升；(1分) 十一届三中全会；(1分) 解放思想、实事求是(1分) (6) 邓小平理论(1分)

(六) 亚非拉国家的独立和振兴

【内容标准】

(1) 以印度等国为例，简述亚洲国家实现国家独立和走上民族振兴道路概况。

29 (2010年贵港市) 在世界近现代史上，工业革命促进了经济的发展，改变了世界面貌。经济发展的情况影响了资本主义国家的政治，也影响了亚非拉民族国家的发展。请回答：

(1) 第一次工业革命最先发生于哪一行业？(1分) 美国通过什么战争为它的经济迅速超过英、法等国创造了条件？(1分)

(2) 俄国废除农奴制的改革最重要的意义是什么？(1分)

(3) 在1929年—1933年经济危机的打击下，哪两个国家走上了法西斯道路？(2分)

(4) 二战后，哪一个国家创造了“惊人的汉江之奇”？(1分) 为拉美各国民族自强和经济振兴树立了榜样的是哪一个国家？(1分)

(5) 中国经济的腾飞举世瞩目，请你为我国的经济发展提一条合理的建议。(1分)

29. (2010年衡阳市) (13分) 作为新兴大国集团“金砖四国”中仅次于中国的印度，发展势头强劲，十分令人瞩目。

[古代文明]

(1) 印度位于南亚次大陆，为世界四大文明古国之一，古代史上，就创造了十分独特而辉煌的文明。古印度产生的佛教，广泛流布于亚洲地区，成为世界三大宗教之一。请写出佛教的产生时间和创始人。(4分)

[殖民灾祸]

材料一 征服印度孟加拉地区的殖民头子克莱武在英国议会里无耻地吹嘘：“富庶的城市在我的脚下，强大的国家在我的手中，在我一人面前打开了充满金条银锭、珍珠宝石的宝库。我统共取了20万英镑。诸位先生，直到现在，我还奇怪自己为什么那样客气呢！”殖民当局还规定，英国输入印度的货物只收极低的税，甚至免税，印度纺织品在本国销售，却要交极高的内地税。在英国棉织品冲击下，著名的印度纺织中心达卡急剧衰败，大批手工业者破产，印度总督本廷克也不得不承认：“这种灾难，在商业史上无与伦比。棉织工人的白骨使印度平原都白成一片了。”

(2) 进入近代，印度遭受巨大的殖民灾祸。根据材料一归纳英国殖民者在印度的暴行。(3分)

[抗争英雄]

(3) 1857年，印度爆发了民族大起义。作为起义领导人之一的章西女王，在防守瓜廖尔的战斗中英勇牺牲。你认为章西女王哪些精神值得我们学习？(2分)

[发展成就]

材料二 “尼赫鲁相信，印度的未来靠的是科技发展，而且科技发展要建立在自力更生的基础之上。”

(4) 1947年独立后，印度经济社会发展较快，成就显著。试列举印度在科技方面取得的成就。(2分)

[中印友好]

材料三 中印友好关系源远流长。随着有着“东方巨龙”之称的中国和有着“南亚大象”之称的印度的先后崛起，中印建立健康良好的、睦邻合作的关系，不仅符合两国人民的根本利益，而且对维护亚洲乃至整个世界的和平与稳定都具有十分重要的意义。

(5) “中印友好关系源远流长”，试举史实说明。(2分)

29. (13分) (1) 产生时间：公元前6世纪。(2分) 创始人：释迦牟尼(或乔达摩·悉达多)。(2分)

(2) 武力征服、公开抢劫、垄断贸易。(3分。答出2点即可)

(3) 答出热爱祖国、反抗侵略、争取独立、敢于斗争、不怕牺牲、维护民族尊严、巾帼不让须眉等精神中两点即可。(2分)

(4) 在核工业和航天技术上取得突出成就，并发展为软件大国。(2分。在核工业、航天、软件3个要点中答出2点即可)

(5) 汉代丝绸之路即到达印度；西汉末年从印度传来佛教；唐代玄奘西游印度；1953年中印共同倡导和平共处五项原则。(2分。答出其中1点即可)

24 (2010年盐城市) 印度与巴基斯坦的分治遗留了许多问题，造成印、巴间的严重对立。炮制印巴分治方案的国家是 (B)

A.美国 B.英国 C.法国 D.俄国

24 (2010年东营市) 尼赫鲁在庆祝印度独立时说：“今天我们结束了一个厄运的时代，印度再次发现了自己。”这表明印度结束了 (A)

A. 英国的直接统治 B. 法国的直接统治
C. 西班牙的直接统治 D. 葡萄牙的直接统治

28 (2010年威海市) 印度和巴基斯坦常因殖民者遗留下的领土纠纷而冲突不断，造成了南亚地区长期的动荡和不安。印度独立前，是下列哪个国家的殖民地 (C)

A. 法国 B. 美国 C. 英国 D. 俄国

13 (2010年山西省) 下面是九年级某班小明同学围绕“印度的独立和振兴”制作的学习卡片，其中有一处与史实明显不符，此处是 (C)

独立时间：1947年

斗争对象：英国

领导人：纳赛尔

发展状况：印度独立后半个多世纪中，科技领域成绩显著，综合国力有了较大增强。

A. 独立时间 B. 斗争对象 C. 领导人 D. 发展状况

31 (2010年四川省成都市) (4分) 举出与以下评价相对应的亚洲“四小龙”的名称。

- ①“惊人的汉江之奇”韩国
- ②“神奇的港口之国”新加坡
- ③“耀眼的东方之珠”香港
- ④“突起的海岛之星”台湾

43. (2010年四川省自贡市) 亚洲地区是二战后最富于经济活力的地区之一。以下对20世纪七八十年代这一地区经济发展表述不正确的是 (D)

A. 日本成为世界第二号经济大国 B. 新加坡以“神奇的港口之国”著称
C. 韩国创造了“惊人的汉江之奇” D. 印度创造出经济发展的“黄金时代”

(2) 简述战后非洲独立运动和拉丁美洲各国为捍卫国家主权、促进社会经济发展所进行的斗争。

24 (2010年广东省) 正在进行的南非世界杯足球赛把世人的目光再次聚焦到非洲这片土地上，1990年的非洲大陆就曾经被世界所关注。因为这一年 (D)

A. 非洲独立运动在北非展开 B. 被称为“非洲独立年”
C. 非洲国家摆脱贫困实现了富强 D. 非洲殖民体系彻底崩溃

10. (2010年桂林市) “二战”后，亚非拉国家为维护国家主权、争取民族独立进行了坚决的斗争，掀起了民族独立运动的高潮。属于非洲人民维护国家权益的斗争是 (A)

A. 埃及收回苏伊士运河主权 B. 印度民族独立运动
C. 1959年古巴革命胜利 D. 巴拿马收回运河主权

19. (2010年河北省) 西方列强的殖民统治，不仅使非洲国家失去了经济资源，也使非洲国家失去了政治尊严，那就是民族的独立和平等。下列史实标志着非洲国家最终找回“政治尊严”的是 (D)

- A. 万隆会议的召开
B. 埃及收回苏伊士运河
C. 1960年，非洲17个国家独立
D. 纳米比亚独立

35. (2010年十堰市) 1960年之所以被称为“非洲年”，是因为(B)

- A. 这一年是非洲独立运动的开始
B. 这一年非洲有17个国家宣告独立
C. 这一年非洲的重要国家埃及宣告独立
D. 这一年，殖民统治在非洲终结

26 (2010年南京市) . 2010年，非洲因南非世界杯足球赛而倍受世界，此年还是帝国主义在非洲的殖民体系最终瓦解多少周年 (B)

- A. 10周年
B. 20周年
C. 30周年
D. 40周年

10. (2010年芜湖) 某历史专栏出现了以下三幅图片，该专栏的主题应该是 (D)

今天我们结束了
一个厄运的时代，印度
再次发现了自己。
—— 尼赫鲁



纳 塞 尔



卡斯特罗进入哈瓦那

- A. 经济全球化
B. 资本主义时代的曙光
C. 拉丁美洲的独立
D. 亚非拉的奋起

(3) 知道中东战争，认识战后中东地区矛盾的复杂性。

20 (2010年龙岩市) 中东问题的关键是 D

- A. 宗教问题
B. 种族问题
C. 水源问题
D. 巴以冲突

16. (2010年安徽) 握手是一种礼节，握手是一种问候，握手是一种友谊，但在有些场合的握手却能改变国家和人类的命运。

【跨越太平洋的握手】

材料一 尼克松总统在回忆自己首次访华在机场与周总理见面的情景时说：“当我们的手握在一起时，一个时代结束了，另一个时代开始。”

——摘编自《尼克松回忆录》

(1)“另一个时代开始了”的含义是什么？当今影响中美关系发展的核心问题是什么？(4分)

【尝试和解的握手】

材料二 自二战后至今，中东地区屡燃战火、动荡不定，历史、宗教、种族等因素，使这一地区的矛盾错综复杂，而印巴冲突更是成为中东问题的关键。20世纪90年代初，中东和平出现转机，以色列和巴勒斯坦第一次共同坐到了



尼克松访华



阿拉法特与拉宾的握手

谈判桌前，这是一次温暖的握手，它迈开了中东和平进程的重要一步。

(2)材料二中有一处严重的知识错误，请你找出并改正。(2分)

错误：_____ 改正：_____

(3)这次“尝试和解的握手”所带来的积极效果是什么？(2分)

【面向新世纪的握手】

材料三 2000年9月联合国安理会5个常任理事国首脑举行会晤，在人类社会跨入新世纪门槛之际，五大国首脑的握手有着非凡的意义。

(4)当今世界的两大主题是什么？围绕两大主题，谈谈你对“五大国首脑握手”的看法。(4分)

16.(1)中美关系开始走向正常化(对抗走向缓和)(2分) (答中美建交得1分)；
台湾问题(2分)

(2)印巴冲突(1分)；巴以冲突(1分)

(3)迈开了中东和平进程的重要一步(巴以关系走向缓和)(2分)

(4)和平与发展(2分)；大国合作有利于世界和平与发展；要发挥联合国的积极作用；
世界格局呈现多极化趋势；中国为代表的和平力量的发展有助于世界和平等。

(任答1点2分，其他言之有理亦可)(2分)

19 (2010年福州市)巴勒斯坦人用“人肉炸弹”在以色列超市、公共汽车制造爆炸案；以色列人对巴勒斯坦人的定居点进行残酷报复。造成双方陷入这种恶性循环的因素是(D)

①宗教信仰不同 ②种族不同 ③争夺水资源 ④领土问题

A.①②③ B.①③④ C.①②④ D.①②③④

14 (2010年广州市)当今中东问题的焦点是() B

A.核战争威胁 B.巴以冲突和谈

C.海湾战争 D.科索沃危机

4 (2010年淮安市)第二次世界大战结束以来，中东地区始终动荡不定，其中巴以冲突成为中东问题的关键。下列说法不符合巴以地区局势的是(C)

A.宗教信仰不同是双方矛盾的主要原因之一

B.双方不断争斗，陷入“以暴制暴”的怪圈

C.大国插手有助于消除双方矛盾

D.该地区和平进程曲折反复

24 (2010年滨州市)有这样一个热点地区，它石油资源十分丰富，地理位置和战略地位极其重要，是西方大国的必争之地，由于历史原因造成的民族矛盾和宗教矛盾使这一地区长期动荡，问题错综复杂。这一地区是(B)

A.巴拿马 B.中东地区 C.阿富汗 D.巴尔干半岛

27. (2010年资阳市)杨兵同学写了一封致巴以人民的公开信，信中有知识性错误的语句是(C)

A.巴以冲突既有当地人的利益之争，也有局外大国的利益之争

B.巴以冲突既有历史遗留问题之争，也有现实问题之争

C.坚决反对法西斯侵略，维护中东和平

D.对耶路撒冷的争夺增加了中东和平进程的难度

(七)战后世界格局的演变

【内容标准】

(1)简述杜鲁门主义等史实，了解美苏“冷战”对峙局面的形成，初步认识霸权主义对人类进步和安全的威胁。

39 (2010年湛江市)“冷战”是一场特殊的战争，既威胁了世界和平又维持了相对的和平。

“冷战”正式开始的标志是 (D)

- A . 华沙条约组织成立 B . 北大西洋公约组织成立
C . 马歇尔计划的实施 D . 杜鲁门主义的提出

27 . (2010 年深圳市) 阅读下列材料 , 回答问题 (11 分)

材料一 : 随着二战的进一步扩大 , 美国、英国、苏联、中国等 26 个国家于 1942 年初举行会议 , 签署《联合国宣言》 , 建立联盟。

材料二 : 20 世纪 50 年代 , 世界形成社会主义阵营和资本主义阵营 , 两大阵营展开了激烈的较量。在亚洲 , 中华人民共和国、朝鲜、越南先后加入社会主义阵营。这一时期 , 美国在亚洲发动了一场战争。

材料三 : 据新华社报道 , 第二轮中美战略与经济对话于 5 月 24 日在北京开幕。双方表示 , 建立 21 世纪全面交流全作的中美关系 , 既顺应了时代发展的潮流 , 也有利于亚太地区乃至世界和平、稳定与繁荣。

问题一 : 第二次世界大战开始于哪一年 ?

(1 分) 材料一中的 26 个制度不同、发展水平不同的国家 , 建立联盟的目的是什么 ? (1 分)

问题二 : 世界上第一个资本主义国家和第一个社会主义国家分别是指哪两个国家 ? (2 分)

材料二中两大阵营用什么方式进行“激烈的较量” ? (1 分) 美国发动的那场战争 , 我国称它是什么战争 ? (1 分)

问题三 : 结合材料二、三分析中美关系发生了什么变化 ? (1 分) 中美关系的发展体现了当今世界的什么主题 ? (2 分)

问题四 : 以上材料表明 , 不同社会制度的国家可以求同存异。请举例说明不同的社会制度在同一个国家也可以共生、共存。 (2 分)

问题一 : 1939 年 (1 分) ; 进行反法西斯战争 (1 分) (答反德意日侵略或维护世界和平也给分)

问题二 : 英国 (1 分) ; 苏俄 (或俄国 , 答苏联不给分) (1 分) ; 冷战 (或采取除军事进攻以外的一切敌对行动) (1 分) ; 抗美援朝 (答朝鲜战争不给分) (1 分) 。

问题三 : 从敌对到合作的转变 (1 分) (只答敌对或合作不给分) ; 和平与发展 (2 分) (只答和平或发展给一分)

问题四 : 在我国实行一国两制 , 祖国大陆实行社会主义制度 , 香港、澳门实行资本主义制度 (2 分) (答一国两制给一分 , 答香港或澳门给一分 , 答台湾不给分) 。

47 (2010 年东莞市) 这是一场特殊的战争 , 它存在于两种不同的社会制度之间 , 既威胁了世界和平又维持了世界相对的和平。这场特殊战争开始于 (A)

- A . 杜鲁门主义出台 B . 马歇尔计划实施 C . 北约组织成立 D . 华约组织成立

25 (2010 年岳阳市) 二战后 , 以美国为首的西方资本主义国家为了遏制共产主义 , 在军事上采取的重要措施是 : (B)

- A、成立华沙条约组织 B、建立北大西洋公约组织
C、提出杜鲁门主义 D、实施马歇尔计划

19 . (2010 年无锡市) 小亮准备找“冷战”的有关知识 , 可以用下列哪组关键词在网上进行搜索 ? (A)

- A . 杜鲁门主义、《北大西洋公约》、苏联解体
B . 《北大西洋公约》、马歇尔计划、科索沃战争
C . 雅尔塔会议、杜鲁门主义、《北大西洋公约》




图 5 中美战略与经济对话在京开幕

D. 珍珠港事件、马歇尔计划、欧共体

19 (2010年苏州市) 右图漫画反映的重大历史事件是 (D)

- A. “杜鲁门主义”的出台
- B. “马歇尔计划”的推行
- C. 华沙条约组织的成立

D. 古巴导弹危机的发生



22 (2010年滨州市) 方明同学在学完“冷战”内容后，整理笔记如下，其中有一项错误，请你找出来

- A.目的：遏制共产主义 (C)
- B.范围：资本主义与社会主义国家之间
- C.方式：采取一切手段
- D.开始标志：杜鲁门主义出台

14 (2010年山西省) 1947年3月，杜鲁门在国会发表演说，宣称美国有领导“自由世界”的使命，以“防止共产主义的渗入”。这表明 (A)

- A.美国欲推行霸权主义
- B. 美国要无私地援助欧洲
- C.美国要改善与苏联的关系
- D. 美国努力维护世界和平

36. (2010年达州市) 下列有关冷战的叙述，正确的是 (D)

- ①丘吉尔的“铁幕”演说发出了冷战的信号
- ②杜鲁门主义的出台标志着冷战的开始
- ③敌对双方是根据国家社会性质来划分的
- ④东欧剧变和苏联解体标志着冷战的结束

A.①②③ B.②③④ C.①③④ D.①②③④

18. (2010年娄底市) 右图所示的国际组织是 (D)

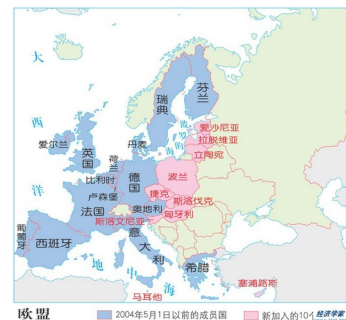
- A. 北约组织
- B. 联合国
- C. 世界贸易组织
- D. 欧洲联盟

22. (2010年綦江县) 20世纪人类经历了两次世界大战和长达近半个世纪的冷战，导致了世界格局的三次大变动。结合所学知识请回答下列问题：

(1)分别指出两次世界大战的性质。 (2分)

(2)第一次世界大战后形成的世界格局是什么？第二次世界大战后形成的两极格局与哪次重要国际会议有关？ (2分)

(3)第二次世界大战后大力推行“冷战”政策的是哪个国家？“冷战”开始和世界两极格局结束的标志各是什么？ (3分)



22 (1)第一次世界大战是一场争夺世界霸权的非正义的帝国主义战争 (1分)，第二次世界大战是一次世界范围的反法西斯的正义战争。 (1分)

(2)“凡尔赛华盛顿体系” (1分)；雅尔塔会议 (1分)。

(3)美国 (1分)；杜鲁门主义 (1分)，东欧剧变和苏联解体 (1分)。

21 (2010年攀枝花市) 漫画中的历史：请你为教材中这组历史漫画 (右图)，

归纳一个相同的主题： (D)

- A. 英国衰落
- B. 两极对峙
- C. 世界大战
- D. 大国争霸



27. (2010年深圳市) 阅读下列材料，回答问题(11分)

材料一：随着二战的进一步扩大，美国、英国、苏联、中国等26个国家于1942年初举

行会议，签署《联合国家宣言》，建立联盟。

材料二：20世纪50年代，世界形成社会主义阵营和资本主义阵营，两大阵营展开了激烈的较量。在亚洲，中华人民共和国、朝鲜、越南先后加入社会主义阵营。这一时期，美国在亚洲发动了一场战争。

材料三：据新华社报道，第二轮中美战略与经济对话于5月24日在北京开幕。双方表示，建立21世纪全面交流全作的中美关系，既顺应了时代发展的潮流，也有利于亚太地区乃至世界和平、稳定与繁荣。



图5 中美战略与经济对话在京开幕

问题一：第二次世界大战开始于哪一年？（1分）材料一中的26个制度不同、发展水平不同的国家，建立联盟的目的是什么？（1分）

问题二：世界上第一个资本主义国家和第一个社会主义国家分别是指哪两个国家？（2分）材料二中两大阵营用什么方式进行“激烈的较量”？（1分）美国发动的那场战争，我国称它是什么战争？（1分）

问题三：结合材料二、三分析中美关系发生了什么变化？（1分）中美关系的发展体现了当今世界的什么主题？（2分）

问题四：以上材料表明，不同社会制度的国家可以求同存异。请举例说明不同的社会制度在同一个国家也可以共生、共存。（2分）

问题一：1939年(1分)；进行反法西斯战争(1分)(答反德意日侵略或维护世界和平也给分)

问题二：英国(1分)；苏俄（或俄国，答苏联不给分）(1分)；冷战（或采取除军事进攻以外的一切敌对行动）（1分）；抗美援朝（答朝鲜战争不给分）（1分）。

问题三：从敌对到合作的转变(1分)（只答敌对或合作不给分）；和平与发展（2分）（只答和平或发展给一分）

问题四：在我国实行一国两制，祖国大陆实行社会主义制度，香港、澳门实行资本主义制度(2分)（答一国两制给一分，答香港或澳门给一分，答台湾不给分）。

46.（2010年四川省自贡市）20世纪90年代民族冲突、地区冲突、宗教冲突激烈的主要原因是（D）

A.美苏争霸 B.国际经济旧秩序 C.多国插手 D.“冷战”结束，力量对比失衡

46（2010年四川省巴中市）近代以来，随着各种力量的消长，世界格局发生了三次大变动，现请你以“世界格局的演变”为主题进行探究学习：

【探究一】知识回顾：

一战前形成的对抗性军事集团是哪两个？（2分）二战重要的转折点是什么？（1分）

【探究二】分析整理：

一战后形成的世界格局：（1分）

二战后冷战局面出现：冷战表现为政治上____（1分）；经济上____（1分）

当今世界格局呈现的趋势：政治上____（1分）；经济上____（1分）

【探究三】论从史出：

当今世界主题是什么？（2分）在新的世界格局形成中起决定作用的因素是什么？（1分）

46. 【探究一】三国同盟和三国协约。（2分）斯大林格勒战役。（1分）【探究二】凡尔赛—华盛顿体系。（1分）杜鲁门主义出台。（1分）马歇尔计划。（1分）多极化。（1分）全球化。（1分）【探究三】和平与发展。（2分）经济实力。（1分）

27. （2010年遂宁市）国家利益影响着国际关系的走向，国际关系主导着世界格局的变化。下列各项，按发生时间的先后顺序排列，正确的是（ ） B

①“冷战”开始 ②凡尔赛—华盛顿体系形成 ③苏联解体 ④两极格局形成

A. ①②③④ B. ②①④③ C. ②①③④ D. ①④②③

28. （2010年遂宁市）当今世界格局“一超多强”中的“多强”不包括（ ） A

A. 印度 B. 中国 C. 日本 D. 俄罗斯

（2）概述世界经济全球化加速发展的趋向，理解世界各国相互依存、相互竞争的复杂性。

25（2010年攀枝花市）世界经济全球化中的主角是（A）

A. 跨国公司 B. 国际和区域性经济组织 C. 高新科技 D. 发展中国家

20（2010年福州市）大众牌汽车的零部件来自四大洲 20 多个国家。这种现象反映了（C）

A. 美苏“冷战”对峙局面 B. 世界政治多极化趋势
C. 世界经济全球化 D. 亚非拉国家的振兴

30（2010年汕头市）阅读下列材料

材料一：20世纪90年代以来，经济全球化趋势进一步加强。经济全球化是社会生产力和科学技术发展的客观要求和必然结果。跨国公司有力地促进了世界经济的发展和全球化进程。

——据四川教育出版社《世界历史》九年级下册

材料二：“中国加入世界贸易组织不仅使自己从中得益，而且为世界经济贸易的发展做出了自己的管辖”。

——中国国家总理温家宝

材料三：发达国家与发展中国家人均国内生产总值的差距，由1983年的43倍，扩大到目前的60多倍。

——据中国地图出版社《世界历史》九年级下册

材料四：全球化是发达国家用来打开发展中国家市场的“敲门砖”，是新殖民主义的一种形式，因此发展中国家应该团结起来，抵制全球化。

——江时学《发展中国家怎么办——拉美国家的实践》

请回答：

（1）根据材料一归纳，20世纪90年代以来世界经济全球化趋势得到加强的因素有哪些？（2分）

①经济全球化是社会生产力和科学技术发展的客观要求和必然结果。

②跨国公司有力地促进了世界经济的发展和全球化进程。

（2）材料三反映了什么问题？这个问题产生的主要原因是什么？（4分）

发达国家与发展中国家贫富差距加大。原因：不公正的国际经济秩序。

（3）材料四认为“发展中国家应该团结起来，抵制全球化”。请根据以上材料并结合所学知识，对这一观点进行简要评价。（6分）

支持或反对均可，言之有理。

15 (2010年广州市) 以下信息不能从下图中提取的是 () C

- A. 禽流感造成严重的恐慌
- B. 恐怖主义也是一种“瘟疫”
- C. 贫富差距不断拉大
- D. 禽流感与恐怖主义均成为人类面临的共同问题



27. (2010年三明市) 阅读材料，并结合所学知识回答问题。

材料一 图 5

(1)材料一反映了哪一种大历史事件？这一事件对世界各地区的关系产生了什么重大影响？



材料二 2005年一些跨国公司生产(销售)情况简表

大众公司	汽车的部件来自四大洲的 20 多个国家
西门子公司	5 万多个产品部件来自 130 多个国家
雀巢公司	所属分公司遍及世界五大洲 50 多个国家，有 8500 多个产品在 100 多个国家销售
波音公司	每一架客机所需的 450 万个零部件来自海外 1500 家大企业，和 1.5 万家中小企业

- (2) 材料二反映了世界经济发展的什么趋势？哪一组织的成立最能体现这一趋势？
- (3) 下列哪两件事能表明，中国在这一趋势中，正发挥着越来越重要的作用?(选填正确答案的字母)
- A.“汪辜会谈”
 - B.中国成功举办上海 APEC 会议
 - C.中国召开国家科学技术管理大会
 - D.中国加入世贸组织

27. (1) 新航路开辟；世界开始连成一个整体。

(2) 经济全球化的趋势；世界贸易组织。

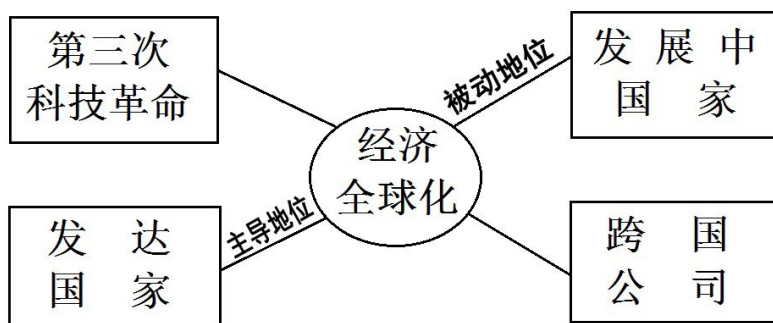
(3) B D。

15. (2010年长春市) 2008年美国次贷危机演变成世界性金融危机。这一现象反映了 (D)

- A. 文化多元化
- B. 科技现代化
- C. 政治多极化
- D. 经济全球化

12. (2010年桂林市) 阅读下列材料：

材料一 世界经济全球化趋势中的关系链



材料二 经济全球化是一把“双刃剑”。它在推动全球生产力大发展，加速世界经济增长，为少数发展中国家追赶发达国家提供了一个难得的历史机遇的同时，也加剧了国际竞争，增加了国际风险，并对国家主权和发展中国家民族工业造成了严重冲击。

——《人民日报》（2000年10月12日第三

版）

请回答：

（1）依据材料一结合所学知识，分别说说第三次科技革命和跨国公司在经济全球化趋势中是如何发挥各自作用的？（2分）

（2）依据上述材料结合所学知识，分析在经济全球化趋势中发展中国家为什么处于被动和不利地位？（2分）

（3）依据材料二，谈谈我国作为最大的发展中国家应怎样应对经济全球化带来的机遇和挑战？（2分）

12、（1）科技革命是经济全球化的物质基础，跨国公司是经济全球化的主要推动力。

（2）发展中国的经济实力、科技水平远远落后于发达国家，全球化对发展中国的民族工业造成了冲击。

（3）中国应加大改革开放的力度，坚持以经济建设为中心，努力提高中国的综合国力，积极应对全球化趋势。

15（2010年沈阳市）史料是我们研究历史的重要载体，直观地描述了历史的发展进程。阅读下列五则材料，按照题目要求所选材料前的序号及字母符号填到答题卡的指定位置上。

材料一：列车在预定的时刻开动了。“运动号”火车头由它的制造者——史蒂芬逊——驾驶带着列车走。火车头上面悬有一面旗，写着：“私人的尝试有益于国家。”

——摘自《世界通史资料选辑》

材料二：



民国时期的西式婚礼



中西餐广告


材料三：遵义会议以后，我军一反以前的情况，好像忽然获得了新的生命，处处主动，左右敌人。我军一动，敌又须重摆阵势，因而我军得以从容休息，发动群众，扩大红军。

——刘伯承的回忆录

材料四：



尼罗河流域阿布辛贝勒神殿



两河流域乌尔宫廷棋盘

材料五：跨国公司和国家的经济实力比较（1992年统计）

单位：10亿美元

公司名称	年销售额	国家	国内生产总值
通用汽车公司	132.4	印度尼西亚	126.4
		丹麦	123.5
福特公司	100.1	土耳其	99.7

公司名称	年销售额	国家	国内生产总值
艾克森石油公司	115.7	挪威	112.9
		丹麦	103.6
壳牌公司	96.6	波兰	83.8

- (1) 了解中国近代社会生活应选择材料是：
 - (2) 了解中国工农红军长征应选择材料是：
 - (3) 了解古代亚非文明应选择材料是：
 - (4) 了解经济全球化应选择材料是：
 - (5) 了解近代交通工具应选择材料是：
 - (6) 材料四属于材料类别中的哪一类？ A．第一手资料 B．第二手资料
 - (7) 材料五属于材料类别中的哪一类？ A．实物资料 B．文献资料
15. (1) 材料二 (2) 材料三 (3) 材料四 (4) 材料五 (5) 材料一
(6) A (7) B

20. **(2010年河南省)** 公元1500年以后，世界逐步由分散走向整体。如今，世界已形成了“地球村”的局面。在这一过程中起决定性作用的是 【 D 】

- A. 殖民主义扩张 B. 资产阶级思想传播
C. 区域性经济组织的广泛建立 D. 科学技术的进步

23. **(2010年河南省)** (6分) 阅读材料，回答下列问题。

材料一 20世纪50年代，新中国积极同邻近国家和新兴独立国家发展友好关系，参加了一系列外交活动并产生了积极的影响，国际政治舞台开始有了“中国声音”，中国的国际地位大大提高。

材料二 20世纪70年代，我国外交取得了显著成就，其中之一就是西方世界许多国家与中国建交。如：日本、美国、意大利、加拿大、联邦德国、澳大利亚、英国等。

材料三 改革开放以后，特别是进入20世纪90年代，中国政府开展了务实的、全方位外交活动，发展同所有国家的友好关系，积极参加国际及区域性组织，在双边与多边外交领域内取得了一系列重大成就，为改革开放和现代化建设创造了和平有利的国际环境。

- (1) 20世纪50年代，国际政治舞台上的“中国声音”主要指什么？(2分)
 - (2) 20世纪70年代，为中国外交新局面的出现创造了良好国际环境的事件是什么？(1分)
 - (3) 分别列举一个20世纪90年代以来中国参加的国际及区域性组织。(2分)
 - (4) 根据上述材料，说明一个国家调整外交政策的出发点是什么？(1分)
- (1) 和平共处五项原则；求同存异方针。(2分)
(2) 中国在联合国合法席位的恢复；中美关系开始走上正常化道路。(一条即可，1分)
(3) 国际组织：世界贸易组织；区域性组织：亚太经合组织。(其他符合题意也可，2分)
(4) 维护国家根本利益。(意思相近即可，1分)

20. **(2010年湖北省宜昌市)** 科索沃战争是以美国为首的北约对主权国家发动的一次军

事进攻，它加强了美国在全世界的强权地位，但没有实现建立单极世界的企图，世界政治格局发展的趋势仍然是（ B ）

A．单极化 B．多极化 C．全球化 D．区域化

30.（2010年武汉市）当今世界，人类赖生存的经济命脉已经联为一体，你中有我，我中有你，“世界各国都在一条船上”。这种现象告诉我们（A）

A.面对经济全球化带来的问题，需要世界各国共同解决

B.对于发达国家而言，经济全球化使其经济地位下降

C.经济全球化不利于世界范围内资源的合理配置

35（2010年连云港市）北京奥运会会歌唱到“我和你，心连心，同住地球村……”。这里的“地球村”含义丰富，若体现在世界经济发展特点方面，主要是指经济（D）

A．多极化 B．自由化 C．商品化 D．全球化

21.（2010年衡阳市）北京奥运会的会歌唱道：“我和你，心连心，同住地球村；为梦想，千里行，相会在北京……。”我们常说的“地球村”，突出体现了当代世界经济发展的什么趋势？A

A．经济全球化 B．知识经济 C．世界大同 D．世界多极化

34（2010年株洲市）（10分）某社区近期将出一期宣传板报。

下面是社区工作人员为板报准备的一份材料：

在世界经济全球化过程中，世界500家最大的跨国公司所进行的国外直接投资占世界投资总额的80%，贸易额超过世界的一半，技术转让1/3。跨国公司不仅跨国，而且跨集团，力图在全球范围内开展业务。

（1）、他们选取这段材料是为了说明什么问题？（2分）

（2）、板报拟设置一个栏目“大家谈”，提供这样一个观点：“人们欢迎经济全球化到来认为全球化是能够给中国带来幸福的‘馅饼’，同时也有可能是一个‘陷阱’”。如果要你来谈谈，你认为这个观点正确吗？（2分）为什么？（4分）

（3）、请你为这期宣传板报拟定一个主题。（2分）

36（2010年岳阳市）阅读下列材料：

材料一：16世纪初，世界上原来互相隔绝的地区沟通起来。欧洲和亚洲、非洲、美洲之间的贸易日益发展世界市场扩大了。美洲的特产玉米、马铃薯等迅速传到亚、非、欧。非洲的咖啡传到欧美，亚洲的茶叶等也传到了欧美。

材料二：20世纪八九十年代，在发展经济的过程中，各个地区的国家为了增强实力，提高自己在国际竞争中的地位，积极推动区域经济合作。随着跨国公司的发展和信息时代的到来，世界各国的经济联系日益密切，经济全球化趋势加强。

材料三：科学技术特别是交通运输和信息技术的迅速发展，大大缩短了世界各地的时间和空间距离，为全球范围的经济活动提供了便利条件。当代的科技进步已经成为整个经济增长的源泉。

请回答：

（1）依据材料一，结合所学知识，指出是什么历史事件把“互相隔绝的地区沟通起来”，从而促进了各大洲的经济交流？（2分）

（2）依据材料二，结合所学知识，请举出“区域经济合作”在欧洲的具体表现？（2分）

（3）依据材料三，结合所学知识，指出推动世界经济全球化的根本动力是什么？经济全球化给人类社会带来了怎样积极的影响？（6分）

（4）在经济全球化趋势下，中国积极融入世界，请举出一个典型事例。（2分）

36、（1）新航路的开辟

- (2) 欧盟的建立
- (3) 社会生产力的发展
促进发展模式创新；促进国际利益融合；推进国际体系转型；推进人类文明进步。
(开放性题目，只要符合题意既可)
- (4) 加入世界贸易组织、加入亚太经合组织、上海承办亚太经合组织会议

28 (2010年南京市) .1995年，被誉为“经济领域的联合国”的国际组织成立，促进了世界经济全球化的过程，该组织是 (B)

- A.欧洲联盟
B.世界贸易组织
C.北大西洋公约组织
D.上海合作组织

39 (2010年宿迁市) (本题6分) 上个世纪90年代以来，经济全球化趋势迅速发展，在加速世界经济发展和繁荣的同时，也加剧了全球竞争中的利益失衡。阅读下列材料：

材料一：我市某城区的一组图片



第一幅



第二幅



第三幅

材料二：古巴前领导人菲德尔·卡斯特罗说：“由于不公正的国际经济秩序，经济全球化并没有使广大的发展中国家从中受益，反而造成富国愈富、穷国愈穷”。

材料三：“坚持对外开放的基本国策，把‘引进来’和‘走出去’更好结合起来，扩大开放领域，……形成经济全球化条件下参与国际经济合作和竞争新优势。”

——胡锦涛“十七大”报告

请回答：

- (1) 材料一中的哪幅图片能反映出“经济全球化就在我们身边”？(1分)
- (2) 根据材料二，指出经济全球化对世界经济产生了怎样的影响？(2分)
- (3) 材料三反映了中国对经济全球化趋势持何态度？(1分) 本世纪初，最能体现中国这一态度的重大举措(事件)是什么？(2分)

39 . (1) 第三幅。(1分)

(2) 经济全球化扩大了发达国家与发展中国家的贫富差距或没有使广大发展中国家从中受益或造成富国愈富、穷国愈穷。(2分)

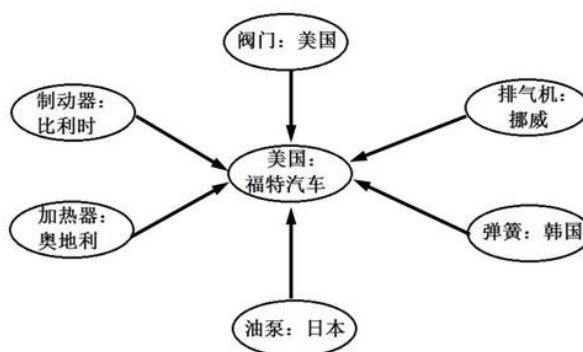
(3) 积极参与。(1分) 加入世界贸易组织(WTO)。(2分)

20 (2010年苏州市) 当美国人用10000美元从通用汽车公司买回一辆汽车，其中3000美元是支付给韩国装配工人的，1750美元付给日本零件制造商，700美元是德国设计师的报酬，400美元是用来购买台湾、新加坡的零件，250美元付给英国的广告商，余下的不到4000美元才能供通用汽车公司以及纽约的银行、保险公司分享。上述现象最能反映当今世界哪一发展趋势？(C)

- A . 政治多极化 B . 文明多元化 C . 经济全球化， D . 区域集团化

29. (2010年泰安市) 右面是美国福特汽车部分零部件产地分布图, 从中可以看出 (A)

- A. 世界经济呈现全球化趋势
 B. 福特公司在国际竞争中已处十不利地位
 C. 福特公司在全球采购会大大增加生产成本
 D. 美国已跟不上科技发展的潮流



21. (2010年无锡市) 2009年12月31日, 国务院提出到2000年, 初步所海南建成开放、绿色、文明、和谐的国际旅游岛。海南建设国际旅游岛体现了当今世界经济的发展趋势是 (B)

- A. 多极化 B. 全球化 C. 经济化 D. 区域化

12 (2010年江西省) 有个美国人向通用汽车公司的庞蒂亚克购买了1辆勒曼兹车, 他在无意间促成了一系列国际交易: 在他付给通用汽车公司的1万美中, 有近3000美元付给了韩国, 作为例行劳动和装配工作的报酬; 1850美元付给日本, 用于购买先进的部件(发动机、驱动桥和电子设备); 250美元付给英国, 作为广告及营销服务的费用……这一现象反映了经济全球化背景下 ①生产国际化 ②贫富差距扩大③贸易全球化 ④各国经济联系密切 (B)

- A. ①②③ B. ①③④ C. ①②④ D. ②③④

25 (2010年盐城市) 近期的希腊债务危机引发了欧元区的金融动荡, 它与1997年亚洲金融危机十分相似。这两者都充分表明了 (C)

- A. 东方从属于西方 B. 地区冲突影响世界安定
 C. 经济全球化趋势加强 D. 殖民扩张带来深重灾难

34 (2010年山东聊城市) 在日常生活中, 我们经常见到诺基亚、三星、皮尔·卡丹等国际名牌商品, 轻松享用肯德基、麦当劳快餐。这都得益于

- A. 贸易自由化 B. 区域集团化 C. 政治多极化 D. 经济全球化

40 (2010年青岛市) “我和你, 心连心, 同住地球村……”北京奥运会会歌的传唱让“地球村”家喻户晓。请问, “地球村”反映了世界经济发展中的哪一特点 (B)

- A. 政治多极化 B. 经济全球化 C. 文化多元化 D. 区域集团化

30 (2010年淮安市) (9分) 人类社会在发展过程中会面对许多共同问题。而这些共同问题单靠一个或几个国家已经不能完全解决, 这就需要国际社会加强合作, 共同解决。反法西斯战争的胜利是国际社会合作解决人类危机的一个成功范例。二战后随着人类社会的进一步发展, 尤其是随着科学技术和经济全球化的发展, 人类会遇到许多共同的问题。因此, 加强地区性和国际性合作, 实现人类社会安全、可持续发展成为国际社会的共同主题之一。

据此并结合所学知识, 回答下列问题:

- (1) 面对法西斯的威胁, 反法西斯国家结成联盟, 该联盟成立的标志是什么?
- (2) 请写出反法西斯国家扭转第二次世界大战形势的两次重要战役的名称。
- (3) 二战后随着经济的发展, 区域性合作不断加强。1993年成立的世界上最大的经济体是什么?
- (4) 1995年成立的世界贸易组织是经济全球化发展的一个重要表现。该组织希望通过开放市场和公平贸易的原则, 实现什么目标?
- (5) 通过对以上问题的回顾与思考, 你得到什么启示?

29 (2010年威海市) 下列不属于经济全球化趋势具体表现的是 (A)

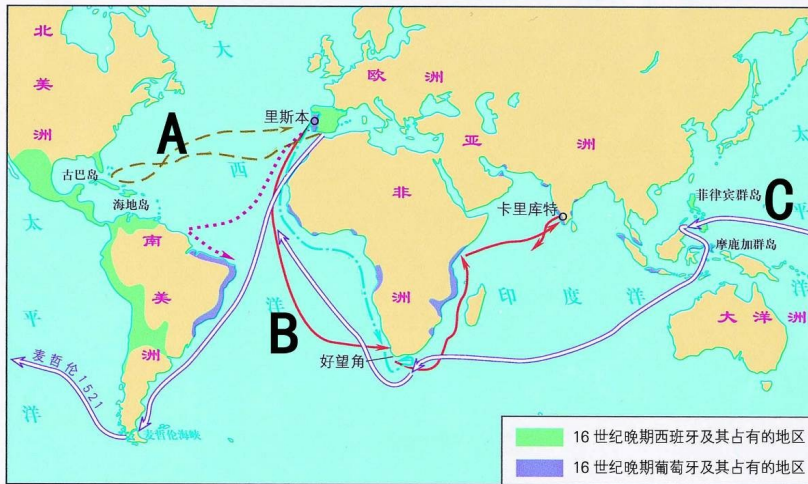
- A. 贸易保护主义盛行 B. 国际投资和国际贸易迅速增长
C. 跨国公司的影响增大 D. 世界贸易组织的成立

10 (2010年淄博市) 下列选项中，不能反映世界经济全球化趋势的是 (D)

- A. 1995年世界贸易组织成立 B. 跨国公司的迅猛发展
C. 2008年蔓延全球的金融危机 D. 世界暂时形成“一超多强”的局面

34. (2010年四川省成都市) 12分) 新航路的开辟，打破了各个文明区域间孤立、分散、隔绝的状态，改变了人类历史发展的进程。阅读材料，回答问题。

材料一 新航路开辟示意图



(1) 写出材料一“新航路开辟示意图”中 A、B、C 三条航线的开辟者。简述新航路的开辟对世界历史的发展产生了怎样的影响？(7分)

A 哥伦布 B 达伽马 C 麦哲伦

新航路的开辟，沟通了欧、亚、非、美四大洲，开始把世界联结成一个整体，扩大各各国间的经济文化交流，促进了欧洲资本主义的发展。同时，也引发了西欧人殖民掠夺的狂潮。

材料二 “好在世界已经变得越来越小。已无新大陆可以发现。连南极冰层下的土地也已测量清楚，连大西洋中时隐时显的珊瑚岛也已记录在案。已有‘地球村’的说法。东方人、西方人，不过是‘地球村’中‘鸡犬相闻’的村民而已。”

——冯骥才《献给命运的紫罗兰》

(2) 材料二中“地球村”的说法反映了当今世界发展的什么趋势？(2分)

全球化趋势

(3) 据所学知识分析，近代以来，哪些因素使“世界变得越来越小”？(3分)

新航路的开辟；工业革命中新交通工具的出现；第二次工业革命中新交通工具和通讯工具的出现；第三次科技革命中网络技术的出现等等。

26. (2010年潮州市) (10分) 2010年5月至10月，第41届世博会在中国上海举行。世博会就是一个微缩的世界，是“地球村”的生动写照。置身宏大的世博园，人们最能切身感受到的是“盖今之天下，乃地球合一之天下”的道理。上海世博会既是向世界展示中国的舞台也是世界加强与中国沟通的桥梁。这是中国的机遇，也是世界的机遇。

根据材料，回答问题：

(1) 写出上海世博会的主题。(2分)


(2) 材料体现了当今世界哪一发展趋势?这一发展趋势对世界经济的发展产生怎样的积极影响?(4分)

(3) 根据这一发展趋势,我国应坚持哪一基本国策?怎样坚持这一基本国策?(4分)

26. (1) 城市,让生活更美好。(2分)

(2) 经济全球化。(2分) 经济全球化有利于世界范围内资源的合理配置;有利于各国各地区加强经济技术合作;有利于世界经济和人类的发展。(2分)

(3) 对外开放。(1分) 我国对外开放是对世界上所有国家开放,经济、政治、文化等各方面都要开放。(1分) 必须始终把独立自主、自力更生作为自己发展的根本基点。同时,又必须打开大门搞建设,把对内搞活和对外开放结合起来。(1分) 既要积极敞开国门又要维护自身安全,既要借鉴、吸收一切先进的东西又要抵制一切腐朽的东西。



(1分) 45. (2010年四川省自贡市) 当今世界经济全球化是世界发展的在大趋势,以下对漫画解读不正确的是(B)

A. 相互依存,相互竞争

B. 地区冲突不断

C. 是世界生产力发展的必然趋势

D. 强国主导,受益不均

44. (2010年四川省自贡市) 它以明确的规则、相互的承诺为各国的经济交往搭建了一个共同的平台,被誉为“经济领域的联合国”。该组织是(C)

A. 欧洲联盟 B. 北美自由贸易区 C. 世界贸易组织 D. 亚太经合组织

19. (2010年娄底市) 某政治家认为,在经济全球化过程中,蛋糕做大了,但是大蛋糕分给了富人,其他的人只得到面包屑。这一观点表明,经济全球化带来了什么问题?(B)

A. 恐怖主义泛滥 B. 贫富差距悬殊 C. 环境污染严重 D. 毒品走私猖獗

四、解答问题、探究历史,你必定行(本大题共24分)

32 (2010年湘潭市) 阅读下列材料,回答问题

世界博览会被誉为“经济、科技、文化界的奥林匹克盛会”,从开始至今已走过了150多年的历史。让我们一起走进世博,感受人类文明的辉煌成果。

材料一:1851年,第一届世博会在英国伦敦举行,……许多参观者在这里看到了他们平时绝无可能看到的商品,看到了这些神奇的机器承担以往只能靠人工而无法借助机械的帮助来完成的工作……

——凤凰网《走进世博会》

(1) 第一届世博会中“这些神奇的机器”使用的动力机器是什么?(2分) 举出一例“承担以往只能靠人工而无法借助机械的帮助来完成的工作”的交通工具。(1分)

材料二:1876年美国费城世博会上,巴西皇帝佩德罗拨通了刚刚问世的电话。双重电报机、冰库车等大量的美国科技成果展现在世人面前……中国首次派代表参加世博会,展品有丝绸、茶叶、瓷器等。

——凤凰网《走进世博会》

(2) 电话是哪一位发明家的成果?(2分) 1876年世博会上中美两国展品的差异说明了什么?(1分)

材料三:右图是2010年上海世博会会徽,这是综合性世博会首次在中国举行,上海世博会的主题是“城市,让生活更美好”。



(3) 综合性世博会从发达国家转移到发展中国家举行，反映了世界经济发展的什么趋势增强？(2分) 世博会落户中国说明了什么？(2分)

32、(1) 蒸汽机。(2分) 火车(汽船)(1分)

(2) 贝尔。(2分) (中国参展的都是农产品和手工业品，美国都是现代工业品) 说明当时中国落后于世界历史发展潮流。(1分，或者工业落后，工业化水平低等答案言之有理即可得分)

(3) 经济全球化。(2分) 中国综合国力增强，国际地位提高。(2分，其它答案如经济发展迅速等言之有理亦可酌情给分)

20. (2010年浙江省义乌市) 2010年，希腊因债务危机引发了国内大规模罢工。对希腊

债务危机最有可能进行实质性干预的区域性国际组织是 (A)

A. 欧洲联盟 B. 联合国 C. 世界贸易组织 D. 亚太经合组织

20. (2010年温州市) 海尔集团在全球建立了29个制造机器，12个海外贸易公司，全球员工总数超过6万人，已发展成为大规模的跨国企业集团。这一现象体现的世界经济发展趋势是 (D)

A. 区域集团化 B. 政治多极化 C. 产品单一化 D. 经济全球化

D. 开辟了人类历史的新纪元

56. (2010年攀枝花市) 阅读下列材料：

材料一：危机造成的股市恐慌和损失是约80年前那次大萧条以来最严重的……“城门失火，殃及池鱼”，发端于世界金融体系中心美国的金融危机很快向其他国家蔓延，变成了全球金融危机……

----引自新华网

材料二：在危机日益严重的形势下，各国开始认识到，应当寻求有效的全球战略来应对这场危机，通过各种平台加强磋商与沟通……2009年4月2日在伦敦举行的二十国集团领导人第二次金融峰会上，国家主席胡锦涛发表了题为《携手合作，同舟共济》的重要讲话。

----引自人民网

请回答：

(1) “约80年前那次大萧条”是指哪次经济危机？(1分) 在这场危机中深受其害的是什么人？(1分)

(2) 依据材料一并结合当前世界经济发展趋势分析，为什么当前这次金融危机会出现“城门失火，殃及池鱼”的现象？(2分)

(3) 依据材料二分析，面对当前金融危机，各国政府在加强国家干预经济的同时，更应强调采取什么措施应对危机？(1分)

(4) 借鉴美国应对“约80年前那次大萧条”的措施，你认为我国政府在国家干预经济方面可以采取哪些具体措施？(2分)

56、 (1) 1929—1933的资本主义世界经济危机；(1分) 深受其害：人民群众(1分)

(2) ①美国处于世界金融体系中心地位；(1分) ②经济全球化使世界经济联系日益加强。(1分)

(3) 加强国际合作。(1分)

(4) 具体措施：加强对金融的监管、扩大内需、健全社会保障制度、加大基础设施的投入等；(2分) (表述意思相近，或符合题意，言之成理，酌情给分)

7 (2010年沈阳市) 新航路开辟后，随着全球贸易的迅速增长，一些猎人猎取兽皮卖到中国、欧洲和北美。17世纪，估计每年有20万到30万张紫貂皮从西伯利亚流入世纪市场。

无节制地捕杀产毛皮的动物很快使许多物种灭绝或者濒临灭绝，并且永远地改变了这些物种从前生存的环境。上述材料反映的是 (A)

- A. 全球贸易对环境的影响 B. 物种交流带来了各种疾病的传播
C. 动植物品种的交流使世界人口激增 D. 粮食作物在全球范围内的广泛传播

国际金融危机。这场危机给世界许多国家造成了巨大损失，我国经济也受到严重冲击，出口大福下降，不少企业经营困难，有的甚至破产倒闭。

请结合上述材料，回答相关问题：

- (1) 历史上还有哪次经济危机首先发生在美国？当时美国是如何应对危机的？
写出一个与美国摆脱危机方法不同的国家。
(2) 始于美国的次贷危机迅速演变成国际金融危机，主要原因是什么？(2分)
(3) 请写出一个能表现当今世界经济发展趋势的组织。(1分)
(4) 在当今世界经济发展趋势下，你对我国经济建设有何建议？(2分)

(3) 以科索沃战争等历史事件为例，了解世界政治格局的多极化趋势。4

18 (2010年徐州市) (8分) 团结合作，实现共赢是人类共同追求的目标。结合所学知识，完成下列有关“合作共赢”主题的探究任务。

【团结合作，实现共赢】

(1) 在民族危亡的紧要关头，国共两党摒弃前嫌，一致对外，最终取得了抗日战争的胜利。请写出中国抗击日军取得重大胜利的两次战役。(2分)

(2) 在第二次世界大战期间，面对德意日法西斯的猖狂进攻，1942年1月，中、苏、美、英等26国在华盛顿签署了一个重要文件，标志着世界反法西斯同盟正式形成，加速了反法西斯战争的胜利。这个文件的名称是什么？(1分)

【化友为敌，美苏对峙】

(3) 二战结束后，美苏由合作转为敌对，美国针对苏联等社会主义国家采取了“冷战”政策。“冷战”开始的标志性事件是什么？(1分)“冷战”政策的推行对战后世界局势产生了巨大影响，使世界形成了怎样的格局？(1分)

【感悟历史，获取真谛】

(4) 当今世界，国家之间应该在哪些问题上加强合作？(2分) 请你谈谈对“合作共赢”的认识。(1分)

(1) 台儿庄战役，(1分) 百团大战。(1分)

(2) 《联合国宣言》。(1分)

(3) 杜鲁门主义。(1分) 两极格局。(1分)

(4) 环境保护(环保)；资源利用(能源)；打击恐怖活动(反恐)；防止核扩散；打击毒品走私；解决贫富悬殊；解决地区冲突和民族冲突等。(1点1分，答出其中任意2点即给2分。不拘泥于此参考答案，只要符合题意、言之成理即可给分)

认识：只有团结合作，才能实现共赢；合则两利，斗则俱伤；相互尊重；团结协作；平等协商；互利互惠；共同维护和平与安全等。(答出其中任意1点即给1分。不拘泥于此参考答案，只要符合题意、言之成理即可给1分)

29. (2010年日照市) (11分) 二战后国际关系呈现出新的特点。阅读材料，回答问题。

材料一 美国今天是一个强大的国家，没有任何一个国家比他更强大。……这意味着，我们拥有这样的力量，就得挑起领导的担子并承担责任。

——哈里·杜鲁门(1946年)

(1) 材料一反映了美国的什么愿望？由此，美国对苏联等社会主义国家实行了什么政策？

这一政策开始实施的标志性事件是什么？(5分)

材料二



图一古巴导弹危机



图二苏军占领阿富汗

(2) 指出图一、图二所示历史事件的实质，并简要分析这些历史事件对国际社会的影响。

材料三 2010年2月9日，在当日例行记者会上，有记者提问：随着国力的增强，中国在国际舞台上将越来越强势，在国际事务中将寻求领导地位，也印证了“国强必霸”这一权力政治逻辑。请问发言人对此有何评论？我国外交部发言人马朝旭表示：所谓“国强必霸”的逻辑既有悖于中国的历史，也有违中国人民的意志，中国现在不称霸，将来发展了也永远不称霸。

——据新浪网新闻中心

(3) 材料三中，马朝旭的回答体现了新中国建立以来一贯奉行的什么外交原则？

58. (2010年攀枝花市) 世界格局是指相对稳定的国际关系结构。20世纪，世界格局经历了多次大变动，对人类社会的发展产生了重要影响。

根据所学知识回答问题：

(1) 第一次世界大战后，帝国主义列强通过两次会议建立了什么体系？这个体系的实质是什么？(2分)

(2) 第二次世界大战中召开的什么会议奠定了二战后什么样的世界格局的基础？(2分)

(3) 冷战政策在政治、经济、军事上的表现分别是什么？(3分)

(4) 当前世界政治格局出现了多极化的趋势，你认为影响国际关系格局演变的决定性因素是什么？理想的世界格局是怎样的？(3分)

58、(1) 凡尔赛—华盛顿体系。(1分)实质：一战后帝国主义重新瓜分世界，奴役殖民地和半殖民地的体系。(1分)

(2) 雅尔塔会议，(1分)奠定了二战后两极格局(雅尔塔体系)的基础。(1分)

(3) 政治：杜鲁门主义；(1分)经济：马歇尔计划；(1分)军事：成立北大西洋公约组织。(1分)

(4) 决定性因素：国家的经济实力；(1分)应对：①抓住机遇，加强与各国合作，学习和借鉴引进国际先进科技和管理经验，提高我国经济技术发展水平。②实施科教兴国战略，建立创新型国家。努力贯彻“科学技术是第一生产力”的思想，加快发展，增强我国的综合国力。(2分)(开放式题目，符合题意，言之成理，酌情给分)

19. (2010年东营) 当今世界牵制美国称霸，促进世界格局多极化的重要力量有(D)

- A. 欧盟、印度
- B. 欧盟、日本、巴西
- C. 日本、中国、俄罗斯
- D. 欧盟、日本、中国、俄罗斯

19. (2010年潮州市) 下列事件反映发展主题的是(A)

- ① 美国政府向阿富汗增兵
 - ② G20峰会商讨应对金融危机
 - ③ 中国—东盟自由贸易区全面启动
 - ④ 胡锦涛与奥巴马共同出席核安全峰会
- A. ②③
 - B. ②④
 - C. ①③
 - D. ①④

31. (2010年四川省乐山市) 当今世界格局“一超多强”中的“多强”不包括(A)

A. 印度 B. 中国 C. 日本 D. 俄罗斯

38. (2010年达州市) 下列有关当今世界格局的论述, 不正确的是 (B)

- A. 和平与发展成为时代的主题 B. 多极化的世界格局完全形成
C. 经济全球化趋势不可阻挡 D. 美国仍然在不断插手别国事务和地区争端

六、问答题 (共 13 分)

29. (2010年四川省乐山市) 国家利益影响着国际关系的走向, 国际关系主导着世界格局的变化。下列各项, 按发生时间的先后顺序排列, 正确的是 ①“冷战”开始②凡尔赛——华盛顿体系形成 ③苏联解体 ④两极格局形成 (B)

- A. ①②③④ B. ②①④③ C. ②①③④ D. ①④②③

15 (2010年山西省) 中国人喝着美国的可口可乐, 美国人用着韩国的三星手机, 非洲人开着中国的奇瑞汽车……这种现象说明 (C)

- A. 人们生活方式现代化 B. 社会物质产品多样化
C. 世界经济全球化 D. 世界格局多极化

20 (2010年潍坊市) 在世界政治多极化发展趋势中, 中、美、俄、日以及欧盟五大力量之间的相互关系是 (C)


- A. 平等互利、力量均衡 B. 取长补短、共同繁荣
C. 相互竞争、相互制约 D. 利益一致、追求双赢

得分	评卷人

4 (2010年淄博市) (10分) 阅读下列材料, 回答问题。

材料一

领土	由法国收回阿尔萨斯和洛林 ^①
军事	禁止德国实行义务兵役制; 不许拥有空军, 陆军人数不得超过 10 万; 莱茵河东岸 50 千米内, 德国不得设防
政治	德国承认并尊重奥地利的独立
赔款	由协约国设立“赔款委员会”, 决定德国战争赔款的总数
殖民地	德国的全部海外殖民地由英、法、日等国瓜分



《凡尔赛和

约》

《九国公约》签订

材料二: 1947年3月12日, 杜鲁门在国会宣读一篇咨文, 宣称: 世界已分为“自由制度”和“极权政制”两个阵营。美国负有领导“自由世界”的使命, 以防止共产主义的渗入……”

材料三: 冷战消失了……为具有更加多元化特点的社会开启了大门。

(1) 材料一中两个条约分别是在哪次会议上签署的? 两次会议形成了怎样的世界体系? (3分)

(2) 材料二反映了美国实行的什么政策? 此政策的表现和影响分别是什么? (3分)

(3) 材料三中, “冷战消失”的标志是什么? “多元化特点的社会”反映了当今世界政治格局呈现怎样的发展趋势? (2分)

(4) 面对当今世界政治格局发展的趋势, 你认为中国应该如何争取有利的国际地位? (2分)

4. (10分) (1) 巴黎和会 (1分); 华盛顿会议 (1分); 凡尔赛—华盛顿体系 (1分) (2) 政策: 冷战政策 (1分) 表现: 杜鲁门主义、马歇尔计划、建立北大西洋

公约组织（其中任意一点可得分，1分）影响：两极格局形成（1分）（3）苏联解体（1分）；多极化趋势（1分）（4）致力于实现长期、稳定和持续的经济的发展，力争在新的世界格局中占据有利地位；提高综合国力；积极参与国际事务；加强国际交往，提高国际地位。（开放性试题，其它符合题意的也可酌情得分，2分）

26（2010年威海市）某班同学开展主题探究活动，请三位历史教师分别作了《冷战政策与美苏争霸》、《“一超多强”的形成》、《世界经济的“全球化”》的专题报告。你认为该班探究活动的主题应是（D）

- A．“二战”后西方主要国家的发展变化 B．社会主义国家的改革与演变
C．亚非拉国家的独立与振兴 D．“二战”后世界格局的演变

39（2010年青岛市）1999年科索沃战争爆发后，有报纸评论说：“这是北约成立以来首次在未经联合国授权的情况下，对一个主权国家采取的大规模军事行动。”这里的“主权国家”是指（B）

- A．伊拉克 B．南联盟 C．阿富汗 D．阿尔巴尼亚

20．（2010年长沙市）和平与发展已成为当今世界的两大主题。结合所学知识，探究下列问题：

（1）为求发展，日本政府实行“明治维新”，采取一系列向西方学习的措施，请举出其中两项。（2）“二战”是人类历史上一场空前浩劫，英法等西方大国的绥靖政策助长了法西斯的侵略气焰，加速了“二战”的爆发。请问绥靖政策的实质是什么？哪一历史事件使其达到顶峰？在反法西斯国家的联合斗争下，“二战”最终以世界反法西斯联盟的胜利而告终。请问，世界反法西斯联盟形成的标志是什么？（4分）

（3）“二战”后，世界经济迅速发展，20世纪90年代美国进入新经济时代。请问新经济的主要特征有哪些？（2分）

（4）为维护世界和平与安全，哪次国际会议决定成立联合国？当前威胁世界和平与安全的主要因素是什么？结合反法西斯斗争胜利的原因和当今形势，在促进世界和平与发展问题上，你能得到什么启示？（5分）

（1）经济上引进西方技术，鼓励发展近代工业；社会生活方面提倡“文明开化”，努力发展教育。

（2）纵容侵略；慕尼黑阴谋；1942年1月1日，《联合国家宣言》发表

（3）信息化和全球化

（4）雅尔塔会议：霸权主义、地区冲突、宗教纷争、民族矛盾和恐怖主义世界各国应加强国际合作

44（2010年山东聊城市）20世纪经历了两次世界大战和长达近半个世纪的冷战，世界格局出现三次大变动。

请回答：

（1）两次世界大战后确立的世界格局分别称作什么？（2分）起支配作用的国家分别是哪些？（2分）将答案填入下面的表格中。

	格局	国家
第一次世界大战后		
第二次世界大战后		

（2）某学者拟撰写题为《冷战的起与止》的著作，回顾冷战历程。作者应该对体现冷战对峙的哪些重大事件进行评述？（4分）应该用哪一事件作为冷战结束的标志？（1分）

(3)概括当今世界格局的基本特征。(2分)

44.(1)

	格局	国家
第一次世界大战后	凡尔赛—华盛顿体系(1分)	英国、法国、美国(1分,要求至少写出其中两个)
第二次世界大战后	两极格局(雅尔塔体系)(1分)	美国、苏联(1分,要求写全)

(2)重大事件：“铁幕”演说；杜鲁门主义出台；马歇尔计划实施；建立北约；成立华约；北约
和华约对峙；德国分裂；修筑“柏林墙”；美苏争霸；古巴导弹危机。(4分。每点1分，答出其中

4点即得满分。)

结束标志：苏联解体(或东欧剧变、或苏东剧变)。(1分)

(3)特征：“一超多强”；世界向多极化方向发展；多极化趋势加强；和平与发展是时代主题；缓和与紧张、和平与动荡并存。(2分。每点1分，答出其中两点即得满分。)

29 (2010年东营市) (12分)世界近现代史，国际关系不断变化、调整，影响着世界格局的发展、演变。阅读材料，结合所学知识回答问题。

材料一 第一次世界大战后，战胜的协约国集团通过两次国际会议及其所签订的一系列条约，暂时确立了帝国主义统治世界的“新秩序”。

(1)材料一中的“新秩序”指的是什么？(2分)你如何认识这一“新秩序”？(2分)

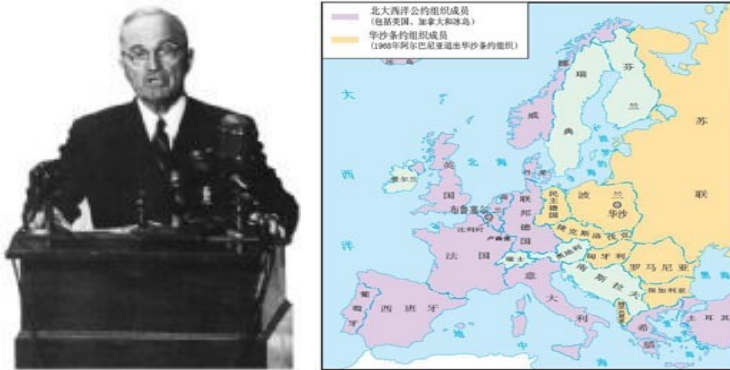


图1：1947年杜鲁门在国会发表咨文 图2：“北约”和“华约”对峙图

材料二

(2)在历史研究课上，某同学搜集到以上图片，请你判断他研究的主题应该是什么？(2分)请任选其中一幅图片，对所反映的历史事实作一简要说明。(2分)

材料三 当今世界，除美国之外，欧盟、日本、俄罗斯、中国等多种政治力量不断发展壮大，他们在国际事务中发挥越来越大的作用。

(3)材料三反映了世界格局呈现出怎样的发展趋势？(2分)这种趋势，对世界历史发展有何积极影响？(2分)

(1)凡尔赛——华盛顿体系。(2分)凡尔赛——华盛顿体系不可能消除帝国主义国家之间的矛盾，因此不可能长期维持下去。(2分)

(2)主题：“冷战”(美苏冷战、对峙)或“两极格局”。

说明：图1：杜鲁门主义出台，标志冷战的开始。(2分)

图2 华沙条约组织成立。两极格局形成。(2分)

(3)多极化趋势。(2分)有利于抑制和削弱霸权主义和强权政治，有利于世界的和平与

发展。(2分)(不拘泥答案,言之有理即可得分。)

20 (2010年莱芜市)邓小平说:“现在旧的(国际)格局在改变中,但实际并没有结束,新的国际格局还没有形成。”那么20世纪90年代以来的世界政治格局是 D

- A. 凡尔赛—华盛顿体系 B. 美苏两极格局
C. 东欧剧变与苏联解体 D. “一超多强”与多极化趋势

32 (2010年盐城市)阅读下列反映国际格局演变的相关材料,然后回答问题

材料一



巴黎和会“三巨头”



华盛顿会议

材料二:“美国在世界上处于领导地位。……凯撒、成吉思汗、路易十四、拿破仑或其他任何一个伟大的领袖所担负的责任,都不能同美国总统今天所担负的责任相比拟。”

——1945年4月16日杜鲁门总统的谈话

材料三:“世界新秩序……有很多权力中心,每一个都独立活动。……美国仅仅是一个大国,还有可与美国匹敌的其他国家,如日本、欧洲在一定程度上也是这样,再过几年还有中国,以及前苏联中的某些国家。”

——1993年亨利·基辛格的谈话

请回答:

(1)通过材料一中两次会议的召开,形成了怎样的国际关系格局?(1分)

凡尔赛——华盛顿体系(1分)

(2)材料二中拿破仑被称为“伟大的领袖”,请结合所学知识举一例说明。(2分)杜鲁门的这段谈话表明了美国有何企图?(1分)

建立了法兰西第一帝国;颁布了《法典》(任一点2分);称霸世界(1分)

(3)根据材料三说明当今世界格局呈现出怎样的发展趋势?(1分)请简述中国在当前世界格局中所处的地位。(2分)

多极化趋势(1分);“一超多强中”的“一强”(2分)

18 (2010年徐州市)(8分)团结合作,实现共赢是人类共同追求的目标。结合所学知识,完成下列有关“合作共赢”主题的探究任务。

【团结合作,实现共赢】

(1)在民族危亡的紧要关头,国共两党摒弃前嫌,一致对外,最终取得了抗日战争的胜利。请写出中国抗击日军取得重大胜利的两次战役。(2分)

(2)在第二次世界大战期间,面对德意日法西斯的猖狂进攻,1942年1月,中、苏、美、英等26国在华盛顿签署了一个重要文件,标志着世界反法西斯同盟正式形成,加速了反法西斯战争的胜利。这个文件的名称是什么?(1分)

【化友为敌,美苏对峙】

(3)二战结束后,美苏由合作转为敌对,美国针对苏联等社会主义国家采取了“冷战”政策。

“冷战”开始的标志性事件是什么?(1分)“冷战”政策的推行对战后世界局势产生了巨大影响，使世界形成了怎样的格局?(1分)

【感悟历史，获取真谛】

(4)当今世界，国家之间应该在哪些问题上加强合作?(2分)请你谈谈对“合作共赢”的认识。(1分)

(1)台儿庄战役，(1分)百团大战。(1分)

(2)《联合国宣言》。(1分)

(3)杜鲁门主义。(1分)两极格局。(1分)

(4)环境保护(环保)；资源利用(能源)；打击恐怖活动(反恐)；防止核扩散；打击毒品走私；解决贫富悬殊；解决地区冲突和民族冲突等。(1点1分，答出其中任意2点即给2分。不拘泥于此参考答案，只要符合题意、言之成理即可给分)

认识：只有团结合作，才能实现共赢；合则两利，斗则俱伤；相互尊重；团结协作；平等协商；互利互惠；共同维护和平与安全等。(答出其中任意1点即给1分。不拘泥于此参考答案，只要符合题意、言之成理即可给1分)

33 (2010年宿迁市) 20世纪80年代末90年代初以来世界政治格局表现为 (D)

- A. 同盟国和协约国的对峙 B. 凡尔赛—华盛顿体系
C. 雅尔塔体制 D. 多极化趋势发展

36. (2010年泰安市) 20世纪经历了两次世界大战和一个长达近半个世纪的“冷战”，导致了世界格局的三次大变化。阅读材料，结合所学知识，完成下列问题。

材料一



图片一签署《凡尔赛合约》 图片二华盛顿会议

材料二 《北大西洋公约》第5条规定：“对欧洲或北美一个或数个缔约国的武装进攻，应视为对缔约国的全体之攻击”。

材料三 伴随苏联解体，两极格局不复存在，当今世界实际形成了美国、日本、欧盟、中国、俄罗斯五个力量中心。五个力量中心的存在，在很大程度上影响着世界各个地区和许多国家。五个力量中心之间存在的相互竞争、相互制约的关系，使军事霸权主义受到更多的制约和限制，有利于世界的安全与稳定。

(1) 材料一中图片一、二反映的两次会议使帝国主义列强在一战后形成了哪一体系?(1分)简要评价这一体系?(2分)

(2) 依据材料二中《北大西洋公约》成立的北约组织，是二战后美国针对苏联等社会主义国家采取哪一政策在军事上的表现?(1分)该政策开始执行的标志性事件是什么?(1分)

(3) 针对北约组织的建立，苏联成立哪一组织与之对抗，两极格局局面形成?(1分)

(4) 从材料三看出当今世界政治格局的发展趋势是什么?(1分)面对世界发展的新形

势，我国奉行的基本外交政策是什么？(1分)

36.(1) 凡尔赛—华盛顿体系 (1分) 这一体系建立了战后暂时的帝国主义世界和平秩序，但由于它不可能消除帝国主义国家间的矛盾，因此，不能长久维持下去 (2分) (2) 冷战政策；(1分) 杜鲁门主义出台 (1分)

(3) 华沙条约组织 (或华约组织) (1分)

(4) 多极化；(1分) 独立自主的和平外交政策 (1分)

26 (2010年岳阳市) 关于朝鲜核问题，中国、俄罗斯、朝鲜、韩国、美国、日本曾多次举行六方会谈。由参加谈判的成员国可以反映出：(B)

- A、美国的霸权主义政策 B、世界政治格局的多极化趋势
C、两极对峙的政治格局 D、世界经济的全球化趋势

四、问答题(本大题共2小题，每小题10分，共20分)

10. (2010年长沙市) 当前世界政治格局是 (D)

- A. 处在两极格局下 B. 已形成多极化格局
C. 日本已成为唯一的超级大国
D. 暂时形成了“一超多强”局面。正朝多极化方向发展

37. (2010年十堰市) (8分) 简要回答下列问题

(1) 当前，世界政治和经济格局正在发生着深刻变化，其发展的趋势是什么？(2分)

(2) 第二次世界大战后，世界政治格局处于“两极”格局时期，美苏经历长达40多年的“冷战”。“冷战”开始和终结的标志分别是什么？(2分)

(3) 随着世界经济格局的变化，世界贸易组织应运而生，世贸组织的宗旨是什么？(2分)

(4) 当前，面临世界政治、经济格局的深刻变化，中国应该怎么办？请你从政治、经济两方面分别提出一条合理化建议。(2分)

(1) 当前，世界格局和经济格局的发展趋势分别是多极化和全球化 (2分)

(2) “冷战”开始的标志是“杜鲁门主义”的出台；终结的标志是：东欧剧变，苏联解体。(2分)

(3) 世贸组织的宗旨是：通过实施市场开放、非歧视和公平贸易等原则，推动世界贸易自由化的实现 (2分)

(4) 政治上反对霸权主义，推动世界向多极化发展；经济上进一步改革开放，学习国外管理经验与技术，制定防范风险的措施，融入全球化潮流 (政治经济各1分，此题为开放性问题，学生只要言之有理，即可酌情给分)

23. (2010年武汉市) 二战结束后，美苏两国从盟友变为对手。美国为了扫除称霸世界的最大障碍，对苏联等社会主义国家实行了“冷战”政策。开始推行这一政策的总统是 (A)

- A. 杜鲁门 B. 尼克松 C. 奥巴马

29 (2010年荆门市) . (7分) 阅读下列材料，回答问题。

材料一：美国在世界上处于领导地位……凯撒、成吉思汗、路易十四、拿破仑和其他任何一个伟大的领袖所担负的责任，都不能同美国所担负的责任比拟。

——美国总统杜鲁门在国会的演讲 (1945年)

材料二：和平与发展已成为当今时代的主题，世界格局正在走向多极化，争取较长时间的国际和平环境是可能的。

——江泽民在中共十五大上的报告

(1) 材料一所反映的美国真实意图是什么？(1分)

(2) 二战后至20世纪50年代初，美国为“所担负的责任”在政府、经济、军事上分别

采取了什么行动？有何影响？（4分）

（3）材料二中“世界格局正在走向多极化”的具体表现是什么？（2分）

29.（7分）（1）美国企图称霸世界。（1分）。（2）政治上，提出“杜鲁门主义”（1分）；经济上，推行“马歇尔计划”（1分）；军事上，成立北约组织（1分）。影响：控制西欧，遏制苏联，推动两极格局的形成。（1分）。（3）表现：两极格局瓦解后，欧盟、日本、中国和俄罗斯等国家和国家联盟的实力不断增强，牵制美国称霸，促进世界格局多极化。（2分）

48（2010年东莞市）二战后美国经济强大，被称为经济“巨无霸”。下列不属于美国经济发展特点的是（A）

A. 科学技术进步 B. 经济发展迅速 C. 跨国公司飞速发展 D. 资本输出增加

20（2010年鄂州市）世界政治格局多极化的根源在于（D）

A. 两极格局的终结 B. 霸权主义的影响
C. 第三世界的兴起 D. 经济力量的多极化

24.（2010年杭州市）冷战结束以后，世界局势的发展引人注目。对于当今世界局势的表述，正确的有（D）

①世界正在向多极化发展 ②和平成为时代主题之一
③公正、合理的国际新秩序已经建立 ④霸权主义、强权政治有新的表现

A. ①②③④ B. ①③ C. ②④ D. ①②④

6.（2010年桂林市）建立公正合理的国际政治经济新秩序是世界人民共同的心愿。20世纪至今世界政治格局出现了三次大的演变，按其形成的先后顺序排列正确的一组是（C）

A. 多极化趋势——凡尔赛华盛顿体系——两极格局
B. 两极格局——凡尔赛华盛顿体系——多极化趋势
C. 凡尔赛华盛顿体系——两极格局——多极化趋势
D. 两极格局——多极化趋势——凡尔赛华盛顿体系

14.（2010年长春市）两极格局结束的标志是（C）

A. 北约建立 B. 华约建立
C. 苏联解体 D. 欧盟成立

19（2010年吉林省）20世纪以来，世界政治格局不断变化，人类在推进和平与发展的进程中，不断经受严峻的挑战。结合下面的年代尺示意图，回答问题。



（1）一战后，召开了哪两次重要的国际会议？建立了怎样的国际关系体系？（3分）

（2）二战后，形成了怎样的世界政治格局？其最终形成和结束的标志事件分别是什么？（3分）

（3）当今世界政治格局呈现出怎样的发展趋势？面对这一趋势，中国应如何应对？（2分）

19.（1）巴黎和会（或凡尔赛会议）（1分）华盛顿会议（1分）凡尔赛—华盛顿体系（1分）

（2）两极格局（1分）成立华沙条约组织（1分）苏联解体（1分）

（3）多极化（1分）中国要大力发展经济，增强综合国力和国际竞争力，提高国际地位；

大力发展科学技术，实施科教兴国战略；加大改革开放力度，引进先进技术和管理经验；加强国际交流合作，坚决反对霸权主义和强权政治；以和平方式解决国际争端等。

(答出以上要点之一即可给分；其他答案观点正确，符合题意也可给分) (1分)

20. (2010年三明市) 以下是某一时期世界政治格局演变的示意图，它反映的历史阶段是 (D)



- A. 18世纪60年代到19世纪上半期
- B. 19世纪70年代到20世纪初
- C. 两次世界大战之间
- D. 二战结束后至今

16. (2010年芜湖) 国际关系史是历史学习的一个重要内容。某校历史小组同学围绕以下三个主题开展了探究活动，请你参与并帮助他们回答问题。

主题一：今年是抗美援朝战争爆发60周年。60年前，中国人民志愿军奉命出兵朝鲜，同朝鲜军民并肩作战，五战五捷，把美国侵略军赶回到“三八线”附近，取得了抗美援朝战争的胜利。

- (1) 简述中国人民志愿军出兵朝鲜的原因。(3分)
- (2) 抗美援朝战争的胜利有什么历史意义？(3分)

主题二：1999年，以美国为首的北约越过联合国安理会，对南联盟进行狂轰滥炸，造成南联盟的重大人员伤亡和物质损失中国驻南大使馆也遭北约导弹袭击，这就是科索沃战争。其间，美国首次打出了“人权高于主权”的旗号。

- (3) 应该如何评价科索沃战争？(2分)
- (4) 美国提出的“人权高于主权”的实质是什么？(2分)

主题三：中美建交后，仍不断有摩擦和冲突，如，2004年撞机事件，2009年美国向台湾出售武器等。因此，有同学认为还是不与美国建交为好；有的同学则认为，中美之间虽然有一定的摩擦和冲突，但双方有更广泛的合作空间，应该友好合作。

- (5) 请谈谈你对中美关系的认识。(2分)

16. (1) 美国侵略朝鲜，并严重威胁中国的安全，应朝鲜民主主义共和国的请求，中国政府派兵援助。(3分)

(2) 捍卫了我国的安宁，巩固了新生的人民民主专政，为我国经济建设创造了和平环境；大大提高了我国的国际地位，也为保卫世界和平作出了巨大的贡献。(3分)

(3) 是美国对世界多极化趋势的挑战，表明世界多极化趋势将是长期的、曲折的斗争过程；以美国为首的北约违背国际法基本准则，公然对一个联合国成员国动武，严重削弱了联合国的作用。(2分)

(4) 它的实质是美国为首的西方国家干涉别国内政的借口，同时也美国作为超级大国实施霸权主义、推行其全球战略目标的途径。(2分)

(5) 中美两国是世界大国，同时也是社会制度与意识形态不同的两个大国家，两国关系直接影响到世界的和平、稳定、发展具有重要意义。(4分) (本题不拘泥于文字表述；答出其他符合题意的答案可酌情给分)

(八)科学技术和文化

【内容标准】

(1) 以计算机网络技术、生物工程技术等为例，概述第三次科技革命的特点。

15. (2010年芜湖) 上海世博会的举办，牵动着亿万人的心，也引发了对科技的关注。阅读下列材料回答问题。

材料一：1851年5月，在英国伦敦一座晶莹剔透的水晶宫内，以工业革命伟大成果为展示内容的第一届世界博览会隆重开幕了。1.7万参展者带来了约100万件展品，在160天的展期内，迎来了世界各地多达630万人次的参观者。这次展览会云集了工业革命时代最先进的工业成果，水力印刷机、纺织机械等在展览会上大放光彩。

——摘自人教版《世界历史》九年级上册

(1) 1851年英国举办首届世博会的前提条件是_____。(2分，填写字母代号)

- ① 英国较早进行了资产阶级革命，确立资产阶级统治
- ② 英国最早完成了工业革命，成为欧洲头号强国
- ③ 有1.7万人参展，有大约100万件展品，是人类历史从来没有过的盛大体验
- ④ 《共产党宣言》发表，起到较大的指导作用
- ⑤ “日不落帝国”的巨大号召力

A. ①②③ B. ①②④ C. ①②⑤ D. ②④⑤

(2) 假如策划第二次工业革命成就展，以下展品中应该入选的是_____。(2分，填写字母代号)

- ① 蒸汽机 ② 发电机 ③ 耐用电灯泡 ④ 内燃机 ⑤ 火车 ⑥ 轮船 ⑦ 汽车 ⑧ 飞机

A. ①②③⑤⑥ B. ②③④⑦⑧ C. ②③④⑤⑥ D. ④⑤⑥⑦⑧

(3) 与前两次科技革命相比，第三次科技革命最大的特点是_____。(2分，填写字母代号)

- A. 推动了社会生产力的空前发展
- B. 加强了世界各地的经济联系
- C. 引起了国际经济格局的变化
- D. 加快了科学技术转化为生产力的速度

材料二：2010年上海世博会是迄今为止全球最大规模的世博会，它对促进世界的和平与和谐有着广泛的影响和独特的作用，当数千万中国人以无比欣慰的心情迈进上海世博园大门时，便真真切切地触摸到人类文明的脉搏。按照7000万的参观者计算，世博会的成功举办对于上海经济直接拉动效益客观。加上全球正处在摆脱金融危机的关键一年，这样的盛会就更加引人注目。但在世博会展示的场馆中，中国企业所表现出的创新活力不足，这是必须要正视的现实。

——摘编自中国青年报《上海世博会，中国人感知什么》等

(4) 结合材料二分析举办上海世博会的意义。(3分)从材料二中你还能得到什么感悟？

15. (1) C (2分) (2) B (2分) (3) D (2分)

(4) 意义：上海世博会是展示和传播人类文明新成果的平台；展示了我国改革开放以来的巨大成就和文明进步的形象；促进我国同世界各国地区的交流合作；推动我国经济发展；对于走出国际金融危机和阴影，促进世界经济复苏，也将发挥积极作用。(3分，答出其中3点即可) 感悟：但也要看到我国同世界先进水平的差距，应该大力发展科技和教育，增强民族创新能力。(2分)

19. (2010年三明市) 下列关于二战后西欧国家和日本经济迅速发展的共同原因。表述正确的是 (D)

- ① 美国的扶持 ② 第三次科技革命的影响 ③ 制定适当的经济发展政策 ④ 资源丰富

A. ①②③④ B. ①②④ C. ②③④ D. ①②③ 29. (2010年三明市) 为

迎接上海世博会的召开，光明中学校园网站举办了主题为“科技发明与我们的生活”的评选活动，评选结果如下：

第一名

第二名

第三名

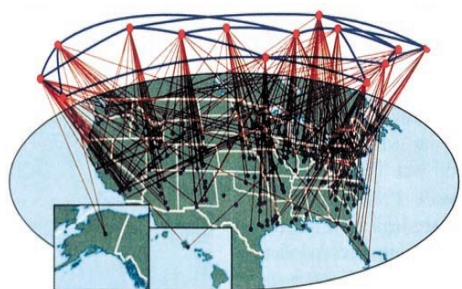


图 7



图 8



图 9

结合所学知识，回答问题。

(1) 你认为图 7 所示的成果属于那次科技革命？请从你的学习生活角度出发，说说它名列榜首的原因。

(2) 图 8 所示成果是人类进入什么时代的表现？他的发明者是谁？

(3) 图 9 所示成果采用的动力机器是什么？图 9 所示成果的普及，对我们的生活各有什么利弊？

29. (1) 第三次科技革命；围绕学习生活采意给分。

(2) 电气时代；爱迪生。

(3) 内燃机；利与弊采意给分。

25 (2010 年河北省) . 下列发明，其最初目的是为了_{提高}人类生活质量的是 (C)

A . 珍妮机

B . 改良蒸汽机

C . 耐用电灯泡

D . 坦克

24 (2010 年鄂州市) (7 分) 科学技术的成果惠及全人类，日益丰富人们的生活，改变世界的面貌。某中学科技史兴趣小组准备围绕三次科技革命开展研究性学习，请你参与其中，做相关基础性工作。

(1) 根据提示，请你完成下页 4 表格的内容：(3 分)

项 目	发明者
	史蒂芬孙
发电机	
无线电报	

(2) 第三次科技革命兴起以来，美国在一些重要科技领域始终走在世界的前列。试列举其中两例美国取得的具体科技成就。(2 分)

(3) 第三次科技革命对世界经济产生了什么影响？(答 1 点即可) (2 分)

(1) 项目：火车；发明者：西门子，马可尼。(3 分)

(2) ①成功试爆第一颗原子弹；②制成世界上第一台电子计算机；③把人成功送上月球；④发明航天飞机；⑤成功进行 DNA 重组技术试验。(答 2 例) (2 分)

(3) ①促进全球经济一体化进程；②导致“知识经济”产生；③进一步扩大了国家之间的经济差距；④导致大批新型产业兴起；⑤极大地促进了社会生产力的发展。(答 1 点即得 2 分)

15. (2010 年黄冈市) 近代以来，科技发展使人们生活发生了巨大变化，以下出现的情景不符合当时社会生活的是

- A. 1831年达尔文乘“贝格尔”号考察船作环绕世界的考察 (B)
- B. 1921年中国共产党成立的消息通过互联网迅速传播
- C. 1943年蒋介石乘飞机去埃及参加开罗会议
- D. 2010年全市中考阅卷将全部采用网上阅卷

29. (2010年武汉市) 武广高铁的开通使武汉进入高铁时代, 给武汉经济发展带来了新的机遇。高铁乘客可以网上聊天、网上交易。人们感慨, 网络生活真是无处不在! 这表明我们正处在 (C)

- A. 蒸汽时代
- B. 电气时代
- C. 信息时代

37. (2010年襄樊市) 【科技改变生活】(6分)

材料一: 1851年, 首届世博会在英国举办, 展品有蒸汽机、火车模型、纺纱机等。

材料二: 1893年芝加哥世博会上, “电灯”成为此届世博会中最耀眼的“明星”。

材料三: 1962年西雅图世博会的主题是“太空时代的人类”。

请回答:

- (1) 材料一中的展品是哪次科技革命的成果? (1分)
- (2) 电灯的发明者是谁? (1分) 在电灯发明之前, 我们的先人在夜晚采用哪些方法照明? (1分)
- (3) 在西雅图世博会上, 出现的科技展品有哪些? (1分) 这些展品展示的是哪次科技革命的成果? (1分)
- (4) 比较上述科技革命的成果, 想一想它们能够给我们哪些有益的启迪? (1分)
- (1) 工业革命 (产业革命; 第一次科技革命也可)。 (1分)
- (2) 爱迪生。 (1分) 电灯发明之前, 人们多使用煤油灯、煤气灯、蜡烛、火把等照明。 (评分说明: 答出其中一种即可, 1分。)
- (3) 卫星模型; 火箭模型; 宇航服; 计算机; 原子弹模型; 在太空培育的种子; 在太空研制的药品等。 (评分说明: 答出其中一种即可, 1分。) 第三次科技革命。 (1分)
- (4) 科学技术是巨大的生产力; 科学技术推动社会进步; 我们要学习科学家勇于创新, 努力探索科学奥秘的精神品质; 科学技术改变人们的生活等。 (答对其中一项即可, 其它答案只要符合题意也可, 1分。)

29 (2010年南京市) 人类历史上发生的三次科技革命的共同影响不包括 (D)

- A. 推动社会生产力的发展
- B. 改变了人们的生活方式
- C. 加强了世界各地的联系
- D. 把人类带入“电气时代”

37 (2010年宿迁市) (本题8分) 迄今为止, 人类社会已进行了三次科技革命, 第三次科技革命仍方兴未艾。科技革命给世界、也给中国产生了深刻影响。请回答:

- (1) 分别列举三次科技革命标志性的发明或应用 (各举1例)。 (3分)
- (2) 前两次科技革命分别把人类社会推进到什么时代? (2分) 19世纪60—90年代中国曾掀起“师夷长技以自强”的一场运动, 历史上称作什么? (1分)
- (3) 新中国成立后, 党和政府高度重视科技发展、紧抓第三次科技革命机遇, 20世纪80年代为加快发展高技术而作出的重大决策是什么? (2分)

37. (1) 第一次: 蒸汽机或火车 (蒸汽机车)、汽船 (1分); 第二次: 电机、内燃机或相应的发明成就 (1分, 答出1点即可); 第三次: 电子计算机、原子能、空间技术、生物工程及成果 (1分, 答出1点即可)

(2) “蒸汽时代”、“电气时代” (2分) “洋务运动” (1分)

(3) 制订“863计划”或中国高技术发展计划纲要 (《高技术研究发展计划纲要》) (2分)

30. (2010年泰安市) 目前, 信息技术已作为一门课程进入山东省中小学。这与第三

次科技革命中的哪一项技术的发展密切相关 (D)

A. 航天技术 B. 原子能 C. 生物工程 D. 计算机

36. (2010年无锡市) 阅读下列材料, 回答问题 (4分)

材料一: 1851年, 第一届世博会在英国召开……引擎、引擎、水力印刷机、纺织机械则向参观者展示了现代工业的发展和人类焕发出的无限想象力。当时的清朝, 只有极少数士大夫睁开眼睛看世界, 更多的则在天朝上国里昏昏欲睡。

(1) 英国之所以能够举办第一届世博会, 与第几次工业革命有关? (0.5分)

(2) 英国完成工业革命后, 20世纪40年代对中国发动了什么战争? (0.5分)

材料二: 1904年, 美国圣路易斯世博会设有八个展馆: 生产馆、综合工业馆、教育和社会学馆、运输馆、机械馆、电气馆、矿物学和冶金馆, 以及文理学科馆。

(3) 在1904年圣路易斯世博会上, 游客们在运输馆可以看到哪一种效验工具? (0.5分)

(4) 游客们在电气馆看到了电灯, 其最早发明者是谁? (0.5分)

材料三: 1962年, 美国西雅图世界博览会的标志性建筑“太空针”配有538个音乐钟、44个放音喇叭、四周悬浮着20000个彩色气球, 气球上印着“相会西雅图”的字样。“太空时代的人类”成了1962年西雅图世博会的主题。

(5) “太空时代的人类”成了1962年西雅图世博会的主题, 这可以归功于第三次科技革命, 这次科技革命使人类进入了什么时代? (0.5分)

材料四: 2010年, 主题为“城市, 让生活更美好”的上海世博会开幕。“中国馆”以“东方之冠, 鼎盛中华, 天下粮仓, 富庶百姓”的构思主题, 表达中国文化的精神与气质。展馆的展示以“寻觅”为主线, 带领参观者行走在“东方足迹”、“寻觅之旅”、“低碳行动”三个展区, 在“寻觅”中发现并感悟城市发展中的中华智慧。

(6) 上海哪一地区的开发给上海带来了巨大的变化, 为举办世博会创造了良好条件, 这一地区已发展成为国际化的经济中心和金融中心? (0.5分)

(7) 上海世博会主题“城市, 让生活更美好”, 体现了以人为本的理念。14-16世纪的什么运动使人们开始冲破封建神学的束缚, 强调以人为中心, 主张追求现世生活中人的幸福? (0.5分)

(8) 请你为怎样建设美好的城市提出一个建议 (0.5分)

15 (2010年徐州市) 徐州市2010年中考将实行网上阅卷。这一阅卷方式得益于 (C)

A. 电力的发明和应用 B. 电讯技术的兴起
C. 计算机网络技术的应用 D. 航天技术的发展

14 (2010年江西省) (8分) 历史视角——从世博会透视世界。2010年上海世博会举办期间, 某校九(1)班出了一期以世博会为主题的板报。试结合板报部分内容, 探讨相关问题。

栏目一: 世博大明星

经过全体同学投票, 以下三项科技成果被评为“世博大明星”。

获选明星	首次展出的时间和地点	获选理由
大功率蒸汽机	1851年伦敦世博会	震撼了世界
爱迪生的白炽灯	1889年巴黎世博会	点亮了世界
电子计算机技术	1964年纽约世博会	丰富了世界

(1) 结合“获选理由”, 说说蒸汽机在工业生产中主要发挥了怎样的作用? (2分) 从上述世

博会发展历程中，你认识到人类社会进步的主要推动力是什么？（2分）

栏目二：世博大舞台

1876年，美国在费城举办了第一次世博会，通过世博会向世界展示了一个新兴工业国家的崛起。在展厅中的千百台机械轰鸣声中，美国向世界宣布：“我来了！”

(2)联系19世纪中期以来美国的发展历程，说说1876年的美国作为“一个新兴工业国家”崛起的主要原因有哪些？（2分）

栏目三：世博大看点

2010年的上海世博会展出的太阳能飞机、碳纤维自行车、透明水泥、可发电地板、火山岩网球拍等高科技产品成为本届世博会的“大看点”。

(3)栏目三所列出的这些展品，从一个侧面反映了当今世界关注的全球性问题有哪些？（2分）(1)为工业生产提供了强大动力；（或代替了人力、水力等2分）；科技进步。（2分）

(2)原因：美国内战，扫清了发展资本主义的内部障碍；（1分）抢占第二次工业革命先机等。（1分）

(3)节能、低碳、环保、新材料的开发和应用等。（符合题意，任举两点即可，每点1分，共2分）

35（2010年威海市）美国虽然只有230多年的历史，但它在欧洲文明的基础上，独创性地走出了一条自己的发展道路，将世界第一经济强国的位置占据了一个多世纪，现在被称为世界“超级大国”和“国际警察”。

请回答：

(1)美国南北战争的起止时间是_____年至_____年。在这场战争中，林肯颁布了_____（法令）。

(2)罗斯福新政的目的、中心措施是什么？

(3)第三次科技革命起源于美国，随后波及到西欧和日本等发达国家，后又逐渐向许多发展中国家扩展。第三次科技革命与前两次科技革命相比，有哪些特点？

(4)1999年，以美国为首的北约越过联合国安全理事会，对南联盟境内进行狂轰滥炸，造成南联盟的重大人员伤亡和物质损失，中国驻南大使馆也遭到北约导弹袭击，3名中国记者不幸牺牲。你对美国充当“国际警察”有什么看法？（1分）

35.(1)1861、1865(1分)《解放黑人奴隶宣言》(1分)

(2)在资本主义制度内部进行调整，加强国家对经济的干预和指导，以消除经济危机。(1分)国家对工业的调整。(1分)

(3)不仅涌现出大量的科技成果，而且大大加快了科学技术转化为生产力的速度，缩短了知识变为物质财富的过程。(1分)科学技术的各个领域之间相互渗透，一种科学技术的发展引起好几种技术的革命。(1分)新技术成为社会生产力中最活跃的因素，在促进经济增长的各种因素中，科技进步所占的比重不断上升。(1分)

(4)以美国为首的北约公然对一个联合国成员国动武，不仅违背了国际法的基本准则，削弱了联合国的作用，而且侵犯了别国主权，造成了重大人员伤亡，也使国际局势更加动荡不安。我们主张世界各国应在和平共处五项原则的基础上，发展相互关系，反对美国以“国际警察”自居，以“人权”为幌子，到处干涉别国内政或侵略别国。（只要观点正确，言之有理即可得1分）

20（2010年山西省）2010年的中国上海世界博览会，是一次科技与文化交融的盛会。历史上科技与文化的发展极大的推动了人类社会的进步，深刻的影响着人类的生产和生活方式。让我们沿着科技文化的发展轨迹，完成下面的探究任务。

任务一：梳理知识

- (1) 列举古代中外人类文化成果各一例。(2分)
- (2) 第一次工业革命发源于哪国?(1分)它的主要标志是什么?(1分)
- (3) 第二次工业革命中出现的新能源有哪些?(1分)举出他们在生产生活中应用的一个示例。(1分)
- (4) 第三次科技革命的标志是什么?(1分)说出这次工业革命不同于前两次科技革命的特点。(2分)

任务二：解决问题

- (5) 用史实阐明下列观点(只选一个观点说明即可)。(4分)

观点一：科学技术是推动社会进步的决定性因素。

观点二：文化交流是促进国家发展的重要途径。

任务三：思考感悟

(6) 人类在充分享受科技文化成果的同时，还面临着许多共同的问题。对此你有什么看法，请写下来。(2分)

20. (1) 示例：中国：司母戊鼎等。(1分) 世界：巴黎圣母院等。(1分)

(说明：所列文化成就，领域不限。只列出中国的或世界的，只得1分)

(2) 英国(1分) 蒸汽机的广泛运用。(1分)

(3) 电力、石油。(1分) 电和石油用于驱动汽车；电灯、电话等。(1分)

(说明：能源只答出一个不得分。示例答出任何一点符合题意的都可得分)

(4) 标志：原子能、电子计算机、航天技术(空间技术)、生物工程。(1分)

特点：科学技术转化为生产力的速度加快，缩短了知识变为财富的过程；科学技术各领域间相互渗透，密切联系(科技发明由一国出现，迅速传播到世界各国)；科技在经济生活中所占比重在上升。(2分)

(说明：标志全部答出才可得分。特点答一点得1分，得分不超过2分)

(5) 观点一：①第一次工业革命，蒸汽机的发明，为机器提供了蒸汽动力，推动了机器生产的发展，人类进入“蒸汽时代”。(1分) ②第二次工业革命，电力成为机器的主要动力，并广泛用于生活领域，人类进入“电气时代”。(1分) ③第三次科技革命，原子能、电子计算机、航天技术、生物工程等领域的突破，极大改变了人类生产生活方式，人类社会进入了信息化社会。(1分) ④总之，科学技术的发明创造了巨大的生产力，进而推动社会不断进步(科技是第一生产力)。(1分)

(说明：按三次科技革命的顺序进行阐述，缺一点扣1分；答出三次科技革命的发明或表现等，都可得分。结论得1分)

观点二：①七世纪初起，日本多次派遣唐使到中国学习；大力倡导中国先进的制度和文
化，进行改革。(2分) 大化改新后日本迈入封建社会。(1分) ②十九世纪中期，日本积极向西方学习，引进科学技术，提倡“文明开化”。(2分) 明治维新使日本跻身于资本主义国家行列。(1分) ③中国改革开放后，积极引进先进科学技术，加强与各国的文化交流，如举办世博会等。(2分) 中国日益成为国际舞台上一支重要力量。(1分) ④总之，文化交流是促进国家发展的重要途径。(1分)

(说明：①②③分别举一个事例说明得3分，其它符合题意要求的事例也可得分。④是结论得1分)

(6) ①科技是推动社会进步的决定性因素，国家要大力推进科学研究和鼓励科技发明；个人要努力学习科学文化精神，勇于创新。对科技带来的负面影响，如自然生态、社会环境等问题决不能忽视，实行可持续发展。(2分)

②文化交流是促进国家发展的重要途径，国家要重视文化交流，要正确对待文化差异，弘扬本民族优秀文化，对待外来文化，取其精华，去其糟粕。(2分)

44 (2010年四川省巴中市) 【材料一】2010年上海举办了历史上规模最大的一届世博会，而第一届世博会是1851年在英国伦敦举行的，它以工业革命成果为主要内容，1.7万参展者带来了大约100万件展品参展。

【材料二】近年来，由于电力紧张，成都市出现了拉闸限电的现象，影响了人们正常的生产生活。特别是2009年6月1日开始，成都电网负荷连续7次创历史新高，成都市电业局呼吁广大市民节约用电。

【材料三】20世纪四五十年代以来发生的这场革命，极大地提高了劳动生产率，促进了生产的迅速发展；产生了一批新型工业，第三产业迅速发展起来；推动社会生活的现代化……在20世纪90年代产生了“知识经济”这一概念。

(1)请写出一个能在伦敦世博会上参展的最先进的交通工具。(1分)这次工业革命最先从哪个国家开始?(1分)

(2)材料二中与我们生活密切相关的电是什么时候成为人类使用的能源的?(1分)被称为“打开电气时代的领袖”是谁?(1分)从材料二你得到什么启示?(1分)

(3)材料三提到的“这场革命”中最为突出的核心技术是什么?(1分)

(4)三次科技革命的共同影响向我们证明了一个什么道理?(1分)处于“知识经济”时代的你应该怎么做?(1分)

44. (1) 轮船、火车。(1分) 英国。(1分) (2) 19世纪70年代以后(第二次工业革命)。(1分) 爱迪生。(1分) 我国电力资源匮乏，要注意节约电力能源。(1分) (3) 电子计算机。(1分) (4) 科技是第一生产力。(1分) 努力掌握科技知识，时刻准备着振兴祖国科技事业。(其他言之有理即可，1分)

12 (2010年沈阳市) 一台年产20亿千克的标准带钢热轧机，用人工控制，每周最多生产50万千克钢；用电子计算机控制，每周产量可达5000万千克钢，是人工控制的100倍。以电子计算机广泛使用为核心的是(D)

A. 三角贸易 B. 工业革命 C. 第二次工业革命 D. 第三次工业革命

24 (2010年河北省) 二战后，世界人民在满目疮痍的废墟上，借助第三次科技革命的力量重建家园。1958年，在恢复生产、复苏经济的基础上，战后第一个世博会在比利时的布鲁塞尔举行。据此判断这届世博会的主题应是(C)

A. 哥伦布——船舶与海洋

B. 美洲大陆的文化交流

C. 科学、文明和人性

D. 人与自然——迈向21世纪

57. (2010年攀枝花市) 世界博览会是展示世界文明最新成果的盛会，科技与创新推动了历史的前进。

根据所学知识回答问题：

(1) 1851年5月，英国伦敦水晶宫展览会首次成功向世人展示了工业革命时代的辉煌成就。被称为工业革命“灵魂式的发明”是什么？它对工业部门的机器生产起了什么重要作用(2分)

(2) 如果请你设计主题为“第二次工业革命成就展”的黑板报，你会重点介绍哪两个国家？(2分)

(3) 第三次科技革命有什么影响？(3分)

(4) 科技改善了我们的生活，但也带来很多负面影响，这说明了什么道理？2010年上海世博会的主题是“城市，让生活更美好。”请你为美好城市的建设提出些建议。(3分)

57、(1) 改良蒸汽机；(1分)为工业部门的机器生产提供了强大动力。(1分)

(2) 美国、德国。(2分)

(3) 第三次科技革命推动社会生产力空前发展，并进一步引起了世界经济结构和国际经济格局的变化，(1分)世界各国都在大力发展高科技，增强自己在国际格局中的地位，

(1分)

从而推动了世界经济格局的多极化。(1分)

(4) 道理：科技是一把双刃剑。(1分)建议：实行“可持续发展”；保护生态环境；节约能源和资源，倡导低碳生活等。(2分)(符合题意，言之成理，即可给分)

16. (2010年呼和浩特市)第三次科技革命具有范围广、影响大的特点，它给人类的生产和生活带来巨大的变化。下列选项中属于第三次科技革命成果的是 (D)

- A. 蒸汽机和火车 B. 内燃机和飞机
C. 电报和电话 D. 电子计算机和航天技术

24. (2010年东营)阅读下面三幅图，结合所学知识回答问题：



图一火车机车图二灯泡图三“多莉”羊

(1) 图一火车机车的发明者是谁？它以什么作动力？(2分)

(2) 图二灯泡的发明反映了人类社会进入什么时代？同一时期该国人发明的交通工具是什么？(2分)

(3) 图三“多莉”羊是第三次科技革命成果，这次科技革命的核心是什么？(1分)

(4) 结合三幅图谈谈你对科技进步的认识。(1分)

48. (2010年遂宁市)(12分)世界博览会(Universal Expo, Expo)是一个富有特色的讲坛，它鼓励人类发挥创造性和主动参与性。把科学性和情感结合起来，将种种有助于人类发展的新概念、新观念、新技术展现在世人面前。因此，世博会被誉为世界经济、科技、文化的“奥林匹克”盛会。阅读下列材料，回答问题。

材料一 1851年伦敦举办第一届世界工业品博览会；1876年费城美国独立百年博览会 1962年西雅图廿一世纪博览会；1964年纽约世界博览会。

材料二 中国政府第一次派出代表，以国家身份参加的世界博览会是1876年的费城世界博览会。

材料三 中国2010年上海世界博览会(Expo 2010)，是第41届世界博览会，也是由中国举办的首届世界博览会。上海世博会以“城市，让生活更美好”(Better City, Better Life)为主题，总投资达450亿人民币，创造了世界博览会史上最大规模记录。

材料四 据统计，在已经举办的41届世博会中，全世界有16个国家承办，涉及欧洲、北美洲、亚洲和大洋洲，其中亚洲的日本举办了四次(在20世纪70—80年代举办了3次)。

——上述材料均摘自新浪网

请回答：

(1) 收集、整理以及处理相关历史信息是历史学习的一项基本技能和方法，请根据材料一和所学知识，完成下表。(7分)

三次科技革命名片

类别	第一次科技革命	第二次科技革命	第三次科技革命
开始时间	18世纪60年代	19世纪下半叶	

标志			
核心国家		美国	美国
核心国的主要条件	中产阶级统治确立	内战扫清资本主义发展障碍	二战后经济实力大增、政局稳定
革命后核心国地位	“世界工厂”		超级大国
结论			

(2) 对比分析是历史学习的又一方法。材料三与材料二比较，中国参与世界博览会有何变化？出现这种变化的原因是什么？（2分）

(3) 知识联系法是历史学习的常用方法。据材料四和所学知识，指出 20 世纪 70~80 年代日本能举办三次世界博览会的主要原因。（1分）

(4) 世界博览会发展是历程，说明了当今世界经济发展呈现什么趋势？此外，中国顺应这一趋势还采取了什么重大举措？（2分）

48. (1) 时间：20 世纪 40—50 年代。蒸汽机的广泛应用；电力和内燃机的广泛应用；电子计算机技术、生物工程技术的广泛应用。核心国：英国。地位：世界第一。结论：科学技术是第一生产力。（2）不同：从参加到承办。原因：综合国力增强。（采意给分）

(4) 二战后日本经济“高速增长”，成为世界经济大国；是战后资本主义发展速度最快的国家之一；创造战后东亚奇迹；（任 1 点 1 分）(5) 经济全球化。（1分）2001 年中国加入了世界贸易组织、中国加入亚太经合组织、2008 年中国举办 29 届奥运会、组建中国——东盟自由贸易区。（任 1 点 1 分）

38. (2010 年四川省乐山市) (14 分) 世界博览会 (Universal Expo, Expo) 是一个富有特色的讲坛，它鼓励人类发挥创造性和主动参与性，它更鼓励人类把科学性和情感结合起来，将种种有助于人类发展的新概念、新观念、新技术展现在世人面前。因此，世博会被誉为世界经济、科技、文化的“奥林匹克”盛会。阅读下列材料，回答问题。

材料一 1851 年伦敦举办第一届世界工业品博览会；1876 年费城美国独立百年博览会；1962 年西雅图廿一世纪博览会、1964 年纽约世界博览会。

材料二 中国政府第一次自派代表，以国家身份参加的世界博览会是 1876 年的费城世界博览会。

材料三 中国 2010 年上海世界博览会 (Expo 2010)，是第 41 届世界博览会，也是由中国举办的首届世界博览会。上海世博会以“城市，让生活更美好” (Better City, Better Life) 为主题，总投资达 450 亿人民币，创造了世界博览会史上最大规模记录。



材料四 据统计，在已经举办的 41 届世博会中，全世界有 16 个国家承办，涉及欧洲、北美洲、亚洲以及大洋州，其中亚洲的日本举办了四次（在 20 世纪七八十年代举办了 3 次）。

——上述材料均摘自新浪网

(1) 收集、整理以及处理相关历史信息是历史学习的一项基本技能和方法，请根据材料一、二和所学知识，完成下表。（8分）

三次科技革命名片

类别	第一次科技革命	第二次科技革命	第三次科技革命
开始时间	18 世纪 60 年代	19 世纪下半叶	
标志			
核心国家		美国	美国

核心国的主要条件	资产阶级统治的确立	内战扫清资本主义发展障碍	二战后经济实力大增，政局稳定
革命后核心国地位	“世界工厂”		超级大国
结论			

(2) 据上表和所学知识，指出 1851 年伦敦举办第一届世界工业品博览会的根本条件。(1 分)

(3) 对比分析是历史学习的又一方法。材料三与材料二比较，中国参与世界博览会会有何变化？出现这种变化的原因是什么？(2 分)

(4) 知识联系法是历史学习的常用方法。据材料四和所学知识，指出 20 世纪七八十年代日本能举办三次世博会的主要原因。(1 分)

(5) 世博会发展的历程，说明了当今世界经济发展呈现什么趋势？此外，中国顺应这一趋势还采取了哪些重大举措。(2 分)

(1) 时间：20 世纪 40—50 年代。(1 分) 蒸汽机的广泛应用；电力和内燃机的广泛应用；电子计算机技术、生物工程技术的广泛应用。(3 分) 核心国：英国。(1 分) 地位：世界第一。(1 分) 结论：科学技术是第一生产力。(2 分)

(2) 根本条件：工业革命的完成。(1 分)

(3) 不同：从参加到承办。(1 分)

原因：综合国力增强。(采意给分，1 分)

(4) 二战后日本经济“高速增长”，成为世界经济大国；是战后资本主义发展速度最快的国家之一；创造战后东亚奇迹；(任 1 点 1 分)

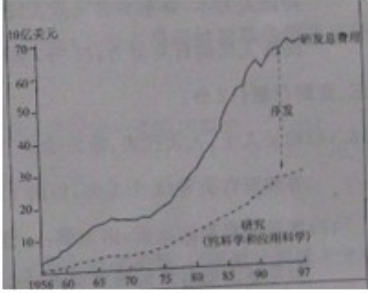
(5) 经济全球化。(1 分) 2001 年中国加入了世界贸易组织、中国加入亚太经合组织、2008 年中国举办 29 届奥运会、组建中国——东盟自由贸易区。(任 1 点 1 分)

38 (2010 年连云港市) 某同学要探究“在推动社会发展进程中，科技人才、科学技术和社会环境间的关系”。请根据提示与这位同学一起完成这一探究任务。(14 分)

(1) 这位同学用表格梳理史实，以奠定探究基础。请完成表格中的相关内容。(4 分)

人物	时间	成就	人物	时间	成就
毕昇	宋代	①▲	牛顿	1687 年	《自然哲学的数学原理》
瓦特	1765 年	改良蒸汽机	达尔文	1859 年	③▲
爱迪生	19 世纪后期	②▲	④▲	1905 年	“狭义相对论”
……					

(2) 史料是探究的主要对象。阅读下列史料(《世界科技通史》，)并回答：(7 分)

<p>哈雷撰写的用作《(自然哲学的数学)原理》前言的那首诗文，可以当之无愧地被看成是第一篇……的文件。在那首诗里，哈雷写到如何去了解世界：“在理性光芒的照耀下，愚昧无知的乌云/终将被科学驱散。”</p>	<p>瓦特是在 1765 年的一个星期日出外散心的时候突然想到他的解决办法的。他的想法……避免了把汽缸交替着一会儿加热一会儿冷却，对燃煤的节约自然十分可观。</p>	
材料一	材料二	材料三：美国政府研发费用

① 材料一的《自然哲学的数学原理》主要讲述了哪些物理学定律？材料认为这些成果推动了思想领域什么运动的发展？

② 材料二中瓦特改良蒸汽机解决了什么问题？在使用蒸汽机后产生了哪一新式交通工具？

③ 材料三反映了美国政府 1956 年以来科研经费呈现出怎样的趋势？试举这一时期不同领域的两例世界先进科技成就。

(3) 反思是历史探究的重要成果之一。根据上述探究，请回答：(3分)

① 从社会环境和个人品质两个角度，归纳科技人才能够发明创造的主要因素。

② 科学技术与社会发展间呈现怎样的关系？

38. ①活字印刷术；②电灯泡、留声机等；③《物种起源》(进化论)；④爱因斯坦。

(4分) (2) ①力学三定律和万有引力定律。(1分) 启蒙运动。(1分)

② 热效率或动力问题。(1分) 火车。(1分) ③增加。(1分) 计算机网络技术；航天技术；现代生物工程技术等。(任意2领域2分)

(3) ①社会环境：政府行为、社会观念等。个人品质：潜心研究、提高效率、节约能源、注意环保、大胆实践、关注社会。(每角度1分，共2分)

② 社会发展促进科学技术进步；科学技术对社会的推动程度取决于社会环境。(任意1点1分)

25 (2010年东营市) 下列属于第三次科技革命成果的是 (D)

① 火车 ②汽车 ③电子计算机 ④克隆技术

A. ①② B. ②③ C. ①④ D. ③④

16 (2010年湘潭市) 下列哪一幅图片不属于第三次科技革命的成果(D)



20. (2010年泉州市) 许多职业的出现与科技发明密切相关，因第三次科技革命而出现的职业是 () B

A. 火车司机 飞行员 B. 网络管理员 航天工程师

C. 汽车司机 空姐 D. 铁路工程师 电工

12 (2010年菏泽市) 下图是一款世界著名的汽车商标图案，与它最可能有关的历史人物是 (A)



A. 卡尔·本茨 B. 亨利·福特 C. 莱特兄弟 D. 爱迪生

15. (2010年綦江县) 信息社会到来的主要标志是 (C)

A. 航天技术 B. 原子能技术 C. 计算机网络技术 D. 生物工程技术

(2) 知道德莱塞的《美国的悲剧》等著名文学作品。

(3) 了解毕加索等艺术家的艺术成就。

15. (2010年邵阳市) 下列画作中, 属于毕加索创作的是 (D)

- A. 《最后的晚餐》 B. 《蒙娜丽莎》
C. 《向日葵》 D. 《和平鸽》

22. (2010年无锡市) 被践踏的鲜花、断裂的肢体、表情扭曲的呼号者、锯齿般的灯光、濒死长嘶的战马……支离破碎的黑白灰色块中散发出无尽的阴郁与恐怖, 和地人类苦难的悲悯。1937年4月26日, 西班牙历史名城格尔尼卡被纳粹德国空军夷为平地, 作者用了半年时间创作了大型油画《格尔尼卡》, 作为对法西斯的控诉, 这幅画的作者是 (A)



- A. 毕加索 B. 莎士比亚 C. 德莱塞 D. 贝多芬

30 (2010年威海市) 世界名画《格尔尼卡》, 是1937年为抗议德国法西斯轰炸西班牙小镇格尔尼卡而作的, 它是20世纪绘画艺术中的珍品。其作者是 (A)

- A. 毕加索 B. 德莱塞 C. 罗曼·罗兰 D. 贝克尔

20. (2010年东营) 下列各项组合正确的是 (C)

①但丁与《英雄交响曲》 ②莎士比亚与《哈姆雷特》 ③牛顿与《物种起源》 ④伏尔泰与《最后的晚餐》 ⑤托尔斯泰与《复活》 ⑥毕加索与《向日葵》

- A. ③⑥ B. ①③④ C. ②⑤ D. ②④⑤

(4) 通过爵士乐、好莱坞等, 了解现代音乐和电影业的发展。

32. (2010年四川省乐山市) 2009—2010年, 我国上映了《变形金刚2》、《2012》、《阿凡达》、《钢铁侠2》等一系列美国高科技科幻电影。这些经典影片诞生于美国电影业中心 (B)

- A. 纽约 B. 好莱坞 C. 费城 D. 华盛顿

(5) 他们都推动了世界历史发展的进程 (其它答案言之有理变亦可得分) (1分)

23. (2010年无锡市) 美国天才大导演詹姆斯·卡梅隆的电影《阿凡达》2010年在全球的热映。阿凡达源自梵文, 意指降临人间的神之化身。卡梅隆运用逼真的3D特效带领观众以新奇的角度探索了潘多拉星球, 把观众带入了一个美妙神奇的世界。你知道电影最早产生于什么时期? ()

- A. 18世纪末 B. 19世纪初
C. 19世纪末 D. 20世纪初

