

2023年黑龙江省牡丹江市中考历史真题

考生注意：

1. 考试时间 60 分钟；
2. 全卷共五道大题，总分 100 分；
3. 所有试题请在答题卡上作答，在试卷上答题无效。

一、史海撷珠（下列各题选项中只有一个是符合题意的，请选出。本题共 25 道小题，每小题 2 分，共 50 分）

1. 我国境内目前已确认的最早古人类是（ ）

- A. 元谋人 B. 北京人 C. 半坡人 D. 河姆渡人

【答案】A

【解析】

【详解】根据所学知识，我国境内最早的人类是距今 150 万年的元谋人，A 项正确；北京人距今 30 万年不是中国最早的人类，排除 B 项；半坡居民距今 5000 年，排除 C 项；河姆渡人距今 6000 年，排除 D 项。故选 A 项。

2. 春秋战国时期，学术思想十分活跃。儒家学派创始人孔子的核心思想是（ ）

- A. “无为而治” B. “仁” C. “兼爱”“非攻” D. 以法治国

【答案】B

【解析】

【详解】根据题干材料“儒家学派创始人孔子的核心思想。”结合所学知识可知，春秋晚期鲁国人孔子是儒家学派的创始人，他提出“仁”的学说，主张“爱人”，要求统治者体察民情，爱惜民力，“为政以德”，反对苛政和任意刑杀。孔子的核心思想是“仁”，B 项正确；“无为而治”是老子的思想，排除 A 项；“兼爱”“非攻”是墨子的思想，排除 C 项；以法治国是法家韩非子的思想，排除 D 项。故选 B 项。

3. 2023 年是中国提出共建“一带一路”倡议 10 周年，古老的丝绸之路焕发勃勃生机。西汉时这条沟通欧亚的陆上交通道路的起点是（ ）

- A. 洛阳 B. 长安 C. 开封 D. 大都

【答案】B

【解析】

【详解】根据题干“古老的丝绸之路焕发勃勃生机。西汉时这条沟通欧亚的陆上交通道路。”可知，材料主

要强调丝绸之路。自从张骞开辟通往西域的道路后，汉朝和西域的使者开始相互往来，东西方的经济文化交流日趋频繁。商人们载着汉朝的丝绸等货物，从长安出发，穿过河西走廊，经西域运往中亚、西亚，再转运到更远的欧洲；又把西域的物产和奇珍异宝运到中原。这条沟通欧亚的陆上交通道路，就是著名的“丝绸之路”，B项正确；丝绸之路的起点是长安，不是洛阳，排除A项；丝绸之路的起点是长安，不是开封，排除C项；丝绸之路的起点是长安，不是大都，排除D项。故选B项。

4. 三国鼎立局面形成的关键战役是

- A. 巨鹿之战 B. 淝水之战 C. 官渡之战 D. 赤壁之战

【答案】D

【解析】

【详解】根据所学知识可知，公元208年的赤壁之战是发生在孙刘联军和曹操之间的一场战争，奠定了三国鼎立的局面，D项符合题意。巨鹿之战是秦朝末年的一次战争，A项不符合题意；淝水之战是发生在东晋与前秦之间的战争，B项不符合题意；官渡之战是发生在袁绍和曹操之间的一次战争，是奠定曹操统一北方基础的决定之战，C项不符合题意；故选D。

5. 《晋书·食货志》记载东晋后期南方的情形是：“天下无事，时和年丰，百姓乐业，谷帛殷阜，几乎家给人足矣。”当时江南地区得到开发的原因是（ ）

- ① 江南地区自然条件优越
- ② 当时的江南地区社会比较安定
- ③ 北人南迁，带去大量劳动力和先进的生产工具、生产技术
- ④ 南下移民和江南地区当地民众的共同努力

- A. ①②③ B. ①③④ C. ②③④ D. ①②③④

【答案】D

【解析】

【详解】根据题意，天下无事对应社会安定，时和年丰对应区自然条件优越，此外魏晋南北朝时期北方动乱使得北民南迁带来了大量劳动力和先进的生产工具、生产技术，促进了江南地区的开发，①②③④符合题意，D项符合题意，D项正确；由此可知ABC项不全面，排除ABC项。故选D项。

6. 农业科技著作突显了中国古代科学家以民生为本的务实精神。我国现存最早的一部完整的农书是（ ）

- A. 《齐民要术》 B. 《本草纲目》
C. 《农政全书》 D. 《天工开物》

【答案】A

【解析】

【详解】根据题干材料“农业科技著作突显了中国古代科学家以民生为本的务实精神。我国现存最早的一部完整的农书。”可知，《齐民要术》是北朝时期的著名的农学家贾思勰所著的一部农业科学著作，书中总结了我国北方劳动人民长期积累的生产经验，介绍了农、林、牧、副、渔业的生产技术和方法；强调农业生产要遵循自然规律，农作物必须因地制宜，不误农时；提倡改进生产技术和工具，还提出了多种经营和商品生产等重要思想。《齐民要术》是我国现存最早的一部完整的农业科学著作，在世界农学史上占有重要地位，突显了中国古代科学家以民生为本的务实精神，反映出当时农业生产技术已经达到很高水平，对后世农学的发展有深远的影响，在世界农学史上占有重要地位，A项正确；《本草纲目》是李时珍编纂的药物学巨著，排除B项；《农政全书》是有关国计民生的科技名著，作者是明代农学家徐光启，排除C项；明朝末年宋应星的《天工开物》，总结了明代农业和手工业生产技术和方法，排除D项。故选A项。

7. 在唐朝与日本的文化交流中，最有影响的人物是（ ）

- A. 张骞 B. 鉴真 C. 玄奘 D. 郑和

【答案】B

【解析】

【详解】根据“在唐朝与日本的文化交流中，最有影响的人物。”结合所学知识可知，在唐朝与日本的文化交流中，最有影响的人物是鉴真。他是扬州大明寺的高僧，接受日本僧人的邀请东渡日本，前5次都因各种原因没有成功，辛劳过度而双目失明。但鉴真仍矢志不渝，继续第6次东渡，终于在754年抵达日本。他在日本传授佛经，还传播中国的医药、文学、书法、建筑、绘画等，为中日文化交流作出了卓越的贡献，B项正确；西汉武帝时期张骞出使西域，排除A项；唐太宗时期玄奘前往印度求取佛教，排除C项；明成祖时期郑和七下西洋，排除D项。故选B项。

8. “万般皆下品，唯有读书高”“做人莫做军，做铁莫做针”，体现了北宋的政治特点是（ ）

- A. 藩镇割据 B. 宦官专权 C. 重文轻武 D. 外戚干政

【答案】C

【解析】

【详解】根据题干“万般皆下品，唯有读书高”“做人莫做军，做铁莫做针”和所学知识可知，为防止唐末以来武将专横跋扈的弊端重现，宋太祖实行重文轻武政策，抑制武将，提升文官地位的政策，使文臣统兵的格局逐渐形成。宋朝注重发展文教事业，改革和发展了科举制。宋初大幅度增加科举取士名额，提高进士地位，进士不仅授官从优，而且升迁迅速。科举制度的发展，对宋朝社会产生了深远影响，在全国范围营造了浓厚的读书风气，也促进整个社会文化素养的提高，造就了宋初科技发达、文化昌盛、人才辈出的文治局面。因此，北宋的政治特点是重文轻武，C项正确；藩镇割据是五代十国的政治特点，排除A项；题意中未体现宦官专权，排除B项；外戚干政也未体现在题意之中，排除D项。故选C项。

9. 中国古代文学艺术精彩纷呈，下列组合搭配正确的是（ ）

- A. 《兰亭集序》——柳公权
B. 《窦娥冤》——关汉卿
C. 《史记》——司马光
D. 《红楼梦》——罗贯中

【答案】B

【解析】

【详解】根据所学知识，元曲《窦娥冤》是关汉卿的作品，B项正确；《兰亭集序》的作者是王羲之，排除A项；《史记》的作者是司马迁，排除C项；《红楼梦》的作者是曹雪芹，排除D项。故选B项。

10. 学习历史要学会区分历史史实和历史结论。下列属于历史结论的是（ ）

- A. 鸦片战争是中国近代史的开端
B. 太平天国运动颁布了《天朝田亩制度》
C. 第二次鸦片战争中英法联军火烧圆明园
D. 《辛丑条约》规定清政府赔款白银4.5亿两

【答案】A

【解析】

【详解】根据所学知识，历史结论是对历史史实的定性，鸦片战争是中国近代史的开端属于对史实的定性，A项正确；太平天国运动颁布了《天朝田亩制度》是历史史实，排除B项；第二次鸦片战争中英法联军火烧圆明园是历史史实，排除C项；《辛丑条约》规定清政府赔款白银4.5亿两属于历史史实，排除D项。故选A项。

11. 1905年8月，孙中山在日本东京成立的第一个全国规模的、统一的资产阶级革命政党是

- A. 兴中会
B. 光复会
C. 华兴会
D. 中国同盟会

【答案】D

【解析】

【详解】为了加重革命力量，建立统一的革命组织，1905年8月，孙中山联合兴中会、华兴会和光复会等革命团体的成员，在日本东京成立了中国同盟会，D项正确；综上所述可知孙中山在日本东京成立的资产阶级革命政党是同盟会，兴中会、光复会和华兴会都是资产阶级革命团体，不是政党，排除ABC项。故选D项。

12. 小茗同学观看纪录片《激荡年代：誓师北伐》，从中了解到孙中山曾经创办一所学校，培养出大批军事和政治人才。这所学校是（ ）

- A. 京师同文馆
B. 福州船政学堂
C. 京师大学堂
D. 黄埔军校

【答案】D

【解析】

【详解】根据所学知识，孙中山创办的黄埔军校，培养出大批军事和政治人才，D项正确；京师同文馆是洋务运动时期创办的学校，排除A项；福州船政学堂也是洋务运动时期创办的学堂，排除B项；京师大学

堂是戊戌变法时期创办的学堂，排除 C 项。故选 D 项。

13. 长征途中，在极其危急的情况下，挽救了党，挽救了红军，挽救了中国革命的会议是（ ）

- A. 八七会议 B. 古田会议 C. 遵义会议 D. 中共七大

【答案】 C

【解析】

【详解】根据所学知识可知，长征途中，在极其危急的情况下，挽救了党，挽救了红军，挽救了中国革命的会议是遵义会议，C 项正确；八七会议召开于长征之前，排除 A 项；古田会议召开于遵义会议之后，确立思想建党、政治建军原则，排除 B 项；中国七大召开于 1945 年长征已经结束，排除 D 项。故选 C 项。

14. 1937 年 7 月 7 日，七七事变爆发，该事变标志着（ ）

- A. 国共两党第一次合作正式建立 B. 世界反法西斯战争揭开了序幕
C. 抗日民族统一战线初步形成 D. 中国全民族抗战开始

【答案】 D

【解析】

【详解】根据所学知识，七七事变爆发，标志着中国全民族抗战开始，D 项正确；国民党一大的召开标志着国共两党第一次合作正式建立，排除 A 项；九一八事变标志世界反法西斯战争揭开了序幕，排除 B 项；西安事变的和平解决标志抗日民族统一战线初步形成，排除 C 项。故选 D 项。

15. 在解放战争战略决战阶段，解放东北全境的战役是（ ）

- A. 辽沈战役 B. 淮海战役 C. 平津战役 D. 渡江战役

【答案】 A

【解析】

【详解】根据所学知识可知解放东北全境的战役是辽沈战役，A 项正确；淮海战役解放的是长江中下游以北广大地区，排除 B 项；平津战役解放的是华北全境，排除 C 项；渡江战役解放的是长江中下游地区，排除 D 项。故选 A 项

16. 报纸因其报道及时，覆盖面广，深刻影响着人们的日常生活，近代中国存在时间最长的中文报纸是（ ）

- A. 《大公报》 B. 《申报》 C. 《民报》 D. 《国闻报》

【答案】 B

【解析】

【详解】根据题干材料“报纸因其报道及时，覆盖面广，深刻影响着人们的日常生活，近代中国存在时间最长的中文报纸。”可知，近代中国存在时间最长的中文报纸是《申报》。鸦片战争后，外国人在上海等城市创办了外文报纸，后来中文报纸也出现了，其中最著名的是 1872 年在上海创办的《申报》，它是中国近代

第一份商业性报纸。它刊载新闻、评论、广告等内容。报纸成为人们获取信息和了解社会的主要传媒工具，B项正确；《大公报》宣传变法维新、君主立宪，反对封建专制、黑暗吏治和外来侵略，排除A项；《民报》是同盟会的机关刊物，排除C项；《国闻报》是维新派的重要宣传工具，排除D项。故选B项。

17. 彻底摧毁了我国存在两千多年的封建土地制度的是

- A. 土地改革运动
- B. 农业合作化运动
- C. 人民公社化运动
- D. 家庭联产承包责任制

【答案】A

【解析】

【详解】土地改革摧毁了我国存在两千多年的封建土地制度。故选A。

18. 中美关系是当今世界上最重要的双边关系之一。两国关系开始走向正常化的标志是（ ）

- A. 恢复中华人民共和国在联合国的一切合法权利
- B. 基辛格秘密访问中国
- C. 尼克松访华，中美双方正式签署并发表《联合公报》
- D. 中美正式建立外交关系

【答案】C

【解析】

【详解】根据所学知识，尼克松访华，中美双方正式签署并发表《联合公报》标志着两国关系开始走向正常化，C项正确；恢复联合国合法席位是在中美关系走向正常化之前，排除A项；基辛格秘密访问中国是尼克松访华的前奏，排除B项；中美正式建交的发生在中美关系正常化以后，排除D项。故选C项。

19. 迄今已知世界上第一部较为完整的成文法典是（ ）

- A. 《汉谟拉比法典》
- B. 《十二铜表法》
- C. 《查士丁尼法典》
- D. 1787年美国宪法

【答案】A

【解析】

【详解】据所学知识可知，《汉谟拉比法典》是迄今已知世界上第一部较为完整的成文法典，A项正确；《十二铜表法》是最早的罗马法文献，排除B项；《查士丁尼法典》是世界上第一部完备的奴隶制成文法，排除C项；1787年美国宪法是世界上第一部资产阶级成文宪法，排除D项。故选A项。

20. 世界名画《蒙娜丽莎》以现实人物为主题，人物形象神态自若，嘴角含着一丝微笑，富有生命的活力。

它的作者是（ ）

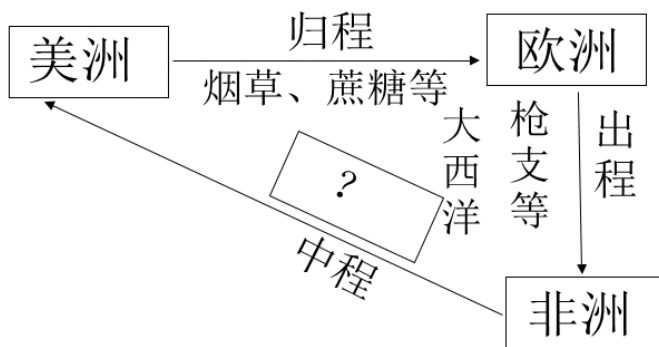
- A. 但丁
- B. 拉斐尔
- C. 莎士比亚
- D. 达·芬奇

【答案】D

【解析】

【详解】根据“世界名画《蒙娜丽莎》以现实人物为主题，人物形象神态自若，嘴角含着一丝微笑，富有生命的活力。”可知，从意大利开始的文艺复兴运动，持续了近三百年。它使人们开始认识到，必须打破中世纪以来的封建统治和教会神学对人们的思想束缚，强调和发挥人在这个世界上的作用，倡导人文主义精神。达·芬奇是意大利著名的画家，他在艺术上的杰作是《最后的晚餐》和《蒙娜丽莎》两幅绘画作品，D项正确；但丁是文艺复兴时期的诗人，主要作品是《神曲》，排除A项；拉斐尔的代表作品有《西斯廷圣母》《雅典学派》，排除B项；莎士比亚是英国文艺复兴时期剧作家，四大悲剧（《哈姆雷特》《奥赛罗》《李尔王》《麦克白》）、四大喜剧（《仲夏夜之梦》《威尼斯商人》《第十二夜》《皆大欢喜》），排除C项。故选D项。

21. 三角贸易是欧洲殖民国家进行资本原始积累的方式之一，下图方框中应填入的内容是（ ）



- A. 酒 B. 黄金 C. 黑人奴隶 D. 机械制品

【答案】C

【解析】

【详解】根据题意和所学知识可知，三角贸易从非洲运往美洲的是黑人奴隶，C项正确；酒是欧洲运往非洲的物品，排除A项；黄金是美洲运往欧洲的物品，排除B项；机械制品是欧洲运往非洲的物品，排除D项。故选C项。

22. 下列战役按照时间先后顺序排列，正确的是（ ）

- ① 凡尔登战役 ② 莫斯科保卫战 ③ 斯大林格勒战役 ④ 诺曼底登陆

- A. ①②③④ B. ②①④③ C. ③②④① D. ④②①③

【答案】A

【解析】

【详解】根据所学知识可知，①凡尔登战役发生在1916年；②莫斯科保卫战发生在1941年6月；③斯大林格勒战役发生在1942年7月——1943年2月；④诺曼底登陆战役发生在1944年6月6日。故正确的顺序为①②③④，A项正确；而BCD项排序错误，排除BCD项。故选A项。

23. 第二次世界大战后，欧洲、美国、日本发展的共同原因是（ ）

- A. 马歇尔计划的援助 B. 推行非军事化和民主化改革

C. 凭借原有的工业基础

D. 重视科技发展

【答案】D

【解析】

【详解】根据题干材料“第二次世界大战后，欧洲、美国、日本发展的共同原因。”可知，第二次世界大战后，美国、西欧和日本都积极利用先进的科技成果发展新兴产业，促进了经济发展；政府有效的经济政策促进了经济发展，故共同的原因是欧洲、美国、日三国都重视科技发展，D项正确；美国的马歇尔计划促进了西欧的经济发展，排除A项；推行非军事化和民主化改革促进了日本经济发展，排除B项；凭借原有的工业基础是西欧发展的原因，排除C项。故选D项。

24. 二十世纪中期以后，非洲民族独立运动蓬勃发展。标志着所有非洲国家都摆脱了殖民主义枷锁的是（ ）

A. 埃及独立

B. 纳米比亚独立

C. 非洲 17 个国家独立

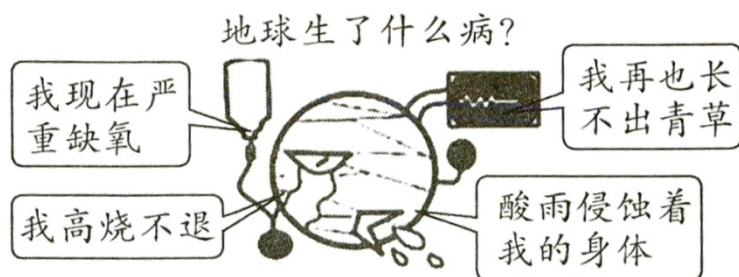
D. 利比亚独立

【答案】B

【解析】

【详解】根据所学知识，1991年纳米比亚独立标志着所有非洲国家都摆脱了殖民主义枷锁，B项正确；埃及独立于1922年不属于二十世纪中期以后，排除A项；1960年非洲17个国家独立，被称为非洲年，排除C项；利比亚独立于1951年，此时还有很多非洲国家尚未独立，排除D项。故选B项。

25. 下图反映出人类发展进程中面临的问题是（ ）



A. 人口增长过快

B. 粮食短缺

C. 环境恶化

D. 贫富分化加剧

【答案】C

【解析】

【详解】根据图片信息“我现在严重缺氧、我高烧不断、我再也长不出青草、酸雨侵蚀着我的身体。”可知，由于人类大量使用矿物质燃料，破坏了自然环境，导致环境恶化，C项正确；题干主要强调环境恶化，未涉及人口增长过快，排除A项；题干主要强调环境恶化，未体现粮食短缺，排除B项；题干主要强调环境恶化，未阐释贫富分化加剧，排除D项。故选C项。

二、史海图苑（本题共 8 分）

26. 小钱币，大历史。货币是商品交换和经济发展的产物，从古至今在社会发展和人们的经济生活中起着重要作用。请观察图片，回答下列问题。



图一

图二交子铜版拓片

图三 第四套人民币 1 元纸币

图四 1 美元纸币

- (1) 图一反映的是秦始皇巩固统一的哪项措施？
- (2) 图二货币出现在我国哪个朝代？请写出这种货币的历史地位。
- (3) 图三货币正面图案是瑶族、侗族的人物头像，彰显了国家对少数民族的重视。我国在少数民族聚居的地方实行的基本政治制度是什么？
- (4) 图三货币背面图案是长城，请写出明长城由东至西的起止点。
- (5) 图四货币上面的人物是美国的建国之父，请写出他的名字。他领导哪场战争取得胜利，使北美大陆 13 块殖民地摆脱了英国的殖民统治？

【答案】 (1) 统一货币或以秦国的圆形方孔半两钱作为标准货币或统一使用圆形方孔半两钱（答出一点

即可)

- (2) 北宋；世界上最早的纸币
- (3) 民族区域自治制度或民族区域自治
- (4) 东：鸭绿江边或鸭绿江；西：嘉峪关
- (5) 华盛顿：独立战争或美国独立战争

【解析】

【小问 1 详解】

货币：根据所学知识可知，图一反映的是秦始皇统一全国后，在全国统一使用圆形方孔半两钱；统一货币促进了各地经济文化的交流。

【小问 2 详解】

纸币：根据所学知识可知，图片二中 货币叫交子，北宋前期，四川地区出现“交子”，这是世界上最早的纸币。交子的出现，说明了商品经济的繁荣。

【小问 3 详解】

制度：根据所学知识可知，图三货币正面图案是瑶族、侗族的人物头像，彰显了国家对少数民族的重视。我国在少数民族聚居的地方实行的基本政治制度是民族区域自治制度。

【小问 4 详解】

明长城：根据所学知识可知，明朝建立以后，为了防御北方蒙古贵族南扰，先后 18 次修筑长城，形成了东起鸭绿江边、西至嘉峪关，总长万余里的明长城。长城已被列入世界遗产名录。

【小问 5 详解】

人物：根据所学知识可知，图四货币上面的人物是美国的建国之父：华盛顿。他领导独立战争取得胜利，北美大陆 13 块殖民地摆脱了英国的殖民统治。

三、史海搜索（本题共 9 分）

27. 制度的创新与完善推动社会进步、请结合所学知识，回答下列问题。

- (1) 西周初年确立什么制度稳定了政局，扩大了统治范围？
- (2) 隋朝创立的什么制度是中国古代选官制度的一大变革？
- (3) 唐太宗在政治上进一步完善什么制度，明确了中央机构的职权及决策程序？
- (4) 1992 年，邓小平南方谈话为我国发展经济提供了新思路、新方法。同年，中共十四大明确提出我国经济体制改革的目标是什么？
- (5) 雅典奴隶制民主政治在谁主政时期发展到高峰？当时雅典最高权力机构是什么？
- (6) 11 世纪，西欧已经普遍存在的封建制度是以什么为纽带形成的？1689 年英国议会通过哪部法律文件，

确立了议会权力高于王权的原则？哪一政体在英国逐渐形成？

【答案】 (1) 分封制 (2) 科举制

(3) 三省六部制 (4) 建立社会主义市场经济体制或社会主义市场经济体制

(5) 伯里克利；公民大会

(6) 土地的封赐；《权利法案》；君主立宪制

【解析】

【小问 1 详解】

西周初年确立了分封制稳定了政局，扩大了统治范围。

【小问 2 详解】

隋朝创立的科举制是中国古代选官制度的一大变革。

【小问 3 详解】

唐太宗在政治上进一步完善三省六部制，明确了中央机构的职权及决策程序。

【小问 4 详解】

1992 年，邓小平南方谈话为我国发展经济提供了新思路、新方法。同年，中共十四大明确提出我国经济体制改革的目标是建立社会主义市场经济体制或社会主义市场经济体制。

【小问 5 详解】

雅典奴隶制民主政治在伯里克利主政时期发展到高峰，公民大会是当时雅典最高权力机构。

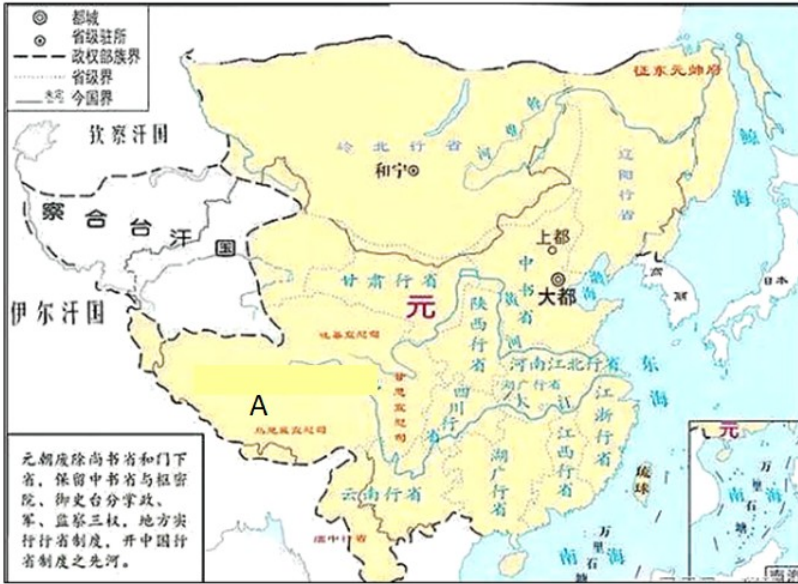
【小问 6 详解】

11 世纪，西欧已经普遍存在的封建制度是以土地的封赐为纽带形成的，1689 年英国议会通过《权利法案》确立了议会权力高于王权的原则，君主立宪制政体在英国逐渐形成。

四、史海纵横（本题共 19 分）

28. 国家统一是古今中外历史发展的主流。请阅读材料，回答下列问题。

材料一：



图一 元朝形势图1330年



图二 清朝疆域图1820年

材料二：我们提出的大陆与台湾统一的方式是合情合理的。统一后，台湾仍搞它的资本主义，大陆搞社会主义，但是是一个统一的中国。

——摘自邓小平《稳定世界局势的新办法》

材料三：一幢裂开的房子是站立不住的。我相信这个政府不能永远维持半奴隶和半自由的状态。我不期望联邦解散，我不期望房子崩塌，但我的确希望它停止分裂。

——摘自林肯演讲《裂开的房子》

请回答：

- (1) 材料一中哪幅图片对应的朝代结束了我国历史上较长时间的分裂割据局面，完成了全国统一？
- (2) 材料一中，图一 A 处在元朝由哪一机构直接统辖？清朝为加强对边疆地区的管辖，在图二 B、C 两处分别设置什么机构？
- (3) 材料二体现了邓小平提出的哪一伟大构想？这一构想在哪些地区得以成功实践？（举出一例即可）
- (4) 依据材料三及所学知识，你认为林肯在南北战争中的首要目标是什么？为扭转北方军队在战场上的被动局面，林肯发表了哪部宣言？
- (5) 维护祖国统一是每个公民应尽的义务，作为中学生你能为此做些什么？

【答案】 (1) 图一 (2) A：宣政院；B：台湾府或台湾省或台湾行省（答出一点即可）；C：伊犁将军
(3) 一国两制；香港或澳门
(4) 维护国家统一或防止国家分裂；《解放黑人奴隶宣言》
(5) 坚决维护国家统一或反对一切分裂祖国的言行或拥护《反分裂国家法》或坚持一个中国的原则或树立维护祖国统一的意识或努力学习，将来建设强大的祖国，为实现祖国统一做贡献等（符合题意，意思相近，答出一点即可）

【解析】

【小问 1 详解】

统一：根据所学知识可知，1271 年，忽必烈改国号为元，次年定都于大都。元朝结束了中国历史上较长时间的分裂割据局面，为统一多民族国家的进一步发展奠定了基础。故答案为：图一。

【小问 2 详解】

A 处机构：根据所学知识可知，A 处为西藏。元朝时期在中央设立宣政院，负责掌管全国佛教事宜并统辖吐蕃（今西藏）地区的军政事务。所以，元朝在中央专设宣政院，说明西藏成为元朝正式的行政区。

B 处机构：根据所学知识可知，B 处为台湾。1683 年，清军进攻台湾。1684 年，清朝设置台湾府，隶属于福建省，加强了台湾同祖国内地的联系。1885 年台湾正式建省，成为中国的一个行省。

C 处机构：根据所学知识可知，C 处为新疆。乾隆帝时，1757 年维吾尔族回部上层贵族大和卓与小和卓发动叛乱，乾隆帝下令调兵讨伐，在维吾尔等族人民的支持下，清军经过两年战斗，平定了大、小和卓分裂祖国的叛乱。乾隆帝平定了大、小和卓的叛乱后，设置了伊犁将军，管辖包括巴尔喀什湖在内的整个新疆地区，巩固了我国的西北边疆，维护了国家的统一。

【小问3详解】

构想：根据题干材料“我们提出 大陆与台湾统一的方式是合情合理的。统一后，台湾仍搞它的资本主义，大陆搞社会主义，但是是一个统一的中国。”可知，材料二体现了邓小平提出的一国两制的伟大构想。
地区：根据所学知识可知，一国两制的伟大构想最先在香港、澳门得以成功实践。

【小问4详解】

目标：根据题干材料“一幢裂开的房子是站立不住的。我相信这个政府不能永远维持半奴隶和半自由的状态。我不期望联邦解散，我不期望房子崩塌，但我的确希望它停止分裂。”可知，林肯在南北战争中的首要目标是维护国家统一。

宣言：根据所学知识可知，为扭转北方军队在战场上的被动局面，林肯发表了《解放黑人奴隶宣言》。

【小问5详解】

启示：根据上述材料，维护祖国统一是每个公民应尽的义务，作为中学生我们应该：坚决维护国家统一或反对一切分裂祖国的言行或拥护《反分裂国家法》或坚持一个中国的原则或树立维护祖国统一的意识或努力学习，将来建设强大的祖国，为实现祖国统一作贡献等。

29. 古人云：穷则变，变则通，通则久。请阅读材料，回答下列问题。

材料一：夫欲自强必先裕饷，欲浚（疏通）饷源莫如振兴商务。商船能往外洋，俾外洋损一分之利，即中国益一分之利，微臣创设招商局之初意，本是如此。

——摘自李鸿章《议复梅启照条陈折》

材料二：从今以后，只要不发生大规模的外敌入侵，现代化建设就是全党的中心工作、其他工作包括党的政治工作，都是围绕着这个中心工作，并为这个中心工作服务的；不能再搞任何离开这个中心工作，损害现代化建设的“政治运动”和“阶级斗争”了。

——摘自《把全党工作的着重点转移到现代化建设上来》

材料三：

<p>根据本法令和一般法律，脱离了农奴依附身份的农民和家务农奴可以享有自由农村居民身份的各项权利，包括人身的和财产的权利…</p> <p>…</p> <p>——摘自《关于脱离了农奴依附身份的农民的总法令》</p>	<p>“农民使用这块份地，必须替地主完成‘法令’中规定的义务”……“在两年期满之前，农民和家仆要和从前一样替地主服役，并且毫无怨言地完成自己从前的义务。”</p> <p>——摘编自岳麓版高中历史（选修）《历史上重大改革回眸》</p>
--	--

材料四：由政府调节工业生产中的问题，各个工业企业制订本行业的公平经营规章，规章确定各企业

的生产规模、产品价格、销售市场的分配……凡是接受法规的企业，一律发给印有“我们尽我们的职责”的蓝鹰标志

——摘自 1933 年《全国工业复兴法》

请回答：

(1) 材料一反映的历史事件是什么？这一事件促进了中国民族资本主义的产生和发展，在这个过程中主张“实业救国”的状元实业家是谁？同时期，中国已开始主动吸收西方第一、二次工业革命的成果，请列举出这两次工业革命中交通领域取得的成就。（举出一例即可）

(2) 材料二反映的是哪次会议的内容？这次会议作出的历史性决策是什么？2001 年，我国正式加入哪个重要国际组织，为参与经济全球化开辟了新途径？

(3) 依据材料三及所学知识，分析 1861 年农奴制改革的影响，并在正确选项后的括号里画正确。

- ① 开启了俄国近代化的进程（ ）
- ② 废除农奴制，推动俄国走上了发展资本主义的道路（ ）
- ③ 建立中央集权的行政体制，进一步加强了沙皇的专制权力（ ）
- ④ 使农奴制进一步强化，成为俄国社会发展的障碍（ ）
- ⑤ 农奴制的残余仍然存在，影响着俄国经济与社会的发展（ ）

(4) 材料四是美国哪次改革的措施？依据材料概括此次改革用什么手段扭转国家经济形势？

【答案】 (1) 洋务运动；张謇；蒸汽机车或火车或轮船或汽船或汽车或飞机（答出一点即可）

(2) 中共十一届三中全会或十一届三中全会；把党和国家 工作中心转移到经济建设上来，实行改革开放或改革开放或把党和国家的工作中心转移到经济建设上来（答出一点即可）；世界贸易组织或世贸组织或 WTO（答出一点即可）

(3) ②（正确） ⑤（正确）

(4) 罗斯福新政或新政；国家干预手段或国家干预或国家干预经济（答出一点即可）

【解析】

【小问 1 详解】

历史事件：根据材料“夫欲自强必先裕饷，欲浚（疏通）饷源莫如振兴商务。商船能往外洋，俾外洋损一分之利，即中国益一分之利，微臣创设招商局之初意，本是如此”可知材料一反映的历史事件是洋务运动。

实业家：根据所学知识可知，状元实业家 张謇。

成就：根据所学知识可知，中国已开始主动吸收西方第一、二次工业革命交通领域的成果有：蒸汽机车、火车、轮船、汽船、汽车、飞机。

【小问 2 详解】

会议：根据材料“现代化建设就是全党的中心工作、其他工作包括党的政治工作，都是围绕着这个中心工作”可知，这次会议是十一届三中全会。

决策：根据所学知识可知，十一届三中全会上做出的历史性决策是改革开放。

组织：根据所学知识可知，2001年我国加入世界贸易组织，为参与经济全球化开辟了新途径。

【小问3详解】

根据所学知识可知，①彼得一世的改革，开启了俄国近代化的进程；1861年农奴制改革废除农奴制，推动俄国走上了发展资本主义的道路；彼得一世的改革建立中央集权的行政体制，进一步加强了沙皇的专制权力；彼得一世的改革使农奴制进一步强化，成为俄国社会发展的障碍；1861年农奴制改革使农奴制的残余仍然存在，影响着俄国经济与社会的发展。故②（正确）⑤（正确）其他错误。

【小问4详解】

措施：根据材料“由政府调节工业生产中的问题，各个工业企业制订本行业的公平经营规章，规章确定各企业的生产规模、产品价格、销售市场的分配……凡是接受法规的企业，一律发给印有“我们尽我们的职责”的蓝鹰标志”可知这是美国的罗斯福新政。手段：根据所学知识，罗斯福新政用国家干预手段扭转了国家的经济形式。

五、史海探究（本题共14分）

30. 2023年是全面落实党的二十大精神开局之年，也是我们重装上阵，蓄势待发之年，某学校九年级同学以“回眸强国史诗，赓续精神血脉”为主题进行了一次探究活动，请你与他们一同完成下列问题。

【思想之光】在人类历史上，思想理论犹如一盏明灯，它的光芒会照耀人类前进的方向。

材料一：要拥护那德先生（即 democracy），便不得不反对孔教、礼法、贞节、旧伦理、旧政治。要拥护那赛先生（即 science），便不得不反对旧艺术、旧宗教；要拥护德先生又要拥护赛先生，便不得不反对国粹和旧文学……我们现在认定，只有这两位先生可以救治中国政治上，道德上、学术上、思想上一切的黑暗。

——陈独秀

（1）材料一体现的是中国近代哪一思想解放运动的内容？材料中的“德先生”“赛先生”指这一运动所标举的哪两大口号？

材料二：回望当年，在帝国主义、反动军阀的统治下，几十个手无寸铁的青年知识分子刚接触马克思主义，从中又选出十几个代表到上海开会成立一个组织，其前景多数人难以预想，革命胜利的实践证明，坚定信仰、义无反顾沿着革命道路奋勇前行的人，最终会微笑着将信仰变成现实。

——摘自袁绍萍《“开天辟地”的一代》

（2）材料二中“马克思主义”诞生的标志是什么？“十几个代表到上海开会”指的是哪次会议的召开？

材料三：北京天安门已经成为中国的一个象征，在中国近现代历史上，它是一个特殊的见证者，曾在1919年见证了中国人民的觉醒，在1949年的秋天迎来了一个崭新的共和国。为了这一天的到来，一代代中华儿女前赴后继，历经无数艰难坎坷，他们的业绩将永远载入中华民族伟大复兴的史册，

——摘自《复兴之路》解说词

(3) 中国的新民主主义革命可以说是经历了从天安门到天安门的历程。请结合材料三谈谈你对这句话的理解。

【中国力量】从新民主主义革命到社会主义建设，一系列成就展示了中国的力量

(4) 请将下图中①②③④⑤补充完整。

毛泽东开辟__①__道路，中国革命一步步取得胜利。	中国力量	1956年底，__②__基本完成，我国从此进入社会主义初级阶段。
1964年，我国第一颗__③__爆炸成功，打破当时有核大国的核垄断，提高了我国的国际地位。		中国特色大国外交全面推进，例如：中国举办__④__会议，加强了国际合作。
2010年，中国的经济总量已经位居世界第二位。		中共十九大上__⑤__被确立为中国共产党必须长期坚持的指导思想，这一思想实现了马克思主义中国化新的飞跃。

【赓续精神】民族精神是一个民族赖以生存和发展的精神支撑，是激励和推动我们朝着共同目标积极奋进的精神动力。

(5) 同学们在完成以上探究活动后，开始整理活动笔记。请从下面资料库中选取合适的内容，参照左侧示例完成你的活动笔记。（温馨提示：选取示例提供内容不得分）

资料库

精神谱系： “长征精神”“东北抗联精神”“抗美援朝精神”“两弹一星精神”“载人航天精神”	代表人物： 毛泽东、杨靖宇、邱少云、黄继光、邓稼先、钱学森、杨利伟、翟志刚
活动笔记示例 精神：东北抗联精神 代表人物：杨靖宇	活动笔记 精神：_____ 代表人物：_____

精神内涵：英勇奋战，不屈不挠的精神。	精神内涵：_____
--------------------	------------

【答案】 (1) 新文化运动；民主；科学（民主，科学没有顺序要求）

(2) 《共产党宣言》的发表；中国共产党第一次全国代表大会或中共一大

(3) 第一个天安门指五四运动，是旧民主主义革命走向新民主主义革命的转折点；第二个天安门指开国大典或新中国成立，中国真正成为独立自主的国家（答出一点即可）

(4) ①井冈山道路或井冈山或农村包围城市，武装夺取政权（答出一点即可）；②三大改造；③原子弹；④“一带一路”国际合作高峰论坛或亚太经合组织领导人非正式会议或二十国集团领导人峰会（G20峰会）或金砖国家领导人会晤或亚信峰会等（答出一点即可）；⑤习近平新时代中国特色社会主义思想

(5) 第一组：①精神：长征精神；②代表人物：毛泽东；③精神内涵：不怕艰难险阻或勇往直前或战胜一切困难的革命英雄主义或永不言败的革命乐观主义精神等（符合题意，意思相近，答出一点即可）

第二组：①精神：抗美援朝精神；②代表人物：邱少云或黄继光；③精神内涵：爱国主义或革命英雄主义或革命乐观主义或革命忠诚和国际主义精神等（符合题意，意思相近，答出一点即可）

第三组：①精神：两弹一星精神；②代表人物：邓稼先或钱学森；③精神内涵：热爱祖国或热爱科学或甘于奉献或艰苦奋斗或刻苦钻研或精益求精的精神等（符合题意，意思相近，答出一点即可）

第四组：①精神：载人航天精神；②代表人物：杨利伟或翟志刚③精神内涵：严谨治学或勇于探索或攻坚克难或吃苦耐劳或乐于奉献的精神等（符合题意，意思相近，答出一点即可）

【解析】

【小问1详解】

运动：根据题干材料关键词“德先生（即 democracy）、赛先生（即 science）。”可知，材料一体现的是中国近代的新文化运动。1915年，陈独秀、李大钊、胡适和鲁迅等，以《新青年》和北京大学为主要阵地，高举“民主”“科学”两面大旗，掀起新文化运动，向尊孔复古的封建逆流展开猛烈的进攻，从而在社会上掀起了一股生气勃勃的思想解放潮流。

口号：根据所学知识可知，“德先生和赛先生”是新文化运动的口号，“德先生”指的是民主，是指民主思想和民主政治；“赛先生”指的是科学，主要是指近代自然科学法则和科学精神。

【小问2详解】

标志：根据所学知识可知，“马克思主义”诞生的标志是：1848年《共产党宣言》的发表。

会议：根据所学知识可知，“十几个代表到上海开会”指的是中国共产党第一次全国代表大会的召开。

【小问3详解】

理解：根据题干材料“北京天安门已经成为中国的一个象征，在中国近现代历史上，它是一个特殊的见证者，

曾在1919年见证了中国人民的觉醒，在1949年的秋天迎来了一个崭新的共和国。”可知，第一个天安门指1919年5月4日的五四运动，五四运动是旧民主主义革命走向新民主主义革命的转折点；第二个天安门指1949年10月1日的新中国成立，新中国成立使中国真正成为独立自主的国家。

【小问4详解】

- ①：根据所学知识可知，1927年10月毛泽东率部到达井冈山，创建了中国第一个农村革命根据地。毛泽东率领工农革命军在井冈山创造了“工农武装割据”的局面，开辟了农村包围城市，武装夺取政权的革命道路，开启了中国革命走向胜利的光辉征程。故①答案为：农村包围城市、武装夺取政权。
- ②：根据所学知识可知，1956年底，三大改造实现了生产资料私有制向社会主义公有制的转变。社会主义基本制度在我国建立起来，我国从此进入社会主义初级阶段。故②答案为：三大改造。
- ③：根据所学知识可知，为打破帝国主义的核垄断，粉碎其核威胁，维护世界和平，1964年10月16日，在我国西部戈壁，伴随着一声霹雳巨响，巨大的蘑菇云腾空而起，我国第一颗原子弹爆炸成功，它加强了我国的国防力量，也打破了帝国主义的核垄断，大大提高了我国的国际地位，对于维护世界和平具有重要意义。故③答案为：原子弹。
- ④：根据所学知识可知，中国特色大国外交全面推进，例如：中国举办“一带一路”国际合作高峰论坛会议，加强了国际合作。2017年5月14日-15日，“一带一路”国际合作高峰论坛在北京举行。故④答案为：“一带一路”国际合作高峰论坛。
- ⑤：根据所学知识可知，在中共十九大上，习近平新时代中国特色社会主义思想被确立为中国共产党必须长期坚持的指导思想，是马克思主义中国化最新成果，是党和人民实践经验和集体智慧的结晶，是中国特色社会主义理论体系的重要组成部分，是全党全国人民为实现中华民族伟大复兴而奋斗的行动指南。故⑤答案为：习近平新时代中国特色社会主义思想。

【小问5详解】

精神：本题属于开放性题目。需要学生在资料库中选择精神谱系、代表人物，并更好所学知识写出对应的精神内涵。

选择长征精神；代表人物：毛泽东；精神内涵为：不怕艰难险阻或勇往直前或战胜一切困难的革命英雄主义或永不言败的革命乐观主义精神等。

选择抗美援朝精神；代表人物：邱少云或黄继光；精神内涵为：爱国主义或革命英雄主义或革命乐观主义或革命忠诚和国际主义精神等。

选择两弹一星精神；代表人物：邓稼先或钱学森；精神内涵为：热爱祖国或热爱科学或甘于奉献或艰苦奋斗或刻苦钻研或精益求精的精神等。

选择载人航天精神；代表人物：杨利伟或翟志刚；精神内涵为：严谨治学或勇于探索或攻坚克难或吃苦耐

劳或乐于奉献的精神等