

# 广元市 2020 年初中学业水平考试暨高中阶段学校招生考试

## 历史

满分 60 分，考试时间 60 分钟。

### 第 I 卷选择题

#### 一、选择题

1. 推进党风廉政建设，健全纪检监察制度是防止官吏贪污腐化的重要途径。为加强对官员的监察，秦始皇时期设置了

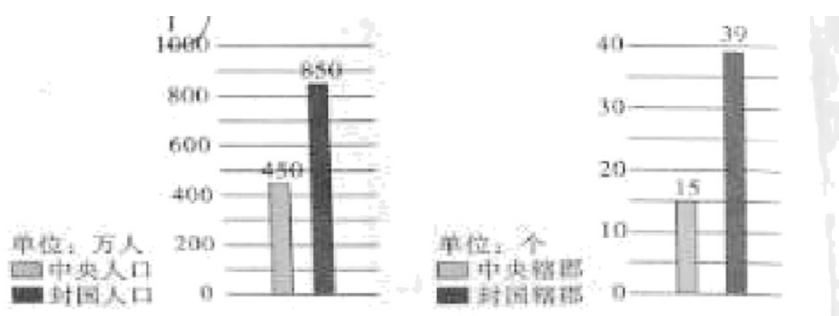
- A. 丞相                      B. 太尉                      C. 御史大夫                      D. 县令

【答案】 C

【解析】

【详解】 依据所学可知，秦朝建立后，创建封建专制主义中央集权制，最高统治者称皇帝，皇帝总揽一切大权，中央政府设置丞相、御史大夫、太尉等官职。其中御史大夫负责监察百官，所以为加强对官员的监察，秦始皇时期设置了御史大夫，C 项符合题意；A 项丞相帮助皇帝处理全国的政事，排除；B 项太尉管理军事，排除；D 项是地方行政长官，排除。故选 C。

2. 如图反映的是“西汉初期中央和封国力量的对比”。读图分析统治者采取什么措施解决了图中反映的社会问题



- A. 罢黜百家，独尊儒术                      B. 休养生息政策  
C. “推恩令”                      D. 把盐铁经营权收归国有、实行盐铁专卖

【答案】 C

【解析】

【详解】 依据“西汉初期中央和封国力量对比”图表分析可知，当时地方势力过大，威胁中央，汉武帝采纳主父偃的推恩建议，颁布推恩令解决地方对中央的威胁。汉武帝下诏规定诸侯王除以嫡长子继承王位外，可将封地再次分封给其子弟作为侯国，由皇帝制定封号。这样，侯国越来越多，诸侯王的封地和势力越来越小，中央对地方的控制大大加强，所以 C 项符合题意；A 项是思想方面的措施，排除；B 项是汉初采取

的政策，排除；D项是经济方面的措施，排除。故选C。

3.2013年，习近平主席提出与有关国家共同建设“丝绸之路经济带”和“21世纪海上丝绸之路”，图“一带一路”的战略。纵观历史，西汉时期也有著名的陆上“丝绸之路”，其起点是

- A 长安                      B. 洛阳                      C. 开封                      D. 临安

【答案】A

【解析】

【详解】依据所学可知，汉武帝两次派张骞出使西域，汉朝和西域的交往日益密切。汉朝时，中国的丝和丝织品从长安出发通过河西走廊，今新疆地区，运往中亚、西亚，再转运到欧洲的大秦（罗马），这条沟通中西交通的陆上要道，就是历史上著名的丝绸之路，因此陆上“丝绸之路”的起点是长安，A项符合题意；综上所述BCD三项均不符合题意，排除。故选A。

4.唐明是中国古代历史上的鼎盛时期，在当时的世界上声名显赫，选出下列与唐朝史实表述正确的一项

- A. 唐太宗把金城公主嫁给了松赞干布  
B. 唐朝是中国历史上诗歌创作的黄金时期，最为著名的文人有李白、杜甫、苏轼等  
C. 在唐朝进口的物产中，日本物产居于首位  
D. 在唐朝与日本的文化交流中，最有影响的人物是鉴真

【答案】D

【解析】

【详解】依据所学可知，在唐朝与日本的文化交流中，最有影响的人物是鉴真。他接受日本僧人的邀请六次东渡日本，直到第六次才成功抵达日本。鉴真在日本传授佛经、中国的医药、文学、书法、建筑、绘画等，为中日文化交流做出了卓越贡献，所以与唐朝史实表述正确的一项是D，D项符合题意；A项唐太宗把文成公主嫁给了松赞干布，排除；B项唐朝是中国历史上诗歌创作的黄金时期，最为著名的文人有李白、杜甫、白居易等，排除；C项在唐朝进口的物产中，新罗物产居于首位，排除。故选D。

5.《资治通鉴》是著名史学家司马光主持编写的一部编年体通史巨著。下列历史人物不可能出现在该著作中的是

- A 秦始皇                      B. 张骞                      C. 毕昇                      D. 唐太宗

【答案】C

【解析】

【详解】依据所学可知，北宋司马光编写的《资治通鉴》是我国第一部编年体通史巨著。这部书按年代顺序，叙述了从战国到五代共1300多年的历史，将近三百卷。全书取材广泛，叙事明晰，文笔生动，对研究古代历史有重要参考价值。而毕昇是北宋人，不可能出现在该著作中，因此C项符合题意；综上所述ABD三项都可能出现在《资治通鉴》中，但不符合题意，排除。故选C。

6.17世纪英国著名的哲学家培根在他的著作《新工具》中写道：“举世皆知的印刷术，火药和磁石，人类的世界因为这三种发明而为之改现。”下列对此解读不准确的是

- A. 三大发明促进了中国社会的转型
- B. 印刷术对人类文明的发展产生了重大的影响
- C. 指南针大大促进了世界远洋航海技术的发展
- D. 火药的发明推动了欧洲社会的变革

【答案】A

【解析】

【详解】依据所学可知，北宋平民毕昇发明了活字印刷术，降低了制书成本，加快了图书的普及和文化的传播，对人类文明的发展产生了重大的影响；北宋时期发明的指南针，在航海交通上普遍使用，大大促进世界远洋航海技术的发展，为郑和下西洋和西欧航海家开辟新航路提供了重要条件；火药的使用，改变了作战方式，促使冷兵器向热兵器转变，推动了欧洲社会的变革。而三大发明并没有促进中国社会的转型，因此解读不准确的是A，A项符合题意；综上所述BCD三项均不符合题意，排除。故选A。

7.有学者评价：“长征简直是将革命划分为‘公元前’和‘公元后’的一条分界线”。请你以长征进程为序，将下面这首顺序颠倒的诗歌恢复原貌

- ① 娄山关前庭战急，遵义城头赤帜竖。
- ② 铁壁合围难突破，暮色苍茫别红都。
- ③ 舵手一易齐桨橹，革命从此上新途。
- ④ 强渡湘江血如注，三军今日在奔何处？

- A. ③①②④
- B. ①③②④
- C. ④①②③
- D. ②④①③

【答案】D

【解析】

【详解】结合所学可知，红军长征是从中央革命根据地瑞金出发，突围西进，开始长征。长征初期经过了千难万险：冲破敌人的四道封锁线，渡过湘江，之后强渡乌江，攻克遵义，在遵义召开了政治局扩大会议，纠正了博古等人在军事上和组织上的错误，确立了以毛泽东为代表的马克思主义的正确路线在中共中央的领导地位，是党的历史上生死攸关的转折点，标志着中国共产党从幼年走向成熟。这首诗正是描写这一段历史，按照长征顺序应该是②④①③：“铁壁合围难突破，暮色苍茫别红都。强渡湘江血如注，三军今日在奔何处？娄山关前庭战急，遵义城头赤帜竖。舵手一易齐桨橹，革命从此上新途。”故选D。

【点睛】要求学生熟知长征路线，了解遵义会议召开背景及意义，善于从诗歌中提取关键信息。

8. 中国共产党历来重视加强党的执政能力建设和军队建设。下列确立了“思想建党，政治建军”的建党建军原则的会议是

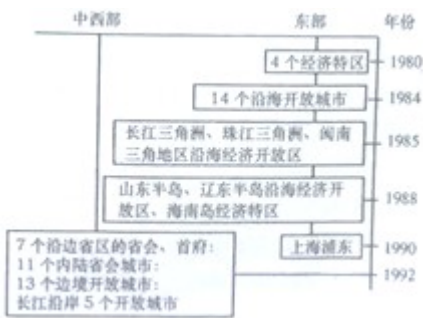
- A. 遵义会议                      B. 中共一大                      C. 八七会议                      D. 古田会议

【答案】 D

【解析】

【详解】依据所学可知，1929年12月，中国工农红军第四军第九次党的代表大会，即古田会议，在福建上杭县古田召开。大会认真总结了南昌起义以来建军建党的经验，确立了人民军队建设的基本原则，核心内容是党指挥枪，重申了党对红军实行绝对领导。确立了“思想建党、政治建军”的建党建军原则，D项符合题意；A项是生死攸关的转折点，排除；B项是标志着中国共产党的诞生，排除；C项通过了土地革命和武装反抗国民党反动统治的总方针，排除。故选D。

9. 阅读下面“中国对外开放示意图”，对此图理解错误的是



- A. 对外开放率先从东南沿海四个经济特区起步  
B. 开放 14 个沿海港口城市意味着我国对外开放的地区逐渐扩大  
C. 开放沿江、内陆省会（首府）城市和沿边城市标志着开放深入内地  
D. 形成经济特区—沿海经济开放区—沿海开放城市—内地 对外开放格局

【答案】 D

【解析】

本题是否定式的选择题。依据课本所学，1980年，我国在广东的深圳、珠海、汕头和福建的厦门建立经济特区；后来，又开放了广州、上海等 14 个沿海城市，增设海南经济特区，设立上海浦东开发区，现已形成经济特区—沿海开放城市—沿海经济开放区—内地，这样一个全方位、多层次、宽领域的对外开放格局 D 项错误，符合题意；中国最早开放的是广东的深圳、珠海、汕头和福建的厦门为四个经济特区，A 项正确，不合题意；从辽宁的大连到广西的北海，沿海 14 个城市开放，对外开放从东南沿海扩大到整个沿海地区，B 正确，不合题意；“长三角、珠三角、闽南三个沿海经济开放区；1988 山东半岛、辽东半岛、海南三

地开放；1990年以后，内陆、边境城市逐步开放”，说明对外开放已经扩大至大部分地区，C正确，不合题意。由此可知ABC三项不合题意，故选择D。

10.今年是脱贫攻坚收官之年。自2012年就任总书记以来，习近平同志高度关注和重视脱贫攻坚工作，多次国内考察，把扶贫开发作为重要内容。以上说明实现中国梦必须


- A. 全面从严治党
- B. 不断为民造福
- C. 全面深化改革
- D. 全面依法治国

【答案】B

【解析】

【详解】依据所学可知，“中国梦”就是要实现国家富强、民族振兴、人民幸福。实现中国梦，就必须走中国道路、弘扬中国精神、凝聚中国力量；中国梦归根结底是人民的梦，必须紧紧依靠人民来实现，必须不断为人民造福。因此据题干“习近平同志高度关注和重视脱贫攻坚工作，多次国内考察，把扶贫开发作为重要内容”可知，实现中国梦必须不断为民造福，B项符合题意；而ACD三项属于“四个全面”战略布局，排除。故选B。

11.15世纪以前，人们并不清楚世界究竟有多大，有多少陆地，有多少海洋。从15世纪开始，欧洲许多冒险家多次进行海外探险。下列哪位航海家与发现新大陆美洲有关



【答案】A

【解析】

【详解】依据图片信息并结合所学可知，1492年，意大利航海家哥伦布从西班牙出发，横渡大西洋，到

达了巴哈马群岛、古巴、海地等地，第一个发现了“西印度群岛”，从而发现了新大陆美洲，所以 A 项符合题意；B 项迪亚士第一个到达了非洲好望角，排除；C 项达·伽马最早到达了亚洲印度，排除；D 项麦哲伦船队最早完成了环球航行，排除。故选 A。

12. 假如你生活在 19 世纪上半期，有可能（ ）

- A. 坐飞机旅行
- B. 坐火车外出
- C. 乘汽车上学
- D. 在电灯下看书

【答案】 B

【解析】

【分析】

【详解】从题干中 19 世纪上半期这个时间可以确定我们选择工业革命中发明的交通工具。飞机是 1903 年莱特兄弟发明试飞成功的，20 世纪初；火车是 1825 年试车成功，是符合 19 世纪上半期；汽车是第二次科技革命的产物，1885 年本茨试制汽车成功；电灯是第二次科技革命的产物，1879 年爱迪生研制成功耐用的电灯泡。故符合此题的是答案 B。

13. 某历史公众号准备推出一期专题——亚非拉国家的新发展，下列可以放进专题资源包的是

- ① 图片：《纳米比亚独立》
- ② 视频：《万隆会议》
- ③ 地图：《巴拿马收回运河主权》
- ④ 论文：《拿破仑帝国的兴衰》

- A. ①②③
- B. ①②④
- C. ①③④
- D. ②③④

【答案】 A

【解析】

【详解】依据所学可知，二战后，世界资本主义殖民体系逐渐崩溃，亚非拉的民族独立浪潮改变着世界面貌。1955 年，万隆会议在印度尼西亚召开，这是第一次没有殖民主义国家参加的亚非国际会议，提高了亚非国家和地区的民族自信。1990 年纳米比亚独立，标志着帝国主义在非洲的殖民体系彻底崩溃，反映了非洲人民的民族解放斗争。1999 年，巴拿马从美国手中收回了巴拿马运河的主权，反映了拉美人民维护国家主权的斗争。因此可以放进专题资源包的是①②③，A 项符合题意；而④《拿破仑帝国的兴衰》中拿破仑帝国属于欧洲国家，与题干亚非拉国家不符，排除。综上所述 BCD 三项均不符合题意，排除。故选 A。

14. 二战后，人类社会的很多方面都发生了很大变化，人们的生活方式也随之改变。请你结合所学知识，选出有误的一项

- A. 20 世纪 90 年代以来，互联网在全球迅速普及，标志着人类社会开始进入“信息时代”
- B. 今天，全世界绝大多数国家和地区的妇女都没有选举权
- C. 随着全球范围内工业化的推进，环境恶化成为严重的问题

D. 人口过快增长带来了巨大的环境压力，世界粮食问题日益凸显

【答案】 B

【解析】

【详解】 依据所学可知，20 世纪六七十年代，随着妇女解放运动的发展，欧美发达国家妇女的独立意识增强。妇女的地位有了明显提高，今天，全世界绝大多数国家和地区的妇女都有了选举权，因此有误的一项是 B，B 项符合题意；综上所述 ACD 三项均表述正确，但不符合题意，排除。故选 B。

15. 世界人民践行“人类命运共同体”理念的主要行动有

① 成立联合国 ② 推行“冷战” ③ 建立 WTO ④ 设立“世界环境日”

A. ①③④                      B. ②③④                      C. ①②③                      D. ①②④

【答案】 A

【解析】

【详解】 依据所学可知，推行“冷战”不属于世界人民践行“人类命运共同体”理念的主要行动，故含有②的 BCD 不合题意；成立联合国、建立 WTO、设立“世界环境日”属于世界人民践行“人类命运共同体”理念的主要行动，故 A 符合题意。故此题选 A。

## 第 II 卷非选择题

### 二、材料解析题

16. 实现中华民族伟大复兴，是中华民族近代以来最伟大的梦想。在实现民族复兴的道路上，中国共产党管领中国人民迈出了步步坚实的步伐。阅读材料，回答问题

【渐露新曙光】

材料一 “革命声传画舫中，诞生共党庆工农，重来正值清明节，烟面迷蒙访旧踪”。

——1964 年 4 月 5 日董必武同志题诗

(1) 诗中的“画舫”所在地是指哪里？

【踏上新征程】

材料二 “改革开放和社会主义现代化建设从这里拉开序幕……社会主义在遭受严重挫折之后开始在这里重新焕发生机。

(2) 材料二中的“这里”是指什么事件？

【形成新道路】

材料三 1982 年，在中共十二大上，邓小平明确提出：“把马克思主义的普遍真理同我国的具体实际结合起来，走自己的路……”

(3) 结合材料，指出中国共产党把马克思主义与中国具体实际相结合，形成适合中国国情的革命和建设道路分别是什么？

【走向新辉煌】

材料四 2015年10月，中共十八届五中全会提出的新发展理念针对的是我国发展中的突出矛盾，回答的是中国当前最为紧迫的现实问题，关系我国发展全局和来来前景。

(4) 请回答材料四中“新发展理念”内容是什么？

**【答案】** (1) 浙江嘉兴南湖游船。

(2) 中共十一届三中全会胜利召开。

(3) 革命道路：农村包围城市，武装夺取政权的革命道路；建设道路：建设有中国特色社会主义道路。

(4) 创新、协调、绿色、开放、共享的新发展理念。

**【解析】**

**【详解】** (1) 依据材料一“革命声传画舫中，诞生共党庆工农，重来正值清明节，烟雨迷蒙访旧踪”并结合所学可知，诗中“画舫”的所在地是指浙江嘉兴南湖游船；1921年7月，中共一大在上海秘密召开，由于叛徒的告密，大会的最后一天改在浙江嘉兴南湖的一艘游船上继续举行。中共一大的召开，宣告了中国共产党的诞生。

(2) 依据材料二“改革开放和社会主义现代化建设从这里拉开序幕……社会主义在遭受严重挫折之后开始在这里重新焕发生机”并结合所学可知，材料二中的“这里”是指中共十一届三中全会胜利召开。1978年12月，中国共产党十一届三中全会在北京召开。全会确立解放思想、实事求是的指导思想，做出把党和国家的工作重心转移到社会主义现代化建设上来和实行改革开放的历史性决策，形成以邓小平为核心的党中央的第二代领导集体。我国从此走上改革开放、建设中国特色社会主义的伟大征程。

(3) 结合所学可知，中国共产党把马克思主义与中国具体实际相结合，形成适合中国国情的革命和建设道路分别是农村包围城市，武装夺取政权的革命道路和建设有中国特色社会主义道路。1927年9月，毛泽东领导的秋收起义在湘赣边界爆发，开始攻占县城，损失严重，放弃攻打长沙的计划，向敌人统治力量薄弱的农村进军，到达井冈山。在那里建立了中国第一个农村革命根据地——井冈山革命根据地，从而开辟了一条具有中国特色的革命道路——以农村包围城市，武装夺取政权的道路。1982年，中共十二大上，邓小平明确提出：我们的现代化建设，必须从中国的实际出发，“把马克思主义的普遍真理同我国的具体实际结合起来，走自己的路，建设有中国特色的社会主义”。

(4) 依据材料四信息并结合所学可知，2015年10月26日至29日，中国共产党第十八届中央委员会第五次全体会议在北京举行。全会听取和讨论了习近平受中央政治局委托作的工作报告，审议通过了《中共中央关于制定国民经济和社会发展第十三个五年规划的建议》，提出创新、协调、绿色、开放、共享的新发展理念。着力提高发展质量和效益，形成平衡发展结构，改善生态环境，实现合作共赢，增进人民福祉。

17. 英、法、美三国通过资产阶级革命确立了资本主义制度，走上资本主义道路。阅读材料。回答问题

材料一 凡未经议会同意，以国王权威停止法律或停止法律实施之僭越权力，为非法权力……除经议

会同意外，平时在本王国内征募或维持常备军，皆属违法……

(1) 对材料中这一现象产生关键影响的法律文献是什么？之后，英国的权力重心发生了怎样的转移？

材料二 人人生而平等，他们都从他们的“造物主”那边被赋予了某些不可转让的权利，其中包括生命权、自由权和追求幸福的权利。

(2) 材料二表述的文献被称为“第一个人权宣言”。它是什么文献？

材料三 人生来是而且始终是自由的，在权利方面是平等的：自由、财产、安全和反抗压迫是天赋而不可剥夺的人权，国家主权属于人民。在法律面前人人平等。

(3) 概括材料三的主要主张。

(4) 依据上述材料并结合所学知识，指出三个国家资产阶级革命的共同作用。并概括世界近代政治文明演进的趋势。

**【答案】** (1) 《权利法案》；英国的权力重心由国王转移到议会。

(2) 《独立宣言》。

(3) 主张：自由、平等；主权在民；人们的权利是不可侵犯的（或：天赋人权）。

(4) 共同作用：都走上了资本主义发展的道路，促进了资本主义的发展。趋势：由专制到民主，由人治到法治。

**【解析】**

**【详解】** (1) 依据材料一“凡未经议会同意，以国王权威停止法律或停止法律实施之僭越权力，为非法权力……”并结合所学可知，对材料中这一现象产生关键影响的法律文献是《权利法案》；1689年，英国议会通过了《权利法案》，对国王权利进行了制约。以《权利法案》为基础，英国确立了议会在国家政治生活中的最高地位，逐渐形成了君主立宪制。从此，分歧可以在议会中协商解决，避免了不必要的暴力和内战。

(2) 依据材料二“人人生而平等，他们都从他们的‘造物主’那边被赋予了某些不可转让的权利，其中包括生命权、自由权和追求幸福的权利”并结合所学可知，材料二表述的文献被称为“第一个人权宣言”，它是《独立宣言》。1776年7月4日，大陆会议通过了由杰斐逊起草的《独立宣言》，宣布人人生而平等，享有生命权、自由权和追求幸福的权利。宣告北美13个殖民地脱离英国而独立，标志着美国的诞生。它是第一个以国家名义明确表述资产阶级政治要求的纲领性文件，被称为“第一个人权宣言”。

(3) 依据材料三“人生来是而且始终是自由的，在权利方面是平等的：自由、财产、安全和反抗压迫是天赋而不可剥夺的人权，国家主权属于人民。在法律面前人人平等”并结合所学可知，材料三出自《人权宣言》。法国大革命中，制宪议会颁布《人权宣言》，宣称人们生来自由，权利平等，私有财产神圣不可侵犯或天赋人权，即主张自由、平等；主权在民；人们的权利是不可侵犯的（或：天赋人权）。

(4) 依据上述材料并结合所学概括可知，三个国家资产阶级革命的共同作用是都走上了资本主义发展的道路，促进了资本主义的发展。世界近代政治文明演进的趋势是由专制到民主，由人治到法治。

18.2020年6月。中国政府派出三军仪仗队到俄罗斯参加庆祝世界反法西斯战争胜利75周年红场阅兵活动。回顾历史，避免战争。争取和平与发展，成为当今全人类的共识。阅读材料，回答问题

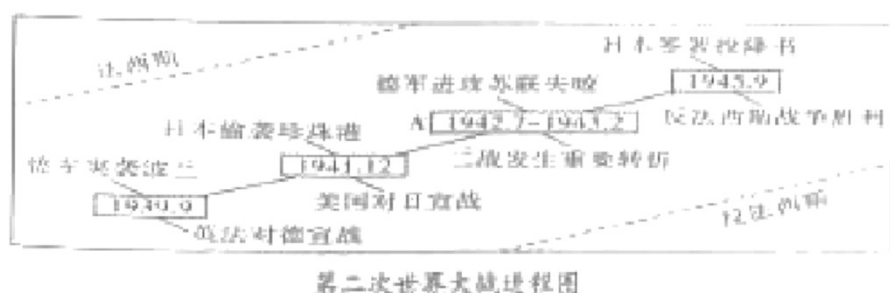
### 【忆战争之害】

材料一 第一次世界大战历时4年多，先后参战的国家共计30多个，约15亿人卷入战争，超过当时世界总人口的一半。据统计，参战各国的伤亡人数超过3000万。

(1) 结合材料一，请说出这场战争的性质是什么？

### 【明战争之程】

材料二



(2) 材料二中图片A处指的是什么重大历史事件？

### 【启战争之思】

(3) 请根据上述材料，说说两次世界大战给我们留下了什么深刻教训？

### 【展未来之望】

材料三 冷战的结束使世界形势发展的总趋势是走向缓和，但仍然存在很多矛盾和冲突。近年来。全球经济出现波折，贸易保护主义阻碍了世界的健康发展。

(4) 根据材料三，回答当今世界发展趋势在政治和经济方面的表现。

(5) 面对当今世界格局发展的趋势，你认为中国应该如何争取有利的国际地位？

【答案】 (1) 性质：一场帝国主义掠夺战争。

(2) 斯大林格勒战役。

(3) 战争是残酷的，给人类带来了巨大的灾难；热爱和平，珍爱和平，和平共处，追求和平；反对战争，反对霸权主义和强权政治；各国应尽量以谈判磋商等和平方式来解决国际争端；致力于建立公正合理的国际新秩序。

(4) 政治发展趋势：朝着多极化方向发展，暂时是“一超多强”。经济发展趋势：经济全球化趋势。

(5) 致力于实现长期、稳定和可持续发展的经济发展，力争在新的世界格局中占据有利地位；提高综合国力；积极参加国际事务；加强国际交往；提高国际地位等。（言之有理即可）

## 【解析】

【详解】（1）依据材料一“第一次世界大战历时 4 年多，先后参战的国家共计 30 多个，约 15 亿人卷入战争，超过当时世界总人口的一半。据统计，参战各国的伤亡人数超过 3000 万”可以看出，一战持续时间长，涉及范围广，牵涉人员多，伤亡大。它是人类历史上一次规模空前的战争，是西方列强为重新瓜分世界、争夺世界霸权而发动的一场帝国主义掠夺战争。

（2）依据材料二示意图信息并结合所学可知，材料二中图片 A 处指的是斯大林格勒战役。从 1942 年 7 月开始，到 1943 年 2 月斯大林格勒会战以苏军的胜利宣告结束，从此，苏军开始了全线反攻。这次战役是第二次世界大战中的关键性战役，极大地消耗了德军的有生力量，斯大林格勒战役不仅是苏德战场根本转折的开始，而且是第二次世界大战的重要转折点。

（3）依据上述材料分析并结合两次世界大战的影响，可以得出的深刻教训是战争是残酷的，给人类带来了巨大的灾难；热爱和平，珍爱和平，和平共处，追求和平；反对战争，反对霸权主义和强权政治；各国应尽量以谈判磋商等和平方式来解决国际争端；致力于建立公正合理的国际新秩序。

（4）结合所学可知，1991 年苏联解体，标志着两极格局的瓦解。两极格局瓦解后，世界正朝着多极化方向发展，欧盟、俄罗斯、中国和日本都是推动世界朝多极化方向发展的重要力量。但新的政治格局尚未形成，暂时是“一超多强”。20 世纪八九十年代，东西方冷战结束，国际形势趋于缓和，和平与发展成为世界的发展趋势，各国经济联系日益密切，世界经济日益成为一个整体，经济全球化趋势加速发展。

（5）依据所学可知，在新的世界格局形成过程中起决定性作用的因素是经济实力，因此，中国要想争取有利的国际地位，就必须致力于实现长期、稳定和可持续发展的经济发展，力争在新的世界格局中占据有利地位；提高综合国力；积极参与国际事务；加强国际交往；提高国际地位等。

## 试卷相关说明

本试卷的题干、答案和解析均由组卷网 (<http://zujian.xkw.com>) 专业教师团队编校出品。登录组卷网可对本试卷进行**单题组卷**、**细目表分析**、**布置作业**、**举一反三**等操作。

试卷地址：[在组卷网浏览本卷](#)

---

组卷网是学科网旗下的在线题库平台，覆盖小初高全学段全学科、超过 900 万精品解析试题。关注组卷网服务号，可使用移动教学助手功能（布置作业、线上考试、加入错题本、错题训练）。



---

学科网长期征集全国最新统考试卷、名校试卷、原创题，赢取丰厚稿酬，欢迎合作。  
钱老师 QQ : 537008204    曹老师 QQ : 713000635