

## 2020年山东省威海市中考历史试卷


一、选择题：本大题共20小题，每小题1.5分，共30分，在每小题列出的四个选项中只有一项是符合题目要求的。

1. 如下图是北京西周燕都遗址博物馆中青铜器克罍（léi）铭文拓片，其大意为：周王对太保说，我非常满意你的供奉，命你的儿子克做燕地的君侯。该铭文拓片可直接用于研究（ ）



- A. 禅让制                      B. 郡县制                      C. 分封制                      D. 世袭制

2. 为了实现“大一统”，汉朝统治者对统治思想进行了选择，如下图漫画反映的是哪位皇帝的做法？（ ）



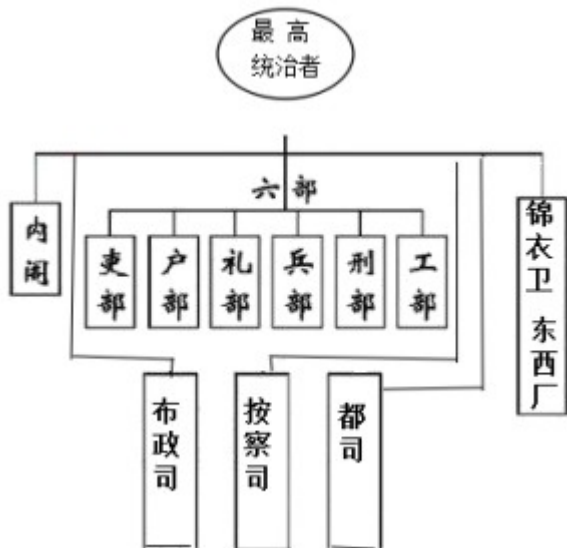
（注：皇上要大力提倡儒家思想）

- A. 汉高祖                      B. 汉文帝                      C. 汉景帝                      D. 汉武帝

3. 中国古代科技灿烂，文化昌盛。下列人物与其成就对应不正确的是（ ）

- A. 屈原 -- 《离骚》                      B. 华佗 -- 《伤寒杂病论》  
C. 毕升 -- 活字印刷术                      D. 关汉卿 -- 《窦娥冤》

4. 明朝统治者改革行政机构。如图体现出明朝政治最突出的特征是（ ）

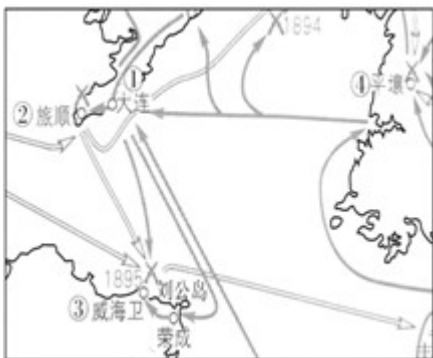


- A. 君权加强                      B. 政权分立                      C. 地方割据                      D. 思想禁锢

5. 在洋务运动第二阶段中，虽然国防工业仍然是主要的着眼点，但也有更多的关注投向了发展一些追求利润的企业，下列各项中属于“追求利润的企业”的是（ ）

- A. 湖北织布局                      B. 福州船政局                      C. 江南制造总局                      D. 京师同文馆

6. 下图是甲午中日战争形势示意图的局部，其中北洋海军全军覆没于（ ）



- A. ①                                      B. ②  
C. ③                                      D. ④

7. 国民政府第九战区司令长官薛岳的秘书写道：“民国二十九年，住在延安窑洞里的毛泽东、朱德，最让人佩服之处，是他们的政治远见，他们知道在需要的时候打一场合适的。”这场“合适的仗”是指（ ）

- A. 平型关大捷                      B. 百团大战                      C. 转战陕北                      D. 挺进大别山

8. 1950年6月，刘少奇指出：“这种情况如果不加以改变，中国人民革命的胜利就不能巩固，农村生产力就不能解放，新中国的工业化就没有实现的可能。”据此，中央人民政府决定（ ）

- A. 开展土地改革运动                      B. 对农业进行社会主义改造  
C. 发动“大跃进”运动                      D. 开展人民公社化运动

9. 如下表反映出我国第一个五年计划的特点是（ ）

时间	成就
1953年	鞍山钢铁公司大型轧钢厂建成投产
1956年	长春第一汽车制造厂生产出第一辆汽车
1956年	中国第一架喷气式飞机试制成功
1956年	沈阳第一机床厂建成投产

- A. 农业、工业协调发展  
B. 工业技术领先世界  
C. 工业门类齐全  
D. 优先发展重工业

10.《威海日报》件报道：40多年来，威海戚东乔村居民养老退休金从600元涨到4000多元，村民感慨地说，我们能过上今天的好日子，感谢改革开放的好政策。“改革开放”是在中国共产党哪次会议上做出的伟大决策？（ ）

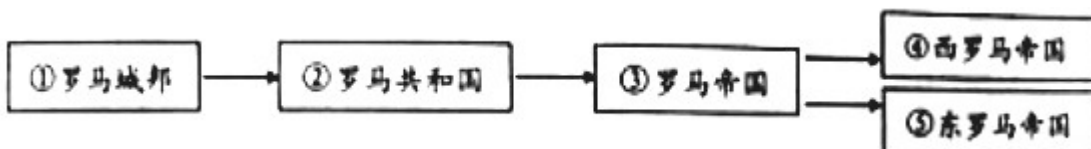
- A. 八大  
B. 十一届三中全会  
C. 十二大  
D. 十五大

11.初三·二班正在举行辩论赛，依据如图双方辩论的观点，判断双方辩论的是哪一历史事件？（ ）

正方：促进了东西方文化的大变汇，  
加强了东西方之间经济的联系。  
反方：具有侵略性质，给东方人民带来巨大灾难，

- A. 希腊城邦兴起  
B. 查理曼帝国建立  
C. 佛教传播  
D. 亚历山大东征

12.古代罗马法律制度比较完备，《十二铜表法》与《查士丁尼法典》分别属于哪一时期 成就？（ ）



- A. ①③  
B. ②③  
C. ②⑤  
D. ④⑤

13.下列对欧洲封建时代的描述，错误的是（ ）

- A. 封臣对封君要忠诚，封君对封臣提供保护  
B. 城市的空气使人自由

C. 大学的兴起是欧洲中世纪教育“最美好的花朵”

D. 人人生而平等

14.丘吉尔曾说：“我宁愿失去一个印度，也不肯失去一个莎士比亚。”莎士比亚作品中的精神内涵提升了英国的人文色彩。下列作品中属于莎士比亚的是（ ）

A. 《神曲》

B. 《蒙娜丽莎》

C. 《安娜·卡列尼娜》

D. 《哈姆雷特》

15.“这些联合的殖民地是而且有权成为自由和独立的国家，它们取消一切对英国王室效忠的义务，它们和大不列颠国家之间的一切政治关系从此完全断绝。”这段话源于哪次革命中颁布的重要文献？（ ）

A. 英国资产阶级革命

B. 美国独立战争

C. 美国内战

D. 俄国十月革命

16.史实是历史事实，史论是对历史事件和历史人物的评论，下列选项中属于史论的是（ ）

A. 1789年，巴黎民众攻占巴士底狱

B. 《人权宣言》宣称：在法律面前，所有公民都是平等的

C. 法国大革命传播了资产阶级自由民主思想

D. 拿破仑主持制定《拿破仑法典》

17.如下图是义务教育教科书《世界历史》第二册第一单元部分目录，由此推断该单元的学习主题是（ ）

第2课	俄国的改革	……	6
第3课	美国内战	……	10
第4课	日本明治维新	……	14

A. 走向近代

B. 资本主义制度的初步确立

C. 资本主义制度的扩展

D. 一战后初期的世界

18.2020年疫情防控网上学习期间，某老师上传了《马克思主义的诞生和国际共产主义运动的兴起》一课的资源包。下列不应该出现在其中的是（ ）

A. 电子书《联合国宣言》

B. 纪录片《巴黎公社》

C. 微视频《共产党宣言》

D. 电影《青年马克思》

19.从1933年罗斯福上任开始，美国出台了《全国工业复兴法》等700多个法令，建立了联邦紧急救济署等十几个委员会和管理局，国家支出350亿美元……这表明美国政府（ ）

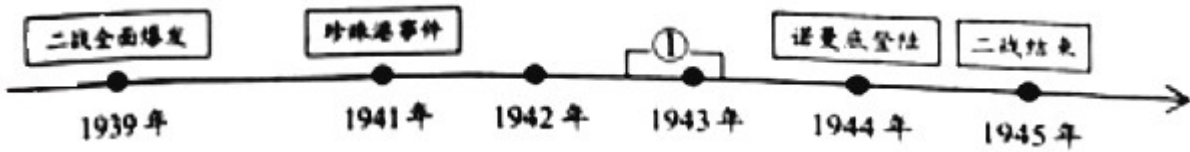
A. 开始加强对经济的干预

B. 缺乏淡定应对危机的精神

C. 固守自由放任的经济政策

D. 彻底解决了社会的根本矛盾

20.为纪念第二次世界大战胜利 75 周年，2020 年 6 月 24 日，俄罗斯在莫斯科红场举行了盛大的阅兵游行。回顾二战进程，示意图①处应该填写（ ）



A. 德国突袭苏联

B. 斯大林格勒保卫战

C. 莫斯科保卫战

D. 雅尔塔会议

## 二、材料解析：本大题共 4 小，第 21、第 22 题、第 23 题、第 24 各 10 分，共 40 分。

21.中国古代封建社会经历了崛起——繁盛——衰落的发展历程。阅读下列材料，回答问题。

材料一：自秦朝起，中国形成了一个以汉族为主体的统一的大国……比起秦以前的封建时代来，显然是进入了新的时代，他和他的统治机构，显然比前一时代的封建国家起着较多的作用。因此，他创建的许多制度，是符合当时社会的需要的。后来延续二千年之久的封建体制，基本上是秦制的逐步演变，秦是一个值得重视的朝代。

——范文澜《中国通史》

(1) 材料一中的“他”是谁？“延续二千年之久的封建体制”指的是什么体制？为什么说自秦朝起中国“进入了新的时代”？

材料二：如下表是初三某同学探究“盛唐气象”学习主题时收集到的资料

序号	史料
①	唐三彩引起很多国家和地区的效仿，出现了奈良三彩、新罗三彩、波斯三彩等。
②	敦煌壁画中……人间的荣华富贵被搬到了天上，天国的富丽堂皇又搬回了人间。
③	商旅野次，无复盗贼，圜圜（监狱）常空，马牛布野，外户不闭。
④	忆昔开元全盛日，小邑犹藏万家室，稻米流脂粟米白，公私仓廩俱丰实。

(2) 请帮助该同学完成下表，在 A、B 处填写史料序号，C 处填写研究角度。

研究角度	唐朝政治安定	唐朝对外开放	唐朝文化辉煌	C
史料序号	A	①	B	④

材料三：清朝对出海贸易的商船装载货物重量有严格的限制，甚至规定只准带铁锅一口，每人只许带

铁斧一把；船上所有人员必须详细登记姓名，年龄、面貌、履历、籍贯等；船只预先规定往返日期，每人每日只许带米两升。

——义务教育教科书《中国历史》

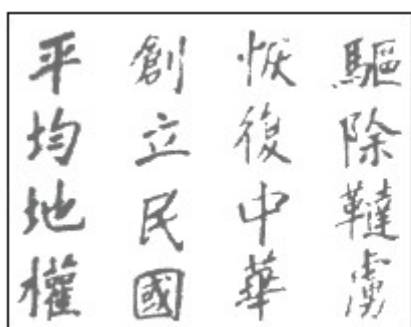
(3) 结合材料三和所学知识，回答这是清朝实施的什么政策，它使中国的世界地位发生了怎样的变化？

这一政策推行近 200 年，被哪场战争所改变，中国开始沦为半殖民地半封建社会？

(4) 综合上述材料并结合所学知识，谈谈你获得的启示。

22. 一个国家拥有伟大的思想，才能拥有不断前行的力量。阅读下列材料，回答问题。

材料一：



图一



图二

(1) 材料一图一为孙中山手书的同盟会纲领，在此纲领指引下，1911 年的中国发生了哪一重大历史事件？

图二中孙中山所题的“世界潮流”指的是什么？

材料二：在进攻长沙受挫后，以毛泽东为书记的前敌委员会当机立断，改变原来的部署，决定到敌人控制比较薄弱的山区去寻求立足地。随后进行著名的三湾改编，将党的支部建立在连上，部队内部实行民主管理。

——《中国共产党简史》

(2) 结合材料二和所学知识，回答“进攻长沙受挫”与哪一次起义有关。毛泽东在“敌人控制比较薄弱的山区”建立的第一个农村革命根据地是什么？

材料三：邓小平同志部分讲话

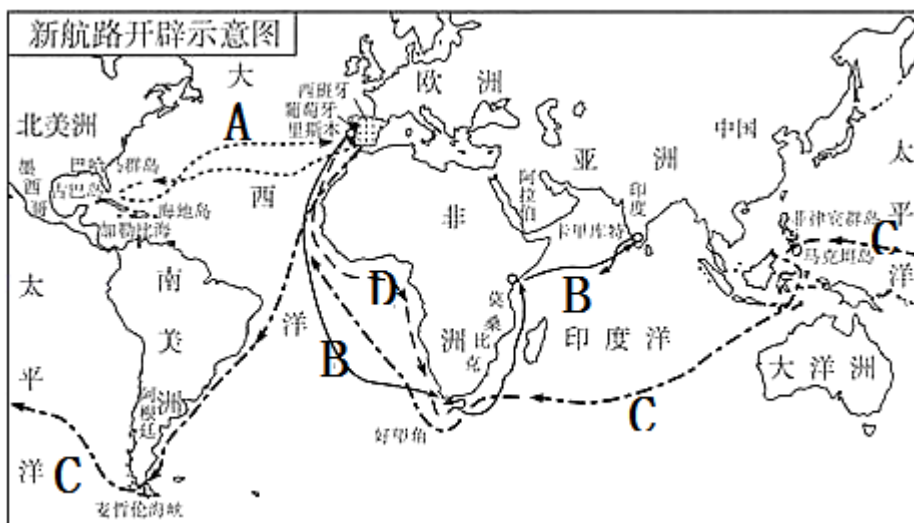
时间	讲话要点
1982 年 9 月	建设有中国特色的社会主义
1984 年 6 月	一个国家，两种制度
1985 年 10 月	社会主义和市场经济不存在根本矛盾
1992 年 1 - 2 月	改革开放胆子要大一些；发展才是硬道理

(3) 结合材料三和所学知识，回答邓小平同志 1984 年 6 月的讲话体现了怎样的科学构想。列举我国践行这一科学构想的成功案例。1992 年 1 - 2 月的讲话具有怎样的历史影响？

(4) 20 世纪以来，在先进思想的指引下，中国在前进的道路上经历了三次历史性巨变。结合上述材料和所学知识，写出三次巨变的指导思想分别是什么。

23.15 世纪以来，国家之间的界限日渐被打破，世界逐步形成一个整体，促进了经济的发展。阅读下列材料，回答问题。

材料一：



(1) 材料一中，A 航线的开辟者是谁？哪一字母代表的航线证明了地圆说的正确？结合所学知识，回答新航路开辟对世界经济的发展有哪些影响。（请举一例）

材料二：



如上图漫画《它究竟能跑多快？》，图中头戴礼帽的神父面带嘲弄问另外两个人：“你们能告诉我，那个吐白烟的机器，所谓 19 世纪最伟大的发明，是靠什么行走的吗？”两人答道：“我们也不知道，车里头也许藏着一匹马。”

(2) 材料二中“吐白烟的机器”设计者是谁？它行走的动力是什么？

材料三：第一次工业革命，许多技术发明来源于工匠的实践经验，科学和技术尚未真正结合；第二次工业革命，自然科学的新发展，开始同工业生产紧密结合，科学发挥更为重要的作用。第一次工业革命重

要的新机器和新生产方法主要在英国，其他国家的发展进程相对缓慢；第二次工业革命几乎同时发生在几个先进的资本主义国家，范围更加广泛。

——摘编自百度百科

(3) 依据材料三，归纳第二次工业革命有哪些特点。

材料四：2020年6月23日、随着北斗三号全球导航系统最后一颗组网卫星发射成功，我国北斗卫星导航系统成为一个完整的卫星网络。如今，世界上已经有半数以上的国家在全球范围内使用，北斗导航系统在工业互联网、物联网、车联网等新兴应用领域得到广泛应用，从而开启数字经济与智慧社会的巨大发展空间。

——摘编自《人民日报·海外版》

(4) 结合材料四和所学知识，列举一例建国以来中国的航天成就。“互联网”的普及标志着人类社会开始进入什么时代？在这个时代下，世界经济的发展呈现怎样的趋势？

24. 国际格局是指在一定的历史时期内，由国家或国家集团所形成的相对稳定的态势。阅读下列材料，回答问题。

材料一：作为巴黎凡尔赛和会的补充和继续，1921年11月12日至1922年2月6日，由美国倡导召开的华盛顿会议，通过了四国条约，五国条约和九国公约，以美国对日本和英国的优势而结束，美、日、英在远东、太平洋地区达成了暂时的妥协，确定了西方列强在远东、太平洋地区的新秩序。

——刘宗绪 黄安年《世界近代现代历史专题30讲》

(1) 结合材料一和所学知识，回答巴黎和会与华盛顿会议确立的国际新秩序是什么。巴黎和会上，中国外交的失败引发了哪一爱国运动？《九国公约》对中国产生了怎样的危害？

材料二：美国利用第二次世界大战其竞争对手被削弱的时机，其资本已渗透到世界的许多国家，加强了在世界的经济地位。美国正在从国外和国内两个方向，集中反动力量对苏联进行包围，美国已成为苏联的对手，美国正运用着资本和军事这两种武器妄图达到称霸世界的目的。

——刘子奎《二十世纪东西方关系》

(2) 材料二反映了美国对苏联实行的什么政策？美国妄图称霸世界的“军事”武器指什么组织？其中“资本”的渗透对西欧国家产生了怎样的影响？

材料三：从1989年东欧剧变与1991年底苏联解体以来，旧的两极格局被打破，世界开始向新的格局过渡。在这样一个新旧交替的转折时期，建立什么样的国际（政治、经济）秩序的问题被突出地提了出来。

——齐世荣、廖学盛《20世纪的历史巨变》

(3) 材料三中世界“新格局”是什么？除美国外，请再举一例推动世界“新格局”形成的力量。

材料四：推动党和国家事业发展需要和平国际环境和良好外部条件，必须统筹国内国际两个大局，高

举和平、发展、合作，共赢旗帜，坚定不移维护国家主权、安全、发展利益、坚定不移维护世界和平，促进共同发展。

——摘自中共十九届四中全会审议通过 若干重要决定

(4) 结合材料四和所学知识，说出中国始终坚持怎样的外交政策。在世界新格局形势下，中国积极推动全球治理变革，贡献了哪些中国智慧、中国方案？（请举一例）

## 试卷相关说明

本试卷的题干、答案和解析均由组卷网 (<http://zujian.xkw.com>) 专业教师团队编校出品。登录组卷网可对本试卷进行**单题组卷**、**细目表分析**、**布置作业**、**举一反三**等操作。

试卷地址：[在组卷网浏览本卷](#)

---

组卷网是学科网旗下的在线题库平台，覆盖小初高全学段全学科、超过 900 万精品解析试题。关注组卷网服务号，可使用移动教学助手功能（布置作业、线上考试、加入错题本、错题训练）。



---

学科网长期征集全国最新统考试卷、名校试卷、原创题，赢取丰厚稿酬，欢迎合作。  
钱老师 QQ : 537008204    曹老师 QQ : 713000635