

2010 全国中考整理选择题部分——中国现代史

1. 【2010 安徽中考】1953-1956 年我国出现右图所示农业经济状况的主要原因是…【】

A. 土地改革运动 B. 农业合作化运动

C. “大跃进”运动 D. 人民公社化运动

2. 【2010 芜湖】工农革命军选择在井冈山建立根据地的有利条件是

① 离大城市较远，敌人统治力量薄弱 ② 地势险要，易守难攻 ③ 附近农产品丰富 ④ 群众基础好 ⑤ 朱德、陈毅率领部队已先期到达

A. ①②③④ B. ①②④⑤ C. ①②③⑤ D. ②③④⑤

3 【2010 芜湖】我国是爱好和平的国家，却依然研制出原子弹，其主要原因是

A. 为新的世界大战作准备

B. 打破帝国主义的核垄断，粉碎其核威胁，维护世界和平

C. 向国外反华势力炫耀我国的军事实力

D. 打击美国对台政策

4. 【2010 芜湖】既是鸦片战争后第一批开放的通商口岸，又是新时期最早对外开放的经济特区的是

A. 广州 B. 深圳 C. 厦门 D. 上海

5、【2010 福州中考】右图是中华人民共和国国庆 60 周年庆典上的镜头，与它相关的历史事件是

A. 三大战役 B. 新中国成立

C. 西藏和平解放 D. 土地改革

6、【2010 福州中考】2009 年，北京故宫博物院向台北故宫举办的“雍正——清世宗文物大展”提供了 37 件（套）文物展品。这体现了海峡两岸的

A. 商贸往来 B. 探亲访友

C. 文化交流 D. 捐资赈灾

7、【2010 福州中考】决定右图中这一伟大决策的会议是

A. 遵义会议

B. 中共十一届三中全会

C. 中共八大

D. 第一届全国人民代表大会

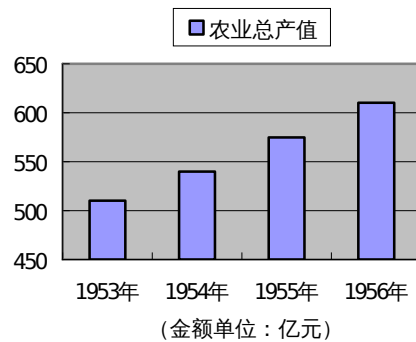


8、【2010 福州中考】邓小平说：“一个十亿人口的大国，教育搞上去了，人才资源的巨大优势是任何国家比不了的。”保障中国“十亿人口”基础教育的是

A. 《中华人民共和国义务教育法》 B. 《劳动和社会保障法》

C. 863 计划

D. 《中华人民共和国民法通则》



9. 【2010 福州中考】2009 年，袁隆平入选“100 位新中国成立以来感动中国人物”的理由是

- A. 研制“两弹一星” B. 揭开“制碱奥秘”
C. 修建“京张铁路” D. 育成“籼型杂交水稻”

9. 【2010 龙岩中考】2009 年 10 月 1 日，举国欢庆中华人民共和国的生日，她已经成立

- A. 50 周年 B. 55 周年 C. 60 周年 D. 65 周年

10. 【2010 龙岩中考】“文化大革命”中最大的一起冤案是

- A. 彭德怀被定为“反革命”
B. 邓小平被诬陷为“四五”运动的总后台
C. 老革命家被污蔑为“二月逆流”
D. 国家主席刘少奇被诬陷和迫害致死

11. 【2010 龙岩中考】标志着我国进入社会主义现代化建设新时期的是

- A. 中共十一届三中全会 B. 中共十三大 C. 中共十四大 D. 中共十五大

12. 【2010 龙岩中考】澳门回归 10 年，经济持续增长，2002 年—2008 年 GDP 年均增长达 20.5%，人均 GDP

达 29.2 万澳门元（约 3.6 万美元），已成为亚洲最富有的地区。这一现象最能说明

- A. 在澳门实行资本主义制度适合我国实际
B. 澳门有强大的经济实力基础
C. 澳门的稳定为世界经济繁荣做出了贡献
D. “一国两制”是澳门稳定繁荣的政治保证

13. 【2010 龙岩中考】和平共处五项原则已经成为国际社会公认的国际关系准则，它不包括

- A. 互不侵犯 B. 平等互利 C. 和平共处 D. 和平与发展

14. 【2010 龙岩中考】党和政府实施“科教兴国”的战略开始于

- A. 20 世纪初 B. 20 世纪 80 年代 C. 20 世纪 90 年代 D. 21 世纪初

15. 【2010 龙岩中考】下列最能说明我国目前城乡人民生活发生显著变化的是

- A. 以大米为主食 B. 肉禽蛋奶得到了充分的保证
C. 牛奶面包代替了稀饭馒头 D. 食品在总消费中的支出比例下降


16. 【2010 东莞中考】1949 年中华人民共和国建立，中国历史从此揭开了新的篇章。对“新篇章”理解不正确的是

A. 标志着中国从此走上社会主义道路 B. 标志着新民主主义革命胜利 C. 标志中国半殖民地半封建时代结束 D. 标志着中国人民成为国家的主人

17. 【2010 东莞中考】右图是中华人民共和国建国后创作的一幅宣传画，从中可以读出的历史信息有

- ① 创作的时间是 1958 年——1960 年间
② 反映了我国人民要求改变经济落后面貌的迫切愿望
③ 可知当时存在浮夸风现象
④ 我国掌握了粮食高产技术

- A. ①②④ B. ①③④
C. ②③④ D. ①②③



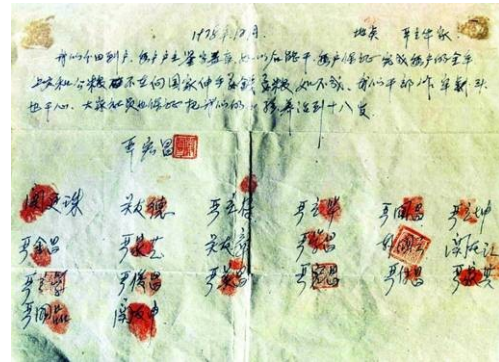
18. 【2010 东莞中考】在“文化大革命”期间，国家主席刘少奇含冤而死，这一事件突出地反映了

- A. 法律面前人人平等 B. 人民群众行使监督权
C. 民主与法制被践踏 D. 党内出现了叛徒内奸
19. 【2010 东莞中考】20 世纪以来的中国发生了三次历史巨变，促进“第三次巨变”的领导人是
A. 孙中山 B. 毛泽东 C. 邓小平 D. 胡锦涛
20. 【2010 东莞中考】十一届三中全会奠定了中国社会最近三十年“不动摇、不懈怠，不折腾”的基调。十一届三中全会确定的指导思想是
A. 多快好省地建设社会主义 B. 解放思想，实事求是
C. “一国两制”的构想 D. 三个代表思想
21. 【2010 东莞中考】从 1985 年起，东莞步和跨越式发展新阶段。这得益于东莞地处
A. 高新技术区 B. 经济开放区 C. 沿海城市 D. 经济特区
22. 【2010 东莞中考】改革开放以来，我国初步建立具有中国特色社会主义法律体系框架。这一框架的核心是
A. 《中华人民共和国宪法》 B. 《中华人民共和国刑法》
C. 《中华人民共和国刑事诉讼法》 D. 《中华人民共和国民法通则》
23. 【2010 东莞中考】邓小平理论是马克思列宁主义同中国实际相结合的又一次历史性飞跃，是当代中国的马克思主义。‘邓小平理论’这个科学称谓首次使用是在
A. 中共七大 B. 中共八大二次会议 C. 中共十五大 D. 中共十七大
24. 【2010 广东中考省题】在第一届全国人民代表大会上，毛泽东说：“这次会议是标志着我国人民从 1949 年建国以来的新胜利和新发展的里程碑……”。这次会议被称为“里程碑”的理由是
A. 通过了《共同纲领》 B. 确立了土地改革的路线
C. 公布了“一五计划” D. 通过了第一部《中华人民共和国宪法》
25. 【2010 广东中考省题】创建于清康熙八年（1669 年）的北京同仁堂是中药行业著名老字号。1954 年同仁堂响应国家号召，顺利实现了公私合营。公私合营出现在
A. 土地改革运动时期 B. 三大改造时期
C. 人民公社化运动时期 D. 文化大革命时期
26. 【2010 广东中考省题】标志着我国打破西方国家核垄断的国防科技成就是
A. 原子弹的成功爆炸 B. 核导弹的成功试验
C. 氢弹的成功爆炸 D. 第一颗人造卫星的成功发射
27. 【2010 广东中考省题】1971 年 11 月，美国《时代》周刊以“The Chinese Are Coming（中国人来了）”作为封面标题，表明新中国将会在未来的国际事务中发挥更大作用。与此相关的历史事件是
A. 中国参加万隆会议 B. 中国恢复在联合国的合法席位
C. 中国提出和平共处五项原则 D. 中美正式建立外交关系
28. 【2010 广东中考省题】“紫荆绽后白莲开，喜事踴踴接踵来。神州大地齐欢庆，一国两制添新彩。”诗中的“喜事”是指
A. 新中国成立 B. 西藏和平解放 C. 香港、澳门回归 D. 祖国统一
29. 【2010 广东中考省题】他“用一粒种子改变了世界”；他有“杂交水稻之父”的美誉。他是
A. 钱学森 B. 侯德榜 C. 袁隆平 D. 邓稼先
30. 【2010 汕头中考】为了有计划地进行社会主义建设，我国政府编制了发展国民经济的第一个五年计划。计划提出要集中主要力量（A）
A. 发展重工业 B. 发展轻工业、农业和商业

C.培养建设人才 D.把生产合作社合并为人民公社

31.【2010 汕头中考】2009 年 12 月 12 日，台湾行政院院长吴敦义说：“两岸关系始终是台湾社会的冲突点，台湾没那个本事搞独立，搞了内部也分裂，外部可能有危机只有不负责任的人才会认为应该搞一个独立国”。与此同时，台独支持者在“立法院”门口前依惯例喊口号，但是没有人和媒体捧场。这说明（D）


- A.两岸统一的障碍基本消除
- B.两岸统一大业已经完成
- C.国民党内部面临分裂
- D.两岸统一趋势不可逆转



32.【2010 汕头中考】右图是 20 世纪 70 年代小岗村 18 位农民按下的红手印的“包产到户”契约。下列对这一契约出现的原因的叙述，不正确的是（A）

- A.人们公社调动了农民的生产积极性
- B.农民渴望改变贫穷落后的生活状况
- C.农民缺少生产自主权
- D.农民家庭收入很少

33.【2010 河北省中考】右图所示的“江苏省江宁县公私合营股



票”，其印发的主要目的是

- A. 建立人民民主政权
- B. 满足农民获得土地的愿望
- C. 引导农民走合作化道路
- D. 实现对私营工商业的社会主义改造

34.【2010 河北省中考】前世界银行驻华首席经济学家华而诚曾讲到，“如果说此前中国一直在隧道中探索，1992 年应该说人们终于看到了隧道口的光亮。”这一认识得出的主要依据是中国

- A. 实行了家庭联产承包责任制
- B. 建立了经济特区
- C. 进行了国有企业改革
- D. 提出了建立社会主义市场经济体制

35.【2010 河南省中考】新中国成立后，党和政府采取了一系列措施巩固新生的人民政权。下列事件中，既巩固了政权，又促进了经济发展，为国家工业化创造了条件的是【】

- A. 和平解放西藏
- B. 土地改革
- C. 抗美援朝
- D. 制定宪法

36.【2010 河南省中考】下列选项能够体现新中国成立以来我党创新精神的是【】

- ① 第一个五年计划的实施
 - ② 资本主义工商业改造过程中的赎买政策
 - ③ “一国两制”构想
 - ④ 家庭联产承包责任制
- A. ①②③ B. ①②④ C. ②③④ D. ①③④

37.【2010 河南省中考】改革开放以来，我国逐步形成了经济特区——沿海开放城市——沿海经济开放区——内地的对外开放格局。1988 年设立的海南省属于这一格局中的【】

- A. 经济特区
- B. 沿海开放城市
- C. 沿海经济开放区
- D. 内地

38.【2010 鄂州中考】“紫荆开后白莲开，喜事翩跹接踵来。神州大地齐欢庆，一国两制谱新篇。”诗歌中的“喜事”指

A. 新中国成立 B. 西藏和平解放 C. “一国两制”提出 D. 香港、澳门回归

39. 【2010 黄冈中考】既是近代史第一批开放的通商口岸，又是改革开放时期经济特区的城市是

A. 厦门 B. 广州 C. 福州 D. 宁波

40. 【2010 黄冈中考】观看图 3，图片中的情景应最早在下列哪次会议或事件中出现

A. 亚非会议
B. 日内瓦会议
C. 第 26 届联合国大会
D. 中美建交



五星红旗在联合国大厦前飘扬
图3

41. 【2010 十郾中考】新中国成立后，涌现出大批全心全意为人民服务的杰出人物，人民分别给予了他们许多光荣的称号，下面图片中人物与图片下的的称号不相逢的是



A. 改革开放的总设计师 B. 抗洪英雄 C. 两弹元勋 D. 县委书记的好榜样

42. 【2010 十郾中考】改革开放以来，我国对就业制度进行了重大改革，下列各项对我国民权的就业模式描述不正确的是

A. 政府“统包统配” B. 劳动者自主就业
C. 市场调节就业 D. 政府促进就业

43. 【2010 襄樊中考】下列不属于探索建设社会主义道路时期的模范人物是

A. 邱少云 B. 焦裕禄 C. 王进喜 D. 邓稼先


44. 【2010 长沙中考】每个时代都有自己的流行语。下列流行语与时间对应不正确的是

A. 大跃进——20 世纪 50 年代后期
B. 家庭联产承包责任制——20 世纪 60 年代
C. 经济特区——20 世纪 80 年代
D. 北京奥运——21 世纪初

45. 【2010 娄底中考】“我们唱着东方红，当家作主站起来，我们讲着春天的故事，改革开放富起来。”歌词中歌颂的两位伟人是

A. 孙中山和毛泽东 B. 孙中山和邓小平 C. 毛泽东和邓小平 D. 刘少奇和邓小平

46. 【2010 娄底中考】下列图片反映的历史事件是



A. 海峡两岸关系发展 B. 社会生活日新月异
C. 国防建设成就斐然 D. 香港澳门回归祖国



47. 【2010 邵阳中考】图为 1958 年 9 月 4 日山东潍县大众报社出版的“号外”，它反映的社会现象是（ ）

- A.注重科学、实事求是 B.注重农业、忽视工业
C.思想解放、对外开放 D.急于求成、“左”倾浮夸

48. 【2010 邵阳中考】1982 年，中共中央发出的第一个关于“三农”问题的“一号文件”明确指出：包产到户、包干到户或大包干都是社会主义生产责任制。该“一号文件”着眼于（ ）

- A.改革农村生产关系 B.城市支持农村，工业反哺农业
C.推进城乡一体化建设 D.建立社会主义生产经济体制

49. 【2010 岳阳中考】三大改造的完成在我国探索社会主义道路过程中最突出的意义在于：

- A、彻底摧毁了封建土地制度 B、极大解放了农村生产力
C、初步奠定了社会主义民主和法制的基础 D、确立了社会主义经济制度

50. 【2010 株洲中考】电影《横空出世》再现了新中国在艰苦条件下研制原子弹的过程。新中国的科技成果“两

弹一星”除原子弹外，还有

- A.氢弹 第一颗人造地球卫星 B.氢弹 第一颗实用通信卫星
C.导弹 第一颗人造地球卫星 D.导弹 第一颗实用通信卫星

51. 【2010 株洲中考】1971 年 11 月 8 日美国《时代》周刊将周恩来总理作为封面人物，是因为下列哪一历史事件提高了中国的国际地位

- A.万隆会议的召开
B.中国恢复在联合国的合法席位
C.中美关系正常化
D.中国第一次以五大国之一的身份参加日内瓦会议

52. 【2010 江苏南京中考】中华人民共和国的成立开辟了中国历史新纪元。对这句话理解正确的是：新中国的成立

- A.壮大了世界和平、民主和社会主义的力量
B.鼓舞了世界被压迫民族和被压迫人民争取解放的斗争
C.开创了社会主义现代化建设的新局面
D.结束了被侵略被奴役的历史，中国真正成为独立自主的国家

53. 【2010 江苏南京中考】右表中两种所有制经济百分比出现的主要原因是

1956年国民经济中公私经济成分的比较

项 目	社会主义公有制经济	私有制经济
国民收入	92.9%	7.1%
工业总产值	100%	—
商品零售额	95.8%	4.2%

- A.土地改革的基本完成 B.三大改造的基本完成
C.家庭联产承包责任制的实行 D.国有企业改革的深化

54. 【2010 江苏南京中考】中国共产党重新确立解放思想、实事求是思想路线的会议是

- A.遵义会议 B.中共七大

C.中共十一届三中全会

D.中共十五大

55.【2010 江苏南京中考】在对外开放的过程中，我国逐步形成了全方位、多层次、宽领域的对外开放格局。在这一格局中，第二步开放的是

A.沿海经济开放区

B.沿海开放城市

C.经济特区

D.内地

56.【2010 江苏南京中考】流行语往往打上了时代烙印。下列流行语出现在改革开放后的是

A.抗美援朝

B.大跃进

C.红卫兵

D.网上购物

57.【2010 江苏南京中考】“一国两制”

A.是20世纪90年代邓小平提出的

B.最初是为解决香港问题提出的

C.首先在澳门问题上得到成功运用

D.是新时期推进祖国和平统一大业指导方针

58.【2010江苏南京中考】2009年10月1日，在国庆阅兵式上，多种新型战略导弹经过天安门广场。外国军事评论家答：中国战略导弹部队实现了历史性跨越。这支部队创建于

A.1949年

B.1964年

C.1966年

D.1970年

59.【2010 江苏南京中考】20 世纪 70 年代，中国外交事业取得一系列成就。下列属于这一时期的外交成就有①提出和平共处五项原则②恢复在联合国的合法席位③中美正式建立外交关系④承办亚太经合组织会议

A.①②③

B.②③

C.①③④

D.②④

60.【2010 江苏南京中考】世界科技蓬勃发展，国际竞争日趋激烈。1986 年，我国为加快高技术的发展，开始实施

A.“863”计划

B.“希望工程”

C.“科教兴国”战略

D.西部大开发战略

61.【2010 江苏苏州中考】历史谱写着歌曲，歌声凝聚着历史。有一首歌唱道：“让我告诉世界，中国命运自己主宰；让我告诉未来，中国进行着接力赛……”。你知道中国人民“命运自己主宰”开始于

A.三大战役取得胜利

B.中华人民共和国成立

C.社会主义制度建立

D.第一个五年计划实施

62.【2010 江苏苏州中考】下表反映了 1950 年和 1954 年中国农村不同阶层人口及其占有土地的比重，导致这一比重变化的原因是

	1950 年(%)		1954 年(%)	
	人口比重	土地占有比重	人口比重	土地占有比重
贫农、中农	85.5	45.2	92.1	91.4
富农、地主	14.5	54.8	7.9	8.6

A.土地改革已经完成

B.农业合作化运动

C.“包产到户”的实施

D.人民公社化运动

63.【2010 江苏苏州中考】“铁人”王进喜克服重重困难打出大庆第一口油井，焦裕禄为改变兰考面貌献出生命，邓稼先完成我国第一颗原子弹的理论设计方案，他们的事迹出现在



- A . 新中国成立时期 B . 探索建设社会主义道路时期
C . “文化大革命”时期 D . 社会主义现代化建设新时期
- 64 . 【2010 江苏苏州中考】“发展才是硬道理”、“特区姓‘社’不姓‘资’”的观点出自
A . 马克思主义 B . 列宁主义 C . 毛泽东思想 D . 邓小平理论
- 65 . 【2010 江苏泰州中考】右面的邮票是为了纪念中国人民政治协商会议第一届全体会议胜利召开而发行的。关于这次会议的说法不正确的是
A . 会议的主要任务是讨论建立新中国的有关事宜
B . 会议通过了具有临时宪法性质的《共同纲领》
C . 会议制定了中国第一部社会主义类型的宪法——《中华人民共和国宪法》
D . 会议选举产生了中华人民共和国中央人民政府委员会
- 66 . 【2010 江苏泰州中考】1956 年对中国人民来说是“非同寻常的一年”。在这一年，新中国取得的主要成就有
①“大跃进”运动在全国范围内发动起来
②基本完成三大改造，标志着社会主义制度在我国基本建立
③中共八大在探索建设社会主义道路过程中取得了重要成果
④中国第一颗人造地球卫星“东方红 1 号”发射成功
A . ①④ B . ①③ C . ②③ D . ③④
- 67 . 【2010 江苏泰州中考】“文化大革命”中，身为国家主席的刘少奇被诬陷为“叛徒、内奸、工贼”，惨遭批斗，失去人身自由。这突出表明文革期间
A . 民主与法制被肆意践踏 B . 国民经济发展缓慢
C . 教育科学文化事业遭到严重摧残 D . 法律面前人人平等
- 68 . 【2010 江苏泰州中考】1993 年后，大批国有企业积极进行公司制、股份制改革，出现了邯鄲钢铁总厂等一批先进典型。这表明我国经济体制改革的目标是
A . 建立计划经济体制 B . 建立社会主义市场经济体制
C . 加强国家干预经济 D . 实行“自由放任”的经济政策
- 69 . 【2010 江苏无锡中考】根据所学知识，找出下列搭配错误的一项
A . 《海国图志》— 魏源 B . 《黄河大合唱》— 冼星海
C . “两弹元勋”— 钱学森 D . 中国人自行设计和施工的第一条铁路干线— 京张铁路
- 70 . 【2010 江苏无锡中考】2010 年 3 月 14 日，国务院总理温家宝在十一届全国人大三次会议的记者见面会上说：“我们国家的发展不仅是要搞好经济建设，而且要推进社会的公平正义，促进人的全面和自由发展，这三者不可偏废。……我认为，公平正义比太阳还要有光辉。”新中国成立后，党和国家非常重视民主法制建设，建国初期起到临时宪法作用的是
A . 《中华民国临时约法》 B . 《刑法》 C . 《共同纲领》 D . 《中华人民共和国宪法》
- 71 . 【2010 江苏无锡中考】1956 年 - 1966 年是我国“探索社会主义道路”的时期，下列哪一项全面反映了其历史阶段特征？

- A. 遭到建国来最严重的挫折和失误 B. 社会主义经济持续和稳定发展
C. 社会主义民主政治建设取得重大进展 D. 正确与失误、成就和挫折错综交织

72. 【2010 江苏无锡中考】1971 年 4 月 24 日，在神州大地无数地方的人们，怀着无比激动的心情，目睹了我国第一颗人造地球卫星伴随着《东方红》的悦耳曲调划过夜空。



我国第一颗人造地球卫星是

- A. 神舟一号 B. 神舟五号 C. 东方红一号 D. 神舟七号

73. 【2010 江苏无锡中考】周恩来与印度、缅甸总理共同倡导，被大多数国接受，并成为处理国与国之间关系的基本准则是

- A. 和平共处五项原则 B. 独立自主的和平外交 C. “求同存异” D. 资源共享，优势互补

74. 【2010 江苏徐州】某电视剧中有这样一个情景，上海市东亚面粉厂的孙老板亲率员工敲锣打鼓地向上海市领导报喜：东亚面粉厂接受公私合营。据此推测当时我国正在进行

- A. 三大改造 B. “一五”计划的实施

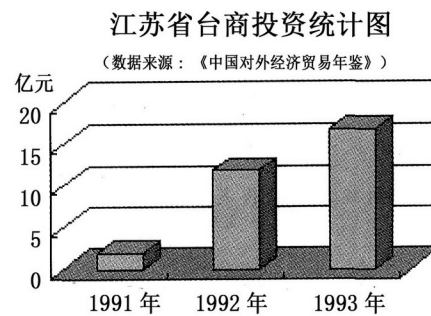
- C. “大跃进”运动 D. 人民公社化运动

75. 【2010 江苏徐州】中共十一届三中全会后，中国打开封闭的国门走向世界。下列属于我国对外开放的窗口和扩大开放的窗口是

- A. 深圳、上海浦东 B. 珠海、香港 C. 汕头、澳门 D. 深圳、厦门

76. 【2010 江苏徐州】观察右图，这一时期台商在江苏投资情况发生变化的原因不包括

- A. 邓小平南方谈话
B. 香港、澳门的回归
C. 中共十四大的召开
D. 海峡两岸经济文化交流的加强



时
括

77. 【2010 江苏盐城】毛泽东词句“……人民五亿不团圆。一唱雄鸡天下白，万方乐奏有于阗……”反映的重大历史事件是

- A. 长征结束 B. 西安事变和平解决 C. 抗日战争胜利 D. 新中国成立

78. 【2010 江苏盐城】把邓小平理论确立为党的指导思想的重要会议是

- A. 遵义会议 B. 中共七大 C. 中共十一届三中全会 D. 中共十五大

79. 【2010 江苏盐城】某同学在自主学习时收集了以下几幅图片，符合这组图片的恰当主题应当是



周恩来在万隆会议演讲



毛泽东会见尼克松



乔冠华开怀大笑

- A. 新中国的外交成就

- B. 国防现代化的起步

- C. 统一大业的完成

- D. 两岸交流的密切

80. 【2010 江苏盐城】1964 年 10 月 16 日，我国第一颗原子弹爆炸成功。为此作出重大贡献的人物是

- A. 王进喜 B. 詹天佑 C. 邓稼先 D. 袁隆平

81. 【2010 江苏扬州】某陈列馆举办“建国后农村生产关系变革”图片展。现有以下四幅图片，请按时间先后顺序排列



① 农民加入合作社 ② 人民公社食堂 ③ 土地改革 ④ 小岗村“分田到户”字据

- A. ①②④③ B. ②③①④ C. ④②③① D. ③①②④

82. 【2010 江苏扬州】在 20 世纪 50 年代召开的一次国际会议上，“周恩来并不打算改变任何一个坚持反共立场的领导人的态度，但是他改变了会议的航向”，这是因为周恩来提出了

- A. 独立自主原则 B. 和平共处原则 C. 团结反帝方针 D. 求同存异方针

83. 【2010 江苏扬州】今年 5 月，中央新疆工作会议上正式批准喀什设立经济特区。改革开放 30 多年来，我国形成的对外开放格局是

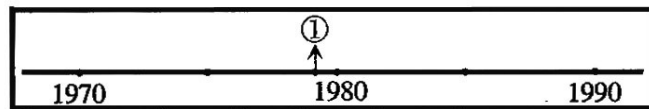
- A. 经济特区——沿海开放城市——沿海经济开放区——内地
B. 沿海开放城市——经济特区——沿海经济开放区——内地
C. 内地——沿海经济开放区——沿海开放城市——经济特区
D. 经济特区——沿海经济开放区——沿海开放城市——内地

84. 【2010 江西中考】江西省永丰县潭城乡龙洲村某农户墙上刷有一条“坚定不移地沿着中国特色社会主义道路前进”的标语。从内容上分析，这条标语是下列哪一时期刷写的

- A. 土地改革时期 B. 三大改造时期 C. 文化大革命时期 D. 改革开放时期

85. 【2010 江西中考】下面年代尺中的“①”处，适合标注的历史事件是

- A. 万隆会议
B. 第 26 届联大
C. 中国和日本建交
D. 中国和美国建交



86. 【2010 山西省卷】新中国成立后，党和政府为提高农村生产力，调动农民生产积极性，采取的正确措施有

- ① 颁布《中华人民共和国土地改革法》
② 实施第一个五年计划
③ 开展人民公社化运动
④ 实行家庭联产承包责任制

- A. ①②③ B. ①②④
C. ①③④ D. ②③④

87. 【2010 山西省卷】如今，上海浦东已经成为一座外向型、多功能、现代化的新城区。提出开发开放浦东的领导人是

- A. 毛泽东 B. 邓小平
C. 江泽民 D. 胡锦涛

88. 【2010 山西省卷】近年来，我国海军多次完成亚丁湾护航任务。这充分表明

- A. 中国海军活动范围扩大 B. 中国政府重视外交活动
C. 中国海军武装力量强大 D. 中国为维护世界和平做出贡献

89. 【2010 四川达州卷】下列四支由中国共产党领导的部队按组建的先后顺序排列，正确的一项应是（ ）

- ① 中国工农红军第四军 ② 八路军一一五师 ③ 东北野战军 ④ 中国人民志愿军
A. ④③②① B. ②③①④ C. ①③②④ D. ①②③④

90. 【2010 四川达州卷】下列选项中人物和地点的搭配，有误的一项是（ ）

- A. 毛泽东——开国大典时的天安门城楼 B. 王进喜——大庆油田
C. 邓小平——回归后的香港 D. 江泽民——中共十四大会场

91. 【2010 四川达州卷】今年，某人五十岁生日时，朋友们决定以歌曲联唱的形式来表示祝贺。如果朋友首先唱的是他童年时的一首歌，这首歌是（ ）

- A. 《在希望的田野上》 B. 《春天的故事》
C. 《北京欢迎您》 D. 《学习雷锋好榜样》

92. 【2010 四川达州卷】南非世界杯如今正如火如荼地进行着，通过卫星转播，我们能坐在电视机旁欣赏到万里之外球星的精彩表演。我国第一颗人造地球卫星是（ ）

- A. “东方红一号” B. “神舟一号” C. “嫦娥一号” D. “长征一号”

93. 【2010 四川乐山卷】2009 年 10 月 1 日，新中国建国 60 周年庆典上，天安门广场以复兴之路为主题，举行了盛大的阅兵式和群众游行。下面是一组庆典上的游行方阵，其中喻指新中国诞生的是



- A. 开天辟地方阵 B. 艰苦创业方阵 C. 春天的故事方阵 D. 走进新时代方阵

94. 【2010 四川乐山卷】小兵同学准备制作主题为“新中国的外交成就”的网页，收集了下列材料，其中不能入选网页的是

- A. 中国在联合国合法席位的恢复
B. 中美建交
C. 周恩来率团出席亚非会议
D. 四川省委书记率团到台湾开展“天府四川宝岛行”活动

95. 【2010 四川眉山卷】“雄赳赳，气昂昂，跨过鸭绿江……”1950 年 10 月，中国人民志愿军高唱着这首歌，奔赴朝鲜前线。中国人民志愿军开赴朝鲜是因为

- ① 朝鲜内战爆发 ② 美国出兵侵略朝鲜 ③ 美国侵略军严重威胁中国安全 ④ 朝鲜政府请求中国出兵援助
A. ①②③④ B. ①③④ C. ②③④ D. ①②④

96. 【2010 四川眉山卷】邓小平是中国改革开放的总设计师，在进行的农村改革措施中，最能体现产业结构调整的是

- A. 家庭联产承包责任制 B. 实行乡镇管理体制
C. 多种经济成份并举 D. 乡镇企业异军突起

97. 【2010 四川资阳卷】徐小明同学的爸爸收藏了刊登右图所示文章的一份报纸，下列不能作为收藏理由的是该文章的发表

- A. 标志中国思想理论界开始了关于真理标准问题的讨论
B. 有利于打破长期以来个人崇拜和教条主义的束缚
C. 推动了当时人们思想的解放



D. 停止了“以阶级斗争为纲”口号的使用

98. 【2010 四川资阳卷】中国共产党社会主义初级阶段的基本路线提出的时间是

A. 19 世纪 80 年代后期 B. 20 世纪 80 年代初期

C. 20 世纪 80 年代后期 D. 20 世纪 90 年代初期

99. 【2010 宁夏省卷】中国现代史是党领导全国各族人民进行社会主义现代化建设的历史其开端 ()

A. 1911 年辛亥革命

B. 1919 年五四运动

C. 1921 年中国共产党成立

D. 1949 年中华人民共和国成立

100. 【2010 宁夏省卷】辽宁宽甸县农民给毛主席的一封信中说：“我们祖祖辈辈做梦都在想着有一天自己能有三亩、五亩的地，-----现在这个梦想实现了。”这封信内容反映的历史背景是 ()

A. 全国农业合作化高潮

B. 土地改革运动

C. “大跃进”运动

D. 改革开放新时期

101. 【2010 宁夏省卷】“我国第一个五年计划取得了重大成就。”下列史实中可以证明这一结论的是 ()

① 武汉长江大桥建成 ② 开展了大炼钢铁的群众运动 ③ 长春汽车制造厂、鞍山钢铁公司等重工业企业投产 ④ 新藏、青藏、川藏公路及宝成铁路修通

A. ①②③

B. ①②④

C. ①③④

D. ②③④

102. 【2010 宁夏省卷】在全面建设社会主义进程中，下列人物事迹共同体现的时代精神是 ()




王进喜



焦裕禄



雷锋



邓稼先

① 艰苦创业 ② 全心全意为人民服务 ③ 同仇敌忾抗击侵略 ④ 国际主义人道主义

A. ①②

B. ①③

C. ②③

D. ③④

103. 【2010 宁夏省卷】有关新中国成立六十周年成就展内容先后排序正确的是 ()

① 西藏和平解放 ② 基本完成农业、手工业和资本主义工商业的社会主义改造 ③ 成功举办北京奥运会，积极筹办上海世博会 ④ 党的十一届三中全会召开，实现伟大的历史转折

A. ①②③④

B. ②①③④

C. ①②④③

D. ③④②①

104. 【2010 宁夏省卷】中国共产党第十五次全国代表大会的重大历史贡献是 ()

A. 形成了以邓小平为核心的党中央领导集体

B. 通过了《中国人民政治协商会议共同纲领》

C. 粉碎江青反革命集团，结束了“文化大革命”

D. 确立邓小平理论是改革开放和社会主义现代化建设的指导思想和光辉旗帜

105. 【2010 重庆市卷】2009 年 12 月 20 日是澳门回归祖国十周年的纪念日。把党中央多年来酝酿的和平统一祖国的构想创造性地概括为“一国两制”，为澳门回归祖国开辟了正

确道路的是



A



B



C



D

106.【2010 重庆綦江卷】“雄赳赳，气昂昂，跨过鸭绿江……”展现了当年我国志愿军战士抗美援朝，保家卫国的英雄风采。抗美援朝战争爆发距今

A . 40 周年 B . 50 周年 C . 60 周年 D . 70 周年