

# 2023年湖南省张家界市中考历史真题

温馨提示：

本学科试卷共两道大题，满分60分。历史和道德与法治同堂考试，考试时量共120分钟。

一、选择题（本大题24个小题，每小题1分，共24分。每小题只有一个正确答案，请将每小题正确答案的英文字母代号填涂在答题卡相应位置上）

1. 传说图中供奉的人物教民开垦耕种，制作生产工具，种植五谷和蔬菜；还制作陶器，发明纺织，会煮盐，教人们交换物品。该人物是（ ）



- A. 黄帝                      B. 炎帝                      C. 大禹                      D. 蚩尤
2. 春秋战国时期是社会大动荡时期，也是学术思想非常活跃的时期，各种学说蓬勃兴起。其中属于儒家思想的是（ ）
- A. “无为而治”                      B. “兼爱”“非攻”  
C. “以法治国”                      D. “仁”“为政以德”
3. 汉武帝时期颁布“推恩令”，规定诸侯王除以嫡长子继承王位外，可将封地再次分封给其子弟作为侯国，由皇帝制定封号。“推恩令”的实行（ ）
- A. 增强了地方的权力                      B. 开创了地方行政基本模式  
C. 明确了中央机构的职权及决策程序                      D. 大大加强了中央对地方的控制
4. 某同学在复习中国历史时，制作了如图知识卡片。该同学复习的主题是（ ）

- ★742年，北方与南方人口比例为3：2；1080年比例为2：5
- ★谚语：“苏湖熟，天下足”
- ★江南地区成为我国制瓷业中心
- ★中央的财政收入主要来自南方，特别是东南地区

- A. 海外贸易繁盛  
B. 水稻产量增加  
C. 经济重心南移  
D. 都市经济繁荣

5. “……三十功名尘与土，八千里路云和月……待从头、收拾旧山河，朝天阙。”“醉里挑灯看剑，梦回吹角连营。八百里分麾下炙，五十弦翻塞外声，沙场秋点兵……”岳飞、辛弃疾在各自的词中表达的共同情感是（ ）

- A. 豪迈的报国之情  
B. 浓郁的思乡之情  
C. 飘逸的山水之情  
D. 凄婉的惜别之情

6. 中国古代科技领先世界，其科技成就主要集中在农学、天文学、医学、数学等领域。这反映出我国古代科技的重要特点是（ ）

- A. 开放性  
B. 实用性  
C. 理论性  
D. 实验性

7. 民间曾流传过这样一段歌谣：“中国若是古希腊，湖南就是斯巴达；中国若是德意志，湖南就是普鲁士。

若要中国真灭亡，除非湖南人全死光。”这首歌谣充分反映了湖南人在中国近代史上 地位和作用。下列人物与歌谣相符的是（ ）

①黄兴 ②曾国藩 ③左宗棠 ④康有为 ⑤谭嗣同 ⑥孙中山

- A. ①②③④  
B. ①②③⑤  
C. ③④⑤⑥  
D. ①②⑤⑥

8. 新民主主义革命时期，中国共产党把马克思列宁主义和中国实际相结合，形成了“毛泽东思想”。将“毛泽东思想”确立为中国共产党指导思想的会议与下图对应的是（ ）



- A. 中共一大会址  
B. 古田会议会址  
C. 遵义会议会址  
D. 中共七大会址

9. “睡到了半夜过，门口嘛在过兵……大家都不要怕，这是嘛贺龙军……”这是反映湘鄂川黔革命根据地军民鱼水情深的一首民歌。1935年11月19日，贺龙、任弼时领导这支军队开始长征，其出发地是（ ）

- A. 永定区  
B. 武陵源区  
C. 慈利县  
D. 桑植县

10. 某校学生暑期去西安研学旅行，导游在介绍华清池时说道：“1936年12月12日，曾在这里发生了一场震惊中外的大事件……”该事件和平解决的重要影响是（ ）

- A. 标志着新民主主义革命的开端

B. 打响了武装反抗国民党反动统治第一枪

C. 抗日民族统一战线初步形成

D. 中国全民族抗战开始

11. “钟山风雨起苍黄，百万雄狮过大江。虎踞龙盘今胜昔，天翻地覆慨而慷。宜将剩勇追穷寇，不可沽名学霸王。天若有情天亦老，人间正道是沧桑。”该诗反映的历史事件是（ ）

A. 南京解放

B. 挺进大别山

C. 百团大战

D. 淞沪会战

12. 在历史学习中，我们要学会在具体的时空条件下考察历史。下列历史事件按时间先后顺序排列，正确的是（ ）

① 中国加入世界贸易组织 ② 抗美援朝 ③ 十一届三中全会 ④ 香港回归 ⑤ 中共十八大

A. ①②③④⑤

B. ⑤③①②④

C. ②③④①⑤

D. ②①③④⑤

13. 他是国际知名的火箭专家，于1955年冲破重重阻力回到祖国，参与组织领导了中国运载火箭、导弹、卫星的研制和试验工作，为中国航天事业的发展作出了巨大贡献。“他”是下图中的（ ）



A. 焦裕禄

B. 王进喜

C. 钱学森

D. 屠呦呦

14. 在日常生活中，我们常常接触到“因果报应”“生死轮回”“众生平等”“大慈大悲”“忍耐顺从”等词语。这些词语来源于公元前6世纪创立的（ ）

A. 基督教

B. 佛教

C. 道教

D. 伊斯兰教

15. 欧洲中世纪常常被认为是最黑暗的时代，但在这黑暗之中也盛开了“最美好的花朵”。“最美好的花朵”指的是（ ）

A. 城市的自治

B. 庄园法庭的建立

C. 大学的兴起

D. 工商业的繁荣

16. 2022年12月9日，习近平总书记出席中国——阿拉伯国家峰会，并指出：中阿互相欣赏，互学互鉴，共同倡导文明对话，守护世界文明多样性。下列属于阿拉伯文化的是（ ）

A. 象形文字、太阳历、金字塔

B. 《医典》、《天方夜谭》、阿拉伯数字

C. 《汉谟拉比法典》、楔形文字、空中花园

D. 《荷马史诗》、《十二铜表法》、帕特农神庙

17. 当今世界全球化趋势不断加强，有学者认为全球化始于如图所示的新航路开辟。第一次完成环球航行



C. “北约”成立

D. “华约”成立

24. 当今世界的基本特点是：世界多极化、经济全球化、社会信息化、文化多样化。但美国却逆潮流而动，成为世界最大的“乱源”，其表现有（ ）

① 发动伊拉克战争 ② 轰炸“南联盟” ③ 发动“贸易战”

④ 打压华为和 TikTok（抖音） ⑤ 发动“911”事件

A. ②③④⑤

B. ①②③⑤

C. ①②③④

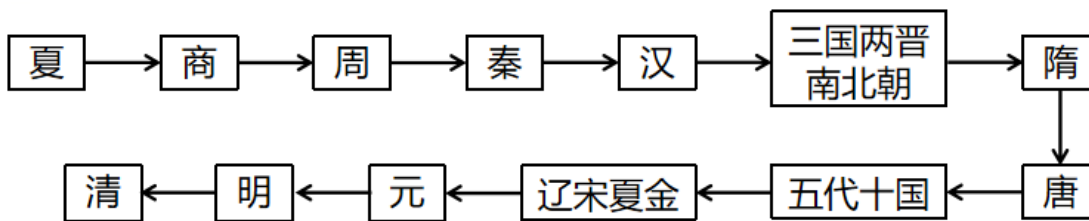
D. ①②④⑤

二、非选择题（本大题 3 个小题，25 题 12 分，26 题 12 分，27 题 12 分，共 36 分。请将每小

题正确答案填写在答题卡指定的位置上）

25. 阅读材料，回答下列问题

材料一



中国古代朝代线索图

(1) 根据材料一，结合所学知识，指出中国历史上第一个统一多民族封建国家的名称。中国历史上由少数民族建立的全国性统一王朝是哪两个？

材料二 魏晋南北朝时期，各民族之间加强了交往、交流与交融，区域的开发尤其是南方经济得到发展，科技文化有着显著的进步，这些都为新的统一局面的出现奠定了基础……唐朝前期政治开明，经济发展，在民族关系、对外交流等多方面都有很大的建树，呈现出繁荣、富强的盛唐景象，成为当时世界上具有影响力的强大国家。

——摘编自人教版七年级中国历史

(2) 根据材料二，结合所学知识，指出魏晋南北朝时期有利于民族交融的重大改革名称。其有利于各民族“交往、交流与交融”的措施有哪些？唐朝“在民族关系上有很大的建树”，其处理民族关系的方式有哪些？

材料三




图1 荷兰殖民者的投降书

图2 台湾光复

(3) 图1中从荷兰殖民者手中收复台湾的民族英雄是谁？图2是哪场战争胜利的重大成果？

(4) 综上所述，谈谈你对民族交融与国家统一的认识。

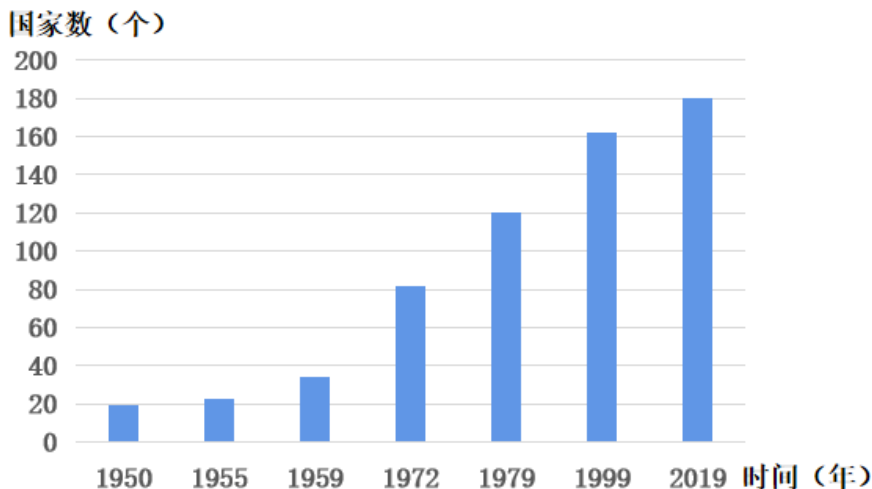
26. 阅读材料，回答下列问题。

材料一 中国近代史上的不平等条约的列表（部分）

不平等条约名称	主要内容（节选）	对中国的重要影响
《南京条约》	开放广州、福州、厦门、宁波、上海五处为通商口岸	①
②	允许日本在通商口岸开设工厂	大大加深了中国半殖民地化程度
《辛丑条约》	清政府赔款白银（③）两，分39年还清	中国完全陷入半殖民地半封建社会的深渊
《九国公约》	建立并维护各国在中国的商务实业机会均等原则	④

(1) 根据材料一，结合所学知识，将表格内容补充完整。

材料二



建国以来与我国建交的国家数量变化柱状图

(2) 根据材料二，指出与我国建交的国家数量变化趋势。新中国成立后我国一直奉行的外交政策是什么？推动七十年代我国出现建交高潮的重大外交事件有哪些？

材料 2023年4月6日，在中国积极斡旋下，中国、沙特和伊朗三国在北京发表三方联合声明，这对中东宿敌正式复交。

——摘编自新华网

(3) 根据材料三，结合所学知识，为建立公正、和平、包容、发展的国际新秩序，二十一世纪以来中国贡献了哪些智慧和方案？（请举两例子以说明）

(4) 综上所述，谈谈中国近现代史上外交地位发生了怎样变化？影响国家外交政策的主要因素有哪些？

27. 阅读材料，回答下列问题。

材料 近代化（也指现代化），指工业革命以来人类社会所发生的深刻变化，这种变化包括从传统经济向现代经济，传统社会向现代社会，传统政治向现代政治，传统文明向现代文明等各个方面的转变。它包括政治上的民主化、法制化，经济上的工业化、商品化，思想上的理性化、科学化。

——摘编自百度百科

(1) 根据材料，结合所学知识，指出近代英、法、美为实现“政治民主化、法制化”分别颁布的重要法律文献。它们实现“经济工业化”的标志性事件是什么？

(2) 围绕“近代化（现代化）”自拟论题，结合材料和所学知识予以论述。（要求：观点明确，史论结合，条理清晰，字数在200字左右）