

历史

一、选择题（1~15题，每小题2分，共30分。下列各题的四个选项中只有一个符合题意，请你仔细判断后，在答题卡上用2 B.铅笔将对应题目答案的字母代号涂黑。）

1. 2021年4月24日，国家航天局宣布中国第一辆火星车以火神命名，“寓意点燃中国星际探测 火种，指引人类对浩瀚星空、宇宙未知的接续探索和自我超越这位中国神话中的火神是

- A. 祝融 B. 尧 C. 舜 D. 禹

2. 汉武帝下诏规定诸侯王除嫡长子继承王位外，可将封地再次分封给其子弟作为侯国。这使得侯国的数量越来越多，诸侯王的封地越来越小。汉武帝这样做是为了

- A. 推行休养生息 B. 实施盐铁专卖 C. 确立正统思想 D. 削弱诸侯实力

3. 《汉书》中描述了这样一个区域，“东则接（连接）汉，厄以（作为关隘）玉门阳关，西则限以葱岭”。汉朝称此区域为

- A. 辽阳. B. 西域 C. 荆楚 D. 江南

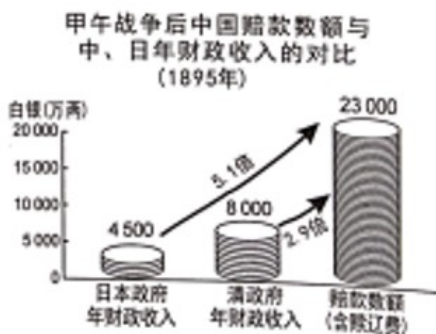
4. 诸葛亮指出曹操大军南下，远道而来，犹如强弩之末，又不习水战，孙权刘备合作定能取胜；曹操败后势必北撤，三分天下的局面自然形成。验证诸葛亮观点的战役是

- A. 牧野之战 B. 官渡之战 C. 淝水之战 D. 赤壁之战

5. 贾思勰在《齐民要术》中写道，“顺天时，量地利，则用力少而成功多”。这体现中国古代农业注重

- A. 发明改进工具 B. 改良作物品种 C. 顺应天时地利 D. 加工农副产品

6. 分析右图中的数据，可得出的正确结论是



- A. 清朝经济比日本发达 B. 中国的经济负担沉重

- C. 日本在中国开设工厂 D. 中国新开放通商口岸

7. 洋务运动兴办同文馆、福州船政学堂等多所学校，在这些学校就读过的学生中，有北洋海军军官邓世昌，京张铁路总工程师詹天佑，翻译《天演论》的严复。以上描述表明洋务运动

- A. 巩固封建帝制 B. 创建强大海军 C. 培养近代人才 D. 创办近代企业

8. 1911年10月10日，武昌城内革命党人发动起义，攻占总督衙门并成立湖北军政府。到11月全国有


一半以上的省份宣布独立，支持革命。这就是

- A. 辛亥革命 B. 二次革命 C. 护国战争 D. 护法运动

9. 刘伯承回忆他指挥的一次军事行动时说到，“以十几万大军远离根据地，一举跃进到敌人的深远后方去作战，这种独特的进攻方式，是史无前例的”。这一军事行动指

- A. 百团大战 B. 千里挺进大别山 C. 攻占锦州 D. 百万雄师过长江

10. 下图为近代民族工业部分火柴品牌商标。其表达的思想是



- A. 军事强国 B. 教育兴国 C. 实业救国 D. 科技兴国

11. 为纪念拉丁美洲独立运动一位重要领导人的功绩，南美洲的玻利维亚共和国以他的名字命名。这位领导人是

- A. 圣雄甘地 B. 玻利瓦尔 C. 扎格鲁尔 D. 卡德纳斯

12. 1891 年日本浓尾大地震的消息传到伦敦仅用 1 天，消息传送的速度约为每小时 394 千米。当时传递这个消息的工具是

- A. 火车 B. 汽车 C. 轮船 D. 电报

13. 通过第一个、第二个五年计划，苏联建成 6000 多个大型企业，建立了拖拉机、汽车、飞机制造、化工、电力等部门。苏联的这些经济成就属于

- A. 农业 B. 商业 C. 重工业 D. 轻工业

14. 1955 年，来自亚洲、非洲 29 个国家和地区的代表在亚洲举行了第一次亚非会议。此后，发展中国家作为一支新兴独立的政治力量登上了国际舞台。这次会议召开地点在

- A. 万隆 B. 巴黎 C. 纽约 D. 柏林

15. 新冠肺炎疫情是百年来最严重的传染病大流行。有专家提醒，只要世界上还有一个国家没有控制好疫情，病毒就会向全世界蔓延。这说明在全球化背景下各国要共同应对

- A. 环境污染问题， B. 卫生健康问题 C. 世界粮食问题 D. 男女平等问题

二、非选择题（16~18 题，每小题 10 分，共 30 分。请将答案填写在答题卡上。）

16. 阅读下列材料：

材料一两种社会现象：一种是各个学派独立地阐述学说思想，学派之间相互问难，进行辩论；另一种是游说诸侯。战国的诸子百家主张学以致用，推出自己的政策主张、治国方略，不可避免与诸侯及其官员

发生争鸣。孟子曾游说于齐、魏、滕、薛、宋、邹、梁等国，慷慨陈词，阐述儒家的理论和政见。

——樊树志《国史概要》

材料二（陈独秀）总结出，只有在中国人民，尤其是青年觉醒之后，只有在旧社会和旧文明有了根本的改变之后，中国才有摆脱军阀桎梏的可能。他认为若没有一种新的出版物，这种解放是不可能达成的……独秀于1915年9月15日在上海创办了《青年杂志》，这个月刊一年后改名为《新青年》

——周策纵《“五四”运动史》

材料三他将人类这一最高思想——马克思主义的普遍真理与中国革命的具体实践相结合，而把我国民族的思想提到了从来未有的合理的高度，并为灾难深重的中国民族与中国人民指出了达到彻底解放的唯一正确的完整的明确的道路——毛泽东道路。我们党和我国人民跟从这条道路，……在苏维埃土地革命时，创造了伟大的红色区域和红军，毛泽东同志是红色区域和红军的创造者与领导……

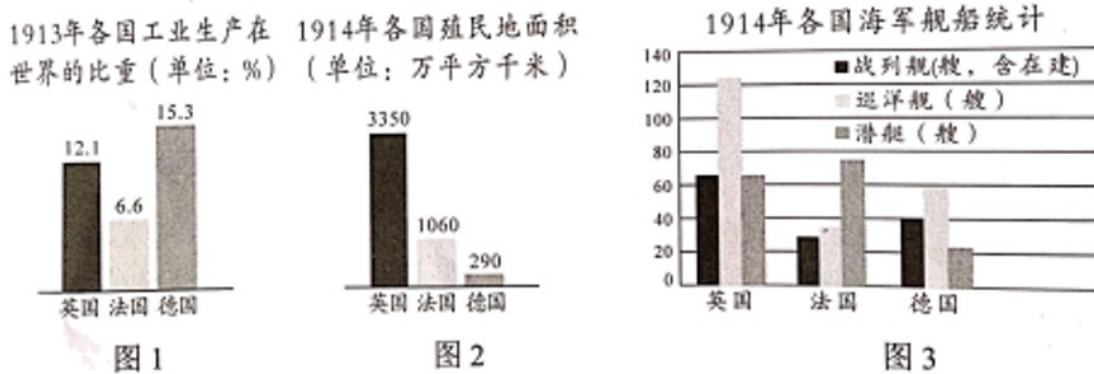
——刘少奇在中共七大作《关于修改党章的报告》

请回答：

- （1）材料一中的“两种社会现象”是哪一个思想局面的表现？根据材料分析“诸子百家”活动产生的影响。
- （2）根据材料二概括陈独秀的主张。《新青年》成为哪一场思想运动的重要阵地？
- （3）材料三中“毛泽东道路”的探索形成了什么思想？写出毛泽东创建的第一个“红色区域”的地点及意义。
- （4）材料中的历史人物有哪些优秀品质？

17. 阅读下列材料：

材料一 读下图（数据来源于中国地图出版社《世界历史地图册九年级下册》）



材料二（1939年）双方在形成一条“和平战线”上有着共同的利益，但是，由于彼此间的极不信任，它们没能这样做。英、法担心苏联利用与西方的条约向东欧扩张，而苏联则怀疑英法不会在希特勒侵略时兑现援助苏联的诺言，结果就是留下苏联单独对抗希特勒。

——斯塔夫里阿诺斯《全球通史》，

材料三欧洲国家要走到一起，必须结束法德两国之间长期存在的敌对状态……（1950年）法国提议法德两国的煤钢生产全部纳入一个对欧洲其他国家开放的组织结构之中，并接受一个共同的权力机构的领

导。煤钢生产的联营应直接为欧洲结成联邦的第一步即经济发展奠定共同的基础……

——法布里斯·拉哈《欧洲一体化史》

请回答：

- (1) 根据图 1、图 2 分析英国与德国产生矛盾的原因。根据图 3 并结合所学，写出英、德两国应对矛盾的方式。分析这一方式对欧洲局势的影响。
- (2) 结合所学写出希特勒建立的政权性质。英法和苏联“彼此间的极不信任”是否维护了各自的利益？就此结合英、法、苏联的历史列举一个实例。
- (3) 根据材料三分析法、德两国合作的目的。写出 1993 年建立的欧洲“联邦”名称。
- (4) 从上述欧洲 历史中你得出什么认识？

18. 阅读下列材料：

材料一秦始皇开凿灵渠，桂林北部的湘桂走廊成为中原和岭南的重要通道。秦统一岭南后，“徙中县之民于南方三郡，使与百粤杂处”。这是一次大规模地把中原汉人迁往岭南的移民活动，这些汉人带来了中原地区先进的技术和生产经验，为桂林等地社会经济的发展创造了条件。

——钟文典主编《桂林通史》

材料二“七七”事变后，政府下令沿海各厂矿迁入内地。从 1937 年 7 月到 1940 年底，三年半时间，完成了中国有史以来第一次工业大迁移。内迁厂矿区域分布，以四川为最多，占内迁总数 54.67%，湖南次之，占 29.21%，陕西占 5.90%，广西占 5.11%，其他各省占 5.11%。这些内迁厂矿，为战时大后方工业重建与发展，奠定了基础。

——吴景平、曹振威《中华民国史》：

材料三（美国）1933 年开始了著名的田纳西河流域水利工程，政府修建 16 条水坝和众多的发电厂。这一系列工程保护了农业，提供了大量电力和众多的就业机会，使整个田纳西河流域由贫瘠、落后的地区变成富庶的地区，居民的平均收入提高了九倍。

——朱汉国、马世力主编《高中历史必修第三册》

请回答：

- (1) 写出材料一中秦朝 地方管理制度。根据材料分析加强“中原和岭南”联系后的影响。（不能照抄原文）
- (2) “七七”事变标志中国抗战进入哪个阶段？根据材料二概括这一阶段“内地”工业发展的特点。（不能照抄原文）
- (3) 材料三中“水利工程”修建时在位的美国总统是谁？根据材料分析，田纳西河流域由贫瘠变富庶的原因。
- (4) 材料中这些地区的发展提供哪些可借鉴的经验？

