

## 浙江省绍兴市 2018 年中考历史真题试题

一、选择题（每小题 2 分，各题中只有一个正确答案，请选出最符合题意的正确选项，不选、多选、错选均不给分）

1. “大包干是摇钱树，不出三年都变富。”这句顺口溜赞美的我国农村改革举措是（ ）

- A. 实行土地改革
- B. 对农业的社会主义改造
- C. 推行家庭联产承包责任制
- D. 发展乡镇企业

【解析】由材料中的关键信息“大包干”可知，这句顺口溜赞美的我国农村改革举措是推行家庭联产承包责任制，在行家庭联产承包责任制下农民的生产积极性提高，促进了农村经济的发展。故选 C。

2. 绍兴是一座古城，最早建于春秋时期（前 770—前 476 年）。这一时期古希腊和古罗马可能处于（ ）

- A. 克里斯提尼执政时期 罗马共和国时期
- B. 克里斯提尼执政时期 罗马帝国时期
- C. 伯利克里执政时期 罗马共和国时期
- D. 伯利克里执政时期 罗马帝国时期

【解析】本题考查时空观念，考查对基础知识的掌握。公元前 6 世纪-前 5 世纪，古罗马处于共和国时期，公元前 509 年，罗马建立奴隶制共和国；公元前 27 年，罗马帝国时期帝国建立。公元前 506 年雅典政治家克利斯提尼实行的政治和社会改革；公元前 443 年-公元前 429 年，伯利克里连续十四年当选为雅典首席将军。

故选 A。

3. 绍兴是一座水城，水给绍兴的儒风雅俗打上了鲜明的印记。曾在兰亭曲水流觞、饮酒赋诗，写下千古名篇《兰亭序》的是（ ）

- A. 东晋王羲之 B. 唐代李白 C. 宋代苏轼 D. 元代关汉卿

【解析】本题将地方文化与主干课程知识结合起来考查。依据所学知识可知，写下千古名篇《兰亭序》的是东晋王羲之。故选：A。

4. 绍兴是一座文化名城，文人辈出口在北大四位绍兴籍校长中，以“思想自由”“兼容并包”

为办学理念，从而使北大迅速成为新文化运动大本营的是（ ）

A. 何燮侯 B. 蔡元培 C. 蒋梦麟 D. 马寅初

【解析】本题将地方文化知识与主干课程知识结合起来考查。新文化运动时期，蔡元培主持之下的北京大学，倡导“思想自由，兼容并包”使各种社会思潮在学生中间流传，从而使北大迅速成为新文化运动大本营的是蔡元培。故选：B。

5. 文物是历史的见证。以下文物可佐证的我国古代封建社会的特征有（ ）



滇王之印(汉)  
①君主专制



犁釜用的金瓶(清)  
②农耕经济的繁盛 ③中央集权



四川彝族土司印(清)  
④多民族国家的统一

A. ①② B. ①③ C. ②④ D. ③④

【解析】“滇王之印”“金奔巴瓶”“土司印”这些文物都见证了我国统一多民族国家的巩固，从侧面反映了中央集权制度。③④符合题意。故选：D。

6. 对联是时代的反映。以下对联所反映的历史事件，按其发生先后排列正确的是（ ）

- ① 万里山河归人民，五亿群众庆新生
- ② 台湾省已归日本，颐和园又搭天棚
- ③ 百年荣辱人青史，两制辉煌壮国魂
- ④ 食堂巧煮千家饭，公社饱暖万人心

A. ①③②④ B. ②①③④ C. ②①④③ D. ③④②①

【解析】①万里山河归人民，五亿群众庆新生反映的是 1949 年新中国成立；②台湾省已归日本，颐和园又搭天棚反映的是 1895 年日本通过《马关条约》割占台湾；③百年荣辱人青史，两制辉煌壮国魂反映的是 20 世纪 70 年代末邓小平提出的一国两制；④食堂巧煮千家饭，公社饱暖万人心反映的是 1958 年的人民公社化运动。按其发生先后排列应是②①④③。故选：C。

7. 某文告写道：“民众自动武装起来，打倒投降帝国主义的国民党！建立民众自己的苏维埃政权！创造民众自己的武装力量！到红军中去，进行革命的民族战争！”这份文告最可能是（ ）

- A. 辛亥革命时期武昌起义新军的宣传
- B. 北伐战争时期国民革命军的宣传

- C. 土地革命战争时期中国共产党的号召  
D. 解放战争时期中国共产党的号召

【解析】 本题考查史料史证。依据题干材料中的关键信息“苏维埃政权”“红军”可知，这份文告最可能是土地革命战争时期中国共产党的号召。故选：C。

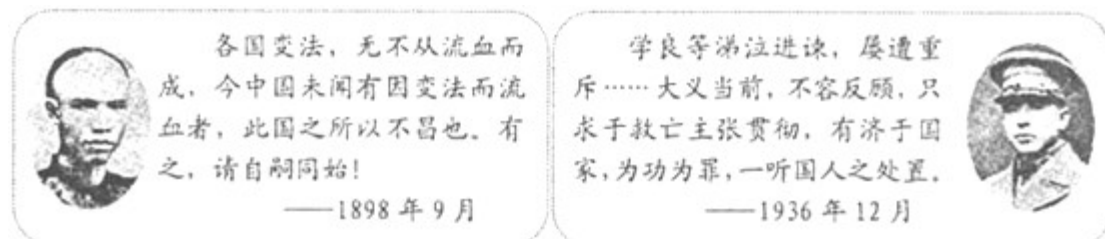
8. 2018年4月，韩朝领导人文在寅、金正恩举行会晤，并签署\_\_\_\_\_，宣布双方将为实现朝鲜半岛无核化而努力。（ ）

- A. 《朝鲜停战协定》 B. 《北京宣言》  
C. 《板门店宣言》 D. 《核不扩散条约》

【解析】 本题考查时政知识。2018年4月27日，朝鲜国务委员会委员长金正恩跨过军事分界线和韩国总统文在寅举行会晤并签署《板门店宣言》，宣布双方将为实现朝鲜半岛无核化和停和机制转换而共同努力；故选：C。

二、综合题（本题有5小题，共60分）

9. 阅读材料，回答问题。



- (1) 请分别指出材料中两位历史人物的抉择所反映的历史事件。  
(2) 从上述历史人物中任选一人，说明他们为什么要作出这样的生死抉择。  
(3) 纵览历史，在民族危急关头，绍兴从来不乏殉难守节之士。请列举近代绍兴以身许国、慷慨赴死的辛亥英烈一位。

【解析】 (1) 材料中谭嗣同相关的历史事件是戊戌变法；材料中张学良相关的历史事件是西安事变。

(2) 从上述历史人物中任选一人，说明他们要作出这样的生死抉择的原因即可，如谭嗣同：19世纪末，列强掀起瓜分中国的狂潮，中华民族面临空前严重的生存危机。国家兴亡，匹夫有责。因此他选择慷慨赴死以唤醒国人。张学良：继“九一八”事变侵占东北后，日本又将侵略魔爪伸向了华北，欲使“华北独立”，中华民族到了最危险的时候。国家兴亡，匹夫有责。因此他发动西安事变，以求停止内战、一致抗日。

(3) 纵览历史，在民族危急关头，绍兴从来不乏殉难守节之士。近代绍兴以身许国、慷慨赴死的辛亥英烈有秋瑾、徐锡麟、陶成章等。

【答案】

(1) 戊戌变法；西安事变

(2) 谭嗣同：19世纪末，列强掀起瓜分中国的狂潮，中华民族面临空前严重的生存危机。国家兴亡，匹夫有责。因此他选择慷慨赴死以唤醒国人。张学良：继“九一八”事变侵占东北后，日本又将侵略魔爪伸向了华北，欲使“华北独立”，中华民族到了最危险的时候。国家兴亡，匹夫有责。因此他发动西安事变，以求停止内战、一致抗日。

(3) 秋瑾、徐锡麟、陶成章等符合题意的人物均可。


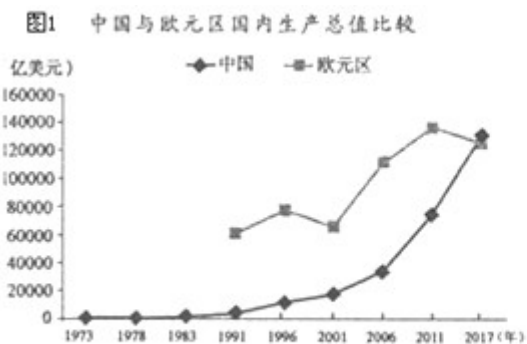
10. 千年数据看发展。阅读材料，回答问题。

表：公元1300-1820年中国和西欧人均GDP比较

	1300年	1400年	1500年	1820年
中国	600元	600元	600元	600元
西欧	593元	676元	771元	1204元

--资料来源：麦迪森《世界经济千年统计》

(1) 从数据识趋势。表1中相比中国，西欧的经济发展呈现怎样的趋势？并结合所学知识分析从1500年到1820年，西欧出现这一趋势的主要原因。



(2) 从数据析联系。图2所含信息对表1所示的我国发展趋势有什么影响？

(3) 从数据悟启示。中西千年发展历程的上述回顾，对我们今后的发展有何启示？

【解析】(1) 本题考查对材料的解读和分析能力。从数据识趋势分析表1分析可知，与中国相比，西欧的经济发展呈现的趋势是该时期内西欧人均GDP赶超中国，经济持续发展。结合所学知识可知从1500年到1820年，西欧出现这一趋势的主要原因是新航路的开辟，促进了贸易的发展；资本主义民主制度的确立，促进了资本主义发展；工业革命，极大推动了生产力的发展。

(2) 从数据析联系分析图 2《中国科技研发支出和部分学做入学率情况》所含信息对表 1《中国与欧元区国内生产总值比较》所示的我国发展趋势的影响体现在表 2 反映了该时期我国经济发展迅速，在总量上赶超欧元区。表 3 所反映的我国劳动者素质和科技创新能力的提高，有利于促进经济发展，增强我国的综合国力和国际竞争力。

(3) 从数据悟启示。中西千年发展历程的上述回顾，对我们今后的发展的启示言之有理即可，如要制度创新；要科教兴国；要改革开放。

**【答案】**

(1) 该时期内西欧人均 GDP 赶超中国，经济持续发展。新航路的开辟，促进了贸易的发展；资本主义民主制度的确立，促进了资本主义发展；工业革命，极大推动了生产力的发展。

(2) 表 2 反映了该时期我国经济发展迅速，在总量上赶超欧元区。表 3 所反映的我国劳动者素质和科技创新能力的提高，有利于促进经济发展，增强我国的综合国力和国际竞争力。

(3) 要制度创新；要科教兴国；要改革开放。