

# 历史

一、选择题：本大题共 20 小题，每小题 1.5 分，共 30 分。在每小题列出的四个选项中，只有一项是符合题目要求的。

1. 农耕经济的发展是文明进步的基本条件。如果要考证中国是世界农业起源地之一，最可靠的证据是（ ）

- A. 北京人使用的石器
- B. 河姆渡遗址出土的稻谷
- C. 神农尝草的传说
- D. 二里头遗址出土的铜鼎

【答案】 B

【解析】

【详解】“河姆渡遗址出土的稻谷”可以考证中国是世界农业起源地之一，生活在距今七千年的河姆渡人种植水稻，我国是世界上最早种植水稻的国家，B 项正确；北京人不会种植农作物，排除 A 项；神农尝草的传说属于传说，真实性有待考究，排除 C 项；二里头遗址出土的铜鼎没有体现“中国是世界农业起源地之一”，排除 D 项。故选 B 项。

2. 威海在西周时期属于莱子国管辖，秦朝时属于胶东郡腓县管辖。这表明，西周、秦朝时在地方分别实行（ ）

- A. 分封制 郡县制
- B. 分封制 行省制
- C. 郡县制 世袭制
- D. 世袭制 分封制

【答案】 A

【解析】

【详解】根据题干“威海在西周时期属于莱子国管辖，秦朝时属于胶东郡腓县管辖。”结合所学知识可知，西周时期在地方实行分封制，秦朝时期在地方实行郡县制，A 项正确；行省制开始于元朝，排除 B 项；世袭制就是名号、爵位以及财产等按照血统关系世代传承，这种传承主要有“家”的传承，诸侯国的传承，天下的传承等，与题意不符，排除 CD 项。故选 A 项。

3. 在抗击新冠肺炎疫情 过程中，中医中药发挥了重要作用。下列关于中国古代医学成就说法正确的是（ ）

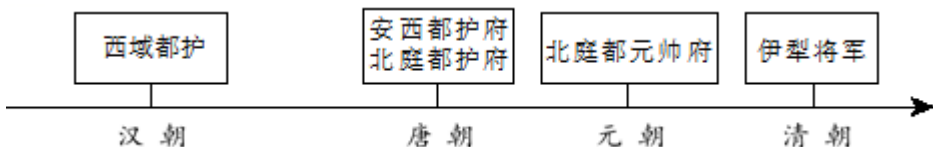
- A. 华佗编写了《伤寒杂病论》
- B. 张仲景发明“麻沸散”，创编“五禽戏”
- C. 宋应星编写了《天工开物》
- D. 李时珍编写药物学著作《本草纲目》

【答案】D

【解析】

【详解】明朝李时珍编著《本草纲目》，这是一部具有总结性的药物学巨著，成为世界医药学的重要文献。D项正确；张仲景编写了《伤寒杂病论》，排除A项；华佗发明“麻沸散”，创编“五禽戏”，排除B项；《天工开物》不是医学成就，排除C项。故选D项。

4. 下面示意图反映的是我国古代对某一地区实行的有效管辖。该地区是（ ）



- A. 新疆
- B. 西藏
- C. 台湾
- D. 青海

【答案】A

【解析】

【详解】结合所学知识可知，西域都护、安西都护府、北庭都护府、北庭都元帅府、伊犁将军都是管理新疆地区的机构，A项正确；西藏、台湾、青海与题干无关，排除BCD项。故选A项。

5. 宋太宗曾说：“国家若无外忧，必有内患。外忧不过边事，皆可预防……若为内患，深可惧也。”为消除“内患”，宋朝（ ）

- A. 开创科举取士制度
- B. 实行文化专制政策
- C. 实行重文轻武政策
- D. 设立厂卫特务机构

【答案】C

【解析】

【详解】依据“若为内患，深可惧也”和所学知识可知，宋太宗认为外患不如内忧，这内忧指的是北宋统治者担心唐朝末年藩镇割据、武将拥兵自重局面的重演，所以北宋初年控制军权，削弱兵权，将调兵权和统兵权分离，实行重文轻武的政策，C项正确；隋朝开创科举取士制度，排除A项；明朝实行文化专制政策，实行“八股取士”，清朝也实行文化专制，大兴文字狱，排除B项；为监视官民，明朝设立厂卫特务机构，排除D项。故选C项。

6. 每一个历史时期都有着鲜明的时代特征。下表④处的时代特征是（ ）

夏商周	秦汉	三国两晋南北朝	隋唐	宋元	明清
-----	----	---------	----	----	----

早期国家与社会变革	①	②	繁荣与开放的时代	③	④
-----------	---	---	----------	---	---

- A. 统一多民族国家的建立和巩固  
 B. 民族关系发展和社会变化  
 C. 统一多民族国家的巩固与发展  
 D. 政权分立与民族交融

【答案】 C

【解析】

【详解】结合所学知识可知，明清时期是我国统一多民族国家的巩固时期。这一时期，为维护和巩固统一的多民族国家，中国人民进行一系列斗争：戚继光抗击倭寇，郑成功从荷兰殖民者手中收复台湾；康熙帝组织了两次雅克萨之战，抗击沙俄的侵略；乾隆帝时期，渥巴锡率领土尔扈特部回归祖国等。在继承前代的基础上，明清时期在政治、经济等各方面都有长足的进步，所以明清时期的时代特征是统一多民族国家的巩固与发展，C项正确；统一多民族国家的建立和巩固是秦汉时期的时代特征，排除A项；民族关系发展和社会变化是辽宋夏金元时期的时代特征，排除B项；政权分立与民族交融是三国魏晋南北朝时期的时代特征，排除D项。故选C项。

7. 北京大学教授茅海建《天朝的崩溃》一书中写道：“这场战争把中国拖入世界。从此开始，中国遭受了列强的百般蹂躏；从此开始，中国人经受了寻找新出路的百般苦难。”文中的“这场战争”指的是（ ）

- A. 鸦片战争  
 B. 第二次鸦片战争  
 C. 甲午战争  
 D. 八国联军侵华战争

【答案】 A

【解析】

【详解】根据所学知识，鸦片战争改变了中国历史发展的进程，中国开始从封建社会变为半殖民地半封建社会，从此开始，中国遭受了列强的百般蹂躏，A项正确；第二次鸦片战争使中国丧失更多主权，西方侵略势力深入到长江中下游地区，沙俄占领中国北方大片领土；中国的半殖民地化程度进一步加深，此项不合题意，排除B项；甲午中日战争后，外国侵略势力进一步深入中国腹地，大大加深了中国的半殖民地化程度，排除C项；八国联军侵华战争后，中国完全陷入半殖民地半封建社会的深渊，排除D项。故选A项。

8. 下图是一幅漫画作品《如此“修墙”》，一位清朝官员用一张写着“西方先进技术”的纸条粘在墙上。该漫画讽喻的历史事件是（ ）



- A. 太平天国运动      B. 洋务运动      C. 戊戌变法      D. 新文化运动

【答案】B

【解析】

【详解】根据漫画结合所学知识可知，洋务运动是一场失败的封建地主阶级的自救运动，封建统治希望通过学习西方先进的技术，挽救民族危机，但洋务派没有认识到不触动封建制度，单纯学习西方先进科技是不可能使中国富强起来的，B项正确；太平天国运动是农民起义，排除A项；戊戌变法学习西方的政治制度，排除C项；新文化运动学习西方的思想，排除D项。故选B项。

9. 史实是历史事实，史论是对历史事件和历史人物的评论。下列选项中属于史论的是（ ）

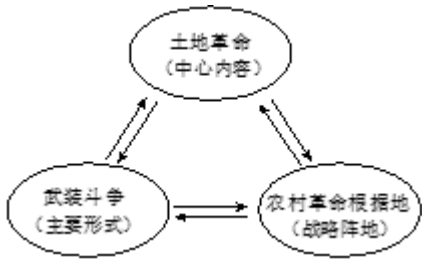
- A. 1905年8月，孙中山在日本东京成立了中国同盟会  
B. 1912年1月1日，中华民国临时政府成立  
C. 1912年2月12日，宣统帝下诏退位，清朝统治结束  
D. 辛亥革命开创了完全意义上的近代民族民主革命

【答案】D

【解析】

【详解】根据题意可知，辛亥革命开创了完全意义上近代民族民主革命是对辛亥革命评论，属于史论，D项正确；1905年8月，孙中山在日本东京成立了中国同盟会，属于历史事实，排除A项；1912年1月1日，中华民国临时政府成立，属于历史事实，排除B项；1912年2月12日，宣统帝下诏退位，清朝统治结束，属于历史事实，排除C项。故选D项。

10. 绘制示意图是学习历史的有效方法。下图反映的是（ ）



- A. 中共一大确定的党的中心工作  
B. 工农武装割据的含义  
C. 抗日根据地的建立与发展  
D. 中共七大制定的政治路线

【答案】 B

【解析】

【详解】毛泽东率领工农革命军在井冈山打土豪，分田地，建立革命政权，开展游击战争，创建了“工农武装割据”的局面。“工农武装割据”包括土地革命、武装斗争和根据地的建设，B项正确；中国一大确定的党的中心工作是领导工人运动，排除A项；抗日根据地属于抗日战争时期，排除C项；中共七大政治路线是放手发动群众，壮大人民力量，在我党的领导下，打败日本侵略者，解放全国人民，建立一个新民主主义的中国。排除D项。故选B项。

【点睛】有

11. 第一个五年计划的胜利完成，使我国的社会经济结构和国民经济面貌发生了重大变化。对此“变化”表述正确的是（ ）

- A. 我国进入社会主义初级阶段  
B. 掀起了“大跃进”的高潮  
C. 农业生产获得迅速恢复和发展  
D. 开始改变工业落后的面貌

【答案】 D

【解析】

【详解】1953-1957年我国实施第一个五年计划，一五计划的完成，开始改变我国工业落后的面貌，D项正确；1956年三大改造完成，社会主义制度在我国确立起来，我国开始进入社会主义初级阶段，排除A项；1958年掀起了“大跃进”，排除B项；农业生产获得迅速恢复和发展与土地改革有关，排除C项。故选D项。

12. 以下是《人民日报》部分社论标题，根据相关史实，按时间先后顺序排列正确的是（ ）

- ①《为实现全中国土地改革而斗争》  
②《旧中国灭亡了，新中国诞生了》  
③《中华民族的百年盛事—热烈庆祝香港回归祖国》  
④《把全党工作的着重点转移到现代化建设上来》

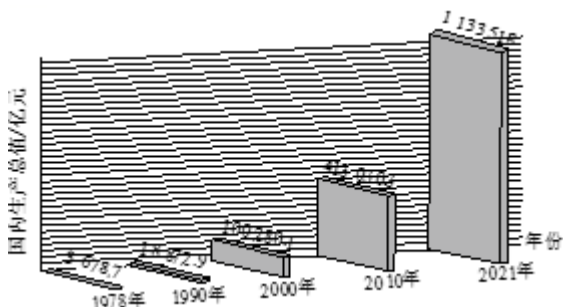
- A. ①②③④  
B. ①②④③  
C. ②①③④  
D. ②①④③

【答案】 D

【解析】

【详解】据题干并结合所学知识可知，土地改革的时间是1950-1952年，新中国成立是1949年，香港回归祖国是1997年，1978年召开的十一届三中全会作出了把党和国家的工作中心转移到经济建设上来，实行改革开放的历史性决策。所以按时间顺序排列应该②①④③，D项正确，排除ABC项。故选D项。

13. 下图为“1978年以来国内生产总值增长情况”示意图。对该图解读最全面的是（ ）



- A. 表明改革由农村转向了城市
- B. 源于市场经济体制的建立
- C. 印证了改革开放的巨大作用
- D. 得益于加入世界贸易组织

【答案】C

【解析】

【详解】1978年，十一届三中全会上提出伟大的改革开放决策，这一决策之后我国实行了改革开放，图示中1978年以来国内生产总值呈现出大幅增长趋势，印证了改革开放的巨大作用，C项正确；材料图示不能看出农村与城市信息，排除A项；市场经济体制的建立是1992年，排除B项；中国加入世贸组织是2001年，排除D项。故选C项。

14. 2012年11月，习近平总书记在参观《复兴之路》展览时说：“这个梦想，凝聚了几代中国人的夙愿，体现了中华民族和中国人民的整体利益，是每一个中华儿女的共同期盼。”“这个梦想”是（ ）


- A. 实现中华民族伟大复兴
- B. 实现祖国统一大业
- C. 全面建成小康社会
- D. 经济总量世界第一

【答案】A

【解析】

【详解】根据材料结合所学知识可知，2012年，习近平提出：“实现中华民族伟大复兴，就是中华民族近代以来最伟大的梦想。”因此，“这个梦想”是实现中华民族伟大复兴，A项正确；实现祖国统一大业是实现中华民族伟大复兴的一部分，排除B项；全面建成小康社会是实现中华民族伟大复兴的第一“百年”目标，不符合题意，排除C项；经济总量世界第一，与题干无关，排除D项。故选A项。

15. 某历史杂志中世界近代史专栏展示了下列内容，据此推断该专栏的标题是（ ）



《自然哲学的数学原理》 《物种起源》 《战争与和平》 绘画《向日葵》

- A. 战争对人类社会的影响
- B. 多彩的近代艺术宝库
- C. 生物科学的重大突破
- D. 近代科学与文化的发展

【答案】D

【解析】

【详解】根据图示“《自然哲学的数学原理》封面”、“《物种起源》的手稿”可知涉及的是近代的科技，“《战争与和平》的封面”、“绘画《向日葵》”可知涉及的是近代的文化，所以题干反映的是近代科学与文化的发展，D项正确；战争对人类社会的影响与“《物种起源》”无关，排除A项；《物种起源》没有体现多彩的近代艺术宝库，排除B项；《向日葵》没有体现生物科学的重大突破，排除C项。故选D项。

16. 某小组在合作学习时，讨论的内容涉及到封君封臣制度、庄园与佃户、城市自治、大学的兴起等。据此判断，他们研究的是（ ）

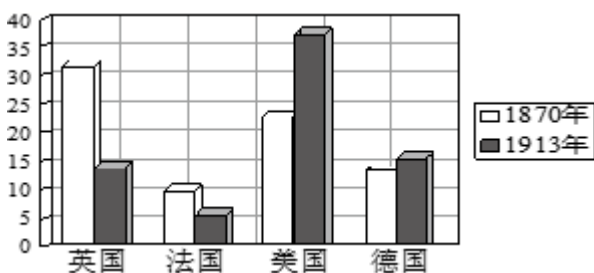
- A. 雅典的民主制度
- B. 封建时代的亚洲
- C. 中世纪的欧洲
- D. 步入近代社会

【答案】C

【解析】

【详解】中世纪欧洲政治上实行的封君封臣制度，经济上是庄园制，城市开始实行自治，大学开始兴起。因此，他们研究的主题是中世纪的欧洲，C项正确；雅典民主政治、封建时代亚洲均不符合材料中“封君封臣制度、庄园与佃户、城市自治、大学的兴起等”信息，排除A和B项；材料中信息不能说明步入近代，近代是指新航路开辟之后，排除D项。故选C项。

17. 下图为“主要资本主义国家占世界工业生产总额的比重（%）”示意图。导致这种变化的主要原因是（ ）



- A. 第一次工业革命的开展
- B. 第二次工业革命的开展
- C. 两大敌对军事集团的形成
- D. 无产阶级革命运动的高涨

【答案】 B

【解析】

【详解】 根据题干图表可知，从1870年到1913年，英国、法国占世界工业生产总产值的比重不断下降；美国、德国占世界工业生产总产值的比重大幅度提高。结合所学知识可知，第二次工业革命率先从美国和德国，第二次使资本主义国家取得了跨越式的发展，成为工业化强国，B项正确；第一次工业革命开始于18世纪，与题干时间不符，排除A项；两大敌对军事集团的形成与题干无关，排除C项；无产阶级革命运动的高涨与题干内容无关，排除D项。故选B项。

18. 下列历史人物具有共同的特征，他们都（ ）



玻利瓦尔  
(1783—1830)



章西女王  
(约 1835—1858)



甘地  
(1869—1948)



扎格鲁尔  
(1857—1927)

- A. 主张非暴力抵抗
- B. 推动改革内政
- C. 反对封建专制
- D. 反抗殖民压迫

【答案】 D

【解析】

【详解】 根据材料结合所学知识可知，玻利瓦尔领导了拉丁美洲的独立运动；章西女王是印度反对英国殖民侵略的民族英雄；甘地领导的非暴力不合作运动，动员了广大群众，打击了英国的殖民统治，增强了印度人民的民族自尊心和自信心；扎格鲁尔建立华夫脱党，开展华夫脱运动，1922年，英国政府有条件地承认埃及独立华夫脱运动为埃及民族民主运动的进一步发展奠定了基础。因此，四人都反抗殖民压迫，D项正确；主张非暴力抵抗是甘地，排除A项；推动改革内政是扎格鲁尔，排除B项；反对封建专制与题干无关，排除C项。故选D项。

19. 当代西方史学家曾经说：“西欧国家希望通过建立一个经济共同体，来振兴经济并降低未来战争的可能性。”目前，大大加快了欧洲一体化进程的组织是（ ）


- A. 欧洲煤钢共同体
- B. 二十国集团
- C. 欧洲联盟
- D. 欧洲共同体

【答案】 C

**【解析】**

**【详解】**结合所学知识可知，1993年，大部分西欧国家在欧共体的基础上组成了欧洲联盟，大大加快欧洲一体化的进程，C项正确；20世纪50年代，法国和联邦德国等六国组建欧洲煤钢共同体，与题干“目前”不符，排除A项；二十国集团涉及各大洲多个国家，并非欧洲国家组织，排除B项；20世纪50年代，法国和联邦德国等六国组建欧洲煤钢共同体。1958年六国又建立了欧洲经济共同体和欧洲原子能共同体。1967年，这3个组织合并为欧洲经济共同体，简称“欧共体”，与题干“目前”不符，排除D项。故选C项。

20. 下图漫画为《“民主”推销员》。该漫画揭示了冷战结束后的美国（ ）



- A. 按照自身价值观称霸世界
- B. 走和平民主的共同发展之路
- C. 推动世界格局的多极化发展
- D. 建立公正的国际政治经济新秩序

**【答案】** A

**【解析】**

**【详解】**根据题意并结合所学知识，2001年，美国对阿富汗发动战争；2003年，美国对伊拉克发动军事行动；2011年美国对利比亚发动军事攻击；2011年，美国对叙利亚实施经济制裁等，美国为维护世界霸主地位，不断加强对其他国家和地区的军事干预，严重干扰着世界的和平与发展，这充分说明美国按照自身价值观称霸世界，A项正确；美国走的是霸权主义道路，排除B项；美国的行径阻碍世界格局的多极化发展，排除C项；美国的霸权政治不可能建立公正的国际政治经济新秩序，排除D项。故选A项。

**二、材料解析题：本大题共4小题，第21题、22题、23题、24题各10分，共40分。**

21. 中国传统文化根植历史，蕴意深远。阅读下列材料，回答问题。

**【讲仁爱 重民本】**

材料一 樊迟问仁。子曰：“爱人” ——《论语·颜渊》	材料二 民为贵，社稷次之，君为轻。 ——《孟子·尽心下》
-------------------------------	---------------------------------

(1) 结合所学知识，写出材料一中的“子”是谁？材料二体现了什么思想？受上述思想影响，中国历史上多次出现“治世”局面，请列举两例。

**【尚和合 求大同】**

材料三

	鲜卑姓	改为汉姓	
	拓跋	元	
	步六孤	陆	
	独孤	刘	
	.....	.....	
①文成公主入藏	②孝文帝改革改用汉姓的情况		③达赖金印 班禅金印

(2) 材料三中的内容反映了中国古代民族交往、交流、交融的情况。请将材料三中的内容与以下表述相对应。(填写序号)

增强北魏实力，促进民族交融：\_\_\_\_\_；

促进吐蕃经济和社会发展：\_\_\_\_\_；

对西藏地区实行有效管辖：\_\_\_\_\_。

#### 【修睦邻 悦往来】

材料四 郑和船队每一次归国时，都有许多外国使节随队前来中国。如第五次下西洋回国时带来十七个国家和地区的贡使，第六次下西洋回国时带来十六国贡使……郑和在海外未劫掠任何财物，未侵占一寸土地，更未驻一兵一卒，这与半个世纪后东来的西方殖民者形成鲜明的对比。

——张国刚《中西文化关系通史》

(3) 依据材料四并结合所学知识，写出郑和船队最远到达哪里？从郑和与西方殖民者两个方面，谈谈如何理解“这与半个世纪后东来的西方殖民者形成鲜明的对比”？

【答案】 (1) 孔子；民贵君轻；文景之治、贞观之治、开元盛世等。

(2) ①. ② ②. ① ③. ③

(3) 红海沿岸和非洲东海岸；郑和远航在海外未劫掠任何财物，未侵占一寸土地，更未驻一兵一卒；西方殖民者到处掠夺，建立殖民地，不断将世界各地变为原料产地和商品市场。

#### 【解析】

【详解】 (1) 根据材料一结合所学知识可知，“子”是对孔子尊称；材料二“民为贵，社稷次之，君为轻。”体现了“民贵君轻”的思想。出自《孟子》。“民贵君轻”成为后世广泛流传的名言，一直为人引用。中国历史上的“治世”有文景之治、光武中兴、开皇之治、贞观之治、开元盛世、康乾盛世。(任举两例)

(2) 根据材料三结合所学知识可知，①文成公主入藏促进了吐蕃经济和社会的发展；②孝文帝改革增强北魏实力，促进民族交融；③达赖金印、班禅金印体现了清政府对西藏地区的有效管辖。因此，对应顺序为：②①③。

(3) 结合所学知识可知，郑和下西洋最远到达红海沿河和非洲东海岸；根据材料四“……郑和在海外未劫掠任何财物，未侵占一寸土地，更未驻一兵一卒，这与半个世纪后东来的西方殖民者形成鲜明的对比。”

结合所学知识可知，郑和远航在海外未劫掠任何财物，未侵占一寸土地，更未驻一兵一卒；西方殖民者到处掠夺，建立殖民地，不断将世界各地变为原料产地和商品市场。

22. 伟大的民族精神为中国发展提供强大精神动力。阅读下列材料，回答问题。

材料一 我们的外交大失败了！……我们学界今天排队到各公使馆去要求各国出来维持公理。务望全国工商各界，一律起来设法开国民大会，外争主权，内除国贼。中国存亡，就在此一举了！今与全国同胞立两个信条道：中国的土地可以征服而不可以断送！中国的人民可以杀戮而不可以低头！国亡了！同胞起来呀！

——罗家伦《北京学界全体宣言》

(1) 结合所学知识，写出材料一反映了五四运动怎样的性质？五四运动后，中国革命进入了什么新时期？

材料二



漫画一：《奔向抗日根据地》 漫画二：选自《抗战漫画》

(2) 材料二漫画一中热血青年奔向的是中共中央所在地，该地是哪里？结合所学知识，写出漫画二反映当时形成了怎样的抗战局面？抗日战争中，哪次战斗粉碎了日军“不可战胜”的神话？

材料三 它成功地遏制了美国势力在中国周边的扩张，给国家争取了一个相对安全的发展环境。当时的西方世界看到中国如此落后的一个国家，竟然敢出兵和世界头号军事强国相抗衡，并且成功地迫使强敌做出了前所未有的妥协。

——摘编自凤凰卫视《世纪大讲堂》专题评述

(3) 材料三所述是新中国成立初期的哪一次战争？依据材料三，简述这场战争对我国有何重要影响？

材料四 “两弹一星”的研制，汇集了中国一大批杰出的科学家和科研人员、工程技术与管理人。他们在戈壁荒滩、深山峡谷建立基地，风餐露宿，披星戴月，艰苦创业。出于保密的需要，他们隐姓埋名，断绝与外界有碍工作的往来，默默无闻地为祖国无私奉献，有的甚至献出宝贵的生命，真正是“干惊天动地事，做隐姓埋名人”。

——李颖《文献中的百年党史》

(4) 依据材料四并结合所学知识，写出一位为我国“两弹一星”研究做出卓越贡献的科学家，并举出“两弹

一星”研制中的一个具体成就。

(5) 上述材料体现了五四精神、抗战精神、“两弹一星”精神等。作为新时代的中学生，应如何传承和弘扬民族精神？

**【答案】** (1) 反帝反封建的爱国运动；新民主主义革命。

(2) 延安；全民族抗战；平型关大捷。

(3) 抗美援朝；遏制了美国势力在中国周边的扩张，给国家争取了一个相对安全的发展环境。

(4) 邓稼先；原子弹爆炸，人造地球卫星升空等

(5) 树立崇高理想目标，发扬艰苦奋斗的精神，为实现伟大中国梦而努力学习。

**【解析】**

**小问1详解】**

依据材料一和所学可知，五四运动是一场伟大的反帝反封建的爱国运动；五四运动之后，中国进入了新民主主义革命时期。

**【小问2详解】**

全面抗战爆发后，陕甘宁边区首府、中共中央所在地延安成为敌后战场的战略总后方和指挥中枢。依据材料二漫画一可知，中共中央所在地是在延安；依据漫画二中日军被八路军、民兵和国民党军队围困，反映了当时形成了全民族抗战的局面；1937年9月，日军向平型关开进。八路军第一一五师在师长林彪率领下，在平型关一带伏击日军，将日军全部歼灭。平型关大捷是全国抗战以来中国军队取得的第一个胜利，粉碎日军“不可战胜”的神话。

**【小问3详解】**

1950-1953年，中国抗美援朝，迫使美国在停战协定上签字，中朝人民取得反侵略战争的胜利。依据材料三“竟然敢出兵和世界头号军事强国相抗衡”可知是抗美援朝战争；依据材料三“它成功地遏制了美国势力在中国周边的扩张，给国家争取了一个相对安全的发展环境”可得出抗美援朝战争制了美国势力在中国周边的扩张，给国家争取了一个相对安全的发展环境。

**【小问4详解】**

依据材料四和所学可以从邓稼先、钱学森等列举；成就依据所学可知，1964年10月16日，我国第一颗原子弹爆炸成功。1966年，我国第一颗装有核弹头的地地导弹飞行试验取得成功，我国有了可用于实战的导弹。1970年，我国用长征号运载火箭，成功地发射了第一颗人造地球卫星——东方红一号，成为世界上第五个能独立发射人造地球卫星的国家。

**【小问5详解】**

依据材料中提及的精神和所学可知，作为新时代的中学生应该树立崇高理想目标，发扬艰苦奋斗的精神，

为实现伟大中国梦而努力学习。

23. 资本主义制度的确立和巩固是一个长期的过程。阅读下列材料，回答问题。

材料一 尽管大西洋把英、法、美三国永远地分隔开来，但三国的革命作为资产阶级革命不仅有一定联系，而且也是相互影响、相互促进的，发生在大西洋两岸的这三个伟大历史事件，最大的公约数是关于“权利”的述求或“人权”的伸张。

——何顺果《世界史：以文明演讲为线索》

(1) 依据材料一并结合所学知识，写出英国资产阶级通过哪部法律文件，实现了“权利”的述求？写出法国大革命开始的标志性事件。美国的哪部文献被称为“第一个人权宣言”？

材料二

 <p>①</p>	<p>他兵败的根源在于，自由和平等的大革命理念意味着一切民族压迫行为都失去了合法性。被占国的人民先是在他的指引下觉悟到这一点，然后在这位导师的侵略行为背叛了革命原则时转而反抗。</p> <p>——《大国崛起》</p>
 <p>林肯</p>	<p>美国的权威期刊《大西洋月刊》曾邀请十位著名历史学家，投票选举 100 位美国历史上最具有影响力的人物。结果，林肯因“拯救了国家，再造了美国”的历史功勋而排名第一。</p>

(2) 写出材料二①处历史人物是谁？依据材料二对“他”的战争行为进行评价。你如何理解林肯“拯救了国家，再造了美国”？

材料三 19 世纪中期俄国和日本改革（部分）

俄国	日本
规定农奴在法律上有人身自由，可以改	废除传统时代的“士、农、工、商”身份制

<p>变身份，有权选择职业和拥有财产。地主不得买卖农奴、干预农奴生活。为俄国资本主义的发展提供了有利的条件。</p>	<p>度，将从事农工商职业的人和贱民一律称为“平民”，允许居住、迁徙、择业、婚姻等自由，推动了日本社会的进步。</p>
--	---

(3) 依据材料三，写出日本改革的名称。概括材料三中俄国和日本改革的相同点。

(4) 依据以上三则材料并结合所学知识，归纳上述国家资本主义制度确立的两种方式。

**【答案】** (1) 《权利法案》；巴黎人民攻克巴士底狱；《独立宣言》。

(2) 拿破仑；拿破仑的对外战争打击了欧洲的封建势力，传播了资产阶级自由民主思想，但是战争给欧洲各国带来了民族压迫，对侵略地区人民的压榨和掠夺，激起了普遍的不满和反抗。美国总统林肯领导北方军队打败南方军队，废除奴隶制，维护了国家统一

(3) 明治维新；俄国和日本改革的相同点有：都是自上而下的改革；都增加了劳动力；都促进了本国的资本主义发展。

(4) 资产阶级革命和改革。

**【解析】**

**【小问1详解】**

根据所学知识，1689年，英国资产阶级颁布形成限制王权《权利法案》，通过《权利法案》，英国逐渐形成君主立宪制，故英国资产阶级通过《权利法案》，实现了“权利的述求”；根据所学知识，1789年巴黎人民攻克巴士底狱，标志着法国大革命的开始；根据所学知识，《独立宣言》是第一个以国家名义明确表述资产阶级政治要求的纲领性文件，被称为“第一个人权宣言”。

**【小问2详解】**

根据所学知识，材料二①处历史人物是拿破仑；根据材料二“他兵败的根源在于，自由和平等的大革命理念意味着一切民族压迫行为都失去了合法性。被占国的人民先是在他的指引下觉悟到这一点，……”结合所学知识，拿破仑的对外战争打击了欧洲的封建势力，传播了资产阶级自由民主思想，但是战争给欧洲各国带来了民族压迫，对侵略地区人民的压榨和掠夺，激起了普遍的不满和反抗。美国总统林肯领导北方军队打败南方军队，废除奴隶制，维护了国家统一，所以说解林肯“拯救了国家，再造了美国”。

**【小问3详解】**

根据材料三“……将从事农工商职业的人和贱民一律称为‘平民’，允许居住、迁徙、择业、婚姻等自由，推动了日本社会的进步。结合所学知识，可知日本改革的是”明治维新；根据材料三“19世纪中期俄国和日本改革（部分）”结合所学知识，俄国和日本改革的相同点有：都是自上而下的改革；都增加了劳动力；都促进了本国的资本主义发展。

**【小问4详解】**

根据上述材料反映的英国资产阶级革命、法国大革命、美国独立战争、美国内战、俄国农奴制改革、日本

明治维新，可知上述国家资本主义制度确立的两种方式：资产阶级革命和改革。

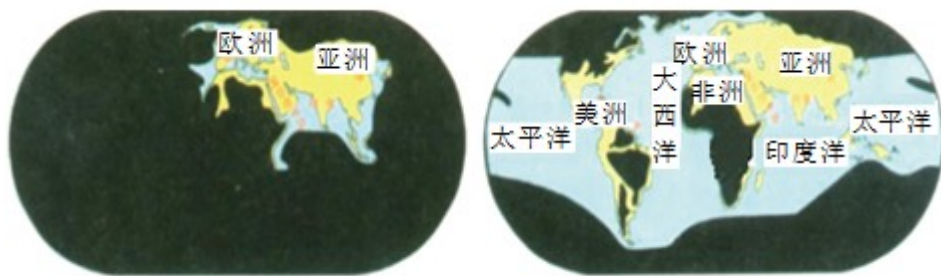
24. 人类历史在交流、冲突、合作中不断发展。阅读下列材料，回答问题。

材料一 亚历山大的东征、罗马帝国的扩张、阿拉伯帝国的征服……无疑是古代史上突破相互孤立隔绝的重大事件。但横贯亚欧大陆丝绸古道上的商队来往，联系太平洋西海岸、印度洋、地中海……诸海航路的船只航行，对传播生产技术、文化知识于古代世界各地也许是更为重要的。

——摘自吴于廑、齐世荣《世界史·古代史编·总序》

(1) 依据材料一并结合所学知识，概括古代史上世界各地“突破相互孤立隔绝”的两种主要方式。汉朝的哪位人物开通丝绸之路后，使“横贯亚欧大陆丝绸古道上的商队来往”日趋频繁？

材料二



图一：1420年欧洲人认识的世界范围 图二：1620年欧洲人认识的世界范围

(2) 材料二中，图一到图二的变化与哪一历史事件有关？从地理的角度看，该事件产生了怎样的影响？

材料三 我相信，美国的政策必须是支持各自由民族，他们抵抗着企图征服他们的掌握武装的少数人或外来的压力。我相信，我们的帮助主要是通过经济和财政的支持，这对于经济安定和有秩序的政治进程来说，是必要的。

——节选自1947年3月杜鲁门在国会的演说

(3) 材料三这篇演说提出的政策被称为杜鲁门主义，它的提出标志着什么？为加强对西欧的“经济和财政的支持”，美国实行了什么政策？

材料四 1971年3月下旬到4月上旬在日本名古屋举行第三十一届世界乒乓球赛上，中国邀请美国乒乓球队访华。这是中美关系上一个重大突破，引起很大轰动，被称为“乒乓外交”。“乒乓外交”获得了“小球转动大球”的戏剧性效果。

——金冲及《二十世纪中国史纲》

(4) 结合所学知识，回答为什么说材料四中的“乒乓外交”是“中美关系上一个重大突破”？列举一例“小球转动大球”后中国在中美关系上取得的外交成就。

(5) 当今国际局势纷繁复杂，你认为中国应如何发展与各国的友好合作关系？

**【答案】** (1) 战争、经济交流；张骞。

(2) 新航路开辟；证明了地圆学说，世界开始连为一个整体，世界的观念也从此逐步确立起来。

(3) 冷战开始；马歇尔计划。

(4) “乒乓外交”结束了中美两国 20 多年来人员交往隔绝的局面，使中美关系取得历史性突破；1972 年美国总统尼克松访华，签署《中美联合公报》，中美关系开始走向正常化。

(5) 坚持和平共处五项原则、坚持独立自主的和平外交政策、坚持改革开放，坚持互利共赢。

#### 【解析】

【详解】(1) 根据材料一“亚历山大的东征、罗马帝国的扩张、阿拉伯帝国的征服……无疑是古代史上突破相互孤立隔绝的重大事件。但横贯亚欧大陆丝绸古道上的商队来往，联系太平洋西海岸、印度洋、地中海……”可知，战争和经济交流（和平交往）“突破相互孤立隔绝”。西汉的张骞出使西域，为“丝绸之路”的开辟做出了巨大贡献。

(2) 根据材料二中图一和图二可知，新航路的开辟打破了世界隔绝的状态。新航路开辟证明了地圆学说，世界开始连为了一个整体，世界的观念也从此逐步确立起来。

(3) 根据材料三结合所学知识可知，1947 年杜鲁门主义出台，标志着美苏战时同盟关系正式破裂，冷战开始。1947 年，美国实施马歇尔计划。目的是企图通过援助西欧恢复经济，稳定资本主义制度。控制西欧，遏制苏联。

(4) 结合所学知识可知，“乒乓外交”结束了中美两国 20 多年来人员交往隔绝的局面，使中美关系取得历史性突破；1972 年美国总统尼克松访华，签署《中美联合公报》，中美关系开始走向正常化。

(5) 本题属于开放型试题，言之有理即可。如坚持和平共处五项原则、坚持独立自主的和平外交政策、坚持改革开放，坚持互利共赢等。

