

2022年黑龙江省牡丹江市中考历史试卷

一、单选题（本大题共 25 小题，共 50.0 分）

1. “教民植五谷，造字启民智”，他们被后人尊崇为中华民族的人文初祖。他们是（ ）

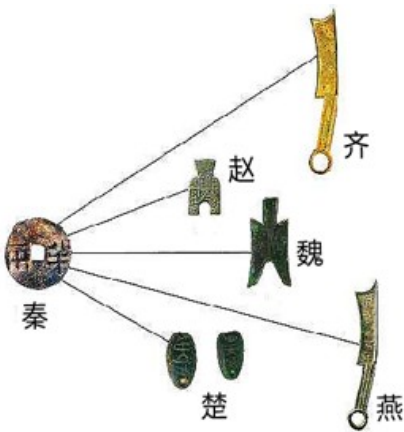
- A. 炎帝、黄帝 B. 黄帝、尧帝 C. 舜帝、炎帝 D. 舜帝、禹帝

【答案】A

【解析】

【详解】结合所学知识可知，距今约四五千年，生活在黄河流域炎帝部落和黄帝部落联合在涿鹿一战中打败蚩尤部落，从此，炎帝、黄帝部落结成联盟，经过长期发展形成日后的华夏族，华夏族是汉族的前身，中华民族的主干部分。黄帝和炎帝被后人尊称为中华民族的人文初祖。A项正确；尧、舜和禹不是人文初祖，排除B、C、D。故选A项。

2. “承天景命，天下一统”是中国历代封建王朝的追求。下图是哪个王朝在经济上巩固统一的措施（ ）



- A. 秦朝 B. 西晋 C. 隋朝 D. 元朝

【答案】A

【解析】

【详解】根据所学可知，春秋战国时期，货币的形制、重量各不相同。秦统一全国后，秦始皇规定货币以圆形方孔铜钱作为全国统一使用的货币。观察题干图片并结合所学知识可知，这是秦朝在经济上统一货币、巩固统一的措施，A项正确；西晋、隋朝和元朝与题干内容无关，排除B、C、D项。故选A项。

3. 唐玄宗统治后期，一场叛乱揭开唐中央政府和地方割据势力之间争斗的序幕，唐朝从此由盛转衰。这场叛乱史称（ ）

- A. 七国之乱 B. 八王之乱 C. 安史之乱 D. 噶尔丹叛乱

【答案】C

【解析】

【详解】结合所学知识可知，唐玄宗统治后期，755年，安禄山借口朝廷出现奸臣和部将史思明一起发动叛乱，史称安史之乱。安史之乱持续八年之久，对社会经济造成极大的破坏，尤其是北方地区遭到浩劫；唐朝的国势由盛转衰；唐朝中央权力衰微，安史旧将和内地节度使权势加大，逐渐形成藩镇割据的局面。C项正确；七国之乱发生在西汉时期，排除A；八王之乱发生在西晋时期，排除B；噶尔丹叛乱，发生在清朝时期，排除D。故选C。

4. 明代李时珍经过27年持续不断的努力，编写出规模空前的药物学著作是（ ）

- A. 《齐民要术》
- B. 《伤寒杂病论》
- C. 《本草纲目》
- D. 《黄帝内经》

【答案】 C

【解析】

【详解】根据所学可知，明朝医药学家李时珍总结前人经验，历时27年编成的一部具有总结性的药物学巨著——《本草纲目》，C项正确；《齐民要术》的作者是北朝的贾思勰，排除A项；《伤寒杂病论》的作者是东汉的张仲景，排除B项；《黄帝内经》分《灵枢》《素问》两部分，为古代医家托轩辕黄帝名之作，排除D项。故选C项。

5. 千百年来，获得土地是农民的愿望。李自成农民起义军和太平天国运动关于土地问题的设想分别是（ ）

- ①“均田免赋”
- ②《天朝田亩制度》
- ③“扶清灭洋”
- ④《中国土地法大纲》

- A. ①②
- B. ①③
- C. ②③
- D. ③④

【答案】 A

【解析】

【详解】结合所学知识可知，明朝末年，李自成率领农民起义军进入中原以后，提出“均田免赋”的口号，得到广大农民的热烈拥护，队伍很快发展到100多万人。1644年，李自成率军攻入西安，建立政权，国号大顺。接着，李自成挥师北上，攻占北京，统治长达276年的明王朝，最终被农民起义推翻了。1853年3月，太平军攻占南京，将南京改名为天京作为都城。太平天国定都天京后，颁布了《天朝田亩制度》，规定不分男女，按人口和年龄平均分配土地。太平天国想通过这个方案，建立“有田同耕，有饭同食，有衣同穿，有钱同使，无处不均匀，无人不他暖”的理想社会。①②符合题意，A项正确；③“扶清灭洋”是义和团运动的口号，④《中国土地法大纲》是中国共产党在解放战争时期进行土地改革颁布的文件，排除BCD，故选A。

6. 中国近代史上签订了一系列不平等条约。其中，赔款数目最庞大、主权丧失最严重的不平等条约是（ ）

- A. 《南京条约》 B. 《天津条约》 C. 《马关条约》 D. 《辛丑条约》

【答案】 D

【解析】

【详解】结合所学知识可知，1901年，清政府在八国联军侵华战争后被迫与英、俄、德、法、美、日、意、奥、比、西、荷11国签订《辛丑条约》，《辛丑条约》赔款4.5亿两白银，规定清政府严禁中国人民反帝斗争等，是中国近代史上赔款数目最庞大、主权丧失最严重的不平等条约，从此，清政府沦为帝国主义列强统治中国的工具，中国完全陷入半殖民地半封建社会的深渊，D项正确；《南京条约》给英国赔款2100万两，《天津条约》给英法赔款六百万两白银，《马关条约》给日本赔款2亿两白银，都不是赔款数目最庞大的条约，排除ABC项。故选D项。

7. “天行健，君子以自强不息”，洋务运动在“自强”口号下创办了一系列军事工业。下列不属于洋务运动期间创办的军事工业是（ ）

- A. 安庆内军械所 B. 江南制造总局
C. 福州船政局 D. 湖北织布局

【答案】 D

【解析】

【详解】据所学知识可知，湖北织布局是洋务运动期间创办的民用工业不是军事工业，D项符合题意，选D项；安庆内军械所、江南制造总局和福州船政局是洋务运动期间创办的军事工业，ABC项不符合题意，排除ABC。故选D项。

8. 为挽救民族危亡，康有为、梁启超等上书光绪帝，请求拒和、迁都、变法，拉开了变法维新运动的序幕。该事件是（ ）

- A. 创办强学会 B. 百日维新 C. 公车上书 D. 创建兴中会

【答案】 C

【解析】

【详解】结合所学知识可知，1895年春，《马关条约》签订的消息传到北京，正在北京参加科举考试的康有为、梁启超等人义愤填膺，联名上书光绪帝，反对同日本人议和，请求变法。即“公车上书”，公车上书揭开了维新变法运动的序幕，A项正确；创办强学会和百日维新与“拉开了变法维新运动的序幕”无关，排除B、C项；创建兴中会是孙中山的革命活动与康有为和梁启超无关，排除D项。故选C项。

9. 从专制到民主是政治发展的趋势，中国近代史上有一个人却倒行逆施。他镇压“二次革命”，接受日本灭亡中国的“二十一条”的大部分内容，复辟帝制。这个人物是（ ）

- A. 吴佩孚 B. 袁世凯 C. 段祺瑞 D. 张作霖

【答案】 B

【解析】

【详解】据所学知识可知，袁世凯上台后，一再破坏责任内阁制，镇压二次革命。为了实现皇帝梦，袁世凯甚至不惜牺牲国家主权和民族利益，接受日本旨在灭亡中国的“二十一条”的大部分内容，以换取日本的支持。1915年底，袁世凯准备元旦登基，复辟帝制，1916年3月，袁世凯在众叛亲离之下被迫宣布取消帝制，B项正确；吴佩孚、段祺瑞和张作霖是军阀头子，材料没有涉及，排除ACD项。故选B项。

10. “一”是开端，是起点。下列事件与“第一”的地位对应正确的是（ ）

- A. 《北京条约》——中国近代史上第一个不平等条约
- B. 戊戌变法——中国历史上第一次近代化运动
- C. 秋收起义——打响武装反抗国民党反动统治的第一枪
- D. 井冈山根据地——第一个农村革命根据地

【答案】 D

【解析】

【详解】据所学知识可知，井冈山革命根据地是第一个农村革命根据地，D项正确；《南京条约》是中国近代史上第一个不平等条约，排除A项；洋务运动是中国历史上第一次近代化运动，排除B项；南昌起义打响了武装反抗国民党反动统治的第一枪，排除C项。故选D项。

11. “我以我血荐轩辕”，面对日本侵略者发动的全面侵华战争，中国人民浴血抗战。全民族抗战开始于（ ）

- A. 九一八事变
- B. 八一三事变
- C. 西安事变
- D. 七七事变

【答案】 D

【解析】

【详解】1937年7月7日，日本侵略军向北平西南的卢沟桥发动突然进攻，中国守军奋起抵抗，这就是“七七事变”，又称卢沟桥事变。七七事变标志着中国全民族抗争的开始，D项正确；九一八事变是中国人民抗日战争的起点，排除A项；八一三事变是日本帝国主义蓄意已久地为扩大侵华战争在中国上海制造的事变，不符合题意，排除B项；西安事变的和平解决揭开了国共两党由内战到联合抗日的序幕，标志着抗日民族统一战线的初步形成，排除C项。故选D项。

12. 小小的西柏坡，毛泽东在此指挥了决定中国前途命运的战略大决战。其中，解放东北全境的是哪一次战役（ ）

- A. 辽沈战役
- B. 平津战役
- C. 淮海战役
- D. 渡江战役

【答案】 A

【解析】

【详解】1948年9月，中共中央军委命令林彪、罗荣桓发起辽沈战役。辽沈战役解放了东北全境，A项

正确；平津战役基本上解放了华北全境，排除 B 项；淮海战役奠了解放长江以南各省的基础，排除 C 项；渡江战役使国民党苦心经营的长江放线，顷刻间土崩瓦解，随后占领南京，结束了国民党在大陆的统治，排除 D 项。故选 A 项。

13. 1956 年底，社会主义基本制度在我国建立起来。这是通过哪场深刻的社会变革实现的（ ）

- A. 土地改革 B. 一五计划 C. 三大改造 D. 改革开放

【答案】 C

【解析】

【详解】 根据所学知识可知，1953 年，我国开始进行对农业、手工业和资本主义工商业的三大改造，到 1956 年底，我国完成社会主义改造，公有制经济已经取代私有制经济在国民经济中占据主导地位，基本实现了生产资料私有制向社会主义公有制的转变，标志着社会主义公有制形式在国民经济中占据主导地位，社会主义制度在我国基本建立起来，我国开始进入社会主义初级阶段，为我国社会主义生产力开辟了迅速发展的道路。C 项正确。ABD 项不符合题意，排除 ABD 项。故选 C 项。

14. 英国国旗缓缓降落，中国五星红旗冉冉升起，英国在香港的殖民统治结束了。下列有关香港问题的表述正确的是（ ）

① 在“一国两制”构想推进下解决 ② 香港回归的时间是 1999 年

③ 标志着中国人民洗雪了百年国耻 ④ 标志着祖国实现完全统一

- A. ①② B. ①③ C. ②③ D. ③④

【答案】 B

【解析】

【详解】 结合所学知识可知，1997 年 7 月 1 日，香港回归，中国恢复对行使香港主权。中华人民共和国香港特别行政区正式成立。香港回归祖国，标志着中国人民洗雪了百年国耻，在完成祖国统一大业的道路上迈出了重要一步。为和平解决台湾问题提供了范例。故①④表述正确；香港回归的时间是 1997 年，②错误；中国至今仍然没有实现完全统一，台湾还没有统一，④错误。所以 B 项正确，排除 ACD 项。故选 B 项。

15. 新中国的成立，结束了我国百年的屈辱外交，翻开了外交事业的新篇章。下列新中国外交成就搭配正确的是（ ）

- A. 尼克松访华——中日建交
B. 万隆会议——中国恢复在联合国的合法席位
C. 田中角荣访华——中美关系开始走向正常化
D. 中国特色大国外交布局——全方位、多层次、立体化

【答案】D

【解析】

【详解】结合所学知识可知，中国特色大国外交全面推进，形成全方位、多层次、立体化的外交布局，中国的国际地位不断提高，成为维护和促进世界和平、稳定与发展的坚定力量，在国际事务中发挥着日益重要的作用，D项正确；1972年尼克松访华，中美关系开始走向正常化，排除A项；1971年10月25日，联合国第26届大会以76票赞成、35票反对、17票弃权的压倒多数，通过提案，恢复中华人民共和国的一切合法席位，排除B项；1972年日本首相田中角荣访华，中日建交，排除C项。故选D项。

16. 下列属于古代埃及文明成果的是（ ）

- A. 《汉谟拉比法典》
- B. 种姓制度
- C. 金字塔
- D. 雅典的民主政治

【答案】C

【解析】

【详解】金字塔是非洲尼罗河流域古埃及文明的代表作，是古代埃及国王的陵墓，是权力的象征，也是埃及人民的骄傲。C正确；《汉谟拉比法典》是古巴比伦文明成果，排除A；种姓制度是古印度文明成果，排除B；雅典民主政治是古希腊文明成果，排除D。故选C项。

17. 这个帝国一分为三，形成以后法兰西、德意志、意大利三个国家的雏形。这个帝国是（ ）

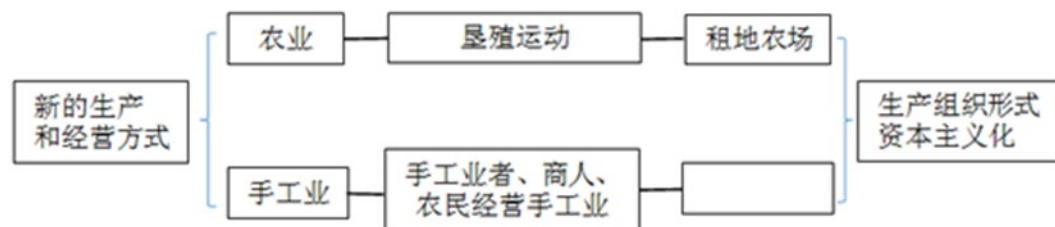
- A. 查理曼帝国
- B. 奥斯曼帝国
- C. 亚历山大帝国
- D. 罗马帝国

【答案】A

【解析】

【详解】814年，查理曼去世，强盛一时的帝国很快走向分裂。843年，查理曼的三个孙子缔结条约，将帝国一分为三，形成以后德意志、法兰西和意大利三个国家的雏形。按照约定，三个王国彼此间不存在隶属关系。题干这个帝国是查理曼帝国，A正确；奥斯曼帝国、亚历山大帝国和罗马帝国均与题干无关，排除BCD项。故选A。

18. 下面图示是西欧经济和社会发展引发的变化。在空格处应填写的内容是（ ）



- A. 手工业生产合作社
- B. 手工工场
- C. 现代工厂
- D. 手工业作坊

【答案】B

【解析】

【详解】根据所学可知，从13世纪开始，商人不仅向工人提供原料，而且还提供统一的生产工具，工人成为完全出卖劳动力的雇佣劳动者，与雇主形成彻底的雇佣关系。由于生产工具统一配备，因而工人常常需要在同一个地点集中劳动，于是就形成了集中的手工工场。雇工分工合作，进一步提高了劳动生产率。土地关系的变化和手工业的发展，推动了农业和手工业生产组织逐渐资本主义化，农业出现了租地农场，手工业出现了手工工场，开始改变中世纪欧洲社会的整体面貌，B项正确；A、C、D项不符合题意。排除A、C、D项。故选B项。

19. 历史上的重大改革，都是在时代呼唤下的伟大社会实践活动。其中，开启俄国近代化进程的改革是（ ）

- A. 1861年农奴制改革 B. 卡德纳斯改革 C. 戈尔巴乔夫改革 D. 彼得一世改革

【答案】D

【解析】

【详解】结合所学知识可知，彼得一世掌权后，为改变俄国落后面貌，使之成为军事强国，以满足向外扩张的野心，1689年决定实行改革，彼得一世改革取得巨大成效，俄国跻身于欧洲强国的行列，开启了俄国近代化进程。D项正确；1861年农奴制改革，使俄国走上发展资本主义道路，与“开启俄国近代化进程”无关，排除A项；卡德纳斯改革发生在墨西哥，与俄国无关，排除B项；戈尔巴乔夫改革发生在20世纪80年代，改革最终失败，导致苏联解体，与“开启俄国近代化进程”无关，排除C项。故选D项。

20. 林肯是最受美国人民爱戴的总统之一。他的贡献是（ ）

- A. 维护了国家统一 B. 领导国家获得独立
C. 起草《独立宣言》 D. 南美的“解放者”

【答案】A

【解析】

【详解】根据所学知识可知，林肯领导了美国南北战争，废除了南方的黑人奴隶制，为北方资本主义的发展扫除了障碍，更主要的是南北战争，北方的胜利，防止了美国的分裂，维护了国家统一，A项正确；领导美国获得独立的是华盛顿，排除B项；起草《独立宣言》的是杰斐逊，排除C项；南美的“解放者”是玻利瓦尔和圣马丁，排除D项。故选A项。

21. 第一次世界大战中有“绞肉机”“地狱”“屠场”之称的战役是（ ）

- A. 凡尔登战役 B. 斯大林格勒保卫战 C. 莫斯科保卫战 D. 诺曼底登陆

【答案】A

【解析】

【详解】据所学可知，1916年，德国和法国在凡尔登展开了一场历时约10个月的阵地战。这场战役异常惨烈，交战双方损失近百万人。由于死亡人数太多，此战役有“绞肉机”“地狱”“屠场”之称。德军进攻被遏

止，法军由战略防御转入战略进攻。成为了第一次世界大战的转折点，A项正确；BCD是第二次世界大战中的战役，排除BCD项。故选A项。

22. “和约规定战前德国的全部海外殖民地由英、法、日、比等国以‘委任统治’形式瓜分”，材料中的“和约”指的是一战后签署的哪个条约（ ）

- A. 《九国公约》 B. 《凡尔赛条约》 C. 《四国条约》 D. 《国际联盟盟约》

【答案】B

【解析】

【详解】根据所学知识可知，1919年6月，参加巴黎和会的帝国主义国家签订了《凡尔赛条约》。条约规定：德国全部海外殖民地由英、法、日等国以“委任统治”的名义瓜分。B项正确；AC是华盛顿会议签订的的条约，排除AC项；《国际联盟盟约》与国际联盟有关，排除D项。故选B项。

23. “圣雄”甘地在印度领导的民族民主运动是（ ）

- A. 华夫脱运动 B. 不结盟运动 C. 非暴力不合作运动 D. 倒幕运动

【答案】C

【解析】

【详解】第一次世界大战后，亚非拉民族民主运动高涨。发生于此时的是甘地领导的非暴力不合作运动。1920年，甘地号召印度民众开展非暴力不合作运动。非暴力不合作运动是由甘地领导的印度人民反抗英国殖民统治的运动。C项正确；华夫脱运动发生在埃及，排除A项；不结盟运动时二战后有南斯拉夫倡导的，排除B项；倒幕运动是推翻幕府统治的运动，发生在日本，排除D项。故选C项。

24. 联合国是人类构建世界和平的成果，也是影响最大的国际组织，在维护国际和平与安全方面发挥了积极作用。决定二战后成立联合国的国际会议是（ ）

- A. 华盛顿会议 B. 巴黎和会 C. 波茨坦会议 D. 雅尔塔会议

【答案】D

【解析】

【详解】1945年10月24日，经安理会五个常任理事国和大多数签署国的批准，《联合国宪章》正式生效，联合国正式成立。联合国是当今世界上最大、最重要、最具代表性和权威性的国际组织。安理会常任理事国拥有否决权。决定建立联合国的会议是1945年2月召开的雅尔塔会议。联合国安理会常任理事国由英、法、美、苏、中五国组成。华盛顿会议和巴黎和会是一战后帝国主义召开的，与题干不符，排除AB；二战期间的波茨坦会议发表《波茨坦公告》，督促日本政府无条件投降，排除C。故选D。

25. 美国把欧洲看作全球战略的重点和遏制苏联扩张的第一线。美国对苏冷战成立的军事集团是（ ）

- A. 华约 B. 北约 C. 三国同盟 D. 三国协约

【答案】B

【解析】

【详解】1947年，杜鲁门提出的遏制共产主义、干涉别国内政、加紧控制其他国家的纲领和政策，被称为杜鲁门主义。杜鲁门主义的出台，标志着冷战的开始。1949年，美、英、法等12个国家在华盛顿集会，签订《北大西洋公约》，建立了以美国为首的北大西洋公约组织，形成了西方集体防御体系，以达到对抗苏联、称霸世界的目的。1955年，苏联、捷克斯洛伐克等8国在华沙缔结《华沙条约》，成立了以苏联为首的华沙条约组织。北约组织和华约组织的建立，标志着美苏两极对峙局面的形成，B项正确，排除A项；三国同盟、三国协约是一战前形成的军事组织，排除CD项。故选B项。

二、问答题（本大题共2小题，共18.0分）

26. 各民族交融汇聚成多元一体，逐渐形成中华民族共同体意识。观察图片，回答下列问题。

鲜卑姓	汉姓	鲜卑姓	汉姓			
拓跋	元	贺赖	贺			
邱穆棱	穆	独孤	刘			
步六孤	陆	贺楼	楼			
图一	图二			图三在南京举行的中国战区受降仪式上侵华日军总司令冈村宁次在投降书上签字	图四	

- (1) 图一所示是我国古代哪次改革？这次改革的影响是什么？
- (2) 图二所示是哪个资产阶级革命政党的政治纲领？孙中山在《民报》发刊词中将此纲领阐发为什么？
- (3) 近代以来，中华民族面临深重的危机。图三所示战争胜利的决定性因素是什么？

(4) 依据图四回答，新中国实施的基本政治制度是什么？这一制度是哪部具有临时宪法作用的文件确定下来的？我国在元朝或清朝时期设立的管辖西藏地区的机构是什么？

【答案】 (1) 孝文帝改革；促进了民族交融，增强了北魏实力。（答出一点即可）

(2) 中国同盟会或同盟会；三民主义或民族、民权、民生。

(3) 巨大的民族觉醒；空前的民族团结和英勇的民族抗争。（须体现民族觉醒、团结合作、英勇抗争等相近词语，至少两个方面）

(4) 民族区域自治制度或民族区域自治。《中国人民政治协商会议共同纲领》或《共同纲领》。元朝：宣政院、宣慰使司都元帅府；清朝：驻藏大臣、噶厦。（各答出一点即可）

【解析】

【详解】 (1) 第一小问，观察图一图片并结合所学知识可知，图一所示是改汉姓，这是我国古代北魏孝文帝改革的内容。第二小问，北魏孝文帝改革促进了民族交融，增强了北魏实力。

(2) 第一小问，观察图二图片并结合所学知识可知，图二所示“驱除鞑虏恢复中华”“建立民国平均地权”是中国同盟会的政治纲领。第二小问，孙中山在《民报》发刊词中将此纲领阐发为“民族”“民权”“民生”三大主义，合称“三民主义”。

(3) 观察图三图片并结合所学知识可知，图三所示的是抗日战争的胜利，空前的民族团结和英勇的民族抗争是抗日战争的胜利的的决定性因素。

(4) 第一小问，观察图四图片并结合所学知识可知，新中国实施的基本政治制度是民族区域自治制度。第二小问，1949年通过的《中国人民政治协商会议共同纲领》，将实行民族区域自治作为一项基本政治制度确定下来。第三小问，元朝建立后，对西藏地区行使管理权，在这一地区设置宣慰使司都元帅府，由宣政院直接统辖，掌管西藏的军民各项事务。朝廷还在当地设置地方机构，任命官员征收赋税，屯驻军队，实行充分和有效的管理。从此中央政府对西藏正式行使行政管辖。1727年，清朝在西藏设置驻藏大臣，监督西藏地方政务。1751年，清朝在西藏地方设立噶厦，授达赖喇嘛和驻藏大臣管理政教事务。因此，元朝：宣政院、宣慰使司都元帅府；清朝：驻藏大臣、噶厦。（各答出一点即可）。

27. 法律是维护社会秩序，促进社会发展的保障。结合所学，回答下列问题。

(1) 战国时期，秦国的哪次改革使其一跃成为最强盛的诸侯国？这次改革体现的中央集权思想来自于哪一家思想学派？

(2) 西汉文景时期，重视“以德化民”，废除了一些严刑峻法，这一时期出现的治世局面是什么？唐太宗时期，制定法律，减省刑罚，又出现了哪一治世局面？

(3) 中国历史上第一部具有资产阶级共和国宪法性质的文件是什么？

(4) 1954年《中华人民共和国宪法》确定我国的根本政治制度是什么？

(5) 罗马共和国时期，颁布了哪部成文法是罗马法制建设的第一步？

- (6) 为了整理法国大革命的立法成果，1804年，法国颁布了哪部民法典？
- (7) 世界上第一部资产阶级成文宪法是什么？宪法依据什么原则设计了联邦制共和国？

【答案】 (1) 商鞅变法；法家。

(2) 文景之治；贞观之治。

(3) 《中华民国临时约法》。

(4) 人民代表大会制度。

(5) 《十二铜表法》。

(6) 《拿破仑法典》或《法国民法典》。

(7) 美国1787年宪法；分权制衡或三权分立。

【解析】

【详解】 (1) 根据所学可知，战国时期，秦国的商鞅变法使其一跃成为最强盛的诸侯国；这次改革体现的中央集权思想来自于法家。

(2) 根据所学可知，西汉文景时期，重视“以德化民”，废除了一些严刑峻法，这一时期出现 治世局面是文景之治；唐太宗时期，制定法律，减省刑罚，又出现了贞观之治。

(3) 根据所学可知，中国历史上第一部具有资产阶级共和国宪法性质的文件是《中华民国临时约法》。

(4) 根据所学可知，1954年《中华人民共和国宪法》确定我国的根本政治制度是人民代表大会制度。

(5) 根据所学可知，罗马共和国时期，颁布了《十二铜表法》是罗马法制建设的第一步。

(6) 根据所学可知，为了整理法国大革命的立法成果，1804年，法国颁布的民法典是《拿破仑法典》或《法国民法典》。

(7) 根据所学可知，世界上第一部资产阶级成文宪法是美国1787年宪法；宪法依据分权制衡或三权分立原则设计了联邦制共和国。

三、材料解析题 (本大题共3小题，共32.0分)

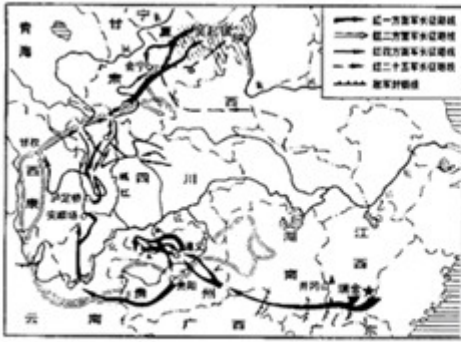
28. 信仰是灯塔，照亮前行的方向。先进的中国人在黑暗中选择信仰，在逆境中坚守信仰。

阅读材料，回答下列问题。

材料一：五四运动前后，我国一批先进知识分子和革命青年，在追求真理中传播新思想新文化，勇于打破封建思想的桎梏，猛烈冲击了几千年来的封建旧礼教、旧道德、旧思想、旧文化。五四运动改变了以往只有觉悟的革命者而缺少觉醒的人民大众的斗争状况，实现了中国人民和中华民族自鸦片战争以来第一次全面觉醒。

——摘自习近平《在纪念五四运动100周年大会上的讲话》

材料二：在危机与困难的关头，中国共产党总能作出正确的选择并执着的坚守。



图一中国工农红军长征路线示意图



图二中国人民志愿军跨过鸭绿江

材料三：邓小平在同美国大不列颠百科全书副总编吉布尼等人的谈话中，从社会经济性质的角度指出：……社会主义也可以搞市场经济。我们是计划经济为主，也结合市场经济，……1992年，在邓小平南方谈话的推动下，理论界展开了新一轮关于计划与市场关系的大讨论。

——摘编自《义务教育历史课程标准（2011年版）解读》

(1) 结合材料一及所学知识回答，1915年发起的“猛烈冲击了几千年来的封建旧礼教、旧道德、旧思想、旧文化”的思想解放运动是什么？哪本杂志成为这场运动最为重要的阵地？五四运动促进了什么思想理论的传播，为中国共产党成立做了思想上的准备？这种思想理论诞生的标志是什么？

(2) 依据材料二中的图一回答，在长征危机关头，中国共产党在哪里召开的会议肯定了毛泽东的正确军事主张？长征胜利结束的会师地点在哪里？

(3) 依据材料二中的图二回答，当新中国安全面临严重威胁时，中国共产党作出的正确抉择是什么？此抉择有怎样伟大的历史意义？

(4) 依据材料三回答，在“社会主义也可以搞市场经济”这种论断的推动下，中国共产党明确提出建立怎样的经济体制？

(5) 综合上述材料，你能得到什么启示？

【答案】 (1) 新文化运动；《新青年》；马克思主义；《共产党宣言》。

(2) 遵义；会宁。 (3) 出兵朝鲜（抗美援朝；抗美援朝，保家卫国等）；意义：抵御了帝国主义侵略扩张，捍卫了新中国安全，保卫了中国人民和平生活，稳定了朝鲜半岛局势，维护了亚洲和世界和平，大大提高了我国的国际地位，是中国人民站起来后屹立于世界东方的宣言书，是中华民族走向伟大复兴的重要里程碑。

(4) 社会主义市场经济体制。

(5) 思想解放、善于学习先进文化、弘扬长征精神、抗美援朝精神（如爱国主义、国际主义、革命英雄主义、革命乐观主义、英勇无畏、坚定信念、乐观向上等）、党的正确决策、体制创新或创新意识、改革开放、发展经济等。（意思相近即可）

【解析】

【小问 1 详解】

根据所学知识可知，1915 年，陈独秀在上海创办了《青年杂志》，并在创刊号上发表了《警告青年》一文，向几千年来的封建旧礼教、旧道德、旧思想、旧文化发起了猛烈冲击，新文化运动兴起。五四运动中，马克思主义得到了传播。马克思主义的传播为中国共产党的成立做了思想上的准备。1848 年，《共产党宣言》的发表标志着马克思主义的诞生。

【小问 2 详解】

根据所学知识可知，1935 年，遵义会议召开，会上集中全力纠正博古等人在军事上和组织上的“左”的错误，肯定了毛泽东的正确军事主张，选举毛泽东为中央政治局常委，取消了博古、李德的军事最高指挥权。根据地图可知，长征结束的地点是甘肃会宁。

【小问 3 详解】

根据材料二中的图二可知，反映的历史事件是抗美援朝战争。新中国安全面临严重威胁时，中国共产党作出的正确抉择是抗美援朝，保家卫国。抗美援朝战争最终取得了胜利。抵御了帝国主义侵略扩张，捍卫了新中国安全，保卫了中国人民和平生活，稳定了朝鲜半岛局势，维护了亚洲和世界和平，大大提高了我国的国际地位，是中国人民站起来后屹立于世界东方的宣言书，是中华民族走向伟大复兴的重要里程碑。

【小问 4 详解】

根据所学知识可知，1992 年，中共十四大召开，会上，确立了建立社会主义市场经济体制的目标。

【小问 5 详解】

根据上述材料和问题的探究可知，新文化运动解放了人们思想，推动了社会进步，给我们带来的启示是思想解放、善于学习先进文化。长征和抗美援朝战争形成了长征精神和抗美援朝精神，值得我们继承发扬。进行抗美援朝和建立市场经济体制，是党正确决策，因此我们要坚持党的领导，由此给我们带来的启示是坚持党的正确决策、体制创新或创新意识、改革开放、发展经济。

29. 科技和变革是人类社会发展进步的推动力。阅读材料，回答下列问题。

材料一：举世皆知的印刷术、火药和磁石（指南针），人类的世界因为这三种发明而为之改观。首先在学术上，其次在战争中，最后是在航行方面，而因此又引出了不计其数的变化。由此，人类的文明也得到了极大的发展。

——摘编自 17 世纪英国哲学家培根《新工具》

材料二：欧洲人口在 1750 年时有 1.4 亿，到 1800 年时达 1.88 亿，1850 年达到 2.66 亿，几乎每半个世纪增加约 40%。……工业革命开始以后，在英国，生活在 2 万人以上城市中的人口在 1801 年是 150 万，占人口总数的 17%，1851 年是 630 万，占人口总数的 35%；1891 年是 1560 万，占人口总数的 54%。其他工业化国家的情况也大致如此。

——摘编自吴于廑、齐世荣主编《世界史·近代史编》

材料三：17世纪初，伴随着资本主义经济的发展，……而此时英国斯图亚特王朝统治者却在政治上鼓吹“君权神授”，维护封建专制思想；经济上，不通过议会而强行征税，垄断商品专卖权，控制国内外贸易。……损害了资产阶级和新贵族的利益。……18世纪开始，法国封建制度日益腐朽没落。……加重税收等措施阻碍了资本主义的发展，旧制度对经济发展的制约，致使法国各种社会矛盾激化。

——摘编自义务教育教科书《教师教学用书》

材料四：他（罗斯福）说：“从来在美国没有另外一个人比我对资本主义的制度的私人企业、私有财产和私人利润有着更坚强的信仰……当这个私人利润和自由企业的制度面临到毁灭边缘的时候，是这个政府挽救了它。”

——摘自黄安年《美国社会经济史论》

(1) 结合材料一及所学知识回答，“磁石”在航行方面的作用是从哪个朝代开始的？从“印刷术、火药”中任选一项，谈谈其对人类文明进程起到怎样的作用？中国古代科技领先世界，新中国成立后，科技更是飞速发展，请列举新中国科技成就一例。

(2) 依据材料二回答，“工业革命”使工业化国家发生了哪两个重大变化？列举两次工业革命期间的重大发明一例。

(3) 依据材料三，分析英、法两国爆发革命的共同原因是什么？两国革命有何共同影响？

(4) 依据材料四及所学知识回答，当时美国经济面临怎样的困境？“这个政府”采用什么手段“挽救了它”？

【答案】 (1) 北宋末年（北宋、宋朝）；印刷术的影响：促进文化交流、文化传播、教育发展、对人类文明的发展产生重大影响等；火药的影响：对欧洲的火器制造和作战方式产生巨大影响，推动了欧洲社会的变革等。成就：“两弹一星”（原子弹、氢弹、导弹、第一颗人造地球卫星、东方红一号）、籼型杂交水稻、青蒿素、神舟系列、天宫系列、悟空、墨子等。

(2) 人口增长；城市化或城市化进程加快；珍妮机、蒸汽机、蒸汽机车或火车、轮船、发电机、电动机、内燃机、飞机、汽车、白炽灯泡或电灯、电话、电影摄影机、放映机、碱性蓄电池、电报、现代炸药、赛璐珞、人造纤维等。

(3) 原因：封建专制（封建制度、君主专制等）阻碍资本主义发展。影响：推翻封建君主专制（君主统治、封建制度等）、为资本主义发展开辟道路（确立资本主义制度、有利于资本主义发展等）、都具有世界性影响（推动世界的发展等）。

(4) 经济大危机（经济危机、盲目扩大生产导致的经济混乱、生产相对过剩导致的经济混乱；银行倒闭，工厂破产，工人失业等）。国家（政府）干预或新政。

【解析】

【小问1详解】

据材料“磁石在航行方面的作用”可知，“磁石”指的是指南针，指南针应用于航行方面是在北宋末年。

印刷术：据所学可知，印刷术在促进文化交流、文化传播、教育发展、对人类文明 发展产生重大影响等。

火药：据所学可知，火药对欧洲的火器制造和作战方式产生巨大影响，推动了欧洲社会的变革等。（任选其一进行作答即可）

举例：据所学可知有“两弹一星”（原子弹、氢弹、导弹、第一颗人造地球卫星、东方红一号）、籼型杂交水稻、青蒿素、神舟系列、天宫系列、悟空、墨子等。

【小问2详解】

变化：据材料“欧洲人口在1750年时有1.4亿，到1800年时达1.88亿，1850年达到2.66亿，几乎每半个世纪增加约40%”可知，促进了人口增长；据材料“在英国，生活在2万人以上城市中的人口在1801年是150万，占人口总数的17%，1851年是630万，占人口……”可知，工业革命促进了城市化进程，城市化进程加快。

举例：据所学可知两次工业革命期间的重大发明包括珍妮机、蒸汽机、蒸汽机车或火车、轮船、发电机、电动机、内燃机、飞机、汽车、白炽灯泡或电灯、电话、电影摄影机、放映机、碱性蓄电池、电报、现代炸药、赛璐珞、人造纤维等。

【小问3详解】

原因：据材料“伴随着资本主义经济的发展，……而此时英国斯图亚特王朝统治者却在政治上鼓吹‘君权神授’，维护封建专制思想；经济上，不通过议会而强行征税，垄断商品专卖权，控制国内外贸易。……损害了资产阶级和新贵族的利益。”可知，斯图亚特的专制统治阻碍了英国资本主义经济的发展；据材料“……18世纪开始，法国封建制度日益腐朽没落”可知，法国封建制度阻碍了资本主义的发展。故英法两国爆发革命的共同原因是封建专制阻碍资本主义发展。

影响：据所学可知，英法资产阶级革命推翻封建君主专制、为资本主义发展开辟道路；代表了世界发展的趋势，都具有世界性影响等。

【小问4详解】

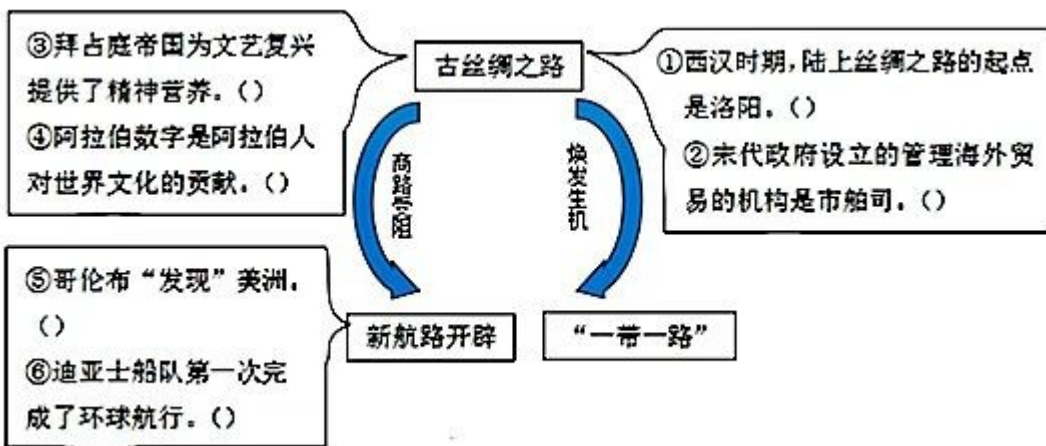
（4）困境：据材料“从来在美国没有另外一个人比我对资本主义的制度的私人企业、私有财产和私人利润有着更坚强的信仰……当这个私人利润和自由企业的制度面临到毁灭边缘的时候，是这个政府挽救了它。”并结合所学可知，（罗斯福）美国正面临着经济大危机。

手段：据所学可知，罗斯福新政是通过国家干预经济缓和了危机。

30. 开放促进步，封闭致衰落。结合所学，完成下列探究。

开放交流】

人类的交往交流深刻影响着世界的发展变化。



(1) 依据上图，结合所学知识，判断对错。

【风云变幻】

西方大航海及殖民扩张拉开了世界文明变化的序幕。中日两国都从固步自封到被迫改变……

		<p>资料卡</p> <p>19世纪中期，日本和大多数亚洲国家一样，面临着沦为殖民地的危险，1868年，明治政府开始实行一系列改革。</p>
图一	图二广州十三行	图三

(2) 依据图一，写出西方殖民扩张活动的名称。

(3) 依据图二回答，清朝前期采取的对外政策是什么？

(4) 依据图三及所学知识回答，“明治政府开始实行一系列改革”在经济方面的措施是什么？这次改革的积极影响是什么？

【走向复兴】

改革开放后，尤其是中共十八大以来，在习近平新时代中国特色社会主义思想的指引下，中华民族伟大复兴的中国梦一定能够实现！

(5) 2001年，中国加入哪一全球性国际经济组织，为中国参与经济全球化开辟了新途径？

(6) 中共十八大以来，中国加快构建开放型经济新体制的建设成就有哪些？

【答案】 (1) ①错误；②正确；③正确；④错误；⑤正确；⑥错误。

(2) “三角贸易”（奴隶贸易、黑奴贸易）。

(3) 闭关锁国政策。 (4) 经济上：推行地税改革，以“殖产兴业”为口号，大力发展近代经济。积极影响：是日本历史的重大转折点，日本走上发展资本主义道路；实现了富国强兵，跻身于资本主义强国之列等。

(5) 世界贸易组织（世贸组织、WTO）。

(6) 实施“一带一路”建设、筹建和成立亚洲基础设施投资银行或亚投行、加快自由贸易试验区建设、推进人民币国际化进程。

【解析】

【详解】（1）依据图一，结合所学知识，西汉时期，陆上丝绸之路的起点是长安，故①表述错误。结合所学知识可知，宋代政府鼓励海外贸易，设立的管理海外贸易的机构是市舶司，②表述正确；拜占庭帝国是一个地跨欧、亚、非三洲的大帝国。它对基督教、希腊罗马的古典文化传统，以及西亚、北非等地的东方文化因素兼收并蓄，创造出独具特色的拜占庭文化，拜占庭帝国为文艺复兴提供了精神营养；③表述正确。古代印度人发明0-9的计数法，12世纪时阿拉伯人学会了这种方法，并加以改造，最后传播到欧洲，被称为“阿拉伯数字”。阿拉伯数字是印度人对世界文化的贡献。故④表述错误；⑤1492年8月，受西班牙王室资助，哥伦布率领由87名船员和3艘船组成的船队从西班牙出发，开始横渡大西洋。10月到达巴哈马群岛中的圣萨尔瓦多岛。此后，他们又“发现”了古巴和海地。哥伦布发现了美洲新大陆。故⑤表述正确；⑥根据所学可知，1519年，麦哲伦奉西班牙国王之命，继续寻找盛产黄金和香料的亚洲。经过3年的航程，船队穿越大西洋、太平洋和印度洋，于1522年返回欧洲。这次航行是世界航海史上的一次创举，麦哲伦成为第一位横渡太平洋的欧洲人，他的船队第一次完成了环球航行，证明了地圆说的正确。故⑥表述错误。

（2）依据图二可知，图二反映的西方殖民扩张活动是三角贸易。三角贸易指的是欧洲殖民者带着廉价的工业品从欧洲出发，到非洲购买、换取甚至直接猎取黑人（出程），用船运到美洲、卖给种植园主充当奴隶，然后带着满船的黄金、白银和欧洲需要的经济作物返回欧洲。由于这种交易的全程航线呈三角形，史称三角贸易。

（3）依据图三可知，清朝前期采取的对外政策是闭关锁国政策。清朝前期，为巩固清王朝的统治，清政府实行闭关锁国政策，严格限制对外贸易，又限制商民出海，只开广州一处为对外通商口岸，政府特许设立了广州十三行统一经营管理对外贸易，闭关锁国对西方殖民者的入侵起过一定的积极作用，但最终阻碍了中国社会的进步，使中国失去对外贸易的主动权和机遇，使中国在世界上逐步落伍，导致近代中国大大落后于西方，造成近代中国落后挨打的局面。

（4）第一小问，依据图四及所学知识可知，“明治政府开始实行一系列改革”在经济方面的措施是推行地税改革，以“殖产兴业”为口号，大力发展近代经济。第二小问，日本明治维新是日本历史的重大转折点，日本走上发展资本主义道路；实现了富国强兵，跻身于资本主义强国之列等。

（5）结合所学知识可知，2001年，中国加入的全球性国际经济组织是世界贸易组织，为中国参与经济全球化开辟了新途径。

（6）中共十八大以来，中国加快构建开放型经济新体制，深入实施“一带一路”建设、筹建和成立亚洲基础设施投资银行或亚投行、加快自由贸易试验区建设、推进人民币国际化进程。

