

## 历史部分

一、单项选择题:每小题只有一个选项符合题意,本题共 20 小题,每小题 1 分,计 20 分。

1. 为河姆渡人提供稳定食物供应的农作物是

- A. 粟                                      B. 水稻                                      C. 玉米                                      D. 小麦

【答案】 B

【解析】

【详解】 河姆渡人生活距今约 7000 千年长江流域的浙江余姚,学会种植水稻,B 项正确;粟主要在北方推广,排除 A 项;玉米是明朝从南美洲引进,排除 C 项;小麦是在春秋战国时期传入中国的,排除 D 项。故选 B 项。

2. 三国两晋南北朝时期政权更迭频繁。下图①处的政权是



- A. 西晋                                      B. 东晋                                      C. 北魏                                      D. 北齐

【答案】 B

【解析】

【详解】 由图可知北方是十六国时代,与十六国并存的是东晋,B 项正确;西晋是统一王朝,排除 A 项;北魏与北齐都是北朝时期与南方宋、齐、梁、陈并存的,排除 CD 项。故选 B 项。

3. 宋初,大臣赵普提出“稍夺其权,制其钱谷,收其精兵,则天下自安矣。”此建议针对的问题是

- A. 农民起义                                      B. 积贫积弱                                      C. 外族入侵                                      D. 君弱臣强

【答案】 D

【解析】

【详解】 结合所学知识可知,宋太祖深知唐末以来武将专权 积弊,加强中央集权,在军事上,解除禁军将领的兵权,还控制军队的调动,使禁军将领有握兵之重而无发兵之权。政治上,在中央,为防止宰相权力过大,采取分化事权的办法,削弱相权,设置三司使分化宰相的财政大权,设置枢密使分化宰相的军事大权。地方上宋太祖为加强控制,派文臣担任地方长官,为防止知州权力过大难以控制,实施三年一换制

度，还在各州设置通判，分割知州权力。经济上，在地方设置转运使，把地方财赋收归中央。通过这些措施，宋朝中央集权达到前所未有的程度，皇权大大加强。因此，“稍夺其权，制其钱谷，收其精兵，则天下自安矣。”此建议针对的问题是君弱臣强。D项正确；综上所述可知材料中的建议针对的是君弱臣强，而非农民起义、积贫积弱和外族入侵，排除ABC项。故选D项。

4. 乾隆时期出现了自发的移民。山东、河北向东北移民，福建向台湾移民，除国内移民外，也有向海外移民的现象。造成这一移民风潮的主要原因是

- A. 政局动荡                      B. 经济衰退                      C. 人地矛盾                      D. 自然灾害

【答案】C

【解析】

【详解】通过材料可以看出，从清朝乾隆年间开始，国内移民和向国外移民现象越来越多，结合所学知识可知，这主要是因为人地矛盾突出，清政府放松了对人民的人身控制，C项正确；政局动荡不是当时移民现象出现的主要原因，排除A项；乾隆时期出现盛世局面，排除B项；自然灾害不是当时移民现象出现的主要原因，排除D项。故选C项。

5. 蒋廷黻在《中国近代史》一书中指出：“自强运动的领导者没有一个完整的建设计划，他们起初只知道国防近代化的必要性。”下列企业的创办能够体现这一观点的是

- A. 福州船政局                      B. 轮船招商局                      C. 开平煤矿                      D. 汉阳铁厂

【答案】A

【解析】

【详解】依据题干“自强运动的领导者”、“知道国防近代化的必要性”可知，反映的是洋务运动。洋务运动是一场“自强”、“求富”的自救运动，由材料中的“国防近代化”可知体现了洋务运动的“自强”，创办军事工业；“再进一步”的举动就是求富，创办民用工业，福州船政局属于自强的表现；A项正确；轮船招商局、开平煤矿和汉阳铁厂都是民用工业，属于求富的表现，排除BCD项。故选A项。

6. 下图是 1918 年沈伯尘针对时弊创作的漫画，该作品



- A. 揭露了晚清政府的腐败  
B. 描绘了二次革命的过程  
C. 反映了军阀割据的危害  
D. 说明了北伐战争的局限

【答案】C

【解析】

【详解】依据漫画可知反映了这一时期军阀混战，民不聊生，再者，从时间上来看 1918 年也符合北洋军阀割据，C 项正确；1918 年已经不存在清政府，排除 A 项；二次革命是在 1913 年，排除 B 项；北伐战争开始于 1926 年，排除 D 项。故选 C 项。

7. 下表是 1916-1919 年荣氏兄弟创办的申新纺纱厂盈利变化情况。为这一时期民族工业迅速发展提供良机的是

年份	1916	1917	1918	1919
利润(万元)	2	12	22	104

- A. 洋务运动的开展
- B. 实业救国思潮的兴起
- C. 欧洲列强忙于一战
- D. 南京国民政府的鼓励

【答案】C

【解析】

【详解】表格反映了 1916—1919 年荣氏兄弟创办的申新纺纱厂盈利不断增加，而 1914—1918 年的第一次世界大战使中国民族工业得到进一步的发展，迎来“短暂的春天”，究其原因是因为欧洲列强忙于一战，放松对中国的经济侵略。C 项正确；洋务运动开展是 19 世纪 60-90 年代，排除 A 项；实业救国思潮的兴起是 19 世纪末，排除 B 项；南京国民政府成立于 1927 年，排除 D 项。故选 C 项。

8. 1927 年，这里点燃了“工农武装割据”的星星之火，照亮了中国革命的前程。“这里”指的是


- A. 上海
- B. 南昌
- C. 长沙
- D. 井冈山

【答案】D

【解析】

【详解】结合所学内容可知，毛泽东领导秋收起义失败后，退到文家市，决定放弃长沙，向敌人力量薄弱的井冈山进军，从而点燃了“工农武装割据”的“星星之火”。D 项正确；毛泽东在井冈山地区点起了中国革命的“星星之火”，不是在上海、南昌和长沙，排除 ABC 项。故选 D 项。

9. 下图中陈毅元帅这首诗在盐阜大地广为传颂，热血沸腾的字里行间记载着八路军、新四军胜利会师的历史性时刻。这一时刻属于



- A. 国民革命时期
- B. 国共对峙时期
- C. 抗日战争时期
- D. 解放战争时期

【答案】 C

【解析】

【详解】 结合所学知识可知，八路军、新四军是抗日战争时期我党军队名称。C项正确；国民革命时期、国共对峙时期没有八路军和新四军的名称，解放战争时期使用的称呼是解放军，排除ABD项。故选C项。

10. “截断宿蚌路，歼敌于淮河长江以北，对敌人进行“中间突破”，加以各个就地歼灭”这一战略方针指导了

- A. 辽沈战役
- B. 淮海战役
- C. 平津战役
- D. 渡江战役

【答案】 B

【解析】

【详解】 依据题干“截断宿蚌路”“歼敌于淮河长江以北”可知此次战役发生在长江以北淮河一带，由此可知该战役是淮海战役。B项正确；辽沈战役是在东北地区，平津战役是在平津地区，都与“截断宿蚌路”“歼敌于淮河长江以北”的描述不符，排除AC项；渡江战役是指渡过长江，也和“胡瑗和长江以北”的描述不符，排除D项。故选B项。

11. “发展生产的人为障碍消除，广大翻身农民的生产积极性提高，因此，1952年湖南的丰产运动成绩显著。”该材料可以佐证

- A. 土地改革的成效性
- B. 三大改造的必要性
- C. 工业建设的迫切性
- D. 社会主义的优越性

【答案】 A

【解析】

【详解】 依据题干时间可知1952年是土地改革时期，1952年湖南的丰产运动成绩显著说明土地改革调动了农民生产积极性，有力地推动了大生产运动。A项正确；三大改造和工业建设都开始于1953年，排除BC项；社会主义制度到1956年三大改造完成后才建立起来，排除D项。故选A项。

12. 中古西欧社会，僧侣是祈祷的人，骑士是作战的人，农民是劳作的人，其中“僧侣”来自于

- A. 佛教
- B. 基督教
- C. 伊斯兰教
- D. 印度教

【答案】B

【解析】

【详解】由题意可知中古西欧社会，僧侣是祈祷的人，骑士是作战的人，农民是劳作的人，它体现了中古西欧社会的分工。在中古西欧社会基督教会统治之下，居民几乎都是基督教徒。所以其中“僧侣”来自于基督教，而非佛教、伊斯兰教和印度教，B项正确，排除ACD项。故选B项。

13. 世界的植物食品中，约三分之一的品种源自美洲。这些物种最早从美洲传出是由

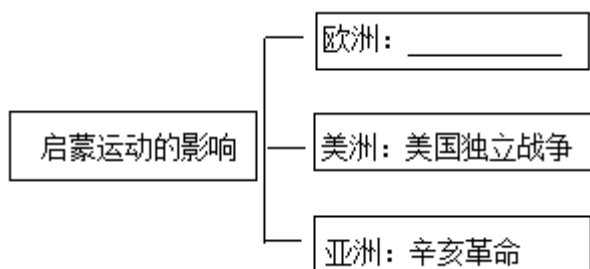
- A. 丝绸之路开通                  B. 郑和下西洋                  C. 庄园经济发展                  D. 新航路开辟

【答案】D

【解析】

【详解】据材料“世界的植物食品中，约三分之一的品种源自美洲”。结合所学可知，新航路开辟后，欧洲人把欧亚大陆的马、牛、猪、羊、鸡等家畜，小麦、燕麦、大麦、裸麦等农作物，橄榄和葡萄等水果引入美洲；美洲的特产马铃薯、玉米、番茄、甘薯、花生、南瓜和可可等也流向世界各地。”新航路的开辟推动了人口迁徙，促进了动植物的交流，带动了世界范围内的物种交流，世界各地往来日益密切，D项正确；ABC项材料中没有体现，排除。故选D项。

14. 知识结构图是一种有效的历史学习方法。下图横线处最恰当的内容应该是



- A. 大化改新  
B. 工业革命  
C. 法国大革命  
D. 新文化运动

【答案】C

【解析】

【详解】结合所学可知，法国启蒙运动所宣传的天赋人权、三权分立、自由、平等、民主和法制的思想，推动了资产阶级的革命和改革，为法国大革命作了重要的理论准备，推动了欧美国家的革命与改革，还激励和促进了中国和日本等东方国家。C项正确；大化改新发生在7世纪的日本，排除A项；工业革命的发生不是因为启蒙运动的影响，排除B项；新文化运动发生在20世纪初的中国，排除D项。故选C项。

15. “它为美国北部赢得了有利的国际环境，使早在1833年就宣布废除奴隶制的英国很难继续支持南部。”

材料中的“它”指的是

- A. 《权利法案》                      B. 《共产党宣言》                      C. 《人权宣言》                      D. 《解放黑人奴隶宣言》

【答案】 D

【解析】

【详解】根据材料可知，“它”废除了奴隶制，结合所学知识可知，美国南北战争期间，北方的联邦政府颁布了《解放黑人奴隶宣言》，废除了非人道的奴隶制，极大地调动了国内黑人奴隶的斗争积极性，也为联邦政府赢得了有利的国际环境，D项正确；1689年，英国《权利法案》颁布，标志着君主立宪制确立起来，排除A项；1848年《共产党宣言》发表，标志着马克思主义的诞生，排除B项；1789年法国《人权宣言》发表，排除C项。故选D项。

16. 明治维新期间，鹿鸣馆是贵族官僚进行国际社交活动的场所，可在其中举办欧式的娱乐活动。材料体现的改革措施是

- A. 废藩置县                      B. 殖产兴业                      C. 地税改革                      D. 文明开化

【答案】 D

【解析】

【详解】由题意“鹿鸣馆是贵族官僚进行国际社交活动的场所，可在其中举办欧式的娱乐活动。”可知鹿鸣馆是当时西化的达官贵人的娱乐社交场所，日本社会生活欧化的象征，D项正确；综上所述可知材料体现的措施是文明开化，而非废藩置县、殖产兴业和地税改革，排除ABC项。故选D项。

17. 1922年，列宁在回答记者提问时说：“现在，农民精力充沛地、废寝忘食地重整自己的耕地，修复自己的农具、房舍、各种设施。”出现这一现象是因为

- A. 十月革命的胜利                      B. 苏维埃政权的建立  
C. 新经济政策的实施                      D. 农业集体化的开展

【答案】 C

【解析】

【详解】由“1922年、列宁”结合所学，1921年列宁开始以新经济政策代替战时共产主义政策，新经济政策用固定的粮食税代替余粮征集制，纳税后剩下的粮食归农民自己支配，提高了农民生产的积极性，因此出现材料中的现象，C项正确；十月革命胜利是1917年，排除A项；苏维埃政权的建立是十月革命胜利后，排除B项；农业集体化的开展是斯大林模式时期，排除D项。故选C项。

18. 罗斯福说：“从来在美国没有另外一个人比我对资本主义制度的私人企业、私有财产和私人利润有着更坚定的信仰……当这个私人利润和自由企业的制度面临毁灭边缘的时候，是这个政府挽救了它。”其意在表明新政

- A. 彻底消除了经济大危机                      B. 恢复了自由放任政策

C. 解决了社会的根本矛盾

D. 维护了资产阶级利益

【答案】D

【解析】

【详解】罗斯福的话说明了新政维护的是资本主义私有制，进一步表明了新政实施的根本目的是巩固美国的资产阶级统治，维护资本主义制度和资产阶级利益。D项正确；“彻底消除”和“解决了”的说法过于夸张绝对，排除AC项；罗斯福开创了国家干预模式，没有恢复自由放任，排除B项。故选D项。

19. “尽管在欧洲历史上不有联合的设想，但欧洲的联合直到第二次世界大战之后才变现实。”与材料相关的组织是

A. 国际联盟

B. 北大西洋公约组织

C. 欧洲共同体

D. 世界贸易组织

【答案】C

【解析】

【详解】根据“欧洲的联合直到第二次世界大战之后才变现实”可知本题考查的是欧洲的联合，欧洲共同体是欧洲出现的区域性合作组织，C项正确；国际联盟是一战后出现的国际组织，二战前走向瓦解，排除A项；北大西洋公约组织和世界贸易组织不是欧洲联合组织，排除BD项。故选C项。

20. 2022年5月6日，联合国秘书长古特雷斯就乌克兰局势发表声明称：世界必须团结起来，平息枪声，维护《联合国宪章》的价值观。据此可知

A. 联合国的宗旨是维护国际和平与安全

B. 联合国可以根除国家间的武力冲突

C. 联合国是处理全球冲突的军事性组织

D. 联合国能够解决国际贸易中的争端

【答案】A

【解析】

【详解】由题意“世界必须团结起来，平息枪声，维护《联合国宪章》的价值观”可知本题考查的是联合国的宗旨，结合所学联合国的宗旨是维护国际和平与安全，A项正确；联合国可以根除国家间的武力冲突，根除表述太绝对，排除B项；联合国，是在第二次世界大战后成立的一个由主权国家组成的政府间国际组织，排除C项；解决国际贸易争端的是世贸组织，排除D项。故选A项。

## 二、非选择题:本题共3小题，每小题10分，计30分。

21. 博物馆承着历史，也传承着文化。某班开展“跟着我打卡博物馆”的主题活动，请你来参与。

### 【青铜之美】



商代青铜器，1939年出土于河南安阳侯家庄武官村。重832.84千克，高1.33米，口长1.1米，壁厚

图一 国家博物馆藏品

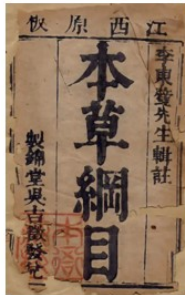
### 【圣人之思】



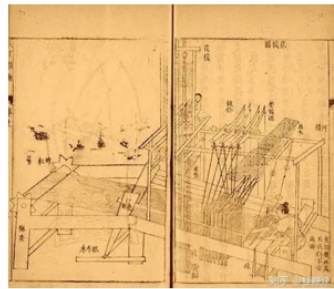
为政以德，譬如北辰，居其所而众星共之。  
——《论语》

图二 曲阜孔子博物馆藏品

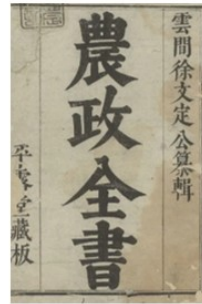
### 【科技之著】



图三 洛阳教育博物馆藏品



图四 国家博物馆藏品



图五 上海博物馆藏品

明代农学巨著，全面总结了我国古代农业生产的先进经验、技术革新和作者关于农学的创新研究成果。

- 写出图一文物的名称及其历史地位。
  - 概括图二中孔子的主张。结合所学知识，指出其学说成为封建正统思想的措施。
  - 图四是哪部科技巨著？据图三、四、五概括明代科技巨著的特点。结合所学知识，分析这一特点形成的原因。
  - 综合以上材料，谈谈传承和发扬传统文化的现实价值。
- 【答案】** (1) 司母戊鼎迄今为止所有出土世界上现存最大的青铜器。
- (2) 为政以德罢黜百家，独尊儒术
- (3) 《天工开物》注重实用，为农业服务。大多是经验的总结。原因：注重实践，没有科学的理论基础；不重视科学与技术的结合。
- (4) 言之有理即可。

### 【解析】

- 【详解】** (1) 结合所学内容可知，图一反映的是司母戊鼎，司母戊鼎是迄今为止所有出土世界上现存最大的青铜器。
- (2) 根据“为政以德，譬如北辰”可知孔子的主张是为政以德。孔子创立了儒家思想，汉武帝时期实行罢黜百家，独尊儒术，确立了儒家思想的正统地位。
- (3) 结合所学内容可知，图四的科技巨著是《天工开物》。综合材料三、四、五并结合所学内容可知，明代科技巨著的特点是注重实用，为农业服务。大多是经验的总结。形成这一特点的原因主要是中国古代

科技注重实践，没有科学的理论基础；不重视科学与技术的结合。

(4) 本题为开放性试题，没有固定答案。综合材料内容并结合所学进行作答，言之有理即可。如取其精华，去其糟粕。

## 22. 阅读材料，回答问题

材料一 《中华人民共和国全国人民代表大会及地方各级人民代表大会选举法》以一定人口的比例为基础，又适当照顾地区和单位，在城市与乡村间、少数民族与汉族间，作了不同比例的规定，使全国各阶层、各民族在各级人民代表大会中都有相应的代表。

——《中国共产党历史》第二卷(上册)

材料二 由于历史上反动统治者长期实行民族压迫政策,各民族之间，主要是少数民族和汉族之间存在着很深的隔阂。少数民族大多信仰宗教，以致民族问题往往同宗教问题交织在一起而难于处理……鉴于情况复杂,中国共产党从少数民族地区的社会经济政治实际情况出发，制定了正确的民族工作方针和政策。

——《中国共产党历史》第二卷(上册)

材料三 不管大陆还是港、澳、台地区，都只有一个中央人民政府，实行不同社会制度的地区都是中央人民政府管辖下的一级地方政权,它们与中央人民政府的关系是地方与中央的系。邓小平的这一思想是根据中国国情来解决祖国统一问题的光辉范例。

——胡维革、胡晓岩《关于香港回归祖国的思考》

- (1) 据材料一概括《选举法》的特点。该材料体现了我国哪一政治制度?
- (2) 据材料二归纳民族问题复杂表现。为此，中共确立的基本政治制度是什么?
- (3) 材料三中“解决国家统一问题”的构想是什么?请写出其成功实践的范例。
- (4) 综合以上材料，分析我国确立制度、制定政策的出发点。

**【答案】** (1) 特点：以一定人口的比例为基础，又适当照顾地区和单位，在城市与乡村间、少数民族与汉族间，作了不同比例的规定，使全国各阶层、各民族在各级人民代表大会中都有相应的代表人民代表大会制度

(2) 表现：历史上反动统治者长期实行民族压迫政策,各民族之间，主要是少数民族和汉族之间存在着很深的隔阂。少数民族大多信仰宗教，以致民族问题往往同宗教问题交织在一起而难于处理民族区域自治制度

(3) 一国两制香港回归或澳门回归

(4) 出发点：基本国情、人民利益

**【解析】**

**【详解】** (1) 特点根据“以一定人口 比例为基础，又适当照顾地区和单位，在城市与乡村间、少数民族

与汉族间，作了不同比例的规定，使全国各阶层、各民族在各级人民代表大会中都有相应的代表”得出是以一定人口的比例为基础，又适当照顾地区和单位，在城市与乡村间、少数民族与汉族间，作了不同比例的规定，使全国各阶层、各民族在各级人民代表大会中都有相应的代表。结合所学内容可知，这是人民代表大会制度。

(2) 表现根据“主要是少数民族和汉族之间存在着很深的隔阂。少数民族大多信仰宗教，以致民族问题往往同宗教问题交织在一起而难于处理”得出是历史上反动统治者长期实行民族压迫政策，各民族之间，主要是少数民族和汉族之间存在着很深的隔阂。少数民族大多信仰宗教，以致民族问题往往同宗教问题交织在一起而难于处理。结合所学内容可知，为此中共确立的基本政治制度是民族区域自治制度。

(3) 根据“不管大陆还是港、澳、台地区，都只有一个中央人民政府，实行不同社会制度的地区都是中央人民政府管辖下的一级地方政权”可知构想是一国两制。成功实践的范例有香港回归和澳门回归。

(4) 综合材料内容和所学可知，我国确立制度、制定政策的出发点是基本国情和人民利益。

23. 阅读材料，回答问题。

材料一 1821年，英国的工业产值超过农业，英国从农业国变成工业国。19世纪40年代，英国生铁产量占世界的一半，煤炭占三分之二。1850年英国工业总产值占世界的三分之一，对外贸易占世界的21%，英国成为“世界工厂”。

——张跃发《近代文明史》

材料二 第二次工业革命是以电力的广泛应用为其显著特点的。它促进了工业的高速发展工业的高速发展又促进资本和生产的集中,从而引起了垄断组织的产生……垄断组织的产生推动资本主义列强去加强殖民扩张,因而更加剧了欧洲列强之间的矛盾。

——吴于廑、齐世荣《世界史·近代史编》(下卷)

材料三 2018年12月1日，华为公司首席财务官孟晚舟在加拿大遭无端拘押。这是一起由美国一手策划、加拿大帮助实施的针对中国公民的政治迫害事件，目的是打压中国高技术企业、阻挠中国科技发展。在被拘押了1028天后，2021年9月25日晚，孟晚舟女士乘坐中国政府包机，顺利回到祖国。

——摘编自《人民日报》(2021年9月26日第04版)

(1) 据材料一概括英国当时发生的变化。分析这些变化产生的最主要原因。

(2) 据材料二指出第二次工业革命特点。“欧洲列强之间的矛盾”在一战后是否得到缓和?并说明理由。

(3) 据材料三指出这一“政治迫害事件”本质。分析孟晚舟得以回国的根本原因。

(4) 综合上述材料，谈谈你对科技发展的认识。

**【答案】** (1) 变化：英国的工业产值超过农业，英国从农业国变成工业国。英国生铁产量占世界的一半，煤炭占三分之二。英国工业总产值占世界的三分之一，对外贸易占世界的21%，英国成为“世界工厂”。第

## 一次工业革命的推动

(2) 特点：电力的广泛应用得到缓和因为一战后的凡尔赛——华盛顿体系暂时调整了帝国主义之间的矛盾。没有得到缓和因为一战后的凡尔赛——华盛顿体系虽然暂时调整了帝国主义之间的矛盾，但没有从根本上解决帝国主义之间的矛盾。

(3) 本质：打压中国高技术企业、阻挠中国科技发展或称霸世界。中国国际地位的提高或中国综合国力的增强。

(4) 科技发展是推动社会进步的动力；当今时代大力发展科技是谁也抵挡不住的发展潮流。

### 【解析】

【详解】 (1) 变化：根据“1821年，英国的工业产值超过农业，英国从农业国变成工业国”可知英国的工业产值超过农业，英国从农业国变成工业国。根据“19世纪40年代，英国生铁产量占世界的一半，煤炭占三分之二。1850年英国工业总产值占世界的三分之一，对外贸易占世界的21%，英国成为“世界工厂””得出英国生铁产量占世界的一半，煤炭占三分之二。英国工业总产值占世界的三分之一，对外贸易占世界的21%，英国成为“世界工厂”。第一次工业革命的推动

(2) 特点根据“第二次工业革命是以电力的广泛应用为其显著特点的”得出电力的广泛应用；是否得到缓和可从不同角度论述。如得到缓和。因为一战后的凡尔赛——华盛顿体系暂时调整了帝国主义之间的矛盾。又如没有得到缓和，因为一战后的凡尔赛——华盛顿体系虽然暂时调整了帝国主义之间的矛盾，但没有从根本上解决帝国主义之间的矛盾。

(3) 本质根据“目的是打压中国高技术企业、阻挠中国科技发展”可知是打压中国高技术企业、阻挠中国科技发展。孟晚舟得以回国的根本原因结合所学内容可知主要是中国国际地位的提高，中国综合国力的增强。

(4) 本题为开放性试题，没有固定答案。综合材料内容并结合所学进行作答，言之有理即可。如科技发展是推动社会进步的动力；当今时代大力发展科技是谁也抵挡不住的发展潮流。

