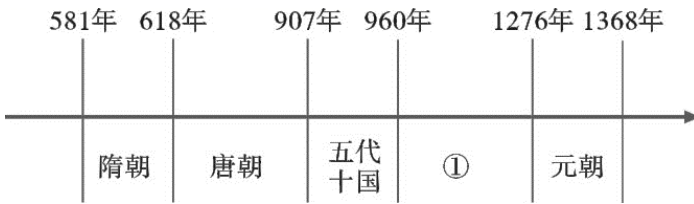


2020年四川省乐山市中考历史试题

第I卷(选择题)

1.制作时间轴有助于培养历史时空观念,如图中①处对应的朝代是



- A. 西周 B. 秦朝 C. 宋朝 D. 清朝

2.归纳法是一种有效 历史学习方法,下列对中国古代历史发展的阶段特征,归纳正确的是

- A. 夏商周时期:政权分立与民族交融
B. 秦汉时期:早期国家与社会变革
C. 三国两晋南北朝时期:繁荣与开放的时代
D. 明清时期:统一多民族国家的巩固和发展

3.史论结合是历史阐释的重要方法之一。下列选项中史实与结论之间对应正确的是

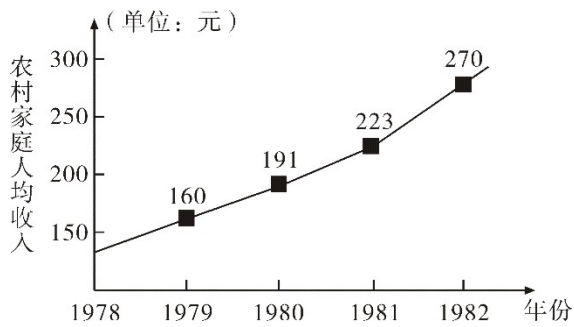
	史实	结论
A	洋务运动	使中国走上了富强的道路
B	戊戌变法	在思想文化方面产生了广泛影响
C	新文化运动	标志着新民主主义革命的开端
D	五四运动	动摇了封建礼教的统治地位

- A. A B. B C. C D. D

4.近代以来先进的中国人为了挽救民族危亡,先后提出了“师夷长技以自强”、“君主立宪”、“民主共和”、“民主和科学”的思想,这反映出中国学习西方的历程是

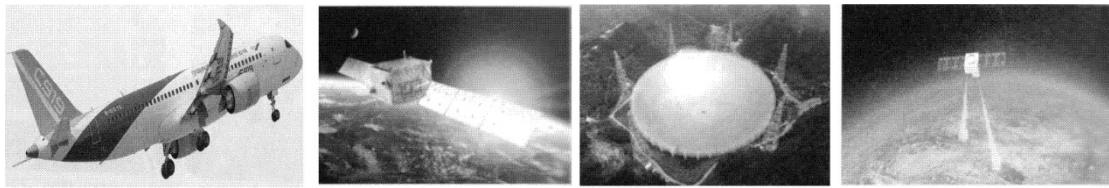
- A. 学制度→学技术→学思想 B. 学思想→学制度→学技术
C. 学技术→学制度→学思想 D. 学制度→学思想→学技术

5.如图反映了1978年-1982年我国农村家庭人均收入变化情况,导致这种变化的主要原因是



- A. 推行家庭联产承包责任制
B. 对外开放格局 形成
C. 城市经济体制改革的开展
D. 加入了世界贸易组织

6.如图是十八大以来我国取得的部分重大科技成果，这一系列重大成果，主要体现了新发展理念中的



国产大型客机C919 暗物质粒子探测卫星“悟空号” 中国“天眼” 量子科学试验卫星“墨子号”

- A. 绿色 B. 创新 C. 协调 D. 开放

7.假如你来到伯里克利主政时期的雅典，你会看到谁才有资格参加公民大会？

- A. 外邦人 B. 奴隶 C. 妇女 D. 本邦成年男子

8.《十二铜表法》是罗马共和国时期颁布的成文法，是后世罗马法典乃至欧洲法学的渊源。这部法律颁布的时间是

- A. 公元前 18 世纪 B. 公元前 5 世纪
C. 公元 6 世纪 D. 公元 19 世纪

9.世界开始连为一个整体始于

- A. 新航路的开辟 B. 第一次工业革命
C. 第二次工业革命 D. 第二次世界大战

10.据统计，在 16 世纪的前 25 年中，有 12000 名奴隶被贩运，在之后的 25 年中这一数字达到了 40000 人，在 1550 年至 1575 年间更是超过了 60000 人。15—19 世纪的近 400 年间，黑奴贸易使非洲丧失了上亿的人口。这反映了奴隶贸易

- A. 加速了西欧的资本原始积累 B. 给非洲人民带来了深重灾难
C. 推动了世界市场的最终形成 D. 把欧洲文化传播到了殖民地

11.如图所示内容是九年级一堂历史课上老师的导言。据此判断，该堂历史课的主题是

导言

社会主义运动的发展呈现出由空想到科学、由理论到实践、由理想变成现实、由一国胜利到多国胜利的发展规律，同时也出现了曲折。

- A. 国际共产主义运动
C. 法西斯国家的侵略

- B. 资本主义制度确立
D. 二战后的世界变化

12. 通过抓关键词了解和掌握知识是学习历史的有效方法之一。与“列宁”、“斯莫尔尼宫”、“阿芙乐尔号巡洋舰”、“冬宫”四个关键词都相关的历史事件是

- A. 巴黎公社
C. 彼得格勒武装起义

- B. 俄国“二月革命”
D. 苏联的解体

13. 以下对罗斯福新政和新经济政策的共同点的表述，正确的是

- A. 都巩固了工农联盟
C. 都引发了经济危机

- B. 都彻底改变了社会的性质
D. 都是生产关系 局部调整

14. 1947年，一位美国总统在国会发表演说，在演说中，他把世界分为“自由国家”和“极权政权”两个对立的营垒，宣称美国将领导和帮助所有选择“自由制度”、抵抗极权统治的力量。这篇演说提出的政策被称为

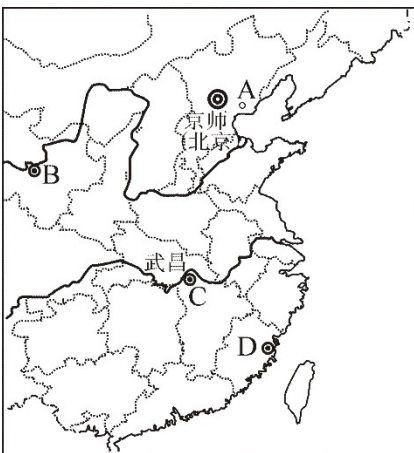
- A. 战时共产主义政策
C. 杜鲁门主义

- B. 绥靖政策
D. 马歇尔计划

第II卷（非选择题）

15. 2020年3月11日，习近平在武汉考察疫情防控工作时说：“这是一座英雄的城市……通过这次抗击疫情斗争，武汉必将再一次被载入英雄史册！”阅读下列材料，回答问题。

【洋务·武汉】



材料一 从19世纪60年代到90年代，洋务派以“自强”、“求富”为口号，创办了一批近代军事工业和民用企业，其中有开平煤矿、兰州机器局、湖北织布局、福州船政局等。

(1) 上图中湖北织布局的位置在哪里(填写字母代号)?洋务运动的性质是什么?

【革命·武汉】

材料二 1911年10月10日,武昌城内响起了激烈的枪炮声。次日清晨,革命党人起义成功。随后,其它各省纷纷响应,清政府的统治迅速土崩瓦解,在中国延续了两千多年的君主专制政体也寿终正寝。

——摘编自义务教育教科书《中国历史·八年级上册》

(2) 武汉有“首义之城”的美誉,是中国民主革命的重镇。使武汉在中国近代史上有如此重要地位的是哪一次革命?根据材料,概括这次革命的历史意义是什么?

【改革·武汉】

材料三 改革开放迈不开步子,不敢闯,说来说去就是怕资本主义的东西多了,走了资本主义道路。要害是姓“资”还是姓“社”的问题。判断的标准,应该主要看是否有利于发展社会主义社会的生产力,是否有利用增强社会主义国家的综合国力,是否有利于提高人民的生活水平。

——1992年邓小平《在武昌、深圳、珠海、上海等地的谈话要点》

(3) 上述材料反映了哪一历史事件?根据材料并结合所学知识,谈谈该事件对改革开放 影响是什么?

【抗疫·武汉】

材料四



图1: 漫画“逆行者”



图2: 南方日报



图3: 方舱医院的“读书哥”和高三学生



(4) 以上三幅图片材料反映出在新冠肺炎疫情面前,中国人民彰显出的抗疫精神有哪些?

16. 一个民族要崛起,要有三个方面的改变:第一是人心的改变;第二是政治制度的改变;第三是器物和经济的变化。阅读材料,回答问题。

【思想与文化】

材料一 “人是一件多么了不起的杰作!多么高贵的理性!多么伟大的力量!多么文雅的举动!在行动上多么像一个天使!在智慧上多么像一个天神!人是宇宙的精华!万物的灵长!”

——莎士比亚《哈姆雷特》

(1) 材料一反映了世界近代史上哪一次思想文化运动?这一运动的核心思想是什么?

【民主与法制】

材料二



图1: 纪念币




图2: 1787年华盛顿在制宪会议上



图3: 法国1789年《人权宣言》

(2) 图1是英国为纪念《权利法案》颁布300周年发行的纪念币。这部文献颁布后英国逐渐形成了哪一种政治体制？图2所示会议颁布了哪一部重要的法律文献？图3所示文献反映了哪些进步的思想主张？

经济与科技】

材料三 然而今天，金属和塑料补充了石块和木头，铁路、汽车和飞机取代了牛、马和驴，蒸汽机、内燃机和原子动力（原子能）代替风和人力来推动船……电使蜡烛黯然失色，并已成为只要按一下开关，便可做大量功的动力之源。

——斯塔夫里阿诺斯《全球通史》

(3) 依据材料三并结合所学知识，简析改良蒸汽机的发明有什么历史意义？从材料中指出一项属于第二次工业革命的发明成果？“电使蜡烛黯然失色”，电力的广泛应用使人类社会进入哪一个时代？

(4) 实现中华民族伟大复兴的中国梦，是民族的梦，也是每个中国人的梦。综合上述材料，对实现中华民族伟大复兴中国梦有哪些启示？

17.中共十八大以来，习近平总书记多次强调：“人类是一个命运共同体，唯有团结协作才能应对各种全球性风险挑战。”阅读材料，回答问题。

主题一：图说历史

材料一



图1: 萨拉热窝事件 图2: 签署《联合国宣言》 图3: 民国时期的报纸 图4: 美、苏士兵易北河会师

(1) 解决人类共同面临的挑战，国与国之间团结协作才是根本之道。以上四幅图片展现了国际社会团结协作精神的有哪些？（写出图片番号即可）。图三的新闻报道“誓死力争，还我青岛”报道的是哪一历史事件？

主题二：表解历史

材料二 现代国际关系格局的演变

时间	国际关系格局	主要会议	维护工具
20 世纪 20 年代~二战前	A	巴黎和会和华盛顿会议	国际联盟
二战后~20 世纪 90 年代	两极格局	B	联合国

(2) 列表归纳相关历史事件,是常用的历史学习方法。请你结合所学知识,写出表中英文字母处的内容是什么?表中“国际联盟”和“联合国”两大国际组织的建立,反映出世界人民的共同追求是什么?

主题三:文汇历史

材料三 由于新冠疫情,我们无法按期举行原定于 9 月召开的中欧峰会,但我们仍希望延期后召开。这次会议将有助于增进欧盟和中国的关系。我们有着共同的利益,例如在气候保护方面的合作。我们已经就一项投资协议进行了很长时间的谈判,但目前尚未结束。中欧还应该就彼此在非洲的发展政策交换意见。

(3) 欧盟是在欧洲共同体的基础上建立起来的,结合所学知识,简要回答请欧洲共同体成立的目的是什么?根据材料三,概括指出国家之间交往的出发点是什么?

材料四 战争是一面镜子,能够让人更好认识和平的珍贵。今天……世界仍很不太平,战争的达摩克利斯之剑依然悬在人类头上。我们要以史为鉴,坚定维护和平的决心。

——习近平在纪念中国人民抗日战争暨世界反法西斯战争胜利 70 周年大会上的讲话

(4) 根据材料四并结合所学知识,你认为国与国之间应该如何构建新型的国际关系?

试卷相关说明

本试卷的题干、答案和解析均由组卷网 (<http://zujian.xkw.com>) 专业教师团队编校出品。登录组卷网可对本试卷进行**单题组卷**、**细目表分析**、**布置作业**、**举一反三**等操作。

试卷地址：[在组卷网浏览本卷](#)

组卷网是学科网旗下的在线题库平台，覆盖小初高全学段全学科、超过 900 万精品解析试题。关注组卷网服务号，可使用移动教学助手功能（布置作业、线上考试、加入错题本、错题训练）。



学科网长期征集全国最新统考试卷、名校试卷、原创题，赢取丰厚稿酬，欢迎合作。
钱老师 QQ : 537008204 曹老师 QQ : 713000635