


2021年江苏省镇江市中考历史试题

(满分 100 分，时间 60 分钟)

第 I 卷 选择题 (共 50 分)

一、单项选择题：本大题共 25 小题，每小题只有一个答案符合题意，每小题 2 分，计 50 分。

1. 《史记太史公自序》评诸子百家说：“儒者博，墨者俭，法家严，道家使人精神专一”。“严”字当头的代表人物是 ()

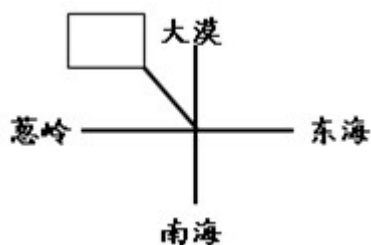


【答案】 D

【解析】

【详解】依据题干的“法家严”，结合所学知识可知，战国时期，法家的韩非主张君主治国要靠法令，权术和威势，反对空谈仁义，强调以法治国，树立君主的权威，建立中央集权专制统治。故 D 符合题意；孔子是儒家学派创始人，核心思想是“仁”，排除 A；孟子是战国时期儒家学派代表人，主张实行“仁政”，排除 B；战国时期的墨子主张“兼爱”、“非攻”，排除 C。故选 D。

2. 某同学在复习秦汉王朝开疆拓土、奠定中国大一统格局的历史时，绘制了下图所示的疆域示意图。其中在西北方向的空白方框内应该填写的汉代管理机构是 ()



A. 西域都护

B. 尚书省

C. 澎湖巡检司

D. 伊犁将军

【答案】 A

【解析】

【详解】依据题干信息“秦汉王朝”结合所学知识可知，公元前 60 年，西汉政府设置西域都护，标志着新疆地区正式归属中央政权的管辖，故 A 符合题意；尚书省与三省六部制有关，与秦汉的政治制度无关，排除 B；澎湖巡检司是元朝设立的管辖台湾的机构，排除 C；伊犁将军是清朝设立的管辖新疆的机构，排除 D。故选 A。

3. 据史料记载，唐太宗晚年拒绝纳谏，武则天耗费巨大财力建造佛教器物，唐玄宗在位后期怠慢朝政、宠信奸臣。我们从中获得的历史认识，正确的是（ ）

- A. 三位帝王成就了“贞观之治”
- B. 他们“政启开元治宏贞观”
- C. 封建帝王有明显的历史局限
- D. 武则天时朝政迅速走向腐败

【答案】 C

【解析】

【详解】唐太宗重用贤才，虚心纳谏，但在晚年却拒绝纳谏。武则天当政期间，继续实行唐太宗发展农业生产、选拔贤才的政策，社会经济进一步发展，国力不断增强。武则天却耗费巨大财力建造佛教器物。唐玄宗统治前期出现了“开元盛世”的繁荣局面，统治后期却怠慢朝政、宠信奸臣，导致安史之乱爆发。从唐朝三位封建帝王身上，我们获得的历史认识是封建帝王有明显的历史局限，故 C 符合题意；唐太宗成就了“贞观之治”，排除 A；武则天的统治“政启开元，治宏贞观”，排除 B；武则天统治时期，社会经济进一步发展，国力不断增强。排除 D。故选 C。

4. 宋朝的全国总人口突破了一亿，大体是盛唐的两倍。宋朝的粮食亩产量特别是长江流域的亩产量达到了两至三石，也基本是唐代的两倍多。由此可见（ ）

- A. 宋朝时生产力有显著进步
- B. 唐宋的经济部门仅限于农业
- C. 唐朝重文轻武致粮食减产
- D. 宋朝粮食增幅低于人口增长

【答案】 A

【解析】

【详解】分析题干的“宋朝的全国总人口突破了一亿，大体是盛唐的两倍。宋朝的粮食亩产量特别是长江流域的亩产量达到了两至三石，也基本是唐代的两倍多。”可知，与唐朝相比，宋朝的全国总人口和粮食亩产量都有很大的提高，反映出宋朝时生产力有显著进步，故 A 符合题意；唐宋的经济部门仅限于农业的说法错误，唐宋的经济部门还包括手工业、商业，排除 B；宋朝实行重文轻武政策，排除 C；宋朝粮食增幅低于人口增长在题干材料中不能体现，排除 D。故选 A。

5. 下图是《榜葛刺进麒麟图》，它描绘的是 15 世纪早期南亚地区的榜葛刺国王来中国进献长颈鹿的场景。当时的中国人将长颈鹿视为瑞兽麒麟。与这一场景的出现有直接关联的事件是（ ）



《榜葛刺进麒麟图》

- A. 张骞通西域
- B. 宋辽澶渊之盟
- C. 郑和下西洋
- D. 雅克萨之战

【答案】C

【解析】

【详解】根据题干“下图是《榜葛刺进麒麟图》，它描绘的是 15 世纪早期南亚地区的榜葛刺国王来中国进献长颈鹿的场景”结合所学知识，可知描述的事件与郑和下西洋有关。15 世纪初，明朝经济逐步繁荣，国力雄厚，明成祖称帝后，派郑和率领船队出使西洋个，主要目的是为了提高明朝在在国外的地位和威望，“示中国富强”，同时也使中国的货物去换取海外的奇珍，C 正确；张骞出使西域是在西汉时期，与“15 世纪早期”不符，排除 A；宋辽澶渊之盟发生在北宋时期，排除 B；雅克萨之战是康熙反抗俄国的侵略，发生在 17 世纪中期，排除 D。故选 C。

6. 漫画形象地解释了近代一部历史文献的核心内容。这部文献是（ ）



- A. 《天朝田亩制度》
- B. 《中华民国临时约法》
- C. 《中国土地法大纲》
- D. 《中华人民共和国土地改革法》

【答案】A

【解析】

【详解】结合所学知识可知，1853 年 3 月，太平军攻占南京，将南京改名为天京，作为都城。定都天京后，太平天国颁布《天朝田亩制度》，规定不分男女，按人口和年龄平均分配土地目的，建立“有田同耕，

有饭同食，有衣同穿，有钱同使，无处不均匀，无人不饱暖”的理想社会。由此可知，漫画信息“凡天下田，天下人同耕”是《天朝田亩制度》的核心内容，故 A 符合题意；《中华民国临时约法》是中国历史上第一部资产阶级共和国宪法性质的重要文件。它肯定了资产阶级民主共和制度和民主自由原则，是辛亥革命的重要成果。排除 B；1947 年，中国共产党颁布《中国土地法大纲》，规定没收地主土地，废除封建剥削的土地制度，实行耕者有其田，按照农村人口平均分配土地。排除 C；1950 年颁布的《中华人民共和国土地改革法》规定废除地主阶级封建剥削的土地所有制，实行农民的土地所有制。排除 D。故选 A。

7. 以下是洋务运动时期部分企业信息简表，这些企业属于（ ）

企业名称	情况简介
轮船招商局	中国第一家轮船运输企业，一度收购了美国旗昌轮船公司。
开平煤矿	近代大型新式采煤企业，因运煤需要修建了一条铁路。
汉阳铁厂	中国近代最早 官办钢铁企业，经营不善，多有亏损。

- A. 军事企业 B. 民用企业 C. 外资企业 D. 中外合资企业

【答案】 B

【解析】

【详解】依据题干企业信息，结合所学知识可知，从 19 世纪 70 年代起，洋务派提出“求富”的主张，开办一些近代民用企业，比如轮船招商局、开平煤矿、汉阳铁厂、湖北织布局等。故 B 符合题意；轮船招商局、开平煤矿、汉阳铁厂属于洋务派创办的民用企业，排除 A；轮船招商局、开平煤矿、汉阳铁厂属于洋务派创办的民用企业，洋务派没有创办外资企业，排除 C；轮船招商局、开平煤矿、汉阳铁厂属于洋务派创办的民用企业，洋务派没有创办中外合资企业，排除 D。故选 B。

8. 近代某不平等条约第十款规定：各省督抚文武大吏所属境内，如有伤害诸国人民之事，必须立时弹压惩办，否则即行革职，永不叙用。这致使清政府沦为“洋人朝廷”的条约是（ ）

- A. 《南京条约》 B. 《北京条约》 C. 《马关条约》 D. 《辛丑条约》

【答案】 D

【解析】

【详解】依据题干“各省督抚文武大吏所属境内，如有伤害诸国人民之事，必须立时弹压惩办，否则即行革职，永不叙用。”结合所学知识可知，1901 年，清政府被迫同英、美、俄等 11 国签订《辛丑条约》。《辛丑条约》规定清政府保证严禁人民参加各种形式的反帝活动，表明清政府沦为帝国主义列统治中国的工具，变为“洋人朝廷”。故 D 符合题意；《南京条约》内容涉及割地、赔款、五口通商和协定关税，与题

干内容无关，排除 A；《北京条约》除承认《天津条约》继续有效外，又增开天津为商埠，割九龙司地方一区给英国，赔款额也大幅增加。《北京条约》与题干内容无关，排除 B；《马关条约》规定清政府割辽东半岛、台湾全岛及所有附属各岛屿、澎湖列岛给日本。赔偿日本兵费白银 2 亿两。开放沙市、重庆、苏州、杭州为商埠。允许日本人在通商口岸开设工厂等。《马关条约》与题干内容无关，排除 C；故选 D。

9. 陈独秀在《青年杂志》撰文：“三年来，吾人于共和国体之下，备受专制政体之痛苦。自经此次实验……珍爱共和之心，因以勃发。”陈独秀“此次实验”的矛头直指（ ）

- A. 军阀混战 B. 民主共和 C. 君主立宪 D. 专制政体

【答案】 D

【解析】

【详解】根据题干“三年来，吾人于共和国体之下，备受专制政体之痛苦。自经此次实验……珍爱共和之心，因以勃发。”结合所学知识，可知资产阶级共和体制已确立三年，时间上应该是 1915 年。1915 年，陈独秀发起新文化运动。“此次实验”是指新文化运动。因为袁世凯窃取了辛亥革命的胜利果实，企图复辟帝制，在文化领域又推行尊孔复古，遭到国人的普遍唾弃，故新文化运动的矛头直指专制政体，D 正确；新文化运动兴起时，军阀混战还没开始，排除 A；根据材料“自经此次实验……珍爱共和之心，因以勃发。”可知，矛头指的不是民主共和，排除 B；戊戌变法的目的是建立君主立宪，但结果失败了，排除 C。故选 D。

10. 伏击战胜利后的第二天（1937 年 9 月 26 日），旅长陈赓在日记中记载：“这是八路军参战的第一次胜利，也是中日开战以来的第一次胜利。”这次伏击战是（ ）

- A. 平型关大捷 B. 淞沪会战 C. 台儿庄战役 D. 百团大战

【答案】 A

【解析】

【详解】依据题干的“1937 年 9 月”结合所学知识可知，1937 年 9 月，日军向平型关开进。八路军第一一五师在师长林彪率领下，在平型关一带伏击日军，将日军全部歼灭。平型关大捷是全国抗战以来中国军队取得的第一个胜利，粉碎了日军“不可战胜”的神话。故 A 符合题意；淞沪会战是国民党正面战场的抗战，打破了日本 3 个月灭亡中国的迷梦，激发了全国人民的斗志。排除 B；台儿庄战役发生在 1938 年，排除 C；百团大战发生在 1940 年，排除 D。故选 A。

11. 1945 年，文学家郑振铎写道：“从毛泽东先生到了重庆，开始会谈以后，我们哪一天不在探问着会谈进行的情形，不在关心着会谈进行得顺利与否？”这反映出当时中国人民的迫切愿望是（ ）

- A. “驱除鞑虏，恢复中华” B. “打倒列强，铲除军阀”
C. “还我河山，守土抗战” D. “要和平，争民主”

【答案】 D

【解析】

【分析】

【详解】根据所学可知，材料反映 是重庆谈判，材料反映了当时中国人民关注重庆谈判，“要和平，争民主”的迫切愿望，故选 D；“驱除鞑虏，恢复中华”是孙中山三民主义中民族主义的内容，排除 A；B 项是 1924-1927 年国民大革命时期提出的口号，排除；C 项是抗日战争时期的口号，排除。

【点睛】

12. 在建设的那些日子里，他身患重病也顾不上去医院；几百斤重的钻杆砸伤了腿，他拄着双拐继续指挥；他用自己的身体做搅拌机，并成功制服了油田井喷。房东心疼地说：“你可真是个铁人啊！”文中的“他”是（ ）

- A. 焦裕禄 B. 雷锋 C. 王进喜 D. 黄继光

【答案】 C

【解析】

【详解】根据材料“你可真是个铁人啊！”等信息，结合所学知识可知：1960 年春，王进喜率领钻井队到大庆参加石油大会战，他们克服重重困难，以顽强的意志，用“人拉肩扛”的办法搬运和安装机，用“盆端桶提”的办法运送钻机用水，使得大庆油田的第一口油井得以提前开钻。当井喷的险情发生时，王进喜不顾腿伤跳进泥浆池，用身体搅拌泥浆，制服了井喷，被誉为“铁人”。故选项 C 符合题意；焦裕禄被人民称颂为“党的好干部”，故选项 A 不符合题意；雷锋是人民的好战士，故选项 B 不符合题意；黄继光在上甘岭战役中用自己的胸膛堵住敌人的机枪射口，英勇牺牲，故选项 D 不符合题意。故答案为 C。

13. 以下从左至右所列四个城市体现了我国对外开放的格局。这格局是（ ）



深圳



青岛



镇江



兰州

- A. 沿海开放城市——沿海经济开放区——经济特区——内地
B. 经济特区--沿海开放城市——沿海经济开放区——内地
C. 经济特区——沿海经济开放区——沿海开放城市——内地
D. 沿海经济开放区——经济特区——内地——沿海开放城市

【答案】 B

【解析】

【详解】1980 年，我国在广东深圳、珠海、汕头和福建的厦门建立四个经济特区。深圳属于经济特区。1984 年，中国进一步开放大连、天津、青岛等 14 个沿海城市。青岛属于沿海开放城市。1985 年，中国

又把长江三角洲、珠江三角洲、闽南三角洲和环渤海地区开辟为沿海经济开放区。镇江属于沿海经济开放区。1992年，相继开放重庆、武汉等沿江城市，满洲里等陆地边境东南亚国家联盟和昆明、乌鲁木齐等内地省会和自治区首府。兰州属于内地。题干从左至右所列四个城市体现了我国对外开放的格局是经济特区--沿海开放城市——沿海经济开放区——内地，故 B 符合题意；深圳属于经济特区，排除 AD；青岛属于沿海开放城市，排除 C。故选 B。

14. “左图右史”是传统的历史学习方法。当某班同学使用下列示意图时，他们要借助此图来理解的历史概念，最有可能的是（ ）



- A. 中国共产党领导的多党合作和政治协商制度
- B. “一带一路”建设
- C. 作为一项基本政治制度的民族区域自治制度
- D. “一国两制”构想

【答案】 C

【解析】

【详解】 根据示意图信息“新疆维吾尔自治区”“宁夏回族自治区”结合所学知识，可知图示是民族区域自治区示意图，反映的是民族区域自治制度，C 正确；中国人民第一届政治协商会议的成功召开，初步建立共产党领导的多党合作和政治协商制度，与图示信息无关，排除 A；一带一路建设核心内容包括政策沟通、设施联通、贸易畅通、资金融通、民心相通。涵盖了中国与沿线国家的重点合作领域。这些领域相辅相成、互为支撑。与图示信息无关，排除 B；“一国两制”构想是完成祖国统一大业的基本方针，与图示信息无关，排除 D。故选 C。

15. 阅读《2020 年脱贫攻坚成果表》。在发展中国特色社会主义的战略布局中，与表格内容有直接对应关系的是（ ）

农村脱贫人口	贫困地区农民人均可支配收入	收入实际增长	与全国居民相比的增速
551 万	12588 元	5 . 6%	3 . 5%

- A. 全面建成小康社会
B. 全面深化改革
C. 全面依法治国
D. 全面从严治党

【答案】 A

【解析】

【详解】依据题干表格可知，2020 年脱贫攻坚取得了显著的成果，农村脱贫人口、贫困地区农民人均可支配收入均有显著增长，与表格内容有直接对应关系的是全面建成小康社会的目标，确保农民生活达到全面小康水平，A 正确；全面深化改革是指完善和发展中国特色社会主义制度，推进国家治理体系和治理能力现代化，与表格内容没有直接对应关系，B 排除；全面依法治国是指加强法制建设，与表格内容没有直接对应关系，C 排除；全面从严治党是加强党的自身建设，与表格内容没有直接对应关系，D 排除。故选 A。

16. 20 世纪初，考古学家发现了一块刻有古巴比伦国王汉谟拉比像的黑色石柱，它被称为“一件历史和文学作品……目前世界上最古老的司法典籍”。这件“作品”代表的古代文明是（ ）

- A. 古代埃及文明
B. 古代两河流域文明
C. 古代印度文明
D. 古代中国文明

【答案】 B

【解析】

【详解】结合所学知识可知，题干的“一块刻有古巴比伦国王汉谟拉比像的黑色石柱”指的是《汉谟拉比法典》石柱。《汉谟拉比法典》是古代两河流域的古巴比伦国王汉谟拉比制定，属于古代两河流域文明成就，故 B 符合题意；古代埃及文明的象征是金字塔，排除 A；古代印度文明的成就主要是种姓制度、佛教等，排除 C；古代中国文明的成就主要是甲骨文、青铜器等，排除 D。故选 B。

17. “为使城邦公民中生活无保障的阶层也确有可能参与国家大事，伯里克利为出庭陪审者发放履行义务的津贴。”材料描述的古代世界图景是（ ）

- A. 雅典民主政治的发展
B. 《十二铜表法》的量刑
C. 亚历山大大帝的东征
D. 《查士丁尼法典》的讨论

【答案】 A

【解析】

【详解】“为使城邦公民中生活无保障的阶层也确有可能参与国家大事，伯里克利为出庭陪审者发放履行义务的津贴。”可知对应的是雅典民主政治的发展，伯里克利是古希腊雅典城邦的执政官，其执政时期为解除

公民参政议政的后顾之忧，发放津贴，这一时期的雅典民主政治达到了顶峰，进入黄金时代，A 正确；《十二铜表法》是古罗马第一部成文法，B 排除；亚历山大大帝的东征是在古希腊雅典衰落之后，C 排除；《查士丁尼法典》是东罗马帝国或拜占庭帝国皇帝在位时命人编纂的法典，D 排除。故选 A。

18. 日本留学生积极吸收中国文化，传播唐朝典章制度。在他们的倡导下，日本进行了一系列改革，史称（ ）

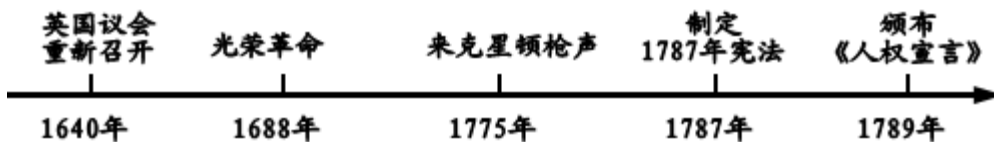
- A. 北魏孝文帝改革 B. 大化改新 C. 农奴制改革 D. 明治维新

【答案】 B

【解析】

【详解】 根据所学知识，从 646 年起，日本仿效唐朝的典章制度，进行了一系列改革，史称“大化改新”，B 正确；北魏孝文帝改革属于古代中国改革，排除 A；农奴制改革是俄国，排除 C；明治维新是日本学习西方的改革，排除 D。故选 B。

19. 下列数轴图呈现了 17~18 世纪的若干重大事件。它们反映的时代潮流是（ ）



- A. 推翻本国封建统治 B. 反抗外国殖民侵略
C. 进行资产阶级革命 D. 建立社会主义制度

【答案】 C

【解析】

【详解】 题干的“英国议会重新召开”是英国资产阶级革命开始标志，“1688 年光荣革命”是英国资产阶级革命结束标志，“1775 年来克星顿枪声”标志着美国独立战争开始，美国独立战争结束后，制定 1787 年美国宪法，法国大革命过程中颁布了《人权宣言》。题干重大事件反映的时代潮流是进行资产阶级革命，故 C 符合题意；推翻本国封建统治与美国独立战争无关，排除 A；反抗外国殖民侵略与英国资产阶级革命、法国大革命无关，排除 B；英国资产阶级革命、美国独立战争、法国大革命确立了资本主义制度，排除 D。故选 C。

20. 20 世纪 20 年代，世界上奔跑的每 10 辆汽车就有 5 辆是美国生产的 T 型汽车，流水线生产出的 T 型汽车成为美国普通家庭的交通工具。为流水线生产汽车做出重要贡献的人物是（ ）

- A. 斯蒂芬森 B. 亨利·福特 C. 卡尔·本茨 D. 法拉第

【答案】 B

【解析】

【详解】 根据所学知识，1913 年，美国的福特汽车公司使用流水线生产汽车，带来了汽车制造业的革命，

汽车的价格大幅下降，汽车开始成为中等收入家庭的交通工具，B 正确；斯蒂芬森发明蒸汽机车，排除 A；卡尔本茨发明了汽车，排除 C；法拉第发现了电磁感应现象，排除 D。故选 B。

21. “它使 1921 年春天的危机迅速消失，生产稳步恢复。它满足了劳动者的经济要求，受到广大农民工人的欢迎，使苏维埃政权日益巩固”。材料中的“它”指（ ）

- A. 战时共产主义政策
- B. 新经济政策
- C. 苏联模式
- D. 农业集体化

【答案】 B

【解析】

【详解】 根据所学知识可知，1921 年，苏俄实行新经济政策。新经济政策的“征收粮食税代替余粮收集制；允许使用雇佣劳力，允许出租土地，实行自由贸易；按劳取酬工资制”等措施，提高了广大农民工人的生产积极性，巩固了苏维埃政权，促使国民经济稳步发展。故材料中的“它”指的是新经济政策，B 符合题意；

1921 年停止实行战时共产主义政策，A 排除；苏联模式在 1936 年形成，排除 C；在斯大林执政时期，20 世纪 30 年代初，苏联开始进行大规模的农业集体化运动，排除 D。故选 B。

22. 下图是二战中一次登陆战的战役图解。这次登陆战对战争进程的影响是（ ）



- A. 导致二战不断扩大
- B. 二战达到最大规模
- C. 开辟欧洲第二战场
- D. 促成二战胜利结束

【答案】 C

【解析】

【详解】 根据材料“二战中一次登陆战的战役图解”，结合所学知识可知：1944 年 6 月，经过长期周密准备，美英盟军在法国的诺曼底登陆，开辟了欧洲第二战场。盟国武装力量开始从东西南三面围攻德国，第二次世界大战进入了粉碎德国法西斯的最后决战阶段。故选项 C 符合题意；苏德战争全面爆发，标志着二战的规模扩大，故选项 A 不符合题意；1941 年 12 月 7 日，日军偷袭美国海军基地珍珠港，重创美国太平洋舰队。12 月 8 日，美国对日宣战，太平洋战争爆发，第二次世界大战达到最大规模。故选项 B 不符合题意；1945 年 9 月 2 日，日本签署投降书，二战胜利结束，故选项 D 不符合题意。故答案为 C。

23. 1948 年 9 月，美、英、法占领区成立了“西德”。10 月，苏占区成立了“东德”。1961 年，“东德”首都柏林出现了如图所示的建筑物。它是（ ）



柏林墙

- A. 战胜国对德国进行敲诈勒索的体现
B. “凡尔赛——华盛顿体系”呈现的格局
C. 《凡尔赛条约》调整国际秩序的象征
D. 美苏为首的两大集团冷战对峙的产物

【答案】D

【解析】

【详解】依据题干可知反映的是二战后德国的分裂以及柏林墙的修建，这是美苏为首的两大集团冷战对峙的产物，德国分裂为社会制度和意识形态不同的东德和西德，柏林墙更成为德国分裂和美苏冷战的重要象征，D正确；战胜国对德国进行敲诈勒索的体现是一战后巴黎和会上签订的《凡尔赛条约》，A排除；凡尔赛—华盛顿体系是一战后建立的国际关系格局，而二战后美苏两极格局建立，B排除；《凡尔赛条约》确立的是一战后的凡尔赛体系，而二战后美苏两极格局确立，C排除。故选D。

24. 20年前中国为加入某一国际经济组织，接受了许多苛刻的条款，甚至放弃了很多本该享受的特殊待遇。20年后，因为加入该组织而获得的机遇，中国已在188个国家和地区，设立了4.4万多家企业，拥有了超过220万人的外籍员工。中国加入该组织（ ）

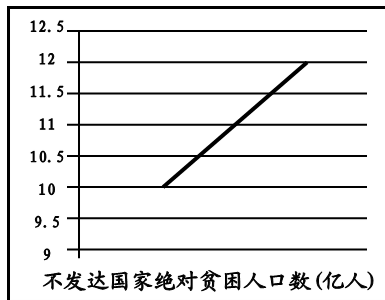
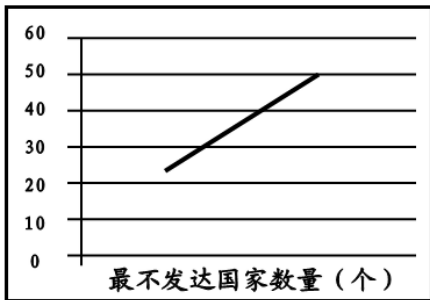
- A. 维护了世界的持久和平
B. 适应了经济全球化的趋势
C. 构建了人类命运共同体
D. 呼应了自主的不结盟政策

【答案】B

【解析】

【详解】根据题干和所学知识可知，中国为加入世界贸易组织曾接受了许多苛刻的条款，但是也获得了机遇，推动了中国走向世界，因此这表明中国加入世贸组织适应了经济全球化的趋势，B正确；题干所说的国际经济组织是世贸组织，与维护世界持久和平没有直接关系，A排除；中国向世界提出构建人类命运共同体这一方案，但在题干中没有得到体现，C排除；题干是说明中国加入世贸组织的意义，没有体现不结盟的外交政策，D排除。故选B。

25. 20世纪90年代，战后民族独立运动的“非殖民化”历史使命宣告完成，但大多数新兴独立国家却出现了如下图所示的现象。这说明（ ）



(据联合国 2016 年的统计数据编制)

- A. 世界殖民体系的逐渐崩溃
 B. 民族独立浪潮风起云涌
 C. 维护国家主权的斗争高涨
 D. 新兴国家面临发展问题

【答案】D

【解析】

【详解】分析表中数据可以看出，20 世纪 90 年代，最不发达国家数量持续增长，但不发达国家绝对贫困人口数也在持续增长，这说明大多数新兴独立国家面临着发展问题，需要发展经济，减少贫困人口。故 D 符合题意；最不发达国家数量持续增长不能说明世界殖民体系的逐渐崩溃，排除 A；民族独立浪潮风起云涌在题干材料中未涉及，排除 B；维护国家主权的斗争高涨在题干材料中未涉及，排除 C。故选 D。

第 II 卷 非选择题 (共 50 分)

二、材料解析题：本大题共 4 小题，26 题 13 分，27 题 12 分，28 题 12 分，29 题 13 分，计 50 分。

26. 中国共产党的诞生是近代以来中国社会进步和革命发展的客观需要。阅读下列材料，按要求回答问题。

材料一 鸦片战争以来，中国人民和仁人志士进行了一系列挽救国家危亡的斗争……19 世纪末 20 世纪初，改良派和革命派发起的政治运动都归于失败，中国的半殖民地半封建社会没有改变，救国的任务历史性地落到了先进生产力的代表中国工人阶级的肩上。

——一曲青山《中国共产党百年辉煌》

材料二 五四运动中，工人阶级以独立的姿态登上政治舞台。自 6 月 5 日起的几天内，上海就有六七万工人举行声援学生的罢工。随后，北京、汉口、南京等地工人相继罢工，工人阶级成为斗争的主力。面对工人声援带来的强大压力，北洋政府不得不释放被捕学生，罢免曹汝霖、章宗祥、陆宗舆。工人阶级在五四运动中表现出的伟大力量，使一些革命知识分子开始同工人建立联系。这一联系，促进了马克思主义同中国工人运动的结合。

——摘编自《中国共产党简史》

材料三 大会通过了中国共产党历史上的第一个党纲，写明：(1) 本党定名为“中国共产党”；(2) 革命军队必须与无产阶级一起推翻资本家阶级的政权，必须支援工人阶级，直到社会的阶级区分消灭为止；

(3) 承认无产阶级专政，直到消灭社会的阶级区分；(4) 消灭资本家私有制，……归社会公有。

——《中共中央文件选编》

请回答：

- (1) 材料一中“归于失败”的政治运动有哪些？这些政治运动都是由哪个阶级领导的？作者认为它们“归于失败”的理由是什么？
- (2) 据材料二，概括“先进生产力的代表”在五四运动中表现出的伟大力量。说明这伟大力量所产生的影响。
- (3) 材料三中通过“第一个党纲”大会是什么？概括该党纲所确定的奋斗目标。
- (4) 综合上述材料，概述中国共产党诞生的必然性。

【答案】 (1) 运动：戊戌变法（百日维新），辛亥革命领导阶级：资产阶级理由：未能改变中国的半殖民地半封建社会

(2) 伟大力量：成为五四运动后期的主力（以独立的姿态登上政治舞台），推动五四运动取得初步胜利（迫使北洋政府释放被捕学生，罢免卖国贼）影响：促进马克思主义同工人运动相结合。

(3) 大会：中国共产党第一次全国代表大会（中共一大）奋斗目标：推翻资产阶级政权，建立无产阶级专政，实现社会主义和共产主义

(4) 必然性：近代以来中国社会进步和革命发展的客观需要。

【解析】

【详解】 (1) 依据材料一的“19世纪末20世纪初，改良派和革命派发起的政治运动都归于失败”结合所学知识可知，1898年，资产阶级改良派康有为等领导了戊戌变法，结果失败了。1911年，资产阶级革命派孙中山等领导了辛亥革命，辛亥革命没有改变中国社会性质，从这点来看，失败了。故材料一中“归于失败”的政治运动有：戊戌变法（百日维新），辛亥革命。改良派和革命派都属于资产阶级，因此戊戌变法和辛亥革命的领导阶级都是资产阶级。作者认为它们“归于失败”的理由是：未能改变中国的半殖民地半封建社会。慈禧太后等发动政变，囚禁光绪帝，废除变法诏令。戊戌变法失败了，没有改变中国半殖民地半封建社会的性质。辛亥革命的果实被袁世凯窃取，没有改变中国半殖民地半封建社会的性质，没有完成反帝反封建的革命任务。

(2) 据材料二“五四运动中，工人阶级以独立的姿态登上政治舞台。工人阶级成为斗争的主力。”可以概括出“先进生产力的代表”工人阶级在五四运动中表现出的伟大力量是：以独立的姿态登上政治舞台，成为五四运动后期的主力；据材料二的“面对工人声援带来的强大压力，北洋政府不得不释放被捕学生，罢免曹汝霖、章宗祥、陆宗舆。”可以概括出“先进生产力的代表”工人阶级在五四运动中表现出的伟大力量是：推动五四运动取得初步胜利。据材料二的“工人阶级在五四运动中表现出的伟大力量，使一些革命知识分子开始同工人建立联系。这一联系，促进了马克思主义同中国工人运动的结合。”可知工人阶级在五四运动中表

现出的伟大力量所产生的影响是：促进马克思主义同工人运动相结合。

(3) 依据材料三的“大会通过了中国共产党历史上的第一个党纲”结合所学知识可知，1921年7月，中国共产党第一次全国代表大会在上海召开，大会通过了中国共产党历史上第一个党纲。党纲确定党的名称为中国共产党。依据材料三的“革命军队必须与无产阶级一起推翻资本家阶级的政权，必须支援工人阶级，直到社会的阶级区分消灭为止；承认无产阶级专政，直到消灭社会的阶级区分；消灭资本家私有制，……归社会公有。”可以归纳出中国共产党第一次全国代表大会确定党的奋斗目标是推翻资产阶级政权，建立无产阶级专政，实现社会主义和共产主义。

(4) 综合题干材料，可知中国共产党诞生的必然性是：近代以来中国社会进步和革命发展的客观需要。资产阶级不能救中国，近代中国社会和革命的发展需要中国共产党来领导。

27. 阅读下列材料，按要求回答问题。

材料一 朝鲜战争结束后，为争取国际局势的缓和，为国内即将开展的大规模经济建设争取和平环境，周恩来提出著名的和平共处五项原则……，它的提出可以说是中华人民共和国外交发展的一个阶段性里程碑，它是从革命运动外交向国家外交过渡的一次关键性转变，标志着新中国外交的形成。

——摘编自章百家《我们怎样走向世界》和牛军《新中国外交的形成及主要特征》

材料二 (1954年确立的)这一制度能够在中国成为适宜的政治制度，是因为它体现了国家由人民当家作主的本质要求，便利人民群众经常通过这样的政治组织参加国家管理，行使自己的权力，从而充分发挥人民群众的积极性和创造性。中国人民正是用这样的根本政治制度来保证国家沿着社会主义的道路前进。

——《中国共产党的九十年》

材料三 建国初，资本主义工商业在数量上仍居多数，广大农村的个体经济在整个国民经济中更占绝对优势……(这些现象)到一九五六年已经根本改变，中国选择并建立了社会主义。它使全国的各项工作得以在一个新的制度基础上前进。离开这个起点，就没有中国特色社会主义可言，就没有社会主义现代化可言。

——金冲及《二十世纪中国史纲》

请回答：

- (1) 材料一中，新中国提出了什么外交政策？这一政策体现了新中国外交的什么变化？
- (2) 材料二中的“这一制度”指什么制度？据材料概述这一政治制度的两大优势。
- (3) 结合所学知识，指出材料三中根本改变“资本主义工商业和农村个体经济的手段分别是什么？这一“根本改变”对中国社会性质产生了什么影响？
- (4) 综合上述材料，概括指出中国共产党在20世纪50年代的政策与制度设计的共同目的。

【答案】 (1) 政策：和平共处五项原则。变化：从革命运动外交向国家外交过渡

(2) 制度：人民代表大会制度优势：保证人民当家作主（保证人民行使权力），保证社会主义方向。

(3) 手段：公私合营，农业合作化。性质：进入社会主义初级阶段（进入社会主义社会）。

(4) 共同目的：建设社会主义。

【解析】

【详解】（1）依据材料一的“朝鲜战争结束后，为争取国际局势的缓和，为国内即将开展的大规模经济建设争取和平环境，周恩来提出著名的和平共处五项原则”可知材料一中，新中国提出的外交政策是和平共处五项原则。依据材料一的“它的提出可以说是中华人民共和国外交发展的一个阶段性里程碑，它是从革命运动外交向国家外交过渡的一次关键性转变，标志着新中国外交的形成。”可知和平共处五项原则体现了新中国外交的变化：从革命运动外交向国家外交过渡。

（2）依据材料二的“（1954年确立的）这一制度能够在中国成为适宜的政治制度，是因为它体现了国家由人民当家作主的本质要求”结合所学知识可知，材料二中的“这一制度”指的是人民代表大会制度。1954年9月，第一届全国人民代表大会在北京召开。大会制定了《中华人民共和国宪法》。宪法规定，中华人民共和国全国人民代表大会是最高国家权力机关。这就以国家根本大法的形式确定了人民代表大会制度。依据材料二的“是因为它体现了国家由人民当家作主的本质要求，便利人民群众经常通过这样的政治组织参加国家管理，行使自己的权力”可知人民代表大会制度的优势是：保证人民当家作主。依据材料二的“中国人民正是用这样的根本政治制度来保证国家沿着社会主义的道路前进。”可知人民代表大会制度的优势是：保证社会主义方向。

（3）结合所学知识可知，从1954年开始，国家对资本主义工商业的社会主义改造，逐步发展为企业的公私合营。公私双方共同经营企业，公方代表居于领导地位。对农业的社会主义改造中，把分散的个体农民组织起来，引导他们参加农业生产合作社，走集体化和共同富裕的社会主义道路。由此可知，材料三中根本改变”资本主义工商业和农村个体经济的手段分别是：公私合营，农业合作化。到1956年底，国家基本上完成了对农业、手工业和资本主义工商业的社会主义改造，实现了把生产资料私有制向社会主义公有制的转变。三大改造的完成，标志着社会主义基本制度在我国建立起来，我国从此进入社会主义初级阶段。由此可知，这一“根本改变”对中国社会性质产生的影响是：进入社会主义初级阶段。

（4）综合题干材料涉及的和平共处五项原则、人民代表大会制度、三大改造，可以概括出中国共产党在20世纪50年代的政策与制度设计的共同目的是建设社会主义。

28. 工业革命造成了新的阶级对立，推动了思想的批判与创新，对人类产生了广泛而深刻的影响。阅读下列史事年表，按要求回答问题。

1820年，英国总就业人口的63%已集中在工业和服务业领域，反映出工业革命的发展

1825年，英国爆发经济危机，暴露出资本主义制度固有的基本矛盾

1832年，英国议会改革，资产阶级的政治要求得到满足，但无产阶级却依然无权

1835年，英国棉纺厂工人的日劳动时间长达16小时，工资十分微薄，童工更占到52%

1836年，英国宪章运动兴起，表明无产阶级反对资产阶级的斗争进入新阶段

1847年，欧洲多国工人参加的国际性工人组织——正义者同盟改名为共产主义者同盟

1848年，马克思、恩格斯为共产主义者同盟起草的纲领在伦敦正式出版

1864年，第一国际在伦敦成立，国际工人运动进入一个新的历史时期

1871年，巴黎的无产阶级和人民群众举行起义，建立了世界上第一个无产阶级政权

1917年，俄国发生十月革命，建立第一个无产阶级专政的国家，社会主义由理想变成现实

——摘编自吴于廑、齐世荣《世界史·近代史编（下卷）》和斯塔夫里阿诺斯《全球通史》

请回答：

(1) 据材料并结合所学知识，指出工业革命造成了哪两大对立阶级？这两大阶级因何而处于对立地位？

(2) 指出马克思、恩格斯为共产主义者同盟起草的纲领名称。据“纲领”出版前的相关史事和所学知识，概述“纲领”起草并出版的历史背景。

(3) 依据“纲领”出版后的相关史事和所学知识，概述“纲领”在理论和实践方面产生的深远影响。

【答案】 (1) 对立阶级：无产阶级和资产阶级。理由：无产阶级在经济上遭受剥削，在政治上处于无权地位。

(2) 纲领：《共产党宣言》。历史背景：工业革命的发展；资本主义制度基本矛盾的暴露；无产阶级反对资产阶级的斗争进入新阶段；马克思和恩格斯批判地继承前人思想的精华等。

(3) 理论：标志着马克思主义的诞生，无产阶级斗争有了科学理论的指导。实践：国际共产主义运动获得蓬勃发展，社会主义由理想变成现实。

【解析】

【详解】 (1) 根据材料“1832年，英国议会改革，资产阶级的政治要求得到满足，但无产阶级却依然无权”结合所学知识，工业革命造成的两大对立阶级是无产阶级和资产阶级。云因是无产阶级在经济上遭受剥削，在政治上处于无权地位。

(2) 根据所学知识，1848年，马克思、恩格斯为共产主义者同盟起草的纲领《共产党宣言》在伦敦正式出版。根据材料“1820年，英国总就业人口的63%已集中在工业和服务业领域，反映出工业革命的发展”可得出《共产党宣言》起草并出版的背景：工业革命的发展；根据材料“1825年，英国爆发经济危机，暴露出资本主义制度固有的基本矛盾”可得出背景：资本主义制度基本矛盾的暴露；根据材料“1836年，英国宪章运动兴起，表明无产阶级反对资产阶级的斗争进入新阶段”可得出背景：无产阶级反对资产阶级的斗争进入新阶段；根据所学知识，可知背景：马克思和恩格斯批判地继承前人思想的精华。

(3) 根据所学知识，《共产党宣言》发表，标志着马克思主义的诞生，无产阶级斗争有了科学理论的指导。根据材料“1864年……国际工人运动进入一个新的历史时期、1871年……，建立了世界上第一个无产阶级政权1917年，俄国发生十月革命，……，社会主义由理想变成现实”结合所学知识，马克思主义

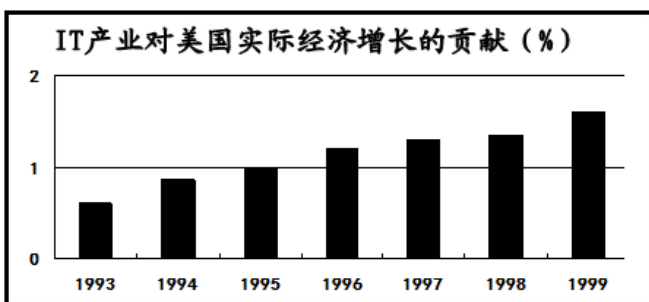
诞生，使国际共产主义运动获得蓬勃发展，社会主义由理想变成现实。

29. 阅读下列材料，按要求回答问题。

材料一 西欧六国建立的煤钢共同市场获得成功后，欧洲的联合在 20 世纪 60 年代进入不断扩大的新阶段……欧洲联合的扩大，从经济上看，给它带来了内部市场的扩展和对外贸易竞争力加强的优势，从而对促进经济发展产生积极推动作用。从政治上看，对维持欧洲均势与和平具有重要战略意义……此外，欧洲联合体中的那些国家，在某些国际问题上坚持独立的外交政策，孤立于美、苏两个超级大国之外，也不再唯美国马首是瞻。

——摘编自吴于廑、齐世荣《世界史·现代史编（下卷）》

材料二



——摘编自许军《20 世纪末的美国经济与日本经济》

材料三 二战后，英国扩大了以社会保险和福利补助为主要内容的福利制度；法国为有子女的工人和雇员提供补助，还制定了广泛的社会保险立法，使半数以上的人口生活有了保障；联邦德国和意大利也是如此。

——摘编自刘宗绪主编《历史学科专题讲座》

请回答：

- (1) 结合所学知识，指出欧洲联合进入“新阶段”后出现的两个组织。据材料一概括指出“欧洲联合的扩大”所产生的影响。
- (2) 据材料二，判断美国“新经济”的一大特征，并说明为此提供基础保障的科技成就。
- (3) 据材料三，概括指出“福利国家”制度大体包括哪两类内容？
- (4) 综合上述材料，概括“二战后资本主义新变化”的“变化”所在。

【答案】 (1) 组织：欧洲共同体（欧共体）；欧洲联盟（欧盟）。影响：推动西欧经济的发展，维持欧洲均势与和平，冲击两极格局。

(2) 特征：信息化。科技成就：互联网（计算机网络）。

(3) 内容：福利补助，社会保险。

(4) 变化：欧洲走上联合自强的道路；美国出现“新经济”模式；“福利国家”制度的建立；美国霸主地位遭遇挑战等。

【解析】

【详解】（1）根据所学知识，欧洲联合进入“新阶段”后出现的两个组织：1967年成立的欧洲共同体。1993年成立的欧洲共同体。根据材料一“从经济上看，给它带来了内部市场的扩展和对外贸易竞争力加强的优势，从而对促进经济发展产生积极推动作用”可得出“欧洲联合的扩大”所产生的影响：推动西欧经济的发展；根据材料“从政治上看，对维持欧洲均势与和平具有重要战略意义……”可得出影响：维持欧洲均势与和平；根据材料“……此外，欧洲联合体中的那些国家，在某些国际问题上坚持独立的外交政策，孤立于美、苏两个超级大国之外，也不再唯美国马首是瞻。”可得出影响：冲击两极格局。

（2）根据材料二“IT产业对美国实际经济征战的贡献”结合所学知识，可得出美国“新经济”的一大特征是信息化。为信息化提供基础保障的科技成就是：计算机网络。

（3）根据材料三“二战后，英国扩大了以社会保险和福利补助为主要内容的福利制度；法国为有子女的工人和雇员提供补助，还制定了广泛的社会保险立法，……联邦德国和意大利也是如此。”可得出“福利国家”制度大体包括：福利补助；社会保险。

（4）根据上述材料反映的欧洲联合、美国的‘新经济’概、“福利国家”结合所学知识，可得出“二战后资本主义新变化”的“变化”：欧洲走上联合自强的道路；美国出现“新经济”模式；“福利国家”制度的建立；美国霸主地位遭遇挑战等。

