

海南省 2022 年初中学业水平考试

历史

(本卷满分 100 分，考试时间 60 分钟)

一、选择题 (本大题有 20 小题，每小题四个选项中只有一个正确。每小题 3 分，共 60 分)

1. “孝公用商鞅之法，移风易俗，民以殷盛，国以富强，百姓乐用，诸侯亲服。获楚、魏之师，举地千里，至今治强。”材料反映了商鞅变法的

- A. 背景 B. 目的 C. 内容 D. 影响

【答案】D

【解析】

【详解】根据材料“民以殷盛，国以富强，百姓乐用，诸侯亲服”可知，商鞅变法后，国家富强，人民幸福，诸侯归附，表明商鞅变法的影响，D 项正确；商鞅变法的背景是铁制农具和牛耕的使用，排除 A 项；商鞅变法的目的是为了富国强民，材料中已经实现了，排除 B 项；材料不是商鞅变法的内容，排除 C 项。故选 D 项。

2. 《齐民要术》一书综合整理了西周以来的农艺科学文献，记录了当时农艺的实践经验，涵盖了农、林、牧、副、渔等方面的内容。由此可知，这部书


- A. 图文并茂，艺术水平高 B. 语言生动，可读性强
C. 家喻户晓，传播范围广 D. 内容丰富，综合性强

【答案】D

【解析】

【详解】根据材料“涵盖了农、林、牧、副、渔等方面的内容。”表明范围广泛，各方面的内容都有，D 项正确；其余三项在材料中没有体现，排除 ABC 项。故选 D 项。

3. 下图文物是目前已知世界上最早的商标广告。它主要反映了宋朝



“济南刘家功夫针铺”铜版

- A. 广告业务兴盛
B. 商业空前发达
C. 白兔商标十分流行
D. 功夫细针畅销全国

【答案】 B

【解析】

【详解】依据材料可知，图中的商标广告与经济有关，它是商业发达的表现之一。结合所学知识，宋代商业的繁荣超过了前代，B项正确；从材料中并不能得出宋朝广告业务兴盛的结论，排除A项；从材料中并不能得出宋朝白兔商标十分流行的结论，排除C项；从材料中并不能得出宋朝功夫细针畅销全国的结论，排除D项。故选B项。

4. 唐代繁荣的陆路东西贸易，由于“安史之乱”以后唐的政治势力退出内陆亚洲而陷于衰落。南宋建立后，国家的政治、经济重心南移，海外贸易成为南宋对外物质交往的主要途径。材料的主旨是

- A. 经济重心的南移
B. 陆路贸易的阻断
C. 海外贸易的兴盛
D. 贸易路线的变化

【答案】 D

【解析】

【详解】根据材料“唐代繁荣的陆路东西贸易”到宋代“海外贸易成为南宋对外物质交往的主要途径”，表明贸易路线由陆路转向海陆，D项正确；经济重心的南移，陆路贸易的阻断对材料主旨表述不全面，排除AB项；海外贸易的兴盛在材料中没有体现，排除C项。故选D项。

5. 甲午战争期间，严复发表《原强》《救亡决论》等政论文章，同时致力于翻译事业，所译《天演论》宣传“物竞天择”“适者生存”的生物进化理论。严复此举意在

- A. 宣传民主科学
B. 推动教育发展
C. 号召救亡图存
D. 传播传统文化

【答案】 C

【解析】

【详解】根据材料信息“甲午战争期间，严复发表《原强》《救亡决论》等政论文章，同时致力于翻译事业，所译《天演论》宣传“物竞天择”“适者生存”的生物进化理论。”，再结合所学，甲午战争后，《马关条约》的签订，国内的知识分子开始为挽救民族危亡而努力，进行了戊戌变法。严复宣传的“物竞天择、适者生存”的观点一时成为仁人志士的救国宣言，表明此举意在号召救亡图存，C项正确；宣传民主科学是新文化运动，排除A项；推动教育与材料无关，排除B项；物竞天择是达尔文进化论的核心，排除D项。故选C项。

6. 抗战期间，漫画家“以笔为刀，以画抗战”创作出许多优秀作品。以下作品共同传达出



《逃不出手掌》 《将来我们所看得见的结果》

- A. 抗战胜利的喜悦
- B. 抗战必胜的信念
- C. 对国民党消极抗日不满
- D. 民众希望国共联合抗日

【答案】 B

【解析】

【详解】 根据材料中图片的，《逃不出手掌》展示的是日本帝国主义逃不出游击队手掌，《将来我们所看得见的结果》的结果是穿木屐的日本帝国主义躺在地上，被插上了全面抗战的刀，这两则漫画都是抗战必胜的信念，B项正确；其余三项在材料中看不出来，排除ACD项。故选B项。

7. 如果给下图配诗词，最恰当 选项是



人民解放军强渡长江

- A. 秋收时节暮云愁，霹雳一声暴动
- B. 金沙水拍云崖暖，大渡桥横铁索寒
- C. 钟山风雨起苍黄，百万雄师过大江
- D. 一桥飞架南北，天堑变通途

【答案】 C

【解析】

【详解】 根据材料“人民解放军强渡长江”可以判断，材料反映的事件是渡江战役。钟山风雨起苍黄，百万雄师过大江的意思是革命的暴风雨震荡着蒋家王朝都城南京，解放军以百万雄师突破长江天险，直捣蒋军苦心经营三个半月的根据地—南京城，这首诗是毛泽东写于1949年，是一首纪念南京解放、庆祝革命胜利的诗篇，C项正确；秋收时节暮云愁，霹雳一声暴动。这首诗是有感于秋收起义翻天覆地的意义，毛泽东提笔写下了这首荡气回肠的《西江月·秋收起义》，反映是事件是秋收起义，排除A项；金沙水拍云崖暖，

大渡桥横铁索寒。摘自《七律·长征》，这是一首记叙二万五千里长征这一震惊全球的历史事件的革命史诗，反映的事件是长征，排除 B 项；“一桥飞架南北，天堑变通途”意为武汉长江大桥建成以后，长江天险成为通畅的大路，1954 年中央人民政府决定修建武汉长江大桥。1955 年毛泽东视察了全部工程。1956 年毛泽东巡视南方，又视察了大桥的施工，然后写下此诗，排除 D 项；故选 C 项。

8. 他将“为官一任，造福一方”根植于心，在兰考的 470 天中靠着一辆自行车和一双铁脚板，深入到 120 多个生产大队走访、调研，研究出治理兰考“三害”的新路子。他就是

- A. 雷锋 B. 焦裕禄 C. 王进喜 D. 邓稼先

【答案】 B

【解析】

【详解】焦裕禄原兰考县委书记，干部楷模，人民的好公仆，县委书记的榜样。研究出治理兰考“三害”的新路子，B 项正确；雷锋是人民的好战士，排除 A 项；王进喜是石油工人，排除 C 项；邓稼先是“两弹元勋”，排除 D 项。故选 B 项。

9. 从开展土地改革到实行农业合作化，从实行家庭联产承包责任制到实施乡村振兴战略，党和政府不断调整农业政策的根本出发点是

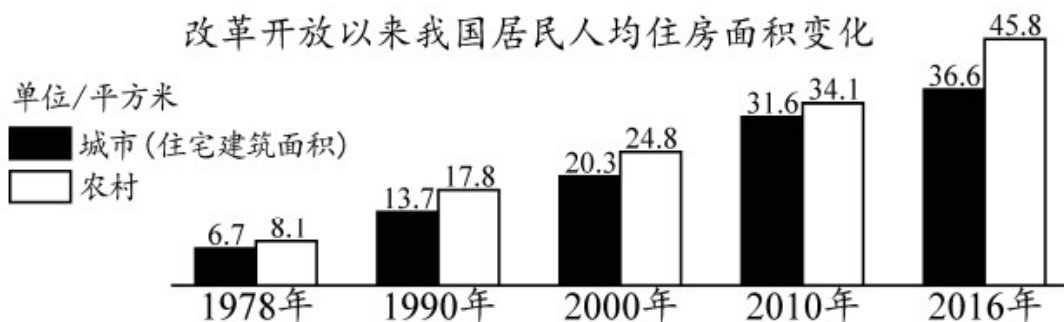
- A. 提高粮食产量 B. 解决温饱问题 C. 缩小城乡差别 D. 维护人民利益

【答案】 D

【解析】

【详解】根据材料信息，党和政府不断调整农业政策的根本出发点是维护人民利益，D 项正确；提高粮食产量、解决温饱问题、缩小城乡差别都是调整农业政策的意义，不是根本出发点，排除 ABC 项。故选 D 项。

10. 读下图，可知改革开放以来



- A. 城市缺房问题彻底解决 B. 农村居住环境明显好转
C. 城乡居住条件得到改善 D. 室内设备设施大为改观

【答案】 C

【解析】

【详解】柱状图显示改革开放以来我国居民人均住房面积大幅度增长，说明改革开放以来城乡居住条件得到改善，C项正确；人均住房面积大幅度增长并不能说明城市缺房问题彻底解决，排除A项；图示显示出城市和农村人均住房面积增长，不能说明农村居住环境明显好转，排除B项；柱状图更不能看出室内设备设施大为改观，排除D项。故选C项。

11. 目前，在海南发现了钱铁洞旧石器时代洞穴遗址、落笔洞古人类文化遗址、大港村遗址、石贡遗址、付龙园遗址、凤鸣村遗址等，在以上遗址中还出土了大量石器和陶器残片。材料可以佐证海南

- A. 历史文化悠久
- B. 人类活动遗址最多
- C. 陆地开发最早
- D. 出土文物最为丰富

【答案】A

【解析】

【详解】根据材料“在海南发现了钱铁洞旧石器时代洞穴遗址、落笔洞古人类文化遗址、大港村遗址、石贡遗址、付龙园遗址、凤鸣村遗址等，在以上遗址中还出土了大量石器和陶器残片”分析可知，材料反映了海南有许多石器时代的历史遗址，说明了海南历史文化悠久，A项正确；材料不能说明海南“人类活动遗址最多”、“陆地开发最早”、“出土文物最为丰富”，排除BCD项。故选A项。

12. 将下列古代历史人物归为一类的依据是



路博德将军塑像



马援将军塑像



冼夫人塑像

- A. 开琼先驱
- B. 为民请命
- C. 杰出的文臣
- D. 有功于海南

【答案】D

【解析】

【详解】根据材料所示图片，结合所学，路博德，西汉汉武帝时期将领。元鼎六年（前111年），卫尉路博德以伏波将军的身份与楼船将军杨仆等进击岭南，结束了南越国地方政权家庭式统治，后将其属地岭南、交趾和海南诸地分置九郡，其中珠崖、儋耳两郡在海南；马援将军是汉代名将，征战过越南，收复过海南岛，巩固了东汉对南方各地的统治；冼夫人在海南期间不仅设置了崖州，恢复了与中原的联系，促进民族团结和融合，还多次平定匪贼叛兵，使百姓安居乐业。有由此可见，三人均有功于海南，D项正确；开琼先驱是路博德，不是三人共同点，排除A项；路博德、马援将军主要是对外征战，冼夫人是进行制度改革，排除B项；路博德、马援是将军，排除C项。故选D项。

13. 大河流域孕育了古代灿烂的人类文明。下列诞生于两河流域的文明成果是

- A. 《汉谟拉比法典》 B. 《十二铜表法》 C. 《查士丁尼法典》 D. 《法理概要》

【答案】 A

【解析】

【详解】根据所学知识可得出《汉谟拉比法典》是两河流域古巴比伦国王汉谟拉比颁布的法律汇编，是世界上现存的最早的成文法典，A项正确；十二铜表法，也叫十二表法，是古罗马国家立法的纪念碑，也是最早的罗马法文献，排除B项；527年，查士丁尼继任为东罗马帝国皇帝。为了稳固帝国的社会秩序、保证皇帝的专制权力，他组建了一个法典编纂委员会。从529年起，委员会历时6年，把自2世纪初以来历任罗马皇帝颁布的法令收集在一起，剔除其中相互矛盾的条例，编成《查士丁尼法典》，同时把历代罗马法学家有关法律问题的论文和著作汇编为《法学汇纂》，又编成指导学习法律文献的《法理概要》，排除CD项。故选A项。

14. 中世纪西欧城市的发展和工商业繁荣对当时社会产生了深远影响。主要体现在

- A. 庄园的流行 B. 封君封臣制度形成 C. 大学的兴起 D. 资本主义制度确立

【答案】 C

【解析】

【详解】根据材料“中世纪西欧城市的发展和工商业繁荣对当时社会产生了深远影响。”再结合所学，11世纪后，随着经济的发展，许多希腊、罗马古典著作开始在西欧传播，12世纪大学兴起，属于城市发展带来的影响，C项正确；中世纪城市发展从10世纪开始，庄园的流行9世纪就开始了，排除A项；封君封臣制度形成在8世纪，排除B项；资本主义制度确立从1640年的英国资产阶级革命开始，排除D项。故选C项。

15. 欧洲人把欧亚大陆的马、牛、猪、羊、鸡等家畜家禽，小麦、燕麦、大麦、裸麦等农作物，橄榄和葡萄等水果引入美洲；美洲的特产马铃薯、玉米、番茄、甘薯、花生、南瓜和可可等也流向世界各地。材料反映出新航路开辟

- A. 使世界完全连为一个整体 B. 促进了世界各地物种交流
C. 造成了非洲长期贫穷落后 D. 推动了西欧租地农场发展

【答案】 B

【解析】

【详解】根据材料“欧洲人把欧亚大陆的马、牛、猪、羊、鸡等家畜家禽，小麦、燕麦、大麦、裸麦等农作物，橄榄和葡萄等水果引入美洲；美洲的特产马铃薯、玉米、番茄、甘薯、花生、南瓜和可可等也流向世界各地。”欧洲人的物品到美洲，美洲的物品到欧洲，这是双向的交流，表明新航路开辟促进了世界各地物种交流，B项正确；其余三项在材料中没有体现，排除ACD项。故选B项。

16. 学习历史需要区分史实与观点。下列表述中属于历史观点的是

- A. 农奴制改革改变了俄国社会性质
B. 日本新政府颁布了《五条誓文》
C. 美国南北战争以北方获胜而告终
D. 本茨制造出由内燃机驱动的汽车

【答案】A

【解析】

【详解】根据所学知识，历史观点是分析历史事实的看法和状态，带有明显的个人情感。历史史实是历史的真实情况，不带有自己的感情色彩。分析题干选项 A 属于历史观点，表达了农奴制改革对俄国影响，A 项正确；BCD 都属于对历史描述，是历史史实，排除 BCD 项。故选 A 项。

17. 蒸汽动力首先实现了热能和机械能的转换，人类开始摆脱对人力等直接动力的依赖，而电的利用则开辟了更加广阔的空间，为工业提供了动力，进一步推动了生产力的发展。这则材料从整体上反映了

- A. 蒸汽动力的作用
B. 电力的作用
C. 科学技术的力量
D. 传统的力量

【答案】C

【解析】

【详解】根据材料“蒸汽动力首先实现了热能和机械能的转换，人类开始摆脱对人力等直接动力的依赖，而电的利用则开辟了更加广阔的空间，为工业提供了动力，进一步推动了生产力的发展”可得出是第一次工业革命与第二次工业革命的影响，促进了生产力的发展，这些是科学技术的力量，C 项正确；蒸汽动力的作用主要在第一个工业革命时期，排除 A 项；电力的作用主要在第二个工业革命时期，排除 B 项；第一、二次工业革命是革新的，传统的力量与材料不符，排除 D 项。故选 C 项。

18. 下侧史料说明甘地和玻利瓦尔领导的民族独立运动

暴力不合作只能增加邪恶……非暴力的含义，就是指为了不与邪恶合作而自愿服刑受罚。

——甘地

在没有打碎西班牙强加在我们身上的枷锁以前，我的手将不停地打击敌人，我的心将不会平静。

——玻利瓦尔

- A. 背景不同
B. 目的不同
C. 方式不同
D. 性质不同

【答案】C

【解析】

【详解】根据材料甘地的话“暴力不合作只能增加邪恶……非暴力的含义，就是指为了不与邪恶合作而自愿服刑受罚。”表明甘地采取的是非暴力的方式来抵抗邪恶势力，玻利瓦尔的话“在没有打碎西班牙强加在我们身上的枷锁以前，我的手将不停地打击敌人，我的心将不会平静”，结合所学可知表明玻利瓦尔采取革命方式对抗西班牙，他们的方式是不一样的，一个非暴力，一个暴力，C 项正确；材料中没有描述背景，目

的，性质的信息，都在说方式，排除 ABD 项。故选 C 项。

19. 我国加入世界贸易组织十年间，国内生产总值年均增长超过 10%，出口增长了 493%，外商直接投资 7595 亿美元，国际贸易总量增长 140%。这说明世界贸易组织

- A. 为成员国发展提供契机
B. 解决了国际贸易争端
C. 维护了世界持久和平
D. 重建了国际金融秩序

【答案】A

【解析】

【详解】依据材料“我国加入世界贸易组织十年间，国内生产总值年均增长超过 10%，出口增长了 493%，外商直接投资 7595 亿美元，国际贸易总量增长 140%。”分析可知，我国加入世界贸易组织后，国内经济持续增长，说明它为成员国发展提供契机，A 项正确；材料不能体现“解决了国际贸易争端”，排除 B 项；材料不能体现“维护了世界的持久和平”，排除 C 项；材料不能体现“重建了国际金融秩序”，排除 D 项。故选 A 项。

20. 1950 年，世界人口只有约 25 亿。1987 年 7 月 11 日，世界人口突破 50 亿。2011 年，世界人口达到 70 亿。人口过快增长带来

- A. 人均资源增多
B. 环境压力增大
C. 就业压力减小
D. 性别歧视消除

【答案】B

【解析】

【详解】根据材料人口增长过快，再结合所学可知，人口增多，人类使用的矿物燃料、生活垃圾等就会增多，会带来环境压力，B 项正确；人均资源减少，排除 A 项；就业压力增加，排除 C 项；性别歧视消除与事实不符，排除 D 项。故选 B 项。

二、材料解析题（本大题共有 3 小题，21 题 14 分，22 题 12 分，23 题 14 分，共 40 分）

21. 阅读下列材料，回答问题：

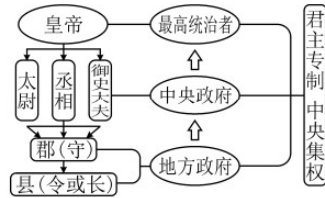
材料一“大一统”思想源远流长……汉代的“大一统”思想包含两方面的意义，其一是统一思想，建立国家意识形态，通过文化的一统实现政治的一统；其二是维护中华民族领土的统一，通过地域的一统实现民族的一统……都是形成共同民族认同的重要前提。

——摘编自刘文剑《“大一统”思想发微》

材料二



A. 西夏货币




B. 秦朝的政治建制示意图



C. 班禅金印



D. 新疆伊犁将军府



E. 契丹文字



F. 《步辇图》

(1) 据材料一，概括汉代的“大一统”思想包含的内容。结合所学知识，指出汉武帝时期实现“文化的一统”的做法。

(2) 图片往往蕴含着丰富的历史内涵。依据材料二，按要求完成以下问题：

① 图片从不同方面印证了我国古代统一多民族国家的发展状况。其中，体现辽宋夏金元时期民族交融的有_____和_____。印证清朝时期我国统一多民族国家得到巩固的有_____和_____。

(填写字母即可)

② 仿照示例，写出图片 F 所示内容的历史内涵。

示例：图片所示的“秦朝的政治建制示意图”，既能反映当时的政治建制状况，也能反映当时中央集权制度的创立。

(3) 综合上述材料，简析我国古代统一多民族国家不断巩固和发展的原因。

【答案】 (1) 内容：统一思想，建立国家意识形态；维护中华民族领土的统一。做法：“罢黜百家，尊崇儒术”（“罢黜百家，独尊儒术”）；兴办太学等。

(2) ①体现辽宋夏金元时期民族交融：AE

印证清朝时期我国统一多民族国家得到巩固：CD

② 图片 F 所示的《步辇图》既能反映唐朝的绘画成就，也能反映唐朝的民族交融。

(3) 原因：“大一统”思想的影响；各民族经过长期的经济、文化交流，民族交融不断加强；中央集权制度的发展和完善等。

【解析】

【小问 1 详解】

根据材料“其一是统一思想，建立国家意识形态，通过文化的一统实现政治的一统；其二是维护中华民族领土的统一，通过地域的一统实现民族的一统”表明概括汉代的“大一统”思想包含统一思想和建立国家意识形态；结合所学可知，汉武帝时期采纳董仲舒“罢黜百家，尊崇儒术”的思想，确立儒家学说的正统地位，还

在长安兴办太学，培养儒学人才。

【小问2详解】

根据材料六幅图，辽宋夏金元时期民族交融的是 A 西夏货币和 E 契丹文字，西夏和契丹建立的辽都属于少数民族政权。清朝时期我国统一多民族国家得到巩固的是 C 班禅金印和 D 新疆设伊犁将军，班禅是康熙时册封，清朝设伊犁将军，管辖包括巴勒喀什池在内的整个新疆地区；根据前面①的例子可知，在描述的时候，主要描述图片反映的某一时代的特征，所以可写为：图片 F 所示的《步辇图》既能反映唐朝的绘画成就，也能反映唐的民族交融。

【小问3详解】

根据材料上的统一思想，材料二的民族交融可知，我国古代统一多民族国家不断巩固和发展的原因是“大一统”思想的影响；各民族经过长期的经济、文化交流，民族交融不断加强；中央集权制度的发展和完善等

22. 阅读下列材料，回答问题：

材料一 1916年，李大钊发表文章，大声疾呼：“民与君不两立，自由与专制不并存，是故君主生则国民死，专制活则自由亡。”……新文化运动仍以资产阶级民主主义为救国方案……中国先进分子对救国方案的探索，再一次走到了十字路口。

——摘编自《中国共产党简史》等资料

材料二 1918年李大钊部分革命活动

●李大钊接连发表《法俄革命之比较观》《庶民的胜利》《布尔什维主义的胜利》等文章，热情讴歌俄国十月革命。

●毛泽东来到红楼，在李大钊的影响下，开始接触马克思列宁主义书籍，并且逐渐成为一名马克思主义者。

●在北大红楼里，李大钊团聚了一些志趣相投的北大师生，建立了第一个研究马克思学说的团体。

●在北大红楼里，李大钊和陈独秀等创办了《每周评论》。《每周评论》成为五四时期最具影响力的刊物之一。

——摘编自张珊珍《党史第一课——中国共产党成立全纪录》

材料三 钊自束发受书，即矢志努力于民族解放之事业，实践其所信，励行其所知，为功为罪，所不暇计。今既被逮，惟有直言。倘因此而重获罪戾，则钊实当负其全责。

——李大钊《狱中自述》

(1) 据材料一、二，归纳李大钊救国思想的变化。并依据材料，指出导致李大钊思想变化的重大历史事件。

(2) 据材料二，概括李大钊宣传新思想的方式。

(3) 综合上述材料，简述李大钊的革命活动所产生的影响。

【答案】 (1) 变化：从宣传民主、科学到宣传马克思主义

历史事件：俄国十月革命。

(2) 方式：撰写文章、成立研究团体、创办进步刊物。

(3) 影响：传播了马克思主义；为中国共产党的诞生做了准备；在他的影响下，中国出现了大批马克思主义者；他强烈的社会责任感、勇于担当的精神和爱国情怀激励了后来者；引领后人投身革命，为实现民族解放、民族复兴而努力奋斗。

【解析】

【小问1详解】

根据材料“民与君不两立，自由与专制不并存，是故君主生则国民死，专制活则自由亡。”归纳可知，李大钊在新文化运动时期宣传民主、科学；根据材料“李大钊接连发表《法俄革命之比较观》《庶民的胜利》

《布尔什维主义的胜利》等文章，热情讴歌俄国十月革命”“建立了第一个研究马克思学说的团体”“李大钊和陈独秀等创办了《每周评论》。《每周评论》成为五四时期最具影响力的刊物之一”，归纳可知，李大钊宣传马克思主义；由此可见，李大钊救国思想从宣传民主、科学到宣传马克思主义；根据材料“李大钊接连发表《法俄革命之比较观》《庶民的胜利》《布尔什维主义的胜利》等文章，热情讴歌俄国十月革命。”，结合所学知识可知，导致李大钊思想变化的重大历史事件是俄国十月革命。

【小问2详解】

根据材料“李大钊接连发表《法俄革命之比较观》《庶民的胜利》《布尔什维主义的胜利》等文章”“建立了第一个研究马克思学说的团体”“李大钊和陈独秀等创办了《每周评论》。《每周评论》成为五四时期最具影响力的刊物之一”，概括可知，李大钊宣传新思想的方式为：撰写文章、成立研究团体、创办进步刊物。

【小问3详解】

根据材料“李大钊接连发表《法俄革命之比较观》《庶民的胜利》《布尔什维主义的胜利》等文章，热情讴歌俄国十月革命”“毛泽东来到红楼，在李大钊的影响下，开始接触马克思列宁主义书籍，并且逐渐成为一名马克思主义者”“建立了第一个研究马克思学说的团体”“李大钊和陈独秀等创办了《每周评论》。《每周评论》成为五四时期最具影响力的刊物之一”，分析可知，大钊的革命活动传播了马克思主义；为中国共产党的诞生做了准备；在他的影响下，中国出现了大批马克思主义者；根据材料“民与君不两立，自由与专制不并存，是故君主生则国民死，专制活则自由亡。”“钊自束发受书，即矢志致力于民族解放之事业，实践其所信，励行其所知，为功为罪，所不暇计。今既被逮，惟有直言。倘因此而重获罪戾，则钊实当负其全责”，分析可知，他强烈的社会责任感、勇于担当的精神和爱国情怀激励了后来者；引领后人投身革命，为实现民族解放、民族复兴而努力奋斗。

23. 阅读下列材料，回答问题：

材料一

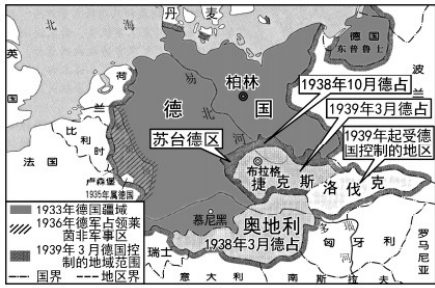


图1 德国侵略扩张示意图



图2 签署《联合国宣言》



图3 苏军攻克柏林

材料二第二次世界大战结束后，由于国家战略的对立和社会制度的巨大差异，美苏两国由战时的盟友转变为战后的对手，进行了长达4多年的对抗。在美苏两极格局下……多极化发展趋势正逐步孕育着。

——整理自人教版《中外历史纲要》

材料三党的十八大以来，世界多极化加速发展，国际关系分化组合更趋复杂，国际格局面临深刻调整，力量对比向更加均衡方向发展。面对保护主义的抬头、单边霸凌的逆流，中国……坚定地站在历史前进的正确一边。

——摘编自《中国共产党简史》

(1) 据图1，概括1938~1939年纳粹德国对外扩张情况。结合所学知识，简述图1、图2、图3所反映内容的关系。

(2) 据材料二并结合所学知识，论证“两极格局中孕育着多极化发展趋势”这一观点。

(3) 据材料三，概括“站在历史前进的正确一边”的内涵。

【答案】 (1) 扩张情况：1938年，德国吞并奥地利，1939年，德国吞并捷克斯洛伐克。

关系：以德国为代表的法西斯国家的侵略扩张激起了世界各国人民的愤怒，全世界反法西斯国家开始逐渐走向联合，建立了世界反法西斯联盟，最终打败了法西斯国家，取得反法西斯战争胜利。

(2) 在美苏两极格局下，中国等发展中国家影响力增强；日本崛起；欧洲共同体成立并发展；美国侵略越南，陷入越战泥潭，在经济危机的打击下，经济发展速度放缓等；

以上史实说明两极格局中孕育着多极化发展趋势。

(3) 顺应经济全球化趋势；抵制单边主义；反对霸权主义和强权政治；推动世界政治格局向多极化方向发展。

【解析】

【小问1详解】

根据图一，1938年3月德国战奥地利，1938年10月德国占苏台德地区，1939年德国占捷克斯洛伐克，这

是德国扩张情况；根据三幅图分析，三幅图都与德国相关，分别属于二战背景，经过和结果，结合所学

可知三幅图的关系：以德国为代表的法西斯国家的侵略扩张激起了世界各国人民的愤怒，全世界反法西斯

国家开始逐渐走向联合，建立了世界反法西斯联盟，最终打败了法西斯国家，取得反法西斯战争胜利。

【小问2详解】

结合材料二再结合所学可知，在美苏两极格局下，中国通过改革开放影响力增强；日本二战后通过自身和美国援助逐渐崛起；欧洲走向联合，欧洲共同体成立并发展，国际地位提高；美国侵略越南，陷入越战泥潭，在经济危机的打击下，经济发展速度放缓，广大发展中国家的崛起等。

【小问3详解】

根据材料，分析历史前进的正确一边指的是应该顺应当今世界的格局，如顺应经济全球化趋势；抵制单边主义；反对霸权主义和强权政治；推动世界政治格局向多极化方向发展等。

