

2016年山东省淄博市中考历史试卷


一、选择题。（共15小题，每小题1分，共15分）在所给的四个选项中，只有一项最符合题意。

1. “儒家经典蕴含着丰富的仁爱、民本、诚信、正义、中和、大同等思想资源，是社会主义核心价值观的传统文化基源。”儒家学派的创始人是（ ）
A. 孔子 B. 老子 C. 孟子 D. 韩非子
2. 蔡伦被当今世人誉为“影响人类历史进程的100名人”、“人类有史以来最佳发明家之一”，是因为他（ ）
A. 修筑都江堰 B. 改进造纸术 C. 发明活字印刷术 D. 制造地动仪
3. 如图反应的内容是关于下列哪一事件的原始资料（ ）



- A. 五四运动 B. 北伐战争 C. 中共一大 D. 遵义会议
4. 2016年是红军长征胜利80周年。下列关于长征历史意义表述正确的是（ ）
A. 使得中国革命面貌焕然一新 B. 使中国革命转危为安 C. 为争取抗日战争胜利准备了条件 D. 推翻了国民党政权的统治
5. 为了实现民族平等、民族团结和各民族共同繁荣，我国实行的一项基本政治制度是（ ）
A. 按劳分配制度 B. 社会主义制度 C. 民族区域自治制度 D. “一国两制”
6. “1971...10月25日...第26届...第2758号决议”，这是有人在一份破损的报纸上依稀读出的内容。据此判断这份报纸可能是在报道（ ）
A. 万隆会议 B. 中国恢复联合国合法席位 C. 中美建交 D. 中国加入世界贸易组织
7. 下图中反应古代印度文明成果的是（ ）

A.



B.



C.



D.



8. 他是古希腊科学家，以发现杠杆定律和浮力定律而闻名。他是（ ）
A. 荷马 B. 阿基米德 C. 牛顿 D. 达尔文
9. 在欧洲某个时期，游记成了畅销书，水手变为最令人羡慕的职业，海外探险是人们津津乐道的事。出现这一现象的主要原因是（ ）

A. 文艺复兴 B. 新航路开辟 C. 启蒙运动 D. 郑和下西洋

10. 与“查理一世”、“克伦威尔”、“《权利法案》”等这些关键词直接相关的历史事件是 ()

A. 英国资产阶级革命 B. 美国独立战争 C. 法国大革命 D. 俄国农奴制改革

11. “第一条，…立法权均属于由参议院和众议院组成的合众国国会。第二条，…行政权属于美利坚合众国总统。第三条，…司法权属于最高法院…”。这则材料选自 ()

A. 《独立宣言》 B. 《解放黑人奴隶宣言》 C. 《人权宣言》 D. 美国 1787 年宪法

12. 第二次工业革命中，在新技术发明和应用方面走在其它国家前面的是 ()

A. 英国和法国 B. 德国和美国 C. 俄国和日本 D. 英国和德国

13. 某班历史活动课上举行辩论赛，双方辩手主要观点如表。该辩论赛的主题是 ()

正方：使国家由落后的农业国变为强盛的工业国，应充分肯定。	反方：权力高度集中，经济发展失衡，不利于长远发展
------------------------------	--------------------------

A. 法西斯专政 B. 新经济政策 C. 斯大林模式 D. 经济全球化

14. 2015 年 5 月 9 日，俄罗斯在莫斯科红场举行了盛大的阅兵仪式。之所以选择 5 月 9 日举行阅兵仪式，是为了纪念 ()

A. 斯大林格勒战役 B. 诺曼底登陆 C. 欧洲反法西斯战争胜利 D. 第二次世界大战结束

15. 如表是 1951-1991 年美、日、西欧在世界工业生产中所占的比重 (%)。下列选项对表中信息表述不正确的是 ()

国家年份	美国	西欧	日本
1951 年	48.60	20.80	1.60
1970 年	37.83	28.80	9.50
1991 年	33.30	37.00	18.20

A. 美国进入新经济时代 B. 美国所占比重不断下降 C. 日本经济高速发展 D. 西欧所占比重不断增大

二、非选择题。

16. 中国共产党建立后，积极谋求与国民党合作。国共两党分分合合几十年，走一段坎坷路。阅读下列材料，回答问题。

材料一：“国共两党关系大事记”（部分）

1924 年 5 月	在广州黄埔创办中国国民党陆军军官学校
1927 年 8 月 1 日	南昌起义
1936 年 12 月 12 日	西安事变
1945 年 10 月	重庆谈判
1987 年	台湾当局调整“三不”政策
1992 年	达成“九二共识”

材料二：我希望两岸双方共同努力，两岸同胞携手奋斗，坚持九二共识，巩固共同政治基础，坚持走和平发展道路，保持两岸和平发展正确方向，深化两岸交流合作，增进两岸同胞福祉，共谋中华民族伟大复兴，让两岸同胞共享民族复兴的伟大荣耀。

--《习近平会见马英九致辞》（2015 年 11 月 7 日）

阅读材料一，回答 (1) - (3) 题。

(1) 哪位中共领导人曾在黄埔军校担任过政治部主任？南昌起义的意义是什么？西安事变的和平解决产生了怎样的影响？

(2) 1945年，毛泽东赴重庆谈判的目的是什么？重庆谈判取得了怎样的成果？

(3) 1987年，台湾当局调整“三不”政策，表明两岸关系发生了怎样的变化？“九二共识”的核心是什么？

(4) 结合材料二并联系现实，从90多年来国共两党关系的发展变化中，你可以得到哪些启示？（写出两条）

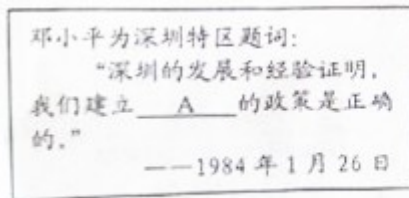
17. 一个国家发展与崛起的重要因素之一就是不断进行改革与创新。阅读下列材料，回答问题。

材料一：1868年4月，日本天皇率领群臣宣读“五条誓文”，决心励精图治，锐意改革……改革的动力是西化……英国模式自然作为铁路、电信、公共建筑和市政工程、纺织工业以及许多商业方面的模范；法国模式用来改革法制、军事；大学归功于美国。

--摘自霍布斯鲍姆《资本的年代》

材料二：美国第32任总统罗斯福说：“作为一个国家，我们拒绝了彻底的革命计划，为了永远地纠正我们经济制度中的严重缺点，我们依靠的是旧的民主秩序的新应用。”

材料三：如图



图一 邓小平题词



图二 1992年，邓小平南方讲话

(1) 根据所学知识回答，材料一中日本改革的名称是什么？材料反映了这次改革中的哪些内容？

(2) 阅读材料二，结合所学知识分析，“为了永远纠正经济制度中的严重缺点”，罗斯福采取的措施是什么？简要说明其作用。

(3) 阅读材料三，请将图一A处空白补充完整。图二邓小平南方讲话的意义是什么？结合所学知识，请你用一句话简要评价邓小平在改革开放中的地位。

(4) 综合上述材料和所学知识，谈谈你对改革的认识。（写出两条）

18. 世界现代史上，国际关系不断变化、调整，影响着世界格局的发展、演变。阅读下列材料，结合所学知识回答问题。

材料一：如图

材料二：杜鲁门国会演讲中指出：“世界已分为‘极权政体’和‘自由国家’两个敌对堡垒。美国对外政策的总原则是：帮助自由民族保持他们的自由制度和国家完整，对抗想把共产主义强加给他们的侵略活动。”

材料三：2015年12月14日，奥巴马在五角大楼发表讲话称，美国领导的联军对伊斯兰国的打击力度“比以往任何时候都要”。自2011年叙利亚内战爆发以来，已经有超过10万人丧生。当前，叙利亚问题是长期以来中东地区各大矛盾的总爆发，本质上为政权之争；其次，是中东地区不同国家和不同教派之间的矛盾；…再次，是大国之争。

--来自“新华网”报道

(1) 材料一两幅图分别指的是哪两次国际会议？图一所示会议形成了怎样的世界新秩序？图二所示会议决定建立哪一个国际组织？

(2) 材料二中杜鲁门的演讲有什么标志意义？美国为“帮助自由民族保持他们的自由制度”采取了哪些措施？针对美国的举措，苏联采取的应对措施是什么？这一应对措施有何影响？

(3) 根据材料三，归纳威胁当今世界和平与发展的因素。

(4) 当今时代，要想维护世界和平与发展，你认为应该采取哪些有效措施？

2016年山东省淄博市中考历史试卷

参考答案与试题解析

一、选择题。（共15小题，每小题1分，共15分）在所给的四个选项中，只有一项最符合题意。

1. “儒家经典蕴含着丰富的仁爱、民本、诚信、正义、中和、大同等思想资源，是社会主义核心价值观的传统文化基源。”儒家学派的创始人是（ ）

A. 孔子 B. 老子 C. 孟子 D. 韩非子

【考点】老子和孔子。

【分析】本题考查儒家思想以及儒家学派的创始人。

【解答】春秋战国时期，思想领域出现了“百家争鸣”的活跃局面。孔子是儒家学派的创始人，是伟大的思想家，教育家，核心思想是“仁”，儒家经典蕴含着丰富的仁爱、民本、诚信、正义、中和、大同等思想资源是儒家思想的体现。

故选A。

【点评】本题考查学生对儒家思想以及儒家学派创始人的识记能力。

2. 蔡伦被当今世人誉为“影响人类历史进程的100名人”、“人类有史以来最佳发明家之一”，是因为他（ ）

A. 修筑都江堰 B. 改进造纸术 C. 发明活字印刷术 D. 制造地动仪

【考点】纸的发明和改进。

【分析】本题考查蔡伦改进造纸术。

【解答】东汉蔡伦改造纸术，用树皮、麻头、破布、渔网等造成便于书写的纸，人称“蔡侯纸”，造纸术的发明和改进，是书写材料的一次伟大变革。是我国古代影响世界的四大发明之一。

故选B。

【点评】本题考查学生识记历史知识的能力。重点掌握改进造纸术。

3. 如图反应的内容是关于下列哪一事件的原始资料 ()



A. 五四运动 B

. 北伐战争 C. 中共一大 D. 遵义会议

【考点】五四运动.

【分析】本题考查学生对五四运动的认识.

【解答】注意抓住题干中的关键信息“誓死力争还我青岛”，联系所学可知，1919年巴黎和会上中国外交的失败，引发了中国的五四运动，北京大学等校学生举行游行示威，高呼“外争主权，内除国贼”、“誓死力争，还我青岛”、反对在对德“和约”上签字等口号。中国新民主主义革命由此开始。

故选A.

【点评】本题难度不大，注意扎实掌握五四运动的主要史实。

4. 2016年是红军长征胜利80周年。下列关于长征历史意义表述正确的是 ()

A. 使得中国革命面貌焕然一新 B. 使中国革命转危为安 C. 为争取抗日战争胜利准备了条件 D. 推翻了国民党政权的统治

【考点】红军长征.

【分析】本题考查的知识点是红军长征.

【解答】题目A项是中国共产党的成立意义，C项中共七大为争取抗日战争的胜利准备了条件，D项解放战争中，南京解放推翻了国民党的统治。B项红军长征胜利使中国革命转危为安。

故选B.

【点评】理解和把握中国革命历程中的大事。

5. 为了实现民族平等、民族团结和各民族共同繁荣，我国实行的一项基本政治制度是 ()

A. 按劳分配制度 B. 社会主义制度 C. 民族区域自治制度 D. “一国两制”

【考点】民族区域自治制度.

【分析】本题主要考查民族区域自治制度.

【解答】新中国成立后，为了实现民族平等、民族团结和各民族共同繁荣，中央人民政府根据民族平等、民族团结和民族互助的原则，在少数民族聚居的地区实行了民族区域自治制度。民族区域自治对祖国统一、民族平等、民族团结和地区发展具有重大的意义，成为我国的一项基本国策和基本政治制度。

故选C.

【点评】本题主要考查民族区域自治制度的相关知识。考查学生对历史史实的准确识记。

6. “1971...10月25日...第26届...第2758号决议”，这是有人在一份破损的报纸上依稀读出的内容。据此判断这份报纸可能是在报道（ ）

A. 万隆会议 B. 中国恢复联合国合法席位 C. 中美建交 D. 中国加入世界贸易组织

【考点】中国恢复在联合国的合法席位。

【分析】本题主要考查中国恢复联合国合法席位。

【解答】解答本题的关键是“1971...10月25日...第26届...第2758号决议”，1971年10月25日，第26届联合国大会就阿尔巴尼亚、阿尔及利亚等国提出的接纳中华人民共和国并立即驱逐台湾的提案进行投票表决。结果该项提案以压倒多数票获得通过，中华人民共和国政府成为中国在联合国的唯一合法政府，恢复了在联合国的一切合法权利。

故选B。

【点评】本题考查学生阅读材料和综合分析理解历史问题的能力。

7. 下图中反应古代印度文明成果的是（ ）



【考点】佛教和古印度文明。

【分析】本题考查了古印度文明代表--种姓制度。

【解答】雅利安人在进入古代印度后，逐渐产生不同等级，形成严格的等级制度，史称“种姓制度”。第一等级婆罗门（祭司、贵族）掌握神权；第二等级刹帝利（国王、武士、官吏）把持国家军事行政大权。第三等级吠舍（农民、牧民、手工业者、商人）向国家纳税，向神庙上供，供养第一、第二等级；第四等级首陀罗（被征服者、贫困破产失去土地的人）几乎没有权利，受奴隶主阶级的剥削，干最低贱的职业。

故选C。

【点评】图片材料型选择题必须准确识别图片或认真观察分析图片中包含的文字，根据相关文字的提示信息判断分析确定正确选项。

8. 他是古希腊科学家，以发现杠杆定律和浮力定律而闻名。他是（ ）

A. 荷马 B. 阿基米德 C. 牛顿 D. 达尔文

【考点】古代杰出的科学家；西方文明的发源地—古希腊。

【分析】本题主要考查了阿基米德的贡献。

【解答】根据所学知识可知：阿基米德是古希腊科学家，以发现杠杆定律和浮力定律而闻名。荷马是古希腊诗人，牛顿是近代著名物理学家，达尔文是近代著名生物学家。

故选B。

【点评】注意准确识记阿基米德的贡献。

9. 在欧洲某个时期，游记成了畅销书，水手变为最令人羡慕的职业，海外探险是人们津津乐道的事。出现这一现象的主要原因是（ ）

A. 文艺复兴 B. 新航路开辟 C. 启蒙运动 D. 郑和下西洋

【考点】新航路的开辟。

【分析】本题主要考查了新航路开辟的内容。

【解答】依据所学可知：新航路开辟激励了人们海外探险和发财致富的信心，这是导致游记成了畅销书，水手变为最令人羡慕的职业的重要原因，所以答案选 B，A、C、D 三项与欧洲探险无直接关系。

故选 B。

【点评】注意抓住关键词并结合所学直接进行判断。

10. 与“查理一世”、“克伦威尔”、“《权利法案》”等这些关键词直接相关的历史事件是 ()

A. 英国资产阶级革命 B. 美国独立战争 C. 法国大革命 D. 俄国农奴制改革

【考点】英国资产阶级革命。

【分析】本题考查的是英国资产阶级革命的知识点。

【解答】查理一世是英国资产阶级革命中被处死的国王；克伦威尔是英国资产阶级革命的领导人；《权利法案》的颁布，确立了君主立宪政体，巩固了英国资产阶级革命的成果。

故选 A。

【点评】本题主要考查的是学生对英国资产阶级革命的有关知识的记忆能力。

11. “第一条，…立法权均属于由参议院和众议院组成的合众国国会。第二条，…行政权属于美利坚合众国总统。第三条，…司法权属于最高法院…”。这则材料选自 ()

A. 《独立宣言》 B. 《解放黑人奴隶宣言》 C. 《人权宣言》 D. 美国 1787 年宪法

【考点】美国 1787 年宪法。

【分析】本特纳主要考查的是美国 1787 年宪法的知识点。

【解答】美国 1787 年宪法规定，总统既是国家元首，又是政府首脑，享有行政权；最高法院和国会分别掌握司法权和立法权。

故选 D。

【点评】本题主要考查的是学生对美国 1787 年宪法的内容的记忆能力。

12. 第二次工业革命中，在新技术发明和应用方面走在其它国家前面的是 ()

A. 英国和法国 B. 德国和美国 C. 俄国和日本 D. 英国和德国

【考点】第二次工业革命。

【分析】本题考查的是第二次科技革命的知识点。

【解答】在第二次科技革命中，在电力等新技术的发明和应用方面走在世界其它国家前面的是美国和德国。

故选 B。

【点评】本题主要考查的是学生对第二次科技革命的有关知识的记忆能力。

13. 某班历史活动课上举行辩论赛，双方辩手主要观点如表。该辩论赛的主题是 ()

正方：使国家由落后的农业国变为强盛的工业国，应充分肯定。

反方：权力高度集中，经济发展失衡，不利于长远发展

A. 法西斯专政 B. 新经济政策 C. 斯大林模式 D. 经济全球化

【考点】 苏俄新经济政策。

【分析】 本题考查的是斯大林模式的相关知识。

【解答】 通过分析题干，我们知道这是斯大林模式的积极影响和消极影响，斯大林体制开辟了独特的工业化之路，使国家由落后的农业国变为强盛的工业国，为反法西斯战争的胜利提供了物质保障；但是它使得权力高度集中，经济发展失衡，不利于长远发展。

故选 C。

【点评】 注意准确识记斯大林模式的有关内容。

14. 2015年5月9日，俄罗斯在莫斯科红场举行了盛大的阅兵仪式。之所以选择5月9日举行阅兵仪式，是为了纪念（ ）

A. 斯大林格勒战役 B. 诺曼底登陆 C. 欧洲反法西斯战争胜利 D. 第二次世界大战结束

【考点】 反法西斯战争的胜利。

【分析】 本题考查的是第二次世界大战的知识点。

【解答】 1945年5月8日，德国选布无条件投降，由于时差原因，地处柏林以东的苏联当时已是5月9日凌晨，而在柏林以西的美、英、法等国还是5月8日的下午或晚上。因此，美、英、法等国把5月8日定为欧洲胜利日，苏联则确定5月9日为战胜德国法西斯纪念日。

故选 C。

【点评】 本题主要考查的是学生对第二次世界大战的有关知识的记忆能力。

15. 如表是1951-1991年美、日、西欧在世界工业生产中所占的比重（%）。下列选项对表中信息表述不正确的是（ ）

国家年份	美国	西欧	日本
1951年	48.60	20.80	1.60
1970年	37.83	28.80	9.50
1991年	33.30	37.00	18.20

A. 美国进入新经济时代 B. 美国所占比重不断下降 C. 日本经济高速发展 D. 西欧所占比重不断增大

【考点】 战后美国 西欧 日本经济发展原因。

【分析】 本题考查的是1950~1991年美、日、西欧工业的发展。

【解答】 通过观察上图，可以看出日本经济高速发展，西欧所占比重在不断增大，美国所占比重不断下降，但不能说明美国进入新经济时代。20世纪90年代，美国政府在进行社会经济改革的同时，加大教育、科技事业的发展，促进了以信息产业为代表的高新技术的发展。这一时期，美国的经济政策和经济结构都和以前有很大不同，因此，人们认为美国进入到新经济时代。

故选 A。

【点评】注意准确识记战后世界经济发展的有关内容。

二、非选择题。

16. 中国共产党建立后，积极谋求与国民党合作。国共两党分分合合几十年，走一段坎坷路。阅读下列材料，回答问题。

材料一：“国共两党关系大事记”（部分）

1924年5月	在广州黄埔创办中国国民党陆军军官学校
1927年8月1日	南昌起义
1936年12月12日	西安事变
1945年10月	重庆谈判
1987年	台湾当局调整“三不”政策
1992年	达成“九二共识”

材料二：我希望两岸双方共同努力，两岸同胞携手奋斗，坚持九二共识，巩固共同政治基础，坚持走和平发展道路，保持两岸和平发展正确方向，深化两岸交流合作，增进两岸同胞福祉，共谋中华民族伟大复兴，让两岸同胞共享民族复兴的伟大荣耀。

--《习近平会见马英九致辞》（2015年11月7日）

阅读材料一，回答（1）-（3）题。

（1）哪位中共领导人曾在黄埔军校担任过政治部主任？南昌起义的意义是什么？西安事变的和平解决产生了怎样的影响？

（2）1945年，毛泽东赴重庆谈判的目的是什么？重庆谈判取得了怎样的成果？

（3）1987年，台湾当局调整“三不”政策，表明两岸关系发生了怎样的变化？“九二共识”的核心是什么？

（4）结合材料二并联系现实，从90多年来国共两党关系的发展变化中，你可以得到哪些启示？（写出两条）

【考点】材料解析题；黄埔军校的建立；八一南昌起义；西安事变；重庆谈判与《双十协定》；祖国统一大业。

【分析】（1）本题考查了黄埔军校、南昌起义和西安事变的相关史实。

（2）本题考查了重庆谈判的相关知识。

（3）本题考查了有关台湾的相关知识。

（4）本题是启示类题目，言之有理即可。

【解答】（1）据所学知，在1924年5月成立的黄埔军校中，蒋介石任校长，周恩来任政治部主任。1927年的南昌起义，打响了武装反抗国民党反动统治的第一枪，是中国共产党独立领导武装斗争，创建人民军队和武装夺取政权的开始。1936年西安事变的和平解决，标志着十年内战基本结束，抗日民族统一战线初步形成。

（2）据所学知，为了尽一切可能争取国内和平，戳穿蒋介石假和平的阴谋，1945年8月，毛泽东在周恩来等人陪同下，到达重庆，同国民党进行谈判，国共双方达成了和平建国的“双十协定”。

（3）据所学知，1987年台湾当局调整“三不”政策，打破了海峡两岸同胞近38年的隔绝状态，两岸关系发生了历史性巨变。1992年，海峡交流基金会和海峡两岸关系协会达成了“九二共识”，其核心是“海峡两岸均坚持一个中国原则”。

（4）本题是启示类题目，言之有理即可，如和则有利于民族的复兴和崛起，分则对中华民族来说是战争和灾难，两党为了民族利益，应当再次合作，为了实现祖国统一大业，作

出应有的贡献。

故答案为：

(1) 周恩来；打响了武装反抗国民党反动统治的第一枪。标志着十年内战基本结束，抗日民族统一战线初步形成。

(2) 为了尽一切可能争取国内和平，戳穿蒋介石假和平的阴谋；国共双方达成了和平建国的“双十协定”。

(3) 打破了海峡两岸同胞近 38 年的隔绝状态，两岸关系发生了历史性巨变；“海峡两岸均坚持一个中国原则”。

(4) 和则有利于民族的复兴和崛起，分则对中华民族来说是战争和灾难，两党为了民族利益，应当再次合作，为了实现祖国统一大业，作出应有的贡献。（言之有理即可）

【点评】识记国共两党关系史上的重大事件及其意义。


17. 一个国家发展与崛起的重要因素之一就是不断进行改革与创新。阅读下列材料，回答问题。

材料一：1868 年 4 月，日本天皇率领群臣宣读“五条誓文”，决心励精图治，锐意改革……改革的动力是西化……英国模式自然作为铁路、电信、公共建筑和市政工程、纺织工业以及许多商业方面的模范；法国模式用来改革法制、军事；大学归功于美国。

--摘自霍布斯鲍姆《资本的年代》

材料二：美国第 32 任总统罗斯福说：“作为一个国家，我们拒绝了彻底的革命计划，为了永远地纠正我们经济制度中的严重缺点，我们依靠的是旧的民主秩序的新应用。”

材料三：如图



(1) 根据所学知识回答，材料一中日本改革的名称是什么？材料反映了这次改革中的哪些内容？

(2) 阅读材料二，结合所学知识分析，“为了永远纠正经济制度中的严重缺点”，罗斯福采取的措施是什么？简要说明其作用。

(3) 阅读材料三，请将图一 A 处空白补充完整。图二邓小平南方讲话的意义是什么？结合所学知识，请你用一句话简要评价邓小平在改革开放中的地位。

(4) 综合上述材料和所学知识，谈谈你对改革的认识。（写出两条）

【考点】材料解析题；改革开放的成就和意义；邓小平理论的形成与发展；日本明治维新；罗斯福新政。

【分析】(1) 本题考查了明治维新的相关知识。

(2) 本题考查了罗斯福新政的相关知识。

(3) 本题考查了邓小平和南方谈话的相关知识。

(4) 本题是认识类题目，言之有理即可。

【解答】(1) 由材料一“1868 年 4 月，日本天皇率领群臣宣读‘五条誓文，决心励精图治，锐意改革’可知，这指的是明治维新。由材料一“英国模式自然作为铁路、电信、公共建筑

和市政工程、纺织工业以及许多商业方面的模范；法国模式用来改革法制、军事；大学归功于美国”可知，这反映了明治维新在经济、军事、法制、教育等方面的内容。

(2) 据所学知，为了“为了永远纠正经济制度中的严重缺点”，罗斯福进行了新政，加强了国家对经济的干预，使美国经济得到了恢复和发展，逐步走出了经济危机，资本主义制度得到调整、巩固与发展。

(3) 图一是邓小平为深圳特区的题词，深圳是我国建立的第一个经济特区，故材料中空白处应填“经济特区”。1992年，邓小平发表了南方讲话，进一步解放了人们的思想，对建设有中国特色的社会主义产生了深远影响。邓小平是改革开放的总设计师。

(4) 本题是开放性题目，言之有理即可，如改革是社会发展的动力，改革应符合本国国情等。

故答案为：

(1) 明治维新；经济、军事、法制、教育。

(2) 加强国家对经济的干预；使美国经济得到了恢复和发展，逐步走出了经济危机，资本主义制度得到调整、巩固与发展。

(3) 经济特区；进一步解放了人们的思想，对建设有中国特色的社会主义产生了深远影响；邓小平是改革开放的总设计师。

(4) 改革是社会发展的动力，改革应符合本国国情等。（言之有理即可）

【点评】识记明治维新、罗斯福新政、改革开放的相关知识。

18. 世界现代史上，国际关系不断变化、调整，影响着世界格局的发展、演变。阅读下列材料，结合所学知识回答问题。

材料一：如图



材料二：杜鲁门国会演讲中指出：“世界已分为‘极权政体’和‘自由国家’两个敌对堡垒。美国对外政策的总原则是：帮助自由民族保持他们的自由制度和国家完整，对抗想把共产主义强加给他们的侵略活动。”

材料三：2015年12月14日，奥巴马在五角大楼发表讲话称，美国领导的联军对伊斯兰国的打击力度“比以往任何时候都要”。自2011年叙利亚内战爆发以来，已经有超过10万人丧生。当前，叙利亚问题是长期以来中东地区各大矛盾的总爆发，本质上为政权之争；其次，是中东地区不同国家和不同教派之间的矛盾；…再次，是大国之争。

--来自“新华网”报道

(1) 材料一两幅图分别指的是哪两次国际会议？图一所示会议形成了怎样的世界新秩序？图二所示会议决定建立哪一个国际组织？

(2) 材料二中杜鲁门的演讲有什么标志意义？美国为“帮助自由民族保持他们的自由制度”采取了哪些措施？针对美国的举措，苏联采取的应对措施是什么？这一应对措施有何影响？

(3) 根据材料三，归纳威胁当今世界和平与发展的因素。

(4) 当今时代，要想维护世界和平与发展，你认为应该采取哪些有效措施？

【考点】世界现代史综合题；巴黎和会和凡尔赛体系；开罗会议 德黑兰会议 雅尔塔会议和波茨坦；联合国的成立；和平与发展是当今世界的两大主题；美国的冷战政策及措施。

【分析】(1) 本题考查巴黎和会和雅尔塔会议。

(2) 本题考查冷战政策和两极格局的形成。

(3) 本题考查威胁当今世界和平与发展的因素。

(4) 本题考查如何维护世界和平与发展。

【解答】(1) 图一是指巴黎和会，通过 1919 年召开的巴黎和会和 1921 年-1922 年召开的华盛顿会议，帝国主义建立了“凡尔赛--华盛顿体系”，确立了帝国主义在欧洲、西亚、非洲和东亚、太平洋地区的统治秩序；图二是指雅尔塔会议，1945 年 2 月美英苏在苏联的雅尔塔召开会议，出席会议的是美国总统罗斯福、英国首相丘吉尔和苏联领导人斯大林，会议决定战后建立联合国。

(2) 据材料“世界已分为‘极权政体’和‘自由国家’两个敌对堡垒。…帮助自由民族保持他们的自由制度和国家完整，对抗想把共产主义强加给他们的侵略活动”，可知这是 1947 年 3 月杜鲁门在国会发表的演说，他提出“遏制共产主义”、干涉别国内政、加紧控制其他国家的纲领和政策，后来被称之为“杜鲁门主义”，它的出台美苏之间冷战的开始。美国为“帮助自由民族保持他们的自由制度”采取了在经济方面推行援助西欧的“马歇尔计划”，在军事方面建立了北大西洋公约组织。苏联采取了针锋相对的措施，成立了华沙条约组织，两极格局由此形成。

(3) 据材料“…美国领导的联军对伊斯兰国的打击力度‘比以往任何时候都要’。…叙利亚问题是长期以来中东地区各大矛盾的总爆发，本质上为政权之争；其次，是中东地区不同国家和不同教派之间的矛盾；…再次，是大国之争”，可知威胁当今世界和平与发展的因素：地区性冲突和局部战争；霸权主义和强权政治；恐怖主义活动猖獗；宗教、民族矛盾的激化等。

故答案为：

(1) 巴黎和会和雅尔塔会议；凡尔赛--华盛顿体系；联合国。

(2) 杜鲁门主义的出台美苏之间冷战的开始；经济方面推行援助西欧的“马歇尔计划”，在军事方面建立了北大西洋公约组织；苏联采取了争锋相对的措施，成立了华沙条约组织；两极格局由此形成。

(3) 地区性冲突和局部战争；霸权主义和强权政治；恐怖主义活动猖獗；宗教、民族矛盾的激化等。

【点评】理解杜鲁门主义的出台美苏之间冷战的开始。