

机密★启用前

甘孜州二〇二三年初中学业水平考试

历史试卷

(本试卷分试题卷和答题卡两部分。试题卷共 8 页，答题卡共 4 页。满分 100 分。考试时间 90 分钟，考试形式为闭卷)

注意事项：





1. 答题前，考生务必将自己的姓名、准考证号、座位号用 0.5 毫米的黑色墨水签字笔填写在答题卡上，并认真核对条形码上的姓名、考号。
2. 选择题使用 2B 铅笔填涂在答题卡对应题目标号的位置上，非选择题用 0.5 毫米的黑色墨水签字笔书写在答题卡的对应框内。超出答题区域书写的答案无效；在草稿纸、试题卷上答题无效。
3. 考试结束后，将试题卷和答题卡一并交回。

(50 分)

第 I 卷 (选择题)

一、单项选择题 (下列各小题的四个选项中，只有一个是符合题意的。每小题 1.5 分，共 30 分)

1. 图是商代甲骨文中多次出现的文字。据此可以推断当时 ()

甲骨文				
现代汉字	丝	桑	蚕	帛

- A. 青铜农具普及 B. 等级制度严格 C. 商业贸易发达 D. 丝织业已产生

2. 秦始皇推行的巩固统一的措施中，有利于不同地区的人们打破方言障碍，方便沟通交流的是（ ）

- A. 开凿灵渠 B. 统一货币 C. 规范交通 D. 统一文字

3. 王羲之书法在继承前人的基础上，独辟蹊径，以生动多变的线条表达自己的精神意境。下列对其代表作（如图）风格的概括最准确的是（ ）



《兰亭集序》(局部)

- A. 飘逸自然 B. 整齐划一 C. 雄浑粗犷 D. 大小一致

4. 唐太宗把君主和百姓的关系比喻成舟与水的关系，强调“水能载舟，亦能覆舟”。下列举措体现了这一观念的是（ ）

- A. 兴建皇家宫殿 B. 创立科举制度 C. 减免农民租税 D. 加强军备建设

5. 他的词“别开生面，成一代之大观”，开启了豪放派词风，大大提高了词的文学地位。他是（ ）

- A. 白居易 B. 苏轼 C. 李清照 D. 曹雪芹

6. “自郑和下西洋后，中国到南洋（今东南亚地区）去 人日益增多，把中国进步的生产技术和手工业品带到南洋各地……”。这一记述表明，郑和下西洋（ ）

- A. 有利于南洋开发 B. 巩固了边疆海防
C. 造成了人口问题 D. 拓展了明朝疆域

7. 从19世纪70年代起，洋务派开办了轮船招商局、开平煤矿、汉阳铁厂、湖北织布局等民用企业。这些企业的开办（ ）

- A. 培养了近代军事人才 B. 成功抵制了列强的侵略
C. 实现了“求富”目的 D. 推动了中国近代化进程

8. 列强取得了在中国开设工厂、修筑铁路、开采矿山等特权，标志着列强由对华商品输出进入了资本输出的新阶段。这种局面出现在（ ）

- A. 鸦片战争后 B. 甲午中日战争后
C. 戊戌变法后 D. 八国联军侵华后

9. 下图是某学生绘制的反映《辛丑条约》签订后清政府与列强关系的漫画。漫画旨在说明（ ）



- A. 西方列强军事实力异常强大
 B. 清政府沦为了“洋人的朝廷”
 C. 中西礼仪文化存在巨大差异
 D. 清政府开启了学习西方历程

10. 下表反映的主题是 ()

时间	事件
1919年	《新青年》刊载了李大钊的文章《我的马克思主义观》
1920-1921年	北京、上海、武昌、长沙等地成立了共产党早期组织
1920年8月	《共产党宣言》中文全译本出版
1921年7月	中国共产党第一次全国代表大会在上海开幕

- A. 中国共产党的成立
 B. 新文化运动的兴起
 C. 工人运动迅速发展
 D. 社会主义成为现实

11. 《过雪山草地》歌词中写道：“红军都是钢铁汉，千锤百炼不怕难。雪山低头迎远客，草毯泥毡扎营盘。风雨侵衣骨更硬，野菜充饥志越坚。官兵一致同甘苦，革命理想高于天。”歌词蕴含的精神是 ()

- A. 红船精神
 B. 长征精神
 C. 延安精神
 D. 大别山精神

12. 据历史学家刘大年研究，从1931年九一八事变到1945年日本宣布无条件投降为止，日军出国作战共伤病战死287.4万人。其中，89万余人死于太平洋战争，多达198.4万人死于中国战场。这表明，中国战场 ()

- A. 始终坚持了积极进攻的作战策略
 B. 是世界反法西斯战争的东方主战场
 C. 是日军对外侵略扩张的唯一战场
 D. 得到盟军援助的大量先进武器装备

13. 下图两位英雄人物的壮举体现的共同精神是 ()



黄继光

邱少云

- A. 开天辟地、立党为公
- B. 自力更生、丰衣足食
- C. 实事求是、开拓创新
- D. 保家卫国、不怕牺牲

14. 下表所示 1978 年以来我国粮食生产变化 主要原因是 ()

年份	1949 年	1978 年	1998 年	2018 年
中国粮食总产量 (单位: 亿吨)	1.13	3.05	5.12	6.58
中国人均粮食占有量 (单位: 公斤)	209	317	411	471

- A. 封建制度的废除
- B. 改革开放的推进
- C. 欧美国家的援助
- D. 福利政策的推行

15. 恩格斯曾告诫说:“以为人们可以到马克思的著作中去找一些不变的、现成的、永远适用的定义”是一种“误解”。这一“告诫”旨在强调, 马克思主义 ()

- A. 指导了巴黎公社的成功
- B. 是不断发展的开放的理论
- C. 抨击了殖民主义的罪恶
- D. 鼓舞了亚非人民解放斗争

16. 日本明治维新时期, 人们争穿洋服, 食牛肉, 以为时髦; 官员着礼服, 佩绶带, 俨然洋人。这反映了明治维新的特点是 ()

- A. 立足本土文化
- B. 以西方为榜样
- C. 军国主义浓厚
- D. 改革比较彻底

17. “科学研究的突破并迅速应用于工业生产, 推动了电力工业、石油化学工业、汽车工业等新兴产业部门的诞生。”这一现象发生在 ()

- A. 第一次工业革命时期
- B. 美国罗斯福新政时期
- C. 第二次工业革命时期
- D. 第二次世界大战时期

18. 1917 年 11 月 8 日, 当俄国人民醒来, 在街头看到这样一则布告:

临时政府已被推翻, 国家政权业已转到彼得格勒工兵代表苏维埃的机

关，即领导彼得格勒无产阶级和卫戍部队的军事革命委员会手中。

——彼得格勒工兵代表苏维埃军事革命委员会

这表明（ ）

- A. 彼得一世改革成功
- B. 苏德战争正式爆发
- C. 十月革命取得胜利
- D. 两极格局正式形成

19. 下面为某历史教材中“第二次世界大战”部分的目录，其中第二节的标题应为（ ）

第一节 第二次世界大战的全面爆发及其初期阶段

第二节 _____

第三节 第二次世界大战的转折

第四节 第二次世界大战的结

- A. 德国突袭波兰
- B. 诺曼底登陆成功
- C. 反法西斯同盟形成
- D. 德国无条件投降

20. 近年来，美国采取了诸多贸易保护政策，如从多边贸易转向双边贸易，退出多个国际组织，对中国发动贸易战，限制本国企业的对外投资等。这些举措（ ）

- A. 阻碍了经济全球化进程
- B. 导致了美国经济迅速衰落
- C. 加速了两极格局的终结
- D. 推动了国际新秩序的建立

第II卷（非选择题）

二、材料解析题（37题5分，38题5分，39题10分。）

21. 阅读材料，回答问题。

材料一 子曰：“三人行，必有我师焉。择其善者而从之，其不善者而改之。”

——摘自《论语十则》

(1) 材料一体现了孔子怎样的品质？我们该如何学习这一品质？

材料二 自2004年全球第一所孔子学院建立以来，孔子学院在世界范围内发展迅速，成为世界认识中国的一个重要平台。各地孔子学院纷纷开展汉语教学、汉语教师培训，以及体验中国传统文化活动，如包饺子、中医入门、剪纸、春节、太极拳等，推动了中国与各国的友好交往和文化交流。

——据高远《新时代孔子学院的文化传播理念》等

(2) 根据材料二并结合所学知识，谈谈孔子学院在各国设立的积极意义。

22. 阅读材料，回答问题。

材料 台湾大事记（部分）

时期	史实
1281年	元朝设立澎湖巡检司，负责管理澎湖和琉球
1662年	郑成功打败荷兰殖民者，收复台湾
1684年	清朝在台湾设一府三县，隶属福建省
1885年	清朝设置台湾行省
1943年12月	中、美、英三国政府发表《开罗宣言》，明确规定：日本所窃取的中国之领土，例如中国东北、台湾、澎湖列岛等，必须归还中国
1945年7月	中、美、英三国共同签署，后来苏联参加的《波茨坦公告》，重申“开罗宣言之条件必将实施”
1971年10月	第26届联合国大会通过第2758号决议，明确了中华人民共和国在联合国的一切合法权利，不存在“两个中国”“一中一台”的问题
中华人民共和国成立以来	180多个国家先后同中国建立了外交关系，均承认只有一个中国，中华人民共和国政府是中国的唯一合法政府，台湾是中国的一部分

——据张海鹏、陶文钊主编《台湾史稿》、齐世荣《世界史·现代史编》

(1) 根据表，指出我国古代中央政府首次在台湾地区建立的行政机构名称。

(2) 运用表史实，结合所学知识说明“台湾是中国领土不可分割的一部分”。

23. 近代以来，不同国家的现代化道路呈现不同特点。阅读材料，回答问题。

材料一 工业革命后，英国依靠重炮和商品打开了其他民族国家闭关自守的大门，在亚洲、非洲、北美洲和大洋洲占领大量殖民地，建立起庞大的“日不落”殖民帝国。

——摘编自徐蓝《世界近现代史（1500-2007）》

(1) 根据材料一，概括英国崛起的突出特点，并结合所学知识简述其影响。

材料二

时间	事件
1978	中共十一届三中全会召开

年	
1980年	中央决定兴办深圳、珠海、汕头、厦门4个经济特区
1984年	中共中央决定加快以城市为重点的经济体制改革步伐
1992年	中共十四大明确提出要建立社会主义市场经济体制
2001年	中国成为世界贸易组织成员国
2014年	“一带一路”建设作为一种全新的合作模式和共同繁荣发展的方案正式提出
2017年	习近平提出“构建人类命运共同体，实现共赢共享”的中国方案
2020年	中国脱贫攻坚战取得全面胜利，完成了消除绝对贫困的艰巨任务

中国现代史大事记

(据《中国共产党简史》编制)

- (2) 根据材料二，指出中国实行改革开放的标志性事件。
- (3) 根据材料二，提炼一个观点或看法，并结合所学知识加以阐述。
- (要求：观点明确，史论结合，条理清楚)

免费增值服务介绍



- ✓ 学科网 (<https://www.zxxk.com/>) 致力于提供K12教育资源方服务。
- ✓ 网校通合作校还提供学科网高端社群出品的《老师请开讲》私享直播课等增值服务。



扫码关注学科网

每日领取免费资源

回复“ppt”免费领180套PPT模板

回复“天天领券”来抢免费下载券



- ✓ 组卷网 (<https://zujian.xkw.com>) 是学科网旗下智能题库，拥有小初高全学科超千万精品试题，提供智能组卷、拍照选题、作业、考试测评等服务。



扫码关注组卷网

解锁更多功能