

## 2010年全国中考按课标汇编——世界近代史部分

### (一)欧美主要国家的社会巨变

#### 【内容标准】

(1) 知道《神曲》，复述达·芬奇、哥伦布的主要活动，初步认识文艺复兴和新航路开辟对欧洲资本主义社会的产生所起的作用。

15. (2010年福建莆田市)《神曲》一方面给中世纪文化以艺术性的总结，另一方面又呈现出文艺复兴时代人文主义思想的曙光。这部作品的作者是 C

A. 莎士比亚 B. 达·芬奇 C. 但丁 D. 托尔斯泰

17. (2010年武汉市)美国曾在芝加哥哥伦布纪念博览会，以缅怀他在开辟新航路方面的历史功绩。从世界范围看，新航路开辟促使 (A)

A. 全球联系加强，世界开始走向整体

B. 整个世界基本形成了统一的市场

C. 世界最终成为一个整体

14. (2010年三明市)图4是上海世博会会徽寓意是你、我、他的人类社会。世博会的核心理念永远都是我们——“人”。下列事件中最先提倡“发扬人的个性，追求人在现实生活中的幸福”的是 (A)

A. 文艺复兴 B. 英国资产阶级革命 C. 南北战争 D. 工业革命

命

30 (2010年四川省巴中市)有这样一幅地界著名油画，画中妇女温柔、典雅，面带微笑，那“神秘的微笑”给人们以无限丰富的联想，这幅画是\_\_\_。(D)

A. 《神曲》 B. 《哈姆雷特》

C. 《最后的晚餐》 D. 《蒙娜丽莎》

28 (2010年四川省巴中市)在新航路开辟的过程中，航海家们乘风破浪，勇往直前。其中，发现美洲的是\_\_\_。(C)

A. 达·伽马 B. 迪亚士 C. 哥伦布 D. 麦哲伦

17 (2010年佛山市)《神曲》是人类历史上宝贵的精神遗产，它充满着对教会和封建贵族的谴责，对自由、理性和求知精神的歌颂。恩格斯把它的创作者称为“新时代的最初一位诗人”。

请回答：

(1) 《神曲》的作者是谁？(2分)

(2) “新时代”的主题是什么？(2分)并谈谈你对“新时代”的理解。(3分)

(1) 但丁。(2分)

(2) 主题：以人文主义为核心的思想解放；欧洲资本主义的兴起。(2分)

理解：新时代是欧洲开始从中世纪向近代社会的过渡；新兴资产阶级对世俗的物质和精神追求；主张个性解放和思想自由。(3分)

18 (2010年广东省)但丁被誉为“旧时代的最后一位诗人，新时代的最初一位诗人。”开辟这个“新时代”的是 (A)

A. 文艺复兴运动 B. 启蒙运动 C. 英国光荣革命 D. 法国大革命

8. (2010年长春市)他被誉为旧时代的最后一位诗人，同时又是新时代的最初一位诗人。他是 (A)

A. 但丁 B. 达·芬奇 C. 莎士比亚 D. 哥伦布 6 (2010年吉林省)打破地区



图 4

间的相对孤立和相互隔绝状态，使世界开始连成一个整体的事件是 (B)

A. 文艺复兴运动 B. 新航路的开辟 C. 法国大革命 D. 工业革命

17 (2010年汕头市) 文艺复兴时期的一位作家说：“人是能够随心所欲地改造自己的。”这主要反映了资产阶级 (D)

A. 否定宗教信仰的思想 B. 倡导由开明君主执政的思想  
C. 追求自由平等的思想 D. 肯定人的价值和创造性的思想

18 (2010年汕头市) “哥伦布前后进行了四次前往美洲的航行，但都没有找到黄金、珠宝，或者香料、丝绸。结果令资助他的西班牙国王深感失望。”对此理解最为正确的是 (D)

A. 当时的美洲没有黄金、珠宝 B. 哥伦布历经千辛万苦才航行到美洲  
C. 哥伦布具有勇于探索的精神 D. 掠夺财富是哥伦布航行的直接驱动力

19 (2010年汕头市) 16世纪，欧洲的主要商路和国际贸易中心发生了转移，使大西洋沿岸的工商业经济繁荣起来，推动了欧洲资本主义的产生和发展。欧洲主要商路发生转移的主要原因是 (A)

A. 新航路开辟 B. 文艺复兴 C. 启蒙运动 D. 工业革命

21. (2010年杭州市) 16世纪前后，欧洲诞生了新的社会阶层，人们的思想观念发生变化。以下事例能作为上述观点佐证的有 (B)

① 新兴资产阶级大力宣传人文精神  
② “知识就是力量”观点的提出，大大深化了人们对自然的认识  
③ 哥白尼提出的“日心说”被誉为“科学革命的开端”  
④ 16世纪被称为“科学的世纪”

A. ①②③④ B. ①②③ C. ①③ D. ②④

29 (2010年东莞市) 文艺复兴伊始，有一部文学作品描写了人类战胜邪恶，到达人生真善美境界和实现理想社会的故事片，抨击了封建社会的精神支柱——天主教会的种种罪恶，谴责了统治阶级的腐败和贪婪。这部作品是 (C)

A. 《哈姆雷特》 B. 《奥赛罗》 C. 《神曲》 D. 《李尔王》

30 (2010年东莞市) “各国人民共同生活在一个“地球村”里，应该携手合作、共同努力，推动建立公正合理的国际政治经济新秩序。”把世界连成一体开始于 (B)

A. 文艺复兴运动 B. 新航路开辟  
C. 英国资产阶级革命 D. 英国工业革命

11 (2010年鄂州市) 文艺复兴时期的人们认为：人类可以成就伟大的事业。这充分体现出的精神是 (A)

A. 人文主义 B. 唯物主义 C. 唯心主义 D. 浪漫主义

13. (2010年黄冈市) 新航路的开辟，使人类社会第一次由相互隔离、孤立的状态逐渐走向一个整体。在新航路开辟过程中，没有到达印度洋的航海家有 (B)

① 达·伽吗②哥伦布③麦哲伦

A. ①② B. ②③ C. ①③ D. ①②③

12. (2010年黄石市) 西方有一部长诗叙述了作者在梦境中游历地狱、炼狱和天堂三界的故事。这部长诗 (B)

A. 表达了复古主义情绪 B. 就是著名的《神曲》  
C. 是用拉丁文写成的 D. 是莎士比亚所作

12 (2010年荆门市) .“我不想变成上帝，或居住在永恒中……我自己是凡人，我只要求凡人的幸福。”这句话体现的思想是 ( C )

A. 禁欲主义 B. 蒙昧主义 C. 人文主义 D. 理性主义

15. (2010年湖北省宜昌市) 打破了世界各地区间的封闭和孤立状态, 把旧大陆和新大陆联系在一起, 世界历史迈出了从分散走向整体的关键性一步指的是 ( A )

- A. 新航路开辟
- B. 三角贸易
- C. 文艺复兴
- D. 工业革命

16 (2010年岳阳市) 名画《最后的晚餐》是什么宗教的教堂壁画 (C)

- A. 佛教
- B. 伊斯兰教
- C. 基督教
- D. 犹太教

14 (2010年株洲市) “我在 1492 年发现印度大陆以及大批岛屿……我在那绵延六百里长的小西班牙(指海地岛)得告成功. 我征服该岛并使它的居民纳贡。”材料中的“我”指的是 C

- A 郑和
- 8 麦哲伦
- C. 哥伦布
- D 达·伽马

26 (2010年连云港市) 将相互隔绝和孤立的世界开始连成一体的是 (C)

- A. 郑和下西洋
- B. 文艺复兴
- C. 新航路开辟
- D. 第一次世界大战

22 (2010年南京市) .为欧洲资本主义社会的产生奠定了思想文化基础的是 (B)

- A.新航路的开辟
- B.文艺复兴
- C.西欧城市的重新兴起
- D.三角贸易

21 (2010年淮安市) 印第安人说哥伦布是个“恶魔”, 欧洲人说哥伦布是一个“有功之臣”。你认为下列哪个观点能客观公正地评价哥伦布的远航活动 (C)

- A. 哥伦布把欧洲强盗带到美洲, 给印第安人带来了灾难
- B. 哥伦布把欧洲文明传到美洲, 将落后的美洲带入文明时代
- C. 哥伦布给印第安人带来巨大灾难, 同时在客观上推动了西欧资本主义的产生和发展
- D. 哥伦布远航到达美洲, 体现了敢于冒险、勇于拼搏的精神

29 (2010年宿迁市) “公元 1500 年前后的地理大发现, 拉开了不同国家相互对话和相互竞争的历史大幕。”对文中的“地理大发现”作出重大贡献的是 (D)

- A. 张骞
- B. 玄奘
- C. 郑和
- D. 哥伦布

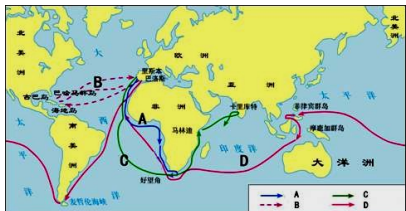
17 (2010年扬州市) 文艺复兴时期, 许多文学家、艺术家、思想家创作了大量的经典作品, 下列组合正确的是 (D)

- A. 但丁——《圣经》
- B. 培根——《蒙娜丽莎》
- C. 达·芬奇——《神曲》
- D. 莎士比亚——《哈姆雷特》

13 (2010年苏州市) “……从西班牙向西航行, 横渡大洋, 可以到达印度, ……我在 1492 年发现印度大陆以及大批岛屿, 包括被印第安人称为的海地……在内。”留下这段遗言的航海家应该是 (C)

- A. 达·伽马
- B. 迪亚士
- C. 哥伦布
- D. 麦哲伦

20. (2010年泰安市) 历史课上, 老师指着下图 A、B、C、D 中的一条航行路线说: “哥伦布就是沿着这条航线发现美洲大陆的”老师指的航线应是 (B)



15 (2010年泰州市) 名画《蒙娜丽莎》典型地表现了文艺复兴时期的时代精神和人格力量, 是一部伟大的人文主义作品, 主要表现在

- A. 达·芬奇成功地运用“圣像图”的画法
- B. 它歌颂世俗人生, 以人性反对神性, 以人权反对神权, 表现人性的美
- C. 达·芬奇将解剖学、透视法和明暗转移法运用其中

D. 它充分体现了神权的力量

解析：人文主义是文艺复兴的核心思想，达芬奇创作的《蒙娜丽莎》是文艺复兴时期的代表作品，自然体现了人文主义精神。答案：B

16 (2010年龙岩市) 与名画《最后的晚餐》的主人公耶稣相关的宗教是 A

A. 基督教 B. 佛教 C. 伊斯兰教 D. 道教

16 (2010年滨州市) 一次座谈会上，朱老师说“我刚从但丁和莎士比亚的故乡回来。”朱老师去的地方是 (A)

A. 意大利和英国 B. 英国和法国 C. 意大利和法国 D. 英国和俄国

26. (2010年山东省济宁市) 1405—1433年，郑和率船队七次下西洋，创造了世界航海史上的奇迹。半个世纪后，右图人物在西班牙王皇室资助下，率船队横渡大西洋。他的航海使欧洲进入“地理大发现”时期，他最早发现美洲新大陆，他是 (C)

A. 迪亚士 B. 达·伽马 C. 哥伦布 D. 麦哲伦



15 (2010年莱芜市) 某学者写道，在16世纪，人们将“文艺复兴”一词只理解为恢复古代传统。你认为文艺复兴的实质应是 A

A. 资产阶级的思想文化运动 B. 古典文化的复兴  
C. 封建思想的兴起 D. 宗教领域内的斗争

24 (2010年山东聊城市) 以下符合文艺复兴时期人文主义内涵的语句是 (D)

A. 国家和君权是上帝的创造物  
B. 上帝的伟大是人不能企及的  
C. 上帝随意创造和毁灭一切  
D. 人类可以成就伟大的事业

31 (2010年青岛市) 14—16世纪，欧洲的思想领域和商业交通领域发生了巨大的变化，被称为“人被发现”和“世界被发现”的时代。其中“世界被发现”是指 (D)

A. 尼德兰革命 B. 文艺复兴 C. 宗教改革 D. 新航路的开辟

9 (2010年山西省) 15、16世纪，打破了世界各地间封闭和孤立状态的重大事件是 (C)

A. 亚历山大东征 B. 郑和下西洋 C. 新航路开辟 D. 三角贸易

16 (2010年四川省成都市) 右图人物是“由旧时代走向新时代的第一位诗人”，他的代表作品是 A

A. 《神曲》 B. 《罗密欧与朱丽叶》  
C. 《哈姆雷特》 D. 《堂吉珂德》



25. (2010年达州市) 假如你穿越时空，跟随下列航海家的船队航行，最先到达东方的是 (C)

A. 迪亚士 B. 哥伦布 C. 达·伽马 D. 麦哲伦

27. (2010年四川省自贡市) 小刚在学习“新航路开辟”时，做了如下笔记，其中不正确的是 (C)

A. 根本原因：资本主义萌芽 B. 客观条件：罗盘针的运用  
C. 重大事件：麦哲伦发现新大陆 D. 消极影响：引发了殖民掠夺的狂潮

1 (2010年攀枝花市) 欧洲资本主义萌芽首先出现在：(A)

A. 意大利 B. 英国 C. 法国 D. 荷兰

2. (2010年攀枝花市) 邮票中的历史：这张邮票以哥伦布航海为主题，是为了纪念他 (B)



- A. 最先到达非洲南端
- B. 发现了美洲
- C. 开辟了到达亚洲的航路
- D. 完成了环球航行

3 (2010年攀枝花市) 新航路开辟后加速了资本主义的发展, 最为突出的表现为 (D)

- A. 资产阶级人数剧增
- B. 雇佣劳动力增加
- C. 封建地主阶级衰落
- D. 资本原始积累速度加快

7 (2010年菏泽市) 14—17世纪, 世界历史在欧洲的推动下, 开始迈入近代社会的门槛。下列相关的历史信息中, 搭配不正确的是 (D)

- A. 中世纪的最后一位诗人——但丁
- B. 开始把世界联结成一个整体——新航路的开辟
- C. 从以神为中心到以人为中心——文艺复兴
- D. 发现美洲新大陆——麦哲伦

(2010年四川省宜宾市) 材料解析题 (12分, 阅读下列材料, 按要求回答问题)

材料一: 人具有高贵的理性, 人具有伟大的力量, 人的行为像天使, 人的智慧像天使。

——莎士比亚

(1) 材料一中莎士比亚的名言反映了当时的西欧流行什么社会思潮? 这一思潮的核心主张是什么? (4分)

材料二: 我们现在认定只有两位先生, 可以救治中国政治上、道德上、学术上、思想上一切的黑暗。

——陈独秀

(2) 材料二中的“两位先生”指什么? 为了实现其主张, 陈独秀等掀起了一场什么重大运动? (3分)

材料三: (见右图)



(3) 材料三文章所示的鲜明观点是什么? 由这篇文章的发表而引发的大讨论, 与中共十一届三中全会的召开有何联系? (5分)

(1) 文艺复兴。人文主义。(2) 民主、科学。新文化运动。(3) 实践

是检验真理的唯一标准。这次讨论为十一届三中全会的召开奠定了思想基础, 也为开创改革开放的新局面作了思想准备。

(2) 简述《权利法案》《独立宣言》和《人权宣言》的基本内容, 初步了解英国资产阶级革命、美国独立战争和法国大革命的历史影响。

28 (2010年福州市) (11分) 阅读下列材料, 回答问题:

材料一 公元前5世纪后半期, 伯利克里扩大公民的权利, 很多公民担任了政府公职。全体成年男性公民可以参加最高权力机构公民大会, 决定内政、外交、和平、战争等重大问题, 他们在行政和司法机构中也发挥着重要作用。

——摘自人教版《世界历史》九年级上册

材料二 凡未经议会同意，以国王权威停止法律或停止法律实施之僭越（僭：jiàn，超越本份）权力，为非法权力。  
——《权利法案》

材料三 在1954年10月1日的国庆游行人群中，有一支队伍特别活跃——第一届人民代表大会队，“拥护宪法”、“国家一切权力属于人民”的标语特别抢眼。

——《辉煌六十年解说词》

请回答：

(1)材料一反映古代哪一国家的民主政治状况？（2分）该国居民都能享受这些权利吗？（1分）

(2)据材料二指出国王的权利受到什么机构的限制？（2分）《权利法案》颁布使英国开始确立怎样的政治体制？（2分）

(3)材料三中的“宪法”具体名称是什么？（2分）它属于什么类型的宪法？（2分）

28. (1)雅典；不能。

(2)议会；君主立宪制。

(3)1954年《中华人民共和国宪法》；社会主义类型的宪法。

31 (2010年四川省巴中市) 下列四国中，哪一个国家与其他三国走上资本主义道路的途径不同？\_\_\_\_。(A)

A. 俄国 B. 英国 C. 美国 D. 法国

16. (2010年福建莆田市) 美国独立战争的转折点是 B

A. 来克星顿枪声 B. 萨拉托加战役 C. 约克镇战役 D. 珍珠港事件

17. (2010年福建莆田市) 1789年发生在法国的革命被认为是一场真正的政治大革命。

这场大革命开始的标志性事件是 A

A. 攻占巴士底狱 B. 热月政变 C. 雾月政变 D. 滑铁卢战役

18 (2010年龙岩市) 英、法、美三国资产阶级革命发生的共同原因是 A

A. 资本主义经济的发展受到严重阻碍 B. 受到封建专制制度的阻碍  
C. 专制王权同议会矛盾斗争的结果 D. 殖民压迫激起人民强烈反抗

9. (2010年长春市) 这是一份激荡人心的政治檄文，它宣称北美13个殖民地“已经解除对英王的一切效忠，成为自由而独立的国家”。它是 (B)

A. 《权利法案》 B. 《独立宣言》 C. 《人权宣言》 D. 《法典》

7 (2010年吉林省) 国王的权利受到法律制约，议会是国家的最高权力机关，这种体制最早出现在 (A)

A. 英国 B. 美国 C. 法国 D. 德国

34 (2010年湛江市) 小林想探究君主立宪制在英国确立的历史，准备把它作为演讲比赛的内容。下面四部文献中，他应该参考的是 (A)

A. 《权利法案》 B. 《独立宣言》 C. 《解放黑人奴隶宣言》 D. 《人权宣言》

27 (2010年广东省) 阅读材料：

材料一：我们的制度之所以被称为民主政治，是因为政权在全体公民手中，而不是在少数人手中。在解决私人争执的时候，每个人在法律上都是平等的。

——伯里克利

材料二：2010年5月12日，英国女王伊丽莎白二世任命保守党领袖卡梅伦为首相，并授权他组建新一届政府。……伊丽莎白二世虽然是英国国家的象征，却不掌握国家的最高权力，是统而不治的君主。

——摘自新华网

材料三：在权利方面，宣扬人们生来是而且始终是自由平等的；法律是公共意志

的表现；各个公民都有言论著述和出版的自由。……财产权是神圣不可侵犯的权利。

——摘自《人权宣言》

请回答：

(1)根据材料一，说出实行这种“民主政治”的古代奴隶制城邦国家的名称。(2分)

(2)结合所学知识，判断材料二所反映的是英国什么政治制度？(1分)该政治制度是怎样在英国确立起来的？(3分)

(3)概括材料三所体现的法国资产阶级的理想追求。(2分)《人权宣言》的发表有何历史意义？(2分)

(4)结合上述材料，谈谈你对西方民主政治的认识。(2分)

27. (本小题共 12 分)

(1)国家：雅典(得 2 分)

(2)政治制度：君主立宪制。(得 1 分)

确立：1640 年英国资产阶级革命的爆发；1688 年英国爆发光荣革命；1689 年英国国会通过《权利法案》。(每点得 1 分，满分 3 分。意思相近，酌情给分)

(3)理想追求：天赋人权；法律面前人人平等；私有财产神圣不可侵犯等。(答任何 2 点可得满分 2 分，意思相近酌情给分)

意义：体现了要求摧毁封建君主专制和等级制度的进步思想；有利于资产阶级民主、自由思想的传播或奠定了西方社会法律的基本准则等(答到以上任何 1 点可得满分 2 分，言之有理酌情给分)

(4)认识：古代希腊是西方文明的摇篮；英法的民主政治对后世影响深远；西方的民主政治是国家稳定发展的保证；民主政治有利于保护公民的基本权利、保证社会的公平等。(答到以上任何 1 点可得满分 2 分，言之有理酌情给分)

34 (2010 年河北省) . 阅读材料，综合运用所学知识回答问题。(14 分)

材料一 民主一直是人类为之奋斗的崇高理想。为实现民主政治，17~19 世纪，英、美、法等国资产阶级掀起了反对专制集权的斗争。经过反复、曲折的较量，西方资本主义民主政治得以确立。

材料二 在十一届全国人民代表大会第三次会议上，来自全国各地的近 3000 名代表，肩负全国人民的重托，认真审议和批准了《政府工作报告》，通过了有关法律文件，圆满完成了会议的各项任务。这体现了我国是人民当家作主的社会主义国家。

材料三 回顾近几年我国民主法治建设取得的成就，监督功不可没。根据最高人民检察院统计，检察机关查办职务犯罪案件的线索，约有 80%来自群众举报。

(1) 17~19 世纪，推动英、美、法等国资本主义民主政治确立的共同因素有哪些？(6 分)

(2) 材料二表明保障人民当家作主的政治制度是什么？(1 分)我国人民当家作主的具体民主权利有哪些？(2 分)

(3) 材料三反映了哪种监督的重要性？(1 分)这种监督对推进社会主义民主法治建设有什么作用？(4 分)

34. (1) ①资本主义的发展。②资产阶级力量的壮大。③思想解放的影响。④资产阶级政权的建立。⑤人民群众的作用。⑥法律的保障。⑦资产阶级政治家的作用等。

(2) 人民代表大会制度。

① 选举权和被选举权(或选举的权利)。②批评建议权。③监督权等。

(3) 人民群众的监督。

① 促使国家机关更好地依法行使职权(或促使政府及其工作人员依法行政)，提高办

事效率。②促使人民群众更好地行使各项民主权利，参与政治生活。③增强人民群众的民主意识（或法治意识、权利意识），提高参政议政的能力。④能有效地惩治腐败，打击违法犯罪。⑤有利于法律的实施，促进司法公正等。

31 (2010年东莞市) 据新华社伦敦5月12日电：英国女王伊丽莎白二世任命保守党领袖卡梅伦为首相，并授权他组建新一届政府。伊丽莎白二世虽然是英国国家的象征，却不掌握国家的最高权力，这种政治制度源于 (A)

A. 《权利法案》 B. 《独立宣言》 C. 《人权宣言》 D. 《人民宪章》

32 (2010年东莞市) 因宣称“人人生而平等，造物主赋予他们某些不可转让的权利，其中包括生命权、自由权和追求幸福的权利”而被马克思称为“第一个人权宣言”的是 (B)

A. 《拿破仑法典》 B. 《独立宣言》 C. 《人权宣言》 D. 《权利法案》

33 (2010年东莞市) 1789年发生在法国的革命被认为是一场真正的政治大革命，其主要原因是法国大革命 (C)

A. 处死国王路易十六 B. 宣扬法律面前人人平等  
C. 彻底摧毁法国封建制度 D. 传播了民主、自由思想

13. (2010年河南省) 14—16世纪，世界历史发生着深刻而巨大的变化，一个崭新的时代即将到来，下列事件为新时代的到来创造条件的是 【 C 】

①文艺复兴运动②英国资产阶级革命③新航路的开辟④法国大革命

A. ①② B. ②③ C. ①③ D. ③④

12 (2010年鄂州市) “就在1689年秋天，一群人开始共同统治一个国家……它标志着一个人统治一个国家的时代在这个国家正式结束。”这个国家应该是 (B)

A. 意大利 B. 英国 C. 西班牙 D. 法国

13 (2010年荆门市) .“一切有权力的人都容易滥用权力；要防止滥用权力，就必须以权力制约权力。”下列文献中最能体现这一思想的是 ( C )

A. 《独立宣言》 B. 《人权宣言》 C. 《美利坚合众国宪法》 D. 《拿破仑法典》

17. (2010年襄樊市) 确定英国为君主立宪制政体的法律文件是 (A)

A. 《权利法案》 B. 英国《宪法》 C. 《人权宣言》 D. 《独立宣言》

17. (2010年衡阳市) “凡未经议会同意，而以国王权威停止法律或施行法律，均属非法。”这则引文出自下列哪一文献？A

A. 《权利法案》 B. 《独立宣言》 C. 《人权宣言》 D. 《法典》

11. (2010年邵阳市) 右列漫画反映的政体是 ( A )

A. 君主立宪制 B. 君主专制  
C. 民主共和制 D. 人民代表大会制

17 (2010年岳阳市) 在资产阶级革命时代，美国独立战争最突出的特点是： (C)

A. 摧毁了封建君主制度 B. 建立发君主立宪制  
C. 结束了英国的殖民统治 D. 颁布了《人权宣言》



23 (2010年南京市) .对同一时间发生的历史事件进行归纳、有助于历史知识的掌握。中俄《尼布楚条约》签订的那一年，下列哪一部文献颁布 (A)

A. 《权利法案》 B. 《独立宣言》 C. 《人权宣言》 D. 《法典》

30 (2010年宿迁市) 下列哪一文献奠定了君主立宪政体的理论和法律基础 (B)

A. 《人权宣言》 B. 《权利法案》 C. 《独立宣言》 D. 《1787年宪法》

18. (2010年武汉市) 在17、18世纪，英国、美国、法国出现了一些新生事物，例如

“君主立宪制、总统、共和政体”等。这表明三个国家都 (C)

- A. 推翻了外国的殖民统治
- B. 确立了议会制约王权的政体
- C. 建立了资本主义民主制度

27. (2010年达州市) 列宁说：“现代文明的美国史，是由一次伟大的、真正解放的、真正革命战争开始的。”这场战争的转折点是 (C)

- A. 《独立宣言》的发表
- B. 华盛顿就任大陆军总司令
- C. 萨拉托加战役
- D. 1787年宪法的颁布

8. (2010年四川省宜宾市) 7月4日被定为美国的“独立日”，这是为了纪念 (B)

- A. 来克星顿枪声打响
- B. 《独立宣言》发表
- C. 萨拉托加战役胜利
- D. 1787年宪法通过

18 (2010年扬州市) 下列关于美国独立战争的史实表述正确的是 ( )

- ① 来克星顿打响了抗英斗争的第一枪
  - ② 华盛顿被任命为大陆军总司令
  - ③ 《独立宣言》的发表宣告北美13个殖民地独立
  - ④ 《巴黎和约》签署，英国正式承认美国独立
- A. ①②③    B. ②③④    C. ①②③④    D. ①②④

39. (2010年十堰市) (10分) 民主与法制是人类在近代化过程中追求的目标，某校历史兴趣小组拟就这一专题开展探究性学习活动，下面是他们收集到的有关材料：

材料一 伯里克利说：“我们的制度之所以被称为‘民主政治’，因为政权是在全体公民手中，而不是在少数人手中。”

材料二



请你也参与这次探究性学习活动，完成下面探究性学习任务。

(1) 被历史学家视为“所有现代民主制度源头”的雅典民主政治的核心是什么？

(1分)

(2) 在近代追求民主政治的过程中，许多国家都爆发了轰轰烈烈的革命，图一和图二所反映的历史事件分别标志着法国大革命和中国辛亥革命的爆发，它们分别是什么事件？(2分)

(3) 在材料二所反映的起义胜利后，法国和中国都颁发了纲领性的法律文件，文件的名称分别是什么？(2分)

(4) 请从革命的性质和革命的结果两方面简要比较法国大革命和中国辛亥革命的相同点和不同的。(5分)

39. (10分) (1) 雅典民主政治的核心是公民平等直接参政 (1分)

(2) 它们分别是巴黎人民攻占巴士底狱和武昌起义 (共2分，各1分)

(3) 相同点：性质都是资产阶级民主革命；结果都推翻了封建君主统治 (2分)；不同点：法国大革命建立了资产阶级统治，并为欧洲的民主制度奠定了基础(1分)，辛亥革命建立

了资产阶级共和国，但未能改变中国半殖民地半封建社会性质。（2分，相同点和不同点的比较中，不要求答案完全一致，学生言之有理即可酌情给分，每个要点为1分）。

14（2010年苏州市）在资产阶级革命发展进程中，立法巩固了革命成果。下列有关法律文献与相关历史事件搭配正确的是（A）

- A．英国资产阶级革命——《权利法案》 B．法国大革命——《独立宣言》  
C．美国独立战争——《人权宣言》 D．美国内战——《1787年宪法》

16（2010年泰州市）“凡未经议会同意，以国王权威停止法律或停止法律实施之僭越权力，为非法权力。……凡未经议会准许，借口国王特权，为国王而征收，或供国王使用而征收金钱，超出议会准许之时限或方式者，皆为非法。”对于以上材料的解说不正确的是

- A．该材料摘自《权利法案》 B．限制了国王的权力  
C．体现了孟德斯鸠的“三权分立”学说 D．确立了君主立宪制

解析：材料选自1689年英国议会颁布的《权利法案》，“凡未经议会同意”“凡未经议会准许”“皆为非法”等关键词说明了国王的权力受到了限制。《权利法案》的颁布，标志着英国确立了君主立宪制政体。孟德斯鸠的“三权分立”学说即立法权、司法权、行政权三权分立，最能体现其精神的是美国1787年宪法；答案：C

15．（2010年无锡市）1787年美国宪法制订的原则是（B）

- A．主权至上 B．三权分立 C．总统掌权 D．民主选举

四、改错题 以下各题表述中各有两处不符合历史事实，请找出错误之处写在答题卡相应位置上，并在答题卡改正处写上正确的内容。（本大题共3小题，每小题1分，共3分）

35．（2010年无锡市）暑假中，小梅一家开始了他们的欧洲自由行。第一站，为了解英国资产阶级革命中颁布的《权利法案》，来到了英国的历史博物馆，知道了英国由此确立君主专制的资产阶级统治；第二站，通过海底之星隧道穿越了英吉利海峡去法国，到马赛重温当年第二次世界大战盟军在此开辟第二战场的恢弘气势；第三站，意大利的罗马，在罗马广场缅怀了罗马的创造者——屋大维，再参观著名的斗兽场，感受古代罗马特有的建筑魅力。

39．（2010年无锡市）历史学习包括史实的解读、确认、规律的提示等基本环节，根据要求和提示，完成下列探究性学习任务。

（1）史实的解读

某同学看到以下两段材料，请你帮他解读下面的问题

材料一：1789年7月14日，愤怒的巴黎市民摧毁了巴士底狱，揭开了法国资产阶级大革命的序幕。之后资产阶级掌握了政权，颁布了重要文件，它宣称“人们生来是自由，权利平等，私有财产神圣不可侵犯”。

材料二：法国近代历史上有一位传奇人物。他曾叱咤风云，几乎横扫整个欧洲，有人说他是“欧洲雄狮”，也有人说他是“科西嘉的怪物”。

问题①材料一中，“它”是指什么文件？（0.5分）

②材料二中的“传奇人物”是谁？（0.5分）

（2）史实的确认

改革是推动社会发展的动力，“改革可以使封建农奴主渡过经济危机；也可以使一个国家在一段时间内摆脱资本主义经济危机的困扰……”请就此观点举出史实各一例加以确认

（1分）（只要求写出历史事件的名称）

（3）规律的提示

在学习了近代科技、思想和文化知识后，李明同学认识：爱因斯坦、达尔文和马克思等分别从不同领域提示了世界的客观规律，推动了社会进步。请分别写出爱因斯坦、达尔文和马克思的最主要研究成果。（1.5分）

16 (2010年潍坊市) 马克思称它为“推动了18世纪欧洲革命”的“第一个人权宣言”。“它”是指(D)

- A. 《权利法案》 B. 《人权宣言》 C. 1787年宪法 D. 《独立宣言》

19 (2010年盐城市) 通过抓关键词了解和掌握知识是学习历史的有效方法之一。与“大陆军、《独立宣言》、华盛顿”三个关键词都相关的历史事件是(B)

- A. 英国资产阶级革命 B. 美国独立战争 C. 法国大革命 D. 美国南北战争

17 (2010年滨州市) 第一条在权利方面,人们生来是而且始终是自由平等的。只有在公共利用上面,才显示出社会上的差别。第十七条财产是神圣不可任犯的权利,除非当合法认定的公共需要所显然必需时,且在公平而预先赔偿的条件下,任何人的财产不得受列剥夺。

上述材料出自(C)

- A. 《权利法案》 B. 《独立宣言》 C. 《人权宣言》 D. 《民法典》

17 (2010年东营市) “我们以这些殖民地的善良人民的名义和权力,谨庄严宣告:这些联合殖民地从此成为、而且名正言顺地应当成为自由独立的合众国……”。上述言论出自(B)

- A. 《权利法案》 B. 《独立宣言》 C. 《人权宣言》 D. 《法典》

27. (2010年山东省济宁市) 王老师备课时需要上网查阅“巴士底狱、罗伯斯庇尔、《人权宣言》”等资料,由此我们可以判断出王老师要讲的相关内容(A)

- A. 法国大革命 B. 美国独立战争 C. 英国资产阶级革命 D. 南美解放战争

16 (2010年莱芜市) “15世纪以后,世界贸易集中地逐渐移向大西洋沿岸……经济力量的转移预示着新大国的兴起。”引文中的“新大国”爆发资产阶级革命的根本原因是 B

- A. 欧洲的商贸中心转移到大西洋沿岸 B. 封建制度严重阻碍资本主义的发展  
C. 启蒙运动猛烈抨击了专制统治 D. 殖民统治阻碍了资本主义的发展

25 (2010年山东聊城市) 路易十六在日记中写道:“14日,星期二,无事。”然而,这一天却改写了法国历史。因为在这天(A)

- A. 巴黎人民攻占了巴士底狱 B. 制宪会议通过了《人权宣言》  
C. 法国建立了共和国 D. 拿破仑颁布了《法典》

32 (2010年青岛市) 美国有许多航空母舰的名字都与该国的独立战争有关,如“萨拉托加”、“来克星顿”号、“邦克山”号等。其中“萨拉托加”号与战争中的哪一事件有关(C)

- A. 独立战争的导火线 B. 独立战争的开始 C. 独立战争的转折 D. 独立战争的结束

23 (2010年威海市) 17至18世纪,是人类历史上伟大的转折时期,英、美、法三国爆发的革命,影响深远。三国革命的共同点是(A)

- A. 都是资产阶级革命 B. 都爆发于欧洲地区 C. 都处死了封建君主 D. 都反抗殖民压迫

(2010年淄博市) (8分) 某校历史兴趣小组进行一次探究活动,请你参与其中。

(1) 请将下表空白处填充完整。(6分)

事件	代表人物	影响
新航路开辟		
英国资产阶级革命	克伦威尔	
	罗伯斯庇尔	摧毁了封建统治,传播了资产阶级自由民主的进步思想,对世界历史的发展有很大影响。

(2) 请你为本次探究活动拟定一个主题。(2分)

(1) (6分)

事件	代表人物	影响
	哥伦布 (1分)	世界开始连成一个整体；(1分) 促进了资本主义的产生和发展 (1分)
		推翻了封建君主专制，(1分) 确立了资本主义君主立宪制 (或资本主义制度)，为发展资本主义扫清了道路。(其它符合题意的也可酌情得分，1分)
法国资产阶级革命 (或法国大革命) (1分)		

(2) 步入近代 (或者资本主义制度开始确立) (其它符合题意的也可酌情得分，2分)

23 (2010年四川省巴中市) 历史小组的同学要选择“君主立宪制的起源”这一主题开展研究。下列几部文献中，他们必须阅读的是\_\_\_\_\_。(C)

A. 《人权宣言》 B. 《独立宣言》 C. 《权利法案》 D. 《解放黑人奴隶宣言》

24 (2010年四川省巴中市) 1789年7月14日，法国国王路易十六在日记中写下“今日无事”，他认为无事的这一天却成为改写法国历史的最重要的日子，因为这一天\_\_\_\_\_。

(A)

A. 巴黎人民攻占巴士底狱 B. 资产阶级颁布《人权宣言》

C. 拿破仑发动政变 D. 反法联军进攻法国

25 (2010年四川省巴中市) 英、法、美资产阶级革命的共同点是\_\_\_\_\_。(D)

①封建专制统治阻碍了资本主义的发展，导致革命的爆发 ②资产阶级在革命中起了领导作用 ③革命都以暴力斗争的方式进行 ④革命后都建立了资产阶级共和国

A. ①②③④ B. ①②③ C. ①④ D. ②③

17 (2010年四川省成都市) 在世界近代史上，使议会成为国家的权力中心，最早确立了君主立宪政体的文献是 C

A. 《人权宣言》 B. 《独立宣言》

C. 《权利法案》 D. 《民法典》

20. (2010年四川省乐山市) 右图是美国的象征。图中人物的左手托握着美国人民在反对殖民统治斗争中用鲜血和生命铸成的文献。该文献应是 (C)

A. 《权利法案》

B. 《人权宣言》

C. 《独立宣言》

D. 《1787年宪法》



纽约自由女神像

24. (2010年资阳市) 下列图片反映的历史场景，按发生的先后顺序排列，正确的是 (D)



① 明治维新时  
期的小学课堂



② 攻占巴士底  
狱



③ 林肯演  
讲



④ 《独立宣言》签署

A. ①③④② B. ②④①③ C. ③②④① D. ④②③①

25. (2010年资阳市) 抓关键词是学习历史的方法之一。与“英国议会”、“制约王权”、“君主立宪”三个关键词直接相关的重要法律文件是 (A)

A. 《权利法案》 B. 《独立宣言》 C. 《人权宣言》 D. 1787年宪法

9. (2010年湖州市) “在那个距今二百多年前的时代里，殖民地联合起来挑战宗主国是破天荒的大事，……与大英帝国的战争一直艰苦地打了八年，最终赢得了独立。”——摘自《大国崛起》解说词。这段话反映的重大历史事件是 (B)

A. 中国北伐战争 B. 美国独立战争 C. 法国大革命 D. 英国资产阶级革命

15. (2010年嘉兴市) 1889年，法国大革命100周年之际巴黎举办世博会。法国大革命爆发的标志是 C

A 来克星顿枪声 B 颁布《人权宣言》 C 攻克巴士底狱 D 波士顿倾茶事件

11. (2010年绍兴市) 在民主国家里，法律便是国王；在专制国家里，国王就是法律。

下列国家中最早开始从“国王就是法律”向“法律便是国王”转变的是 ( ) A

A. 英国 B. 法国 C. 美国 D. 中国

12 (2010年湘潭市) 《人权宣言》是引领法国迈入近代社会的指针，我们今天翻阅它时，仍能领略其伟大而深邃的思想。以下关于该文献内容错误的是(B)

- A. 人生来是自由的，在权利上是平等的。
- B. 法律是特权阶级意志的表现，法律面前人人平等。
- C. 私有财产神圣不可侵犯。
- D. 凡权利无保障和分权未确立的社会，就没有宪法。

14 (2010年沈阳市) 17-19世纪，英、法、美等国经过艰苦的斗争，铲除了封建专制主义，实现了政治民主化。请将下列文献前的序号与相关的历史事件前的字母符号连接，把连接结果填到答题卡的指定位置上。

① 在权利方面，人们生来是而且始终是自由平等的。……法律是公共意志的表现，所有公民有权参与法律的制定。 ——《人权宣言》

② 这些联合殖民地从此成为、而且名正言顺地应当成为自由独立的合众国，它们解除对英王的一切隶属关系，而它们与大不列颠王国之间的一切政治联系也应从此完全废止。 ——《独立宣言》

③ 议会内之演说自由、辩论自由或议事之自由，不应在议会以外的任何法院或任何地方，受到弹劾或讯问。 ——《权利法案》

④ (在叛乱地区) 为人占有而做奴隶的人们都应在那时(指1863年元旦)及以后永远获得自由，……合众国政府行政部门，包括陆海军当局，将承认交保障上述人等的自由。 ——《解放黑人奴隶宣言》

A. 美国独立战争 B. 英国资产阶级革命  
C. 美国南北战争 D. 法国大革命

连接结果为：

14.①——D ②——A ③——B ④——C

4 (2010年攀枝花市) 英国资产阶级革命的领导阶级是 (B)

A. 资产阶级和农场主 B. 资产阶级和新贵族 C. 新贵族和商人 D. 农场主与新贵族

5 (2010年攀枝花市) 被视为美国独立战争转折点的是 (C)

A. 来克星顿枪声 B. 发表《独立宣言》 C. 萨拉托加战役 D. 英国承认美国独立

6 (2010年攀枝花市) “在权利方面，人们生来是而且始终是自由平等的。”这句话引自 (C)

A. 《权利法案》 B. 《独立宣言》 C. 《人权宣言》 D. 《法典》

7 (2010年攀枝花市) 关于英、美、法资产阶级革命的共同点，下列表述错误的是 (A)

A. 都推翻了本国的封建统治 B. 都确立了资产阶级的统治地位

C. 都对世界历史产生重大影响 D. 都有利于本国资本主义的发展

(3) 讲述华盛顿、拿破仑的主要活动，评价资产阶级政治家的历史作用。

7 (2010年淄博市) “我一生四十次战争胜利的光荣，被滑铁卢一战就抹去了，但我有一件功绩是永垂不朽的，这就是我的法典。”材料中“我”指的是 (C)

A. 罗伯斯庇尔 B. 林肯 C. 拿破仑 D. 希特勒

33 (2010年扬州市) 阅读下列材料：

材料一 拿破仑个人的影响诚然是可贵的，但是只有顺应正在推进欧洲文明的那些潮流，他的影响才能起作用。——《拿破仑时代》

材料二 拿破仑说：“我真正的光荣并非打了40次胜仗，滑铁卢之战抹去了这一切的记忆。但有一样东西是不会被人忘却的，它将永垂不朽……”

——北师大版九上《历史》教材

材料三 一位意大利爱国者在1814年写到：“没有人比我更懂得湿润意大利土壤并使之恢复生气的每一滴慷慨的法国人鲜血的价值。但是，我必须说这样一句真实的话：看到法国人离开是一种巨大的、说不出的欢乐。”

——《全球通史》

请回答：

(1) 材料一中作者说的“潮流”指的是什么？(1分)

(2) 材料二中拿破仑自认为“永垂不朽”的是什么？(1分)

(3) 依据材料三指出拿破仑对外战争的性质。(2分)

(4) 综合上述材料并结合所学知识分析拿破仑活动的根本出发点。(1分)

13. (2010年芜湖) 以下是某同学所作的有关“资产阶级革命”的学习小结，其中有五处知识性的错误，请你指出并改正过来。(5分)

英国资产阶级革命的领导阶级除了资产阶级外，还有旧贵族。革命中，英国议会通过了《人权宣言》，对国王的权利进行了明确的限制，这表明英国最终确立了总统制的资产阶级政权。正如学者所说，英国“革命前是国王的议会，革命后是议会的国王”。在美国独立战争中，纳西比战役是它的关键转折点，美军打败了英军，迫使英军5000多人投降。在法国大革命中，罗伯斯庇尔颁布了《法典》，巩固了资产阶级统治，他还多次打败了欧洲反法同盟的军队。

错误：\_\_\_\_\_ 改正：\_\_\_\_\_

错误：\_\_\_\_\_ 改正：\_\_\_\_\_

错误：\_\_\_\_\_ 改正：\_\_\_\_\_

错误：\_\_\_\_\_ 改正：\_\_\_\_\_

错误：\_\_\_\_\_ 改正：\_\_\_\_\_

13. 错误：旧贵族 改正：新贵族 错误：人权宣言 改正：权利法案

错误：总统制 改正：君主立宪制 错误：纳西比战役 改正：萨拉托加战役

错误：罗伯斯庇尔 改正：拿破仑

32 (2010年四川省巴中市) 中国常把一个人遭受挫折或失败称为“败走麦城”，而西方则常称为“人生的滑铁卢”。与西方这一典故有关的历史人物是\_\_\_\_。(C)

A. 华盛顿 B. 克伦威尔 C. 拿破仑 D. 路易十六

18 (2010年东营市) “从俄国冰冻的荒原开始，最后经由滑铁卢的惨败，当了11年皇帝的他在大西洋的一个小岛上终结了自己短暂的辉煌”。文中的“他”是指(C)

A. 克伦威尔 B. 罗伯斯庇尔 C. 拿破仑 D. 华盛顿

16. (2010年三明市) 中学生应该学会客观地评价历史人物。某校历史兴趣小组对拿破仑的功与过展开了讨论，以下是他们对拿破仑所作的评价，不正确的是(D)

A. 他是杰出的资产阶级政治家和军事家  
B. 他颁布《法典》，巩固了资产阶级的统治  
C. 他多次打败欧洲反法同盟，打击了欧洲的封建势力

D. 他后期的对外战争都维护了当地人民的利益

27 (2010年连云港市) “通过政变上台，建立军事独裁，颁布《法典》”的历史人物是(D)

A. 华盛顿 B. 克伦威尔 C. 罗伯斯庇尔 D. 拿破仑

17 (2010年泰州市) 林肯是美国历史上最受人民爱戴的总统之一。他在美国历史进程中的主要贡献是

A. 领导美国赢得独立 B. 维护国家统一，废除黑人奴隶制度  
C. 领导美国赢得反法西斯战争胜利 D. 使美国经济复苏

解析：A选项，“领导美国赢得独立”指的是华盛顿，B选项，林肯是美国历史上著名的总统之一，他领导美国人民进行了南北内战并取得胜利，废除了黑人奴隶制度，维护了国家统一，为美国资本主义经济发展扫清了道路。C选项和D选项，“领导美国赢得反法西斯战争胜利”“使美国经济复苏”都是指罗斯福。答案：B

17. (2010年三明市) 林肯是美国历史上最受人爱戴的总统之一。原因是他(D)

A. 推翻了英国的殖民统治 B. 开创了美国民主政治的先河  
C. 扩大了美国的领土 D. 解放了黑人奴隶和维护了国家统一

21. (2010年泰安市) 梯也尔在评价拿破仑时说：“这是同亚历山大和凯撒一样的天才人物……竟有立法家的才能”。他之所以认为拿破仑具有立法家的才能，是因为(B)

A. 拿破仑一生打了多次胜仗 C. 拿破仑建立了法兰西第一帝国  
B. 拿破仑颁布《法典》，巩固资产阶级统治 D. 拿破仑曾率军入侵俄国

33 (2010年青岛市) 有人认为，2010年3月日本丰田汽车“召回”事件将成为丰田公司的“滑铁卢”。“滑铁卢”作为失败的代名词，与哪位历史人物有关(D)

A. 克伦威尔 B. 圣马丁 C. 罗伯斯庇尔 D. 拿破仑

21. (2010年四川省乐山市) 拿破仑是世界近代史上的风云人物，对欧洲文明演进作出了巨大贡献。下列最能体现这一贡献的是(B)

A. 发动“雾月政变” B. 制定拿破仑法典  
C. 建立法兰西第一帝国 D. 远征俄国

31. (2010年四川省自贡市) 比较评价历史人物，是历史学科能力要求之一。华盛顿、拿破仑作为资产阶级政治家，其历史作用的相同之处是(D)

A. 赢得了民族独立 B. 维护了国家统一  
C. 打击了封建势力 D. 推动了资产阶级民主政治进程

## (二)第一次工业革命

【内容标准】

(1) 讲述发明珍妮机的故事，了解英国工业革命开始于一系列工作机的发明。

19 (2010年广东省) 1851年在英国伦敦举办的第一届世博会上，蒸汽机、纺织机等新产品备受瞩目。这些新产品是哪次技术革命的成果 (A)

A. 工业革命 B. 第二次工业革命 C. 第三次科技革命 D. 信息产业革命

27 (2010年滨州市) 2010年上海世博会已于5月1日盛大开幕，为更全面地了解世博会，方明同学在互联网上查阅了下面的资料。结合所学知识，让我们一起来学习这些资料。

材料一：1851年5月1日，世界上第一次博览会在英国召开。完成了工业革命的英国已经是世界上一流的强国，没有人怀疑英国的强大，因而强大而带来的巨大召唤力使英国举办了世界上第一届世界博览会。

.....这次世界博览会不仅是一次“眼花缭乱，丰富多彩”的陈列，而且开创了今后数十年自由贸易的先驱，向人类预示了工业化生产时代的到来。

材料二：(2010年5月1日上海世博会开幕式上) 国际展览局主席蓝峰在致词时，用不太熟练的普通话称赞中国：“中国是文明古国，中国城市近年来发生的巨大变化是史无前例的。”蓝峰表示，国际展览局代表其157个成员国，对以城市为主题的2010年世博会在上海举办，在中国这个人口最多，历史最悠久，文化底蕴最深厚，同时正在经历巨大和史无前例的城市革命的国家举办，感到无比高兴。

请回答：

(1) 根据材料一和所学知识从政治、经济两方面说明，英国在当时成为一流强国的原因。

(2) 下列工业产品最有可能陈列在第一届世界博览会展馆里的是 ( )



A. 火车 B. 电灯 C. 飞机 D. 计算机

(3) 材料二中国际展览局主席蓝峰认为“中国城市近年来发生的巨大变化是史无前例的”。当代中国城市发生巨大变化开始于上个世纪\_\_\_\_\_年代，其原因是\_\_\_\_\_战略决策的实施。

(4) 2010年上海世博会的主题是“城市——让生活更美好。”方明同学搜集了一些关于古代城市情况的资料，请你判断他的理解是否正确。(在括号内打√可×)

① 费正清《中国：传统与变迁》记载“(中国) 8世纪中期有26个超过10万户的大城市，到了12世纪初就发展到52个。”数据证明宋代城市的数量较前代有较大幅度增长，城市人口大量增加。 ( )

② 吴自牧《梦粱录》中记载“奇术异能，歌舞百戏，鳞鳞相切，乐声嘈杂十数里。”反映的是宋代城中元宵节的热闹景象 ( )

③ 欧洲谚语“城市的空气使人自由。”反映中古欧洲，农庄里的农奴只要居住在自由的城市就有可能取得自由的身份。 ( )

④ 一位意大利商人伦敦旅行见闻录(1497年)中记载，“全城到处可以看到很多手工艺人的作坊，从事各种各样的手工工艺，以致没有一条街不被一些店铺或类似的设施所点缀。”这段记载反映出，中古西欧城市是手工业和商业相对集中的地区。 ( )

(1) 政治上，进行了资产阶级革命(2分)，经济方面完成了工业革命。(2分)

(2) A (2分) (3) 80 (1分) 改革开放 (1分)

(4) ①√ ②× ③√ ④√ (4分)

19 (2010年临沂市) 某历史学兴趣小组搜集到下面四幅图片, 穿越时光隧道, 下列哪一幅图片中的实物最有可能成为 1851 年英国伦敦第一届世界博览会的展品? (D)



A



B



C



D

18 (2010年四川省成都市) 第一届世博会于 1851 年在英国伦敦举办, 在展会期间, 最受参观者瞩目的是蒸汽机、水力纺织机械等新产品。它们的出现与下列哪一事件有最直接的联系? A

A. 工业革命 B. 第二次工业革命 C. 第三次科技革命 D. 信息产业革命


9. (2010年四川省宜宾市) 世界博览会被誉为“经济、科技与文化界的奥林匹克盛会”。1851 年, 现代意义上的首届世界博览会在英国伦敦开幕, 当时陈列的展品不可能有 ( )



①珍妮纺纱机



②网络长椅



③火车机车



④汽车

34. (2010年四川省自贡市) 世博会的举行, 集中反映了某一时期工业化成就, 世界上首先举办世博会的时间和地点应该是 (C)

A. 16 世纪 意大利 B. 17 世纪 法国 C. 19 世纪 英国 D. 20 世纪 美国


16. (2010年乌鲁木齐市) 读图并回答问题。



18 世纪 60 年代的发明之一  
图一



英国割占香港岛示意图  
图二



中英香港政权交接仪式  
图三

(1) 图一是谁的什么发明? 它在英国引发的生产领域的革命性变化被称为什么? 这种革命性变化对英国产生了什么影响? (5分)

(2) 图二反映的是哪次战争签订的哪一条约的内容? 此次战争对中国社会产生了什么重

要影响？（4分）

（3）图三反映的重大事件发生在哪一年？此事件在中国历史上有何重要意义？（3分）

（4）根据以上三幅图和所学知识，分析中国香港岛被英国割占和香港回归祖国的主要原因。（2分）

**（2）知道瓦特改进蒸汽机的史实，认识蒸汽机在大工厂生产中的作用。**

9 **（2010年广州市）**它是工业革命中最大的技术发明，为大机器生产解决了最关键的动力问题。“它”指（ ）**B**

A．珍妮机 B．联动式蒸汽机 C．蒸汽机车 D．内燃机

10．**（2010年长春市）**“机械化生产取代古老的手工操作，大工厂把小作坊远远抛在后面，铁路与轮船取代马车和帆船。”这一巨变把人类带人到崭新的（A）

A．蒸汽时代 B．电气时代 C．网络时代 D．信息时代

34 **（2010年东莞市）**詹姆士·布恩是一位生活在18世纪40—90年代极富经营头脑的英国某织布厂厂主，1785年后，他把工厂搬迁到交通便利的地方。詹姆士·布恩搬迁工厂是因为（B）

A．珍妮纺纱机的发明 B．瓦特改良蒸汽机

C．火车、轮船的出现 D．内燃机的发明

19．**（2010年武汉市）**一位发明家耗时二十余年完成的工业动力机器（如图所示），在某种程度上结束了人类对畜力、风力和水力的依赖。这位发明家是（A）

A.瓦特 B.爱迪生 C.亨利·福特

18 **（2010年岳阳市）**在第一次工业革命中，对各行业机器大生产起了重要推动作用的创造发明是：（D）

A、火车机车 B、内燃机 C、珍妮机 D、蒸汽机

22 **（2010年淮安市）**工业革命的标志性成就是瓦特改进蒸汽机，把人类带入“蒸汽时代”，由此带来的影响是（A）

① 生产力获得巨大发展 ② 社会面貌发生巨大变化  
③ 使资本主义最终战胜封建主义 ④ 使美国成为世界头号经济大国

A.①②③ B.②③④ C.①②④ D.①③④

19 **（2010年扬州市）**“英国到处都建立起大工厂。庞大的厂房，发出隆隆的轰鸣，打破了原来中世纪田园生活的恬静，历史已经跨入了一个新的时代”。这里“新的时代”是指（A）

A．蒸汽时代 B．电气时代 C．信息时代 D．生物时代

22．**（2010年泰安市）**当我们面对2010年上海世博会令人感概的一幅幅场景时，我们不禁想起1851年5月，在英国伦敦举办的第一届世界博览会。在第一届世博会上，下列发明可能参展的是（A）

A．蒸汽机 B．飞机 C．无线电 D．人造卫星


20 **（2010年盐城市）**在人类工业化进程中，机器大量使用，碳排放迅速增加，环境污染日益加重开始于（B）

A.电灯的使用 B.改良蒸汽机的使用 C.内燃机的使用 D.计算机的使用

26 **（2010年山东聊城市）**1851年，万国工业博览会（即第一届世博会）在英国伦敦举行，右图为英国陈馆。英国举办博览会的最主要条件是（D）

A．新航路开辟 B．君主立宪制确立  
C．“日不落帝国”形成 D．工业革命完成

14、**（2010年嘉兴市）**在1851年英国举办的第一届世



览  
列  
博

会上，最有可能展示的科技产品是 A

A 纺纱机、洗衣机 B 汽车、轮船 C 蒸汽机车、电灯 D 电话、电动机

(3) 简述发明“旅行者号”机车的基本史实，认识铁路给人类社会带来的巨大影响。

15. (2010 年安徽) 时间是组成生命的材料，时间是解读历史的标尺。

材料一 佛罗伦萨人认为时间和生命像黄金一样宝贵。为了珍惜它们，1329 年，佛罗伦萨人在城楼上安装了最早的机械钟。

——摘编自陕西师大《中学历史教学参考》

(1) 佛罗伦萨人安装机械钟的行为是受到了文艺复兴运动中什么思潮的影响？(2 分)

材料二 过去以天位单位，现在以分钟、秒计算；……火车还教会人们守时，准时准点成了现代生活的准则，人们开始要随身带上一块表，时间概念是一个全新的概念。

——钱乘旦、许杰明《英国通史》

(2) 从材料二看，“准时准点成了现代生活的准则”应开始于 ( ) (2 分)

A.16 世纪 B.17 世纪 C.18 世纪 D.19 世纪

材料三 1949 年 10 月，有位诗人以一句“时间开始了”来表达自己当时的喜悦心情。1978 年 12 月，对于无数中国人来说，“时间又开始了”……

(3) 这位诗人“喜悦的心情”是因什么重大事件产生的？党和国家工作重心怎样的转移促使“时间又开始了”？(4 分)

(4) 从以上三则材料中，我们可以得到哪些有益启示？(2 分)

15.(1) 人文主义 (2 分)

(2) D (2 分)


(3) 新中国的诞生 (中华人民共和国的成立) (2 分)；转移到经济建设上来 (转移到社会主义现代化建设上来) (2 分)

(4) 珍爱时间就是珍爱生命；科技发明改变人类生活 (或改变人们的观念)；思想解放有利于社会的进步；好的制度、政策有利于社会的发展；必须抓住历史发展的机遇；必须以经济建设中心、改革开放等。(任答 1 点 2 分，其他言之有理皆可) (2 分)

12 (2010 年河池市)、材料一 第一届世博会于 1851 年在英国伦敦举办，在展会期间，



最受参观者瞩目的是如下新产品：



图一

图二

图三

图四

材料二 如图四，自由女神的右手高举着火炬，左手拿着一部文献《独立宣言》。

材料三 经过漫长的航行后，他和同伴于 1492 年 10 月 12 日突然发现远处有陆地，于是高兴地前往，到了近处一看，原来是座海岛，这个岛就是现在美洲加勒比海上巴哈马群岛中的瓜纳哈尼岛。500 多年前的这一大壮举打破了美洲大陆与世隔绝的状态，1992 年为纪

念发现美洲大陆 500 周年。

结合所学知识回答问题

(1) 写出材料一 1851 年的世博会英国有可能展出的先进工业展品 (一件即可, 2 分)

(2) 材料二中“自由女神像”左手执的《独立宣言》对美国有什么意义? (2 分)

(3) 材料三中谈到“纪念发现美洲大陆 500 周年”是谁发现了关注大陆? (2 分)

(4) 说说你对上海世博会的认识。(2 分)

12、(1) 蒸汽机、火车机车、珍妮纺纱机 (2 分)

(2) 美国诞生 (或标志着北美 13 个殖民地脱离英国独立。)

(2 分) (3) 哥伦布 (2 分)

(4) “城市, 让生活更美好” (2 分) (如答其它答案, 只要言之有理也可酌情给分)

35 (2010 年东莞市) 2009 年 12 月 26 日, 武广高铁正式通车运营, 标志着我国步入高速铁路新时代。此时我们不能忘记火车机车的发明者是 (D)

A. 哈格里夫斯 B. 瓦特 C. 爱迪生 D. 史蒂芬逊

14. (2010 年黄石市) 1851 年 5 月第一届世博会——伦敦水晶宫展览会在英国隆重开幕。下列发明创造可能出现在本次展览会的是 (A) ①蒸气机 ②火车机车 ③汽车 ④电灯

A. ①② B. ②③ C. ③④ D. ①②③④



A. 蒸汽机

23 (2010 年泰州市) 今年是世界博览会在中国上海的举办之

年, 也是鸦片战争爆发 170 周年。鸦片战争使中国面临“千古未有的变局”, 上海成为近现代中国与世界联系的桥头堡。阅读有关材料, 回答问题。(8 分)

材料一 乾隆二十二年(1757 年)时, 清政府自以为“天朝物产丰盈, 无所不有, 原不藉外夷货物以通有无”。并下令关闭沿海其他口岸, 只留广州一个口岸对外通商, 并以《防夷规条》限制外国人在华的活动。

(1) 根据材料一, 鸦片战争前清王朝推行怎样的对外政策? 鸦片战争后, 上海是在哪一个不平等条约中被迫开放为通商口岸的?(2 分)

解析: 材料一: “并下令关闭沿海其他口岸, 只留广州一个口岸对外通商”, 得知其为“闭关锁国”政策; 1842 年 8 月, 中英签订《南京条约》, 开放广州、厦门、福州、宁波、上海五处为通商口岸;

参考答案: 闭关锁国、南京条约


材料二 1851 年英国伦敦举办了第一届世界工业博览会, ……引擎、水力印刷机、纺织机械向参观者展示了现代工业的发展和人类焕发出的无限想象力。天时、地利、人和催发了第一届世博会在英国的诞生。

(2) 根据材料二, 结合当时英国的国情, 试从经济(或科技)的角度说明英国能够成功举办第一届世博会最主要的原因。(2 分)

解析: 英国能够成功举办第一届世博会主要的原因有多方面, 从政治上看, 1689 年, 《权利法案》颁布, 英国确立君主立宪制政体; 从经济上看, 1840 年前后, 英国率先完成了工业革命。解答此题的关键词是“经济角度”“原因”。

参考答案: 英国率先完成了工业革命

材料三



蒸汽机车 第一批国产“解放”牌汽车 长征系列运载火箭 多利

(3)1992年，为纪念一位航海家发现美洲500周年，西班牙政府在塞维利亚举办了世博会，把博览会的主题命名为“发现的时代”。请问这位航海家是谁？中国馆展出四大发明及一些最新的科技成就等，被评为“五星级展馆”。材料三中哪一展品最有可能在中国馆展出？(2分)

解析：1492年，哥伦布率领船队到达美洲的古巴和海地，发现了美洲新大陆。1970年4月，“长征一号”运载火箭将中国第一颗人造地球卫星“东方红1号”顺利送入太空轨道。从此，中国在空间技术领域跻身世界先进国家行列。

参考答案：①哥伦布；②长征系列运载火箭（或答图三）

材料四



发展中的上海浦东

(4)结合材料四回答，20世纪90年代，上海迎来了怎样的发展机遇？世博会在上海举办，你认为会对泰州带来什么积极的影响？(2分)

解析：1990年，设立上海浦东开发区。

参考答案：①开发与开放浦东新区；②只要有利于泰州经济、科技和文化等方面的影响即可。

23 (2010年莱芜市) 资本主义生产方式的发展是一个长期的历史过程，在这一过程中，工业革命的进行对东西方国家都产生了巨大影响。阅读材料，回答问题。(8分)

材料一 1306年—1308年，意大利的佛罗伦萨市区有手工工场300家，年生产呢绒十万匹，1343年佛罗伦萨市中有九万余人，从事呢绒生产约三万人，占全城居民的三分之一。

(1) 材料一中佛罗伦萨手工工场的兴旺说明这一时期欧洲出现了什么现象？中国何时最早出现了这一现象？(2分)

材料二 马克思说：“蒸汽和新的工具把工场手工业变成了现代化的大工业，从而把资产阶级社会的整个基础革命化了。工场手工业时代的迟缓的发展进程变成了生产中真正的狂飙时期。”

(2) 根据材料二，说出英国工业革命的标志性成就与工业革命后的主要生产方式。结合所学知识简述工业革命的影响。(4分)

(3) 为了开辟市场和掠夺原料，英国对中国发动了什么战争？由此中国的社会性质发生了什么变化？(2分)

23. (1) 资本主义萌芽。(1分) 明朝中期以后。(1分)

(2) 瓦特改良蒸汽机；大机器生产。(2分) 影响：创造了巨大的生产力；确立了资本主义对世界的统治。(2分)

(3) 鸦片战争 (或两次鸦片战争) ; (1分) 中国开始沦为半殖民地半封建社会。

(1分)

图片传递着丰富的历史信息,为我们研究历史提供了重要依据。回答 19~20 题

6 (2010 年淄博市) 1851 年首届世界博览会在英国伦敦举行。以下工业成果中最有可能在本次博览会上出现的是 (A)

A. 蒸汽机 火车机车 B. 蒸汽机 汽车 C. 内燃机 汽车 D. 电动机 飞机

35. (2010 年四川省自贡市) 某班历史兴趣小组在自主学习和探究《工业革命》一课之后,有四人分别写出了历史小论文。其中说法不正确的是 (B)

- A. 《工业革命加速了欧洲城市化进程》
- B. 《英国人富尔顿在交通运输领域率先取得新突破》
- C. 《工业革命极大地提高了社会和产力》
- D. 《工业革命是从珍妮纺纱机的使用开始的》

19 (2010 年徐州市) (8分)世界博览会是经济、科技与文化界的奥林匹克盛会,也是举办国充分展示综合实力的盛会。根据材料,结合所学知识回答下列问题:

英国举办了第一届世界博览会。维多利亚女王发出外交邀请信函,有 10 个国家接受了邀请。伦敦博览会(又名水晶宫博览会)被确认为现代意义上的首届世博会。水晶宫博览会成为二十世纪科学与进步的巨大推动力,它的成功举办,使它成为全球规模的盛会。

——引自中广网《回顾 1851 年英国伦敦首届世博会》

- (1)英国能够成功举办首届世博会的有利经济条件是什么?(1分)
- (2)在首届世博会上,英国最有可能展示哪些发明?(2分)
- (3)在当时,要把世博会展品运往展览地可使用哪些最为先进的交通工具?(2分)
- (4)在首届世博会举办的 1851 年,英国的政治体制是怎样的?(1分)该体制最早在英国确立的标志是什么?(1分)
- (5)第 41 届世界博览会在中国上海举行。上海能够走上迅速发展的快车道,成为繁荣的国际大都市得益于中共十一届三中全会上作出的哪项英明决策?(1分)

(1)率先进行并完成工业革命,成为世界经济强国。(1分)(符合题意、言之成理即给 1分)

(2)蒸汽机、火车(蒸汽机车)、飞梭、珍妮纺纱机、骡机、水力织布机等。(2分)

(只要举例正确,1点1分,写出其中任意2点即可给2分)

(3)汽船(轮船)、火车(蒸汽机车)。(1点1分,2点2分)

(4)君主立宪制。(1分)《权利法案》的颁布。(1分)

(5)改革开放。(1分)

### (三)殖民扩张与殖民地人民的抗争

#### 【内容标准】

(1) 简述“三角贸易”的基本内容,了解资本原始积累的野蛮性与残酷性。

18 (2010 年滨州市) 1700 年美国的黑种人口只有 2.7 万人,1820 年达到 177.2 万人。黑种人在美国剧增的主要原因是

A. 新航路开辟 B. 自然增长 C. 战争中的难民流亡 D. 三角贸易

15. (2010 年三明市) 倍受同学们喜爱的 NBA 球星很多是黑人。历史上与非洲黑人大批来到美洲有关的史实是 (B)

A. 光荣革命 B. 三角贸易 C. 法国大革命 D. 美国独立战争

20 (2010 年广东省) 一位美国史学家描述道:“……乘船在悲惨的‘中段航程’中横渡大西洋,这些黑色‘货物’上了镣铐,锁在甲板上,没有卫生设备,他们忍受着可怕的待遇……”“黑色‘货物’”将会被贩卖到 (C)

A. 欧洲 B. 非洲 C. 美洲 D. 亚洲

20 (2010年汕头市) 右图为《“三角贸易”示意图》。图中数字代表“三角贸易”经过的四个洲。奴隶贩子的贸易路线一般是从哪个州出发 (C)

A.① B.② C.③ D.④



26. (2010年达州市) 马克思在《资本论》中说：“非洲变为商业性地猎获黑人的场所。”这句话深刻批判的殖民主义的罪恶行为是 (B)

A.建立殖民机构 B.贩卖黑奴 C.发动殖民战争 D.侵吞土地

29. (2010年十堰市) 马克思在《资本论》中指出：

“资本来到世间，从头到脚，每个毛孔都滴着血和肮脏的东西。” (D)

A.工业革命 B.美国南北战争 C.亚历山大东征 D.“三角贸易”

22. (2010年湖北省宜昌市) (15分) 阅读下列材料，完成相关任务。

材料一：“资本来到世间，从头到脚，每个毛孔都滴着血和肮脏的东西。”——马克思

材料二：西欧封建社会时期，封建贵族内部形成了严格的等级制度，农奴等劳动者生活在社会的底层。教皇和教会不仅是最大的土地所有者，还是封建制度的精神支柱。在精神和文化领域，神权凌驾一切。

从17世纪上半叶到20世纪初，资产阶级通过革命或改革，相继在欧美主要国家和亚洲的日本取代了封建势力，获得了政治统治权，颁布了《权利法案》、《独立宣言》和《人权宣言》等资产阶级性质的法律文献，以法律形式初步确立了资产阶级自由、民主、博爱思想；通过第一次、第二次工业革命，社会生产力获得了迅猛发展，社会面貌发生了翻天覆地的变化，文学艺术空前繁荣。

——改编自人教版《世界历史》上册

(1)马克思说：“资本来到世间，从头到脚，每个毛孔都滴着血和肮脏的东西。”请用一段史实来印证马克思的论断。(5分)

(2)请运用史实来说明资本主义制度与封建制度相比具有哪些进步性和优越性?(4分)

(3)我们讲述了资本主义制度的野蛮性和贪婪性，也分析了资本主义制度的进步性和优越性，从中你学到了哪些看待历史事物的方法?(6分)

(1)答案示例：三角贸易使殖民者从中获得惊人的财富，而给殖民地，尤其是非洲人民带来了深重的灾难，有上亿黑人付出了生命的代价。评分说明：史实准确，可得2分。对史实进行了描述可得3分。满分5分。

(2)答案示例：《权利法案》、《独立宣言》和《人权宣言》以法律形式确立了资产阶级自由、民主和博爱思想；资产阶级进行两次工业革命，使社会生产力获得迅猛发展；资本主义带来的先进生产方式和以自由平等思想为基础的先进思想都成为了今天社会的文明进步标志；资本主义为人类社会物质和精神文明都做出了巨大的贡献等等，都说明了资产阶级的进步性和优越性。评分说明：史实一则，可得2分。具体分析了资产阶级有哪些进步性和优越性的，可得2分。满分4分。

(3)答案：对比的方法看历史事物；辩证的观点看历史事物；客观公正、实事求是、符合历史本来面目的看待历史事物；从历史价值、历史地位、对世界的影响等方面看历史事物等等。评分说明：能从两个方面归纳看待历史事物的方法，一方面3分。满分6分。

(2)讲述英国殖民者克莱武在印度疯狂掠夺的史实，认识殖民扩张和掠夺是英国最早成为资本主义工业强国的重要条件之一。

32. (2010年四川省自贡市) “女王，印度人民感恩戴德，绝不会把你遗忘，你的牺牲将激

起争取独立的狂风巨浪。”诗中歌颂的是 ( D )

A . 尼赫鲁 B . 圣马丁 C . 玻利瓦尔 D . 章西女王

33 . ( 2010 年四川省自贡市 ) 如果将“印度民族大起义”、“拉丁美洲的独立运动”归结为一个学习主题，这个主题应该是 ( A )

A . 殖民地半殖民地人民的抗争 B . 资产阶级革命  
C . 社会主义革命 D . 改革与革命

35 ( 2010 年湛江市 ) 民族独立和民族解放是不可抗拒的时代潮流。下列领导人中，反对英国殖民统治，争取民族独立的杰出女英雄是 ( C )

A . 玻利瓦尔 B . 伊丽莎白女王 C . 章西女王 D . 拿破仑

( 3 ) 概述玻利瓦尔和章西女王领导反抗殖民统治斗争的主要事迹，体会殖民地国家和人民反抗殖民侵略的正义性。

28 . ( 2010 年四川省自贡市 ) 图中的他领导成立了“大哥伦比亚共和国”并获得了“拉丁美洲解放者”称号。他是 ( A )

A . 玻利瓦尔 B . 克伦威尔 C . 林肯 D . 圣马丁



20 ( 2010 年岳阳市 ) 下列人物的行为能体现反抗外来侵略、维护民族独立这一主题思想的是： ( A )

① 玻利瓦尔 ② 章西女王 ③ 华盛顿 ④ 林肯

A . ①②③ B . ②③④ C . ①②④ D . ①③④

12 . ( 2010 年乌鲁木齐市 ) 下列历史人物中，领导人民反抗殖民地统治并取得胜利的是




① 华盛顿



② 拿破仑



③ 玻利瓦尔



④ 林肯

A . ①② B . ①③ C . ②④ D . ③④

14 ( 2010 年荆门市 ) . 由南美各国足球俱乐部联赛冠亚军参加的足球赛被称为“解放者杯”，是为了纪念 ( A )

A . 玻利瓦尔 B . 圣马丁 C . 伊达尔哥 D . 哥伦布

24 . ( 2010 年河南省 ) ( 6 分 ) 阅读材料，回答下列问题。

18 世纪 70 年代到 19 世纪中期，面对殖民主义的暴行，殖民地人民进行了不屈的抗争，斗争结果虽然不尽相同，但都沉重打击了殖民统治，维护了民族尊严。这一时期殖民地人民的斗争一般有三种结果：一是民族独立并逐步强大；二是民族独立但社会发展缓慢；三是失败，殖民统治进一步加强。

( 1 ) 请仿照示例，完成问题一和问题二。

示例： 结果：民族独立但社会发展缓慢。

名称：拉丁美洲独立运动。

原因：西班牙、葡萄牙实行的是封建统治，独立国家确立的社会制度落后。

问题一：结果：民族独立并逐步强大。( 2 分)

名称：

原因：

问题二：结果：失败，殖民统治进一步加强。（2分）

名称：

原因：

(2) 在这一时期反对殖民统治的斗争中，涌现出了大批杰出人物，你最敬佩的是谁？请说明理由。（2分）

(1)问题一：名称：美国独立战争。（1分）

原因：独立后美国走上了发展资本主义的道路。（意思对即可，1分）

问题二；名称：印度反英民族大起义。（1分）

原因：英国殖民者的疯狂镇压；英国殖民者实行分化政策；印度王公贵族的妥协。

（一条即可，其他符合题意也可，1分）

(2)如：华盛顿：领导美国人民经过艰苦斗争，取得民族独立。他开创了美国民主政治的先河。玻利瓦尔：他率领起义军英勇作战，解放了西班牙在南美洲的殖民地，建立了一系列独立国家，被誉为“南美的解放者”。章西女王：她是印度杰出的女英雄，她领导起义军英勇抗击英国军队，沉重打击了英国的殖民统治。（评价只要符合人物特征，一条即可，2分）

#### (四)资产阶级统治的巩固与扩大

##### 【内容标准】

(1) 讲述林肯在南北战争中的主要活动，说出《解放黑人奴隶宣言》的主要内容，理解南北战争在美国历史发展中的作用。

11. (2010年四川省眉山市) 马克思说：“在美国历史和人类历史上，林肯必将与华盛顿齐名。”这主要是因为

- A.巩固了北部地区工业资产阶级的统治
- B.满足了农民要求平均分配土地的愿望
- C.维护了国家统一和废除了黑人奴隶制度
- D.取消了对黑人的种族歧视和民族压迫

46. (2010年达州市) 阅读下列材料，结合教材回答问题。

材料一：1951年关于西藏问题的签字仪式在北京举行（图略）

——摘自川教版《中国历史》八年级下册

材料二：“我相信我的政府不能永远忍受一半奴役一半自由的状况。”

——摘自林肯在1858年6月的演讲《裂开的房子》

材料三：“乡愁是一湾浅浅的海峡，我在这头，大陆在那头。”

——摘自台湾著名作家余光中的《乡愁》

(1) 依据材料一回答：为解决西藏问题，中央人民政府主要采取的方式是什么？为加快西藏的发展，党和政府组织修建了一条“神奇的天路”，这条“天路”是指什么？（2分）

(2) 依据材料二回答：林肯政府为结束“一半奴役一半自由的状况”最终采取的方式是什么？在此过程中，哪一决策的出台激发了黑奴的革命情绪，扭转了战局？（2分）

(3) 依据材料三回答：目前我国解决“乡愁”问题的基本国策是什么？（1分）

(4) 上述三段材料涉及的共同问题是什么？（1分）

46. (1) 和平方式（或和平谈判方式）（1分）青藏铁路（1分）

(2) 战争方式（或武力统一的方式）（1分）《解放黑奴宣言》（1分）

(3) 一国两制（1分）

(4) 国家统一的问题（1分）

12 (2010年广州市) 作为资产阶级政治家，华盛顿和林肯对历史发展进程所起到的相同影响是（ ） D

A. 赢得了民族独立 B. 维护了国家统一 C. 推翻了封建统治 D. 促进了资本主义发展

11. (2010年长春市) 经过南北战争, 美国废除了 (C)

A. 封建专制 B. 殖民统治 C. 奴隶制度 D. 农奴制度

36 (2010年东莞市) 美国历史上第二次资产阶级革命取得的最重要成果是 (C)

A. 赢得了国家的独立 B. 开创了民主政治制度

C. 维护了国家的统一 D. 使美国成为世界强国

13. (2010年黄石市) 《解放黑人奴隶宣言》的颁布是林肯的一项伟大历史功绩。下列属于宣言内容的是 (D)

A. 至今一切社会的历史都是阶级斗争的历史

B. 全国公民都有权亲身或由其代表参与法律的制定

C. 凡美国公民只要交 10 美元手续费, 就可以在美国西部得到一块土地

D. 为一占有而做奴隶的人们都应在那时及以后永远获得自由

25. (2010年泰安市) 历史影视作品是对历史进行艺术加工, 但必须尊重历史事实。

下列有关美国南北战争的影视情节与历史史实不相符的是 (C)

A. 1861 年“南部联盟”率先挑起内战 B. 战争结果是北方取得胜利

C. 林肯在战争结束前夕遭刺杀身亡 D. 林肯颁布《解放黑人奴隶宣言》


29. (2010年山东省济宁市) 右图是坐落于美国首都某纪念堂的一座塑像, 这是为了纪念 (D)

A. 罗斯福实施新政帮助美国渡过危机

B. 华盛顿领导了美国独立战争

C. 杰弗逊起草《独立宣言》

D. 林肯维护了国家的统一



42 (2010年山东聊城市) 阅读下列材料:

材料一 1863 年 1 月 1 日起, 凡在当地人民尚在反抗合众国的任何一州之内, 或一州的指明地区之内, 为人占有而做奴隶的人们都应在那时及以后永远获得自由……

——《解放黑人奴隶宣言》

材料二 在合众国境内受合众国管辖的任何地方, 奴隶制和强制劳役都不得存在……

——《美利坚合众国宪法》修正案(1865 年 12 月)

请回答:

(1) 《解放黑人奴隶宣言》是谁颁布的?(1 分) 《美利坚合众国宪法》修正案是哪一机构制定的?(1 分)

(2) 材料一和材料二颁布的背景、规定的内容有何不同?(4 分)

42. (1) 颁布: 林肯;(1 分) 制定: 国会。(1 分) (2) 颁布背景: 材料一是在南北战争中北方失利, 人民强烈要求下颁布的;(1 分) 材料二是在南北战争结束, 北方胜利后颁布的。

(1 分) 规定内容: 材料一给予叛乱诸州的黑人人身自由(或以政府文告、战时措施的形式解放叛

乱地区的黑人奴隶);(1 分) 材料二在全国范围内正式废除奴隶制(或以法律形式在全国范围内正式废除奴隶制)。(1 分)

(2) 讲述俄国废除农奴制法令的主要内容, 认识农奴制改革的历史作用。

38. (2010年四川省自贡市) 小刚正在通过电话参与“开心辞典”活动, 王小丫提供的关键词是“农奴制”、“1861 年”、“资产阶级改革”, 问题是“发生在哪个国家”? 小刚应该选择的是 (B)

A. 英国 B. 俄国 C. 日本 D. 法国

37 (2010年东莞市) 1861年改革是俄国历史上的转折点,俄国从此走上发展资本主义的道路。这场改革为俄国资本主义发展解决了(A)

A. 自由劳动力 B. 土地所有权 C. 政治民主化 D. 思想自由化

23 (2010年鄂州市) (8分) 阅读下列材料,结合所学知识回答问题。

材料一:1861年,沙皇签署了废除农奴制的法令。法令在保护贵族、地主利益的前提下,宣布农奴获得人身自由,还规定农奴获得“解放”时,可以得到一块土地,但必须高价赎买。

——岳麓版《世界历史》

材料二:1863年1月1日起,凡在当地人民尚在反抗合众国的任何一州之内,或一州的指明地区之内,为人占有而做奴隶的人们都应在那时及以后永远获得自由。

——《解放黑人奴隶宣言》

(1) 签署废除农奴制法令的沙皇是谁?(2分) 签署《解放黑人奴隶宣言》的美国总统是谁?(2分)

(2) 据两则材料判断,哪个国家的奴隶在获得人身自由后生存依然艰难?试引用材料说明。(3) 俄国是通过改革的方式过渡到资本主义社会的,而美国扫清资本主义发展的障碍,是通过两次战争。有人说,改革比战争好;有人说,战争比改革好;还有人说,要具体问题具体分析,改革、战争并无好坏之分。你同意哪种观点?试结合相关史实简述理由。

(答1点理由即可) (2分)

(1) 亚历山大二世。(2分) 林肯。(2分)

(2) 俄国。农民获得“解放”时,可以得到一块土地,但必须高价赎买。(2分)

(3) 评分说明:

① 仅同意其中一个观点,但没回答理由,不给分;

② 同意其中任一观点,只要回答的理由充分或较充分,给1—2分;

③ 回答的理由要结合俄、美相关史实。

28. (2010年十堰市) 世界许多国家通过改革走上了资本主义道路。使俄国走上资本主义道路的改革是(B)

A. 明治维新 B. 1861年农奴制改革 C. 大化改新 D. 马丁·路德宗教改革

28 (2010年连云港市) “臭名昭著的‘解放’实际上是对农民进行残酷地掠夺。”这里列宁评价的是(C)

A. 光荣革命 B. 美国内战 C. 1861年改革 D. 二月革命

24 (2010年南京市) .农奴在法律上是“自由人”;地主再也不许买卖农奴和干涉他们的生活。与些规定相关的历史事件是(C)

A. 匈牙利改革

B. 美国南北战争

C. 俄国1861年改革

D. 日本明治维新

31 (2010年宿迁市) 以“解放”农民为突破口,使国家逐步走上资本主义发展道路的重大改革是(A)

A. 俄国1861年改革

B. 中国戊戌变法

C. 日本明治维新

D. 美国废除黑人奴隶制

18 (2010年莱芜市) 美国南北战争和俄国1861年改革的相似点不包括 C

A. 发生在19世纪60年代

B. 为资本主义发展提供了自由劳动力

C. 维护了国家统一

D. 为本国资本主义发展扫除了障碍

36 (2010年青岛市) 在俄罗斯首都莫斯科红场旁边有一座宏伟塑像，纪念的是曾经解放了千百万农奴、并最终引领俄罗斯抛弃了落后社会制度的改革者。他是 (D)

A. 伊凡四世 B. 彼得一世 C. 尼古拉二世 D. 亚历山大二世

19 (2010年山西省) 材料：19世纪中后期，世界各国出现了新一波的资产阶级民主改革和革命浪潮：

1861年3月，沙皇亚历山大二世签署了废除农奴制的法令。

1861年3月，林肯就任美国总统，不久美国南北战争爆发。

1868年起，日本明治政府实行了资产阶级性质的改革。

资本主义已越出少数几国范围而形成的世界体系，资本主义制度的主导地位在世界范围内最终确立。古老的中国也受到冲击。

根据材料，结合所学知识回答问题。

(1) 请选择材料中任一历史事件，简述其基本史实。(提示：从原因、主要措施、作用等方面叙述) (4分)

(2) 19世纪下半期到20世纪初，中国现代化探索过程中发生了哪些重大事件？(4分)

(3) 归纳中国这些重大事件的共同作用，并加以说明。(2分)

(4) 这一时期中国和世界的资产阶级民主改革和革命，向世人昭示出哪些道理？(1分)

林肯等人的优秀品质对青少年有什么启迪？(1分)

19. (1) 示例一：俄国农奴制改革 原因：改革前俄国盛行农奴制；农奴暴动；克里米亚战争失败。(1分) 法令规定：农奴在法律上是“自由人”，地主不许买卖农奴；农奴获得“解放”时，可以得到一块份地，但必须出钱赎买这块份地。(2分) 作用：是俄国历史上的重大转折点；加快了俄国资本主义的发展；提供了必要的雇佣劳动力、国内市场、资金以及相对稳定的社会环境；缓和了国内社会矛盾，避免了革命的发生；保留了封建残余，俄国近代化步伐依然缓慢。(1分)

示例二：日本人明治维新的 原因：幕府统治腐朽；外国侵略势力；中下级武士推翻幕府统治。(1分) 主要措施：废藩置县；允许土地买卖，引进西方技术；提倡文明开化；实行征兵制。(2分) 作用：是日本历史的重大转折点；使日本从一个闭关锁国的封建国家转变为资本主义国家；摆脱了沦为殖民地半殖民的国家的命运。(1分)

示例三：美国南北战争 原因：两种经济制度水火不容。(1分) 《解放黑人奴隶宣言》主要内容：废除叛乱各州的奴隶制；允许奴隶作为自由人参加北方军队。(2分) 作用：维护了国家统一；扫清了资本主义发展的又一大障碍；为以后经济的迅速发展创造了条件；是美国历史上第二次资产阶级的革命。(1分) (说明：所选史实的原因和作用，打出所列任何一点都可得分，各1分，措施打出任意两点得2分)

(2) 洋务运动(1分) 戊戌变法(1分) 辛亥革命(1分) 新文化运动(1分)。

(3) 共同作用：都是近代化的探索；都是向西方学习，探索救国救民道路的历程；都有利于中国资本主义的发展。(1分) 说明：洋务运动学习西方先进科学技术，有利于中国资本主义的发展；戊戌变法在社会上起了思想启蒙作用；辛亥革命推翻了两千年封建帝制，使民主共和观念深入人心；新文化运动提倡民主科学，掀起思想解放潮流。(1分)

(说明：作用和说明答出所列任何一点都可得分。)

(4) 道理：世界潮流浩浩荡荡，顺之者昌，逆之者亡；阻碍社会进步的落后制度必然被先进制度所取代；资本主义是当时社会发展的主流；资产阶级民主改革和革命是新制度与旧制度的斗争；改革成功能推动社会进步。(1分)

启迪：青少年应具有爱国心、责任感、正义感。(1分)

(说明：道理答出所列任何一点都可得分)

(3) 简述明治维新的主要内容，探讨明治维新在促进日本向资本主义社会转变中所起的作用。

31 (2010年湘潭市) 19世纪六七十年代，资本主义制度在全世界范围内确立。阅读下列材料，回答问题

材料一：北方人看不惯南方人，南方人不服北方人。……当前南北之间的矛盾不是别的，而是两种社会制度之间的斗争。这个斗争之所以爆发，是因为这两种制度不能再在北美大陆上和平共处了。

——马克思《美国内战》

材料二：如果总的看一看 1861 年俄国国家全部结构的改变那就必然会承认，这种改变是封建君主制转变的道路上的一步。不仅从经济观点来看是正确的，而且从政治观点来看也是正确的。

——列宁《关于纪念日》

材料三：过去的西洋文明史是外国人引进的，从今以后我们日本人要用自己的手将西洋文明带入国内。

——1868 年某日本官员语



日本赴欧美参观团出港

(1) 分别写出材料一、二、三所反映的历史事件。(3分)

(2) 材料一、二反映的历史事件对两国产生了什么共同影响?(2分)

(3) 材料三中“我们日本人要用自己的手将西洋文明带入国内”的具体措施包括哪些?(4分)

(4) 上述三国的崛起之路对我国现代化建设有什么启示?(1分)

31、(1)材料一：美国南北战争(美国内战或美国废除黑人奴隶制)；材料二：俄国废除农奴制改革(俄国 1861 年改革、俄国农奴制改革)；材料三：日本明治维新(每点 1 分，共 3 分)

(2) 都促进(推动)了资本主义发展。(2分)

(3) 创办近代企业，引进西方技术；提倡文明开化，大力发展教育；改革封建军制，创建近代化军队。(答出两点即给 4 分)

(4) 坚持改革开放，善于学习先进文明成果；重视教育和人才的培养；维护国家统一，为经济发展创造良好环境；对西方文明不能生搬硬套，应取其精华，去其糟粕；坚持民族团结、民族平等，共同繁荣原则等。(答出 1 点即给 1 分，其它答案言之有理亦可给分)

39. (2010年四川省自贡市) 以下两组图示反映的是世界近代史上一个强国成长历程中曾经经历的两组矛盾。结合史实，判断这是哪个国家(C)



A. 英国 B. 俄国 C. 日本 D. 美国

36. (2010年资阳市) (12分) 专题复习是历史复习的常用方法。王老师在复习“中外历史上的改革”这一专题时，组织学生开展相关的主题活动，请你参与这次活动。

甲同学上台简介日本明治维新，他说：“推翻天皇统治以后，日本政府实行了一系列改革。政治方面，废县置藩，加强中央集权；经济方面，允许土地自由买卖，引进西方先进技术，发展近代企业；社会生活方面，提倡‘文明开化’，向中国学习，努力发展教育。这次

改革使日本走上资本主义道路，加快对外扩张，极大地增强了国力。”

(1) 甲同学的这段话中有三处史实错误，请帮他找出并加以改正。(3分)

① \_\_\_\_\_ 应改为 \_\_\_\_\_

② \_\_\_\_\_ 应改为 \_\_\_\_\_

③ \_\_\_\_\_ 应改为 \_\_\_\_\_

(2) 乙同学对日本明治维新和俄国农奴制改革进行了比较，请帮他填补完整，并指出还可从其它哪些方面进行比较。(5分)

背景：都是由于 \_\_\_\_\_ 发展受阻，但日本面临严重的民族危机。

内容：都涉及 \_\_\_\_\_ 问题，但日本改革内容更全面。

影响：都是各自社会的转折点，主要是由于 \_\_\_\_\_ 发生了根本变化；都加紧对外扩张，都保留了 \_\_\_\_\_ 残余。

其它方面：

(3) 丙同学认为上海之所以能够成为2010年世博会的举办城市，改革开放政策的实施是其重要原因。你同意他的看法吗？请结合改革开放的史实说明理由。(4分)

36. (12分) (1)“天皇”改为“幕府”；“废县置藩”改为“废藩置县”；“中国”改为“欧美”(3分)

(2) 填补：资本主义 土地 (或经济) 社会性质 封建 (4分)

其它方面：性质，方式等 (1分)

(3) 同意 (1分)。理由：20世纪80年代开始的城市经济体制改革使上海焕发了活力；同时，上海又成为14个沿海开放城市之一，国家给予优惠的经济政策，吸引侨资、外资，引进先进科学技术和管理经验进行现代化建设，促进了上海的发展；后来又设立上海浦东开发区，使浦东发展成为国际化的经济中心和金融中心。(3分)

22. (2010年四川省乐山市) 19世纪六七十年代的资产阶级革命和改革的共同作用是 (C)

A. 推翻了封建君主制度

B. 废除了奴隶制度

C. 巩固和扩大了资产阶级统治

D. 摆脱了民族危机

29. (2010年达州市) 英、俄、日三国走上资本主义道路的过程，相似之处是 (C)

A. 都是通过革命的方式走上资本主义道路的

B. 都进行了“自上而下”的改革

C. 都保留了君主

D. 都是由资产阶级领导的

18. (2010年福建莆田市) 从1868年起，日本明治政府实行了一系列资产阶级性质的改革，其主要内容有 C

A. 攻占巴士底狱

B. 热月政变

C. 雾月政变

D. 滑铁卢战役

① 废藩置县，加强中央集权 ② 实行“班田收授法” ③ 殖产兴业，鼓励发展近代工业

④ 提倡“文明开化”，实行强制性义务教育

A. ①②③

B. ②③④

C. ①③④

D. ①②④

9. (2010年河池市) 探究历史发展的共性是历史学习任务之一，请找出俄国农奴制改革和日本明治维新，它们的共同点有 (B)

① 废除农奴制 ② 促进资本主义发展 ③ 允许土地买卖 ④ 向欧洲国家学习

A. ①②

B. ②③

C. ②③④

D. ①②③④

38 (2010年东莞市) 英法等国的资产阶级革命都把追求自由平等作为革命的重要目标。日本明治维新与英法美革命目标有异曲同工之处的措施是 (B)

A. 废藩置县

B. 废除封建身份制度

C. 实行征兵制

D. 实行强制性义务教育

20. (2010年武汉市) 小强探究某国历史时, 在学习卡片上写下“学习西方、摆脱西方大国欺凌、亚洲第一个走上工业化道路的国家”等关键词。据此判断, 小强探究的主题是 (B)

A. 中国的戊戌变法

B. 日本的明治维新

C. 土耳其的凯末尔改革

35. (2010年襄樊市) 【了解资产阶级革命和改革】(6分)

材料一: “当前南部与北部之间的斗争不是别的, 而是两种社会制度……之间的斗争。”

——马克思

材料二: “诸位会深信, 凡能够维护地主利益的措施, 都一一地做到了。”

——亚历山大二世

请回答:

(1) 材料一中所说的“两种社会制度”分别指的是什么? (2分) 美国当时的社会矛盾最终导致了什么战争的爆发? (1分)

(2) 亚历山大二世是在签署废除什么制度的法律后说的这段话 (1分)? 他的这段话反映了这次改革的局限性是什么? (1分)

(3) 美国的战争和俄国的改革有什么相同的积极作用? (1分)

(1) 两种社会制度: 资本主义制度、奴隶制 (或答资本主义工业和种植园经济)。 (2分) 南北战争 (或美国内战)。 (1分)

(2) 农奴制的法律。 (1分) 留下了大量封建残余。 (1分)

(3) 都有利于本国资本主义的发展。 (1分)

35 (2010年岳阳市) 19世纪中期, 资产阶级统治在世界范围内得到进一步巩固与扩大。

结合所学知识, 回答下列问题:

(1) 美国南北战争主要从哪些方面巩固了美国资产阶级统治? (2分)

(2) 俄国通过什么历史事件走上了资本主义道路? (2分)

(3) 亚洲哪个国家最早确立资产阶级统治? 它在确立资产阶级统治的过程中, 经济方面的重大举措有哪些? (4分)

(4) 资本主义在亚、非、拉地区的殖民扩张带有野蛮性和掠夺性。请你举出这一时期发生在中国的一个典型事例。 (2分)

35、(1) 废除了黑人奴隶制度, 实现了国家政治上的统一, 为资本主义的迅速发展奠定了基础

(2) 1861年改革

(3) 日本 创办近代企业, 引进西方技术。允许土地买卖, 承认土地私有。

(4) 英法联军火烧圆明园

34 (2010年连云港市) 明治维新为日本以后的创新与持续发展奠定人才基础的措施是 (C)

A. 废藩置县

B. 发展工业

C. 实行义务教育

D. 实行征兵制

34. (2010年泰安市) 资本主义产生、发展, 并逐步形成其世界体系是世界近代史的主要内容。据此, 结合所学知识, 完成下列问题。

(1) 右图作品出现于为欧洲资本主义社会的产生奠定思想文化基础的一次重要运动中, 请写出该运动名称及当时欧洲社会的主要思潮。 (2分)

(2) 17世纪——19世纪初, 英法美等国先后爆发资产阶级革命, 确立资本主义制度。

下面是三次革命的比较表, 请你帮忙完成。 (5分)

国别	英国	美国	法国
时间	1640 - 1688 年		1789 - 1794 年
开始标志	长期关闭的议会重开	莱克星顿枪声	
领导阶级		资产阶级和种植园主	资产阶级
代表人物	克伦威尔		罗伯斯庇尔
政权形式		联邦制	共和制

(3)19 世纪六七十年代，主要资本主义国家通过各种方式和途径，最终使资本主义制度得以确立，资本主义世界体系初步形成。请写出此时期通过改革方式确立资本主义制度的两个国家及其改革的名称。(4 分)

(1) 文艺复兴；(1 分) 人文主义 (1 分)

(2)

国别	英国	美国	法国
时间		1775-1783 年	
开始标志			巴黎人民攻占巴士底狱
领导阶级	资产阶级和新贵族		
代表人物		华盛顿	
政权形式	君主立宪制		

(1 空 1 分，共 5 分)

(3) 俄国，1861 年改革 (或亚历山大二世改革)；日本，明治维新 (1 个要点 1 分，共 4 分)

21 (2010 年盐城市) 下列属于日本明治维新的经济措施有①鼓励发展近代工业 ②把贵族土地收归国有 ③国家定期把土地分给民农耕种 ④允许土地买卖 (D)

A.①② B.②③ C.③④ D.①④

28 (2010 年滨州市) 革命或改革往往是某种旧制度阻碍社会经济的发展而发生的，懂得改变，是一种智慧。结合所学知识，回答下列问题。

(1) 19 世纪 60 年代，下列国家发生的革命或改革，都废除了阻碍其发展的旧制度，产生了深远的历史影响，按要求完成下表。

国家	改革 (或革命) 名称	废除旧制度	领导人	共同影响
美国		黑人奴隶制		
俄国	1861 年改革			
日本		藩制 封建身份制度 封建土地制度	明治天皇	

(2) 美国总统奥巴马说“美国的真正天赋在于，它懂得改变”。试举出 20 世纪 30 年代，美国懂得改变的史实一例。

(1) (每空 1 分，共 6 分)

国家	改革 (革命) 名称	领导人	共同影响
美国	南北战争 (或美国内战)	林肯	都促进了资本主

俄国		农奴制	亚历山大二世	义的发展
日本	明治维新			

(2) 罗斯福新政；二战中太平洋战争爆发后，美国对日宣战，结成反法西斯统一战线；二战后，对苏联等社会主义国家实行“冷战”；尼克松访华改善中美关系、中美建交等（回答一项，符合题意即可得2分）。

19 (2010年东营市) 使日本从一个封建国家逐步转变为资本主义国家，摆脱沦为半殖民地命运的是 (B)

A. 大化改新 B. 明治维新 C. 天皇专制 D. 幕府统治

27 (2010年山东聊城市) 俄国农奴制改革与日本明治维新的共同之处是 (D)

A. 摆脱了民族危机 B. 推翻了旧的政治统治  
C. 解放了广大农奴 D. 走上了资本主义道路

37 (2010年青岛市) “敲敲短发蓬松的天灵盖，文明开化的声音响起来”。这首打油诗与日本哪一重大历史事件有关 (D)

A. 大化改新 B. 推翻幕府统治 C. 日本侵略朝鲜 D. 明治维新

33 (2010年威海市) 阅读下列材料：

材料一：7世纪中期，日本国内的改革派发动了宫廷政变，新上台执政的孝德天皇颁布改新诏书，开始了一场以学习和模仿中国隋唐经济和政治制度为主要内容的改革，促进了日本经济、社会的快速发展。

材料二：大约150年前，在西方殖民者坚船利炮的胁迫下，日本遭遇了巨大的生存危机：一部分中下级武士以武力推翻了幕府统治。不久，天皇实行了一系列改革，最终使日本成为东方世界第一个摆脱西方大国的欺凌、顺利实现现代化的国家。但后来日本却走上了军国主义和法西斯主义的邪路。

请回答：

(1) 材料一中的这次改革历史上称为\_\_\_\_，这次改革是日本从\_\_\_\_社会向\_\_\_\_社会过渡的标志。我国隋唐时期选拔人才的制度是\_\_\_\_，该制度在我国封建社会沿续了一千三百多年。

(2) 材料二中天皇实行的这次改革历史上称为\_\_\_\_，这次改革的主要内容是什么？列举近现代历史上日本发动的两次大规模侵华战争的名称。

(3) 你从材料一和材料二中可以得到哪些启示？

33. (1) 大化改新 奴隶 封建 科举制度 (各0.5分)

(2) 明治维新 (1分) 政治方面，“废藩置县”，加强中央集权；经济方面，允许土地买卖，引进西方技术，鼓励发展近代工业；社会生活方面，提倡“文明开化”，即向欧美学习，努力发展教育。(3分) 甲午中日战争、八国联军侵华战争、九一八事变、七七事变、全面侵华战争 (只要答对其中两点即可得1分)。

(3) 要善于学习外国的长处，要顺应历史潮流适时地进行改革，正确面对中日关系，警惕日本军国主义复活等。(只要言之有理，观点正确即可得1分)

17 (2010年潍坊市) 19世纪中叶以来，蒸汽机的滚滚浓烟飘洋过海逐渐改变着世界。这一过程中发生了美国南北战争与俄国农奴制改革。其相同影响是 (D)

A. 对农民进行的一场掠夺 B. 确立了新的政治制度  
C. 完成了自上而下的改革 D. 促进了资本主义发展

25. (2010年山东省济宁市) 某校九年级同学计划举行一次专题展览，展出的内容是19世纪后半期世界各国资产阶级革命的有关知识。下列选项中符合本次展览要求的是 (A)

① 中国戊戌变法 ② 美国南北战争 ③ 日本明治维新 ④ 俄国1861年改革 ⑤ 英国工业革命

A . ①③④ B . ②④⑤ C . ②③④ D . ③④⑤

27 (2010年四川省巴中市) 俄国废除农奴制和日本明治维新的影响相同的是\_\_\_\_。  
(B)

A . 保留了“天皇制” B . 使本国走上资本主义道路  
C . 摆脱了美、英、法等国的统治 D . 解放了农奴

36 (2010年四川省成都市) (14分) 革命和改革是英、法、美、日四国走上资本主义发展道路的两种不同的方式,对推动其政治、经济的发展起到了重要的作用。依据所学内容,回答下列问题。

(1)指出英、法两国发生资产阶级革命相似的根本原因。与英、法两国相比较,北美独立战争爆发的根本原因有何特殊性?(4分)

根本原因:腐朽的封建统治严重阻碍了资本主义经济的发展

特殊性:英国的殖民统治阻碍了北美资本主义经济的发展

(2)法国大革命中颁布的《人权宣言》有何历史意义?(3分)

是法国资产阶级革命的纲领性文件,是反封建专制的旗帜,是引导法国走向近代资本主义社会的指针。

(3)在美国南北战争中,林肯政府为扭转战局颁布了什么重要文献?(2分)

《解放黑奴宣言》《宅地法》

(4)日本明治维新是在什么样的口号下进行的?这次改革对日本国家的发展起了怎样的作用?(5分)

“富国强兵、殖产兴业、文明开化”

作用:这是一次自上而下的资产阶级改革,它使日本走上了资本主义道路,使日本逐渐强大起来。

但是改革保留了大量的封建残余,“天皇制”被保留。

### (五)国际工人运动与马克思主义的诞生

#### 【内容标准】

(1)简述宪章运动的基本史实,了解欧洲早期工业无产阶级在反对资产阶级斗争中提出的基本要求。

15 (2010年荆门市) .1851年英国举办了第一届世界博览会,晶莹剔透的水晶宫展馆是英国成为当时最强大的资本主义工业强国——“世界工厂”的标志。下列各项与英国成为“世界工厂”无关的是 ( B )

A . 英国资产阶级革命 B . 英国宪章运动  
C . 英国工业革命 D . “日不落帝国”

10. (2010年四川省眉山市) 有一部反映19世纪三四十年代的欧美影片,影片中一群工人在集会,要求取得普选权,参与国家管理,与这一场景相关的历史事件是



A.宪章运动 B.共产主义者同盟成立  
C.《共产党宣言》发表 D.巴黎公社成立

(2)讲述马克思、恩格斯的革命活动,概述《共产党宣言》的历史意义。

14 (2010年佛山市)《国际歌》唱出了无产者的心声:世界就要改变面貌,一无所有者要做天下的主人!与此目标一致的行动是 (C)

A. 英国“光荣革命” B . 玻利瓦尔领导委内瑞拉起义  
C. 法国巴黎公社革命 D . 章西女王领导印度起义

11 (2010年广州市) 下图中的人物分别为:马克思、恩格斯、列宁、毛泽东。请你给这张图片选择一个恰当的主题 ( ) D



- A. 苏维埃政权的建立者      B. 资产阶级民主倡导者  
C. 社会主义国家领导者      D. 马克思主义创立与继承者

8、(2010年河池市)它是科学理论，《共产党宣言》的发表标志着它的诞生。“它”是 (C)

- A. 人文主义      B. 科学社会主义  
C. 马克思主义      D. 三民主义

39 (2010年东莞市)《共产党宣言》发表成为马克思主义诞生的标志，主要是因为它 (D)

- A. 是马克思、恩格斯联合发表的      B. 开辟了国际共产主义运动新局面  
C. 广泛汲取了人类优秀的思想成果      D. 系统阐述科学社会主义基本原理

16. (2010年湖北省宜昌市)马克思和恩格斯在吸收人类优秀文化成果和总结欧洲工人运动经验的基础上，创立了科学社会主义理论。阐述此理论的文献是 ( D )

- A. 《权利法案》 B. 《人权宣言》 C. 《独立宣言》 D. 《共产党宣言》


18. (2010年衡阳市)当全球金融危机发生时，人们主张重读《资本论》。《资本论》是科学社会主义的经典著作，科学社会主义的创立者是 A

- A. 马克思和恩格斯      B. 列宁和斯大林      C. 马克思和列宁      D. 恩格斯和斯大林

19 (2010年岳阳市)下列选项中，与《共产党宣言》相符的是：(A)

- A. 阐述了科学社会主义理论      B. 提出了资产阶级自由平等的思想  
C. 争取了工人阶级的普选权      D. 明确了私有财产神圣不可侵犯

17 (2010年莱芜市)下图历史人物的主要活动是 B



- A. 掀起了宪章运动      B. 发表了《共产党宣言》  
C. 创立了巴黎公社      D. 领导了十月革命

34 (2010年青岛市)在互联网搜索引擎上输入关键词，就能快捷地找到想要查找的内容。

丽丽同学输入了“马克思主义”、“共产主义者同盟”后，她能找到的文献应是 (A)

- A. 《共产党宣言》      B. 《人民宪章》  
C. 《解放黑人奴隶宣言》      D. 《人权宣言》

2 (2010年四川省巴中市)马克思主义诞生的标志是\_\_\_。(A)

- A. 《共产党宣言》的发表      B. 马克思在《德法年鉴》上发表文章  
C. 巴黎公社的成立      D. 马克思和恩格斯在巴黎相会

20 (2010年四川省成都市)被誉为“国际共产主义运动的第一个战斗纲领”，并标志着科学

社会主义诞生的文件是 D

A. 《独立宣言》 B. 《人权宣言》 C. 《人民宪章》 D. 《共产党宣言》

13. (2010年乌鲁木齐市)下列历史文献中,标志着新的科学思想理论诞生的是

A. 《共产党宣言》 B. 《权利法案》 C. 《独立宣言》 D. 《人权宣言》

(3) 讲述“五月流血周”和创作国际歌的主要过程,感受巴黎公社的革命精神。

8 (2010年吉林省) 20世纪初期,将马克思主义由理论变为现实的社会主义革命是 (D)

A. 宪章运动 B. 巴黎公社 C. 俄国二月革命 D. 俄国十月革命

21 (2010年贵港市) “起来,饥寒交迫的奴隶,起来,全世界受苦的人……”这是我市青少年合唱比赛中的一个参赛曲目——《国际歌》。这首歌的诞生与下列哪一事件有关? (B)

A. 宪章运动 B. 巴黎公社 C. 《共产党宣言》的发表 D. 普法战争

14. (2010年河南省) 1848年,《共产党宣言》的发表,标志着科学共产主义的诞生,它成为无产阶级革命的指导思想。下列事件中,实践了这一思想的是 【C】

① 英国宪章运动② 法国巴黎公社成立③ 俄国十月革命④ 美国南北战争

A. ①② B. ①③ C. ②③ D. ③④

27. (2010年十堰市)《共产党宣言》指出:“工人革命的第一步就是使无产阶级上升为统治阶级,争取民主。”对这一理论观点进行第一次伟大尝试的是 (B)

A. 俄国十月革命 B. 巴黎公社 C. 宪章运动 D. 新中国成立

9. (2010年长沙市)“起来,饥寒交迫的奴隶……到明天,International 就一定能实现。”这首无产阶级战歌产生于 (C)

A. 法国大革命时期

B. 1848年《共产党宣言》发表时

C. 巴黎公社失败后

D. 十月革命胜利后

16 (2010年苏州市)“起来,饥寒交迫的奴隶;起来,全世界受苦的人!满腔的热血已经沸腾,要为真理而斗争!……”欧仁·鲍狄埃创作的《国际歌》成为被压迫人民的战歌,传遍欧洲,响彻世界。我们要了解其创作背景,应该知道的历史是 (C)

A. 法国大革命 B. 英国宪章运动 C. 法国巴黎公社 D. 俄国十月革命

17 (2010年龙岩市)《国际歌》“起来,饥寒交迫的奴隶,起来……”的词作者是

A. 聂耳 B. 狄盖特 C. 贝多芬 D. 鲍狄埃

20 (2010年临沂市)右图中,展示的是一面墙及墙面标示牌,牌上显示语种:法语。时间:1871年5月21—28日,这面墙为我们研究下列哪一历史事件提供了最直接依据? (C)

A. 宪章运动

B. 文艺复兴

C. 巴黎公社

D. 十月革命



35 (2010年青岛市) 如果让你从“五月流血周”、彼得格勒武装起义、开国大典等内容中归纳和提炼一个学习的主题,以下名称最恰当的应是 (B)

A. 资产阶级统治的扩大

B. 无产阶级政权的建立

C. 民族解放运动的高涨

D. 社会主义国家的改革

11 (2010年山西省) 列宁曾说:“公社被镇压了,但鲍狄埃的《国际歌》却把它的思想传遍了全世界。公社的思想是指 (A)

A. 无产阶级革命思想

- B. 资产阶级民主思想
- C. 人文主义思想
- D. 天赋人权的思想

30. (2010年达州市) 巴黎公社是建立无产阶级政权的第一次伟大尝试。下列选项与巴黎公社无关的一项是 (B)

- A. 《国际歌》的创作
- B. 工兵代表苏维埃
- C. 普法战争
- D. “五月流血周”

23. (2010年四川省乐山市) “社会主义由空想到科学，由理论到实践，由理想到现实”是一位学者对国际共产主义运动在 20 世纪 20 年代前发展特点的概括。下列能体现“由理论到实践”的史实是 (C)

- A. 欧洲工人运动的兴起
- B. 《共产党宣言》的发表
- C. 巴黎公社的建立
- D. 十月革命的胜利

### (六)第二次工业革命

#### 【内容标准】

(1) 列举电力广泛使用的史实，了解第二次工业革命的特点。

40 (2010年东莞市) 19 世纪下半期，西方主要资本主义国家又开始了一场新的技术革命。

这次革命是 (B)

- A. 以蒸汽为核心的革命
- B. 以电力为核心的革命
- C. 以核能为核心的革命
- D. 以太阳能为核心的革命

32 (2010年株洲市) (10 分) 阅读下列材料，回答问题。

材料一 1870~1900 年间，科学与技术的关系，比以前任何时期都密切得多，19 世纪最后 30

年间，几乎没有什么工业部门未曾受到科学新发现的影响……1870 年以后，我们可以清楚看到 20 世纪科学工业的开端。新兴工业，诸如电气工业等这些完全是在科学发现中首创的工业，其面貌的改革当然要比那些早已建立的工业显著得多。

——《新编剑桥世界近代史 II

材料二 19 世纪中后期至 20 世纪初有关电的部分重要发明简表

项目	发明者国籍	发明者
发电机	德国	西门子
电灯	美国	爱迪生
电影放映机	法国	路易斯·吕米埃尔兄弟
心电图扫描仪	荷兰	威廉艾因特霍芬
电动机	比利时	格拉姆

——岳麓书社《世界历史》(九年级上册)

材料三自从全球涌现出发明和使用机器的热潮后，烟囱、厂房、机器轰鸣声，打破了恬静的田园生活，世界日益成为一个整体。电力以及石油大量使用使城市面貌、社会生活随之巨

变，世界各地的联系更加紧密。——摘自《中国新闻网》

请回答：

(1) 根据材料一和材料二概括第二次工业革命的特点。(4 分)

(2) 根据材料三分析科技革命的影响。(6 分)

(2) 知道本茨和莱特兄弟的发明活动，了解汽车和飞机两种交通工具的发明对人类社会发展的影响。

30. (2010年福建莆田市) 我们身边的一切事物, 都经历了发生、发展、演变的过程。根据提示, 完成下列活动案例。(没空2分, 共10分)

活动案例: 交通运输方式的演进

**步骤一 追根溯源**

古代交通进步是人类文明曙光初现的重要标志。古史传说称“黄帝造车, 故号轩辕氏”, 这是黄帝被尊为中华民族人文始祖的一个重要原因;

.....

**步骤二 交通进步**

1764—1790年, 瓦特完成对①的改进, 推动了社会的发展;

1825年, ②驾驶“旅行者号”蒸汽机车在新铺设的铁路上试车, 并获得成功;

1885年, 卡尔·本茨成功地设计并制造出世界上第一辆使用汽油内燃机的③。

1903年, 莱特兄弟成功地制造出人类历史上第一架飞机, 取名“飞行者1号”;

1909年④全线建成通车, 这是中国人自己设计和修筑的第一条铁路干线, 为中国工程界赢得了荣誉;

.....

**步骤三 感同身受**

小李的感受: 交通进步促进社会发展, 社会发展又带动交通发达。

你的感受: \_\_\_\_\_⑤\_\_\_\_\_

\_\_\_\_\_ (不得照抄上述感受)

.....

历史学习是一个从感知历史到积累历史知识、从积累历史知识到理解历史的过程。通过这次活动, 逐步感知交通运输方式的演进对人类社会发展的重要贡献。

30. (1) 蒸汽机 (2分)

(2) 斯蒂芬孙 (2分)

(3) 汽车 (2分)

(4) 京张铁路 (2分)

(5) 交通运输业的发展, 节省了人们出行的时间; 交通运输业的发展, 扩大了人们活动的范围; 交通运输业的发展, 改变了人们的生活方式; 交通运输业的发展, 加快了城市化的步伐。(2分, 答出其中1点即可, 其他言之有理也可)

36 (2010年湛江市) 2010年中国吉利汽车集团正式收购了沃尔沃, 那么世界上第一辆汽车是谁发明的? (D)

A. 瓦特 B. 斯蒂芬孙 C. 富尔顿 D. 卡尔·本茨

30. (2010年十堰市) 汽车的发明给人类的交通带来了极大的变化。十堰市在新中国汽车工业的发展中占有十分重要的地位, 被誉为汽车城。世界现代汽车工业起步于 (C)

A. 哥伦布发现新大陆时期

B. 第一次工业革命时期

C. 第二次工业革命时期

D. 第三次科技革命时期

15 (2010年苏州市) 世界博览会是人类文明的驿站, 是展示各国经济、科技和文化成就的重要舞台。下列一段与世博会相关的资料中, 划线部分共有几处错误? (B)

1851年, 伦敦举办了第一届世界工业产品博览会, 纺织机械、蒸汽机、汽车等各种工业技术成果琳琅满目, 让人应接不暇。1876年, 美国在费城举办了美国历史上第一次世

界博览会，会上展出了莱特兄弟的飞机。

A．一处 B．两处 C．三处 D．四处

24. (2010年泰安市) 王明同学正通过因特网下载爱迪生、卡尔本茨等人发明成果的相关资料，由此你可以判断他正在探究 (B)

A．第一次工业革命 B．第二次工业革命

C．美国独立战争 D．英国资产阶级革命

一、(2010年山东省济宁市) 请你阅读下列材料，根据要求完成问题(本题8分)

世博会的全称是世界博览会，它是由一个国家的政府主办，多个国家或国际组织参加的国际性大型博览会，称得上是石阶上最高级别的展览活动。世界博览会、奥林匹克运动会和世界杯足球赛是公认的全球三大顶级盛事。2010年5月1日至10月31日，第41届世界博览会在上海举行，阅读下列世博会的相关资料，回答问题。

**材料一：**作为中国继北京奥运会之后的又一世界性盛会，上海世博会必定会吸引国际社会的目光，预计7000万人次的客源，无疑让旅游市场对其所带来的商机不可小觑。西安---历史文化名城。上海----世界时尚之都，两个表面看起来并不想干的城市，却在世界瞩目的世博会中紧密地联系在一起。

8、“百年看上海千年看西安”。西安作为一座历史名城，千百年来曾有很多朝代定都于此，并保留大量文物古迹遗址。请举出历史上定都西安的朝代继古遗迹各一例 (2分)

.朝代：西周、隋朝、唐朝、西汉等。

古迹遗址：半坡村遗址；秦始皇陵兵马俑等。(其他符合史实也可，如大雁塔、华清池、骊山陵墓等)

9、上海，当今世界的时尚之都，在中国近代史上有着非常重要的地位。请你写出近代史上发生在上海的一件大事。(1分)

9.成为第一批被迫开放的通商口岸；洋务运动期间，曾国藩和李鸿章在上海创办江南制造总局；李鸿章在上海创办轮船招商局；1872年《申报》；1915年陈独秀在上海创办《新青年》杂志，揭开新文化运动序幕；1921年，中共一大在上海召开，等。

**材料二：**世博会是一个世界科技大展台。人类文明发展中的每一次生产力和科技的变革，度能在世博会上找到踪影。1851年在英国首都伦敦举办人类历史上第一届世界博览会---万国工业博览会，主题是世界文化与工业科技。此次博览会上，英国向全世界展示了工业革命的辉煌成果。

10、结合材料，根据所学知识设想一下，英国会展出那些“辉煌成果”(至少举出两列)？并分别说明它们给人类带来了哪些影响？(2分)

10. (2分) ①瓦特制成改良蒸汽机 把人类带入蒸汽时代。

② 史蒂芬孙发明火车 (或：制造“旅行者”号机车) 使铁路交通迅速发展，为人们生产和生活带来了极大便利。(不说理由不得分。其它如珍妮机等也可。)

**材料三：**回顾历届世博会，能源从来都占有举足轻重的地位。1873年多瑙河畔的维也纳世博会上，电动机的发明让人类迎来了电气化时代。1878年巴黎世博会，爱迪生发明白炽灯泡被安装在埃菲尔铁塔上，将整个世博会园区照的晶莹透亮。

11、材料中提到的电动机，灯泡的发明属于什么时期的成就？这些成就的出现与一种新能源的利用密切相关，这种新能源是什么？(2分)

11.第二次工业革命；电力。

12、中国继成功举办奥运会之后，正在举办上海世博会这一世界性盛会，对此你有什么感想？(1分)

12.中国的经济发展了；中国经济的发展影响着世界经济的发展；中国的国际地位提高了，

等。(言之成理即可)

24 (2010年威海市) 有这样一段广告词：“一个苹果让牛顿吸引了世界，一壶沸水让瓦特转动了世界，一个元素让爱迪生点燃了世界……”。“爱迪生点燃了世界”是指 (C)

- A. 发现万有引力定律  
B. 发明内燃机  
C. 研制成功耐用碳丝灯泡  
D. 改良蒸汽机

19 (2010年四川省成都市) 在20世纪初，首次将人类飞上天空的梦想变为现实的历史人物是 B

- A. 卡尔·本茨  
B. 莱特兄弟  
C. 爱迪生  
D. 马可尼

28. (2010年达州市) 英国人欧文 1870 年病故，他生前最有可能看到的是 (A)



A



B



C



D

12. (2010年四川省眉山市) 当你漫步街头，会看到各种品牌的汽车行驶在大街上，其中品牌汽车“奔驰”是产自

- A. 日本 B. 美国 C. 英国 D. 德国

36. (2010年四川省自贡市) 近代以来，大大推动石油开采业的发展和石油化工工业的产生重要发明是 (C)

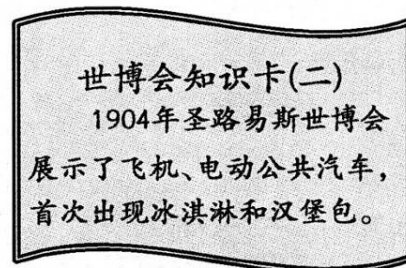
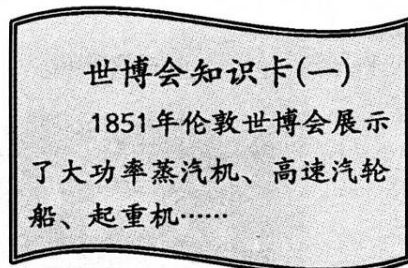
- A. 蒸汽机 B. 发电机 C. 内燃机 D. 汽车

(3) 讲述爱迪生发明电器的故事，认识电器的广泛使用对提高人类社会生活质量的重要作用。

29 (2010年福州市) (11分) 世博会被誉为经济、科技、文化界的奥林匹克盛会，世博会一百五十余年的历程一直与人类社会的快速发展相伴，2010年世博会来到中国上海……让我们了解世博，走进历史。结合所学知识，回答下列问题。

【精彩纷呈享受科技】

世博会知识卡 (二)



(1) 写出卡片中蒸汽机的改进者和飞机的发明者。(2分) 结合卡片内容说说科技进步对人类生产、生活的影响。(2分)

【世纪回顾永恒瞬间】

(2) 下列世博会举办是为了纪念重大历史事件，请将相关的事件连线搭配。(3分)

- 1876年费城博览会                      哥伦布发现美洲大陆400周年  
1889年巴黎世博会                      美国独立100周年

1893年芝加哥世博会

法国大革命 100 周年

【百年上海身边世博】

(3)近代中国哪一不平等条约使上海被迫开放为通商口岸？（2分）

(4)上海从屈辱开放到世博盛会，给我们的启示是什么？（2分）

29. (1)瓦特、莱特兄弟。

提高社会生产力，改变了人们的生活方式，扩大了人们的活动范围，加强了人与人之间的交流。人们生活质量提高了，食物品种增加了。（答案符合题意，言之有理即可）

(2)

1876年费城博览会	——	哥伦布发现美洲大陆400周年
1889年巴黎世博会	——	美国独立100周年
1893年芝加哥世博会	——	法国大革命100周年

(3)中英《南京条约》

(4)经济发展，综合国力增强，国家强大，中国才能在国际舞台上展示自己的风采。

（答案符合题意，言之有理，体现正确的情感态度与价值观，答出一点即可）

29. (2010年深圳市) 阅读下列材料, 回答问题(13分)

材料一: “世界文明的盛会”----走进中国 2010 年上海世博会。



图7 上海世博会会徽

会徽以汉字“世”字书法图形, 寓意三人相拥, 表现了家庭的幸福和对美好生活的追求。




图8 上海世博会吉祥物“海宝”

“海宝”的设计以汉字“人”为创意, 寓意“四海之宝”。

材料二: 1851年, 举办国为展示其工业成果, 举办了“万国工业产品博览会”, 这是公认的第一届世博会。




图9 首届世博会举办国展品

材料三: 举办过世博会的主要国家分布图

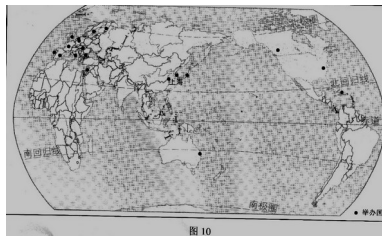


图10

材料四: 上海, 作为中国第一大城市、现代化国际大都市, 见证了中华民族自近代以来由遭受屈辱到顽强抗争、不自探索的历史。也经历了由被迫开放、遍布列强的租界, 到坚定地走上复兴之路的全过程。

问题一: 依据材料一回答, 上海世博会会徽和吉祥物的设计, 都借助了什么来展现中华民族文化特色? (1分) 它由我国商朝时的什么发展而来? (1分)

问题二: 依据材料二和所学知识, 判断第一届世博会是在哪个国家举行? (1分) 你判断的依据是什么? (2分) (至少两点)

问题三: 读图6回答: 举办过世博会的国家最多的是哪一大洲? (1分) 除南极洲外, 还没有举办过世博会的有哪几个大洲? (2分) 联系所学历史知识分析导致这一现象的主要原因。 (2分)

问题四: 上海被迫开放是因为哪一条约的签订? (1分) 上海从被迫开、遍布列强的租界到今天举办世博会, 给我们什么启示? (2分)

问题一: 汉字(1分); 甲骨文(1分)

问题二: 英国(1分); 英国完成了工业革命, 成为当时唯一的工业国; 蒸汽机车是英国人(史蒂芬孙)的发明(2分) (一点一分, 答19世纪中叶, 英国成为世界工厂也给一分)

问题三: 欧洲(1分); 非洲和南美洲(2分); 新航路开辟后, 欧洲殖民者对南美洲、非洲进行殖民掠夺, 导致该地区落后; (1分) 欧洲经历两次工业革命, 发展迅速。(1分) (要从殖民掠夺和工业革命两方面回答)


问题四: 《南京条约》(1分); 落后就要挨打; 要大力发展经济, 提高综合国力和国际地位(2分) (意思相近酌情给分)

2 (2010年广东省) 每当夜幕降临, 万家灯火的景象常常使我们怀念起被称为“发明大

王”的科学家。他是（ B ）

30. **（2010年荆门市）**（8分）近代以来，在科技革命的推动下，人类社会发生了深刻的变化。阅读下列材料，回答问题。

材料一



材料二：从科技发明到产品投入市场所用平均时间

时期	1885—1919	1920—1944	1945—1964
时间	37年	24年	14年

材料三：某发达国家科技进步时经济增长的贡献率

时期	1927—1947	1948—1973	1974—80年代中期
贡献率	31%	33%	40%

（1）图 10、图 11 的发明者分别是谁？（2分）

（2）根据材料二、三，结合所学知识概述第三次科技革命的特点。（6分）

30. （8分）（1）图一：史蒂芬孙（1分）；图二：爱迪生（1分）。（2）特点：科技转化为生产力的速度大大加快；科学技术的各个领域之间相互渗透；科技进步在促进经济增长的各种因素中所占的比重不断上升。（每回答一点得2分）


17. **（2010年湖北省宜昌市）**他是一位伟大的科学家，提出的相对论为人类研制核武器和和平利用核能提供了理论基础。他还是一个具有高度责任感的社会活动家，在他生命的最后几天，还在一份呼吁和平、防止新的世界大战爆发的宣言上签字。这位伟大的科学家是（ D ）

A. 牛顿 B. 达尔文 C. 爱迪生 D. 爱因斯坦


32. **（2010年武汉市）**浏览名人长廊，领悟文明进步（5分）



华盛顿



马克思



爱迪生



孙中山



邓小平



邓稼先

(1) 先进思想推动人类文明进步。为建立理想社会，马克思创立了哪一科学理论？（1分）

(2) 追求政治文明是现代化探索的重要内容。2011年，我们将迎来辛亥革命百年庆典。在促进中国现代化方面，孙中山领导的辛亥革命，有怎样深远的影响？（2分）

(3) 杰出人物在人类文明发展进程中起到了重要作用，在上面人物图片中选择一位历史人物（除马克思、孙中山外），并说明他对人类文明进步作出的贡献。（2分）

32. (1) 科学社会主义或马克思主义

(2) 推翻了统治中国两千多年的君主专制制度，使民主共和思想深入人心。

(3) 华盛顿：领导美国人民赢得民族独立。

爱迪生：发明了电灯。

邓小平：倡导改革开放，使中国经济得到了持续、稳定、快速发展。

邓稼先：为两弹成功研制作出了重要贡献。

24. (2010年邵阳市) (15分) 阅读下列材料，回答问题。

材料一 世界博览会是展示人类社会进步和发展的平台，是人类社会进步和发展的产物。当前正在举办第41届世界博览会的上海，成为世界关注的焦点。

部分世博会概况简表

时间	举办国	名称	参加国家或国际组织	举办国部分展品
1851年	英国	伦敦万国工业博览会 (第1届世界博览会)	20多个	蒸汽机、织布机等
1876年	美国	费城美国独立百年博览会	30多个	电话、留声机等
2010年	中国	上海世界博览会	240多个	航天飞机模型、计算机多媒体版《清明上河图》等

- (1) 简述 1851 年英国举办万国工业博览会的历史背景。(3 分)
- (2) 依据材料一，判断下列说法是否正确，正确的打“√”，错误的打“×”。(4 分)
- ① 1876 年费城博览会的部分展品，反映出人类已开启“电气时代”大幕
- ② 2010 年上海世界博览会召开，表面中国已步入发达国家行列
- ③ 世界博览会的历史，就是推动人类三次科技革命发生与发展的历史
- ④ 参加世界博览会的国家越来越多，反映了经济全球化趋势不断加强
- 材料二 下列图片不仅反映了近代上海的历史，也反映了近代中国的历史。



(3) 正值上海世界博览会召开之际，作为中学生应适当了解上海的历史。请分别指出材料二中各图片所反映的重大历史事件。(6 分)

(4) 简要谈谈上海举办世界博览会的意义。(2 分)

24. (1) 英国将来了资产阶级统治；完成了工业革命；拥有广阔的殖民地等；

(2) ①√；②×；③×；④√

(3) 图一：洋务运动；图二：五四运动；图三：中国共产党成立

(4) 有利于展示我国改革开放以来的巨大成就和文明进步形象，提升我国的国际地位和国际影响力；进一步扩大对外开放，促进我国同世界各国的交流与合作；有利于促进我国的科技创新，实现经济又好又快发展，促进社会的和谐进步；有利于更好的适应政治格局多极化、经济全球化发展趋势等。

28 (2010 年龙岩市) 阅读下列材料：

材料一 1851 年，在英国伦敦举办了第一届世界展览会。期间展出了大约 100 万件展品，如蒸汽机、水力印刷机、纺织机械等。展览会成功地向世人展示了工业革命时代的辉煌成就。

——节选自人教版《世界历史》九年级上册

材料二

请问答：

(1) 结合材料一，1785 年以后，首先在纺织部门投入使用的蒸汽机是谁改进的？(3 分) 你认为当时英国展馆最有可能展出的新型陆上交通工具是什么？(3 分)

(2) 材料二反映出上海世博会采用了哪种清洁能源？

(2 分) 它体现了什么设计理念？(2 分)

(3) 结合上述材料，谈谈这两届世博会带给我们哪些启示？请举一例。(2 分)



图4 工人正在检查上海世博会使用的太阳能板

28. (1) 瓦特。(3 分) 火车(火车机车)。(3 分)

(2) 太阳能。(2 分) 节能环保，可持续发展等。(意思相近，答一点即可得 2 分)

(3) 科学技术是第一生产力。(能围绕科技、创新、环保等，且言之有理即可得 2 分)



2010 年	中国上海	城市，让生活更美好
-----------	------	-----------

(3) 播种希望，开启未来是上海世博会承担的使命。请结合所学知识，分析相关链接中的城市生活案例是如何向世人展示城市能让生活更美好的。(4分)

【相关链接】丹麦欧登塞赛倡导将骑自行车作为一种娱乐休闲的方式，推行骑自行车取代汽车的公共计划；西班牙马德里致力“公共廉租屋的创新实验”，为穷人建造好房子，让每一个人都感到城市的舒适和宜居；日本展馆面对老龄化社会，展示了能承担看护、医疗和家政援助具有高难度控制技术的伙伴机器人；德国展馆展示了只有参观者齐声鼓掌或呼喊才能在空中轻易摇摆的重达1.5吨的金属球……

25. (15分) (1) ①——A；②——C；③——B。(2) 人与自然和谐相处的理念(可持续发展理念)。自然资源是人类安身立命的基本条件，自然环境是人类赖以生存和发展的物质基础，20世纪60年代以来出现的一系列人口、资源、环境问题已严重制约人类的生活、生存和发展，使人们认识到必须寻求一条人口、资源与环境相互协调的可持续发展道路，维护好人类生存和发展必需的资源和环境基础。(3) 倡导低碳生活方式；崇尚公平和正义；发挥科技对生活的作用；重视人与人之间的团结合作。

33. (2010年娄底市) 世博会被誉为“经济、科技、文化界的奥林匹克盛会”，2010年5月1日，举世瞩目的世博会在上海隆重开幕。结合所学知识，探究下面的问题：

#### 【上海今昔】



签订《南京条约》



江南制造总局



发展中的上海

(1) 近代中国，上海曾是最早被迫开放的城市之一，是在哪次战争后开放的？(2分) 这次战争对中国社会造成了怎样的影响？(2分)

(2) 洋务运动时期李鸿章在上海创办了江南制造总局，洋务派提出了什么口号？

(2) 改革开放后，上海进入高速发展的快车道，请举出一项国家加快上海发展的措施。(2分)

#### 【链接世博】

材料一 1851年英国伦敦举办了第一届世界工业博览会，出现了珍妮机、蒸汽机等大批新产品……1876年在美国费城举行了大型博览会，美国以东道主的身份向世界展示了电报、电话等大量先进的科技成果，而素有“文明古国”之称的中国展示的是传统的丝绸、茶叶、瓷器……

——摘自人民网

材料二 上海世博会会徽中，汉字“世”字与2008年北京奥运会会徽——篆刻的“京”字交相辉映，寓意着本世纪两项超大型国际活动在中国举办。吉祥物“海宝”以汉字“人”作为核心创意，体现了“以人为本”的时代精神。……世博会中国馆和主题馆应用了太阳能光伏发电工程，向世界展示了我国先进的太阳能应用技术。

——摘自新华网

(3) 中国古代的科技在世界上处于领先地位，哪一重大发明为



郑和下西洋和新航路开辟提供了重要条件？（2分）费城博览会上，中美两国展示的不同产品，说明了什么问题？（2分）

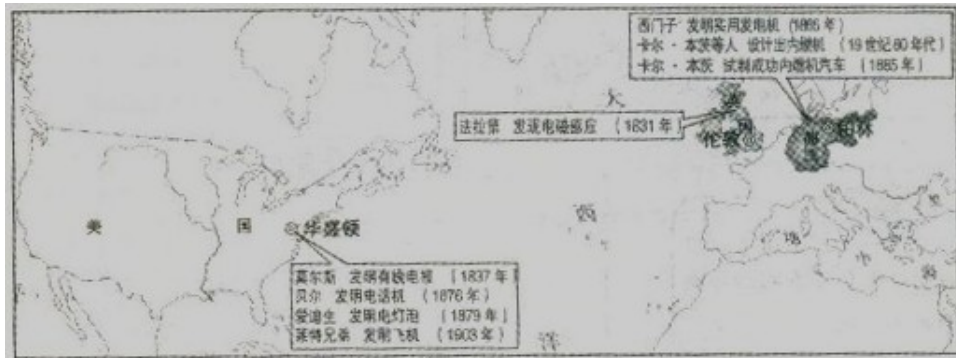
(4) 右上方的两张图片都突出了人文思想，世界历史上哪一次思想解放运动是以人文主义为核心，冲破了封建教会的精神束缚？（2分）

(5) 材料一中多种电器的发明和应用把人类带入什么时代？（2分）材料二中太阳能光伏发电工程属于哪一次科技革命成果？（2分）这次科技革命有何特点？（3分）

**【拓展提高】**

(6) 21世纪以来，中国继北京奥运会成功举办后，又在上海拉开了世博会的帷幕，这些成就的取得，让你认识到了什么？（3分）

17 (2010年沈阳市) 19世纪，科学的突破、技术的创新、新发明的涌现，使世界历史进入一个全新的、前所未有的大变革时代/



(1) 根据图片内容推断是哪次工业革命？（1分）

(2) 请你写出推断的理由。（以信息点的形式呈现，写出两点即可，2分）

信息点一：\_\_\_\_\_信息点二：\_\_\_\_\_

(3) 根据图片内容写出美国人的三项发明。（3分）

17. (1) 第二次工业革命 (2) 发明国家、发明成果、发明家、发明时间 (3) 电灯泡、飞机、有线电报、电话机

**(七)第一次世界大战**

**【内容标准】**

(1) 简述"三国同盟""三国协约"的组成国及相关条约的主要史实，了解欧洲两大军事对抗集团形成的严重后果。

19. (2010年福建莆田市) 下表是 1870-1913 年美、德、英、法工业产值在世界工业生产中的比重变化表。

别 \ 国	美国	德国	英国	法国
年份				
1870年	23%	13%	32%	10%
1913年	38%	16%	14%	6%

对此表的解读，正确的是 B

- ① 英德老牌资本主义国家走下坡路
- ② 法美新兴资本主义国家正在崛起
- ③ 英法老牌

资本主义国家走下坡路 ④美德新兴资本主义国家正在崛起 B

A. ①② B. ③④ C. ①③ D. ②④

14. (2010年重庆市)第一次世界大战爆发前,为了争夺世界霸权形成了两大军事集团。其中同英国、法国、俄国建立的是 (A)

A. 三国协约 B. 华沙条约组织  
C. 三国同盟 D. 北大西洋公约组织

24. V (2010年四川省乐山市) 1892年,“现代奥林匹克之父”顾拜旦提出,现代奥运会应以“团结、和平和友谊”为宗旨。当时威胁这一主张是 (A)

A. 欧洲开始出现两大军事集团对峙局面 B. 第一次世界大战的爆发  
C. 德意日三国法西斯军事同盟的形成 D. 北约和华约组织的形成

21 (2010年四川省成都市) 19世纪末 20世纪初,欧洲形成三国同盟和三国协约两大对立的军事集团,其核心分别是 D

A. 奥匈帝国、俄国 B. 意大利、俄国  
C. 德国、法国 D. 德国、英国

22 (2010年贵港市) 下列哪一国家不属于三国同盟? (A)

A. 英国 B. 德国 C. 意大利 D. 奥匈帝国

10、(2010年河池市) 以德国为首组建了 (C)

A. 共产主义者同盟 B. 三国协约 C. 三国同盟 D. 萨拉热窝事件

(2) 讲述萨拉热窝事件的主要过程,认识突发事件对人类和平的威胁。 14

37 (2010年湛江市) 第一次世界大战使 30 多个国家和 15 亿多人口卷进了战争,给人类带来了深重的灾难。第一次世界大战爆发的导火线是 (C)

A. 三国同盟和三国协约的形成 B. 凡尔登战役  
C. 萨拉热窝事件 D. 奥匈帝国向塞尔维亚宣战

13 (2010年鄂州市)“一把枪挑起一场战争!”1914年7月,德皇威廉二世以萨拉热窝事件为借口,极力怂恿奥匈帝国向哪个国家宣战? (D)

A. 俄国 B. 法国 C. 英国 D. 塞尔维亚

19. (2010年衡阳市) 南斯拉夫某城有一石碑,刻有文字:“1914年6月28日,加夫里诺·普林西比在这里用他的子弹,表达了我们人民对暴虐的反抗和对自由的向往。”碑文记载的事件是第一次世界大战的导火线。这个事件是 =B

A. 来克星顿枪声 B. 萨拉热窝事件  
C. 查理一世命丧断头台 D. 波士顿倾茶事件

19 (2010年滨州市) 有人形容第一次世界大战是“一把枪挑起一场战争。”“一把枪”比喻的是 (C)

A. 三国同盟的形成 B. 三国协约的形成  
C. 萨拉热窝事件 D. 奥匈帝国对塞尔维亚宣战

20 一位美国历史学家在谈到一战前的欧洲形势时说:“欧洲变成一只‘火药桶’,只等一粒火星将它引爆。”那么,成为“一粒火星”的是 (A)

A. 萨拉热窝事件 B. 凡尔登战役 C. 三国协约成立 D. 三国同盟成立

28 (2010年山东聊城市) 1914年7月,右图中的哪一国家向塞尔维亚宣战,第一次世界大战爆发? (B)

A. ① B. ② C. ③ D. ④

34 (2010年四川省巴中市) 有人形容第一次世界大战是“一把枪挑起一场战争。”“一把枪”比喻的历史事件是 \_\_\_\_\_。



(B)

- A. 三国协约的形成      B. 萨拉热窝事件  
C. 三国同盟的形成      D. 奥匈帝国对塞尔维亚宣战

22 (2010年四川省成都市) 南斯拉夫某城有一块石碑上刻着“1914年6月28日, 加夫里诺·普林西波在这里用他的子弹, 表达了我们人民对暴虐的反抗和对自由的向往。”碑文记述的是下列哪一重大历史事件? A

- A. 萨拉热窝事件      B. 彼得格勒武装起义  
C. 珍珠港事件      D. 诺曼底登陆

31. (2010年达州市) 萨拉热窝事件后, 列强都认为找到了发动战争的借口。奥匈帝国最先宣战的对象是 (C)

- A. 波兰      B. 波斯尼亚      C. 塞尔维亚      D. 阿尔巴尼亚

16. (2010年娄底市) 美国某历史学家在谈到“一战”前的欧洲形势时说, 欧洲变成了一只“火药桶”, 只等一粒“火星”将它引爆。后来引爆“火药桶”的“火星”是 (C)

- A. 美苏争霸的形成      B. 三国同盟的形成      C. 萨拉热窝事件      D. 三国协约的形成

(3) 以凡尔登战役为例, 认识第一次世界大战给人类社会带来的巨大灾难。

41 (2010年东莞市) 一战中的凡尔登战役, 德法双方投入近 200 万兵力, 共伤亡 70 多万人, 属于典型的阵地战和消耗战, 历史上称之为“凡尔登绞肉机”。把凡尔登战役称为“绞肉机”主要是用以形容 (D)

- A. 武器的先进性      B. 进攻的快速性  
C. 范围的广泛性      D. 战争的残酷性

28. (2010年山东省济宁市) 一战爆发后, 意大利加入协约国方面对德作战, 这反映的实质问题是 (C)

- A. 协约国进行的是正义战争      B. 意大利不讲信誉  
C. 帝国主义国家之间的利益原则      D. 协约国集团一开始就稳操胜券

17 (2010年苏州市) 学习了第一次世界大战的历史后, 小芳整理出了以下知识点, 其中不正确的一项是 (A)

- A. 一战是一场世界人民的反法西斯战争  
B. 爆发前在欧洲形成了两大军事对抗集团  
C. 萨拉热窝事件是战争爆发的导火线  
D. 凡尔登战役是大战中最惨烈的战役之一

23 (2010年四川省成都市) “一九一四年至一九一八年的战争, 从双方来说, 都是帝国主义的(即侵略的、掠夺的、强盗的)战争。”这是列宁对下列哪次战争的评价? C

- A. 普法战争      B. 拿破仑的对外战争  
C. 第一次世界大战      D. 第二次世界大战

25. (2010年四川省乐山市) 运用数据进行分析是历史学习的一种重要方法。下表反映出第一次世界大战是 (B)

第一次世界大战情况统计

持续时间	参加国	死伤人数	经济损失
4年多	30 多国	3000 多万人	3400 多亿美元

- A. 一场非正义的帝国主义战争      B. 人类历史上的空前浩劫  
C. 世界反法西斯战争      D. 十月革命爆发的直接原因

19 (2010年沈阳市) 战争曾深刻地影响了人类的历史。阅读下列材料, 回答问题。

**材料一：**一位德国军事历史学家说：“敌军在火炮的数量上占强大的优势，发射了数百万发炮弹，敌机机群完全控制了天空，当代不可战胜的战斗大象——坦克的出现，这一切，使作为德军核心力量的步兵受到极大的震动。”

一位驾驶坦克的士兵说：“坦克所发挥的威力，连我们自己也没料到。我驾着坦克孤零零地冲向一座村庄，只见德军在四散而逃。我围着村庄转了一圈，就像战神在地上划了一道禁圈一样，德国人全给吓懵了，全部乖乖投降，一共有 300 多人。”

——引自《世纪初的列强混战》

**材料二：**右图是电影《夏尔洛从军记》中的卓别林，该影片拍摄于 1918 年。卓别林在片中所扮演的士兵，被严格的训练累得筋疲力尽，倒地睡着了。他在前线被惊醒，装成一棵树，骗过了敌人，一开始先俘虏了德国的一个小分队，最后还抓到了德国皇帝。他把美国新兵在训练中遇到的困难拍的很滑稽，而德国人在片中则成了十足的傻瓜。德国人也很快意识到电影的价值，拍摄了喜剧、悲剧以及新闻短片，并且在部队和大众中间广泛地放映这些电影。

**材料三：**从 1916 年 2 月到 12 月，德法军队在凡尔登及其附近地区演出了一幕幕惊心动魄的进攻、反攻、摧毁、强击、破坏、占领、再占领，地面布满了密密麻麻的巨大弹坑，树林变成了枯木朽株混乱的堆积场，炮火翻腾过的泥土上暴露着人和马的尸体，随着天气逐渐转暖，尸体腐烂散发难以忍受的恶臭。这次战役双方伤亡人数总计 70 余万，因此被称为“凡尔登绞肉机”。在凡尔登战役激烈进行的同时，英国人正向索姆河西北地区发动一次强大的攻势。这种残杀一直持续到 11 月以前，英法的进攻最多向前推进了大约 7 英里，双方损伤超过百万。这次战役被称为“索姆河地狱”。

(1) 材料一说明了什么？(2 分)

(2) 根据材料二回答，利用电影作战争宣传的优点是什么？(1 分)

(3) 概括材料三你能得出怎样的结论？(2 分)

(4) 上述三则材料反映的内容与哪场世界性战争有关？(1 分)

19. (1) 先进武器在战争中的作用。(2) 生动形象；具有覆盖面广的优势 (3) 战争是残酷的。(4) 第一次世界大战

## (八)科学与思想文化

### 【内容标准】

(1) 简述牛顿、达尔文和爱因斯坦等人的主要成就，认识科学家在社会发展中的作用。

38 (2010 年湛江市)“一个苹果让牛顿吸引了世界，一壶沸水让瓦特转动了世界，一个元素让爱迪生点燃了世界”这句话中，“牛顿吸引世界”的是 ( C )

A. 研制汽车 B. 发明电灯 C. 发现万有引力定律 D. 改进蒸汽机

16 (2010 年福州市) 下面是一位男士的简历，他的中文译名是 ( D )

姓名	Darwin	职业	生物学家
国籍	英国	主要成就	创立生物进化论
出生年月	1809 年 2 月	代表作	《物种起源》

A. 牛顿 B. 达·芬奇 C. 爱因斯坦 D. 达尔文

13 (2010 年佛山市) 他的理论揭示了时空的可变性、时空变化的联系性，树立了新的时空观、运动观和物质观，被誉为人类思想史上最伟大成就之一。他是 ( D )

A. 伏尔泰 B. 达尔文 C. 马克思 D. 爱因斯坦

12. (2010 年长春市) 著有《物种起源》一书，提出了“进化论”思想的科学家是 ( C )

A. 牛顿 B. 爱迪生 C. 达尔文 D. 爱因斯坦

12 (2010年吉林省) 根据下列提示写出相对应的历史人物。(4分)

- (1) 创作《哈姆雷特》，宣扬人文主义精神的文学家——
- (2) 提出进化论，沉重打击神权统治根基的科学家——
- (3) 提出相对论，打开原子时代大门的科学家——
- (4) 创作《英雄交响曲》，歌颂资产阶级革命的音乐家——

21 (2010年汕头市) 19世纪60年代，欧洲基督教神权统治的根基遭到沉重打击。这一打击主要来自于 (A)

- A. 达尔文的“进化论”
- B. 爱因斯坦的相对论
- C. 牛顿的力学理论体系
- D. 孟德斯鸠的启蒙思想

14 (2010年鄂州市) 为原子能的利用奠定了理论基础的是 (C)

- A. 进化论
- B. 运动三大定律
- C. 相对论
- D. 万有引力定律

12 (2010年邵阳市) 相对论的创立者是 (D)

- A. 牛顿
- B. 达尔文
- C. 爱迪生
- D. 爱因斯坦

21 (2010年岳阳市) 达尔文对人类最重大的贡献是提出了：(C)

- A. 天赋人权思想
- B. 运动三大定律
- C. 进化论
- D. 相对论

15 (2010年株洲市) 张老师在课堂教学中讲到：“子代和亲代间的变异‘是普遍存在的，是进化的基础。…这一教学内容是下列哪一观点的体现 A

- A. 生物进化论
- B. 广义相对论
- C. 天体运行论
- D. 女娲造人论

20 (2010年扬州市) “牛顿的发现，给人类带来从未有过的自信。曾经匍匐在上帝脚下的人类，终于大胆地抬起头来，开始用自己理性的眼光打量世界”。这主要是因为牛顿 (D)

- A. 提出了三权分立学说
- B. 确立了生物进化学说
- C. 提出了著名的相对论
- D. 建立了经典力学的完整体系

18 (2010年泰州市) 提出了生物进化论，从根本上推翻了“神创论”和“物种不变论”的英国生物学家是

- A. 哥白尼
- B. 爱因斯坦
- C. 牛顿
- D. 达尔文

解析：A选项，哥白尼提出“日心说”；B选项，爱因斯坦提出“相对论”；C选项，牛顿阐明三大运动定律和万有引力定律，创立经典力学体系；D选项，1859年，达尔文在《物种起源》一书中提出了“进化论”思想。第一次把生物学建立在科学基础上，推翻神创论和物种不变论。答案：D


29 (2010年四川省巴中市) 好奇于“苹果为什么落地”，并发现万有引力定律的科学家是\_\_。

- A. 爱因斯坦
- B. 牛顿
- C. 哥白尼
- D. 达尔文

24 (2010年四川省成都市) 下列图片中的人物都是享誉世界的科学家，其中揭示出“自然选择，适者生存”的生物进化基本规律的是 B




A



B



C




D

30. (2010年四川省自贡市) 1921年3月上海《时事新报》刊登了一篇驻德国记者的特约稿，评论道：“爱因斯坦的革命事业，比昔日的德国路德之宗教革命，其影响还要重大，这位先生把旧科学的概念，一齐推翻。”爱因斯坦的突出贡献是指 (A)

- A. 创立相对论                      B. 建立了经典力学的基本体系  
C. 提出了生物进化论              D. 发现了万有引力定律

12. (2010年綦江县) 下列各项成就，属于右图人物的是 (D)

- A. 发现万有引力定律，建立了经典力学的基本体系  
B. 实行“新政”，颁布“产业复兴法”，全面加强国家对经济的干预  
C. 创立相对论，为原子能技术的开发提供了理论依据  
D. 提出进化论思想，推翻了神创论和物种不变论



15. (2010年重庆市) 英国科学家达尔文取得的突出成就是 (C)

- A. 创立了相对论                      B. 发现了万有引力定律  
C. 提出了生物进化论              D. 发明了基因重组技术

29. (2010年四川省自贡市) 英国科学家达尔文的墓志铭是：“他把世界翻了一个个，虽然并不完全。”其中，“他把世界翻了一个个”是指达尔文 (D)

- A. 发现了美洲新大陆              B. 创立了相对论  
C. 揭开了工业革命的序幕              D. 提出了生物进化论

(2) 了解伏尔泰等人的基本主张，初步认识思想解放与社会进步的关系。

25 (2010年四川省成都市) 17—18世纪，欧洲掀起了轰轰烈烈反封建的启蒙运动，该运动的中心在 D

- A. 英国                      B. 荷兰                      C. 意大利                      D. 法国

22 (2010年汕头市) 1878年，法国大作家雨果在纪念伏尔泰逝世一百周年的演讲中说：“伏尔泰战胜了敌人。他孤军奋战，打了响当当的一仗，这是一次伟大的战争”。

材料中的“敌人”是指 (A)

- A. 封建专制制度和天主教会              B. 法兰西第一帝国皇帝拿破仑  
C. 盘剥工人的资本家                      D. 发达第一次世界大战的同盟国

31. (2010年十堰市) 下面关于启蒙运动的描述不正确的是 (A)

- A. 启蒙运动是近代欧洲大陆第一次影响深远的思想解放运动  
B. 法国是启蒙运动的中心  
C. 伏尔泰被誉为启蒙运动的领袖和导师，主张开明专制  
D. 启蒙运动为欧美资产阶级革命做了思想上和理论上的准备

16. (2010年武汉市) 伏尔泰一生反对专制主义和宗教愚昧，成为法国民众敬佩的启蒙运动旗手。他提出了 (A)

- A. 天赋人权思想                      B. “三权分立”学说                      C. 人民主权思想

23. (2010年泰安市) 张华在学习与“伏尔泰”有关内容时, 做了如下笔记, 其中正确的是 (C)

- ① 伏尔泰是 18 世纪法国著名的启蒙思想家
  - ② 伏尔泰认为教士是世界上最好的人
  - ③ 伏尔泰等启蒙思想家对“自由”“平等”思想的宣传, 促进了欧洲社会的进步
  - ④ 伏尔泰反对封建专制, 主张开明的君主执政
- A. ①②③④ B. ②③④ C. ①③④ D. ①②③

(3) 知道莎士比亚和托尔斯泰的主要作品。

(18 (2010年苏州市) 莎士比亚在作品中赞叹道: “人是一件多么了不起的杰作! 在理性上多么高贵! 在才能上多么无限! , , 如果用列夫·托尔斯泰这位杰出人物的成就来证明的话, 下列哪一选项符合? (B)

- A. 出版了《物种起源》
- B. 撰写了《战争与和平》
- C. 创作了《向日葵》
- D. 谱写了《英雄交响曲》

26. (2010年泰安市) 某大学近代世界文学研究组要召开一个探讨俄罗斯名著《战争与和平》的写作艺术研讨会, 选择谁的照片在会场悬挂最合适 (D)

- A. 高尔基
- B. 郭沫若
- C. 鲁迅
- D. 列夫·托尔斯泰

4) 说出《最后的晚餐》和《向日葵》两幅名画的作者和艺术风格。

21 (2010年东营市) 荷兰著名画家梵高运用有图的笔触和强烈的色彩对比来表达他对生活无比热爱的代表作品是 (C)

- A. 《蒙娜丽莎》
- B. 《最后的晚餐》
- C. 《向日葵》
- D. 《战争与和平》

(5) 知道贝多芬的《英雄交响曲》, 初步理解作者创作这一作品的历史背景。

16. (2010年河北省) 贝多芬为拿破仑创作了《第三交响曲》并题字“献给拿破仑·波拿巴”。1804年, 当他听到一个消息后, 愤然将题字改为“英雄交响曲, 为纪念一位死去的英雄而作。”这一“消息”指 (B)

- A. 拿破仑发动政变
- B. 拿破仑称帝
- C. 拿破仑下台
- D. 拿破仑病逝

18 (2010年潍坊市) 贝多芬被后世尊为“交响乐之王”。他以拿破仑事迹为题材创作的作品是 (A)

- A. 《英雄交响曲》
- B. 《神曲》
- C. 《最后的晚餐》
- D. 《仲夏夜之梦》