

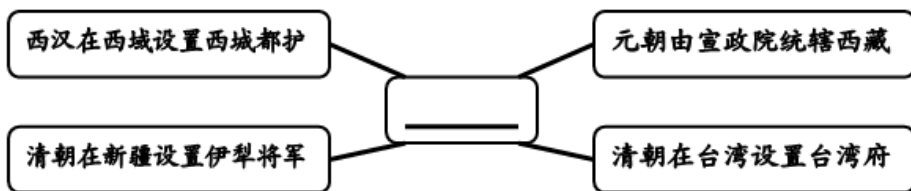
2021年辽宁省大连市中考历史试题

一、选择题（本题共 12 小题每小题 2 分，共 24 分）说明：在四个选项中只有一个选项是正确的。

1. 某同学准备以“两汉时期中外文明交流”为题撰写文章。下列事件可以作为史实依据的是（ ）

- A. 北魏孝文帝改革
- B. 玄奘西行
- C. 丝绸之路的开通
- D. 鉴真东渡

2. 建构示意图是历史学习的重要方法之一。下图中横线处的主题表述最恰当的是（ ）



- A. 统一多民族国家的巩固
- B. 盛世局面形成与发展
- C. 兼容并包的社会新风貌
- D. 西北边疆的巩固措施

3. 下列示意图展示了近代以来两次列强侵华战争后通商口岸地理位置的变化。这一变化反映了（ ）



- A. 外国侵略势力进一步深入到中国腹地
- B. 清政府沦为帝国主义统治中国 工具
- C. 中国已完全沦为半殖民地半封建社会
- D. 中国社会的自然经济遭到了严重破坏

4. 近代前期，面对内忧外患，中国社会各阶层掀起了救亡图存运动。下列人物与历史事件对应正确的是（ ）

- ① 李鸿章——洋务运动
- ② 康有为——戊戌变法
- ③ 孙中山——辛亥革命
- ④ 陈独秀——新文化运动

- A. ①②③
- B. ①②④
- C. ②③④
- D. ①②③④

5. “我军这一战略行动，恰似一把利剑插进蒋介石反动统治的心脏……从此，中国人民解放军由内线作战

转为外线作战，由战略防御转入战略进攻。”材料中的“这一战略行动”是指（ ）

- A. 平型关大捷 B. 百团大战 C. 挺进大别山 D. 渡江战役

6. 2021年4月29日，我国空间站天和核心舱发射任务取得圆满成功，中华民族的问天国歌又奏响了新的乐章。下列选项与上述成就属于同一领域的是（ ）

- A. 1964年第一颗原子弹爆炸成功 B. 1967年第一颗氢弹爆炸成功
C. 2003年神舟五号飞船升入太空 D. 2012年“辽宁舰”交接入列

7. 古代世界人民创造了辉煌灿烂的文明成果。下表中的国家（地区）与文明成果对应正确的是（ ）

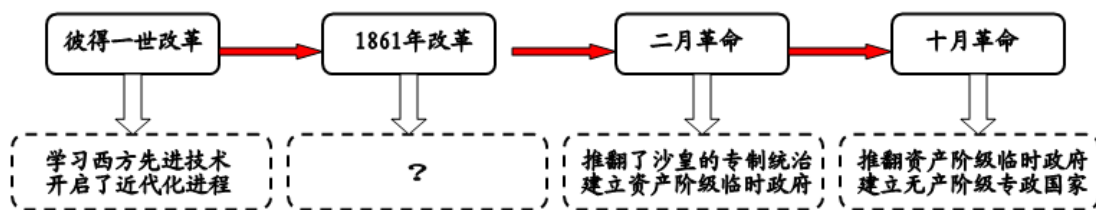
| 国家（地区） | 文明成果 |
|----------|----------|
| ① 古埃及 | 金字塔和太阳历 |
| ② 古巴比伦王国 | 《十二铜表法》 |
| ③ 古希腊 | 《汉谟拉比法典》 |
| ④ 古罗马 | 罗马大竞技场 |

- A. ①② B. ①④ C. ②③ D. ③④

8. “它打破了以往人类文明区域性分割和孤立发展的局面，首次把全球人类联系起来，开始了人类文明一体化的进程……开始了欧洲对世界征服和侵略的历史。”材料描述的历史事件是（ ）

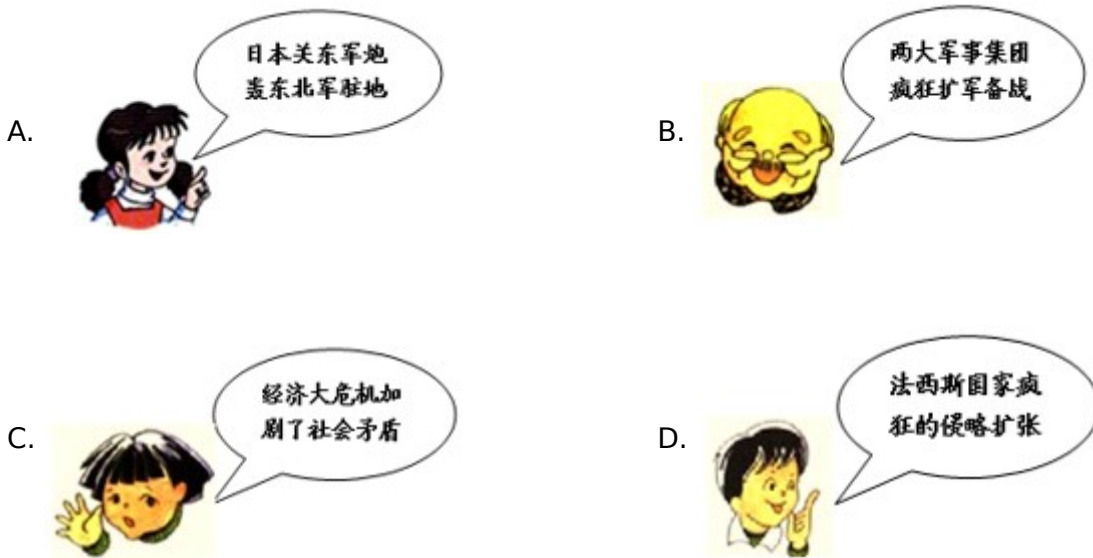
- A. 亚历山大东征 B. 新航路开辟 C. 英国工业革命 D. 拿破仑远征

9. 改革和革命是推动社会发展的巨大动力。俄国为摆脱落后局面先后进行了一系列的改革和革命。阅读下面俄国发展进程示意图，“？”处应填写的内容最恰当的是（ ）



- A. 仿效唐朝制度 建中央集权制 B. 结束幕府统治 发展资本主义
C. 废除农奴制度 发展资本主义 D. 摆脱殖民统治 获得民族独立

10. 历史课上，某小组围绕“第一次世界大战爆发的原因”展开讨论。下列表述正确的是（ ）



11. 19世纪以来，人类社会发生重大变化，思想、文化科学等领域日益繁荣。下列选项创造性地揭示了人类社会的发展规律是（ ）

- A. 《共产党宣言》 B. 《物种起源》 C. 《战争与和平》 D. 《人间喜剧》

12. “纽约证券交易所爆发了一场空前的灾难。1929年10月24日，有人忽然卖掉手中被高估的股票……短短两年多的时间里，美国的经济危机使14万家企业倒闭，全国有四分之一的人失业。”为应对这场“经济危机”，罗斯福实施的政策是（ ）

- A. 维持商品价格 B. 放任自由发展 C. 销毁大量商品 D. 国家干预经济

二、非选择题（本题共3小题，共26分）

13. 中华优秀传统文化是中华民族“根”和“魂”，是最深厚的文化软实力。某班欲以“文化·传承·发展”为主题创办手抄报，请你协助完成。

【汉字之源】



图1 刻有文字的甲骨



图2 统一文字

(1) 图1中的文字记录了我国什么时期的历史？图2中颁行全国的通用文字是什么？

【思想之光】

材料 孔子开创了民间自由讲学的先河，一个中国学术思想史的黄金时代便开始出现，它光芒四射，灿烂夺目，成为人类文化发展史上最富丽的时代。

——李定一《中华史纲》

(2) 材料中孔子“自由讲学”的途径是什么？“黄金时代”是指在春秋战国时期思想文化领域出现的什么局面？

(3) 孔子创立的儒家学说历经传承与发展，在谁统治时期被确立为正统思想？

【文史之萃】

信息卡 1

他是西汉著名史学家，开创了纪传体通史的编纂体例，他接任父亲继任太史令，有“中国史学之父”之称。

信息卡 2

他是南宋著名词人，继承了苏轼以来的豪放词风和报国情怀，进一步提高了词在文学史上的地位。

(4) 信息卡 1 和信息卡 2 中的“他”分别指的是何人？信息卡 1 中的“他”撰写的史学巨著是什么？

14. 14 世纪，一场思想文化运动揭开了世界近代历史的序幕，人类社会在不断发展进步的同时也面临着严峻的挑战。阅读材料，回答问题。

材料一 人是一件多么了不起的杰作！多么高贵的理性！多么伟大的力量！多么优美的仪表！多么文雅的举动！……宇宙的精华！万物的灵长！

——莎士比亚《哈姆雷特》

(1) 材料一反映的是世界近代史上哪一次思想文化运动？这运动的先驱是谁？

材料二 英国用光荣革命的非暴力手段，建立了一种新的政治制度……营造出一种宽松、自由和开放的环境。否则，就难以想象，英国社会如何能在 18、19 世纪和平地实现现代化。

——钱乘旦《世界现代化历程》

(2) 材料二中英国建立的“新的政治制度”是什么？它的确立有什么历史意义？

材料三


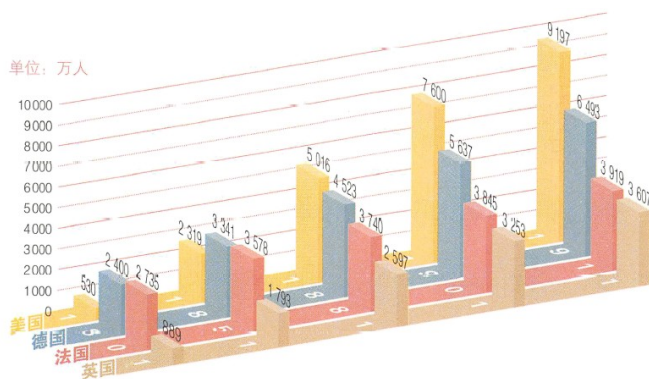


图 1 英、法、德、美四国的人口增长

图 2 加速融化的南极冰山

(3) 图 1 人口发展趋势形成的主要原因是什么？图 2 反映了人类社会面临什么挑战？

15. 2021年，习近平总书记在新年贺词中讲到：“从上海石库门到嘉兴南湖，一艘小小红船承载着人民的重托、民族的希望，越过急流险滩，穿过惊涛骇浪，成为领航中国行稳致远的巍巍巨轮。”某班历史兴趣小组以“小红船，大巨轮”为主题开展探究活动，请你参与完成。

【大事业 小人物】

材料一 一大的十二个代表，年龄最长的四十五岁，最轻的十九岁，平均二十八岁，作为湖南代表之一的毛泽东还没有满二十八岁。陈独秀和李大钊恰好有事，一个在广州，一小在北京，没有来参加这次大会，参加会议的这些代表都是社会上还不知名的“小人物”。

——金冲及《二十世纪中国史纲》

(1) 材料一中的“小人物”建立了什么政党？该政党建立有什么重要历史意义？

【小区域 大发展】

材料二 一国之内，在四周白色恐怖的包围中间，产生一小块或若干小块的红色政权区域，在目前世界上只有中国有这种事。

——毛泽东《井冈山的斗争》

(2) 材料二中第一块“红色政权区域”建在哪里？“红色政权区域”的建立开辟了一条怎样的革命道路？

【小乒乓 大外交】

材料三 1971年3月下旬到4月上旬在日本名古屋举行第三十一届世界乒乓球赛上，中国邀请美国乒乓球队访华。这是中美关系上一个重大突破，引起很大轰动，被称为“乒乓外交”。“乒乓外交”获得了“小球转动大球”的戏剧性效果。

——金冲及《二十世纪中国史纲》

(3) 请写出材料三中“小球转动大球”外交成果的具体表现。（写出一点即可）

【小尝试 大决策】



图1 小岗村责任承包书



图2 农民领取联产承包责任制合同书

(4) 从图1到图2的变化得益于哪次会议的召开？这次会议作出了什么历史性决策？

【小窗口 大世界】

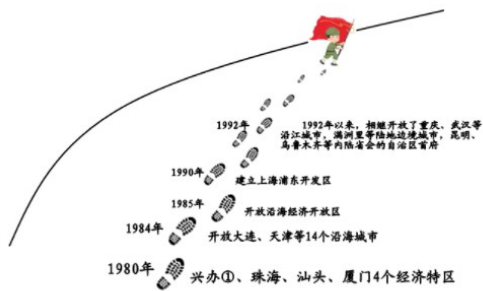


图3 中国对外开放的步伐

(5) 请写出图3中①处对外开放的“窗口”城市名称。此图反映出我国形成了怎样的对外开放格局？

(6) 通过对这一主题的探究，你有什么感悟？（写出一点即可）