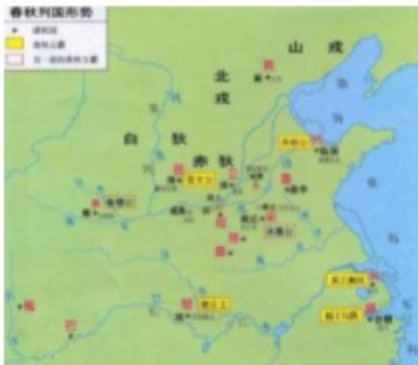


海南省 2021 年初中学业水平考试历史

(本卷满分 100 分。考时时间的分钟)

一.选择题 (本大题有 20 小题。每小题四个选确中只有一个正确。每小题 3 分。共 60 分)

1. 考古发现是了解史前社会历史的重要依据，下列可以佐证半坡人掌握简单纺织、制衣技术的是
- A. 石铲 B. 骨耜 C. 骨针、骨锥、纺轮 D. 渔叉、渔钩、渔网
2. 下列三幅地图反映的历史发展趋势是



春秋列国形势图



战国形势图



秦朝形势图

- A. 分封制度趋于完善 B. 向大统国家发展
- C. 兼并成争连的不断 D. 统一国家不断巩固
3. 《晋书·食货志》记载东晋后期的情形是：“天下无事，时和年丰，百姓乐业，谷帛殷阜，几乎家给人足矣。”由此可知
- A. 江南地区开始开发 B. 南方经济发展迅速
- C. 南方经济超过北方 D. 经济重心完全南移
4. 中国的活字印刷术大约在 14 世纪传到朝鲜和日本，15 世纪传到欧洲。1460 年意大利建立了欧洲第一家印刷厂”。此后欧洲各国的印刷厂便如雨后春笋般建立起来。材料说明活字印刷术
- A. 推动了中国社会的深制变革 B. 促进了世界选洋航海技术的发展
- C. 开创了中外交通的全新局面 D. 对人类文明的发展产生重大影响
5. 读下图，古代货币的发展变化



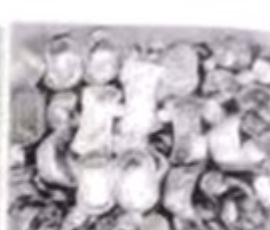
秦·半两



汉·五铢



北宋纸币
铜版拓片



明清·银钱

- A. 见证了古代商业的繁荣
B. 佐证了抑商政重的合理
C. 呈现了小农经济的瓦解
D. 表明了古代贸易额减少
6. 它创自于 1872 年的上海，是近代中国保存时间最长拥有广泛社会影响的中文报纸，被人称为研究中国近现代史的“百科全书”。它是

- A. 《申报》 B. 《大公报》 C. 《新闻报》 D. 《解放日报》

7. 下列图片呈现的是



宣传《中国土地法大纲》翻身农民领导土地证

- A. 打土豪分田地 B. 大生产运动 C. 解放区土地改革 D. 农业合作化运动

8. 1950 年，帝国主义侵略者将战火烧到我们的家门口。中国人民以战止战、以武止戈。用胜利赢得和平、赢得尊重。这场战争是

- A. 中法战争 B. 甲午中日战争 C. 八国联军侵华战争 D. 抗美援朝战争

9. 国家对少数民族古籍文献的整理工作取得大批成果，2006 年，成族史诗《格萨尔王传》，蒙古族史诗《江格尔》和柯尔克孜族史诗《玛纳斯》被列入首批国家级非物质文化遗产名录，材料表明国家重视少数民族的

- A. 经济建设 B. 文化传承 C. 科技发展 D. 文旅开发

10. 袁隆平有两个梦想：一个是禾下乘凉梦；一个是杂交水稻覆盖全球梦，为了这个梦想，他一辈子离不开稻田，并为之奋斗一生“我不在家就在试验田，不在试验田，就在试验田的路上。”这体现袁隆平

- A. 一生守护“大国粮仓”精神
B. 英勇顽强、舍生忘死的精神
C. 顾全大局、严守纪律 精神
D. 生命至上，举国同心的精神

11. 海南教育起步虽晚，但自唐宋以后，海南教育稳步发展。留下了诸如“海外衣冠盛事”“海外邹鲁”“奏考回琼”等脍炙人口的海南教育故事。下列与“海外衣冠盛事”有关的是

- A. 尊孔崇儒，兴学重教，贤才辈出 B. 海南学子就近参加科举考试
C. 明代出了 62 名进士，595 名举人 D. 宋代出了 12 位进士

12. 海南建省办经济特区以来，港口建设成效显著，航空事业快速发展，通信体系构建完整，全省电子政务专网和党政网投入运行……基础设施明显改善。材料意在说明海南

- A. 经济发展后劲大大增强
- B. 生产总值稳步增长
- C. 教育文化事业发展迅速
- D. 人均收入显著提高

13. 亚非地区的尼罗河流域、两河流域、印度河流域和黄河流域、长江流域是人类文明的重要发祥地，究其原因，大河流域

- A. 自然资源匮乏
- B. 文明成果丰硕
- C. 文化积淀厚重
- D. 适合农业耕作

14. 雅典著名政治家伯里克利普说：“我们的制度被称作民主制……，法律而言，一切人在解决他们私人纠纷方面都是平等……”这里的“一切人”是指

- A. 公民
- B. 战俘
- C. 奴隶
- D. 外邦人

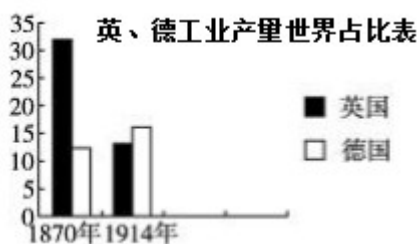
15. 莎士比亚称人是“宇宙的精华，万物的灵长”。这表明莎士比亚

- A. 强调法律至上
- B. 提倡人文主义
- C. 忽视科学文化
- D. 反对个性解放

16. 15 世纪末 16 世纪初，在葡萄牙、西班牙王室的支持下，一批航海家开启了开辟新航路的壮举。其中经过太平洋的航海家是

- A. 迪亚士
- B. 达·伽马
- C. 哥伦布
- D. 麦哲伦

17. 读下图，可知这时期



- A. 德国工业发展水平始终落后于英国
- B. 德国工业发展后来居上，超过英国
- C. 英国工业产量始终占世界第一
- D. 德国工业产量跃居世界第一

18. 有人认为，对俄国十月革命的伟大意义，怎么评价也不过分：既不因苏联在社会主义建设中的失误而黯然失色，也不因苏联的解体而蒙上厚厚的灰尘。符合这一观点的是

- A. 俄国是帝国主义链条上最薄弱的环节
- B. 俄国是较早实行资产阶级改革 国家
- C. 十月革命是人类历史上第一次胜利的社会主义革命
- D. 十月革命是建立无产阶级政权的第一次伟大尝试

19. 1945年2月，美、苏、英三国首脑在雅尔塔召开会议。会议上讨论的波兰重建问题、外蒙古的独立问题、中国东北问题的处置都是背着当事国进行的。由此可知，雅尔塔会议

- A. 损害了美、英等国家的利益
- B. 体现了同情弱小国家的倾向
- C. 充满了美苏互不妥协的气氛
- D. 打上了大国强权政治的烙印

20. 联合国旗帜正中是一个白色的联合国徽记。徽记是一张以北极为中心的世界地图等距离方位投影，由橄榄枝组成的花环相托，象征世界和平。寓意着联合国主要致力于

- A. 维持国际和平及安全
- B. 促进各国市场开放
- C. 消除分裂欧洲壁垒
- D. 增强区域集团实力

二、材料解析题（本大题有3小题，21题12分，22题16分，23题12分，共40分）

21. 阅读下列材料，回答问题：

材料一为了学习中国的先进文化，日本派遣使节到中国，跟随使节来华的，还有很多留学生和留学僧等。他们把唐朝先进的制度、天文历法、书法艺术等传回日本。在唐朝与日本的文化交流中，最有影响的人物是鉴真，他六次东渡，终于在754年抵达日本，为中日文化交流作出了卓越的贡献。

——整理自统编版《中国历史》

材料二在返日留唐学生的策动下，日本发生著名的大化革新。日本社会各阶层也深受唐文化浸染，他们吟哦唐诗，雅好唐乐，发展“唐绘”，行唐礼，服唐服。同期的朝鲜和后来的越南，均以中国为文化母国。中国文化传播出其独有的“智慧之光”，对人类文明的发展做出了自己的贡献。

——摘编自《中国文化概论》

(1) 依据材料并结合所学，列举唐朝中外文化交流史实。

(2) 依据材料并结合所学，以日本为例说明唐文化对世界文明发展的影响。

22. 阅读下列材料，回答问题：

百年恰是风华正茂，百年仍需风雨兼程，中国共产党的领导是历史的选择人民的选择。

材料一……在中国共产党成立以前，太平天国的农民起义也好，“中体西用”的洋务活动也好，试图变法图强的戊戌维新运动也好，义和团运动也好，辛亥革命也好，一次又一次地失败……他们都没有改变旧中国半殖民地半封建的社会性质，也没有完成实现民族独立、人民解放的历史任务……这个任务光荣地落到了先进生产力的代表中国工人阶级的肩上。

——摘编自《中国共产党简史》

材料二经过一百年的奋斗，我们党团结带领人民在一个有着几千年封建社会历史的国家实现了最广泛的人民民主，人民真正成为国家、社会和自己命运的主人：我们在一穷二白的基础上创造了经济社会快速发展奇迹，用几十年时间走完了发达国家几百年走过的工业化历程，跃升为世界第二大经济体，综合国力、科技实力、国防实力、文化影响力、国际影响力显著提升；我国人民生活由温饱不足到全面小康，整体上

彻底摆脱了绝对贫困，成为世界上中等收入人口最多的国家：我国长期保持社会和谐稳定、人民安居乐业，成为国际社会公认的最有安全感的国家之一。

——节选自习近平《在党史学习教育动员大会上的讲话》

- (1) 依据材料一，概述历史重任落在中国工人阶级肩上的原因。
- (2) 据材料二并结合所学，简述“中国共产党 领导是历史的选择人民的选择”。

23. 阅读下列材料，回答问题：

材料一 社会信息化带给人们便利的生活，如电子商务、移动支付、共享经济等，一部手机即可全部解决。但同时也使保护个人隐私变得越来越困难，甚至影响着个人生命财产安全，各种各样的计算机病毒、手机病毒让人防不胜防：它让网络成为良筹不齐的各种意见的汇集地，甚至成为个别别有用心国家、集团或个人利用的工具。

——摘编自《中外历史纲要》

材料二 人类进入工业文明时代以来，在创造巨大物质财富的同时，也加速了对自然资源的攫取，打破了地球生态系统平衡，人与自然深层次矛盾日益显现。近年来，气候变化、生物多样性丧失、荒漠化加剧、极端气候事件频发，给人类生存和发展带来严峻挑战。

——节选自习近平《共同构建人与自然生命共同体》

- (1) 依据上述材料，概括现代社会中存在的问题。
- (2) 结合所学，请你谈谈如何应对这些问题带来的挑战。