

重庆市 2015 年初中毕业暨高中招生考试

历史试卷 (A卷)

(开卷 本卷共五个大题, 满分 50 分, 与思想品德学科共用 90 分钟)

注意事项:

1. 试题的答案书写在答题卡上, 不得在试卷上直接作答。
2. 作答前认真阅读答题卡上的注意事项。
3. 考试结束, 由监考人员将试题和答题卡一并收回。

一、选择题: 本大题共 15 小题, 每小题 1 分, 共 15 分。在备选答案中只有一项是符合题目要求的, 请按答题卡的要求作答。

1. 某班历史兴趣小组的同学进行探究性学习, 将收集的下列图片构成一组。它们所反映的原始居民的生产生活情况属于



- A. 北京人 B. 山顶洞人 C. 河姆渡人 D. 半坡人

2. 汉字是中华文化之母。下列有关汉字的表述, 不正确的是

- A. 商朝时人们把汉字刻在甲骨或铸在青铜器上
- B. 我国有可靠文字记载的历史是从秦朝开始的
- C. 汉字书法有篆、隶、楷、行、草等多种字体
- D. 造纸术和印刷术的发明, 促进了汉字的传播


中国古代文化主要成就		
领域	人物	作品、著作
思想、教育	_____	《诗》《书》《春秋》等
史学	司马迁	《史记》
文学	司马光	《资治通鉴》
绘画	顾恺之	《洛神赋图》

3. 列表整理知识是历史学习的有效方法之一。右图所示为小张同学的学习笔记。其中“_”处应填写的人物是

- A. 孔子
- B. 孟子
- C. 墨子
- D. 韩非子

4. 工程和建筑都是文明的载体。下列关于中国古代部分工程和建筑的表述, 正确的是

- A. 李冰建造的赵州桥是世界上现存最古老的石拱桥
- B. 隋朝大运河以洛阳为中心, 沟通南北, 促进了交流
- C. 明长城西起临洮, 东至辽东, 绵延万里, 雄伟壮丽
- D. 故宫是清朝开始修建的世界现在最大的宫殿建筑群



5. 重庆是古代巴族的主要活动地区, 留下了丰富的遗迹和遗物。其中右图所示战国时期巴国编钟在 1972 年出土于

- A. 涪陵
- B. 云阳
- C. 巫山
- D. 忠县

6. 巴蜀大地曾出现了许多被人们称颂的历史人物。其中, 人们作歌“晨风习习吹动, 春雨滋润禾苗; 太守注重农业, 百姓丰足富饶”赞扬的是

- A. 蔓子
- B. 张仪
- C. 文翁
- D. 吴资

7. 鸦片流入中国, 从 1842 年的 33000 箱上升到 1848 年的 46000 箱……仅 1848 年就

有一千多万两白银外流。当时市场用铜钱、而农民交租要用白银。1两银子在18世纪时兑换1000文铜钱，而在1845年，则超过了2000文。这表明

①鸦片战争后鸦片流入量急剧上升 ②中国传统手工业日渐破产 ③白银大量外流导致银贵钱贱 ④鸦片战争后农民的负担大大加重

A. ①②③ B. ①②④ C. ①③④ D. ②③④

8. 近代史上，不平等条约是列强套在中华民族脖子上的沉重枷锁。下列条约中，允许帝国主义国家派兵驻扎北京到山海关铁路沿线重要地区的是

A. 《南京条约》 B. 《北京条约》 C. 《马关条约》 D. 《辛丑条约》

9. 1919年6月《新闻报》载：“此次沪（上海）上风潮始由学生罢课，继由商人罢市，近日将有劳动工人同盟罢工。初因青岛外交……后即以释放京师被捕学生，并罢斥曹汝霖、陆宗舆、章宗祥三人为要求条件。”这表明

①五四运动扩展到上海 ②学生是运动的先锋 ③工人已经举行浩大罢工 ④运动具有反帝反封建性质

A. ①②③ B. ①②④ C. ①③④ D. ②③④

10. 右图再现了民主革命时期中国共产党领导革命的生动场面。该图所反映的历史事件

A. 打响了反抗国民党反动派的第一枪
B. 开始了向农村进军的革命历程
C. 形成了工农红军第一支坚强部队
D. 建立了中共领导的敌后抗日根据地



11. 雨果说：“开展纪念日活动，如同点燃一支火炬。”每年6月5日，重庆防空警报长鸣，它唤起了人们对苦难历史——“六五”大隧道窒息惨案的记忆与思考。这一惨案发生于

A. 1938年 B. 1939年 C. 1940年 D. 1941年

12. 提示历史的内在联系是历史学习的重要方法。下列历史事件或现象之间没有直接因果关系的是

A. 中国共产党的成立——中国革命面貌焕然一新
B. 遵义会议的召开——红军长征取得胜利
C. 西安事变的和平解决——苏联出兵中国东北
D. 十一届三中全会的召开——开放的中国走向世界


13. 下列图片所示人物中，对近代西方音乐的发展产生了积极而深远的影响的是




A



B



C



D

14. 1933年5月，美国颁布法令，一是缩小现有耕地面积，控制生产过剩；二是由政府补贴来维持农产品的价格。使农民的收入恢复到1909至1914年繁荣年代的水平。其目的是

A. 复兴农业经济 B. 恢复银行信用
C. 增加就业机会 D. 增加政府收入

15. 感天动地世界反法西斯战争，把全世界正义的力量团结在一起，在最黑暗的岁月里坚守和平的希望。下列事件，按发生先后顺序排列，正确的是

①《联合国宣言》的签署 ②苏军攻克柏林 ③英美盟军在诺曼底登陆 ④雅尔塔会议的召开

- A. ①②③④ B. ①③②④ C. ①③④② D. ③④②①

二、判断题：本大题共 5 小题，每小题 1 分，共 5 分。

阅读以下材料后判断：

巴黎和会确立了战胜国对战败国的凡尔赛体系，华盛顿会议调整了美日英三个战胜国之间在远东和太平洋地区的关系。这样，一战后国际关系新格局凡尔赛—华盛顿体系形成。

第二次世界大战由 30 年代以来一系列地区性局部战争逐步扩大演变而成的。这是区别它和第一次世界大战不同的一个重要特点。从 1931 年到 1939 年的局部战争，中间经过 1931 年日本发动“九一八”事变侵略我国东北……德国吞并奥地利、占领捷克斯洛伐克等。在此期间，英法等西方国家纵容法西斯侵略的绥靖政策，无疑助长了法西斯侵略的嚣张气焰，加速了世界战争的全面爆发。在局部战争期间，反法西斯势力基本上处于孤立少援、被各个击破的境地。德意日等国的侵略行动未得到有效阻止，凡尔赛—华盛顿体系最终走向崩溃，世界大战爆发。

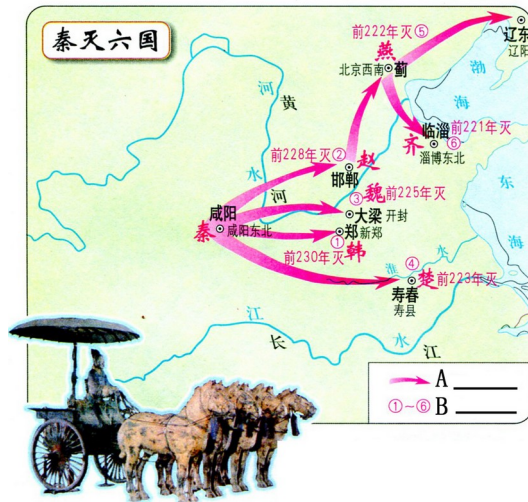
-----摘编自刘宗绪、黄安年《世界近现代历史专题 30 讲》

以下表述是从以上材料中得出的，请在答题卡对应题号后涂“A”；违背了以上材料所的意思，请在答题卡对应题号后涂“B”；是以上材料没有涉及的，请在答题卡对应题号后涂“C”。

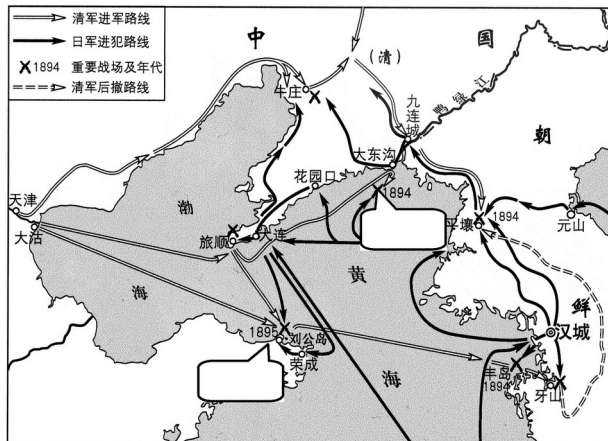
16. 巴黎和会和华盛顿会议，调整的都是一战后战胜国与战败国之间的关系。
17. 中国参加了第一次世界大战，在巴黎和会上处于被列强宰割的地位。
18. 德国和日本都是一战后国际秩序的挑战者，对当时世界和平构成巨大威胁。
19. 面对德日法西斯破坏战后国际秩序的行为，英法等西方国家一再妥协退让。
20. 未能有效防止局部战争扩大为全面战争，是两次世界大战共同的历史教训。

三、填图题：本大题共 2 小题，第 21 题 3 分，第 22 题 2 分，共 5 分。

21. (1) 观察右图，请在答题卡图中的图例栏内 A、B 处分别写出图例的含义。(2 分)



(2) 依图指出秦灭六国过程的特点 (1 分)



22. 左图为《甲午中日战争形势示意图》，请将下列地点的字母代号填入答题卡图中相应的方框内。(2 分)

- A. 邓世昌壮烈殉国的战役发生地点
- B. 北洋舰队全军覆没的战役发生地点

四、材料分析题：本大题共 2 小题，第 23 题 7 分，第 24 题 6 分，共 13 分。

23. 阅读下列材料：

材料一 汉初将冶铁、采矿、煮盐等山泽之源下放给私人经营，出现了大量靠经营冶铁、煮盐的富商，形成一股与中央政权相抗衡的社会势力。武帝中期，多次大规模的征讨匈奴军费开支浩繁，财政入不敷出，朝廷不得已向豪富借贷，而富商大贾却“不佐国家之急”。在此情形下，汉武帝于元狩四年（公元前 119 年），对盐、铁实行官管，由政府垄断。

——摘编自万海峰、肖燕《略论汉武帝时期的盐铁专卖制度》

材料二（20 世纪 30 年代）在西方经济确实是一团糟的同时，苏联正在继续进行经济发展方面的独特实验。虽然五年计划伴有严厉的压制和民众的贫困，但实质上是成功的苏联从一个以农业为主的国家迅速上升为世界第二大工业强国。这种前所未有的成就具有国际性的影响，尤其是因为当时种种经济困难正使西方陷于困境。

——【美】斯塔夫里阿诺斯《全球通史》

材料三 经过 20 多年的实践，它的弊端逐渐显露，计划经济体制造成国家对企业统得过死，忽视商品经济价值规律和市场的作用……扼杀了人们发展生产、改善生活的积极性和创造性……。（1984 年）中国共产党十二届三中全会以中央决议的形式，承认了市场的作用，提出了要发展商品经济，这是中国共产党和社会主义中国的伟大创举。

——摘编自中央电视台、人民出版社《复兴之路》

请回答：

- (1) 根据材料一，归纳汉武帝对盐铁经营政策进行调整的目的（2 分）
- (2) 20 世纪 30 年代，高度集中的计划体制是苏联经济的显著特点。根据材料二结合所学知识，指出苏联这一体制得到作者肯定的原因。（2 分）
- (3) 根据材料三，概括中共中央在经济政策制定方面的变化。（2 分）
- (4) 综上，谈谈你对国家制定经济政策的认识。（1 分）

24. 阅读下列材料：

材料一 由于地理上的相对隔绝、政治上的相对独立稳定，古代中国人独自走着自己的文化发展道路，形成了技术型、经验型、实用型为主的科技体系。……中华民族先人在科学技术上的独特建树，一直保持着其永恒的魅力。

——摘编自吴国盛《科学的历程》

材料二 中国古代一向有重农传统，故而历代农书颇多，但同时却轻视手工业，少有全面记载手工业技术的著作。《天工开物》不仅首述农事，随后又以更多的篇幅记述手工业这与明末启蒙思潮中出现的“工商皆本”的先进思想是相符合的。

——楼宇烈《中华文明史》

材料三 欧洲资本主义的产生和发展，为近代科学革命提供了重要社会条件。……牛顿是经典力学的集大成者，他总结和发展了开普勒的天体力学和伽利略的地上力学成就，提出了经典力学的一套基本概念，发现了物体运动三定律和万有引力定律。

——摘编自肖耀根《世界近代科学革命事件及其意义》

请回答：

(1) 根据材料一，指出我国古代科技体系的物点。(1分)

(2) 根据材料二，指出《天工开物》内容的创新之处。结合所学知识回答，外国学者是如何评价这一著作的？(2分)

(3) 根据材料三，概括指出牛顿能取得巨大科学成就的原因。(2分)

(4) 对于科学技术的发展，上述三则材料的认识有何共同之处？(1分)



五、简答题

25. 中华民族十分注重与其他文明、国家的交流互鉴，请回答：

(1) 丝绸之路是东西文明交流的大通道。从长安出发，向西最远到达什么地方？以下列图片所示文物为代表的相关考古发现，对探究古代丝绸之路的历史有何作用？(2分)



新疆出土的汉代丝袜



“丝绸之路”上出土的绣花粉袋

(2) 十月革命后“以俄为师”成为中国革命的潮流。在中国共产党人的建议下，国民党于1924年借鉴苏联红军的制度创办了新型军事学校，其简称叫什么？它在国民革命中发挥了什么作用？(2分)

(3) 抗日战争时期，重庆是中国的战时首都、世界反法西斯战争远东指挥中枢，成为中外交流的中心。请列举中共中央南方局为促进中外合作，共同抗击法西斯，在重庆可借助的主要国际力量。(2分)

26. 1900年以来的百年中国史，是中华民族从苦难深渊走向繁荣复兴的历史。请回答：

(1) 首都蒙遭劫难是国之耻。请写出1900年至20世纪上半期，外国侵略军先后攻占的我国首都的名称。(2分)

(2) 美国总统罗斯福说“假如没有中国，假如中国被打垮了，你想想有多少师团的日本兵，可以调到其他方面来作战，他们可以马上打下澳洲，打下印度……”这说明了什么？指出中国取得抗日战争伟大胜利的根本原因。(2分)

(3) 港澳回归祖国是中华民族百年历史的盛事。请分析促成港澳顺利回归的主要原因。(1分)

重庆市 2015 年初中毕业暨高中招生考试
历史试卷 (A 卷) 参考答案及评分意见

一、选择题：每小题 1 分，共 15 分。

题号	1	2	3	4	5	6	7	8	9	10	11	12	13	14	15
答案	D	B	A	B	A	D	C	D	B	C	D	C	B	A	C

二、判断题：每小题 1 分，共 5 分。

16.B 17.C 18.A 19.A 20.B

三、填空题：第 21 题 2 分，第 22 题 3 分，共 5 分。

21. (1) A：秦灭六国路线；B：秦灭六国顺序。(2 分)

(2) 由近及远(自西向东)；各个击破。(1 分。答出其中 1 点即可。其它符合题意的答案可同等得分，但总分不得超过 1 分。)

22. 上框 A，下框 B。(2 分)

四、材料分析题：第 23 题 7 分，第 24 题 6 分，共 13 分。

23. (1) 打击盐铁富商势力，加强中央集权；增加国家财政收入。(2 分)

(2) 苏联经济建设获得了巨大成功；1929 年经济危机爆发后，西方经济出现严重困难(衰退)(2 分)

(3) 由忽视商品经济、价值规律和市场的作用到承认市场作用、发展商品经济。(2 分)

(4) 根据具体形势，从实际出发；适时调整，不断改革创新。(1 分。答出其中 1 点即可，其它符合题意的、言之有理的答案可同等得分，但总分不得超过 1 分。)

24. (1) 以技术型、经济型、实用型为主。(1 分)

(2) 以更多篇幅记述手工业。(1 分) 中国 17 世纪的工艺百科全书。(1 分)

(3) 原因：欧洲资本主义的产生和发展提供了社会条件；牛顿总结和发展他人的研究成果。(2 分)

(4) 科学技术的发展受社会因素的影响。(1 分)

五、简答题：每小题 6 分，共 12 分。

25. (1) 地方：欧洲。(1 分) 作用：提供证据(史料)。(1 分)

(2) 简称：黄埔军校。(1 分) 作用：培养了大批军事政治人才。(1 分)

(3) 外国驻华使馆；国际组织和世界知名人士等。(2 分)

26. (1) 北京(京师)、南京。(2 分)

(2) 说明：中国为世界反法西斯战争作出了巨大贡献。(1 分)

原因：在以国共合作为基础的抗日民族统一战线的旗帜下，进行全民族抗战。(1 分)

(3) “一国两制”伟大构想的提出；改革开放使中国综合国力大大提高。(2 分，其它符合题意的答案同等得分，但总分不得超过 2 分。)