

德州市二〇一六年初中学业水平考试

历史试题

试卷说明：

- 1.本试卷共 6 页，其中选择题 15 分，非选择题 35 分，共 50 分。考试时间为 60 分钟。
- 2.答卷前务必将自己的姓名、考号、考试科目等考生信息涂写在答题卡上。考试结束后，本试卷和答题卡一并交回。
- 3.选择题选出答案后，都必须用 2B 铅笔把答题卡上对应题目的答案编号 (ABCD)涂黑，如需改动，必须先用橡皮擦干净，再改涂其它答案。
- 4.请将非选择题的答案按要求答在答题卡上的指定区域内，否则一律无效。

一、选择题（本大题共 15 小题，每小题 1 分，共 15 分。在每小题所列出的四个选项中，只有一项是符合题意的）

1.许多成语典故来源于历史，如退避三舍、卧薪尝胆、围魏救赵、纸上谈兵等。这些成语反映出春秋战国时期的哪一特点？

- A.奴隶制开始瓦解
- B.封建制度确立
- C.生产力飞速发展
- D.诸侯兼并争霸

2.东汉末年群雄并起，最终形成三国鼎立的格局。下列示意图符合公元 222 年三国局势的是



A



B

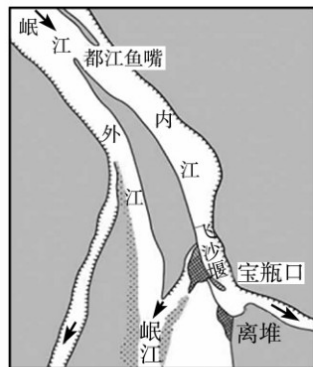


C



D

3.小明对下图所示的工程和农具进行了研究。以下认识和思考正确的是



都江堰示意图



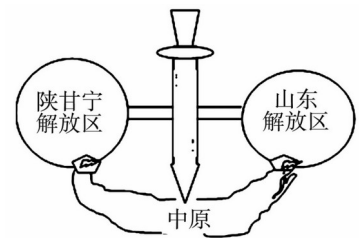
筒车

- A.都江堰在秦朝时修建，筒车是唐朝时发明
- B.都江堰是防洪灌溉工程，筒车是耕种工具
- C.它们反映了中国古代的“重农抑商”政策
- D.它们都促进了农业生产力的发展

4.发生在 17 世纪末，被英国学者赫德森评为“在中国政府与欧洲国家的首次战争中，获胜的是中国人”的战役是

- A. 山海关之战 B. 郑成功收复台湾 C. 雅克萨之战 D. 台州九捷
5. 李克强总理在参观严复故居时赞誉他“放眼世界又葆有纯正中国心”，严复译著的哪本书在当时影响最大？
- A. 《海国图志》 B. 《物种起源》 C. 《天演论》 D. 《四洲志》
6. 某革命历史题材影片中有这样一组镜头：叶挺率领的第四军独立团正在猛攻武昌城。该影片再现的是
- A. 北伐战争 B. 平型关大捷 C. 台儿庄战役 D. 淮海战役
7. 在纪念毛泽东同志诞辰 120 周年座谈会上，习近平用“五个创造性地”，总结毛泽东在党的历史上所作的重要贡献，强调毛泽东创造性地解决了中国革命道路问题。这里的“创造性的革命道路”是指
- A. 城市领导农村的革命道路 B. 建设有中国特色的社会主义道路
C. 农村包围城市的革命道路 D. 武装夺取政权的革命道路

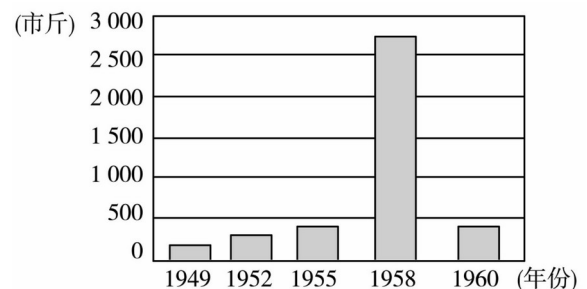
8. 右图描述了解放战争期间某一阶段的战略态势，图中的“尖刀”表示的是



- A. 转战陕北 B. 挺进大别山
C. 辽沈战役 D. 渡江战役
9. 2016 年是“十三五”规划开局之年。某中学准备举办一场“一五计划”成果图片展，下列哪一图片不适合采用



- A. 武汉长江大桥 B. 第一架喷气式飞机 C. 青藏铁路 D. 第一辆解放牌汽车
10. 阅读右侧“某地水稻产量数据柱状图（单位：斤/亩）”。导致 1958 年数据的主要原因是



- A. 土地改革使农民成为土地的主人
B. 农业社会主义改造调动了农民的生产积极性
C. 大跃进运动中“浮夸风”盛行
D. 党和政府全面调整国民经济，恢复发展生产
11. 下列关于西藏的史实，说法正确的一项是
- A. 唐玄宗在位时文成公主远嫁吐蕃
B. 清朝时设立伊犁将军加强管辖西藏地区
C. 1950 年西藏获得和平解放
D. 20 世纪 60 年代西藏完成民主改革，进入社会主义阶段
12. 孟德斯鸠认为，立法权、行政权与司法权必须分置，否则自由便不复存在。在资产阶级创立新体制的过程中，最早贯彻这一思想的国家是
- A. 英国 B. 美国 C. 法国 D. 日本
13. 习近平在天津考察时曾指出：“民生没有终点，只有新起点。”19 世纪 60 年代，俄国亚历山大二世改革和日本明治维新共同关注的民生问题是
- A. 大力发展教育事业 B. 努力发展近代工业
C. 引进西方先进技术 D. 解决农民土地问题
14. 对右图反映的著名战役，表述正确的一项是

- A.该战役发生于 1943 年
- B.它是第二次世界大战的转折点
- C.它开辟了欧洲第二战场
- D.它直接导致了日本法西斯的灭亡

15.下面两幅漫画均反映了二战后的欧洲局势。下列解读最准确的是



诺曼底登陆



- A.图 1 宣传了马歇尔计划对两欧国家的重要性
- B.图 1 揭露了美国企图利用经济手段控制两欧
- C.图 2 中斯大林的“阻止”导致了欧洲联盟的建立
- D.图 2 中斯大林的“阻止”使美苏由冷战走向军事冲突

二、非选择题 (本大题共 4 小题，16 题 9 分，17 题 8 分，18 题 9 分，19 题 9 分，共 35 分)

16.(9 分)几千年来中华民族在长期的共同生活 and 实践中形成了独有的民族精神，成为本民族生存、发展、繁荣的灵魂支柱和精神动力。阅读下列材料，回答问题：

【共同的祖先】

材料一 中华开国五千年，神州轩辕自古传。

——孙中山

(1)材料中的“轩辕”是谁？他在中华民族的发展史上有何历史地位？（2 分）

【我们的信仰】

材料二 如右图

(2)图 1 人物对中国文化发展最突出的贡献是什么？

图 2 人物以什么学说完成了思想上的大一统？（2 分）



图1



图2

【人民的智慧】

材料三 这是预兆资产阶级社会到来的三项伟大发明，火药把骑士阶层炸得粉碎，A 打开了世界市场并建立了殖民地，而 B 则变成新教的工具，变成科学复兴的手段，变成推动精神发展创造的必要前提和最强大的杠杆。

——马克思《机器、自然力和科学的应用》

(3)材料中的 A 是指哪一科技发明？宋代时改进 B 项发明的历史人物是谁？中国的三大发明传入欧洲后，对欧洲历史发展最重要的影响是什么？（4 分）

【民族的精神】

材料四 1895 年中国有三个人各自作出自己一生最重要的选择：康有为选择了变法，孙中山选择了革命，张謇选择了实业，而其终极目标……可以称之为殊途同归。

——历史学家章开元

(4)综合以上四则材料，说说中华民族具有怎样的民族精神？（1分）

17. (8分)海洋对人类文明的发展进步有着巨大的影响，人类社会的历史进程一直与海洋息息相关。

阅读材料，探究下列问题：

【经略海洋——中国篇】

材料一 十一至十三世纪，印度洋已成了大宋商船的天下。……宋朝从海上贸易中抽税近二百万贯，以百分之十的税率计算，可以推算出，宋代每年的进出口总额约为二千万贯。……一位宋朝诗人写过一首描述泉州港贸易的诗：“苍官影里三洲路，涨海声中万国商！”

——吴钧《宋代：中国的大航海时代》

(1)由材料一及所学知识,写出宋朝管理海外贸易的机构的名称。促使宋朝“大航海时代”来临的技术原因是什么？（2分）


材料二 御外之道，莫切于海防；海防之要，莫重于水师。

——1874年《江苏巡抚吴元炳奏议》

(2)早在1684年，康熙帝为巩固东南海防采取了什么措施？与材料二吴元炳“重于水师”的奏议相对应，洋务派是如何做的？（2分）

【角逐海洋——世界篇】

材料三

 <p>公元前2世纪末罗马疆域图</p>	<p>17世纪以后,英国走上了殖民争夺的道路。它相继打败竞争对手西班牙、荷兰和法国。到18世纪后半期,英国已经成为世界上最强大的殖民国家……号称“日不落帝国”。</p> <p>——人教版《世界历史》九年级上册</p>
--	--

(3)写出促使罗马称霸地中海的关键战役的名称。从政治、经济两个角度分析，推动英国成为“日不落帝”的两大因素是什么？（3分）

【和谐海洋启示篇】

材料四 海纳百川是中国文化传统的精华之一，体现了包容并蓄的美德，……构建“和谐海洋”，保护海洋生态环境，坚持和平走向海洋、建设“强而不霸”的新型海洋强国，已成为中华民族走向海洋文明进而实现伟大复兴的重要步骤。

——人民网

(4)综合以上探究，请你就如何构建和谐海洋提一条建议。（1分）

18.(9分)城市发展见证社会变迁，南京和北京作为两大古都，恰如中国城市的“双子星座”，南北相望，遥相呼应，成为中国近现代历史发展的缩影。阅读下列材料，回答问题：

【屈辱沧桑篇】

材料一

<p>南京是中国近代史的起点,也是中国近代史的终点。</p>  <p>《南京条约》签订</p>	<p>圆明两度昆明劫, 鹤化千年未忍归。 一曲悲笳吹不尽, 残灰犹共晚烟飞。</p> <p>——李大钊</p>
--	---

(1)据材料一,请用史实说明“南京是中国近代史的起点”。李大钊诗中说“圆明两度昆明劫”,其第二次“昆明劫”是指哪一历史事件?(3分)

【革命风潮篇】

材料二

 <p>1912年南京参议院成立</p>	<p>中国新民主主义革命的历史,就是从天安门到天安门。</p> <p>——周恩来</p>
--	--

(2)材料二图片反映的历史事件对中国社会的发展进步有何重大贡献?为周恩来所说的第二个“天安门”作了充分准备的重要会议是什么?(3分)

【走向世界篇】

材料三 也许,我们应该把1989年看成是20世纪的结束,而将1978年看作是21世纪开始的标志。1989年首先是属于欧洲的而1978年纯粹是中国时刻。

——英国专栏作家马丁·雅克

材料四 如果说此前中国一直在隧道中探索,1992年应该说人们终于看到了隧道口的光亮。

——经济学家华而诚

(3)由材料三及所学知识,从中国走向世界的视角来分析,为何把中国的1978年视为21世纪开始的标志?(2分)

(4)由材料四及所学知识,从思想领域来看,这里的“光亮”主要是指什么?(1分)

19. (9分)人类社会发展的历史归根到底是生产力发展的历史,探寻经济规律,推动经济繁荣是世界各国的共同课题。阅读下列材料,回答问题:

【科技引领】

材料一 科技革命改变了人类和世界,现代化带动了整体世界的形成和发展。第一次工业革命是工业化的起点,……在第三次科技革命的推动下,世界各国的相互联系和依赖日益紧密,全球化日益成为人们关注的焦点。

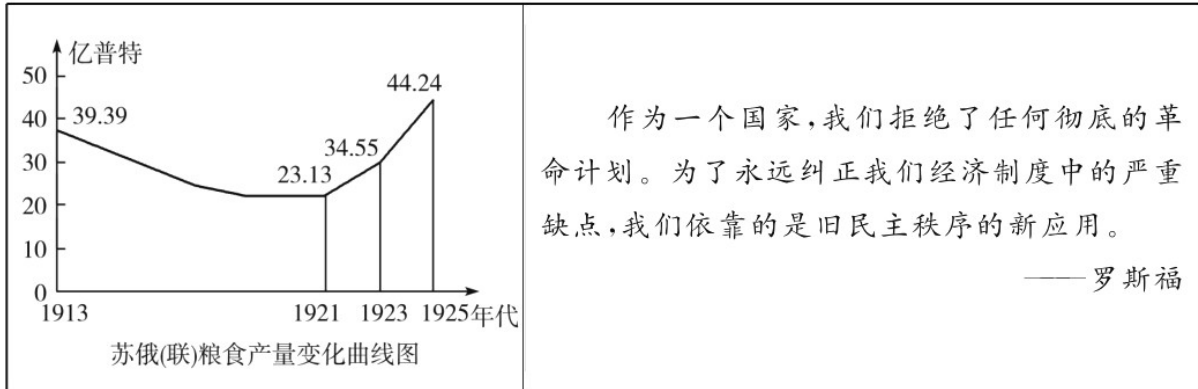
材料二 如右图

- (1)材料一所说的工业化的“起点”开始于哪一生产部门？材料二这一发明的改进和广泛使用，对人类生活有何积极影响？（2分）
- (2)第三次科技革命的核心是什么？原子能的发展利用是第三次科技革命重要表现之一，哪一科学理论的创立打开了原子时代的大门？（2分）



【体制创新】

材料三



- (3)由材料三及所学知识，1921--1925年苏俄（联）粮食产量发生变化的原因是什么？你如何理解罗斯福所说的“旧民主秩序的新应用”？（3分）

【合作共赢】

材料四 如下图



图1



图2

- (4)图1组织的成立对当今世界格局有何影响？图2组织的成立是世界经济全球化发展的重要表现，它的宗旨是什么？（2分）

德州市二〇一六年初中学业水平考试

历史试题参考答案及评分标准

一、单项选择题 (本大题共 15 小题, 每小题 1 分, 共 15 分)

1.D 2.B 3.D 4.C 5.C 6.A 7.C 8.B 9.C 10.C1 1.D 12.B 13.D 14.C 15.A

二、非选择题 (本大题共 4 小题, 16 题 9 分, 17 题 8 分, 18 题 9 分, 19 题 9 分, 共 35 分)

16.(9 分) (1)黄帝。(1 分)他被尊称为“人文初祖”或“华夏之祖”。(1 分)

(2)贡献:统一了文字。(1 分)儒家学说。(1 分)

(3)指南针或罗盘针。(1 分)人物:毕升。(1 分)影响:促进了新航路的开辟,加速了欧洲封建制度的解体,推动了欧洲资本主义的发展。(2 分)

(4)中华民族具有勤劳智慧、自强不息、开拓创新的进取精神;中华民族具有热爱和平、坚强不屈、不畏强暴、勇于抗争的反侵略精神;中国人民敢于担当历史重任,具有以民族兴亡为己任的探索与奋斗精神等。(1 分,意思相近即可)

17.(8 分) (1)市舶司。(1 分)造船业的发展;指南针的应用;航海技术的提高。(任写其一即可得 1 分)

(2)设置台湾府。(1 分)先后筹建了南洋、北洋和福建三支海军。(1 分)

(3)布匿战争。(1 分)政治:通过资产阶级革命确立了资本主义制度。(1 分)经济:率先完成了工业革命。(1 分)

(4)本题为开放性问题,言之有理即可得 1 分。

18.(9 分) (1)鸦片战争和《南京条约》的签订,使中国开始从封建社会逐步沦为半殖民地半封建社会。(2 分)事件:1900 年八国联军侵入北京(或八国联军侵华战争)。(1 分,不写时间不扣分)

(2)贡献:它结束了我国两千多年的封建帝制,使民主共和观念深入人心。(2 分)第一届中国人民政治协商会议。(1 分)

(3)1978 年十一届三中全会确立了实行改革开放的伟大战略决策,中国开始融入世界,并逐步成为拉动世界经济增长和推动全球化进程的重要力量。(2 分)

(4)邓小平南巡讲话进一步解放了人们的思想。(1 分)

19.(9 分) (1)棉纺织业部门。(1 分)影响:增强了人们的生产能力,改变了人们的生活方式,扩大了人们的活动范围,加强了人与人之间的交流。(1 分)

(2)核心:电子计算机的广泛使用。(1 分)相对论的创立。(1 分)

(3)原因:新经济政策的实施。(1 分)理解:在资本主义制度内部进行调整,加强国家对经济的干预和指导。(2 分)

(4)影响:推动了世界格局的多极化。(1 分)宗旨:通过开放市场和公平贸易,实现世界贸易的自由化,促进世界经济的发展。(1 分)