

山东省德州市 2018 年中考历史真题试题

试卷说明：

- 1.本试卷共 8 页，其中选择题 50 分，非选择题 50 分，共 100 分。考试时间为 70 分钟。
- 2.答卷前务必将自己的县(市、区)、学校、姓名、考号等考生信息填写在答题卡上。考试结束后，本试卷和答题卡一并交回。
- 3.选择题选出答案后，都必须用 2B 铅笔把答题卡上对应题目的答案编号 (ABCD)涂黑，如需改动，必须先用橡皮擦干净，再改涂其它答案。
- 4.请将非选择题的答案按要求答在答题卡上的指定区域内，否则一律无效。

一、选择题(本大题共 25 小题，每小题 2 分，共 50 分。在每小题所列出的四个选项中，只有一项符合题意)

1.“中华开国五千年，神州轩辕自古传。创造指南车，平定蚩尤乱……”这是孙中山对“人文初祖”黄帝的评价。与“平定蚩尤乱”有关的战役是

- A.牧野之战 B.涿鹿之战 C.城濮之战 D.巨鹿之战

2.2017 年 5 月，习近平在“一带一路”国际合作高峰论坛欢迎宴会上说：“2000 多年前，我们的先辈们……开辟了古丝绸之路.开启了人类文明史上的大交流时代。”促进丝绸之路开辟的历史人物是

- A.蒙恬 B.张骞 C.玄奘 D.郑和

3.右图反映了南北朝时期的一次著名改革，这次改革

- A.使秦国确立了封建制度
B.为三国鼎立奠定了基础
C.促进了北方民族大融合
D.推动了江南地区的开发



4.假如你穿越时空来到北宋，下列情景有可能遇到的是

- A.占城稻在黄河流域广泛种植
B.辛弃疾的词作传唱大江南北
C.人们可以在瓦子中观看京剧
D.四川地区已开始使用“交子”

5.“夫外之郡县，其朝廷远者，则镇之以行中书省。”这反映出元朝为有效统治全国而创立了

- A.分封制 B.郡县制 C.行省制 D.内阁制

6.“万众一心兮，群山可撼；惟忠与义兮，气冲斗牛……上报天子兮，下救黔首；杀尽倭奴兮，觅个封侯!”这首豪迈雄壮的《凯歌》的作者应是

- A.岳飞 B.郑成功 C.戚继光 D.康熙帝

7.历代中央王朝都十分重视对边疆地区的开拓与管理。为加强对西北地区的管辖，清政府设置的管理机构是

- A.伊犁将军 B.台湾府 C.西域都护 D.市舶司

8.“对于中国人来说，这场战争是一块界碑。它铭刻着中世纪古老的社会在炮口逼迫下赶往近代的最初的一步。”“这场战争”是指

- A.鸦片战争 B.第二次鸦片战争 C.甲午中日战争 D.八国联军侵华战争

9.历史学家章开沅说：“1895年中国有三个人各自作出自己一生最重要的选择；康有为选择了变法，孙中山选择了革命，张謇选择了实业。”与张謇选择实业有关的是

- A.创办湖北织布局 B.创办大生纱厂 C.创办轮船招商局 D.创办汉阳铁厂

10.某同学想通过看电影了解抗日战争的历史，下列影片按照事件发生的先后顺序来观看成，正确的是



- A.①②③④ B.②①④③ C.③①④② D.②①③④

11.A图是发表于1947年的一幅漫画。它反映的历史事件是

- A.转战陕北歼强敌
B.千里挺进大别山
C.关门打狗战辽沈
D.大军合力战平津



12.2017年12月24日，我国首款大型水陆两栖飞机“鲲龙”AG600在广东珠海成功首飞，这是我国工业领域的又一重大成果。我国一五计划期间取得的工业成就是

- A.大庆油田建成投产 B.第一架喷气式飞机试制成功
C.第一颗原子弹爆炸成功 D.“东方红1号”发射成功

13.民歌《土地还家》中唱道：“穷人翻身来当家，分了土地呀喜洋洋，土地还家呀生产忙；过去的生产被剥削，现在生产呀自己享……”这是在下列哪一文件颁布后实现的？

- A.《中国人民政治协商会议共同纲领》 B.《中华人民共和国宪法》
C.《中华人民共和国土地改革法》 D.《中华人民共和国民法通则》

14.右图是新中国成立60周年国庆阅兵时导弹部队在接受检阅。我国导弹



部队组建于 20 世纪

- A.50 年代
- B.60 年代
- C.70 年代
- D.80 年代

15.2018 年 6 月 9 日，上海合作组织元首理事会第十八次会议在青岛举行，这是上合组织扩员后举行的首次峰会，是我国新时期取得的又一外交成就。我国上世纪 50 年代取得的外交成就是

- A.恢复了在联合国的合法席位
- B.中日正式建交
- C.尼克松访华
- D.提出“求同存异”的方针

16.与右图(西欧封建等级制度示意图)中这一制度的形成相关的改革是

- A.伯利克里改革
- B.种姓制度改革
- C.查理·马特改革
- D.日本大化改新



17. 某同学想了解早期希腊的社会历史状况,下列可供他查阅的是

- A.《汉谟拉比法典》
- B.《荷马史诗》
- C.《马可·波罗行纪》
- D.《天方夜谭》

18.“光荣革命”以后的这套政治制度……由少数贵族掌管政权，他们通过

议会分享权力。这种制度能够保证工业革命的发生。“这种制度”的确立始于哪一文献的颁布？

- A.《权利法案》
- B.《1787 年宪法》
- C.《人权宣言》
- D.《拿破仑法典》

19.下图为国际社会主义运动整体发展趋势示意图，其中②处对应的历史事件是



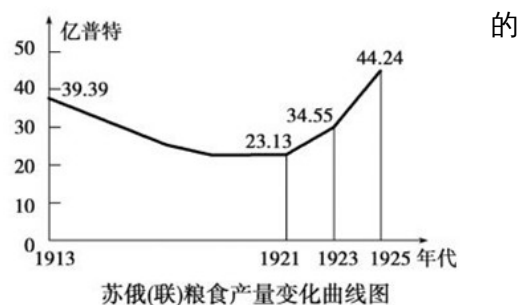
- A.英国宪章运动
- B.《共产党宣言》发表
- C.法国巴黎公社
- D.俄国十月革命

20.某历史学家认为“19 世纪 80 年代，世界交通领域里的一场革命源于一种新动力的发明”。这种“新动力的发明”应是

- A.蒸汽机
- B.内燃机
- C.发电机
- D.飞机

21.观察右图，其中 1921—1925 年粮食产量迅速增长的主要原因是

- A.农奴制改革的进行
- B.一五计划超额完成
- C.斯大林模式的形成
- D.新经济政策的实施



22.有人说,他(美国总统)在某种意义上挽救了市场经济,开创了市场经济的新模式,使市场的作用和政府的作用同时得以发挥。这里的“他”应是

- A.华盛顿
- B.林肯
- C.罗斯福
- D.尼克松



23.右图中的历史事件标志着

- A.国际反法西斯联盟建立
- B.第二次世界大战的转折
- C.日本法西斯彻底覆灭
- D.欧洲第二战场的开辟诺曼底登陆


24.在亚非拉民族解放运动中,涌现出一大批英雄人物。下列人物与事件搭配正确的是

- A.玻利瓦尔——非洲独立革命
- B.尼赫鲁——印度独立
- C.纳赛尔——古巴革命
- D.卡斯特罗——巴拿马收回运河主权

25.二战后,美苏战时同盟关系发生了重大变化(如下图),其开始标志是



美苏军队易北河会师



美苏的“较量”:古巴导弹危机

- A.“铁幕”演说发表
- B.北约组织建立
- C.杜鲁门主义出台
- D.华约组织建立

二、非选择题(本大题共3小题,26题16分,27题17分,28题17分,共50分)

26.(16分)文化是国家和民族的灵魂;文化自信是一个国家、一个民族发展中更基本、更深沉、更持久的力量。阅读下列材料,回答问题:

【文字的起源】

材料一费正清在《中国传统与变迁》中说:中国之所以能成为世界上最伟大的国家之一,有一部分应该归功于他们的文字。”



(1)请写出右图中文字的名称。我国有文字可考的历史始于何时?(2分)

【思想的光辉】

材料二春秋战国时期，鲁国尚儒学……；齐地学术较为庞杂，阴阳五行学、道家之学、儒学都相当发达；楚地道学与词赋最具特色；三晋以法家与游说之士为盛……

——邹逸麟《中国历史地理概述》

(2)材料二反映了这一时期在思想学术领域出现了怎样的局面？哪家学说为秦朝建立专制主义的中央集权制度奠定了理论基础？（3分）

【教育的魅力】

材料三据统计，唐玄宗开元年间，科举出身的宰相，占到三分之二。科举制促进了教育事业的发展，士人用功读书的风气盛行。科举制也促进了文学艺术的发展……有利于唐诗的繁荣。

——人教版《中国历史》七年级下册


(3)请写出我国科举制正式诞生的标志及武则天完善科举制的措施。（4分）

【中医的传承】

材料四

中医药文化是中华民族传统文化的代表之一……2010年11月16日，联合国教科文组织将《中医针灸》和《京剧》列入“人类非物质文化遗产代表作名录”。

——摘自《中国中医药报》



图①

(4)由所学知识写出东汉时全面阐述中医理论的医学著作名称及图①的作者。（3分）

【文化的弘扬】

材料五



图②军旗升起的地方

社会主义先进文化……它植根于中华优秀传统文化、中国共产党革命文化，形成和发展于我们党团结带领全国各族人民进行革命、建设和改革的伟大实践，是一种……新文化范式。

——张春美《社会主义先进文化是当代中国新文化》

(5)图②所在城市是中国红色文化的发祥地之一，请写出与图②相关的历史事件及其意义。综合以上探究，

对如何弘扬民族文化、提升文化自信，说说你的建议。（4分）

27.(17分)道路自信源自于道路开辟、道路创新和道路自觉，关系着国家前途、民族命运和人民幸福，坚持道路自信是实现中华民族伟大复兴中国梦的必由之路。阅读下列材料，回答问题：

【探索之路】


材料一在近代文明的转型中，世界力图“改变中国”，……我们自己也在内部改变，……无论是李鸿章，还是康有为，无论是孙中山，还是毛泽东……都在尝试利用各种方法，内部改变着“清代中国”，不断催生着一个崭新的中国。

——裴钰《改变中国》

(1)请分别写出李鸿章、康有为、孙中山探索近代化道路的事件名称。（3分）

【革命之路】

材料二

<p>这是一声砸向旧世界的链头撞击，和着十月革命的惊天霹雳。从上海望志路到南湖的红船发力，锻造出一个民族驶向复兴彼岸的航迹。</p> <p>——《信念永恒》</p>	 <p>嘉兴南湖游船</p>
--	---

(2)“从上海望志路到南湖的红船”是指哪一事件？该事件确定党的中心任务是什么？(2分)

材料三我们党团结带领人民找到了一条正确革命道路,进行了28年浴血奋战,完成了新民主主义革命……,实现了中国从几千年封建专制政治向人民民主的伟大飞跃。

——中共十九大报告

(3)材料三中的“正确革命道路”是指什么道路？我国“新民主主义革命”开始和胜利的标志性事件分别是什么？(4分)

【建设之路】

图①农业生产合作图②手工业生产合作③公私合营

(4)图③事件中我党的一项创举是什么？以上事件的完成有何历史意义？(3分)

【创新之路】

材料四改革开放以来，中国共产党人把马克思主义基本原理同中国改革开放的具体实际结合起来…

…实现了中华民族从站起来到富起来的伟大飞跃。

——习近平在纪念马克思诞辰 200 周年大会上的讲话

材料五 1992 年（中共十四大）明确提出……这一伟大创举，使中国的改革开放和现代化建设进入了新的阶段这也是在中国共产党的领导下人类发展史上的一个创造性的成果。

——《打开中国奇迹的问号》解说词

(5)哪一事件标志着我国改革开放的开端？写出材料四中“把马克思主义基本原理同中国改革开放的具体实际结合起来”取得的重大理论成果名称。材料五的“伟大创举”是指什么？（5 分）

28.(17 分)人类只有一个地球，各国共处一个世界，穿越历史的风烟眺望未来，构建“人类命运共同体”已日益成为世界各国的发展共识。阅读下列材料，回答问题：

【欧洲发展篇】

材料一 1524 年，有位西班牙人这样说：“以前我们在世界的边缘，现在在它的中央了，这给我们的命运带来了前所未有的改变。”——《西方文明史》

材料二 1750—1914 年间，欧洲人成功地将自己的优势地位转变为世界性的霸权：19 世纪末，欧洲势力控制了大部分亚洲和几乎整个非洲地区三个历史进程——革命、工业化及帝国主义可以帮助我们理解欧洲人何以逐渐地控制了世界。

——《新全球史》

(1)材料一中西班牙人为何说“以前我们在世界的边缘，现在在它的中央了”？西班牙由此走上了什么道路？由材料二及所学知识，“欧洲人成功地将自己的优势地位转变为世界性的霸权”的政治、经济因素各是什么？（5 分）

【美日崛起篇】



1620 年英国“五月花”号
抵达北美



美国拍卖黑奴的广告




1853 年“黑船”事件

(2)由图片及所学知识，“五月花”号抵达北美 150 多年后，北美爆发了一场独立战争，请写出战争的转折点及其世界影响。（3 分）

(3)美国“黑奴”最早来源于欧洲殖民者的哪一罪恶活动？1862 年美国政府为解决“黑奴”问题颁布了什么文件？“黑船”事件引发了日本哪一社会变革？（3 分）

【合作共赢篇】

材料三

	<p>美国这样做的目的，是为了把西欧纳入其称霸全球的战略轨道，但客观上 却为西欧的经济联合开辟了道路。</p> <p>——王斯德主编《世界当代史》</p>
---	---

(4)材料三反映了二战后美国推行的什么经济政策？20世纪90年代初，欧洲人为加强联合成立了什么组织？该组织在世界经济中的地位如何？（3分）

材料四人类社会正处在大发展大变革大调整时期……让和平的薪火代代相传，让发展的动力源源不断，中国方案是:构建人类命运共同体，实现共赢共享。

——习近平《共同构建人类命运共同体》

(5)据所学知识指出材料四所说的“大变革大调整”反映了当今世界格局哪些发展趋势?“中国方案”体现了我国怎样的外交政策？（3分）

参考答案

一、单项选择题(本大题共 25 小题,每小题 2 分,共 50 分)

1.B2.B3.C4.D5.C6.C7.A8.A9.B10.D11.B12.B13.C14.B15.D

16.C17.B18.A19.C20.B21.D22.C23.D24.B25.C

二、非选择题(本大题共 3 小题,26 题 16 分,27 题 17 分,28 题 17 分,共 50 分)

26.(16 分) (1)甲骨文;商朝。(2 分)

(2)百家争鸣;(2 分)法家。(1 分)

(3)隋炀帝正式设置进士科。(2 分)武则天创设了殿试和武举。(2 分)

(4)《伤寒杂病论》;(2 分)李时珍。(1 分)

(5)南昌起义;(1 分)打响了武装反抗国民党反动统治的第一枪。(2 分)积极学习和弘扬优秀的民族传统文化;大力传承和发扬红色文化与革命精神;同其他优秀文化交流互鉴,不断创新,保持民族文化的先进性;等等。(符合题意、言之成理即可得 1 分)

27.(17 分) (1)洋务运动;戊戌变法(百日维新);辛亥革命。(3 分)

(2)中共一大召开(中国共产党成立)。(1 分)领导工人运动。(1 分)

(3)农村包围城市、武装夺取政权的革命道路。(2 分)五四运动;中华人民共和国的成立(新中国的成立)。(2 分)

(4)赎买政策。(1 分)实现了把生产资料私有制转变为社会主义公有制的任务;我国初步建立起社会主义的基本制度(我国从此进入社会主义初级阶段)。(任写一点得 2 分)

(5)中共十一届三中全会。(2 分)建设有中国特色社会主义理论(邓小平理论)。(1 分)提出建立社会主义市场经济体制。(2 分)

28.(17 分) (1)新航路开辟使欧洲主要商道和贸易中心由地中海区域转移到大西洋沿岸(新航路开辟使欧洲大西洋沿岸工商业经济繁荣起来)。(2 分,只写“新航路开辟”得 1 分)殖民扩张(殖民掠夺)的道路。

(1 分)资产阶级革命的爆发;(1 分)工业革命的进行。(1 分)

(2)萨拉托加战役;(1 分)对以后欧洲和拉丁美洲的革命起了推动作用。(2 分)

(3)三角贸易(或奴隶贸易、贩卖黑奴)。(1 分)《解放黑人奴隶宣言》。(1 分)明治维新。(1 分)

(4)援助西欧的马歇尔计划(欧洲复兴计划)。(1 分)欧洲联盟(欧盟)。(1 分)是世界上最大的经济体。(1 分)

(5)政治多极化、经济全球化。(2 分)独立自主的和平外交政策。(1 分)