

2019年广西柳州市中考历史试题

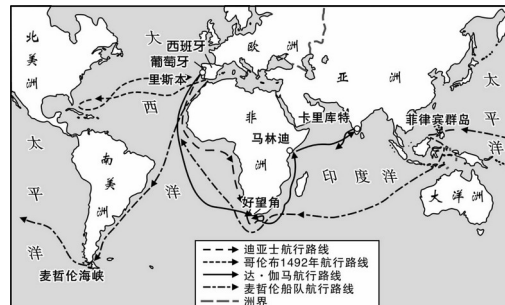
1. 明朝初年，经济繁荣，国力强盛。明成祖派郑和率领庞大的船队七下西洋，其主要目的是（ ）
- A. 驱除倭寇 B. 扩大政治影响 C. 寻找黄金 D. 传播中国文化
2. 中国近代史上，清政府被迫签订的第一个不平等条约，使中国开始沦为半殖民地半封建社会。该条约是（ ）
- A. 《南京条约》 B. 《马关条约》 C. 《辛丑条约》 D. 《九国公约》
3. 有学者认为，戊戌变法时期所传播的西方政治学说和自然科学知识，将统治了中国几千年的封建思想打开了一个缺口。这主要说明戊戌变法（ ）
- A. 维护了封建统治 B. 得不到群众支持
- C. 起到了思想启蒙作用 D. 传播了革命思想
4. 小华想利用假期去祭奠被日寇屠杀的30万遇难同胞，顺便参观中华民国临时政府的总统府，那么他应该去（ ）
- A. 北京 B. 上海 C. 武汉 D. 南京
5. 新文化运动时期，以陈独秀为首的先进知识分子针对当时中国社会存在的积弊，提出了“民主与科学”的口号。当时中国社会的积弊是（ ）
- A. 专制与愚昧 B. 封闭与自大 C. 落后与野蛮 D. 迷信与盲从
6. 2019年4月底，习近平在纪念某一运动100周年的大会上指出：这是一场以先进青年知识分子为先锋、广大人民群众参加的彻底反帝反封建的伟大爱国革命运动，是一场中国人民为拯救民族危亡、捍卫民族尊严、凝聚民族力量而掀起的伟大社会革命运动。这场运动是（ ）
- A. 洋务运动 B. 新文化运动 C. 五四运动 D. “一二·九”运动
7. “战士双脚走天下，四渡赤水出奇兵，乌江天险重飞渡……”歌曲描述的史实发生在（ ）
- A. 北伐战争期间 B. 红军长征期间 C. 抗日战争期间 D. 人民解放战争期间
8. 据资料统计：人民解放战争时期，山东解放区共有96万人参军，此外还有民兵71万人，承担过运输等任务的民工超过1000万人次。这说明人民解放战争取得胜利的可靠保证是（ ）
- A. 人民群众的支持 B. 解放军战略战术正确

C. 解放军作战英勇 D. 国民党军队士气低下

9. “紫荆花开正烂漫，香江潮涌起新航。”香港回归和繁荣发展，得益于（ ）

- A. 人民代表大会制度的建立 B. “求同存异”方针的实施
C. 和平共处五项原则的提出 D. “一国两制”方针的实行

10. 右图是新航路开辟示意图。从航行路线上看，证明了“地球是圆的”这一学说是正确的是（ ）



- A. 迪亚士船队
B. 麦哲伦船队
C. 哥伦布船队
D. 达·伽马船队

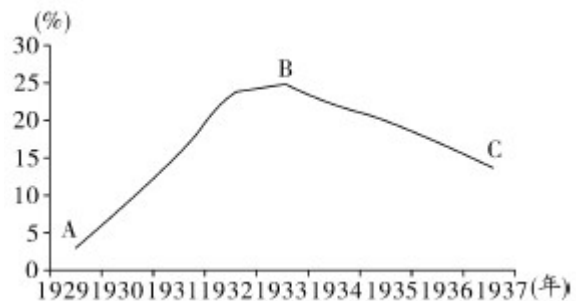
11. 法国大革命期间颁布的主张“人权和法治”的纲领性文件是（ ）

- A. 《民法典》 B. 《权利法案》 C. 《人权宣言》 D. 1787年联邦宪法

12. 19世纪中期，外国势力侵入日本，面对沦为殖民地的危机，日本将“危机”变为“机遇”，经过改革走上了现代化的发展道路。这场改革是（ ）

- A. 戊戌变法 B. 明治维新 C. 罗斯福新政 D. 农奴制改革

13. 右图反映了1929~1937年美国失业人数变化情况，促使B点到C点变化的直接有效措施是（ ）



- A. 推行“以工代赈”
B. 创立养老金制度
C. 颁布《紧急银行法令》
D. 颁布《农业调整法》

14. 20世纪发生的两次世界大战给人类带来了空前的浩劫，对人类社会产生重大影响。发动两次世界大战，均以失败告终的国家是（ ）

- A. 日本 B. 意大利 C. 奥匈帝国 D. 德国

15. 小强对某一时期的历史特别感兴趣，收集到以下三幅图片，他感兴趣的是（ ）



两大政治军事集团



柏林墙



古巴导弹危机

A. 凡尔赛—华盛顿体系 B. 全球规模的战争 C. 美苏“冷战” D. 美国的崛起

二、非选择题（共3分，16题10分，17题9分，18题11分，共30分）

16. 为纪念科学社会主义诞生171周年，小明所在的学习小组开展了探究学习，请你和她们一起完成下列任务。（10分）

主题	_____			
伟人像				
名字	①	恩格斯	②	③
主要贡献	1848年，起草并发表《 <u>④</u> 》，标志着马克思主义的诞生，给工人阶级提供了强大的思想武器。		1917年领导 <u>⑤</u> 取得胜利，建立了世界上第一个社会主义国家。	领导中国人民取得新民主主义革命胜利，1949年10月1日，成立 <u>⑥</u> 。

【初识伟人】

(1) 请写出①②③处对应的伟人名字。（3分）

【介绍贡献】

(2) 请将上表“主要贡献”一栏中的④⑤⑥处补充完整。（3分）

【提炼主题】

(3) 请根据上表内容提炼一个恰当的主题。（2分）

【分享经验】

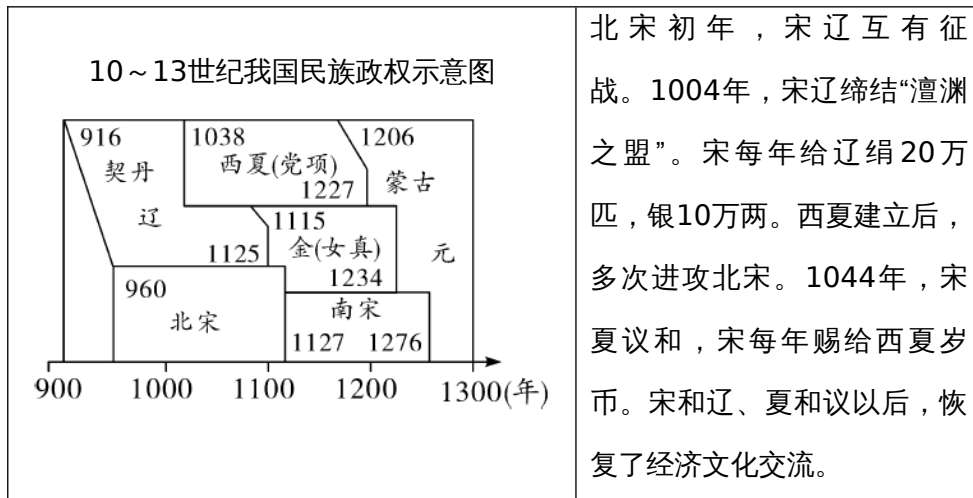
(4) 十一届三中全会以来，中国共产党人在社会主义现代化建设的道路上，取得了丰硕的成果，积累了丰富的经验。请介绍其中一条经验。（2分）

17. 我国是一个统一的多民族国家，民族问题关系到国家的稳定和社会的发展。古代的统治者在处理民族关系上为我们留下了许多经验。阅读下列材料，回答问题。（9分）

材料一 唐太宗宣称“自古皆贵中华，贱夷狄，朕独爱之如一。”吐蕃首领松赞干布仰慕中原文化，多次向唐请求通婚，于是唐太宗把文成公主嫁给了他。唐中宗时，应吐蕃首领尺带珠丹的请求，送金城公主入藏成亲，尺带珠丹高兴地上书唐朝皇帝说，吐蕃和唐朝已经“和同为一家”了。

(1) 材料一反映唐朝统治者实行了怎样的民族政策？（2分）

材料二



(2) 材料二反映宋朝民族关系有何特点？（2分）宋在与其他民族政权交往的过程中，屡屡处于被动挨打的地位，这与宋朝实行的什么国策有关？（1分）

材料三 清朝康熙、雍正、乾隆时期，为了加强对西藏、西北地区的管辖，先后采取了一系列措施：①册封达赖和班禅 ②建立金瓶掣签制度 ③设置驻藏大臣 ④设立乌里雅苏台将军 ⑤设立伊犁将军。

(3) 请从材料三中分别找出清朝管辖西藏和新疆地区的措施各一项。（填写序号，2分）

(4) 请你谈谈处理好民族关系的重要意义。（2分）

18. 科学技术推动经济和社会进步，有时也会给人类带来挑战。阅读下列材料，回答问题。（11分）

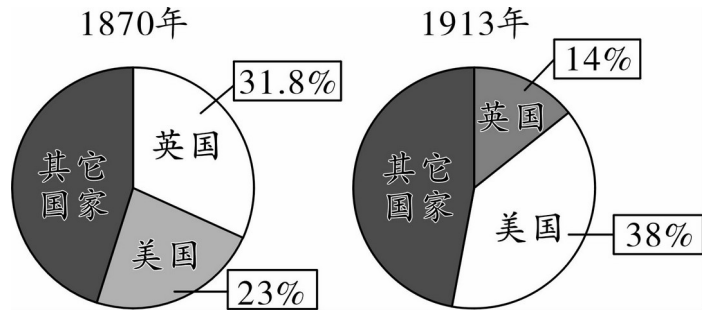
材料一 雕版印刷是我国古代长期使用的印刷技术。作为一名刻字工，毕焯在实践中发现了雕版印刷的缺陷，经过观察和反复实践，发明了一种新的印刷技术。这一发明对人类文明的传播和发展产生了重大影响。

材料二 爱迪生是美国一位伟大的发明家和企业家。为了解决漫漫黑夜给人类生活带来的困扰，他通过数千次的尝试，终于在1879年找到了一种新材料，成就了一项新的发明。随

后他与大资本家合作办厂，将该项发明投入生产。1881年他研制出当时容量最大的发电机。1882年，建成全球第一座大型发电厂。1883年他发现热电子发射现象，推动了电子工业的创立。

材料三

材料四



19世纪初的英国工厂 英、美等国在世界工业生产总产值中所占比重的变化示意图

- (1) 材料一、二中“一种新的印刷技术”和“一项新的发明”分别指的是什么？(2分) 从上述材料中，你认为要成为一名发明家应具备哪些优良品质？(2分)
- (2) 材料三反映了英国工业革命时期的什么现象？(1分) 出现这一现象的原因是什么？(1分)
- (3) 材料四中英美两国工业生产总产值占世界比重发生了怎样的变化？(2分) 根据材料二并结合所学知识，从科技的角度分析美国出现这一变化的原因。(1分)
- (4) 根据以上材料，请你就如何利用科学技术促进经济和社会发展提出两条建议。(2分)

参考答案

1. B 【分析】本题主要考查郑和下西洋的相关史实。掌握相关基础知识。
【解答】为了宣扬国威和到西洋“寻宝”，扩展朝贡贸易，加强同海外各国联系，1405-1433年，明成祖派郑和七次下西洋，经历亚非的30多个国家和地区，最远到达红海沿岸和非洲东海岸。明朝前期的郑和下西洋，加强了中国与亚非各国的友好往来和经济交流，推动华侨移居南洋，促进了南洋地区社会经济发展。明朝初年，经济繁荣，国力强盛。明成祖派郑和率领庞大的船队七下西洋，其主要目的是扩大政治影响。
2. A 【分析】本题考查鸦片战争和《南京条约》，掌握相关的基础知识。
【解答】1940年-1942年的鸦片战争，中国战败后签订了《南京条约》。《南京条约》是近代史上中国被迫签订的第一个不平等条约，使中国开始沦为半殖民地半封建社会。
3. C 【分析】本题以文字材料为背景，考查戊戌变法的相关知识。

【解答】由材料“有学者认为，戊戌变法时期所传播的西方政治学说和自然科学知识，将统治了中国几千年的封建思想打开了一个缺口”可知材料强调的是戊戌变法“将统治了中国几千年的封建思想打开了一个缺口”即戊戌变法起到了思想启蒙作用。

4 . D 【分析】本题以小情景为切入点，考查南京大屠杀的相关知识点。

【解答】1937年12月13日，日军占领南京后，在南京及附近地区，烧杀抢掠，无恶不作，进行了长达六周之久的血腥大屠杀--南京大屠杀，据统计遇害者达30万人以上，中华民国临时政府的总统府设在南京，D选项符合题意。

5 . A 【分析】本题主要考查新文化运动的相关史实。掌握相关基础知识。

【解答】1915年，陈独秀、李大钊、胡适和鲁迅等，以《新青年》为主要阵地，高举“民主”“科学”两面大旗，掀起新文化运动，向尊孔复古的封建逆流展开猛烈的进攻，从而在社会上掀起了一股生气勃勃的思想解放潮流。新文化运动时期，以陈独秀为首的先进知识分子针对当时中国社会存在的积弊，提出了“民主与科学”的口号。当时中国社会的积弊是专制与愚昧。

6 . C 【分析】本题以五四运动100周年为切入点，考查五四运动。

【解答】2019年是五四运动爆发一百周年。五四运动是一场以先进青年知识分子为先锋、广大人民群众参加的彻底反帝反封建的伟大爱国革命运动。因此运动指的是五四运动。

7 . B 【分析】本题以诗词为切入点，考查红军长征的相关知识点。

【解答】据“战士双脚走天下，四渡赤水出奇兵；乌江天险重飞渡”可知，这首歌曲讴歌了长征途中，中国工农红军历尽艰险、英勇作战，最终转危为安。

8 . A 【分析】本题考查解放战争胜利的相关知识点。

【解答】分析材料可知，体现了人民群众在战略决战中发挥了巨大的作用，表明解放战争取得胜利的主要原因是人民解放军英勇善战，人民群众的积极支援。A选项符合题意。

9 . D 【分析】本题主要考查“一国两制”方针。掌握相关基础知识。

【解答】在“一国两制”的指引下，香港、澳门于1997年7月1日和1999年12月20日顺利回归祖国，香港、澳门回归祖国是“一国两制”科学构想的成功实践，香港、澳门回归祖国，洗雪了中华民族的百年耻辱，极大地推进了祖国统一大业的进程，为解决台湾问题创造了有利条件。香港回归和繁荣发展，得益于“一国两制”方针的实行。

10 . B 【分析】本题考查新航路的开辟，掌握相关的基础知识。

【解答】据题干并结合所学知识可知，1519-1522年麦哲伦率领的船队从西班牙出发，经大西洋、南美洲东海岸、麦哲伦海峡、太平洋、菲律宾群岛、印度洋、好望角、大西洋

后，回到西班牙，完成了环球航行，证明了“地球是圆的”这一学说的正确性。

11 . C 【分析】本题主要考查《人权宣言》的相关史实。掌握相关基础知识。

【解答】1789年，法国制宪会议颁布《人权宣言》，宣称人们生来自由，权利平等，法律是公共意志的表现，私有财产神圣不可侵犯。《人权宣言》是法国资产阶级革命的纲领性文件，体现了要求摧毁封建君主专制和等级制度的进步思想，因此，它有“旧制度的死亡证书，新制度的出生证”之称。法国大革命期间颁布的主张“人权和法治”的纲领性文件是《人权宣言》。

12 . B 【分析】本题考查了日本明治维新。

【解答】19世纪中期，外国势力侵入日本，面对沦为殖民地的危机，1868年明治政府实行了一系列资产阶级性质的改革，主要内容有：政治方面，“废藩置县”，加强中央集权；经济方面，允许土地买卖，引进西方技术，鼓励发展近代工业；社会生活方面，提倡文明开化，即向欧美学习，努力发展教育。明治维新使日本从一个闭关锁国的封建国家，逐步转变为资本主义国家，摆脱了沦为半殖民地国家的命运，是日本历史的重大转折点。但日本强大起来以后，很快走上了对外侵略扩张的军国主义道路。

13 . A 【分析】本题以题干图片为依托，考查罗斯福新政。注意掌握相关基础知识。

【解答】图反映了1929~1937年美国失业人数变化情况，促使B点到C点变化的直接有效措施是推行“以工代赈”。1929年-1933年的经济危机冲击了美国的资本主义制度。罗斯福就任美国总统后实行了新政，为了解决就业问题，使大量失业者和穷人有工作可做，兴办公共工程，以工代赈，兴办公共工程吸引大量失业者，增加了就业机会，这些工程包括许多巨型堤坝和水库如田纳西水利工程，公共工程兴建，在客观上刺激了消费需求，扩大了内需，起到了一举多得的作用。

14 . D 【分析】本题考查一战、二战的知识点。注意掌握相关基础知识。

【解答】20世纪发生的两次世界大战给人类带来了空前的浩劫，对人类社会产生重大影响。发动两次世界大战，均以失败告终的国家是德国。1945年5月2日，苏军攻克柏林，5月8日，德国正式签署投降书，第二次世界大战的欧洲战争结束，1945年8月15日，走投无路的日本法西斯宣布无条件投降，9月2日，日本政府正式签署无条件投降书，第二次世界大战以世界人民反法西斯战争的胜利而告终。1918年11月，德国投降，双方签订停战协定，标志着历史四年多的第一次世界大战以同盟国失败告终。历时4年零3个月。D符合题意。

15 . C 【分析】本题以三幅历史图片为切入点，考查冷战的相关知识。

【解答】由材料中的图片北约和华约两大政治军事集团的建立、柏林墙的建立和古巴导弹危机都是美苏冷战的具体表现，只有 C 项符合题意。

16. 【分析】本题以“为纪念科学社会主义诞生 171 周年，小明所在的学习小组开展了探究学习，请你和他们一起完成下列任务。”为切入点，考查了《共产党宣言》的发表、列宁与十月革命、毛泽东与新中国的成立相关知识，掌握相关基础知识。

【解答】（1）根据材料结合所学知识可知，①②③处对应的伟人名字为①马克思；②列宁；③毛泽东。

（2）根据所学知识可知，上表“主要贡献”一栏中的④ 1848 年，起草并发表《④共产党宣言》，标志着马克思主义的诞生，给工人阶级提供了强大的思想武器。⑤ 1917 年领导 ⑤ 十月革命取得胜利，建立了世界上第一个社会主义国家；⑥领导中国人民取得新民主主义革命胜利，1949 年 10 月 1 日，成立 ⑥中华人民共和国。

（3）根据上表内容提炼一个恰当的主题，结合所学知识可知，恰当的主题为社会主义运动的发展。

（4）十一届三中全会以来，中国共产党人在社会主义现代化建设的道路上，取得了丰硕的成果，积累了丰富的经验。请介绍其中一条经验。言之成理即可。如：改革要符合国情实事求是，坚持解放思想，与时俱进。

【答案】（1）①马克思；②列宁；③毛泽东。

（2）④共产党宣言；⑤十月革命；⑥中华人民共和国。

（3）社会主义运动的发展。

（4）改革要符合国情，实事求是，坚持解放思想，与时俱进。

17. 【分析】本题以“我国是一个统一的多民族国家，民族问题关系到国家的稳定和社会的发展。古代的统治者在处理民族关系上为我们留下了许多经验。”为切入点，考查了唐朝的民族关系、宋朝的民族关系、清朝的民族关系、以及处理好民族关系的意义等史实，掌握相关基础知识。

【解答】（1）根据材料“唐太宗宣称“自古皆贵中华，贱夷狄，朕独爱之如一。”吐蕃首领松赞干布仰慕中原文化，多次向唐请求通婚，于是唐太宗把文成公主嫁给了他。唐中宗时应吐蕃首领尺带珠丹的请求，送金城公主入藏成亲，尺带珠丹高兴地上书唐朝皇帝说，吐蕃和唐朝已经“和同一家”了”结合所学知识可知，材料一反映唐朝统治者实行了开明的民族政策。

（2）根据材料结合所学知识可知，材料二反映宋朝民族关系的特点是战和并存，以和为

主。宋在与其他民族政权交往的过程中，屡屡处于被动挨打的地位，这与宋朝实行的重文轻武国策有关。

(3) 根据材料“清朝康熙、雍正、乾隆时期，为了加强对西藏、西北地区的管辖，先后采取了一系列措施：①册封达赖和班禅 ②建立金瓶掣签制度 ③设置驻藏大臣 ④设立乌里雅苏台将军 ⑤设立伊犁将军”结合所学知识可知，从材料三中分别找出清朝管辖西藏和新疆地区的措施是管辖西藏：①②③；管辖新疆：⑤。

(4) 谈谈处理好民族关系的重要意义。属于开放性试题，言之成理即可。如：处理好民族关系有利于统一多民族的发展。有利于国家稳定等。

【答案】(1) 开放的民族政策。

(2) 战和并存，以和为主。重文轻武。

(3) 管辖西藏：①②③；管辖新疆：⑤

(4) 有利于统一多民族的发展。有利于国家稳定。

18. 【分析】本题主要考查活字印刷术、爱迪生发明碳丝灯泡、第一次工业革命、第二次工业革命的相关史实。掌握相关基础知识。

【解答】(1) 据材料一“作为一名刻字工，毕昇在实践中发现了雕版印刷的缺陷，经过观察和反复实践，发明了一种新的印刷技术。这一发明对人类文明的传播和发展产生了重大影响。”及所学知识可知，材料一中“一种新的印刷技术”是指毕昇发明的活字印刷术。据材料二“爱迪生是美国一位伟大的发明家和企业家。为了解决漫漫黑夜给人类生活带来的困扰，他通过数千次的尝试，终于在1879年找到了一种新材料，成就了一项新的发明。随后他与大资本家合作办厂，将该项发明投入生产。”及所学知识可知，材料二中“一项新的发明”指的是爱迪生发明的碳丝灯泡。从上述材料中可知，我认为要成为一名发明家，应具备坚韧不拔的毅力，勇于创新等优良品质。

(2) 据材料三可知，材料三反映了英国工业革命时期的环境污染现象。据所学知识可知，出现这一现象的原因是改良蒸汽机的广泛使用，产生了大量废气，人们的环保意识薄弱。

(3) 据材料四“英美等国在世界工业总产值中所占比重的变化示意图”可知，英国由世界第一逐渐落后，美国逐渐成为世界经济的霸主。据材料二并结合所学知识可知，从科技的角度分析，美国出现这一变化的原因是第二次工业革命中，美国采用新技术，新设备，起点高，发展快，走在了前列。

(4) 本题是开放型题目，考查的是学生开放性思维的能力。只要符合题意，言之有理即可。如：科学技术是一把双刃剑，人类应该发挥科技的积极作用，为人类造福，同时，尽

量将科技的负面作用降到最低。

【答案】（1）活字印刷术。弹丝灯泡。坚韧不拔的毅力，勇于创新。

（2）环境污染。改良蒸汽机的广泛使用，产生大量废弃，环保意识薄弱。

（3）英国由世界第一逐渐落后，美国逐渐成为世界经济的霸主。第二次工业革命中，美国走在前列。

（4）科学技术是一把双刃剑，人类应该发挥科技的积极作用，为人类造福，同时尽量将科技的负面作用降到最低。

会员升级服务第一拨 · 清北季



神马，有清华北大学霸方法论课；还有清华学霸向所有的父母亲述自己求学之路；

衡水名校试卷悄悄的上线了；

扫qq领取官网不首发课程，很多人我没告诉他啊！

会员qq专享等你来撩.....