

2016年湖南省张家界市中考历史试卷

一、选择题

1. 我国是世界四大文明古国之一，中华文明源远流长。公元前 2070 年，禹建立的我国历史上第一个王朝是（ ）

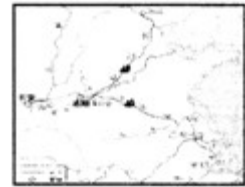
A. 夏朝 B. 商朝 C. 秦朝 D. 西汉

2. 我国古代的伟大工程是古代劳动人民智慧的结晶，蕴含着中华民族深厚的文化与精神底蕴。隋朝时开通的贯通南北、促进南北经济文化交流的重要工程是（ ）



A.

都江堰



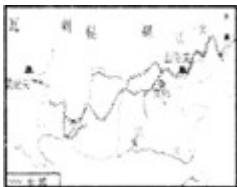
B.

大运河



C.

赵州桥



D.

明长城

3. 创新是一个民族进步的灵魂，是一个国家兴旺发达的不竭动力。我国古代之所以能创造出灿烂的中华文明，与不断的制度创新分不开。下列制度创立于元朝的是（ ）

A. 王位世袭制 B. 郡县制 C. 科举制 D. 行省制

4. 统一是我国历史发展不可阻挡的时代潮流。下列关于港、澳、台回归祖国的史实排序正确的是（ ）


① 郑成功收复台湾 ② 澳门回归 ③ 香港回归 ④ 抗战胜利，台湾回到祖国怀抱。

A. ①②③④ B. ①④③② C. ④②①③ D. ④①②③

5. 《天朝的崩溃》一书中写道：“这场战争把中国拖入世界。从此开始，中国遭受了列强的百般蹂躏；从此开始，中国人经受了寻找新出路的百般苦难。”文中的“这场战争”指的是（ ）

A. 甲午战争 B. 鸦片战争 C. 八国联军侵华战争 D. 第二次鸦片战争

6. 图示法是我们学习历史常用的一种方法，通过绘制一些简单的图示，可以使我们对历史事件在时间和空间上的联系与发展有更直观的了解。对下列图示解读最为准确的是（ ）



A. 中国民族工业艰难曲折的发展历程 B. 中国走出半殖民地半封建社会的过程 C. 中国沦为半殖民地半封建社会的过程 D. 中国新民主主义革命的发展历程

7. 献身变法，临近时慷慨陈词“有心杀贼，无力回天，死得其所，快哉快哉！”的湖南维新志士是（ ）

A. 宋教仁 B. 黄兴 C. 蔡锷 D. 谭嗣同

8. 毛泽东的《七律·长征》是一篇气势磅礴的革命史诗，它生动形象地概括了红军长征的光辉战斗历程，热情洋溢地讴歌了中国工农红军不畏艰险、英勇顽强的革命英雄主义气概和乐观主义精神。下列所述属于红军长征胜利意义的是（ ）

A. 启迪人们追求民主与科学的思想大解放运动 B. 是中国新民主主义革命的开端 C. 粉碎了国民党反动派消灭红军的企图，使中国革命转危为安 D. 是中华民族由衰败到振兴的转折点

9. 下列四幅图片反映的是中华民族抗日战争中发生的重大历史事件，其中标志中国人民全国性抗日战争爆发的历史事件是（ ）



A.

卢沟桥事变



B.

西安事变



C.

台儿庄战役



D.

百团大战

10. 1992 年被联合国教科文组织列入《世界自然遗产名录》，从而成为世界自然遗产，不久又荣登世界地质公园宝座的我市风景名胜是（ ）

A. 武陵源风景区 B. 天门山国家森林公园 C. 八大公山自然保护区 D. 南岳风景区

11. 宗教是人类社会发展到一定历史阶段的一种文化现象，属于社会意识形态范畴。根据以下信息判断，它是哪一宗教（ ）

① 它的创立者是穆罕默德 ② 它的经典是《古兰经》 ③ 它对阿拉伯半岛的统一起了促进作用 ④ 它是我国今天回族、维吾尔族、哈萨克族等少数民族的共同信仰。

A. 佛教 B. 道教 C. 基督教 D. 伊斯兰教

12. QQ 与微信成为当今世界重要的信息传递与交流的平台主要得益于（ ）

A. 蒸汽时代的到来 B. 电气时代的到来 C. 网络技术的发展 D. 报刊事业的发展

二、非选择题

13. 梦想是最令人心动的旋律，又是最催人奋进的动力。再没有什么使命，比引领一个民族走向复兴更光荣；再没有什么事业，比团结十几亿人民共圆梦想更崇高。行走在复兴之路上，中国的昨天，雄关漫道真如铁；中国的今天，人间正道是沧桑；中国的明天，直挂云帆济沧海。仔细阅读材料，探究以下问题。

【古代交往篇】

材料一 丝绸之路的路线图



(1) 依据材料一并结合所学知识，写出图中字母代表的丝绸之路起止点的名称。

A: _____ (城市) ; B: _____ (地区或国家) . 西汉时期，为丝绸之路的开通作出突出贡献的人物是谁？

材料二 郑和七次下西洋，海上丝绸之路盛极一时。他每到一地，都以中国的丝绸和瓷器馈赠当地的国王或换取当地的特产，与当地居民公平交易，互通有无。不占别国一寸土地，为掠夺他人一分财富。

(2) 结合材料二和所学知识，说说明朝时期郑和下西洋所产生的积极影响是什么？

【近代探索篇】

材料三 在中国近代化探索的历程中，国人相继走过了自救之路、维新之路、共和之路。但都没有完成反帝反封建的历史使命，探索之路任重道远。

(3) 材料三中的“自救之路”、“共和之路”分别指什么重要历史事件？

材料四 十月革命一声炮响为中国送来马列主义，1921 年 7 月中国共产党第一次全国代表大会召开……在毛泽东等共产党人领导下，经过 28 年艰苦卓绝的奋斗，让中国人民站起来了。

(4) 以毛泽东为核心的中国共产党人把马列主义同中国革命实践相结合，成功地探索出一条怎样的革命道路？结果如何？

【现代复兴篇】

材料五 1956 年，我国基本建立了社会主义制度。之后，经过艰辛求索，中国共产党带领

人民实现了历史性的伟大转折，开创了一条走向民富国强的道路，谱写了中华民族发展史上最壮丽的篇章。

(5) 材料五中所述“历史性的伟大转折”是指哪次会议的召开？这次会议上做出了怎样的伟大决策？

(6) 历史感悟：站在历史与未来的交汇点，为了树立负责任大国形象，你认为中国应该怎样做？

14. 民主与法制建设是人类社会政治文明的重要组成部分，也是衡量社会发展程度的重要标尺。结合所学知识，回答下列问题：

(1) 世界上现存的古代第一部比较完备的成文法典是什么？

(2) 法制建设在欧美资本主义确立和发展过程中起了至关重要的作用，请列举近代英、法、美三国重要法律文献各一部。

(3) 新中国成立以后，特别是进入社会主义建设新时期以来，我国民主与法制建设取得了重大进展，制定和颁布了一系列法律，基本上形成了以什么法律为核心的中国特色社会主义法律体系，从而使我国逐步迈上了什么道路？

(4) 综上所述，并结合所学知识，谈谈你对民主与法制建设的看法。

15. 成为世界性大国的道路布满艰辛。大型电视纪录片《大国崛起》解读了 15 世纪以来世界大国崛起的历史。请阅读下列相关材料，回答问题。

材料一 18 世纪中期到 19 世纪中期，蒸汽机引起了欧洲生产的革命……英国引领了这一历史发展的潮流，取得了技冠群雄、傲视全球的辉煌成果。

材料二 法令规定，农奴在法律上是“自由人”；地主再也不许买卖农奴和干涉他们的生活；农奴在“解放”时，可以得到一块份地，但他们必须出钱赎买。

材料三 1894 年，美国的工业总产值跃居各大国之首，成为世界第一经济强国。这一年，距离这个新国家的诞生仅仅 118 年，距离这片新大陆被发现也才 400 年。400 年来，它从欧洲汲取营养，发展自己；118 年来，它创造了自己的发展模式。

(1) 结合材料一和所学知识说出对英国崛起最具影响的两件大事。

(2) 材料二所反映的内容属于哪次改革？这次改革有什么重大意义？

(3) 根据材料三和所学知识，你认为促使美国成为“世界第一经济强国”的主要因素有哪些？

(4) 世界性大国崛起的历程，给我们留下了许多思考。结合上述材料和所学知识，谈谈我国可以从这些大国崛起中获得什么重要启示？

16. 近年来，亚太地区在整个国际体系中的地位 and 影响力不断上升，也吸引美国的战略重心逐渐向亚太地区转移，亚太地区的大国关系直接影响着该地区的稳定、发展，也影响着世界的和平、安全和发展。仔细阅读材料，探究以下问题。

材料一 阅读下列四幅图片：



图 1 华盛顿会议 图 2 日本偷袭珍珠港 图 3 乔冠华开怀大笑 图 4 尼克松总统访华

(1) 图 1 会议针对中国问题签署了哪一文件？图 2 事件的爆发在二战进程中有何重要影响？这两幅图片所示时事件有何内在联系？

(2) 图 3“乔冠华开怀大笑”反映的是什么重要历史事件？图 4 美国总统尼克松访华反映了中美关系发生了怎样的变化？导致这一变化最主要的原因是什么？

材料二 2015 年 11 月 18 日至 19 日，亚太经合组织第二十三次领导人非正式会议在菲律

宾马尼拉举行。本次 APEC 会议主题为“打造包容性经济，建设更美好世界”，具体议题包括区域经济一体化和可持续增长等。与会各国领导人一致表示要为亚太地区的和平、稳定、发展和共同繁荣作出努力。

(3) 上述材料反映的当今世界两大主题是什么？当前世界经济发展呈现出怎样的趋势？为实现“亚太地区的和平与稳定”，在该地区影响力最大的中、美两国应该怎样做？请你各提一条建议。

2016 年湖南省张家界市中考历史试卷

参考答案与试题解析

一、选择题 0

1. 我国是世界四大文明古国之一，中华文明源远流长。公元前 2070 年，禹建立的我国历史上第一个王朝是（ ）

A. 夏朝 B. 商朝 C. 秦朝 D. 西汉

【考点】夏朝的建立—中国历史上第一个奴隶制王朝的建立。

【分析】本题考查了禹建立夏朝。

【解答】约公元前 2070 年，禹建立我国历史上第一个王朝--夏朝，我国漫长的原始社会到此结束，奴隶社会开始了。

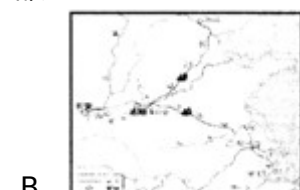
故选 A。

【点评】本题主要考查学生对基础知识的准确识记能力，需要准确识记禹建立夏朝。

2. 我国古代的伟大工程是古代劳动人民智慧的结晶，蕴含着中华民族深厚的文化与精神底蕴。隋朝时开通的贯通南北、促进南北经济文化交流的重要工程是（ ）



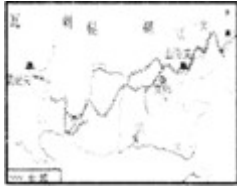
都江堰



大运河



赵州桥



D .

明长城

【考点】隋朝大运河 .

【分析】本题考查隋朝大运河的识记 .

【解答】依据题干“促进南北经济文化交流的重要工程”为了加强南北交通，巩固对全国的统治，隋炀帝征发几百万人从 605 年起开通了一条以洛阳为中心，北达涿郡，南至余杭，纵贯南北全长两千多公里的大运河，它的开通，大大促进了我国南北经济的交流 .

故选 B .

【点评】本题主要考查学生对基础知识的识记能力，需要准确识记隋朝运河的知识 .

3 . 创新是一个民族进步的灵魂，是一个国家兴旺发达的不竭动力。我国古代之所以能创造出灿烂的中华文明，与不断的制度创新分不开。下列制度创立于元朝的是（ ）

A . 王位世袭制 B . 郡县制 C . 科举制 D . 行省制

【考点】元巩固统一的措施 .

【分析】本题考查的是元朝行省制度的相关知识 .

【解答】由于元朝疆域广大，为了有效实行控制地方，除河北、山西、山东由中书省直接管理外，元统治者在地方设置行中书省，简称行省或者省，由中央委派官员管理 . 元朝的行省制度，对后世有着深远影响 .

故选 D .

【点评】本题主要考查学生运用历史知识进行判断的能力 .

4 . 统一是我国历史发展不可阻挡的时代潮流。下列关于港、澳、台回归祖国的史实排序正确的是（ ）

① 郑成功收复台湾 ② 澳门回归 ③ 香港回归 ④ 抗战胜利，台湾回到祖国怀抱。

A . ①②③④ B . ①④③② C . ④②①③ D . ④①②③

【考点】郑成功收复台湾；抗日战争的胜利及历史意义；祖国统一大业 .

【分析】本题考查了港、澳、台回归祖国时间 .

【解答】①郑成功收复台湾是在 1662 年；②澳门回归是在 1999 年；③香港回归是在 1997 年；④抗战胜利，台湾回到祖国怀抱是在 1945 年 .

故选 B .

【点评】解答排序题需要准确识记历史事件的发生时间或逻辑关系 .

5 . 《天朝的崩溃》一书中写道：“这场战争把中国拖入世界。从此开始，中国遭受了列强的百般蹂躏；从此开始，中国人经受了寻找新出路的百般苦难。”文中的“这场战争”指的是（ ）

A . 甲午战争 B . 鸦片战争 C . 八国联军侵华战争 D . 第二次鸦片战争

【考点】鸦片战争和《南京条约》 .


【分析】 本题考查鸦片战争。

【解答】 据题干“这场战争把中国拖入世界。从此开始，中国遭受了列强的百般蹂躏；从此开始，中国人经受了寻找新出路的百般苦难”，可知这是指鸦片战争。1840年~1842年，英国发动鸦片战争，清政府战败，被迫签订了《南京条约》，鸦片战争后中国开始由封建社会逐步沦为半殖民地半封建社会。

故选 B。

【点评】 掌握鸦片战争和《南京条约》的相关知识。

6. 图示法是我们学习历史常用的一种方法，通过绘制一些简单的图示，可以使我们对历史事件在时间和空间上的联系与发展有更直观的了解。对下列图示解读最为准确的是（ ）



A. 中国民族工业艰难曲折的发展历程 B. 中国走出半殖民地半封建社会的过程 C. 中国沦为半殖民地半封建社会的过程 D. 中国新民主主义革命的发展历程

【考点】 鸦片战争和《南京条约》；《马关条约》；《辛丑条约》。

【分析】 本题考查中国沦为半殖民地半封建社会的过程。

【解答】 鸦片战争失败后，1842年清政府与英国签订了《南京条约》，使中国开始沦为半殖民地半封建社会，甲午中日战争失败后，1895年清政府与日本签订了《马关条约》，大大加深了中国社会的半殖民地化程度，八国联军侵华战争失败后，清政府被迫同列强签订了《辛丑条约》，使中国完全沦为半殖民地半封建社会。图片信息体现了中国沦为半殖民地半封建社会的过程。

故选 C。

【点评】 掌握鸦片战争、甲午中日战争和八国联军侵华战争的相关知识。

7. 献身变法，临近时慷慨陈词“有心杀贼，无力回天，死得其所，快哉快哉！”的湖南维新志士是（ ）

A. 宋教仁 B. 黄兴 C. 蔡锷 D. 谭嗣同

【考点】 戊戌变法。

【分析】 本题考查了谭嗣同牺牲的相关史实。

【解答】 甘愿为变法流血牺牲的维新志士谭嗣同，在被捕入狱后泰然自若，题诗于壁曰：“我自横刀向天笑，去留肝胆两昆仑”，行刑时，仰天大呼，“有心杀贼，无力回天！死得其所，快哉，快哉！”。

故选 D。

【点评】 本题主要考查学生对基础知识的识记能力，需要准确识记谭嗣同牺牲的相关史实。

8. 毛泽东的《七律•长征》是一篇气势磅礴的革命史诗，它生动形象地概括了红军长征的光辉战斗历程，热情洋溢地讴歌了中国工农红军不畏艰险、英勇顽强的革命英雄主义气概和乐观主义精神。下列所述属于红军长征胜利意义的是（ ）

A．启迪人们追求民主与科学的思想大解放运动 B．是中国新民主主义革命的开端 C．粉碎了国民党反动派消灭红军的企图，使中国革命转危为安 D．是中华民族由衰败到振兴的转折点

【考点】红军长征．

【分析】本题考查了对红军长征胜利意义的掌握情况．

【解答】根据所学可知：红军长征的胜利，粉碎了国民党反动派消灭红军的企图，保存了党和红军的基干力量，扩大了中国共产党的影响，使中国革命转危为安．

故选 C．

【点评】识记长征的时间、原因、意义．

9．下列四幅图片反映的是中华民族抗日战争中发生的重大历史事件，其中标志中国人民全国性抗日战争爆发的历史事件是（　　）



A．

卢沟桥事变



B．

西安事变



C．

台儿庄战役



D．

百团大战

【考点】七七事变和日本全面侵华．

【分析】本题主要考查卢沟桥事变的历史意义．

【解答】1937年7月7日，日军侵略军在北平西南的卢沟桥，以军事演习为名，向中国军队发动突然进攻，中国军队奋起抵抗，全国性的抗日战争从此爆发．这就是卢沟桥事变，又称七七事变．

故选 A．

【点评】 本题主要考查学生对卢沟桥事变的相关史实的识记能力，本题难度较小，都是课本中最基本的应该掌握的知识，可以结合课本作答。

10. 1992 年被联合国教科文组织列入《世界自然遗产名录》，从而成为世界自然遗产，不久又荣登世界地质公园宝座的我市风景名胜是（ ）

A. 武陵源风景区 B. 天门山国家森林公园 C. 八大公山自然保护区 D. 南岳风景区

【考点】 历史文化常识。

【分析】 本题考查湖南地方史及武陵源。

【解答】 武陵源风景名胜区位于中国中部湖南省西北部，由张家界市的张家界国家森林公园、慈利县的索溪峪自然保护区和桑植县的天子山自然保护区组合而成，后又加入了杨家界新景区，总面积 500 平方公里。1992 年被列入《世界自然遗产》。2004 年被列为国家首批《世界地质公园》、2007 年被授予首批国家 AAAAA 级旅游景区。

故选 A。

【点评】 掌握武陵源风景区的相关知识。培养学生分析能力。

11. 宗教是人类社会发展到一定历史阶段的一种文化现象，属于社会意识形态范畴。根据以下信息判断，它是哪一宗教（ ）

① 它的创立者是穆罕默德 ② 它的经典是《古兰经》 ③ 它对阿拉伯半岛的统一起了促进作用 ④ 它是我国今天回族、维吾尔族、哈萨克族等少数民族的共同信仰。

A. 佛教 B. 道教 C. 基督教 D. 伊斯兰教

【考点】 伊斯兰教的创立和阿拉伯国家的建立。

【分析】 本题考查的是伊斯兰教相关知识。

【解答】 据所学知识，回族、维吾尔族、哈萨克族等少数民族的共同信仰的宗教是伊斯兰教；穆罕默德创立伊斯兰教后，利用宗教信仰的力量，将一盘散沙的阿拉伯各部落，熔铸成一个强大的民族统一体，推动了阿拉伯半岛的统一；《古兰经》记述了穆罕默德的话语和思想，它阐述了伊斯兰教的教义和基本宗教原理，又解答了广泛的社会和伦理问题，是伊斯兰教的经典。

故选 D。

【点评】 本题难度一般，从四点任意一点出发都能判定其是伊斯兰教。

12. QQ 与微信成为当今世界重要的信息传递与交流平台主要得益于（ ）

A. 蒸汽时代的到来 B. 电气时代的到来 C. 网络技术的发展 D. 报刊事业的发展

【考点】 电子计算机的出现、发展特点及用途。

【分析】 本题考查的是第三次科技革命。应重点掌握第三次科技革命的重要发明。

【解答】 依据题干“QQ”与微信判断是网路技术的发展。计算机网络技术是当代计算机技术与先进通信技术的结晶，是电子信息时代的产物。计算机网络技术以电子计算机的不断普及与不断升级为前提，是第三次科技革命中最为突出的核心技术，也是信息社会到来的主要标志之一。

故选 C。

【点评】 本题把第三次科技革命与现实生活联系起来，要注意把握第三次科技革命给人类生活带来的变化。

二、非选择题

13. 梦想是最令人心动的旋律，又是最催人奋进的动力。再没有什么使命，比引领一个民族走向复兴更光荣；再没有什么事业，比团结十几亿人民共圆梦想更崇高。行走在复兴之路上，中国的昨天，雄关漫道真如铁；中国的今天，人间正道是沧桑；中国的明天，直挂云帆济沧海。仔细阅读材料，探究以下问题。

【古代交往篇】

材料一 丝绸之路的路线图



(1) 依据材料一并结合所学知识，写出图中字母代表的丝绸之路起止点的名称。

A：长安（城市）；B：大秦（地区或国家）。西汉时期，为丝绸之路的开通作出突出贡献的人物是谁？

材料二 郑和七次下西洋，海上丝绸之路盛极一时。他每到一地，都以中国的丝绸和瓷器馈赠当地的国王或换取当地的特产，与当地居民公平交易，互通有无。不占别国一寸土地，为掠夺他人一分财富。

(2) 结合材料二和所学知识，说明明朝时期郑和下西洋所产生的积极影响是什么？

【近代探索篇】

材料三 在中国近代化探索的历程中，国人相继走过了自救之路、维新之路、共和之路。但都没有完成反帝反封建的历史使命，探索之路任重道远。

(3) 材料三中的“自救之路”、“共和之路”分别指什么重要历史事件？

材料四 十月革命一声炮响为中国送来马列主义，1921年7月中国共产党第一次全国代表大会召开……在毛泽东等共产党人领导下，经过28年艰苦卓绝的奋斗，让中国人民站起来了。

(4) 以毛泽东为核心的中国共产党人把马列主义同中国革命实践相结合，成功地探索出一条怎样的革命道路？结果如何？

【现代复兴篇】

材料五 1956年，我国基本建立了社会主义制度。之后，经过艰辛求索，中国共产党带领人民实现了历史性的伟大转折，开创了一条走向民富国强的道路，谱写了中华民族发展史上最壮丽的篇章。

(5) 材料五中所述“历史性的伟大转折”是指哪次会议的召开？这次会议上做出了怎样的伟大决策？

(6) 历史感悟：站在历史与未来的交汇点，为了树立负责任大国形象，你认为中国应该怎样做？

【考点】 材料解析题；汉通西域和丝绸之路；郑和下西洋；闭关锁国政策的影响；十一届三中全会及其重要意义；历史开放性问题。

【分析】 (1) 本题考查的是丝绸之路的相关知识。

(2) 本题考查的是郑和下西洋的相关知识。

(3) 本题考查的是近代化探索历程的相关知识。

(4) 本题考查的是井冈山道路的相关知识。

(5) 本题考查的是十一届三中全会的相关知识。

(6) 本题主要考查学生的分析能力以及解决问题的能力。

【解答】 (1) 西汉武帝时，张骞两次出使西域，为丝绸之路的开通做出了贡献。中国的丝和丝织品，从长安出发，经河西走廊、新疆地区，到达西亚，再转运到欧洲的大秦，又把西域各国的奇珍异宝输入中国内地。

(2) 郑和下西洋，促进了中国和亚非各国的经济交流和友好关系，比欧洲远航早了半个多世纪，郑和是我国也是世界历史上的伟大航海家。

(3) 近代史上，地主阶级发起的一场自救运动是洋务运动。以孙中山为代表的革命派，领导了辛亥革命，建立了中华民国，使民主共和观念深入人心。

(4) 中国共产党人把马克思主义理论和中国革命具体实际相结合，找到了一条以农村包围城市，武装夺取政权的成功道路。经过 28 年的奋斗，建立了新中国，赢得了新民主主义革命的胜利。

(5) 1978 年召开的中共十一届三中全会，确立解放思想、实事求是的指导思想；作出把党和国家的工作重点转移到社会主义现代化建设上来和实行改革开放的重大战略决策；形成以邓小平为核心的党中央第二代领导集体。

(6) 站在历史与未来的交汇点，为了树立负责任大国形象，中国应该奉行独立自主的和平外交政策，走和平发展道路；坚持“科教兴国”战略，建立创新型国家；坚持互利共赢的开放战略：积极发展与世界各国的友好合作关系；与各国共同分享发展机遇，共同应对各种挑战；积极推进人类社会和平与发展的崇高事业等。

故答案为：

(1) 长安，大秦，张骞。

(2) 促进了中国和亚非各国的经济文化交流；加强了中国和亚非各国的友好关系。

(3) 洋务运动，辛亥革命。

(4) 农村包围城市，武装夺取政权，建立了新中国，赢得了新民主主义革命的胜利。

(5) 中共十一届三中全会，作出把党和国家的工作重点转移到社会主义现代化建设上来和实行改革开放的重大战略决策。

(6) 奉行独立自主的和平外交政策，走和平发展道路；坚持“科教兴国”战略，建立创新型国家；坚持互利共赢的开放战略：积极发展与世界各国的友好合作关系；与各国共同分享发展机遇，共同应对各种挑战；积极推进人类社会和平与发展的崇高事业等。

【点评】 解答材料解析题首先读懂材料，然后结合问题从材料中提取有效信息，最后根据所学和材料有效信息组织答案。

14. 民主与法制建设是人类社会政治文明的重要组成部分，也是衡量社会发展程度的重要标尺。结合所学知识，回答下列问题：

(1) 世界上现存的古代第一部比较完备的成文法典是什么？

(2) 法制建设在欧美资本主义确立和发展过程中起了至关重要的作用，请列举近代英、法、美三国重要法律文献各一部。

(3) 新中国成立以后，特别是进入社会主义建设新时期以来，我国民主与法制建设取得了重大进展，制定和颁布了一系列法律，基本上形成了以什么法律为核心的中国特色社会

主义法律体系，从而使我国逐步迈上了什么道路？

(4) 综上所述，并结合所学知识，谈谈你对民主与法制建设的看法。

【考点】 阐述见解；社会主义民主与法制建设的加强；《汉谟拉比法典》和古巴比伦文明；《权利法案》；《独立宣言》；《人权宣言》；历史开放性问题。

【分析】 (1) 本题考查世界上现存的古代第一部比较完备的成文法典。

(2) 本题考查近代英、法、美三国重要法律文献。

(3) 本题考查我国民主与法制建设。

(4) 本题考查民主与法制建设的看法。

【解答】 (1) 公元前 18 世纪，古巴比伦国王汉谟拉比统一了两河流域，建立起中央集权的奴隶制国家。为了维护奴隶主的利益，汉谟拉比制定了一部法典，史称《汉谟拉比法典》，它是世界上现存的古代第一部比较完备的成文法典。

(2) 英国资产阶级革命后，颁布的文献是《权利法案》，标志着君主立宪制的资产阶级政治体制的确立；法国大革命中，颁布的重要文献是《人权宣言》，宣称人生来自由，权利平等，私有财产神圣不可侵犯；美国独立战争中，颁布的重要文献是《独立宣言》，宣称一切人生而平等，人们有生存、自由和追求幸福等不可转让的权利，宣告了美国的诞生。还有法国的《拿破仑法典》、美国的《1787 年宪法》或《解放黑人奴隶宣言》。

(3) 在 1954 年 9 月的第一届全国人民代表大会上制定了《中华人民共和国宪法》，1982 年颁布了第四部《中华人民共和国宪法》，这是新时期比较完善的一部宪法。中共十一届三中全会后，我国社会主义民主和法制建设取得了长足的进步，以宪法为核心的中国特色社会主义法律体系初步形成，公民的法律意识和法律观念不断增强，从而使我国逐步迈上了依法治国的道路。

(4) 本题为开放性试题，民主是法制的基础，法制是民主的保障。民主与法制相互依存、相互促进；民主与法制是不断发展和完善的；民主与法制是人类政治文明发展的成果，可以相互学习、相互借鉴等，言之成理即可。

故答案为：

(1) 《汉谟拉比法典》。

(2) 英国的《权利法案》、法国的《人权宣言》或《拿破仑法典》、美国的《独立宣言》（《1787 年宪法》或《解放黑人奴隶宣言》）。

(3) 《中华人民共和国宪法》；依法治国。

(4) 民主是法制的基础，法制是民主的保障。民主与法制相互依存、相互促进；民主与法制是不断发展和完善的；民主与法制是人类政治文明发展的成果，可以相互学习、相互借鉴等。

【点评】 本题考查世界上现存的古代第一部比较完备的成文法典、近代英、法、美三国重要法律文献、我国民主与法制建设和民主与法制建设的看法。考查学生综合掌握历史知识的能力。

15. 成为世界性大国的道路布满艰辛。大型电视纪录片《大国崛起》解读了 15 世纪以来世界大国崛起的历史。请阅读下列相关材料，回答问题。

材料一 18 世纪中期到 19 世纪中期，蒸汽机引起了欧洲生产的革命……英国引领了这一历史发展的潮流，取得了技冠群雄、傲视全球的辉煌成果。

材料二 法令规定，农奴在法律上是“自由人”；地主再也不许买卖农奴和干涉他们的生活；农奴在“解放”时，可以得到一块份地，但他们必须出钱赎买。

材料三 1894 年，美国的工业总产值跃居各大国之首，成为世界第一经济强国。这一年，

距离这个新国家的诞生仅仅 118 年，距离这片新大陆被发现也才 400 年。400 年来，它从欧洲汲取营养，发展自己；118 年来，它创造了自己的发展模式。

- (1) 结合材料一和所学知识说出对英国崛起最具影响的两件大事。
- (2) 材料二所反映的内容属于哪次改革？这次改革有什么重大意义？
- (3) 根据材料三和所学知识，你认为促使美国成为“世界第一经济强国”的主要因素有哪些？
- (4) 世界性大国崛起的历程，给我们留下了许多思考。结合上述材料和所学知识，谈谈我国可以从这些大国崛起中获得什么重要启示？

【考点】材料解析题；英国资产阶级革命；第一次工业革命；1861 年俄国农奴制改革；历史开放性问题；阐述见解题。

- 【分析】**
- (1) 本题考查的是英国的相关知识。
 - (2) 本题考查的是俄国农奴制改革的相关知识。
 - (3) 本题考查的是美国的相关知识。
 - (4) 本题主要考查学生的分析能力和知识迁移能力。

【解答】 (1) 依据材料可知，18 世纪 60 年代开始于英国的工业革命使英国成为世界上第一个工业强国；同时依据所学，英国资产阶级革命推翻了封建君主专制，确立资产阶级统治，为英国资本主义的发展扫清了道路。

(2) 1861 年俄国农奴制改革是沙皇自上而下实行的资产阶级性质的改革，农奴制的废除有利于资本主义的发展，加快了俄国资本主义的发展，是俄国近代史上的重要转折点。

(3) 注意材料中“400 年来，它从欧洲汲取营养，发展自己；118 年来，它创造了自己的发展模式”，同时依据所学可知，美国独立战争结束了英国殖民统治，确立了比较民主的资产阶级政治体制，有利于美国资本主义的发展；南北战争是美国历史上第二次资产阶级革命，扫清了资本主义发展中的又一大障碍；在第二次工业革命中，科学技术成为推动生产力发展的直接动力，美国德国成为领先国家。

(4) 结合英国、俄国、美国的发展，从以上材料与问题中可以看出要善于抓住机遇，加强国际间的经济联系；要重视引进和发展高科技；要坚持改革开放，坚持以经济建设为中心，推动生产力的发展；要善于学习借鉴人类优秀的成果，敢于创新，勇于创新，制定适合本国国情的经济发展战略；要重视教育培养人才，坚持走和平发展的道路。

故答案为：

- (1) 英国资产阶级革命、工业革命。
- (2) 1861 年俄国废除农奴制改革，有利于资本主义的发展，加快了俄国资本主义的发展，是俄国近代史上的重要转折点。
- (3) 美国独立战争、美国内战、第二次工业革命。
- (4) 启示：要善于抓住机遇，加强国际间的经济联系；要重视引进和发展高科技；要坚持改革开放，坚持以经济建设为中心，推动生产力的发展；要善于学习借鉴人类优秀的成果，敢于创新，勇于创新，制定适合本国国情的经济发展战略；要重视教育培养人才，坚持走和平发展的道路。

【点评】解答材料解析题首先读懂材料，然后结合问题从材料中提取有效信息，最后根据所学和材料有效信息组织答案。

16. 近年来，亚太地区在整个国际体系中的地位 and 影响力不断上升，也吸引美国的战略重心逐渐向亚太地区转移，亚太地区的大国关系直接影响着该地区的稳定、发展，也影响着世界的和平、安全和发展。仔细阅读材料，探究以下问题。

材料一 阅读下列四幅图片：



图 1 华盛顿会议 图 2 日本偷袭珍珠港 图 3 乔冠华开怀大笑 图 4 尼克松总统访华

(1) 图 1 会议针对中国问题签署了哪一文件？图 2 事件的爆发在二战进程中有何重要影响？这两幅图片所示时事件有何内在联系？

(2) 图 3“乔冠华开怀大笑”反映的是什么重要历史事件？图 4 美国总统尼克松访华反映了中美关系发生了怎样的变化？导致这一变化最主要的原因是什么？

材料二 2015 年 11 月 18 日至 19 日，亚太经合组织第二十三次领导人非正式会议在菲律宾马尼拉举行。本次 APEC 会议主题为“打造包容性经济，建设更美好世界”，具体议题包括区域经济一体化和可持续增长等。与会各国领导人一致表示要为亚太地区的和平、稳定、发展和共同繁荣作出努力。

(3) 上述材料反映的当今世界两大主题是什么？当前世界经济发展呈现出怎样的趋势？为实现“亚太地区的和平与稳定”，在该地区影响力最大的中、美两国应该怎样做？请你各提一条建议。

【考点】 材料解析题；中国恢复在联合国的合法席位；中美建交；华盛顿会议和华盛顿体系；太平洋战争；和平与发展是当今世界的两大主题；世界经济全球化的影响；历史开放性问题。

【分析】 (1) 本题考查华盛顿会议与珍珠港事件。

(2) 本题考查 70 年代新中国外交成就。

(3) 本题考查和平与发展、经济全球化及综合归纳能力。

【解答】 (1) 1921 年-1922 年间，美、英、法、日等九国在华盛顿举行国际会议。

1922 年 2 月，与会九国签署了《九国公约》。主要内容有：尊重中国主权和独立及领土和行政的完整；保证各国在华机会均等，对外门户开放。公约打击了日本独占中国的计划，从而为美国等列强共同掠夺中国提供了条件。1941 年 12 月 7 日，日本特遣舰队对美国太平洋舰队所在地珍珠港发动突然袭击，太平洋战争爆发。第二次世界大战达到规模最大化。华盛顿会议签署《九国公约》，打击了日本独占中国的计划，限制了日本的势力扩张，加深了美日矛盾，为日本发动太平洋战争埋下祸根。

(2) 1971 年 10 月，第 26 届联合国大会上，中国恢复在联合国的合法席位，中国代表团团长乔冠华开怀大笑。新中国建立后至 60 年代，中美之间一直处于敌对状态。1972 年 2 月，随着美国总统尼克松访问中国，中美关系开始正常化。中美关系发生转机的最主要原因是中国国际地位的提高。

(3) 和平与发展成为当今时代的主题，这是世界各种矛盾发展变化和世界抑制战争因素不断增长的合力作用的结果。各国积极寻求国际合作、取长补短，发展经济。世界经济交往日益增多，正在逐渐形成一个整体，经济全球化趋势加快。为实现亚太地区的和平与稳定，中国应坚持改革开放，保持自身繁荣稳定，加强与各国沟通与交流，实现合作与共赢，共同维护地区和平稳定等；美国应放弃霸权主义政策，尊重各国主权和利益，与亚太各国在平等互利基础上交流合作等等。

故答案为：

(1) 《九国公约》，二战达到最大规模，华盛顿会议签署《九国公约》，加深了美日矛盾，为日本发动太平洋战争埋下祸根；

(2) 中国恢复在联合国的合法席位，由敌对转为正常化，中国国际地位的提高；

(3) 和平与发展；经济全球化；建议：中国要坚持改革开放，保持自身繁荣稳定，加强与各国沟通与交流，实现合作共赢，共同维护地区和平稳定等；美国应放弃霸权主义政策，尊重各国主权和利益，与亚太各国在平等互利基础上交流合作等等。

【点评】 本题主要考查学生对中美两国关系发展历程等知识的掌握，重点识记关系发展变化的原因及影响。