

济宁市二〇二〇年高中段学校招生考试历史试题

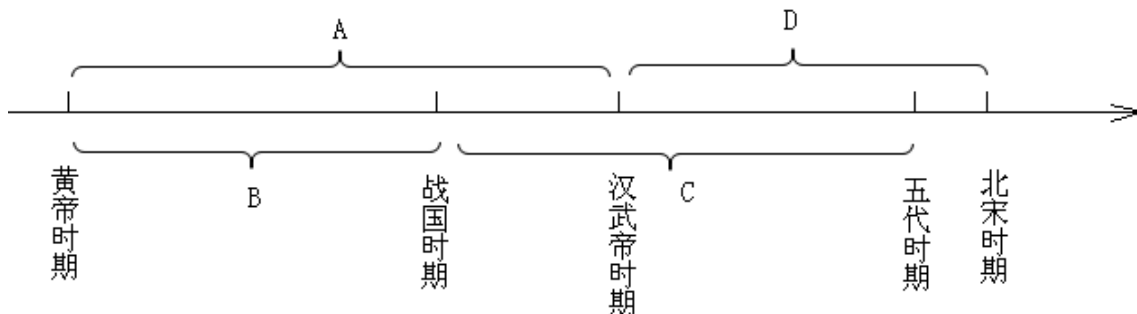
第I卷(选择题)

- 1.西周建立后,周武王“封尚父于营丘,曰齐;封弟周公旦于曲阜,曰鲁”。“营丘”位于今天的
- A. 陕西省 B. 山西省 C. 河南省 D. 山东省

- 2.如图所示古代商路的起点是



- A. 长安 B. 洛阳 C. 咸阳 D. 敦煌
- 3.东汉末年,因疫病流行而立志“勤求古训,博采众方”,终于撰成《伤寒杂病论》的医学家是
- A. 扁鹊 B. 张仲景 C. 华佗 D. 李时珍
- 4.宋真宗曾赋《劝学》:“男儿欲遂平生志,六经勤向密前读。”这反映出宋代选拔人才主要依据
- A. 科举成绩 B. 道德表现 C. 门第高低 D. 血缘亲疏
- 5.北宋编撰《资治通鉴》,“鉴于往事,有资于治道”。该书所记述的历史起止时间位于如图中



- A. A B. B C. C D. D
- 6.下列古代官职中,源于清朝强化君主专制制度设立的是
- A. 御史大夫 B. 节度使 C. 转运使 D. 军机大臣
- 7.19世纪60至90年代,洋务派掀起了一场向西方学习的洋务运动。其目的是
- A. 发展资本主义 B. “自强”“求富”
- C. 顺应世界潮流 D. 实现中国近代化
- 8.近代迫使中国“割让台湾”“允许日本开设工厂”的不平等条约是
- A. 《南京条约》 B. 《天津条约》
- C. 《马关条约》 D. 《辛丑条约》

9.近代中国社会习俗发生了巨变。下列社会生活现象的出现与辛亥革命直接相关的是

- A. 吃西餐 B. 住洋房 C. 剪发辫 D. 看电影

10.革命口号具有时代的特征。下列革命口号中出现在五四运动时期的是

- A. “驱除鞑虏，恢复中华” B. “外争主权，内除国贼”
C. “星星之火，可以燎原” D. “打倒老蒋，解放全国”

11.遵义会议在极其危急时刻挽救了党，挽救了红军，挽救了革命。这主要是因为它

- A. 促成了马克思主义和中国工人运动的结合
B. 确定了武装反抗国民党反动统治的总方针
C. 开辟了工农武装割据的革命道路
D. 事实上确立了以毛泽东为核心的党中央的正确领导

12.漫画创作与时代需要紧密相连。图中漫画《看你横行到几时》应创作于



- A. 甲午中日战争时期 B. 北伐战争时期
C. 抗日战争时期 D. 解放战争时期

13.“农业生产合作化，公私合营资本家。生产资料公有制，社会主义迈步伐。”该民谣反映出的重大历史事件是

- A. 社会主义改造 B. 农业“大跃进”
C. 人民公社化 D. 农村经济体制改革

14.春联的内容折射出时代的变迁，下列春联反映了十一届三中全会后新气象的是

- A. 万里山河归人民，五亿群众庆新生 B. 一五计划指方向，举国欢腾建设忙
C. 总路线大放光芒，超英美指日可待 D. 改革开放添异彩，经济建设展宏图

15.1992年，海峡两岸关系协会和海峡交流基金会达成了“九二共识”。它的核心内容是

- A. 允许台湾居民赴大陆探亲 B. 海峡两岸均坚持一个中国原则
C. 开展广泛的经济文化交流 D. 海峡两岸直接通邮通航通商

16.获取和解读材料信息，是学习历史的基本能力。据下表信息判断，该人物是

姓名	国籍	生卒年代	代表作
Leonardo da Vinci	意大利	1452—1519	《蒙娜丽莎》等

		年	
--	--	---	--

- A. 但丁 B. 莎士比亚 C. 达·芬奇 D. 薄伽丘

17.1689年，英国颁布了《权利法案》。该法案旨在限制

- A. 平民的权力 B. 议会的权力 C. 教会的权力 D. 国王的权力

18.

18.面对法西斯的侵略扩张，世界各国人民奋起抗争。下列历史事件揭开世界反法西斯战争序幕的是

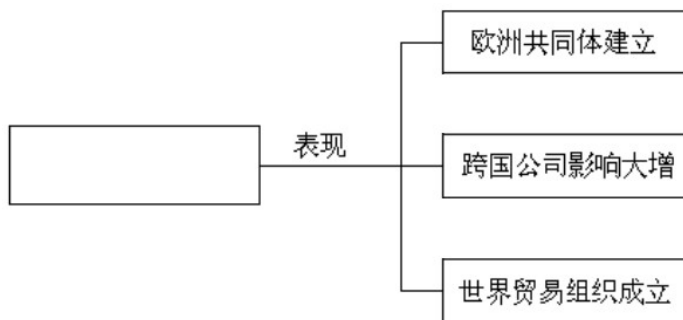
- A. 九一八事变 B. 意军入侵埃塞俄比亚
C. 德国突袭波兰 D. 《联合国宣言》发表

19.如图漫画《片面的经济》反映了20世纪30年代苏联经济的发展状况。对此状况解释合理的是



- A. 苏联实行了新经济政策 B. 苏联经济发展失衡
C. 苏联优先发展农业经济 D. 苏联工业发展缓慢

20.如图是某同学课堂探究时绘制的思维导图。图中空白处的探究“主题”应为



- A. 经济全球化 B. 世界多极化趋势
C. 两极格局形成 D. 经济区域集团化

第II卷（非选择题）

21.中华优秀传统文化是中华民族突出优势，是我们最深厚的文化软实力。阅读材料，回答问题。

【故事】《论语·乡党》记述了这样一个经典故事：“厩（马棚）焚。子（孔子）退朝，曰：“伤人乎？”不问马。”在马棚起火的情况下，孔子关心的是地住不高的仆人，而非马。


(1) 结合所学知识，指出这个故事所体现的孔子的思想主张。基于这种思想主张，孔子对统治者提出了

怎样的政治建议？

【记忆】据《贞观政要》（卷一）记载，唐太宗曾说：“为君之道，必须先存百姓，若损百姓以奉其身，犹割股以啖（喂）腹，腹饱而身毙。”

(2) 结合所学知识，任举一例贞观时期的革新措施说明唐太宗治国“先存百姓”。唐太宗的“为君之道”对唐朝社会发展有何影响？

【发现】

 <p>丝绸之路遗址发现的《诗经》残片 (现藏德国国家图书馆)</p>	 <p>日本长崎的孔庙</p>
--	--

(3) 有西方学者认为“儒学是中国的也是世界的”，请结合材料对这一观点加以说明。

【现场】如图为 2019 年 9 月 28 日在曲阜孔庙举行的己亥年公祭孔子大典现场。来自世界 30 多个国家的国际友人参与了此次盛会。



(4) 结合上述材料，说我们举行祭孔大典有何现实意义？

22. 习近平总书记指出“不论过去，现在和将来，我们都要把国家和民族发展放在自己力量的基点上，坚持民族自尊心和自信心，坚定不移走自己的路。”阅读材料，回答问题。

材料一 自大的朝廷 1757 年，乾隆正式下令“将来止许在广东收泊交易，不得再赴宁波”，并申明“嗣后口岸定于广东”。谕旨中的规定禁断了广东之外的一切中西贸易。

——据陈旭麓《近代中国社会的新陈代谢》

(1) 结合所学知识，指出材料反映出的清朝对外政策，并简要说明该政策的影响。

材料二 自强的民族甲午中日战争后，列强对中国的侵略，空前凶猛，中国的抗争亦随之激烈。抗争

有两种类型，动机虽都是为了自救，但采取的方式大相径庭。一为观察世界形势，认为必须进行政治改制运动，才能与西方并驾齐驱；一为昧视时代潮流，对洋人、洋教以及轮船、铁路等统统排斥，成为暴力反洋运动。

——据郭廷以《近代中国史纲》

(2) 结合所学知识回答，材料中“政治改制运动”“暴力反洋运动”各指什么运动？二者出现的社会根源是什么？

材料三 自信的中国

我们在执行和平政策中的一些外交方针是：

(一)“另起炉灶”。(二)“一边倒”。(三)“打扫干净屋子再请客”。(四)“礼尚往来”。资本主义国家，你对我好，我也对你好；你对我不好，我也对你不好。(五)“互通有无”。(六)团结世界人民。

——摘编自周恩来《我们的外交方针和任务》(1952年4月30日)

(3) 材料反映出新中国成立后奉行怎样的外交政策？中国处理与当今资本主义国家关系的基本准则是什么？

23. 中学历史课程将培养和提高学生 学科核心素养作为目标。阅读材料，回答问题。

【史料实证】罗吉义《宋代商业的发展和商业政策》中说：“宋代商业的发展，超过了唐代的水平而进入了比较成熟和高度繁荣的阶段。”

(1) 请任举一例宋代城市商业发展 表现，证明材料中的观点。

(2) 某班准备赴图中标注地点开展“走访革命胜迹感悟党的初心”研学之旅。请任选一个地点，写出该地点发生的一个相关重大历史事件及发生时间。



【家国情怀】昨日下午三点多钟，毛泽东先生到了重庆。毛泽东先生来了！中国人听了高兴，世界人听了高兴，无疑的，大家都认为这是中国的一件大喜事。

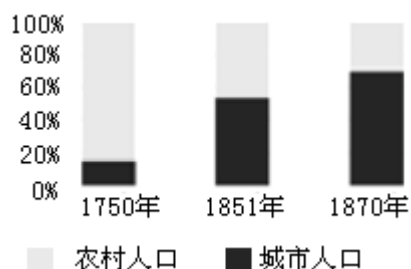
——重庆《大公报》社评《毛泽东先生来了！》(1945年8月29日)

(3) 结合所学知识，指出毛泽东以“弥天大勇”赴重庆谈判的目的和结果。

【唯物史观】菲律宾马克坦岛上有一座纪念亭，亭中石座铜碑正面刻着：“1521年4月27日，麦哲伦死于此地。麦哲伦船队的一艘船，完成了第一次环球航海。”碑的背面刻着：“1521年4月27日，拉普拉普和他的战士们，在这里打退了西班牙入侵者，杀死了他们的首领麦哲伦。”

(4) 根据材料并结合所学知识，客观评价麦哲伦。

【历史解释】英国 1750—1870 年农村与城市人口变化示意图



(5) 结合所学知识，对图中英国城市人口的变化做出合理的解释。

试卷相关说明

本试卷的题干、答案和解析均由组卷网 (<http://zujian.xkw.com>) 专业教师团队编校出品。登录组卷网可对本试卷进行**单题组卷**、**细目表分析**、**布置作业**、**举一反三**等操作。

试卷地址：[在组卷网浏览本卷](#)

组卷网是学科网旗下的在线题库平台，覆盖小初高全学段全学科、超过 900 万精品解析试题。关注组卷网服务号，可使用移动教学助手功能（布置作业、线上考试、加入错题本、错题训练）。



学科网长期征集全国最新统考试卷、名校试卷、原创题，赢取丰厚稿酬，欢迎合作。
钱老师 QQ : 537008204 曹老师 QQ : 713000635