

2019 年黔南州中考历史

一、选择题(每小题只有一个正确选项，20 小题，每题 2 分，共 40 分)

1.黄帝和炎帝被奉为中华民族的共同祖先，他们生活在我国古代的（ ）

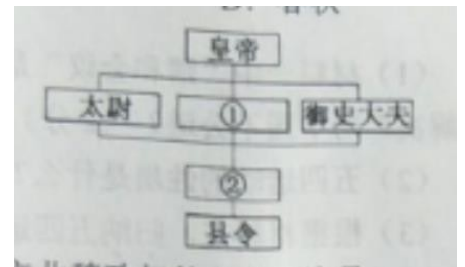
- A.长江流域 B.淮河流域 C.黄河流域 D.珠江流域

2.中国历史上“禅让时代”结束，“家天下”时代开始于（ ）

- A.夏朝 B.商朝 C.西周 D.春秋

3.右图的秦朝行政系统简表中①、②分别是（ ）

- A.大学士、州长
B.大学士、郡守
C.相、州长
D.丞相、郡守



4.我国少数民族在中国历史进程中发挥着重要作用，建立北魏政权的少数民族是（ ）

- A.女真族 B.鲜卑族 C.党项族 D.契丹族

5.世界上最早的纸币是（ ）

- A.秦朝圆形方孔钱 B.汉朝五铢钱 C.唐朝开元通宝 D.北宋“交子”

6.清朝是一个统一的多民族国家。代表清政府协同达、班禅共同管理西藏事务的是（ ）

- A.驻藏大臣 B.军机处 C.伊犁将军 D.宣政院

7.“在一家面摊前，人们踊跃争先剪辫子，旁边告示牌上的大字十分醒目：剪辫者免费供肉面一

碗以示奖励，”文中的情景，最有可能发生在下列 事件之后 ()

- A.洋务运动 B.义和团运动 C.辛亥革命 D.新文化运动

8、下列选项属于中国共产党成立的历史背景的有 ()

- ①十月革命的影响 ②中国工人阶级队伍发展壮大
③北伐战争的胜利 ④中国共产党早期组织的建立

- A.①②③ B.①②④ C.②③④ D.①③④

9、有人将贵州省的旅游归纳为:一栋房子，一个瓶子(茅台酒)，一棵树子(黄果树)。“一栋房子”成为人文旅游景点是因为这里 ()

- A.召开了中国共产党“一大” B.是中国工农红军长征的起点
C.打响了武装反抗国民党反动派的第一枪 D.召开了中国革命史上生死攸关转折点的会议

10.抗战时期，指挥台儿庄战役取得正面战场重大胜利的指挥官是 ()

- A.彭德怀 B.贺龙 C.李宗仁 D.张学良

11.1953 年，在下图所在地签署了 ，提高了中国的国际威望，为新中国的建设创造了有利的外部环境 ()

- A.《慕尼黑协定》 B.《雅尔塔协定》
C.《九国公约》 D.《朝鲜停战协定》



12.1953~1957 年我国工业产值平均增长的速度达到 18%，农业产值平均每年增长 4.5% 开始改变了工业落后的面貌，向社会主义工业化迈进，这些成就的取得主要得益于 ()

- A. 土地改革的全面完成 B.“大跃进”运动的开展
C.第一个五年计划的实施 D.人民公社化运动的开展

13.对下列三幅图片反映的共同主题，表述最准确的是（ ）



- A. 新中国人民政权的巩固 B. 社会主义道路的探索
 C. 建设有中国特色的社会主义 D. 社会主义新农村的建设

14. 颁布世界历史上已知的第一部比较完备的成文法典的是 ()

- A. 汉谟拉比 B. 法老胡夫 C. 伯利克里 D. 凯撒

15. 世界三大宗教之一的佛教的创立的时间是 ()

- A. 公元前 6 世纪 B. 公元 1 世纪 C. 公元 6 世纪 D. 公元 7 世纪

16. 由南美各国足球俱乐部冠亚军参加的足球联赛冠名为“解放者杯”，这是为了纪念19世纪拉丁美洲独立战争的领导人、南美的“解放者” ()


- A. 林肯 B. 玻利瓦尔 C. 圣马丁 D. 章西女王

17. 下列属于第二次工业革命时期的成果是 ()

- A. 蒸汽机、汽车 B. 电灯、电脑 C. 火车、电报 D. 内燃机、飞机

18. 与右图反映的历史事件相关的是 ()

- A. 1789 年法国大革命的爆发
 B. 法国革命结束了君主专制
 C. 巴黎人民第三次武装起义



D.法国宣布了《人权宣言》

巴黎人民攻占巴士底

19.20 世纪 30-40 年代，威胁世界和平与安全的主要因素是（ ）

A.封建专制主义 B.法西斯主义 C.世界经济危机 D.黑人奴隶贸易

20、当今世界使用的多款主流智能手机，大多数需由多个国家分工协作组装完成，而不是单纯某一个国家可以独立完成的。它反映的世界经济发展总势是（ ）

A. 贸易自由化 B.经济全球化 C.经济区域集团化 D.资源一体化

二、列举题(2 小题，每题 4 分，共 8 分)

21、根据下列提示，写出相对应的历史人物:(每空 1 分)

(1)提出“罢黜百家，独尊儒术”的是：_____。

(2)明朝时期七下西洋的航海家是：_____。

(3)名画《蒙娜丽莎》的创作者是：_____。

(4)创作《英雄交响曲》的音乐家是：_____。

22，根据下列提示，写出相对应的历史事件:(每空 1 分)

(1) 标志着中国近代历史开端的是：

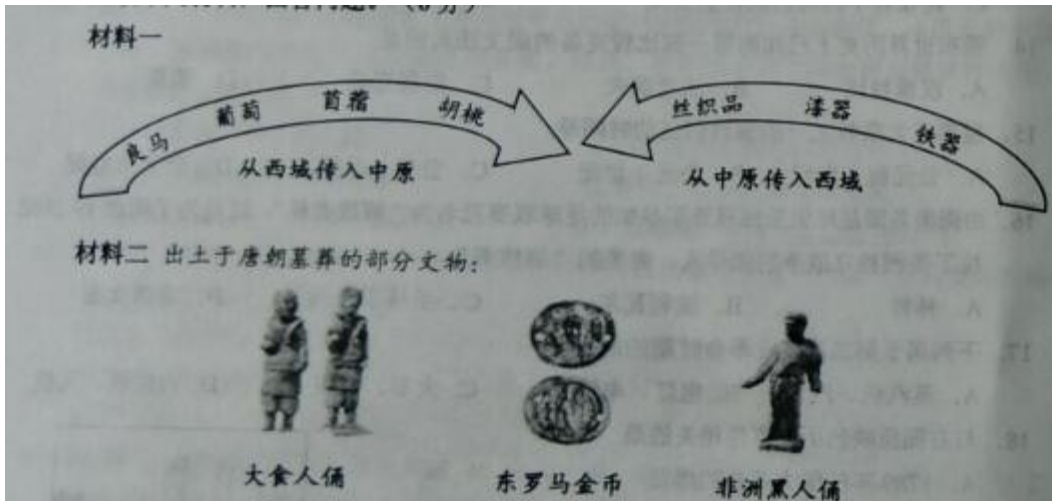
(2) 1936 年标志国共十年内战基本结束的是：

(3) 1914 年第一次世界大战爆发的导火线是：

(4) 二战中标志开辟欧洲第二战场的事件是：

三、解析与探究题(4 小题，共 27 分)

23.阅读下列材料，回答问题，(6 分)



(1) 材料一标示出的实物是通过什么之路相互交流的?为了管理西域地区,西汉设立了什么行政机构?(2分)

(2) 材料二反映了唐朝对外交往出现了怎样的空前盛况?请举出两例唐朝“走出去”的具体事例。(3分)

(3) 由上述材料得到什么启示?(1分)

24.阅读下列材料,回答问题,(7分)

材料一 媾和会议,对于解决山东问题,已不于中国以公道,中国非牺牲其正义公道爱国之义务,不能签字。

---1919年6月28日《中国代表团宣言》

材料二 1919年5月4日,北京大学的学生在天安门集中游行。他们高呼“誓死力争还我青岛”、“外争主权,内除国贼”、“拒在和约上字”等口号。

-----摘编自周策纵《五四运动史》

材料三 五四爱国运动遍及 20 多个省 100 多个城市。在运动中，各地组织了学生、教职员、工商界、妇女界等群众，共同组成各界联合会。随着五四运动的发展，……由于各界群众的联合行动，这场运动获得了胜利。

(1) 材料一中“媾和会议”是指什么会议?为何中国代表团认为该会议关于山东问题的“解决”对中国不公道?(2 分)

(2)五四运动的性质是什么?从材料二的哪一句口号最能全面体现其性质?(2 分)

(3) 根据材料三，归纳五四运动的特点，并结合所学概述五四运动在我国历史上具有的里程碑意义。(3 分)

25. 在各国历史进程中，革命和改革是社会更替与变革的重要形式。阅读下列材料，回答问题。(7 分)

材料一 英国资产阶级革命建立了一个合适的政治制度，这个制度保障社会有宽松平和的环境，让人们追求个人的目标。……英国人在政治制度方面的重大创新，使后来西方各国在步入民主政治的行列之时，都自觉或不自觉地以英国为榜样。

-----唐晋主编《大国崛起》

材料二 断然废旧制，立新政，朝野一心，革除旧弊，举凡一切均效法西方列强，以图 傲视亚洲诸国。

-----日 福泽谕吉《脱亚论》(1885 年)

材料三 19 世纪后半叶中国所经受的屈辱和灾难使传统的以自我为中心的中国进行了病苦的自我反省，重新评价和重新组织。……1898 年颁发了一系列底的改革法令。

----斯塔夫里阿诺斯《全球通史》

(1)材料一英国创设的“政治制度”是指什么?它是通过哪一文献确立的?(2 分)

(2)材料二反映了日本什么历史事件?请举出“废旧制，立新政”的任意两项措施。(3分)

(3)根据材料三，指出中国 1898 年改革的名称。这次改革在中国历史上起到了什么积极作用?(2分)

26.1949 年 10 月中华人民共和国成立了，从此结束了旧中国“屈辱外交”的历史。回答下列问题:
(7 分)

(1)1953 年，周恩来代表中国政府提出了什么外交原则?其重要意义何在?(2 分)

(2)在其外交原则的指导下，我国取得了一系列外交成就。请列举我国 20 世纪 50-70 年代的外交成就。(任举三例)(3 分)

(3)回顾历史，展望未来，我国应当怎样处理好与世界各国发展的关系?(2 分)

2019 年黔南州中考历史参考答案

1---5 C A D B D

6---10 A C B D C

11---15 D C C A A

16---20 B D A B B

21(1)董仲舒 (2) 郑和 (3) 达芬奇 (4) 贝多芬

22 (1) 中英鸦片战争；(2) 西安事变的和平解决；(3) 萨拉热窝事件；(4) 诺曼底登陆战

23 (1) 丝绸之路；西域都护；

(2) 唐朝对外开放，长安是国际性大都市，欧亚非各国商人、使者、艺人等云集长安；鉴真东渡和玄奘西行；

(3) 开放使社会进步；不同文明之间的和平交流促进世界发展；

24 (1) 巴黎和会；把德国在山东的权利转交给日本；

(2) 一次彻底的反帝反封建爱国运动；“外争国权、内惩国贼”

(3) 特点：遍及的地区广泛；各界群众的联合斗争；意义：中国新民主主义革命的开端，中国工人阶级登上历史舞台，开始领导中国革命；促进了中国民族意识的觉醒和马克思主义的传播。

25 (1) 君主立宪制资产阶级政体；《权利法案》

(2) 明治维新；废旧制：废藩置县，加强中央集权；实行地税改革；提倡“文明开化”；立新政：殖产兴业；实行强制性义务教育；实行“征兵制，建立现代化的常备军；颁布《大日本帝国宪法》

(3) 戊戌变法；在社会上起到思想启蒙作用；推动中国近代化的进程；

26 (1) 独立自主的和平外交政策；标志着新中国外交的成熟、被世界上越来越多的国家所认可，成为处理国与国之间关系的基本准则；在一定程度上打破美国等西方国家的敌视和封锁，争取到国际上的支持；为国内经济建设创造了有利的国际环境。

(2) 1955年周恩来总理在万隆会议上提出的求同存异的方针促进了会议的圆满成功；1971年中国重返联合国；1972年中日建交；1972年尼克松访华；1979年中美正式建立外交关系。

(3) (1) 要和美国建立新兴大国关系，不冲突、不对抗，相互尊重，合作共赢。(2) 在处理和周边国家的关系时，将坚持与邻为善、睦邻友好。

(3) 在与广大发展中国家的关系上，加强同广大发展中国家的团结合作，共同维护发展中国家正当权益，支持扩大发展中国家在国际事务中的代表性和发言权，永远做发展中国家的可靠朋友和真诚伙伴。(4) 中国积极参与世界多边事务，推动国际秩序和国际体系朝着公正合理的方向发展。

(5) 坚持独立自主的外交方针，发展我国同世界各国关系的五项基本原则；

会员升级服务第一拨 · 清北季



神马，有清华北大学霸方法论课；还有清华学霸向所有的父母亲述自己求学之路；

衡水名校试卷悄悄的上线了；

扫qq领取官网不首发课程，很多人我没告诉他啊！

会员qq专享等你来撩.....