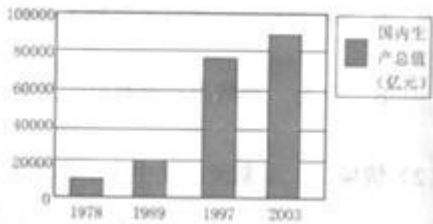


2017年湖北省随州市中考历史试卷

一、选择题（下面各题的四个选项中，只有一项是符合题意的，每题2分，共20分）

1. “富贵不能淫，贫贱不能移，威武不能屈，此之谓大丈夫。”这句话符合下列哪家思想（ ）
A. 儒家 B. 法家 C. 道教 D. 佛教
2. 西藏正式纳入中国的行政区开始于（ ）
A. 秦朝 B. 唐朝 C. 元朝 D. 清朝
3. 下列革命和改革引起社会性质变化的是（ ）
①英国资产阶级革命 ②美国南北战争 ③日本明治维新 ④俄国十月革命。
A. ①② B. ①③ C. ①③④ D. ①②③④
4. 从亚历山大二世废除农奴制法令主要内容上看，它主要为资本主义发展直接提供了（ ）
①自由劳动力 ②市场 ③资金 ④技术。
A. ①③ B. ②③ C. ①④ D. ③④
5. 与中国以往近代化探索相比，辛亥革命的不同之处在于（ ）
A. 以富国强兵为宗旨 B. 主张学习西方政治制度
C. 建立资产阶级共和国 D. 宣传民主和科学的思想
6. 按时间先后顺序排列以下历史事件是（ ）
①日军偷袭珍珠港 ②九一八事变
③德军“闪击”波兰 ④中国抗日民族统一战线正式建立。
A. ①②③④ B. ②③④① C. ②④③① D. ③①②④
7. 新中国实施“一五计划”的成就有（ ）
A. 基本完成土地改革 B. 初步建立社会主义公有制
C. 基本普及九年义务教育 D. 香港和澳门回归祖国
8. 他带领人民艰苦奋斗，治理灾害，开始改变当地贫穷的面貌：病故前要求“埋在沙滩上”，“也要看着把沙丘治好”。这位被称为“党的好干部”的模范人物是（ ）
A. 雷锋 B. 王进喜 C. 邓稼先 D. 焦裕禄
9. 如图为“中国国内生产总值变化示意图”。其中增长最快时期的推动因素是（ ）



- A. 实行家庭联产承包责任制 B. 建立深圳等经济特区
 C. 实行社会主义计划经济 D. 推行社会主义市场经济
10. 如表反映出 ()

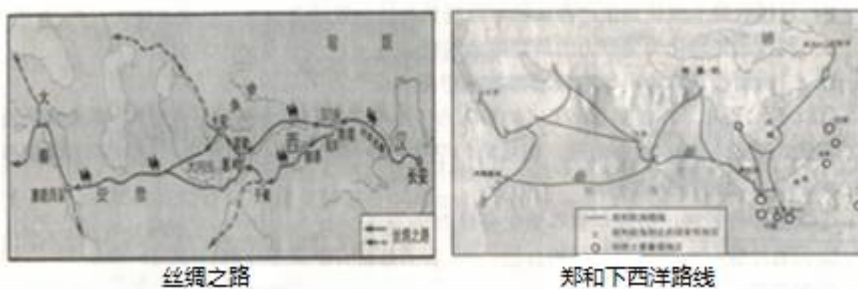
17 世纪以来主要科学成果情况表

科学成果项目	基础研究年份 (A)	应用研究年份 (B)	生产推广年份 (C)	B - A 年差	C - B 年差	C - A 年差
蒸汽机	1687	1711	1785	24	74	98
发电机	1831	1888	1889	57	1	58
计算机	1936	1946	1946	10	0	10
激光	1958	1960	1961	2	1	3

- A. 新的科技成果都以科学理论的重大突破为基础
 B. 科技成果从发明到生产推广的年限越长科技含量越高
 C. 科技成果转化为生产力的周期越来越短
 D. 三次科技革命中科学与技术都紧密结合

二、非选择题。(共 20 分)

11. 读下列丝绸之路和郑和下西洋示意图，回答问题。



- (1) 丝绸之路的开路先锋是谁？这条交通要道为什么称为“丝绸之路”？
 (2) 唐宋以来海上丝绸之路在中外交往中越来越重要，出现了明代郑和七次下西洋的壮举。请简要分析产生这一壮举的社会条件。
 (3) 清初实行严厉的禁海政策，将沿海居民内迁数十里，不许擅自出海贸易。清政府推行闭关锁国政策

近二百年。谈谈清朝统治者实行闭关锁国政策产生的历史影响。

12. 阅读下列材料，回答问题。

材料：下午，十几个学校的学生近 3000 人齐集天安门，人人手里拿着一面或两面白旗，上面写着“还我青岛”“取消二十一条”等……（6 月 3 日，上海）出现大规模的工厂罢工和商店罢市……6 月 28 日和会对德和约签字，中国代表团拒绝出席此次全体会议，没有在该项和约上签字！

——金冲及《二十世纪史纲》

- (1) 说说上述事件发生的背景。
- (2) 从材料中归纳能够反映中国人民坚决反对屈辱外交的具体史实。
- (3) 当代青年应该怎样发扬五四精神？

13. 阅读下列材料，回答问题。

材料一：英美两国 1870 年、1913 年各占世界工业生产总值的比重（%）

——改编自《大国兴衰》

- (1) 根据材料指出到 1913 年美国工业地位的变化并简要分析美国工业迅速发展的主要原因。

材料二：如图书封面图




- (2) 罗斯福就任美国总统时面临的“危机”是什么？他是怎样领导美国“走出危机”的？

材料三：如表

年份	1950	1955	1965	1975	1982	1985	1994	1999
国内生产总值年均增长率 (%)	8.7	5.6	6.3	- 0.8	- 1.9	3.3	3.9	4

- (3) 请根据表在以下坐标中绘制战后美国国内生产总值年均增长率折线图，并用文字表述大致过程。
- (4) 美国建国后虽遇重重危机，都能踏浪前进，终成就举世无双的超级大国。请联系所学知识，谈谈美国的发展经验。



2017年湖北省随州市中考历史试卷

参考答案与试题解析

一、选择题（下面各题的四个选项中，只有一项是符合题意的，每题2分，共20分）

1. “富贵不能淫，贫贱不能移，威武不能屈，此之谓大丈夫。”这句话符合下列哪家思想（ ）

A. 儒家 B. 法家 C. 道教 D. 佛教

【考点】2P：百家争鸣。

【分析】本题以名言为切入点，考查百家争鸣。

【解答】“富贵不能淫，贫贱不能移，威武不能屈，此之谓大丈夫。”是孟子的名言，孟子是战国时期儒家最著名的代表人物，主张“施仁政于民”和“民贵君轻”。

故选A。

2. 西藏正式纳入中国的行政区开始于（ ）

A. 秦朝 B. 唐朝 C. 元朝 D. 清朝

【考点】6F：元巩固统一的措施。

【分析】本题以西藏正式纳入中国的行政区为依托，考查宣政院的设置。

【解答】元朝设置宣政院管理西藏地区军政要务，宣政院是元朝掌管全国佛教事宜和藏族地区军政事务的中央机关。从此，西藏地区正式成为我国中央政府直接管辖的一个地方行政区域。

故选C。

3. 下列革命和改革引起社会性质变化的是（ ）

①英国资产阶级革命 ②美国南北战争 ③日本明治维新 ④俄国十月革命。

A. ①② B. ①③ C. ①③④ D. ①②③④

【考点】H5：英国资产阶级革命；JD：日本明治维新；L2：俄国十月革命。

【分析】本题考查的是英国资产阶级革命、美国南北战争、日本明治维新、俄国十月革命的知识点。这些事件中南北战争前后的社会性质都是资本主义，没有引起社会性质的变化。

【解答】英国资产阶级革命摧毁了英国的封建统治，建立了资本主义制度。南北战争前后的社会性质都是资本主义，没有引起社会性质的变化。日本明治维新使日本由封建国家，逐步转变为资本主义国家。十月革命是人类历史上第一次获得胜利的社会主义革命，推翻了资产阶级临时政府，建立了世界上第一个社会主义国家。

故选C。

4. 从亚历山大二世废除农奴制法令主要内容上看，它主要为资本主义发展直接提供了（ ）

①自由劳动力 ②市场 ③资金 ④技术。

A . ①③ B . ②③ C . ①④ D . ③④

【考点】JB：1861年俄国农奴制改革。

【分析】本题以“亚历山大二世废除农奴制法令”“主要为资本主义发展”为切入点，考查的是俄国农奴制改革。应重点掌握俄国农奴制改革的内容。

【解答】依据题干“亚历山大二世废除农奴制法令”、“主要为资本主义发展”判断是《废除农奴制》法令。依据所学知识，废除农奴制的法令规定：农奴有人身自由，地主不得买卖农奴，不得干涉他们的婚姻和家庭生活；农奴有占有动产和不动产、从事工商业活动等权利；农奴解放时，可从地主那里赎买一块份地。从法令颁布到1866年，俄罗斯地区先后有2000多万农奴获得解放。农奴解放时，可从地主那里赎买一块份地，但是必须用高价赎买这块份地。故从亚历山大二世废除农奴制法令主要内容上看，它主要为资本主义发展直接提供了自由劳动力和资金。

故选A。

5. 与中国以往近代化探索相比，辛亥革命的不同之处在于（ ）

- A . 以富国强兵为宗旨 B . 主张学习西方政治制度
C . 建立资产阶级共和国 D . 宣传民主和科学的思想

【考点】96：辛亥革命。

【分析】本题主要考查学生运用所学知识解决问题的能力。熟练掌握辛亥革命的领导人、性质以及作用。

【解答】资产阶级革命派掀起辛亥革命，主张建立共和制，利用暴力推翻封建专制统治。洋务运动以富国强兵为目的。洋务派掀起了一场“师夷长技”的洋务运动。洋务派起初以“自强”为口号，创办一批近代军事工业，19世纪70年代，洋务派又提出“求富”的口号，创办民用工业。戊戌变法学习西方先进的政治制度，是一次自上而下的资产阶级改革，企图通过改良来实现君主立宪，以挽救民族危亡。宣传民主和科学的思想是新文化运动。

故选C。

6. 按时间先后顺序排列以下历史事件是（ ）

- ① 日军偷袭珍珠港 ② 九一八事变
③ 德军“闪击”波兰 ④ 中国抗日民族统一战线正式建立。

A . ①②③④ B . ②③④① C . ②④③① D . ③①②④

【考点】A4：七七事变和日本全面侵华；A1：九一八事变和中国局部抗战；A5：国共第二次合作和抗日民族统一战线的正式建立；M2：第二次世界大战的爆发。

【分析】本题考查第二次世界大战，掌握二战重大事件的时间。

【解答】珍珠港事件时间是1941年，九一八事变发生在1931年，1939年德军突袭波兰，中国抗日民

族统一战线正式建立是在 1937 年，正确的排列是②④③①。

故选 C。

7. 新中国实施“一五计划”的成就有（ ）

A. 基本完成土地改革 B. 初步建立社会主义公有制

C. 基本普及九年义务教育 D. 香港和澳门回归祖国

【考点】C9：一五计划。

【分析】本题以初步建立社会主义公有制为切入点，主要考查新中国实施“一五计划”的成就。

【解答】第一个五年计划是指从 1953 年至 1957 年，新中国仿照苏联工业化模式实施的、第一个为期五年的国民经济发展计划。新中国的第一个五年计划是根据党的过渡时期的总任务提出的，其基本任务是：集中主要力量进行以苏联帮助我国设计的 156 个建设单位为中心，由限额以上的 694 个建设单位组成的工业建设，建立我国的社会主义工业化的初步基础；发展部分集体所有制的农业生产合作社，并发展手工业生产合作社，建立对于农业和手工业的社会主义改造的初步基础；基本上把资本主义工商业分别地纳入各种形式的国家资本主义的轨道，建立对于私营工商业的社会主义改造的基础。到 1957 年底，第一个五年计划超额完成，社会主义改造和社会主义建设取得了巨大的成就，初步建立了社会主义公有制。

故选 B。

8. 他带领人民艰苦奋斗，治理灾害，开始改变当地贫穷的面貌：病故前要求“埋在沙滩上”，“也要看着把沙丘治好”。这位被称为“党的好干部”的模范人物是（ ）

A. 雷锋 B. 王进喜 C. 邓稼先 D. 焦裕禄


【考点】CF：社会主义建设英雄模范人物。

【分析】本题考查了焦裕禄。探索建设社会主义时期涌现出的模范人物主要有“两弹元勋”邓稼先；“铁人”王进喜；“党的好干部”焦裕禄等，他们身上都具有艰苦创业和全心全意为人民服务的精神。

【解答】被称为“党的好干部”的模范人物是焦裕禄。焦裕禄在任中共河南省兰考县县委书记时，兰考县遭受内涝、风沙、盐碱三害，粮食产量降到历史最低水平。他带领全县干部和群众，同自然灾害进行顽强斗争，使兰考贫困面貌大为改观，他身患癌症，仍然坚持工作，直到生命最后，人民称颂他是“党的好干部”。

故选 D。

9. 如图为“中国国内生产总值变化示意图”。其中增长最快时期的推动因素是（ ）



- A . 实行家庭联产承包责任制 B . 建立深圳等经济特区
C . 实行社会主义计划经济 D . 推行社会主义市场经济

【考点】D9：中共十四大提出建立社会主义市场经济体制。

【分析】本题以示意图切入考查我国推行社会主义市场经济。

【解答】题目给出的中国国内生产总值变化示意图显示从 1978 年至 1997 年中国国内生产总值迅速提高，特别是 90 年代提出建立社会主义市场经济体制后，发展更为迅速，这主要得益于改革开放后我国改变计划经济推行社会主义市场经济。国民生产总值包含农业和工业，AB 不全面。

故选 D。

10 . 如表反映出 ()

17 世纪以来主要科学成果情况表

科学成果 项目	基础研究 年份 (A)	应用研究 年份 (B)	生产推广 年份 (C)	B - A 年差	C - B 年差	C - A 年差
蒸汽机	1687	1711	1785	24	74	98
发电机	1831	1888	1889	57	1	58
计算机	1936	1946	1946	10	0	10
激光	1958	1960	1961	2	1	3

- A . 新的科技成果都以科学理论的重大突破为基础
B . 科技成果从发明到生产推广的年限越长科技含量越高
C . 科技成果转化为生产力的周期越来越短
D . 三次科技革命中科学与技术都紧密结合

【考点】I1：第一次工业革命；K1：第二次工业革命；P2：第三次科技革命的特点。

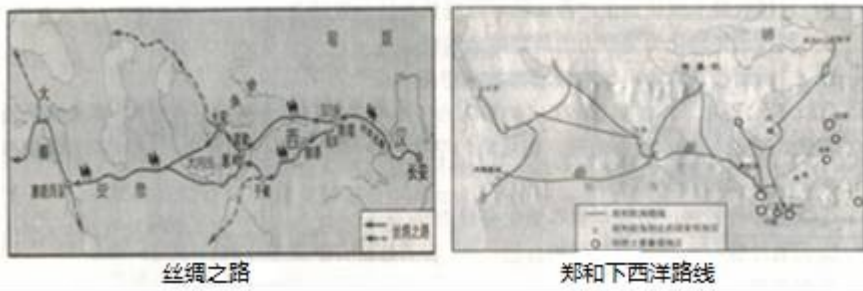
【分析】本题以 17 世纪以来主要科学成果情况表为切入点，主要考查科技成果转化为生产力的周期越来越短。

【解答】据“17 世纪以来主要科学成果情况表”，科学成果项目中“蒸汽机”、“发电机”“计算机”“激光”“基础研究年份”“应用研究年份”“生产推广年份”“B - A 年差”“C - B 年差”“C - A 年差”可知，科技成果转化为生产力的周期越来越短。

故选 C。

二、非选择题。(共 20 分)

11 . 读下列丝绸之路和郑和下西洋示意图，回答问题。



(1) 丝绸之路的开路先锋是谁？这条交通要道为什么称为“丝绸之路”？

(2) 唐宋以来海上丝绸之路在中外交往中越来越重要，出现了明代郑和七次下西洋的壮举。请简要分析产生这一壮举的社会条件。

(3) 清初实行严厉的禁海政策，将沿海居民内迁数十里，不许擅自出海贸易。清政府推行闭关锁国政策近二百年。谈谈清朝统治者实行闭关锁国政策产生的历史影响。

【考点】3H：汉通西域和丝绸之路；73：郑和下西洋；7M：闭关锁国政策；7N：闭关锁国政策的影响。

【分析】(1) 本题考查丝绸之路的开路先锋和这条交通要道称为“丝绸之路”的原因。

(2) 本题考查明代郑和七次下西洋这一壮举产生的社会条件。

(3) 本题考查清朝统治者实行闭关锁国政策产生的历史影响。

【解答】(1) 开辟丝绸之路的是汉朝的张骞，丝绸之路是指古代连接中国和亚非各国的陆上交通要道；这条连接欧亚大陆的大通道会被称为“丝绸之路”的原因是当时这条通道主要运输的是丝绸，故称为丝绸之路。

(2) 明初社会安定，国力雄厚是世界上强盛的国家。为了加强同海外各国的联系，明成祖派遣郑和下西洋。这就是明代郑和七次下西洋这一壮举产生的社会条件。

(3) 据所学知，清朝的闭关锁国政策对西方殖民者的侵略活动，起到一定的自卫作用。但这一政策的长期推行阻碍了中外联系，影响了中国吸收世界先进的文化和科学技术，阻碍了中国经济文化的发展，是中国近代社会落伍的重要原因之一。

故答案为：

(1) 张骞；当时这条通道主要运输的是丝绸，故称为丝绸之路。

(2) 明初社会安定，国力雄厚是世界上强盛的国家。

(3) 清朝的闭关锁国政策对西方殖民者的侵略活动，起到一定的自卫作用。但这一政策的长期推行阻碍了中外联系，影响了中国吸收世界先进的文化和科学技术，阻碍了中国经济文化的发展，是中国近代社会落伍的重要原因之一。

12. 阅读下列材料，回答问题。

材料：下午，十几个学校的学生近 3000 人齐集天安门，人人手里拿着一面或两面白旗，上面写着“还我青岛”“取消二十一条”等……（6 月 3 日，上海）出现大规模的工厂罢工和商店罢市……6 月 28 日和会对德和约签字，中国代表团拒绝出席此次全体会议，没有在该项和约上签字！

——金冲及《二十世纪史纲》

- (1) 说说上述事件发生的背景。
- (2) 从材料中归纳能够反映中国人民坚决反对屈辱外交的具体史实。
- (3) 当代青年应该怎样发扬五四精神？

【考点】9B：五四运动；PD：历史开放性问题。

【分析】（1）本题以“还我青岛”“取消二十一条”为切入点，考查五四运动的知识。

（2）本题以“6 月 28 日和会对德和约签字，中国代表团拒绝出席此次全体会议，没有在该项和约上签字”为切入点，考查的是五四运动的知识。

（3）本题考查学生的综合能力。

【解答】（1）依据材料“还我青岛”“取消二十一条”可知，在一战后召开的巴黎和会上，列强不顾中国政府的反对，把德国在山东的权益转交给了日本，中国在巴黎和会上外交的失败，成为了五四运动的导火线，在五四运动的影响下，中国代表团最终没有在和约上签字。

（2）依据材料的描述可知，史实有学生罢课，提出“还我青岛”等反帝口号；中国代表团拒绝在和约上签字。

（3）五四精神可从以下方面来总结：如以天下为己任的爱国主义精神、民主、团结精神等；作为青少年，应努力学好知识，掌握本领，将来为祖国做贡献。

故答案为：

- （1）列强把德国在山东的权益转交给了日本，中国在巴黎和会上外交的失败，成为了五四运动的导火线。
- （2）学生罢课，提出“还我青岛”等反帝口号；中国代表团拒绝在和约上签字。
- （3）以天下为己任的爱国主义精神、民主、团结精神等；作为青少年，应努力学好知识，掌握本领，将来为祖国做贡献。

13. 阅读下列材料，回答问题。

材料一：英美两国 1870 年、1913 年各占世界工业生产总值的比重（%）

——改编自《大国兴衰》

- （1）根据材料指出到 1913 年美国工业地位的变化并简要分析美国工业迅速发展的主要原因。

材料二：如图书封面图



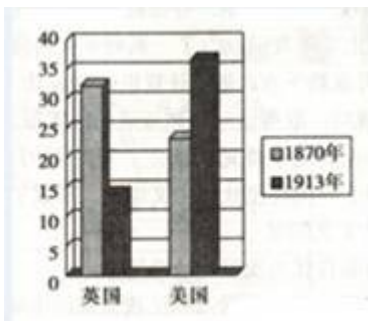
(2) 罗斯福就任美国总统时面临的“危机”是什么？他是怎样领导美国“走出危机”的？

材料三：如表

年份	1950	1955	1965	1975	1982	1985	1994	1999
国内生产总值年均增长率 (%)	8.7	5.6	6.3	-0.8	-1.9	3.3	3.9	4

(3) 请根据表在以下坐标中绘制战后美国国内生产总值年均增长率折线图，并用文字表述大致过程。

(4) 美国建国后虽遇重重危机，都能踏浪前进，终成就举世无双的超级大国。请联系所学知识，谈谈美国的发展经验。



【考点】 K3：第二次工业革命的影响；LE：罗斯福新政；MB：战后的美国经济；PD：历史开放性问题。

【分析】 (1) 本题以英美两国 1870 年、1913 年各占世界工业生产总值的比重 (%) 图为依托，考查 1913 年美国工业地位的变化以及美国工业迅速发展的主要原因。

(2) 本题以图书封面图为依托，考查罗斯福新政的相关知识。

(3) 本题以国内生产总值年均增长率 (%) 框表为依托，考查战后美国国内生产总值的状况。

(4) 本题是开放型题目，考查学生开放性思维的能力。

【解答】 (1) 据材料“英美两国 1870 年、1913 年各占世界工业生产总值的比重 (%)”可知，1913 年美国工业生产总值超过老牌工业强国英国，跃居第一位。美国工业迅速发展的主要原因是第二次工业革命，美国抓住第二次工业革命的机遇，更多地采用新技术和新设备，经济迅速发展，超过了老牌工业强国 - 英国。

(2) 仔细观察图片可知，图片中人物是罗斯福，据材料图片关键信息“走出危机”并结合所学知识可知，罗斯福就任美国总统时面临的“危机”是 1929 - 1933 年经济大危机，为了摆脱经济危机，罗斯福实行新政，新政取得了很好的效果，美国经济缓慢恢复过来。

(3) 据材料“国内生产总值年均增长率 (%) 框表”并结合所学知识可知，20 世纪 50、60 年代，美国占据广阔的国际市场，大力发展新型工业和军事工业，出现战后经济的繁荣。70 年代，受经济危机的影响，经济地位下降。70 年代末 80 年代初，受到通货膨胀的困扰。80 年代中期以后，政府调整政策，形势逐渐好转。90 年代以后，进入新经济时代，经济持续稳定发展。由此来看，美国经济并不是发展速度非常快，而是很曲折的。战后美国国内生产总值年均增长率折线图依据年代和增长率数字对应绘制。

(4) 本题是开放型题目，考查学生开放性思维的能力。只要符合题意，言之有理即可。如注重改革创新，充分重视教育和人才的作用，抓住机遇，迎接挑战，积极发展高新技术产业等等。

故答案为：

(1) 美国工业生产总值超过老牌工业强国，跃居第一位。第二次工业革命。

(2) 1929 - 1933 年经济大危机；实行罗斯福新政。

(3)



20 世纪 50、60 年代，美国占据广阔的国际市场，大力发展新型工业和军事工业，出现战后经济的繁荣。70 年代，受经济危机的影响，经济地位下降。70 年代末 80 年代初，受到通货膨胀的困扰。80 年代中期以后，政府调整政策，形势逐渐好转。90 年代以后，进入新经济时代，经济持续稳定发展。由此来看，美国经济并不是发展速度非常快，而是很曲折的。

(4) 注重改革创新，充分重视教育和人才的作用，抓住机遇，迎接挑战，积极发展高新技术产业等等。