

# 益阳市 2020 年初中学业水平考试

## 历史

本学科为闭卷考试，考试时量为 90 分钟，卷面满分为 100 分。

### 一、选择题

1. 某中学历史学习小组以“发达的中国原始农业”为题开展研究性学习，搜集到以下材料，其中最可靠的是

- A. 关于神农尝百草的传说
- B. 《诗经》的相关描述
- C. 河姆渡遗址出土的稻谷
- D. 《齐民要术》的记载

2. 据《通志·氏族略》记载：周武王灭商以后，追封虞舜后人妘满于陈，封为陈侯，其后子孙以国为姓。材料反映与陈姓的姓氏来源有关的制度是

- A. 禅让制
- B. 分封制
- C. 郡县制
- D. 行省制

3. 唐朝诗人皮日休在《汴河怀古》中咏道“尽道隋亡为此河，至今千里赖通波。若无水殿龙舟事，共禹论功不较多。”可见隋朝大运河

- A. 加强了南北交通
- B. 连接长江与珠江水系
- C. 巩固了隋朝统治
- D. 使成都平原成为沃野

4. 文物是鲜活的历史。以下三幅文物图片体现的共同主题是宋朝



《清明上河图》局部 北宋纸币铜版拓片 “济南刘家功夫针铺”铜版

- A. 绘画艺术高超
- B. 科技领先世界
- C. 经济重心南移
- D. 商品经济发展

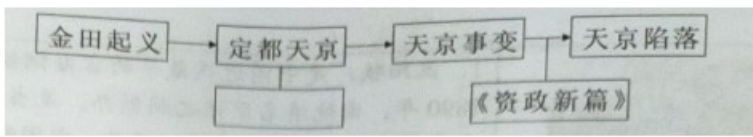
5. 南宋岳飞统率的“岳家军”北伐，从金军手中收复许多失地。明朝戚继光率领的“戚家军”南下浙江抗倭，多次击退倭寇的进攻。这两支军队能屡打胜仗的主要原因是

- A. 统治者反抗侵略决心坚定
- B. 军队训练有素，纪律严明
- C. 将士们对倭寇的深恶痛绝
- D. 朝廷国力强盛，防备森严

6. 历史学习中要注意分清史实与史论。下列史实与对应的史论相符的一项是

- A. 鸦片战争——标志着中国近代史的开稿
- B. 八国联军侵华战争——大大加深了中国的半殖民地化程度
- C. 秋收起义——打响了武装反抗国民党反动派的第一枪
- D. 红军长征——标志着抗日民族统一战线初步形成

7.制作知识结构图是学习历史的一种方法。如图是“太平天国运动兴衰”示意图，其中空白处应填入的内容是




- A. 《海国图志》
- B. 《天朝田亩制度》
- C. 《变法通议》
- D. 《驳康有为论革命书》

8.“东方欲晓现曙光，南湖红船逐激浪。志合道同辟新天，旗擎马列明方向。”此诗反映的历史事件

- A. 标志着新民主主义革命的开端
- B. 基本推翻了北洋军阀的统治
- C. 动摇了封建道德礼教统治地位
- D. 使中国革命的面貌焕然一新

9.导致图中 1916 年—1919 年中国民族资本主义经济发展状况的主要原因是



20 世纪初中国民族资本主义发展状况

- A. “实业救国”思潮的影响
- B. 群众性反帝爱国运动的推动
- C. 清政府放宽了对民间办厂的限制
- D. 欧洲列强暂时放松了对华经济侵略

10.1940 年下半年，八路军总部在华北组织了 100 多个团，对日军发动一场大规模进攻，作战 1800 余次，毙伤日伪军 2.5 万多人，破坏了大量交通线。这次战役

- A. 提高了共产党和八路军的威望
- B. 打破了日本 3 个月灭亡中国的迷梦
- C. 粉碎了日军“不可战胜”的神话
- D. 是抗战以来中国正面战场的最大胜利

11.毛泽东同志不仅是伟大的无产阶级革命家、军事家，而且留下了许多脍炙人口的诗词。下列诗句反映的历史事件发生于解放战争时期的是

- A. 秋收时节暮云愁，霹雳一声暴动
- B. 五岭逶迤腾细浪，乌蒙磅礴走泥丸
- C. 黄洋界上炮声隆，报道敌军宵遁
- D. 钟山风雨起苍黄，百万雄师过大江

12.2020 年 6 月 15 日，印度军队在加勒万河谷非法越过中印实际控制线，与我边防部队发生肢体冲突，出现人员伤亡。印度的这一行为违背了建国初期中印缅三国总理共同倡导的

- A. 和平共处五项原则
- B. 不结盟的政策
- C. “求同存异”的方针
- D. 反对霸权主义

13.十一届三中全会以来，深圳在短短几年内从一个小渔村建设成为一座繁华的现代化城市，浦东从一张普通的上海面孔跃升为闪亮的国家名片。两者的发展变化都得益于

- A. 中国加入了世贸组织  
B. 家庭联产承包责任制的实施  
C. 对外开放政策的推行  
D. 社会主义市场经济体制确立

14. 独具时代特色的流行词汇是社会发展的一个个坐标，以下为新中国成立以来不同时期的主要热词，其中属于 2012 年党的十八大以来的是

- A. 新中国 土地改革 “最可爱的人”  
B. 总路线 三面红旗 “人民公社好”  
C. 红卫兵 阶级斗争 “停课闹革命”  
D. 中国梦 精准扶贫 “两个一百年”

15. 如图是保存于中国历史博物馆 某文物的照片。下列关于该文物的说法正确的是



- A. 是迄今世界上出土的最重的青铜器  
B. 出土于湖南宁乡  
C. 为研究秦朝历史提供了珍贵的史料  
D. 是贵族用的乐器

16. “一位诗人，延续千载的爱国情怀；一样食物，属于中国人的温暖之味；一种文化，坚守传递的永恒纪念”中国人民在端午节纪念的这位诗人是

- A. 屈原  
B. 杜甫  
C. 贾谊  
D. 刘巴

17. 谭嗣同少年时勤奋刻苦，青年时积极宣扬革新图强的思想，他在湖南率先创办了

- A. 安庆内军械所  
B. 浏阳算术馆  
C. 江南制造总局  
D. 福州船政局

18. 2020 年是湖南共产主义小组成立 100 周年，该小组的主要发起者包括

- A. 周恩来、李达  
B. 陈独秀、李大钊  
C. 刘少奇、贺龙  
D. 毛泽东、何叔衡

19. 湖南地方剧种丰富多彩，其中在湖南各地最为流行的剧种是

- A. 湘剧  
B. 京剧  
C. 花鼓戏  
D. 辰河戏

20. 下列文学作品中，通过描写湖南一个农业生产合作社的发展过程，艺术地展现合作化运动前后中国农村的社会面貌巨大变化的是

- A. 《边城》  
B. 《山乡巨变》  
C. 《暴风骤雨》  
D. 《太阳照在桑干河上》

21. 人类文明的进步离不开科学技术的发展。下列有关中外科技成就的说法正确的有

- ① 陈国达教授创立的地洼学说开辟了大地构造研究的新领域  
② 黄伯云教授带领的课题组培育出湘云鲫（鲤）  
③ 帕特农神庙是罗马建筑艺术的典型代表  
④ 阿拉伯的《医学集成》和《医典》长期被欧洲医学界奉为经典

- A. ①③                      B. ②③                      C. ①④                      D. ②④

22.伯利克里时期，雅典的公职人员几乎都是从全体公民中抽签产生，公民大会主席团也经抽签产生。这

- A. 一定程度上影响了决策的科学性                      B. 保障了全体雅典居民的权利  
C. 大大提高了公民大会的办事效率                      D. 奠定了雅典民主政治的基础

23.历史上出现过多个地跨欧、亚、非三洲的大帝国。如图是 2 世纪时某帝国的疆域图，此帝国是



- A. 罗马帝国                      B. 阿拉伯帝国                      C. 拜占庭帝国                      D. 亚历山大帝国

24.“农业、采矿业、渔业和林业产量的提高，相应地促进了商业和城市的发展……城市作为地方贸易和地方行政的中心，开始慢慢地出现。”材料反映欧洲城市兴起的主要原因是

- A. 大学的兴起                      B. 市民阶层发展壮大  
C. 庄园的出现                      D. 社会生产力的发展

25.1500 年左右，大西洋一变而成一座桥梁，世界开始连为一个整体，世界的观念从此逐步确立起来。引起这一变化的历史事件是

- A. 郑和下西洋                      B. 三角贸易                      C. 新航路开辟                      D. 工业革命

26.2020 年，我国首部民法典出台。1804 年法国颁布了第一部资产阶级民法典，很多国家的民法都以其为参照蓝本，这部法律文献是

- A. 《汉谟拉比法典》                      B. 《查士丁尼法典》  
C. 《权利法案》                      D. 《拿破仑法典》

27.明治维新期间，政府把铁路和军工企业以外的大部分国营企业无偿或以优惠的价格转让给私人资本家，通过补助金和优惠贷款等形式给予私人资本家资金支持。这反映了明治政府的哪项改革措施

- A. “殖产兴业”                      B. 废藩置县  
C. 提倡“文明开化”                      D. 建立新式军队

28.华为有遍布世界各地的 17 万多名员工，产品已经应用于全球 170 多个国家，服务全球运营商 50 强中的 45 家及全球 1/3 的人口，这说明当今世界呈现出

- A. 经济全球化趋势                      B. 政治多极化趋势  
C. 区域集团化趋势                      D. 文化多元化趋势

## 二、非选择题

29.统一是一个国家繁荣富强的必要前提和重要保证。阅读下列材料，回答问题


材料一 “秦王扫六合，虎视何雄哉！挥剑决浮云，诸侯尽西来。”

——摘自李白《古风·秦王扫六合》

材料二 清朝根据边疆地区的情况设置不同的行政机构。在地方行政方面，清政府分别采取郡县制、盟旗制、伯克制等。在蒙古族聚居的北疆地区，清朝则实行盟旗制度。在新疆地区，清政府主要采取军府制实行统治。在西藏地区，实行政教合一制度。

——摘编自韩茂莉著《中国历史地理十五讲》

材料三



林肯

邓小平

材料四 民进党当局拒不承认体现一个中国原则的“九二共识”，单方面破坏两岸关系和平发展的政治基础。一些政客制造两岸对立，阻挠两岸交流合作，企图从地理和法理上切割台湾与大陆的关系。他们加紧勾连外部势力破坏台海和平，“以疫谋独”。极少数“台独”分裂分子鼓噪所谓“修法”“公投”，图谋“法理台独”。这些都严重损害台湾同胞福祉，严重损害中华民族根本利益，严重威胁台海和平稳定。

——摘自新华社，2020.5.20《我们有足够能力捍卫领土完整》

请回答：

- (1) 材料一中“秦王”指的是谁？诗歌赞扬了他的哪一重大历史功绩？
- (2) 根据材料二指出清朝边疆地区行政机构设置 特点。结合所学知识概括清朝前期为巩固西北边疆采取的措施。
- (3) 材料三中的两个人物都为促进各自国家的统一做出了重大贡献，请结合史实予以说明。
- (4) 结合材料四与所学知识，谈谈你对台湾问题的看法。

30.武汉是中国中部地区的一颗璀璨明珠。阅读下列材料，回答问题。

材料一



1. 汉阳铁厂是中国近代最早的官办钢铁企业，诞生于1890年，由晚清名臣张之洞创办，是当时中国第一家，也是最大的钢铁联合企业。从此，中国钢铁工业蹒跚起步，被西方视为中国觉醒的标志。  
2. 1892年湖北织布局建成开工生产。此厂有布机一千张，纱锭三万枚，雇用工人约二千五百名，产品在市场上销售很快，获利甚厚。能织原色布，斜纹布，花布等，湖北织布局畅销湖北、湖南、四川等省，还远销海外。

材料二 壮士弯弓射大雕，挥戈跃马灭前朝。武昌城头旌旗展，烽火神州遍地烧。

——摘自柳库《七绝·壮举》

材料三 为了保卫大武汉，中国军队共部署约100万人参战，利用大别山、鄱阳湖和长江两岸有利地

形，构筑工事，逐次抵抗，消耗敌人。在江西万家岭，中国军队击毙日军 3000 余人。但是，整个战场形势对中国不利，为避免损失，中国军队在与日军主力部队相持近四个月后有序撤出武汉。武汉会战是抗日战争战略防御阶段规模最大、时间最长、歼敌最多的一次战役。大大消耗了日军的有生力量，此后，中国抗日战争进入战略相持阶段。

——摘编自人教版《中国历史》八年级上册

请回答：

- (1) 根据材料一概括洋务运动中民用企业的特点，结合所学知识分析洋务运动的历史作用。
- (2) 材料二反映的是哪一历史事件？这一事件对中国政治近代化进程产生了什么影响？
- (3) 根据材料三指出武汉会战在抗日战争中的历史地位。
- (4) 上述发生在武汉的历史事件折射出中华民族的哪些精神？

31. 中西人文精神历史悠久，源远流长。时至今日，在各自的文明发展中仍发挥着重要的作用。阅读材料，回答问题。

材料一 在春秋战国时期，中国的“人文”主义思潮主要指的是儒家思想的两位代表人物的核心思想。其一是孔子的“仁”的思想，其二是孟子的“民本”思想。不管是孔子的“仁”，还是孟子的“民本”，都体现了关注人，重视人的作用。在这个时期强调个人道德的重要性，而不是再次强调神的重要性，认为人有了道德才配天命，而“德”却是用来“保民”和“爱民”。其他如道家、墨家等，都有强烈的人文关怀。

——摘自《百家争鸣与文艺复兴 历史比较》

材料二 在西方，文艺复兴时期的新启蒙思潮首倡人文主义，也从此奠定了西方人文主义的基本传统。从词源说，Humanism（人文主义、人本主义或人道主义）源于拉丁语 Humnitas（人文的），其基本精神在于强调尊重人，以人为中心，一切为了人的利益。它的批判矛头直接指向封建意识形态、等级制度和宗教神学。

——摘自《中西人文主义精神比较》

请回答：

- (1) 根据材料一和所学知识分析春秋战国时期儒家和墨家是如何体现人文关怀？
- (2) 文艺复兴的先驱是谁？根据材料二和所学知识，你如何理解文艺复兴并非简单的“复兴”？
- (3) 材料一和材料二反映了中西人文主义思想的基本精神是什么？有什么现实意义？

32. 人类社会在不断克服各种重大危机的过程中进步。阅读下列材料，回答问题。

材料一 事实上，在 1825 年至 1855 年尼古拉一世统治的 30 年间，已爆发了 500 多次农民骚动。

随着克里米亚的灾难，农奴的不断上升的压力变得不可抗拒起来，尼古拉的继任者亚历山大二世把解放农奴当作代替革命的唯一办法。他的《解放法令》解放了农奴，将农奴耕种的土地在农奴和贵族地主之间重新分配。这是俄国历史上的一个重大转折点，甚至比美国历史上 1863 年的《解放宣言》意义更重大。

——摘自斯塔夫里阿诺斯《全球通史》

材料二 1929 年 10 月下旬，美国股票价格突然暴跌。一场规模空前的经济大危机迅速席卷了整个资本主义世界，1929—1933 年，整个资本主义世界的工业产量下降 40% 以上，贸易额减少了 2/3。其中美国工业产量下降超过 40%，贸易额减少 70%。

——摘自人教版《世界历史》九年级下册

材料三 新冠肺炎疫情的发生再次表明，人类是一个休戚与共的命运共同体。在当今社会，这样重大的突发事件不会是最后一天，各种传统安全和非传统安全问题还会不断带来新的考验。国际社会必须树立人类命运共同体意识，守望相助，携手应对风险挑战，共建美好全球家园。

——摘自《人民网》

请问答：

- (1) 根据材料已分析促成俄国亚历山大二世改革的原因有哪些？怎样理解材料中“这是俄国历史上的一个重大转折点”？
- (2) 根据材料二概括此次经济大危机的特点。结合所学知识分析美国应对此次危机的方式和结果。
- (3) 结合材料三，谈谈我们应该如何有效应对当前的新冠肺炎疫情？

33. 阅读下列材料，完成下列要求。

人民是历史的创造者，是真正的英雄。从“宁可少活 20 年，拼命也要拿下大油田”的忘我拼搏，到“立下生死状，按下红手印”的改革探索，再到“我站立的地力是中国”的默默坚守，是亿万人民挥洒汗水、埋头苦干，把一个个“不可能”变成了可能，创造了举世瞩目的中国奇迹……坚持以人民为中心的发展思想，把增进人民福祉，促进人的全面发展，朝着共同富裕的方向稳步前进作为经济发展的出发点和落脚点。这一点，我们任何时候都不能忘记，部署经济工作、制定经济政策，推动经济发展都要牢牢坚持这一根本立场。

——摘编自习近平《论坚持全面深化改革》

从材料中提取一个观点，并结合所学的中国现代史知识予以说明。（要求：观点明确，史论结合，逻辑清晰，言之成理，不少于 120 字。）

## 试卷相关说明

本试卷的题干、答案和解析均由组卷网 (<http://zujian.xkw.com>) 专业教师团队编校出品。登录组卷网可对本试卷进行**单题组卷**、**细目表分析**、**布置作业**、**举一反三**等操作。

试卷地址：[在组卷网浏览本卷](#)

---

组卷网是学科网旗下的在线题库平台，覆盖小初高全学段全学科、超过 900 万精品解析试题。关注组卷网服务号，可使用移动教学助手功能（布置作业、线上考试、加入错题本、错题训练）。



---

学科网长期征集全国最新统考试卷、名校试卷、原创题，赢取丰厚稿酬，欢迎合作。  
钱老师 QQ : 537008204    曹老师 QQ : 713000635