

## 2019年贵州省安顺市中考历史试卷

一、选择题（本大题共 8 小题，共 24.0 分）

1. 暑假快到了，安顺市某初中部分同学准备探究红军长征在贵州的历史，打算进行实地考察，请你给他们推荐合适的地点（ ）

- A. 瑞金、遵义      B. 安顺场、遵义      C. 会宁、遵义      D. 赤水、遵义

【答案】D

【解析】瑞金在江西；遵义、赤水在贵州；安顺场在四川；会宁在甘肃。故探究红军长征在贵州的历史，合适的地点是赤水、遵义。

故选：D。

本题考查红军长征、遵义会议，掌握相关的基础知识。

本题考查红军长征、遵义会议，考查学生的理解和分析能力，解题关键是掌握基础知识。

2. 探寻历史原因和结果的逻辑关系，对历史进行合理解释是我们学习历史的重要方法。下列因果关系对应正确的是（ ）

选项	原因	结果
A	外国资本主义入侵	中国走上独立发展的资本主义道路
B	辛亥革命	“先生”的称呼取代“老爷”“大人”的称谓
C	北伐战争	抗日根据地建立
D	国共合作	解放战争胜利

A. A

B. B

C. C

D. D

【答案】B

【解析】辛亥革命后，国民政府为了改变愚昧落后的习俗，颁布了剪辫、易服和废止缠足等法令。还废除了有损人格的跪拜礼，代之以文明简单的鞠躬、握手礼；取消“老爷”“大人”之类的称谓，代之以“先生”“君”等平等的称呼。“辫子搭肩三尺长，之乎者也说荒唐”不是民国时期社会习俗变化。选项 B 因果关系对应正确，符合题意。

故选：B。

本题主要考查近代社会习俗的变化的相关史实。掌握相关基础知识。

本题主要考查学生运用所学知识解决问题的能力。识记与灵活掌握近代社会习俗的变化的相关史实。

3. 习近平主席说：“一个有希望的民族不能没有英雄，一个有前途的国家不能没有先锋。”2018年4月27日，全国人民代表大会常务委员会通过《中华人民共和国英雄烈士保护法》。下列人物哪些是抗美援朝时期的英雄？（ ）

① 黄继光

② 董存瑞

③ 邱少云

④ 张自忠

A. ①②

B. ②③

C. ①③

D. ②④

【答案】C

【解析】在抗美援朝战争中，涌现出无数可歌可泣的英雄人物，例如舍身堵枪眼的黄继光，严守潜伏纪律被大火吞噬的邱少云。张自忠是抗日战争时期的英雄人物；董存瑞是解放战争时期的英雄人物。

故选：C。

本题主要考查抗美援朝战争中的英雄人物。抗美援朝战争中的英雄人物有赴汤蹈火无

所畏惧、以身躯堵住枪口的黄继光（上甘岭战役），视纪律重于生命，被大火吞噬的邱少云。

掌握各个时期英模人物的成就及影响。

4. “双方同意，各国不论社会制度如何，都应根据……和平共处的原则来处理国与国之间的关系……中国方面重申自己的立场：台湾问题是阻碍中美两国关系正常化的关键问题；中华人民共和国是中国的唯一合法政府……美国政府对这一立场不提出异议。”对材料理解不正确的是（ ）
- A. 推动了中国在联合国合法席位的恢复
  - B. 体现了求同存异的精神
  - C. 美国承认台湾是中国的一部分
  - D. 台湾问题是影响中美关系的关键问题

【答案】A

【解析】据题干“双方同意，各国不论社会制度如何，都应根据……和平共处的原则来处理国与国之间的关系……中国方面重申自己的立场：台湾问题是阻碍中美两国关系正常化的关键问题；中华人民共和国是中国的唯一合法政府……美国政府对这一立场不提出异议。”可知，反映的是尼克松访华，1972年2月，美国总统尼克松访华，中美双方在上海签署《中美联合公报》。1971年，中国在联合国合法席位恢复。

故选：A。

本题考查学生对新中国20世纪70年代的外交成就知识的掌握。1972年2月，美国总统尼克松访华。

本题考查学生对新中国20世纪70年代的外交成就知识的掌握。重点识记新中国20世纪70年代的外交成就及影响。

5. 大学是培养高等专业人才的学校，又是学术研究的场所。12世纪大学的兴起被认为是欧洲中世纪教育“最美好的花朵”。以下哪些属于中世纪欧洲的大学？（ ）
- ① 巴黎大学
  - ② 哈佛大学
  - ③ 牛津大学
  - ④ 博洛尼亚大学
- A. ①②③                      B. ②③④                      C. ①③④                      D. ①②④

【答案】C

【解析】②哈佛大学是美国的著名高校，不符合题意，据此可排除ABD三个选项。

故选：C。

本题考查了中世纪欧洲的大学，可用排除法解答。

组合选择题一般排除一个错误内容即可获取正确答案，部分题目需要经过两次排除，但有一小部分题目所有内容都正确。

6. 如图为国际社会主义运动整体发展趋势示意图，其中①处对应的历史事件是（ ）



- A. 英国宪章运动
- B. 《共产党宣言》发表
- C. 法国巴黎公社
- D. 俄国十月革命

【答案】B

**【解析】**据国际社会主义运动整体发展趋势示意图并结合所学知识可知，①处对应的历史事件是《共产党宣言》发表。1848年2月，马克思和恩格斯为国际无产阶级组织--共产主义者同盟起草的纲领性文献《共产党宣言》的发表，标志着马克思主义的诞生。马克思主义的诞生使无产阶级的斗争有了科学的理论指导，开辟了国际工人运动和社会主义运动的新局面，成为世界无产阶级的锐利思想武器。在科学理论指导下，国际工人运动进入一个新的历史时期，社会主义运动蓬勃发展。

故选：B。

本题以国际社会主义运动整体发展趋势示意图为依托，考查《共产党宣言》。

本题主要考查学生识记和分析历史知识的能力，识记与灵活掌握《共产党宣言》的发表以及意义。

7. 威斯敏斯特大教堂是世界著名的教堂，也是英国历史文化名人的墓地。2018年3月去世的著名科学家霍金被安葬在这里，与长眠于此的英国名人为邻。这些“邻居”中，包括（ ）

- A. 亚里士多德      B. 贝多芬      C. 巴尔扎克      D. 牛顿

**【答案】**D


**【解析】**威斯敏斯特大教堂是世界著名的教堂，也是英国历史文化名人的墓地。2018年3月去世的著名科学家霍金被安葬在这里，与长眠于此的英国名人为邻。这些“邻居”中，包括牛顿。英国科学家牛顿是近代自然科学的奠基人，牛顿在科学巨著《自然哲学的数学原理》，系统阐述了运动的三大定律和万有引力定律，概括了物体机械运动的基本规律，从而建立起经典力学的完整体系--牛顿力学。牛顿开创了物理学的一个新时代，对后来人类科学的发展产生了重大影响，被称为“现代科学之父”。

故选：D。

本题以威斯敏斯特大教堂是世界著名的教堂，也是英国历史文化名人的墓地为依托，考查牛顿。

本题考查运用所学知识解决问题的能力。识记与灵活掌握世界近代科技、文化和艺术成就。

8. 下列对如图漫画的解读，错误的是（ ）



- A. 英国积极推行绥靖政策  
B. 中国是世界反法西斯的重要力量  
C. 漫画作者站在反法西斯的正义立场  
D. 世界进步力量联合打击法西斯势力

**【答案】**A

**【解析】**1938年9月德、意、英、法四国政府首脑在德国慕尼黑，签订协定，规定捷克斯洛伐克必须在10天内把苏台德地区割让给德国。历史上称这一事件为“慕尼黑阴谋”。“慕尼黑阴谋”把绥靖政策推向了顶峰，它使法西斯国家得寸进尺，侵略的野心日益膨胀，也极大地削弱了反法西斯力量，加速了第二次世界大战的爆发。西方大国害怕法西斯国家的战争讹诈，他们为将祸水东引，让德国侵略的矛头引向苏联，对德

国的侵略活动不加严厉制裁，而是希望以牺牲小国的利益，来安抚侵略者。人民把这种政策叫做“绥靖政策”。题干给出的图片反映则是国际反法西斯联盟团结一致抗击法西斯的侵略，对如图漫画的解读，错误的是英国积极推行绥靖政策。法西斯国家的大肆侵略，激起了全世界人民的广泛愤怒，为了对付共同的敌人法西斯，国际反法西斯国家逐渐走向联合。1942年1月1日，26个国家代表在美国华盛顿签署《联合国家宣言》，保证将用自己的全部人力和物力，联合起来，打败法西斯国家，标志着国际反法西斯联盟建立。国际反法西斯联盟建立以后，反法西斯国家相互支援，协同作战，战斗力大大增强，逐渐扭转了战争形势。

故选：A。

本题考查了绥靖政策和国际反法西斯联盟。希特勒上台后，德国大肆扩军备战，吞并奥地利后，把矛头指向捷克斯洛伐克。

图片型题目必须认真观察分析图片中包含的文字，根据相关文字的提示信息或准确识别图片确定正确答案。

## 二、材料解析题（本大题共4小题，共36.0分）

9. 没有共产党就没有新中国，中国共产党诞生于民族危难之际，始终不忘初心，牢记使命，带领全国各族人民砥砺奋进，潜心筑梦。阅读下列材料，回答问题，

材料一：从1840年开始，在炮口的逼迫下，中国蹒跚地走入近代，随后的一百余年里，外国人通过条约“合法”地剥夺榨取、管束控制中国，驱使中国社会脱出常轨，改道变形。

--陈旭麓《近代中国社会的新陈代谢》材料二：南昌起义的枪声，掀开了中华民族从苦难走向振兴的新的一页。从那时起，他们从井冈山一路走来，走过人类历史上绝无仅有的万里长征，走过艰苦卓绝、浴血荣光的14年抗战，走过“将革命进行到底”的解放战争，走过戍边御敌、投身建设改革的辉煌岁月……

--《人民日报》社论材料三：我们党深刻认识到，实现中华民族的伟大复兴，必须推翻压在中国人民头上的帝国主义、封建主义、官僚资本主义三座大山，实现民族独立、人民解放、国家统一、社会稳定，……必须建立符合我国实际的先进社会制度。……必须合乎时代潮流，顺应人民意愿，勇于改革开放，让中国特色的社会主义事业始终充满奋勇前进的强大动力。

--摘自习近平总书记在中共十九大上的报告

材料一中的“脱出常轨，改道变形”指什么？写出“在炮口的逼迫下”，19世纪末清政府与侵略者签订的不平等条约。

“浴血荣光的14年抗战”胜利的决定性因素是什么？

推翻“三座大山”、建立“符合我国实际的先进社会制度”、开启改革开放历史新时期的标志分别是什么？

综合上述材料，你认为如何才能实现中华民族伟大复兴的宏伟目标？（要求至少答出两点）

**【答案】**【小题1】（1）据材料“从1840年开始，在炮口的逼迫下，中国蹒跚地走入近代，随后的一百余年里，外国人通过条约“合法”地剥夺榨取、管束控制中国，驱使中国社会脱出常轨，改道变形”并结合所学知识可知，材料一中的“脱出常轨，改道变形”指鸦片战争后，签订《南京条约》，中国从封建社会变为半殖民地半封建社会；19世纪末，清政府在炮口的逼迫下与侵略者签订的不平等条约《马关条约》。《马关条约》大大加深了中国的半殖民地化。

（2）据材料“南昌起义的枪声，掀开了中华民族从苦难走向振兴的新的一页。从那时起，他们从井冈山一路走来，走过人类历史上绝无仅有的万里长征，走过艰苦卓绝、浴血荣光的14年抗战，走过“将革命进行到底”的解放战争，走过戍边御敌、投身建设改革的辉煌岁月”并结合所学知识可知，“浴血荣光的14年抗战”胜利的决定性因素是中国人民巨大的民族觉醒、空前的民族团结和英勇的民族抗争。

(3) 据材料“我们党深刻认识到，实现中华民族伟大复兴，必须推翻压在中国人民头上的帝国主义、封建主义、官僚资本主义三座大山，实现民族独立、人民解放、国家统一、社会稳定，……必须建立符合我国实际的先进社会制度。……必须合乎时代潮流，顺应人民意愿，勇于改革开放，让中国特色的社会主义事业始终充满奋勇前进的强大动力”并结合所学知识可知，中华人民共和国成立，推翻“了三座大山”；三大改造完成，建立“符合我国实际的先进社会制度”-社会主义制度；中共十一届三中全会是开启改革开放历史新时期的标志。

(4) 本题是开放型题目，考查学生开放性思维的能力。只要符合题意，言之有理即可。如坚持中国共产党的领导；坚持改革开放；以经济建设为中心，努力发展经济；增强国家综合国力；维护国家统一；坚持走中国特色社会主义道路等。

故答案为：

(1) 从封建社会变为半殖民地半封建社会；《马关条约》。

(2) 中国人民巨大的民族觉醒、空前的民族团结和英勇的民族抗争。

(3) 中华人民共和国成立；三大改造完成；中共十一届三中全会。

(4) 坚持中国共产党的领导；坚持改革开放；以经济建设为中心，努力发展经济；增强国家综合国力；维护国家统一；坚持走中国特色社会主义道路等。（言之有理也可酌情给分）

【小题 2】

【小题 3】

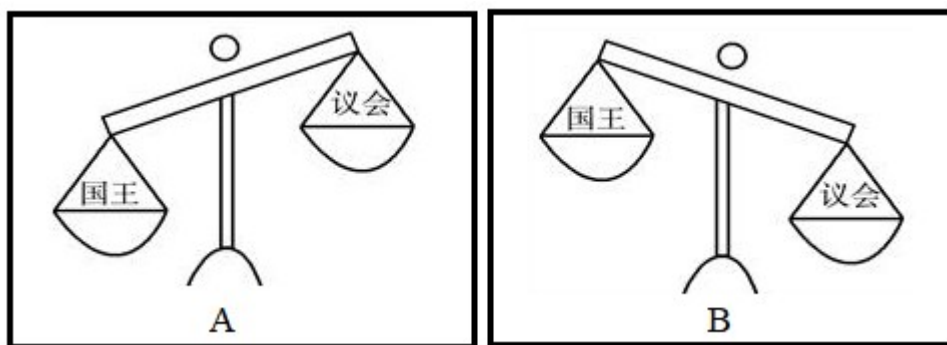
【小题 4】

【解析】 本题以没有共产党就没有新中国，中国共产党诞生于民族危难之际，始终不忘初心，牢记使命，带领全国各族人民砥砺奋进，潜心筑梦为切入点，以三则材料为依托，考查鸦片战争、甲午中日战争、抗日战争、中华人民共和国成立、三大改造完成；中共十一届三中全会。注意掌握相关基础知识。

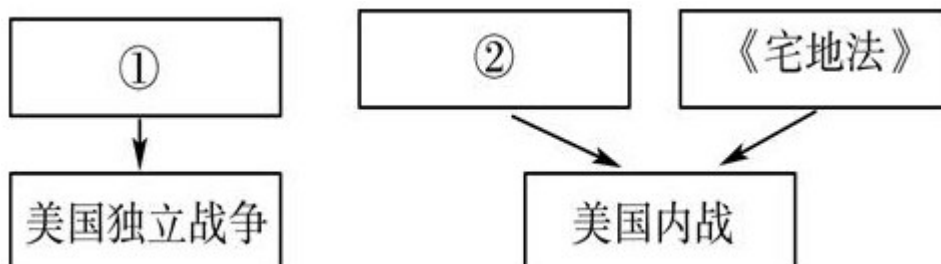
本题考查学生识记和分析历史知识的能力，识记与灵活掌握鸦片战争、甲午中日战争、抗日战争、中华人民共和国成立、三大改造完成；中共十一届三中全会的相关知识。

10. 法治发展见证文明进程。法与时移，法治建设随着时代进步不断完善。阅读下列材料，回答问题。

材料一：17 世纪英国“国王”与“议会”关系示意图



材料二：“美国法治建设”结构示意图（局部）



材料三：伏尔泰曾说，在法国旅行需要经常更换法律，就像经常更换马匹一样。

法国直到 1804 年以后才成为一个法律上的整体……

材料四：2018 年 3 月 11 日，第十三届全国人民代表大会第一次会议通过《中华人民共和国宪法修正案》，其中把“健全社会主义法制”修改为“健全社会主义法治”，一字之改，是我们党依法治国理念和方式的新飞跃。

--《中国纪检监察报》

对比材料一中的图 A 和图 B，国王和议会的权力变化是通过哪部法律文献得以实现的？材料二是某同学构建的有关“美国法治建设”的结构示意图（局部），请你帮助他补充完整，写出①②处对应的法律文献名称。

根据材料三并结合所学知识回答：“1804 年”相关的法律文献是什么？该文献体现了什么原则？

新中国成立以来，我国的社会主义法律体系经历了从无到有、逐步完善的发展过程。新中国成立初期起了临时宪法作用的文献是什么？我国第一部社会主义类型的宪法是在哪次会议上通过的？

从以上各国的法治建设历程中，你得出哪些认识？

**【答案】**【小题 1】（1）对比材料一中的图 A 和图 B 可知，国王和议会的权力变化是通过《权利法案》得以实现的，1689 年英国议会通过《权利法案》，标志着君主立宪制的资产阶级统治在英国的确立。

（2）据材料二并结合所学知识可知，①处对应的法律文献是《独立宣言》，1776 年大陆会议发表《独立宣言》，标志着美国的诞生。②处对应的法律文献是《解放黑人奴隶宣言》，1862 年林肯政府颁布《解放黑人奴隶宣言》和《宅地法》，扭转了战局，为南北战争北方的胜利奠定了基础。

（3）据材料三“伏尔泰曾说，在法国旅行需要经常更换法律，就像经常更换马匹一祥。法国直到 1804 年以后才成为一个法律上的整体……”并结合所学知识可知，“1804 年”相关的法律文献是《拿破仑法典》；该文献体现了体现了自由、平等和私有财产神圣不可侵犯的原则。

（4）新中国成立初期起了临时宪法作用的文献是《中国人民政治协商会议共同纲领》（或《共同纲领》）；我国第一部社会主义类型的宪法是在 1954 年召开的第一届全国人民代表大会上通过的。

（5）从以上各国的法治建设历程中，我得到的认识是法治建设推动了人类文明的发展，法治建设随着时代进步不断完善。

故答案为：

（1）《权利法案》。

（2）①《独立宣言》；②《解放黑人奴隶宣言》。

（3）《拿破仑法典》；体现了自由、平等和私有财产神圣不可侵犯的原则。

（4）《中国人民政治协商会议共同纲领》（或《共同纲领》）；第一届全国人民代表大会。

（5）法治建设推动了人类文明的发展；法治建设随着时代进步不断完善。

【小题 2】

【小题 3】

【小题 4】

【小题 5】

**【解析】** 本题考查第一届全国人民代表大会、《权利法案》、《独立宣言》、《解放黑人奴隶宣言》，掌握相关的基础知识。

本题考查第一届全国人民代表大会、《权利法案》、《独立宣言》、《解放黑人奴隶宣言》，考查学生的理解和分析能力，解题关键是掌握基础知识。

11. “青年兴则国家兴，青年强则国家强”。2019 年 4 月 30 日上午，纪念五四运动 100 周年大会在人民大会堂举行，习近平总书记出席大会并发表重要讲话，他号

召新时代中国青年“要珍惜这个时代，担负时代使命，在担当中历练，在尽责中成长……为实现中华民族伟大复兴而奋斗”。让我们回到 100 年前，一起追寻那段不平凡的历史。

### 【走进五四】

材料一：五四运动中学生提出“外争主权，内除国贼”“废除二十一条”“拒绝在和约上签字”“誓死力争，还我青岛”等口号。

材料一中哪一句口号最能完整体现五四运动性质？五四运动实现了哪些直接目标？请举出一例。

材料二：有学者指出，“五四运动是第一次历史巨变的补课，又是第二次历史巨变的起点”。

材料二中“起点”指什么？

### 【五四之由】

材料三：如图，漫画《玩弄于股掌之上》由马星驰创作于 1919 年 2 月（1919 年 1 月巴黎和会召开）。



材料三漫画中“穿和服的人”和“坐在这位身着和服的人身上的人”分别指的是日本、中国北洋政府，联系巴黎和会对华决定，请指出漫画反映的主要史实。

请写出操纵巴黎和会的三巨头。巴黎和会主要签定了什么条约？

【五四筑梦】“实现中华民族伟大复兴，就是中华民族近代以来最伟大的梦想。”

五四运动一百多年后中国人民将实现第一个“百年目标”，请问第一个百年目标是什么？实现中国梦，必须弘扬中国精神，其中我们要弘扬的“五四精神”是什么？

【答案】【小题 1】（1）材料一中“外争主权，内除国贼”最能完整体现五四运动性质；五四运动实现的直接目标是北洋政府不得不释放被捕学生，罢免曹汝霖等人的职务，中国代表也没有在“巴黎和约”上签字。

（2）据材料二“有学者指出，‘五四运动是第一次历史巨变的补课，又是第二次历史巨变的起点’并结合所学知识可知，材料一中的“起点”指五四运动是新民主主义革命的开端（或者开启了新民主主义革命）。

（3）漫画反映的主要史实是巴黎和会上英法美等列强把德国在山东的特权转让给日本。

（4）操纵巴黎和会的三巨头是英国首相劳合·乔治、法国总理克里孟梭、美国总统威尔逊。巴黎和会主要签定了《凡尔赛条约》。

（5）五四运动一百多年后中国人民将实现第一个“百年目标”，请问第一个百年目标是全面建成小康社会（或实现国内生产总值和城乡居民人均收入比 2010 年翻一番，全面建成小康社会）。

（6）实现中国梦，必须弘扬中国精神，其中我们要弘扬的“五四精神”是爱国、进步、民主、科学。

故答案为：

（1）“外争主权，内除国贼”；五四运动实现的直接目标：北洋政府不得不释放被捕学生，罢免曹汝霖等人的职务，中国代表也没有在“巴黎和约”上签字。

（2）五四运动是新民主主义革命的开端（或者开启了新民主主义革命）。

(3) 巴黎和会上英法美等列强把德国在山东的特权转让给日本。

(4) 劳合·乔治、克里孟梭、威尔逊；《凡尔赛条约》。

(5) 全面建成小康社会（或实现国内生产总值和城乡居民人均收入比 2010 年翻一番，全面建成小康社会）。

(6) 爱国、进步、民主、科学。

【小题 2】

【小题 3】

【小题 4】

【小题 5】

【小题 6】

【解析】 本题考查五四运动、巴黎和会和凡尔赛体系，掌握相关的基础知识。

本题考查五四运动、巴黎和会和凡尔赛体系，考查学生的理解和分析能力，解题关键是掌握基础知识。

12. 20 世纪八九十年代以来，国家之间的经济联系日益紧密，世界经济全球化的趋势加强，某学校学生邀请你一起对“经济全球化”这一课题进行探究。阅读以下材料，请回答：

【全球化溯源】 公元 1500 年前后，真正的“世界历史”开始了，“从此，国别和种族为主的地域性历史开始演变为真正意义上的统一的世界历史。……人类社会终于迎来了近代的曙光。”

公元 1500 前后让世界开始连为一个整体的重大事件是什么？

早期殖民扩张客观上促进了世界经济的联系，最早进行殖民的国家是哪两个国家？

【科技与全球化】 我们生活在一个科学技术发展日新月异的时代，……科技革命改变了人类和世界，现代化带动了整体世界的形成和发展。第一次工业革命是工业化的起点，……在第三次科技革命的推动下，世界各国的相互联系和依赖日益紧密，全球化日益成为人们关注的焦点。

--《从全球化的角度看三次科技革命》

19 世纪上半期铁路时代的到来对世界经济联系产生什么影响？19 世纪 70 年代开始的科技革命使人类社会进入什么时代？20 世纪 90 年代随着科技的发展人类又进入什么时代？

【感悟全球化】 在 2018 年达沃斯论坛上，中国企业家马云呼吁抵制贸易保护主义，“没有任何人可以制止全球化，没有人可以制止贸易，如果贸易停止，战争就会爆发，贸易是解决战争的方式，而不是引起战争的原因”。

有人说：2018 年以来美国对中国实施“贸易战”，违背了世界贸易组织遵循的原则，你同意吗？为什么？

【答案】 【小题 1】 (1) 根据材料“公元 1500 年前后，真正的“世界历史”开始了，“从此，国别和种族为主的地域性历史开始演变为真正意义上的统一的世界历史。……人类社会终于迎来了近代的曙光。”结合所学知识可知，公元 1500 前后让世界开始连为一个整体的重大事件是新航路的开辟，新航路开辟后，从欧洲到亚洲、美洲和非洲等地的交通往来日益密切，世界开始连成一个整体；欧洲大西洋沿岸工商业经济繁荣起来，促进了资本主义的产生和发展。

(2) 结合所学知识可知，早期殖民扩张客观上促进了世界经济的联系，最早进行殖民的国家是葡萄牙和西班牙两个国家。新航路开辟以后，西欧的葡萄牙、西班牙等国相继走上殖民扩张和殖民掠夺道路

(3) 结合所学知识可知，19 世纪上半期铁路时代的到来对世界经济联系产生的影响是铁路时代的到来为社会提供了更为快捷、廉价、便利的交通，使生产和市场的联系变得更加密切。19 世纪 70 年代开始的科技革命使人类社会进入电气时代。20 世纪 90 年代随着科技的发展人类又进入信息时代。



# 会员升级服务第一拨 · 清北季



神马，有清华北大学霸方法论课；还有清华学霸向所有的父母亲述自己求学之路；

衡水名校试卷悄悄的上线了；

扫qq领取官网不首发课程，很多人我没告诉他啊！

会员qq专享等你来撩.....