

浙江省衢州市 2019 年中考社会法治试卷

一、单项选择题（本大题有 20 小题，每小题 1.5 分，共 30 分）

1. 2018 年 12 月 8 日，我国成功发射的人类首次月球背面软着陆的探测器是（ ）

- A. 长征三号 B. 长征四号 C. 嫦娥三号 D. 嫦娥四号

【答案】 D

【考点】 2018 年时事

【解析】 【分析】 根据时事，2018 年 12 月 8 日凌晨，我国将在西昌卫星发射中心用长征系列运载火箭发射嫦娥四号卫星，将实现人类首次在月球背面的软着陆，D 符合题意，正确。

ABC 不符合题意，排除。

故答案为：D。

【点评】 本题考查时政内容，解答该题需要多留心、多识记时政知识，做到“家事、国事、天下事，事事关心”。

2. 2019 年 4 月 15 日，象征法兰西文明的标志性古迹发生火灾，许多珍贵文物遭到毁坏。该古迹是（ ）

- A. 巴黎圣母院 B. 克里姆林宫 C. 五角大楼 D. 议会大厦

【答案】 A

【考点】 2019 年时事

【解析】 【分析】 根据时事，巴黎时间 2019 年 4 月 15 日 18 时 50 分许，象征法兰西文明的标志性古迹——巴黎圣母院发生火灾，许多珍贵文物遭到毁坏。A 符合题意，正确。

BCD 不符合题意，排除。

故答案为：A。

【点评】 本题考查时政内容，解答该题需要多留心、多识记时政知识，做到“家事、国事、天下事，事事关心”。

3. 下图是 2019 年 5 月中国邮政发行的“中国古镇”系列特种邮票。下列诗句或谚语中与邮票所反映的区域相符的是（ ）



- A. 沾衣欲湿杏花雨，吹面不寒杨柳风 B. 早穿皮袄午穿纱，围着火炉吃西瓜
C. 北风卷地白草折，胡天八月即飞雪 D. 万里金黄翻麦浪，秋天苹果梨子香

【答案】 A

【考点】 运用地图图表描述区域自然环境和人文环境的特点

【解析】 【分析】 沾衣欲湿杏花雨，吹面不寒杨柳风 反映诗人整个世界仿佛都融化在斜风细雨的烟霭中了，反映江南水乡烟雨蒙蒙，与邮票所反映的地区是浙江江山二十八都古镇相一致；“早穿棉袄午穿纱，围着火炉吃西瓜”是对我国大西北沙漠地区气候特点的形象化写照，主要指新疆地区；“北风卷地白草折，胡天八月即飞雪”是指半球高纬度地区，风从北极吹来比较冷，八月就下起了雪，描绘了祖国西北边塞的壮丽景色；万里金黄翻麦浪，秋天苹果梨子香 描写的是我国北方地区的景观。BCD 不符合题意，A 项正确。

故答案为：A。

【点评】 廿八都距离江山市县城 70 公里，是一个古老小镇。全镇有 800 余户 4000 余人口。北宋熙宁四年（1071 年）江山设都四十四，此地排行第廿八，得名廿八都，至今已有 900 余年历史。由于历史上少受战乱，使镇上古建筑风貌依旧，保存较为完好。

4. 下列有关乌鲁木齐的说法正确的是（ ）

- A. 我国的经济中心 B. 古老而现代的首都 C. 高原上的“日光城” D. 向西开放的重要门户

【答案】 D

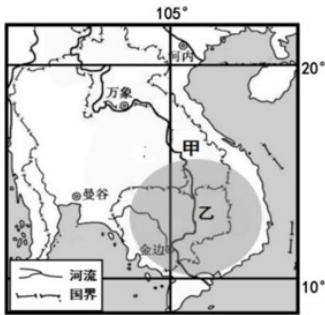
【考点】 中国的疆域和行政区划

【解析】 【分析】 我国的经济中心是上海；古老而现代的首都是北京；高原上的日光城是拉萨；向西开放的重要门户是乌鲁木齐。ABC 不符合题意，D 项正确。

故答案为：D。

【点评】 乌鲁木齐市，是新疆维吾尔自治区的 4 个地级市之一，西北第二大城市，新疆维吾尔自治区首府，市政府位于水磨沟区。是全疆政治、经济、文化、科教和交通中心。乌鲁木齐地处中国西北，新疆中部，天山北麓，亚欧大陆腹地，毗邻中亚各国，有“亚心之都”的称呼。乌鲁木齐市现已列入吉尼斯世界纪录大全，是世界上最内陆、距离海洋和海岸线最远的大型城市。

5.读下图，回答小题。



(1) 甲所示的河流是 ()

- A. 密西西比河 B. 尼罗河 C. 亚马孙河 D. 湄公河

(2) 乙所示区域具有明显的“稻作文化的印记”，其主要表现有 ()

- ① 渠道河流构成水网环绕村庄 ② 农业上大规模使用机械化生产
③ “御耕节”是重要的传统节日 ④ 区域内有四通八达的高速公路
- A. ①② B. ②④ C. ①③
D. ③④

【答案】 (1) D (2) C

【考点】 世界地形、河湖、气候，世界典型区域

【解析】【分析】 (1) 根据图中给出的经纬网，该地位于东南亚的中南半岛，甲所示的河流是湄公河。ABC 不符合题意，D 项正确。

(2) 乙所示区域具有明显的“稻作文化的印记”，主要表现为：渠道河流构成水网环绕村庄，“御耕节”是重要的传统节日。水稻生产需要投入大量劳动力，没有大规模使用机械；区域内有四通八达的高速公路，这与水稻生产没有直接关系。ABD 不符合题意，C 项正确。

故答案为：(1) D；(2) C。

【点评】 水稻适宜在高温多雨、土壤肥沃、灌溉便利的自然环境中生长,因此热带和亚热带的冲积平原成为水稻生产的主要分布区.无论是水稻的生产过程还是修建农田设施,都需要大量的劳动力。这样,一方面促进了当地人口的增长,另一方面也给农业生产带来巨大压力。为了满足对粮食的需求,人们不断地兴修水利,共同抵御自然灾害带来的威胁,并祈求神灵的保佑,形成了物质、社会、精神三个层面的稻作文化印记。

6.衢州历史上编著《针灸大成》的著名针灸学家是 ()

- A. 毛晃 B. 杨继洲 C. 华岗
D. 赵抃

【答案】 B

【考点】评价历史事件和历史人物

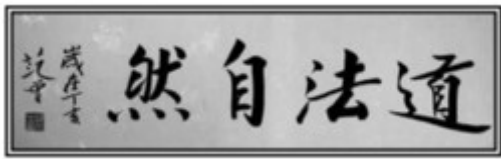
【解析】【分析】针灸大师杨继洲，明朝西安（原衢县）人，著名针灸学家，其著作《针灸大成》问世于1601年，被翻译成多种语言。

B项杨继洲编著《针灸大成》，符合题意；

故答案为B。

【点评】本题难度适中，考查衢州历史上的著名针灸学家及学生的识记能力。

7. 下图牌匾中的书法内容是我国历史上某一位思想家提出的观点。他是（ ）



A. 孔子

B. 墨子

C. 孙子

D. 老子

【答案】 D

【考点】百家争鸣

【解析】【分析】老子即老聃，是我国古代伟大的思想家和哲学家，道家学派创始人，相传为楚国人。他认为事物都有相互对立和相互联系的两方面，含有朴素唯物主义辩证法。老子提出“道法自然”，在政治上主张“无为而治”，统治者应该“损有余而补不足”，使农民生活得到改善，国家就易于治理了。

D项老子提出“道法自然”，符合题意；

故答案为D。

【点评】本题难度适中，考查老子的思想。

8. 鸦片战争后，中华民族不断探索救亡图存的道路。下列能反映在制度层面向西方学习的是（ ）

① 洋务运动 ② 戊戌变法 ③ 辛亥革命 ④ 新文化运动

A. ①②

B. ①④

C. ②③

D. ③④

【答案】 C

【考点】戊戌变法，辛亥革命

【解析】【分析】结合所学可知，洋务运动是学习西方的军事技术；戊戌变法和辛亥革命是学习西方的政治制度，要在中国发展资本主义道路；新文化运动是学习西方先进的思想文化。中国探索救国救民的道路呈现出的特点是：由学习西方的军事器物，到学习西方的政治制度，再到学习西方的思想文化；由表及里、由浅入深、层层深入。

C项②③反映在制度层面向西方学习，不符合题意；

故答案为C。

【点评】本题难度适中，考查学生对近代化探索相关史实的准确识记。

9.下列关于三次科技革命的认识，正确的是（ ）

- A. 第一次工业革命的标志是发电机的应用 B. 第二次工业革命中英国和德国后来居上
C. 第三次科技革命的标志是电气化的实现 D. 三次科技革命都推动了生产力的发展

【答案】 D

【考点】文艺复兴、科学革命、启蒙运动

【解析】 【分析】 A项第一次工业革命的标志是发电机的应用认识不正确，第一次工业革命的标志是蒸汽机的应用，不符合题意；

B项第二次工业革命中英国和德国后来居上认识不正确，第二次工业革命中美国和德国后来居上，不符合题意；

C项第三次科技革命的标志是电气化的实现认识不正确，第三次科技革命的标志是电子计算机的广泛使用，不符合题意；

D项三次科技革命都推动了生产力的发展认识正确，人类历史上的三次科技革命，极大地推动了社会生产力的发展，广泛而深入地改变了社会的面貌，证明了科学技术是第一生产力，符合题意；

故答案为D。

【点评】本题难度较小，考查三次科技革命，注意对比其共同之处及影响。

10.左图，右图反映的是我国近代史上两次重要的历史事件，下列对这两次事件看法正确的是（ ）



- A. 始终坚持马克思主义为指导思想 B. 左图事件将右图事件推向了高潮
C. 右图事件加速了左图事件的步伐 D. 都是发生在新民主主义革命时期

【答案】 C

【考点】新文化运动和五四运动

【解析】 【分析】 左图反映的是新文化运动，右图反映的是五四运动。

A项始终坚持马克思主义为指导思想看法不正确，新文化运动后期李大钊等人才开始在中国传播马

克思主义，不符合题意；

B项左图事件将右图事件推向了高潮看法不正确，上海的“三罢”斗争——学生罢课、工人罢工、商人罢市把五四运动推向高潮，不符合题意；

C项右图事件加速了左图事件的步伐看法正确，经过五四运动的洗礼，马克思主义得到广泛传播，人们的思想获得极大解放，开始用新的眼光看中国、看世界，五四运动加快了新文化运动的步伐，激发了青年的爱国热情，符合题意；

D项都是发生在新民主主义革命时期看法不正确，五四运动标志着我国新民主主义革命的开端，因此新文化运动不是发生在新民主主义革命时期，不符合题意；

故答案为C。

【点评】本题难度适中，考查新文化运动和五四运动的相关知识及学生的理解能力。

11.著名的历史人物影响历史发展的进程。下列历史人物与历史功绩组合正确的是（ ）

- ①孙中山——成功地领导了南昌起义 ②周恩来——提出“求同存异”的方针
③毛泽东——建立井冈山革命根据地 ④邓小平——开辟中国特色革命道路

A. ①②

B. ①④

C. ②③

D. ③④

【答案】 C

【考点】 中国共产党诞生、中国特色革命道路的开辟，北伐战争、土地革命战争

【解析】 【分析】 ①孙中山——成功地领导了南昌起义组合不正确，1927年8月1日，周恩来、贺龙、叶挺、朱德等率领两万多人在南昌举行起义，打响了武装反抗国民党反动派的第一枪，不符合题意；

②周恩来——提出“求同存异”的方针组合正确，1955年，亚洲和非洲国家政府首脑在印度尼西亚的万隆举行会议，由于帝国主义的破坏和与会各国间矛盾错综复杂，会议出现尖锐分歧，周恩来及时提出“求同存异”的方针，推动会议取得圆满成功，符合题意；

③毛泽东——建立井冈山革命根据地组合正确，1927年9月毛泽东、朱德、陈毅领导了秋收起义，开始时，他们攻占了一些县城，工农革命军损失严重。毛泽东分析了敌强我弱的形势，决定放弃攻打中心城市长沙的计划，向敌人力量薄弱的农村进军，建立了中国第一个农村革命根据地——井冈山革命根据地，符合题意；

④邓小平——开辟中国特色革命道路组合不正确，在革命战争年代，以毛泽东为代表的中国共产党人探索了一条有中国特色的革命道路；在社会主义建设新时期，以邓小平为首的中国共产党人开创了中国特色社会主义建设道路，不符合题意；

C项②③组合正确，符合题意；

故答案为C。

【点评】本题难度适中，以“著名的历史人物影响历史发展的进程”为依托，考查历史人物的历史功绩。

12.这是对二战期间某次事件的评价：“没有一个人曾料到日本人竟敢以如此罪大恶极的方式侮辱美国的威力……大家立即团结起来，一致支持总司令罗斯福。”该事件是（ ）

- A. 七七事变 B. 偷袭珍珠港 C. 诺曼底登陆 D. 中途岛战役

【答案】 B

【考点】第二次世界大战

【解析】【分析】根据题干中的“二战期间某次事件”“日本人竟敢以如此罪大恶极的方式侮辱美国的威力……”等信息，联系所学知识，1941年12月7日，日本不宣而战，偷袭太平洋美国基地珍珠港，重创美军太平洋舰队，第二天，美国对日作战，太平洋战争爆发，二战规模进一步扩大。

ACD三项均和题干描述不符，不符合题意；

B项偷袭珍珠港是题干描述的事件，符合题意；

故答案为B。

【点评】本题难度适中，考查珍珠港事件及学生准确解读历史材料的能力。

13.2019年5月12日，衢州市人防办在南湖广场开展了以“提高灾害防治能力，构筑生命安全防护线”为主题的宣传活动。开展本次宣传活动（ ）

- A. 能够使人们战胜一切的挫折 B. 可以消除人们的所有不良情绪
C. 是对生命尊重与敬畏的体现 D. 体现人的生命是坚韧和顽强的

【答案】 C

【考点】珍爱和尊重生命

【解析】【分析】开展了以“提高灾害防治能力，构筑生命安全防护线”为主题的宣传活动。有利于增强人们的安全防范意识，提高自救自护的能力，体现对生命的尊重与敬畏，C符合题意，正确。

AB观点太绝对，是错误的。

D不符合题意，题干材料没有体现生命的韧性的内容，应排除。

故答案为：C。

【点评】本题考查对敬畏生命的认识，主要考查学生的理解能力，敬畏生命体现在不漠视自己和他人的生命，尊重、关注、关怀和善待身边的每一个人。

14.国家禁毒办联合阿里巴巴推出了“全国青少年毒品预防教育数字化平台——青骄第二课堂”（如下图所示）。该平台（ ）

国家和社会事务，实现民主权利，维护自身的合法权益。

16.2019年是西藏民主改革60周年。多年来，西藏自治区人民守望相助、和谐共处，取得了辉煌成就。这体现了我国（ ）

- A. 坚持民族区域自治的根本政治制度
- B. 坚持平等团结互助和谐的新型民族关系
- C. 在民族自治区已全面建成小康社会
- D. 各民族之间相互融合，已没有任何差异

【答案】 B

【考点】 维护国家统一和民族团结

【解析】 【分析】 西藏自治区人民守望相助、和谐共处，取得了辉煌成就。这体现我国形成平等团结互助和谐的新型民族关系，B符合题意，正确。

A 错误，我国的根本政治制度是人民代表大会制度。

C 错误，我国要到2020年才能全面建成小康。

D 错误，各民族之间由历史、文化、生活方式、宗教、风俗习惯的不同存在差异，这种差异会缩小但不可能消失。

故答案为：B。

【点评】 本题考查对我民新型民族关系的特点的认识，主要考查学生的理解能力，在处理民族关系上，我国坚持民族平等、民族团结和各民族共同繁荣的基本原则，将民族区域自治制度作为一项基本政治制度载入宪法和法律，各族人民真正成了国家的主人，在此基础上，形成了平等团结互助和谐的社会主义新型民族关系。

17.图示归纳法是我们学科学习的重要方法。下列可以用下图所示方式表示的是（ ）



- A. 学校保护和家庭保护
- B. 肖像权和人格尊严权
- C. 行政机关和司法机关
- D. 公民权利和公民义务

【答案】 B

【考点】 法律维护公民的人身自由、人格尊严和个人隐私

【解析】 【分析】 分题干材料可知，本题要求选出体现包含关系的选项，人格尊严权包括人格尊严权包括：名誉权、荣誉权、肖像权、姓名权、隐私权，所以D符合题意，正确。

ACD为并列关系，不符合题意，应排除。

故答案为：B。

【点评】 本题考查对人格尊严权和民族精神的认识，主要考查学生的理解能力，本题解题的关键在

力，中国在谋求自身发展的同时，一直坚持合作共赢的理念，主张在全球发展中要集思广益、各施所长、各尽所能，让发展的成果更多更公平地惠及各个国家。

二、非选择题（本大题有5小题，共50分）

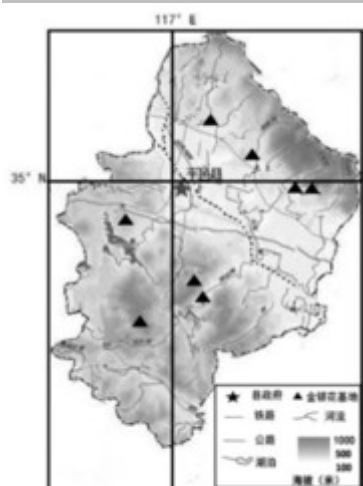
20.“金银花一开，清香满山崖”。阅读材料，回答问题。

山东平邑县政府利用当地优势重点扶持金银花产业，使其成为“中国金银花之乡”。平邑金银花种植历史悠久，种类繁多，但优劣混杂，良莠不齐；以金银花为主的药材销售市场规模小；近年来金银花的价值越来越受到重视，其他地区纷纷种植，对平邑金银花生产形成了巨大冲击。目前，当地花农最大的困惑是如何让金银花开出更多的“金银”。

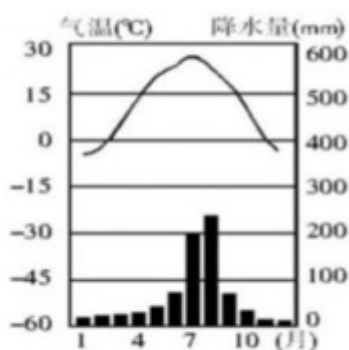
金银花名片

习性：喜温、喜光和喜湿润环境；耐寒；生存适应力较强，对土壤要求低。但对空气、水质要求较高。

价值：金银花有较高的生态和观赏价值。此外双黄连、银黄口服液等人们熟知的药物也以此为原料。



平邑县金银花种植分布示意图



平邑县气温降水量图

- (1) 根据上图描述金银花和平邑县内的主要分布情况。
- (2) 根据材料，分析平邑县成为“中国金银花之乡”的自然原因。
- (3) 综合上述材料，请为实现“让金银花开出更多的‘金银’”提供合理化建议。

【答案】 (1) 分布在地、丘陵地带；沿河分布。

(2) 平邑县属于温带季风气候，夏季高温多雨，雨水丰沛；平邑县地处中纬度，光照充足；平邑县河流众多，水源便利，水质优良；山地广布，空气质量好，适合金银花的生长。

(3) 充分利用当地优势自然条件，因地制宜发展金银花产业；政府加大支持力度，扩大市场规模；利用科技，改良花种，提高品质；充分挖掘旅游资源，发展生态旅游；利用交通优势扩大运输渠道。

【考点】运用地图图表描述区域自然环境和人文环境的特点

【解析】【分析】（1）根据上图描述可知，金银花平邑县内主要分布在山地、丘陵地带；大多沿河分布。

（2）根据材料，金银花喜温、喜光和喜湿润环境，平邑县属于温带季风气候，夏季高温多雨，雨水丰沛；平邑县地处中纬度，光照充足；平邑县河流众多，水源便利，水质优良；山地广布，空气质量好，适合金银花的生长。

（3）建议：充分利用当地优势自然条件，因地制宜发展金银花产业；政府加大支持力度，扩大市场规模；利用科技，改良花种，提高品质；充分挖掘旅游资源，发展生态旅游；利用交通优势扩大运输渠道。

【点评】影响农业的主要自然因素有：气候方面，热量、光照、降水影响极大；地形方面，影响农业的类型（平原与山区不同）、影响农作物的分布（农作物随海拔有所不同）；土壤方面，作物生长的物质基础，不同土壤适宜生长不同作物。水源方面，河流众多，灌溉便利。

21.文明交流互鉴是推动人类文明进步的重要动力。阅读材料，回答问题。



汉朝到唐朝，是中国历史上对外交往的最盛时期之一。汉使到达了大宛、大月氏、安息等多国，唐王朝也曾与300多个国家和地区交往。在此期间，中国接受了许多西方文明要素，如音乐舞蹈、穿戴服饰等；同时，中国也向西方世界提供了丝绸、瓷器等。——改编自《中外关系史：新史料与新问题》

（1）右图中的路线①②分别反映了唐朝对外交流中的什么历史事件？运用所学知识比较它们的相同点。

（2）为了开辟和保障左图的路线，西汉政府采取了哪些措施？

（3）根据材料概括汉唐时期对外交流的特点。请以丝绸之路为例，结合材料分析中外交流带来的影响。

【答案】（1）①鉴真东渡；②玄奘西行。

相同点：都传播了佛教；都促进了中外文化的交流；路途遥远，历程艰辛。

（2）开辟：西汉政府两次派张骞出使西域。

保障：先后设置酒泉、张掖等四郡；设置西域都护府；占领河西走廊，构筑军事防御设施；在河西

地区大规模屯田开垦。

(3) 汉唐时期对外交流频繁。丝绸之路的开通沟通了亚欧两大洲，使西方文明如音乐舞蹈等传入东方，促进了中西方文化交流；将中国的丝绸、瓷器等传播到世界，促进了中西方经济交流，对人类文明的发展产生了深远的影响。

【考点】中国古代对外文化交流中的重大事件

【解析】【分析】(1) 本题考查鉴真东渡和玄奘西行的相关知识。根据右图路线①中的“日本”，联系所学知识，唐玄宗时鉴真东渡日本，为中日友好交往做出了杰出贡献。根据右图路线①中的“天竺”，联系所学知识，贞观年间，为求取佛法，玄奘西行天竺（印度）。根据所学知识，唐玄宗时期，高僧鉴真东渡日本，前5次都因种种原因没有成功，辛劳过度而双目失明，但鉴真仍矢志不渝，继续进行第6次东渡，终于在754年抵达日本，为中日两国的友好和文化传播作出重大的贡献；唐太宗时期，高僧玄奘西游天竺取经，他历经千辛万苦到达印度取得真经回国传播佛法，他是中印文化交流史上最杰出的使者；因此鉴真东渡和玄奘西行都传播了佛教；都促进了中外文化的交流；路途遥远，历程艰辛。

(2) 本题考查丝绸之路的相关知识。张骞出使西域后，汉朝和西域各国的使者和商人来往频繁，互通有无。此后，汉朝打败匈奴，在河西地区设置了武威、张掖、酒泉、敦煌四郡，在西域地区设置了西域都护府，维护了丝绸之路的畅通等。

(3) 本题考查汉唐时期对外交流的特点及中外交流带来的影响。汉、唐都是我国历史上对外交往频繁的朝代，其对外交往的特点也不断变化，从汉朝的以陆路为主到唐朝的海陆并举。丝绸之路开通后，中国的丝绸、陶瓷、铁器和漆器通过丝绸之路传入西方，西方的毛皮、药材、珠宝通过丝绸之路传入中国；成为了古代东西方往来的大动脉，促进了中国同其他国家和地区的贸易与文化交流。故答案为：(1) ①鉴真东渡；②玄奘西行。

相同点：都传播了佛教；都促进了中外文化的交流；路途遥远，历程艰辛。

(2) 开辟：西汉政府两次派张骞出使西域。

保障：先后设置酒泉、张掖等四郡；设置西域都护府；占领河西走廊，构筑军事防御设施；在河西地区大规模屯田开垦。

(3) 汉唐时期对外交流频繁。丝绸之路的开通沟通了亚欧两大洲，使西方文明如音乐舞蹈等传入东方，促进了中西方文化交流；将中国的丝绸、瓷器等传播到世界，促进了中西方经济交流，对人类文明的发展产生了深远的影响。

【点评】本题难度适中，考查鉴真东渡、玄奘西行、丝绸之路、汉唐时期对外交流等相关知识。

22. 广西的钦州有着“千年古陶都”的美誉。阅读材料，回答问题。

钦州历史悠久，秦朝就将现钦州一带划为象群管辖。自古以未，当地就有制陶的传统。钦州人始终坚守坭兴陶这门手工技艺，在传承中逐渐形成自身的艺术文化特色。当地人们还对坭兴陶的手工艺进行改进以适应社会发展和市场需求。如今坭兴陶已成为钦州市的城市文化名片、广西对外交流的文化使者、国家赠送外宾的礼品等。



(1) 材料中“象郡管辖”属于秦始皇在地方上采取的哪项政治举措？从中华文化的内容上看坭兴陶属于哪一文化内容？

(2) 结合材料分析钦州人在传承陶艺过程中是如何增强文化自信的？

【答案】 (1) 采用郡县制；名扬世界的科技工艺。

(2) 钦州人们对坭兴陶手工技艺的坚守，夯实了中华优秀传统文化的根基；当地对坭兴陶手工技艺的改进，实现传统文化的创新性发展；坭兴陶作为当地的文化使者走向了世界，展现了中华文化的独特魅力。

【考点】 秦皇汉武、唐宗宋祖，社会主义精神文明建设

【解析】 【分析】 (1) 根据“县郡管辖”属于秦始皇在地方上采取的郡县制，坭兴陶属于科技工艺。

(2) 增强文化自信可以从夯实了中华优秀传统文化的根基；实现传统文化的创新性发展；展现了中华文化的独特魅力三方面结合材料进行分析说明即可。

【点评】 本题考查对郡县制和中华文化及文化自信的相关知识的理解和运用，主要考查学生利用所学知识分析问题和解决问题的能力，难度值一般。

23.文明养犬，你我共努力。阅读材料，回答问题。

2018年8月14日，成都市公安局成华区分局宣布了未牵绳德国牧羊犬咬伤未成年人致其犬伤Ⅲ级一事的处理结果。德国牧羊犬主人赵某被行政拘留10日，并处罚款500元，5年内赵某不得再养狗。咬伤人的德牧犬，则被强制收容。



《中华人民共和国治安管理处罚法》第四十三条规定：殴打他人的，或者故意伤害他人身体的，处五日以上十日以下拘留，并处二百元以上五百元以下罚款；情节较轻的，处五日以下拘留或者五百元以下罚款。

- (1) 赵某的行为是何种性质的违法行为？成华分局对赵某采取的是哪种类型的处罚？
- (2) 从法律的作用角度说说成华分局对赵某作出处罚的原因。
- (3) 从权利与义务的关系角度分析漫画中养犬者的言行。

【答案】 (1) 一般违法行为；行政制裁或行政处罚。

(2) 法律具有规范作用，成华分局对赵某作出了处罚，规范了赵某的行为；法律具有保护作用，保护了未成年人的合法权益。

(3) 公民的权利与义务是相互依存、相互促进的；公民既是合法权利的享有者，又是法定义务的承担者。漫画中的养犬者有养犬的权利，但没有履行好养狗拴绳的义务，影响到他人的日常生活，因此公民在行使权利的同时必须要履行相应的义务，实现权利与义务的相互统一。

【考点】 法律的特征和作用，违法行为的含义及其分类，权利和义务

【解析】 **【分析】** (1) 从题干材料中赵某承担行政拘留 10 日，并处罚款 500 元的行政法律责任，可知他的行为属于行政违法行为，因此为一般违法行为，他受到的处罚属于行政处罚。

(2) 法律具有规范和保护作用，因此法律规范了赵某的行为，通过制裁赵某保护未成年人的合法权益。

(3) 本题可以先回答权利与义务的关系，然后结合材料说明养犬者有养犬的权利，但没有履行好养狗拴绳的义务，影响到他人的日常生活，因此公民在行使权利的同时必须要履行相应的义务，实现权利与义务的相互统一。据此回答即可。

【点评】 本题考查对违法行为，法律作用和公民权利与义务关系等相关知识的理解和运用，主要考查学生利用所学知识分析问题和解决问题的能力，难度值一般。

24. 乡村振兴，泽随践行。阅读材料，回答问题。

材料一：

龙游县塔石镇的泽随村，约有 700 余年的历史，人才辈出，现今保存了 146 幢明清古建筑，是浙西地区古建筑规模最大的古村落之一。该村到县城有公交车直达，另有南北走向的泽真路和东西走向的兴泽路贯穿而过。泽随村北靠大乘山和真武山，泽随溪绕村而过。近年来，该村开展了“乡贤助推乡村振兴、认领认养古建筑”活动，让古建筑焕发出新的生命力。



图 12

材料二：为实施乡村振兴战略，泽随采取了如下举措。

- *当地政府斥巨资实施游客接待中心及景区停车场等配套设施建设。
- *泽随村村民充分整合空闲房屋发展农家乐、特色民宿。
- *开展“古村摄影大赛”、“书画家采风”等系列活动，通过网络、手机、微信公众号等新媒体推广宣传。
- *开展“垃圾革命”“厕所革命”、修复古村落水系等工作，打造生态美丽泽随溪。

(1) 泽随村位于龙游县的_____部（方位）。泽随村的明清古建筑从史料的表现形式来看属于_____史料类型？

(2) 依据材料一和所学知识，分析开发泽随村所具备的优势条件。

(3) 结合材料二和所学知识，分析泽随村采取振兴乡村的举措有何重大意义。

【答案】 (1) 西北；实物资料

(2) 人文：历史悠久，文化底蕴深厚；古建筑群资源丰富；交通便利；有丰富的乡贤资源；政府的政策支持；旅游资源丰富。

自然：山地资源丰富；有丰富的水源。

(3) 完善配套基础设施，有利于推动旅游业的发展；发展农家乐，有利于发挥非公有制经济的作用，提高人民的生活水平；开展摄影、采风等各种活动，通过新媒体宣传，有利于提升当地的知名度；开展“垃圾革命”“厕所革命”等环境整治工作，有利于改善生态环境。

【考点】 运用地图图表描述区域自然环境和人文环境的特点

【解析】 【分析】 (1) 据图分析，泽随村位于龙游县的西北方。泽随村现今保存了 146 幢明清古建筑，是浙西地区古建筑规模最大的古村落之一，这些明清古建筑从史料的表现形式来看属于实物

资料类型。

(2) 开发泽随村所具备的优势条件：

人文：历史悠久，文化底蕴深厚；古建筑群资源丰富；交通便利；有丰富的乡贤资源；政府的政策支持；旅游资源丰富。

自然：山地资源丰富；有丰富的水源。

(3) 泽随村采取振兴乡村的举措重大意义：

完善配套基础设施，有利于推动旅游业的发展；发展农家乐，有利于发挥非公有制经济的作用，提高人民的生活水平；开展摄影、采风等各种活动，通过新媒体宣传，有利于提升当地的知名度；开展“垃圾革命”“厕所革命”等环境整治工作，有利于改善生态环境。

【点评】对于一个地区资源开发条件的评价，主要从资源本身的游览价值，地域组合状况，交通通达度，地区接待能力，离客源市场的远近等角度进行分析。实施振兴乡村战略要因地制宜，合理规划，依据当地优势资源，扬长避短。

试卷分析部分

1. 试卷总体分布分析

总分：80分		
分值分布	客观题 (占比)	27 (33.8%)
	主观题 (占比)	53 (66.3%)
题量分布	客观题 (占比)	18 (75.0%)
	主观题 (占比)	6 (25.0%)

2. 试卷题量分布分析

大题题型	题目量 (占比)	分值 (占比)
单项选择题 (本大题有 20 小题，每小题 1.5 分，共 30 分)	19 (79.2%)	30 (37.5%)
非选择题 (本大题有 5 小题，共 50 分)	5 (20.8%)	50 (62.5%)

3. 试卷难度结构分析

序号	难易度	占比
1	容易	8.3%

2	普通	91.7%
3	困难	0%

4. 试卷知识点分析

序号	知识点 (认知水平)	分值 (占比)	对应题号
1	2018 年时事	1.5 (1.4%)	1
2	2019 年时事	1.5 (1.4%)	2
3	运用地图图表描述区域自然环境和人文环境的特点	25.5 (23.6%)	3,20,24
4	中国的疆域和行政区划	1.5 (1.4%)	4
5	世界典型区域	3 (2.8%)	5
6	世界地形、河湖、气候	3 (2.8%)	5
7	评价历史事件和历史人物	1.5 (1.4%)	6
8	百家争鸣	1.5 (1.4%)	7
9	戊戌变法	1.5 (1.4%)	8

10	辛亥革命	1.5 (1.4%)	8
11	文艺复兴、科学革命、启蒙运动	1.5 (1.4%)	9
12	新文化运动和五四运动	1.5 (1.4%)	10
13	北伐战争、土地革命战争	1.5 (1.4%)	11
14	中国共产党诞生、中国特色革命道路的开辟	1.5 (1.4%)	11
15	第二次世界大战	1.5 (1.4%)	12
16	珍爱和尊重生命	1.5 (1.4%)	13
17	法律对未成年人的特殊保护	1.5 (1.4%)	14
18	依法治国与依法参与政治生活	1.5 (1.4%)	15
19	维护国家统一和民族团结	1.5 (1.4%)	16
20	法律维护公民的人身自由、人格尊严和个人隐私	1.5 (1.4%)	17

21	实施科教兴国战略	1.5 (1.4%)	18
22	经济全球化、世界多极化、和平与发展	1.5 (1.4%)	19
23	中国古代对外文化交流中的重大事件	12 (11.1%)	21
24	社会主义精神文明建设	6 (5.6%)	22
25	秦皇汉武、唐宗宋祖	6 (5.6%)	22
26	法律的特征和作用	8 (7.4%)	23
27	权利和义务	8 (7.4%)	23
28	违法行为的含义及其分类	8 (7.4%)	23

积分超值换

活动时间：2019年4月23日-6月30日

活动对象：中小学一线教师以及教育工作者



扫一扫 换礼啦

积 分 兑 换 更 超 值



会员升级服务第一拨 · 清北季



神马，有清华北大学霸方法论课；还有清华学霸向所有的父母亲述自己求学之路；

衡水名校试卷悄悄的上线了；

扫qq领取官网不首发课程，很多人我没告诉他啊！

会员qq专享等你来撩.....