

四川省自贡市初 2022 届毕业生学业考试

综合素质（二）历史

综合素质（二）由道德与法治、历史两个学科组成，总分 80 分，道德与法治、历史学科各 40 分，考试时间 90 分钟。学科试题卷分第 I 卷（选择题）和第 II 卷（非选择题）两部分。

考试结束后，将本试题卷和答题卡一并交回。

注意事项：

1. 答题前，考生务必将自己的姓名、考号用 0.5 毫米的黑色签字笔填写在答题卡上。
2. 选择题使用 2B 铅笔填涂在答题卡对应题目标号的位置上，非选择题用 0.5 毫米黑色签字笔书写在答题卡的对应框内，超出答题区域书写的答案无效；在草稿纸、试题卷上答题无效。

第 I 卷（选择题 共 18 分）

在每小题给出的四个选项中，只有一项是符合题目要求的，每小题 1 分。

1. 《中国官制大辞典》对古代某选官制度的解释：“一种允许士人自愿向官府报名，经过分科考试，根据成绩选拔人才、分别任官的制度。”该制度始创于（ ）

- A. 隋朝 B. 唐朝 C. 元朝 D. 明朝

2. 孙机在《中国古舆服论丛》写到：“唐代前期，人们比较欣赏胡服，男、女皆有穿胡服、戴胡帽者，胡帽的样式更是多种多样。”下列诗歌中能反映这一现象的是（ ）



- A. 金樽清酒斗十千，玉盘珍羞直万钱（李白） B. 九秋风露越窑开，夺得千峰翠色来（陆龟蒙）
- C. 胡音胡骑与胡妆，五十年来竞纷泊（元稹） D. 稻米流脂粟米白，公私仓廩俱丰实（杜甫）

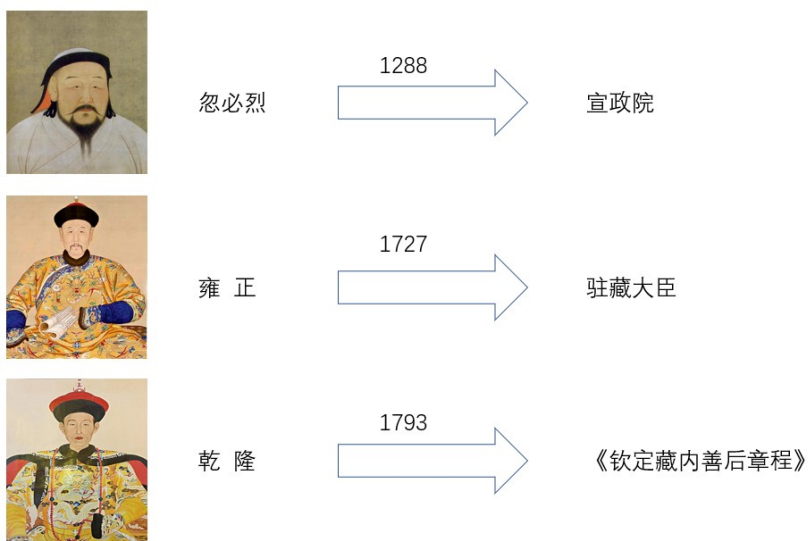
3. 宋太祖赵匡胤打破传统中国作风，以务实态度从事各项政治改革，如收权、分权、重文轻武等防“弊”之政。他这样做的主要目的为（ ）

- A. 促进阶层流动 B. 强化中央集权 C. 推动教育发展 D. 加强思想控制

4. 据《宋史·孝宗本纪》记载，孝宗为岳飞平反，追谥号为岳武穆、岳太师等，并按照最高开国将帅的规格进行改葬，还建立了岳庙。世人将此举称为“平反昭雪”，以表达对岳飞的追思。下列表述与此相关的是（ ）

- A. 率军抗金，精忠报国 B. 组织抗元，宁死不屈
C. 收复台湾，维护主权 D. 斥逐沙俄，捍卫统一

5. 中国古代封建王朝为巩固国家疆域进行了不懈的努力，加强了对边疆地区的有效治理。图示信息反映的治理地区是（ ）



- A. 新疆 B. 西藏 C. 蒙古 D. 台湾

6. 有学者对中国古代某一宏伟工程有如下描述：作为一项军事防御工程，蜿蜒于高山、深谷、平原、戈壁中，总长万余里，把奇伟的自然美与建筑美融为一体，是真正的“大地艺术”。据此推断该工程为（ ）

- A. 大运河 B. 赵州桥 C. 北京城 D. 明长城

7. 包天笑在《钏影楼回忆录》里记录到：“……割去了台湾之后，还要求各口通商，苏州也开了日本租界。这时候，潜藏在中国人心底里的民族思想，便发动起来。”与这段回忆相关的条约是（ ）

- A. 《南京条约》 B. 《虎门条约》 C. 《马关条约》 D. 《辛丑条约》

8. 某校历史社团组织成员参观“吴玉章故居陈列馆”，该馆由“立志救国救民、投身辛亥革命、参与领导南昌起义、归国抗战等”部分组成。社员能在“投身辛亥革命”部分中看到（ ）

- A. 拥护维新变法 B. 参加同盟会 C. 加入中国共产党 D. 维护国共合作

9. 下图为《美术经典中的党史》绘画作品。该图以人民的视角，描绘了中国共产党在长征途中召开的标志着党“从幼年走向成熟”的会议。该会议（ ）



- A. 第一次提出了彻底反帝反封建的民主革命纲领
- B. 提出了“政权是由枪杆子中取得”的著名论断
- C. 确立了“思想建党、政治建军”建党建军原则
- D. 开始独立自主地解决党的军事问题和组织问题

10. 新中国成立初期，刚刚执掌全国政权的中国共产党在严峻的形势下，先后开展了土地改革和抗美援朝等运动。这些运动的共同作用（ ）

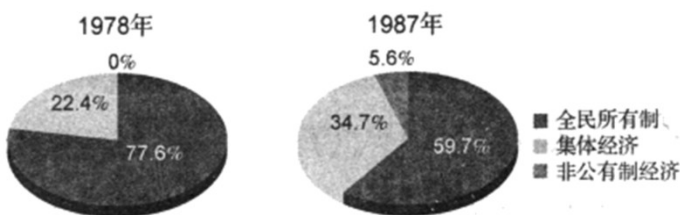
- A. 巩固了新生人民政权
- B. 实现了祖国大陆统一
- C. 提高了我国国际地位
- D. 解放了农村生产力

11. 小李同学正在搜集新中国国防建设 板报素材，下列书籍可供参阅的是（ ）

- A. 《焦裕禄：把我埋在沙丘上》
- B. 《袁隆平：东方“稻神”》
- C. 《邓稼先：腾空而起 蘑菇云》
- D. 《雷锋：大海里的一滴水》

12. 下图反映了我国 1978-1987 年公有制和非公有制经济在工业总产值中的比重变化，导致这一变化的主要原因是（ ）

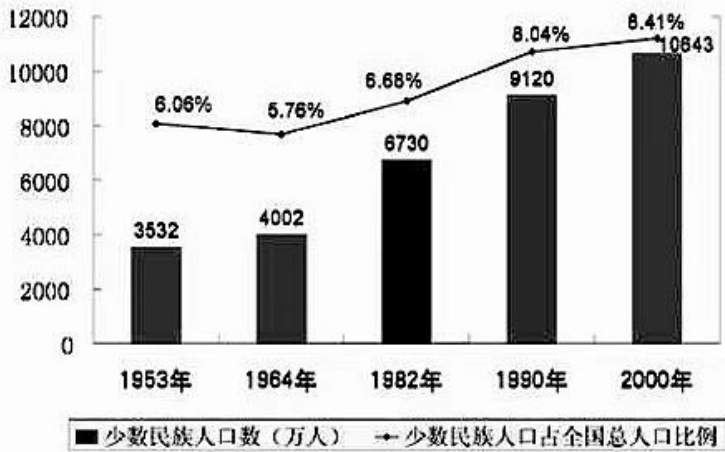
公有制和非公有制经济在工业总产值中的比重



- A. 实行新解放区土地改革
- B. 进行全行业的公私合营直
- C. 实施家庭联产承包责任制
- D. 开展城市经济体制改革

13. 下图为新中国成立后少数民族人口变化统计图，这种变化与某项具有中国特色的民族制度密切相关。该制度为（ ）

五次人口普查少数民族人口数及占全国总人口的比例



A. 政治协商制度

B. 民族区域自治制度

C. 全国人民代表大会制度

D. “一国两制”

14. 据统计，新航路开辟后，仅西班牙在 1500-1650 年间就从美洲搜刮了 1.6 万吨白银和 180 吨黄金。这说明，新航路的开辟（ ）

A. 有助于欧洲资本原始积累

B. 促使西班牙成 “海上马车夫”

C. 促进了全球物种的大交换

D. 推动美洲成为世界贸易的中心

15. 14 世纪的佛罗伦萨诗人彼特拉克在他的抒情诗《歌集》中抨击教会“是黑暗的监狱，是充满欺骗的场所”，讴歌爱情，描写人的喜怒哀乐。这体现了当时的（ ）

A. 自由主义思想

B. 禁欲主义思想

C. 人文主义思想

D. 蒙昧主义思想

16. 17 世纪英国革命 最大成果，是创造了一种全新的政体。在这种政治模式下，国王不仅“临朝不理政”，而且无权废除任何法律。下列对国王“临朝不理政”产生重大影响的文献是（ ）

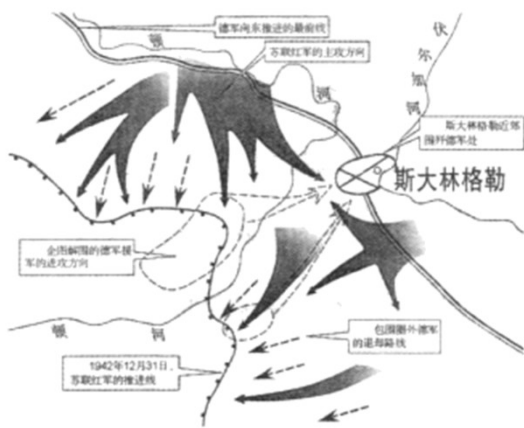
A. 《大宪章》

B. 《权利法案》

C. 《独立宣言》

D. 《1787 年宪法》

17. 《全球通史》对下图有如下描述：“1943 年 2 月，苏联人接受了 12 万德军的投降。此后苏联人全线反攻，迫使德国人反攻为守。”说明该战役（ ）



- A. 揭开了世界反法西斯战争的序幕
- B. 粉碎了纳粹德国不可战胜的神话
- C. 促使第二次世界大战达到最大规模
- D. 成为第二次世界大战的重要转折点

18. 据新华社报道，历时近 10 年的中美贸易争端案，经世界贸易组织仲裁庭裁定中国胜诉。这不仅维护了中国的合法利益，而且捍卫了多边贸易体制。这说明世界贸易组织（ ）

- A. 有利于维护国际和平与安全
- B. 带有明显大国强权色彩
- C. 具有解决世界贸易争端职能
- D. 加快了欧洲一体化进程

第 II 卷 (非选择题 共 22 分)

19. 大历史观是指长时段、宽视野，通过大概念对课程内容进行较长时空的纵向整合和较广时空的横向整合。阅读材料，回答问题。

探究主题一——【碰撞的世纪】

材料一 鸦片战争后，中国开始被套上《南京条约》等一系列不平等条约的枷锁，像是一块大石投入

了晚清社会这潭积水，使之①“激荡”起来。中国人民在炮声中逐渐觉醒，开始了早期②“探索”。

——摘编自胡绳《从鸦片战争到五四运动》

时间	重大事件	口号了纲领
19 世纪 50 年代-60 年代	太平天国运动	《资政新篇》
19 世纪 60 年代-90 年代	洋务运动	▲_____
19 世纪末	戊戌变法	▲_____
20 世纪初	辛亥革命	▲_____

A. 变法图强 B. 三民主义 C. 自强、求富

(1) 结合材料一和所学，完善表格“▲”内容（选填字母），并从材料的关键词①②中任选一个加以简要解读。

探究主题二——【勃兴的年代】

材料二 依照学术界的通行理解，五四运动有广、狭之分。狭义的五四运动指 1919 年因山东问题而引发的爱国热潮；广义的五四运动则指 1919 年前后长达十余年的新文化运动，其内涵与外延都相当广泛，前后期的变化也明显。正如孙中山所言：“其将来收效伟大且久远”。

——摘编自马勇《重寻近代中国》等

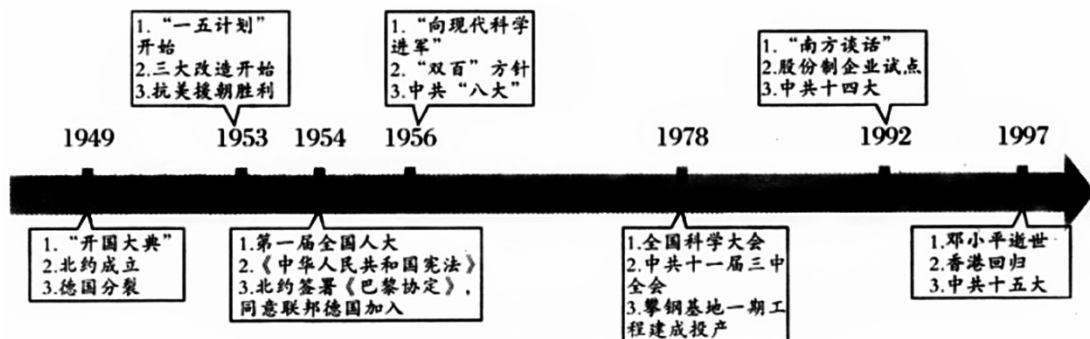


(2) 结合材料二和所学，指出五四新文化运动思想上前后期的主要“变化”，并分析说明你对五四新文化运动“收效伟大且久远”的理解。

探究主题三——【_____的时代】

材料三 1949 年 10 月中华人民共和国成立，结束了近代中国的历史，中国历史开始迈入了它的现代，中国历史从此展开新的篇章，并深刻地影响了世界历史发展的进程。

——摘编自张海鹏《简明中国近代史读本》



(3) 据材料三和所学，立足“中国历史开始迈入了它的现代”，请选取两个及以上相关史实，将主题补充完

整，并简要说明。（要求：主题明确，史论结合，条理清晰，言之有理，示例除外，120 字左右）

示例：主题：科技自立自强的时代

史实：“向现代科学进军”、全国科学大会

说明：为满足国家建设需要，1956 年党中央提出“向现代科学进军”的口号，此后钱学森、于敏等广大知识分子投身科技建设，使我国很快在原子弹、导弹等尖端科技上取得重大突破。到 1978 年全国科学大会召开，邓小平作了“科学技术是生产力”等重要讲话，新中国迎来了科技发展的春天。

