

湖南省张家界市 2020 年普通初中学业水平考试试卷

历史

一、选择题

1. 向阳中学某历史研学小组计划暑假实地考察中国早期人类代表——北京人的生活遗址。他们应该去的地方是

- A. 周口店遗址 B. 半坡遗址 C. 河姆渡遗址 D. 元谋遗址

【答案】A

【解析】

【详解】考查点：北京人。解题思路：紧扣“北京人的生活遗址”结合所学知识回答。北京人生活在北京西南周口店龙骨山的山洞里，A 符合题意；半坡遗址生活的是半坡原始居民，排除 B；河姆渡遗址生活的是河姆渡原始居民，排除 C；元谋遗址生活的是元谋人，排除 D。故选 A。

2. 湖湘文化是中国传统文化的重要组成部分，胸怀祖国、忧国忧民、上下求索、敢为人先是其重要特征。开启湖湘文化源头的人是

- A. 屈原和周敦颐 B. 周敦颐和王船山
C. 屈原和贾谊 D. 贾谊和王船山

【答案】C

【解析】

【详解】考查点：地方史。解题思路：紧扣“开启湖湘文化源头的人”结合湖南地方史回答。战国时期的屈原和西汉的贾谊的作品反映出忧国忧民、奋进探索的精神和高尚的人格魅力，开启了湖湘文化的源头。屈原是战国时期的屈原是伟大的爱国诗人，创造了一种新的诗歌体裁“楚辞”，代表作品有《离骚》《九章》《九歌》，他的作品大多写作或完成于洞庭湖地区，对湖湘文化的形成和发展产生了深远影响。作品中所反映出来的爱国主义思想和上下求索的精神，融会成湖湘文化的重要特征。贾谊生活在西汉初年，贾谊被贬谪长沙，著《吊屈原赋》《鹏鸟赋》，其作品表现了他愤世嫉俗、志洁行廉的高尚品格、爱国主义精神以及忧国忧民的情怀。故 C 符合题意；湖湘文化的开启者是屈原和贾谊，排除 ABD。故选 C。

3. 下列历史事件与广受热议的电视连续剧《贞观长歌》相关的是

- A. “文景之治” B. “贞观之治”
C. “光武中兴” D. “开元盛世”


【答案】B

【解析】

【详解】根据所学可知，在唐代，李世民开创了“贞观之治”，成为一代盛世，电视连续剧《贞观长歌》就

反映了这一点，故 B 符合题意；“文景之治”、“光武中兴”均是汉代盛世，故 AC 均不符合题意；在唐代，李隆基开创了“开元盛世”，故 D 不符合题意。故选 B。

4. 学习中国古代史要善于抓住“朝代更替”这条主线。与如图中①②③相对应的朝代是



- A. 隋朝、五代、宋朝
- B. 隋朝、宋朝、元朝
- C. 明朝、隋朝、宋朝
- D. 商朝、三国、隋朝

【答案】 D

【解析】

【详解】 考查点：中国古代朝代的更替。解题思路：结合“①②③前后的朝代”判断相对应的朝代。结合所学知识可知，夏朝在约公元前 1600 年被商汤所灭。商汤建立商朝，故①是商。东汉灭亡后，中国历史进入魏蜀吴三国时期，故②是三国。589 年，隋灭陈，统一全国。618 年，隋朝灭亡，唐朝建立。故③是隋。故 D 符合题意；夏朝之后是商朝，排除 ABC。故选 D。

5. 中国是世界上最早使用货币的国家之一，在中国古代货币发展过程中先后经历了几次重要的演变。下列演变开始于北宋的是

- A. 自然货币向人工货币演变
- B. 由杂乱形状向统一货币演变
- C. 由地方铸币向中央铸币演变
- D. 由金属货币向纸币“交子”演变

【答案】 D

【解析】

【详解】 根据所学知识可知，北宋时期出现了世界上最早的纸币交子，货币从金属货币开始向纸币演变 D 正确；商周时期铜贝的出现，是我国古代货币史上由自然货币向人工货币的一次重大演变。A 与题不符，A 错误；由杂乱无章向统一形态规范表现为秦统一货币为圆形方孔半两钱，与题不符，B 错误；汉武帝收回了郡国铸币权，由中央统一铸造五铢钱。从此确定了由中央政府对钱币铸造、发行的统一管理，这是中国古代货币史上由地方铸币向中央铸币的一次重大演变。与题不符，C 错误。综上故选 D。

6. 自 1405 年起，明代航海家郑和率船队七下西洋，扩大了中国与亚非国家的经济文化交流。1492 年，哥伦布率船队横渡大西洋到达美洲的巴哈马群岛，开辟了通往美洲的航路。为两者成功航行提供重要条件和直接帮助的是

- A. 造纸术
- B. 印刷术
- C. 指南针
- D. 火药

【答案】 C

【解析】

【详解】根据所学可知，宋代发明了指南针，用于航海后，促进了海上丝绸之路的发展和繁荣，这种技术，也为以后郑和率船队七下西洋和哥伦布发现美洲提供重要条件和直接帮助，故 C 符合题意；造纸术、印刷术均促进了文化的传播，故 AB 均不符合题意；火药，在西方，促进了从封建社会到资本主义社会的过渡，故 D 不符合题意。故选 C。

7.19 世纪末 20 世纪初，在中国近代化探索的历程中，一些先进中国人学习西方政治制度的实践探索是

①洋务运动 ②戊戌变法 ③辛亥革命 ④新文化运动

A. ①② B. ②③ C. ①④ D. ③④

【答案】 B

【解析】

【详解】根据所学可知，1898 年，中国进行了戊戌变法，试图在中国实现君主立宪制；1911 年，进行了辛亥革命，推翻了帝制，建立了亚洲第一个资产阶级共和国；这些均是先进中国人学习西方政治制度的实践探索，故②③符合题意；洋务运动是地主阶级的自救运动，新文化运动是思想领域的近代化，故①④不符合题意。故 B 符合题意，ACD 均不符合题意。故选 B。

8.民国以后，“剪发兴，辫子灭；爱国帽兴，瓜皮帽灭；天足兴，缠足灭；鞠躬礼兴，跪拜礼灭”这些变化体现了

A. 婚姻自主意识增强 B. 交通通讯新变化
C. 休闲生活方式新变化 D. 自由平等新风尚

【答案】 D

【解析】

【详解】考查点：社会习俗的变化。解题思路：紧扣“剪发兴，辫子灭；爱国帽兴，瓜皮帽灭；天足兴，缠足灭；鞠躬礼兴，跪拜礼灭”结合辛亥革命后社会习俗的变化回答。辛亥革命后，民国政府颁布了剪辫、易服和劝禁缠足等革除社会陋习的法令，强令男子剪掉辫子，劝禁女子缠足。民国政府废除有损人格的跪拜礼，代之以简单的鞠躬、握手礼。取消“老爷”“大人”的称谓，代之以“先生”的称呼，体现出自由平等的新风尚。故 D 符合题意；婚姻自主意识增强在题干材料中不能体现，排除 A；交通通讯新变化与题干材料无关，排除 B；休闲生活方式新变化在题干材料中不能体现，排除 C。故选 D。

9.它坚持斗争 14 年，转战大半个中国，沉重打击了清朝的统治和外国侵略势力，是中国历史上规模最大的农民战争。“它”指的是

A. 陈胜吴广起义 B. 李自成起义 C. 太平天国运动 D. 义和团运动

【答案】 C

【解析】

【详解】考查点：太平天国运动。解题思路：紧扣“它坚持斗争 14 年，转战大半个中国，沉重打击了清朝

的统治和外国侵略势力，是中国历史上规模最宏大的农民战争”结合太平天国运动的意义回答。太平天国运动是中国历史上规模最宏大的一次农民战争，坚持斗争 14 年，沉重打击了清朝的统治和外国资本主义侵略势力，谱写了中国近代史上壮丽的一章。故 C 符合题意；陈胜吴广起义是中国历史上第一次农民起义，排除 A；李自成起义发生在明末，排除 B；义和团运动是反帝爱国运动，其口号是“扶清灭洋”，排除 D。故选 C。

10.“若卖国首领未诛，卖国条约未废，亡国之祸终难幸免”；“签字而山东亡，山东亡而全国随之，亡国大难迫于眉睫。吾同胞忍坐视家国之亡而甘心作奴隶乎？”材料反映的历史事件是

- A. 西安事变 B. 五四运动 C. 北伐战争 D. 一二·九运动

【答案】 B

【解析】

【详解】考查点：五四运动。解题思路：紧扣“签字而山东亡，山东亡而全国随之，亡国大难迫于眉睫。吾同胞忍坐视家国之亡而甘心作奴隶乎？”结合五四运动的背景回答。依据题干信息“签字而山东亡，山东亡而全国随之，亡国大难迫于眉睫。吾同胞忍坐视家国之亡而甘心作奴隶乎？”可知，此内容与五四运动有关。1919 年巴黎和会中国外交失败，激起北大学子的愤慨，1919 年 5 月 4 日，北大学生打着“拒绝在和约上签字”、“外争国权，内惩国贼”、“誓死力争，还我青岛”等口号，开始示威游行，五四运动爆发，故 B 符合题意；西安事变与题干的“若卖国首领未诛，卖国条约未废，亡国之祸终难幸免”无关，排除 A；北伐战争与题干信息无关，排除 C；一二·九运动与题干信息无关，排除 D。故此题选 B。

【点睛】抓住题干关键词“签字而山东亡，山东亡而全国随之，亡国大难迫于眉睫。吾同胞忍坐视家国之亡而甘心作奴隶乎？”是解题的关键，1919 年巴黎和会中国外交失败，引发了中国的五四运动。

11.今年是中国共产诞生 99 周年。下列所述与中国共产党诞生历史意义相符的是

- A. 中国历史上开天辟地的大事 B. 党的历史上生死攸关的转折
C. 为抗战最后胜利准备了条件 D. 新中国党的历史上的伟大转折

【答案】 A

【解析】

【详解】根据所学可知，1921 年 7 月中共一大召开，标志着中共的诞生。中共的诞生是中国历史上开天辟地的大事，自从有了中国共产党，中国革命的面貌就焕然一新了，故 A 项正确；遵义会议是党的历史上生死攸关的转折，B 项错误；中共七大的召开为抗战最后胜利准备了条件，C 项错误；1978 年 12 月召开的党的十一届三中全会，结束了粉碎“四人帮”之后两年中党的工作在徘徊中前进的局面，实现了新中国成立以来党和国家历史上具有深远意义的伟大转折，D 项错误；故选 A。

12.1928 年，毛泽东总结道：“我们闹革命，光是跑来跑去是不行的，一定要有一个家，不然就很困难。有了这个家，就可以作为同敌人进行革命斗争的根据地。”中国共产党创建的第一个“家”是

- A. 左右江革命根据地
B. 鄂豫皖革命根据地
C. 湘鄂西革命根据地
D. 井冈山革命根据地

【答案】D

【解析】

【详解】考查点：井冈山革命根据地。解题思路：依据“中国共产党创建的第一个‘家’”结合所学知识回答。依据所学可知，1927年秋收起义失败后，毛泽东率领工农革命军到达井冈山，开辟了中国革命的第一块根据地，点燃了中国革命的“星星之火”。中国共产党创建的第一个“家”是井冈山革命根据地，D符合题意；左右江革命根据地成立于1929—1930年，排除A；鄂豫皖革命根据地成立于1930年，排除B；湘鄂西革命根据地成立于1930年，排除C。故选D。

13.2015年6月9日《参考消息》登载了河北省军区副司令员王志国一篇文章“‘十四年抗战说’蕴含多重意义。”文中“十四年抗战说”是把哪一事件作为抗日战争的开端

- A. 九一八事变的爆发 B. 淞沪会战 C. 武汉会战 D. 七七事变的爆发

【答案】A

【解析】

【详解】考查点：九一八事变。解题思路：依据“‘十四年抗战说’和抗日战争的开端”结合九一八事变的影响进行分析。结合所学知识可知，1931年的九一八事变成为中国人民抗日战争的起点，揭开了世界反法西斯战争的序幕。1945年抗日战争结束，因此，“十四年抗战说”是把九一八事变作为抗日战争的开端，故A符合题意；淞沪会战、武汉会战是抗日战争中国国民党在正面战场组织的会战，排除BC；七七事变标志着中国全民族抗战的开始，排除D。故选A。

14.1935年11月19日，遵照中央指示，红二、六军团1.7万余人在贺龙、任弼时等的领导下开始长征。其长征的出发地是

- A. 永定区 B. 慈利县 C. 武陵源区 D. 桑植县

【答案】D

【解析】

【详解】考查点：地方史。解题思路：紧扣“红二、六军团1.7万余人在贺龙、任弼时等领导下开始长征其长征的出发地。”结合湖南地方史回答。红二、红六军团胜利完成策应中央红军长征任务后，作为最后一支出发的红军队伍，于1935年11月19日，从湖南桑植刘家坪出发开始长征，共计一万七千余人。故D符合题意；永定区、慈利县、武陵源区不是红二、六军团长征的出发地，排除ABC，故选D。

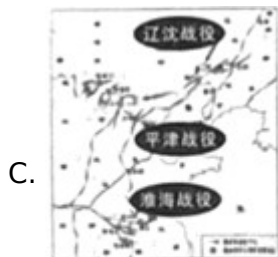
15.解放战争时期，毛泽东非常形象地说：“蒋介石两个拳头（指陕北和山东）这么一伸，他的胸膛就露出来了。所以，我们的战略就是要把这两个拳头紧紧地拖住，对准他的胸膛插上一刀。”下列示意图中，实现了毛泽东这一战略意图的是



台儿庄战役示意图



挺进大别山示意图



三大战役示意图



渡江战役示意图

【答案】 B

【解析】

【详解】依据题干“蒋介石两个拳头（指陕北和山东）这么一伸，他的胸膛就露出来了。所以，我们的战略就是要把这两个拳头紧紧地拖住，对准他的胸膛插上一刀。”可知是对刘邓大军挺进大别山战略部署的生动比喻。结合课本所学，1947年，刘伯承、邓小平率领晋冀鲁豫解放军主力，在山东西南强渡黄河，向国民党统治区发动大规模进攻，他们直接插入敌人兵力空虚的大别山地区，人民解放军转入战略进攻。B正确；台儿庄战役发生在抗日战争时期，A排除；三大战役分别发生在东北、长江中下游、华北等地区，C排除；渡江战役解放了南京，人民解放战争结束。D排除；故选B。

16.为了肃清湘西匪患，打开进军西南的通道，1949—1951年，中国人民解放军第四十七军和第三十八军、第四十六军一部在湘西开展的三年多艰苦卓绝的斗争是

- A. 剿匪斗争 B. 土地改革 C. 镇压反革命 D. “三反”“五反”运动

【答案】 A

【解析】

【详解】考查点：地方史。解题思路：依据题干的“为了肃清湘西匪患，打开进军西南的通道”结合所学知识回答。在湘西，广袤山区和许多县城依然被土匪占领，剿除湘西匪患，打通解放军挺进大西南通道，成当务之急。为了肃清湘西匪患，打开进军西南的通道，1949—1951年，中国人民解放军第四十七军和第三十八军、第四十六军一部在湘西开展的三年多艰苦卓绝的剿匪斗争。故A符合题意；土地改革发生在1950—1952年，排除B；镇压反革命发生在1950年—1951年，排除C；“三反”“五反”运动发生在1951年—1952年，排除D。故选A。

17.如图是某同学对某一历史事件做的课堂笔记内容。该内容反映的主题是

(1) 时间：1953 年—1957 年
(2) 主要任务：集中主要力量发展重工业
(3) 主要成就：长春第一汽车制造厂、武汉长江大桥、青藏公路、川藏公路、新藏公路

- A. 国有企业改革
B. 三大改造
C. 家庭联产承包责任制
D. “一五”计划

【答案】 D

【解析】

【详解】 考查点：“一五”计划。解题思路：依据时间、主要任务、主要成就可以判断是“一五”计划。结合所学知识可知，为了有计划地进行社会主义建设，从 1953 年至 1957 年，我国实施第一个五年计划。第一个五年计划的基本任务是集中主要力量发展重工业。第一个五年计划的主要成就有：鞍山钢铁公司无缝钢管厂等三大工程、长春第一汽车制造厂、沈阳机床厂和飞机制造厂等建成投产；川藏、青藏、新藏公路相继通车。1957 年，武汉长江大桥建成，连接了长江南北的交通。故 D 符合题意；国有企业改革的中心环节是增强企业的活力，排除 A；三大改造发生在 1953—1956 年，排除 B；家庭联产承包责任制开始于 1978 年，排除 C。故选 D。

18.通过“两河流域”“楔形文字”“汉谟拉比法典”等关键词，可以联想到的文明古国是

- A. 古埃及
B. 古印度
C. 古巴比伦
D. 古代中国

【答案】 C

【解析】

【详解】 考查点：古巴比伦。解题思路：紧扣“两河流域”“楔形文字”“汉谟拉比法典”结合所学知识回答。依据题干中的关键词“两河流域”“楔形文字”“汉谟拉比法典”能确定文明古国是古巴比伦王国。因为“汉谟拉比法典”是古巴比伦王国国王汉谟拉比制定的。古巴比伦王国源于两河流域，两河流域的古老文字是楔形文字。故 C 符合题意；古埃及的古老文字是象形文字，排除 A；古印度的文明成就是种姓制度和佛教，排除 B；古代中国的古老文字是甲骨文，排除 D。故选 C。

19.在日常生活中，我们常常接触到“因果报应”“生死轮回”“众生平等”“大慈大悲”等词语。这些词语来源于公元前 6 世纪创立的

- A. 佛教
B. 基督教
C. 伊斯兰教
D. 道教

【答案】 A

【解析】

【详解】 考查点：佛教。解题思路：紧扣“公元前 6 世纪创立”结合佛教的创立时间回答。公元前 6 世纪，乔达摩·悉达多创立佛教。佛教宣扬众生平等，不拒绝低种姓的人入教，教义通俗易懂，信仰的民众日益增

多，一度成为印度的国教。“因果报应”“生死轮回”“众生平等”“大慈大悲”等词语来源于佛教，故 A 符合题意；基督教创立于公元 1 世纪，排除 B；伊斯兰教创立于公元 7 世纪，排除 C；道教兴起于东汉时期，排除 D。故选 A。

20.“地跨欧亚非三大洲，延续时间达一千多年之久，对东西方文化兼收并蓄，为文艺复兴提供丰富的精神营养”的大帝国是

- A. 罗马帝国 B. 拜占庭帝国 C. 阿拉伯帝国 D. 亚历山大帝国

【答案】 B

【解析】

【详解】根据所学可知，4 世纪末，罗马帝国分裂，东部形成了拜占庭帝国，它地跨欧亚非三大洲，延续时间达一千多年之久，对东西方文化兼收并蓄，为文艺复兴了提供丰富的精神营养，故 B 符合题意，A 不符合题意；阿拉伯帝国创造了伊斯兰文明，对后世影响深远，故 C 不符合题意；亚历山大帝国是奴隶制军事帝国，故 D 不符合题意。故选 B。

21.如图人物命运多舛，28 岁患耳疾，后来两耳完全失聪，但勇于与命运抗争，创作出了《英雄交响曲》等不朽乐章。这位音乐家是



- A. 贝多芬 B. 牛顿 C. 聂耳 D. 但丁

【答案】 A

【解析】

【详解】根据所学可知，贝多芬命运多舛，他创作的《英雄交响曲》标志着他在思想上和艺术上的成熟，故 A 符合题意；牛顿是科学家，聂耳是中国音乐家，但丁是文艺复兴的先驱，故 BCD 均不符合题意。故选 A。

22.马克思主义诞生的标志是（ ）

- A. 《权利法案》的通过 B. 《独立宣言》的发表
C. 《人权宣言》的通过 D. 《共产党宣言》的发表

【答案】 D

【解析】

【详解】据题干以“马克思主义诞生的标志”结合所学可知，1848 年 2 月 24 日，马克思和恩格斯合著的《共产党宣言》在伦敦第一次出版。它标志着马克思主义的诞生，开辟了国际工人运动和社会主义运动的新局

面，成为世界无产阶级的锐利思想武器。所以 D 符合题意。《权利法案》标志英国确立君主立宪制，《独立宣言》发表于美国独立战争时期，《人权宣言》发表于法国大革命期间，三者都代表资产阶级性质的纲领文件，ABC 不符合题意，排除。故选择 D。

23.19 世纪上半叶，农奴在俄国全国人口占很大比重，他们饱受虐待，被随意买卖，不堪忍受的农奴发动了一千多次起义：1853—1856 年，俄国在克里木战争中败于土耳其。面对严重的内外危机，俄国沙皇亚历山大二世

- A. 实行罗斯福新政
- B. 实行苏俄新经济政策
- C. 废除农奴制改革
- D. 实行明治维新

【答案】 C

【解析】

【详解】 考查点：废除农奴制改革。解题思路：依据“俄国沙皇亚历山大二世”结合所学知识回答。俄国农奴制严重阻碍了俄国经济的发展，克里米亚战争惨败，激化了社会矛盾。为了巩固统治、缓和阶级矛盾、避免革命，1861 年，俄国沙皇亚历山大二世实行了废除农奴制改革。故 C 符合题意；罗斯福新政发生在美国，排除 A；苏俄实行新经济政策是 1921 年，排除 B；明治维新发生在日本，排除 D。故选 C。

24.15 世纪，欧洲殖民者开始侵入非洲，逐步建立起了在非洲的殖民体系、这一体系最终崩溃的标志是（ ）

- A. 埃及的独立
- B. 纳米比亚的独立
- C. 南非的独立
- D. “非洲独立年”的出现

【答案】 B

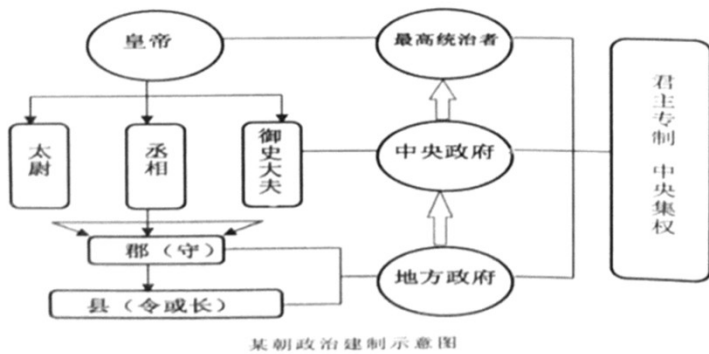
【解析】

依据所学知识可知，1991 年纳米比亚独立，使非洲最后一个独立的国家，标志着非洲殖民体系的最终崩溃。A 项埃及独立是在 1952 年；C 项南非独立是在 1961 年；D 项“非洲独立年”指的是 1960 年，非洲有 17 个国家独立。B 项符合题意，故选 B。

二、非选择题

25.我国是一个统一的多民族国家，历史悠久，延绵不断，统一是历史发展的主流为维护国家统一与发展，历代政府都作出了不懈的努力。阅读下列材料，回答问题。

材料一



(1) 根据材料一，结合所学知识，指出示意图是哪一朝代创立的什么重要政治制度？请概括这一制度对后世产生的重大影响。

材料二 我国是一个有着五千多年历史的多民族国家，为了协调民族关系、加强对边疆地区的有效管理，历代统治者都在政治、经济、军事、文化等方面制定并实施了相应的边疆政策。在客观上不同程度地促进了边疆地区的经济发展和多民族国家的统一和巩固。

——摘自赵慧强、洪增林《西部人文资源开发研究》

(2) 根据材料二，结合所学知识，指出为加强新疆、西藏、台湾的有效管辖，汉朝、元朝、清朝分别设立了哪些重要行政管理机构？

材料三 世界上只有一个中国，大陆和台湾同属一个中国，中国的主权和领土完整不容分割。维护国家主权和领土完整是包括台湾同胞在内的全中国人民的共同义务。台湾是中国的一部分。国家绝不允许“台独”分裂势力以任何名义、任何方式把台湾从中国分裂出去。

——摘自《反分裂国家法》

(3) 根据材料三，结合所学知识，指出我国对台基本方针是什么？针对台独分裂势力和国际反华势力，谈谈我国制定并颁布《反分裂国家法》的现实意义。为维护国家主权、统一和领土完整，作为一名中学生你应当怎样履行这一义务？

【答案】 (1) 秦朝。君主专制中央集权制度（大一统的中央集权制度）。这一制度影响深远，为后世沿用；郡县制的实行，开创了此后我国历代王朝地方行政的基本模式。（任答对一点或答案相近即可）

(2) 新疆：西汉设立西域都护（府）。清朝设立伊犁将军。西藏：元朝设立宣政院。清朝设立驻藏大臣。台湾：元朝设立澎湖巡检司。清朝设立台湾府、台湾省等。

(3) 基本方针：和平统一，一国两制。

现实意义：是我国历史上第一部反分裂的法律；为有效打击台独势力，为对台方针的顺利实施，为捍卫国家尊严、主权和领土完整提供了法律依据等。（任答对两点，得满分。其他言之有理也可酌情给分）

履行义务：坚决拥护《反分裂国家法》；积极宣传我国政府对台问题的方针政策；坚决同一切破坏国家统

一的行为作斗争；努力学习，立志成才，为早日实现祖国的完全统一贡献自己的力量等（任答对两点，得满分。其他言之有理也可酌情给分）

【解析】

【详解】（1）考查点：中央集权制度。解题思路：依据材料一示意图的关键信息“皇帝、丞相、太尉、御史大夫、郡县”结合所学知识回答。根据材料一的“皇帝、丞相、太尉、御史大夫、郡县”结合所学知识可知，材料一示意图是秦朝创立的君主专制中央集权制度。君主专制中央集权制度影响深远，为后世沿用；郡县制的实行，开创了此后我国历代王朝地方行政的基本模式。

（2）考查点：汉朝、元朝、清朝对边疆地区的管辖。解题思路：紧扣“为加强新疆、西藏、台湾的有效管辖，汉朝、元朝、清朝分别设立了的重要行政管理机构”结合所学知识回答。根据材料二，结合所学知识可知，为加强对新疆的管辖，公元前60年，西汉设立西域都护。清朝设立伊犁将军，管辖包括巴尔喀什池在内的整个新疆地区。为加强对西藏的管辖，元朝设立宣政院，直接统辖西藏。西藏正式成为中央直接管辖下的一个地方行政区域。清朝设立驻藏大臣，代表中央政府常驻西藏，同达赖、班禅共同管理西藏，加强了对西藏的管辖。为加强对台湾的管辖，元朝在澎湖岛设置了澎湖巡检司，负责管辖澎湖和琉球。这是历史上中央王朝首次在台湾地区正式建立行政机构。1684年，康熙帝设置台湾府，隶属福建省，1885年台湾正式建省，成为中国的一个行省。

（3）考查点：海峡两岸的交往。解题思路：分析题目要求，结合海峡两岸的交往的相关知识解答。根据材料三，结合所学知识可知，我国对台基本方针是和平统一，一国两制。针对台独分裂势力和国际反华势力，我国制定并颁布《反分裂国家法》的现实意义是：是我国历史上第一部反分裂的法律；为有效打击台独势力，为对台方针的顺利实施，为捍卫国家尊严、主权和领土完整提供了法律依据等。为维护国家主权、统一和领土完整，作为一名中学生应当履行的义务有：坚决拥护《反分裂国家法》；积极宣传我国政府对台问题的方针政策；坚决同一切破坏国家统一的行为作斗争；努力学习，立志成才，为早日实现祖国的完全统一贡献自己的力量等。

26.中美关系是当今世界最重要的双边关系，近代以来既有激烈的冲突，又有成功的合作。2012年以来，中美两国正寻求构建“新型大国关系”，中美关系的走向已成为国际社会关注的焦点和热点。阅读下列材料，回答问题。

材料一 1922年美国召集的华盛顿九国会议签定了—个公约，又使中国回复到几个帝国主义国家共同支配的局面。

——毛泽东《论反对日本帝国主义的策略》

（1）材料—中的“—个公约”指什么？它实现了美国长期追求的什么侵略目的？二战中，中美成功合作为世界反法西斯战争的胜利作出了重大贡献，请举两例加以说明。

材料二 新中国成立以来，中美两国关系经历如下历程：

1954 年没握成手→1972 年跨越太平洋的握手→2012 年建立“新型大国关系”的握手

(2) 根据材料二，结合所学知识，分析“1954 年没握成手”的主要原因。“1972 年跨越太平洋的握手”具体指哪一重大外交事件？中美正式建交于哪一年？

材料三 2018 年 3 月 9 日，美国总统特朗普签署关税法令，对钢铁和铝分别征收 25%和 10%的关税。3 月 23 日，特朗普根据“301 调查报告”签署备忘录，拟对价值 600 亿美元的来自中国的进口商品加征关税，并限制中国企业对美国的投资。3 月 23 日，中国政府宣布拟对价值 30 亿美元的来自美国的进口商品加征关税，作为美国对中国进口钢铁和铝产品加征关税的回应。

——摘自新华网

(3) 根据材料三，分析特朗普根据美国“301 调查报告”拟对中国钢铝产品加征关税的主要目的是什么？面对中美贸易摩擦不断升级的趋势，为捍卫国家的利益，中国应如何应对？

(4) 综上所述，你认为当今中美两国应构建怎样的“新型大国关系”？

【答案】 (1) 《九国公约》。门户开放，机会均等，利益均沾。中美等 26 国签署《联合国家宣言》，标志着世界反法西斯联盟正式形成；美国为中国抗战直接提供了军事、物资援助；中国战场是二战的东方主战场，中美密切合作，共同为反法西斯战争胜利作出了巨大贡献等。（任答对两点，得满分。其他言之有理也可酌情给分）

(2) 新中国成立初期，美国对华采取敌对政策：抗美援朝美国失败。美国总统尼克松访华。1979 年。

(3) 贸易保护。坚持“多边主义”；维护“世贸组织”权威；遵守“世贸组织”规则；同美国进行合理合法的斗争；坚持改革开放；坚持“科教兴国”，增强科技创新能力，提升国家综合实力；坚决维护世界经济全球化等。（任答对两点，得满分。其他言之有理也可酌情给分）

(4) 两国构建平等，互信，合作，共赢的双边关系：为构建人类命运共同体，维护世界持久和平与安全作出贡献等

【解析】

【详解】 (1) 依据材料一“1922 年美国召集的华盛顿九国会议签定了一个公约，又使中国回复到几个帝国主义国家共同支配的局面”可知反映的是华盛顿会议，结合课本所学，1922 年华盛顿会议上，美、英、法、日等九国签署了《九国公约》等条约。《九国公约》实现了美国长期追求的“门户开放，机会均等，利益均沾”的目的；第二次世界大战中，法西斯国家的大肆侵略，激起世界各国人民的愤怒，全世界反法西斯国家开始逐渐走向联合。1942 年 1 月中美等 26 国签署《联合国家宣言》，标志着世界反法西斯联盟正式形成；二战中，美国为中国抗战直接提供了军事、物资援助，对日本投下两枚原子弹；中国战场是二战的东方主战场，中美密切合作，共同为反法西斯战争胜利作出了巨大贡献等。

(2) 依据材料二“新中国成立以后，中美两国关系经历如下历程：1954 年没握成手→1972 年跨越太平

洋的握手→2012年建立新型大国关系的握手”，结合课本所学可知，新中国成立初期，由于战略的需要，美国敌对新中国，对新中国实行封锁禁运、包围威胁的政策：抗美援朝美国失败。故1954年，中美两国处于敌对状态；1972年，美国总统尼克松访华。毛泽东会见了尼克松，中美双方正式签署《联合公报》，两国关系开始走向正常化；1979年中美正式建立外交关系。

(3) 依据材料三“3月23日，特朗普根据‘301调查报告’签署备忘录，拟对价值600亿美元的来自中国的进口商品加征关税，并限制中国企业对美国的投资。3月23日，中国政府宣布拟对价值30亿美元的来自美国的进口商品加征关税，作为美国对中国进口钢铁和铝产品加征关税的回应”可知，美国对中国加征关税，是为了贸易保护；结合课本所学可知，面对中美贸易摩擦，中国继续坚持“多边主义”；维护“世贸组织”权威：遵守“世贸组织”规则：同美国进行合理合法的斗争；坚持改革开放；坚持“科教兴国”，增强科技创新能力，提升国家综合实力；坚决维护世界经济全球化等。

(4) 依据前面的材料中美两国的关系，一战美国敌对中国，二战后为了对应共同法西斯国家，建立国际反法西斯联盟，取得了最终胜利；20世纪70年代，中美两国建交，合作共赢。由此得出：两国构建平等，互信，合作，共赢的双边关系：为构建人类命运共同体，维护世界持久和平与安全作出贡献等。

27.18世纪60年代和19世纪六七十年代，人类社会开始了两次工业革命：二战后，人们又发明了电子计算机和计算机网络技术。这些科技革命，创造了巨大的生产力，极大地改善了人们的生活，同时也给人类带来了一些消极影响。阅读下列材料，回答问题。

材料一

第一次工业革命重要成果表（部分）

时间	发明者	国别	发明成果
1733年	凯伊	英国	飞梭
1765年	哈格里夫斯	英国	珍妮机
1785年	瓦特	英国	改进蒸汽机
1825年	斯蒂芬森	英国	蒸汽机车

(1) 根据材料一，结合所学知识，请回答第一次工业革命始于哪个国家？始于该国的政治前提是哪一政治制度的确立？第一次工业革命使人类社会进入了什么时代？对近代中国社会造成了什么严重影响？

材料二

时间	发明者	国别	发明成果
1867年	诺贝尔	瑞典	现代炸药
1883年	戴姆勒	德国	汽油内燃机
19世纪后半期和20世纪初期	爱迪生	美国	耐用白炽灯泡、碱性蓄电池、电影摄影机等，一生取得一千多项发明专利
19世纪80年代	本茨	德国	制造世界上第一辆内燃机汽车
1903年	莱特兄弟	美国	设计制造试验飞机

(2) 根据材料二，结合所学知识，指出第二次工业革命使人类社会进入了什么时代？第二次工业革命与第一次工业革命相比发生了哪些新变化？

材料三 二战以后，人们发明了电子计算机，构建了计算机网络。20世纪90年代以来，互联网在全球迅速普及，成为现代社会重要的基础设施。互联网渗透到政治、经济、文化、娱乐、人际交往等领域。计算机网络将世界各地联结成一个整体，创造了人类新的生活模式和文化观念。计算机网络不仅极大地拓展了人类的生活空间，还对人类的经济活动产生了直接影响，推动了全球经济一体化。随着互联网的发展，网络安全问题日益凸显，引起社会的广泛关注。

——摘编自人教版《世界历史》九年级下册

(3) 根据材料三，结合所学知识，指出人类社会进入了什么时代并归纳计算机网络的出现，给人类社会带来哪些利弊？

(4) 综上所述，谈谈人类历史上的几次科技革命对你的启示。

【答案】 (1) 英国。君主立宪制。蒸汽时代。第一次工业革命后，西方列强先后发动两次鸦片战争，第一次使中国开始沦为半殖民地半封建社会；第二次使中国半殖民地化程度进一步加深。

(2) 电气时代。国别由单一转为多国；发明成果更加多样化；科学研究同工业生产的结合更紧密；对人们的生活影响更深远等。

(3) 信息时代（互联网时代）利：极大地丰富了人们的生活；拓展了人们的生活空间；推动了经济活动的变革和经济全球化等。弊：青少年网络成瘾；网络安全问题日益凸显等。

(4) 科学技术是第一生产力；必须实施“科教兴国”战略；科学技术是一把双刃剑，伴随着科学技术进步也产生了资源过度开采、环境污染、网络安全等问题，要树立“可持续发展”的理念、合理利用资源，保护环境，养成垃圾分类的好习惯；作为一名中学生要崇尚科学、热爱科学，努力学习科学文化知识，掌握现代科学技能，更好为国家贡献自己的力量等。（言之有理皆可）

【解析】

【详解】 (1) 根据所学和材料一表格可知，英国最先进行工业革命。根据所学可知，英国资产阶级革命后，逐渐确立了君主立宪制，为工业革命提供了前提；工业革命使人类进行蒸汽时代。根据所学可知，第

一次工业革命后，西方列强先后发动两次鸦片战争，第一次使中国开始沦为半殖民地半封建社会，第二次使中国半殖民地化程度进一步加深。

(2) 根据所学和材料二表格可知，第二次使人类进入电气时代。根据所学可知，第二次工业革命和工业革命相比，国别由单一转为多国，发明成果更加多样化，科学研究同工业生产结合更紧密，对人们的生活影响更深远等。

(3) 根据所学和材料三“二战以后，人们发明了电子计算机，构建了计算机网络……”可知，第三次科技革命使人类进入信息时代，也就是互联网时代。根据所学和材料三“……互联网渗透到政治、经济、文化、娱乐、人际交往等领域。计算机网络将世界各地联结成一个整体，创造了人类新的生活模式和文化观念。计算机网络不仅极大地拓展了人类的生活空间，还对人类的经济活动产生了直接影响，推动了全球经济一体化。随着互联网的发展，网络安全问题日益凸显，引起社会的广泛关注”可知，有利的一面是，极大地丰富了人们的生活；拓展了人们的生活空间；推动了经济活动的变革和经济全球化等；不利的一面是，青少年网络成瘾，网络安全问题日益凸显等。

(4) 根据所学和材料一、二、三可知，从三次工业革命中，我们应认识到，科学技术是第一生产力，必须实施“科教兴国”战略：科学技术是一把双刃剑，伴随着科学技术的进步也产生了资源过度开采、环境污染、网络安全等问题，要树立“可持续发展”的理念、合理利用资源，保护环境，养成垃圾分类的好习惯；作为一名中学生要崇尚科学、热爱科学，努力学习科学文化知识，掌握现代科学技能，更好为国家贡献自己的力量等。

试卷相关说明

本试卷的题干、答案和解析均由组卷网 (<http://zujian.xkw.com>) 专业教师团队编校出品。登录组卷网可对本试卷进行**单题组卷**、**细目表分析**、**布置作业**、**举一反三**等操作。

试卷地址：[在组卷网浏览本卷](#)

组卷网是学科网旗下的在线题库平台，覆盖小初高全学段全学科、超过 900 万精品解析试题。关注组卷网服务号，可使用移动教学助手功能（布置作业、线上考试、加入错题本、错题训练）。



学科网长期征集全国最新统考试卷、名校试卷、原创题，赢取丰厚稿酬，欢迎合作。
钱老师 QQ : 537008204 曹老师 QQ : 713000635