

# 2023 年河南省中考历史真题

注意事项：

1. 本试卷共 6 页，分为选择题和非选择题，满分 50 分，考试时间 50 分钟。
2. 开卷考试，可查阅参考资料，但应独立答题，禁止交流资料。
3. 本试卷上不要答题，请按答题卡上注意事项的要求直接把答案填写在答题卡上。答在试卷上的答案无效。

## 选择题（共 20 小题，20 分）

下列每小题列出的四个选项中，只有一个选项是最符合题目要求的。请将正确选项的字母代号涂写在答题卡相应位置上。





1. 有学者说，在我国史前时期的各个文化区当中，中原有“居天下之中”的地理优势，扮演了中华文明大熔炉的角色。该学者肯定了中原文化区在中华文明形成过程中（ ）
- A. 产生时间最早  
B. 居于核心地位  
C. 发展相对独立  
D. 体系最为完备

【答案】B

【解析】

【详解】依据题干“中原有‘居天下之中’的地理优势，扮演了中华文明大熔炉的角色”的信息可知，题干材料表明中原文化地理位置优越，在中华文明中占据重要位置，起到了大熔炉的角色，居于核心地位，B 项正确；题干材料没有体现产生时间最早的问题，A 项不符合题意，排除 A 项；题干材料没有体现发展相对独立的问题，C 项不符合题意，排除 C 项；题干材料没有体现体系最为完备的问题，D 项不符合题意，排除 D 项。故选 B 项。

2. 殷墟出土了大量的贝，商朝时期的一些文字都含“贝”字（如下表）。据此判断，贝在商朝应该是（ ）

甲骨文				
对应汉字	贝	买	贯	宝

- A. 货币                      B. 礼器                      C. 食器                      D. 酒具

【答案】 A

【解析】

【详解】 根据题干可知，“买”“贯”“宝”中都含有“贝”字，四字均与货物交易或流通相关。结合所学知识可知，我国最早的货币是贝币，起源于商朝，A项正确；商朝礼器以青铜器和玉器为主，排除B项；“贝”不适合用来作食器，排除C项；“贝”不是酒具，排除D项。故选A项。

3. 考古发现的战国中后期的铁器，出土范围遍及秦、齐、燕、楚等七国境内，器类包括农具、手工业工具、兵器和杂器。这表明当时铁器（ ）

- A. 象征贵族身份                      B. 制作工艺精良  
C. 实行官营专卖                      D. 得到广泛使用

【答案】 D

【解析】

【详解】 根据题干材料“考古发现 战国中后期的铁器，……器类包括农具、手工业工具、兵器和杂器”可知，当时的铁器得到广泛使用，D项正确；材料不能体现铁器是象征贵族身份，排除A项；材料未涉及制作工艺，排除B项；材料未体现铁器官营专卖，排除C项。故选D项。

4. 汉武帝分别设置《诗》《书》《易》《礼》《春秋》博士，让他们专心传经讲学，后来，博士又演变为国家学术教育机关的学官。这有利于（ ）

- A. 儒学地位提高                      B. 科举制度完善  
C. 人民负担减轻                      D. 经济管理强化

【答案】 A

【解析】

【详解】 依据题干“设置《诗》《书》《易》《礼》《春秋》博士”的信息，结合所学知识可知，公元前135年，汉武帝在长安设立太学，置“五经”博士，专门讲授儒家经典《诗》、《书》、《易》、《礼》和《春秋》，推崇儒学，形成儒学独尊的局面，这些举措适应了大一统王朝的需要，A项正确；题干内容与科举制度完善无关，排除B项；题干内容与人民负担减轻无关，排除C项；题干内容与经济管理强化无关，排除D项。故选A项。

5. 唐三彩是盛唐气象的一个缩影，它延续了秦汉以来彩塑的写实风格，又创造性地运用了低温铅釉的绚丽、斑斓色彩和略带夸张的手法。这折射出唐朝注重（ ）

- A. 传承与创新                      B. 交流与传播  
C. 改进与推广                      D. 开放与互鉴

【答案】A

【解析】

【详解】根据题干材料“它延续了秦汉以来彩塑的写实风格”可得出唐朝注重传承；根据题干材料“创造性地运用了低温铅釉的绚丽、斑斓色彩和略带夸张的手法”可得出唐朝注重创新。A项正确；材料未涉及唐朝的交流与传播，排除B项；材料既体现了传承也体现了创新，没有体现推广，排除C项；材料未体现开放与互鉴，排除D项。故选A项。

6. 宋朝在泉州、广州等地都设有“蕃市”“蕃坊”“蕃学”。这是由于当时（ ）

- A. 市民阶层壮大
- B. 海外贸易兴盛
- C. 民族交往频繁
- D. 文化教育发展

【答案】B

【解析】

【详解】宋朝的海外贸易超过前代，成为当时世界上从事海外贸易的重要国家。广州、泉州是闻名世界的大商港。泉州、广州等地都设有“蕃市”专卖外国商品，“蕃坊”供外国人居住，“蕃学”供外商子女接受教育，B项正确；题干没有涉及市民阶层壮大，排除A项；题干反映的是海外贸易兴盛，不是民族交往频繁，排除C项；题干和文化教育发展无关，排除D项。故选B项。

7. 秦汉至唐主要依据自然界限来划分行政区划，而元代不惜打破自然地理界限，人为地造成区划边界处于犬牙交错的格局，使地方丧失扼险而守的地理条件。这种“打破”是为了（ ）

- A. 保护自然环境
- B. 方便信息传递
- C. 加强中央集权
- D. 开发江南地区

【答案】C

【解析】

【详解】根据题干材料“元代不惜打破自然地理界限，人为地造成区划边界处于犬牙交错的格局，使地方丧失扼险而守的地理条件”可知，描述的是元朝的行省制。结合所学知识可知，元朝建立后，忽必烈在汉族知识分子的帮助下，参照中原历代王朝的统治方式，逐步确立了君主专制的中央集权制度，为了加强中央集权制度，元朝设立了行省制，C项正确；行省制的设立不是为了保护自然环境，排除A项；方便信息传递与行省制无关，排除B项；行省制的设立不是为了开发江南地区，排除D项。故选C项。

8. 曹雪芹把诗赋、书法、戏文、对联、礼节、饮食、服装等元素以及各种风俗习惯，几乎全部安插在《红楼梦》里。这强调了《红楼梦》（ ）

- A. 语言精练生动
- B. 内容通俗易懂
- C. 线索清晰完整
- D. 汇聚传统文化

【答案】D

**【解析】**

**【详解】**根据题干“把诗赋、书法、戏文、对联、礼节、饮食、服装等元素以及各种风俗习惯，几乎全部安插在《红楼梦》里”可知，材料强调的是曹雪芹把各传统文化元素和风俗习惯安插在《红楼梦》里，因此强调了《红楼梦》汇聚传统文化，D项正确；题干未体现《红楼梦》语言精练生动，排除A项；《红楼梦》内容通俗易懂未涉及，排除B项；题干未涉及《红楼梦》线索清晰完整，排除C项。故选D项。

9. 据统计，1901年上海、武汉两地的华商纱厂纱锭占到全国的74.7%；1910年这一比例有所下降，但仍占全国的51.5%。这说明当时中国的纺织业（ ）

- A. 发展曲折                      B. 分布不平衡                      C. 技术落后                      D. 规模比较小

**【答案】** B

**【解析】**

**【详解】**由材料“1901年上海、武汉两地的华商纱厂纱锭占到全国的74.7%”“1910年这一比例有所下降，但仍占全国的51.5%。”可知，上海、武汉两地的华商纱厂纱锭占全国的比重达到一半以上，说明当时中国的纺织业分布不平衡，主要分布在比较大的城市，B项正确；题干没有体现中国的纺织业发展曲折，排除A项；题干没有涉及技术问题，排除C项；题干没有涉及纺织业的规模，排除D项。故选B项。

10. 20世纪初，先进的中国人认识到，仅仅靠移植西方政治制度难以挽救中国，要从根本上改造中国，还要有文化的觉醒和思想的启蒙。基于这一认识（ ）

- A. 张謇创办大生纱厂                      B. 梁启超发表《变法通议》  
C. 孙中山组建同盟会                      D. 陈独秀创办《青年杂志》

**【答案】** D

**【解析】**

**【详解】**依据所学知识可知，新生的中华民国一部分先进知识分子经过痛苦的反思认识到：仅有政治制度的革新不足以救中国，必须启发国民新的伦理道德意识，培养国民的独立人格，彻底荡涤封建旧文化的毒害，进行一场思想文化领域的革新运动，1915年，陈独秀在上海创办《青年杂志》，并在创刊号上发表《敬告青年》一文，正式吹响了新文化运动的号角，D项正确；张謇创办大生纱厂属于实业救国，不属于文化方面，排除A项；《变法通议》是维新派领袖梁启超在戊戌变法前夕撰写的一组政论文章，维新派主张变法，排除B项；孙中山组建同盟会属于制度方面的学习，排除C项。故选D项。

11. “纵横十几省，跨越滔滔急流，征服皑皑雪山，穿越茫茫草地，突破层层封锁，粉碎上百万敌军的围追堵截，胜利前进至陕甘宁地区。”材料描述的是（ ）

- A. 国民革命军北伐                      B. 秋收起义部队到达井冈山  
C. 中国工农红军长征                      D. 刘邓大军千里跃进大别山

**【答案】** C

**【解析】**

**【详解】**根据题干“纵横十几省，跨越滔滔急流，征服皑皑雪山，穿越茫茫草地，突破层层封锁，粉碎上百万敌军的围追堵截，胜利前进至陕甘宁地区”可知，材料描述的是中国工农红军长征。结合所学知识可知，长征经历了爬雪山、过草地，四渡赤水、巧渡金沙江、强渡大渡河、飞夺泸定桥，突破敌人的层层封锁，经历艰难险阻到达陕北吴起镇，最终到达甘肃会宁。C项正确；1926年，广州国民政府决定北伐，以推翻吴佩孚、孙传芳、张作霖等北洋军阀的统治，统一全国，排除A项；1927年10月，毛泽东率领湘赣边秋收起义的工农革命军到达罗霄山脉中段的井冈山地区，开展游击战争，进行土地革命，恢复和建立共产党的组织，建立了第一个农村革命根据地，排除B项；1947年夏，刘伯承、邓小平率领晋冀鲁豫野战军主力，在山东西南强渡黄河天险，千里跃进大别山，直接威胁到南京、武汉，揭开了人民解放军战略进攻的序幕，排除D项。故选C项。

12. 据统计，仅1938年5-8月，经八路军西安办事处赴延安的知识青年就达2288人，到1938年底，赴延安的知识分子达10万多人。“到延安去”成为一大批有志青年和知识分子的共同选择。这是因为（ ）

- A. 西安事变的和平解决扭转了时局
- B. 中国共产党成为抗战胜利的希望
- C. 百团大战打击了日军的侵略气焰
- D. 中共七大为抗战胜利准备了条件

**【答案】 B**

**【解析】**

**【详解】**依据题干时间是1938年，结合所学知识可知，抗日战争时期，中国共产党从民族大义出发，与国民党合作建立抗日民族统一战线，带领中国人民积极抗击日本侵略者，在全民族抗战中发挥了中流砥柱作用，中共中央所在地延安成为抗战期间中共中央敌后战场的战略总后方，中国共产党的威望空前提高，中国共产党成为抗战胜利的希望，一大批有志青年和知识分子都积极到延安去学习和工作，支持共产党，B项正确；西安事变的时间是1936年，与题干时间不符合，排除A项；1940年，百团大战开始，与题干时间不符合，排除C项；1945年，中共七大召开，与题干时间不符合，排除D项。故选B项。

13. “打得一拳开，免得百拳来”。它使中国人民彻底扫除了近代以来任人宰割、仰人鼻息的百年耻辱，奠定了新中国在亚洲和国际事务中的重要地位。这段话评论的是（ ）

- A. 开国大典
- B. 土地改革
- C. 抗美援朝
- D. 三大改造

**【答案】 C**

**【解析】**

**【详解】**根据材料“打得一拳开，免得百拳来”“彻底扫除了近代以来任人宰割、仰人鼻息的百年耻辱，奠定了新中国在亚洲和国际事务中的重要地位。”和所学可知，抗美援朝的胜利，打击了帝国主义的侵略，提高了中国的国际地位，为我国赢得了一个相对稳定的和平环境，C项正确；开国大典标志着新中国的成立，开辟了中国历史的新纪元，排除A项；土地改革废除了封建剥削的土地制度，为国家工业化建设奠定了基

础，排除 B 项；三大改造的完成，标志着我国进入社会主义初级阶段，排除 D 项。故选 C 项。

14. 到 2017 年底，我国治理沙化土地 1.26 亿亩，实现了由“沙进人退”到“人进沙退”的历史性转变。这主要体现了我国（ ）

- A. 经济体制改革不断深化
- B. 能源结构调整逐渐加快
- C. 科教兴国战略稳步推进
- D. 生态文明建设成效显著

【答案】 D

【解析】

【详解】由材料“我国治理沙化土地 1.26 亿亩，实现了由‘沙进人退’到‘人进沙退’的历史性转变。这主要体现了我国，生态文明建设成效显著。生态文明建设是中国特色社会主义事业的重要内容。党中央、国务院高度重视生态文明建设，先后出台了一系列重大决策部署，推动生态文明建设取得了重大进展和积极成效，D 项正确；题干没有涉及经济体制改革，排除 A 项；题干不能反映能源结构调整逐渐加快，排除 B 项；题干没有涉及科教兴国战略，排除 C 项。故选 D 项。

15. 下表内容是古代多个国家或地区表示 1 至 5 计数符号。这反映了（ ）

古印度	—	=	≡	+	h
美索不达米亚	𐎀	𐎁	𐎂	𐎃	𐎄
拉丁语系国家	I	II	III	IV	V

- A. 人类文化的多元
- B. 亚非文明的交往
- C. 书写系统的完善
- D. 阿拉伯人的贡献

【答案】 A

【解析】

【详解】观察古印度、美索不达米亚、拉丁语系国家的表示 1 至 5 的计数符号可知，这些符合在某种程度上相似，但又有所不同，体现了人类文化的多元性，A 项正确；题干没有体现文明的交往，排除 B 项；题干不能反映书写体系的完善，排除 C 项；题干没有涉及阿拉伯人的贡献，排除 D 项。故选 A 项。

16. 观察下图可知，这些城市的相似之处是（ ）



中世纪城市（部分）分布示意图

- A. 经济发达                      B. 文化繁荣                      C. 社会稳定                      D. 交通便利

【答案】D

【解析】

【详解】观察题干图示可知，中世纪城市都分布在主要的商路上，说明这些城市的相似之处是交通便利，D项正确；题干图示不能看出经济发达；题干图示不能看出文化繁荣，排除B项；题干图示不能看出社会稳定，排除C项。故选D项。

17. 这条定律既可适用于苍茫的宇宙，也可运用于最微小的物体，它的发现标志着经典物理学的创立。该定律的发现者是（ ）

- A. 牛顿                              B. 法拉第                              C. 达尔文                              D. 爱迪生

【答案】A

【解析】

【详解】根据所学知识可知，英国科学家牛顿是近代自然科学的奠基人之一。他的成就，万有引力定律。既可适用于苍茫的宇宙，也可运用于最微小的物体。1687年，牛顿的科学巨著《自然哲学的数学原理》出版，物理学成为一门独立的学科，A项正确；法拉第发现电磁感应现象，排除B项；达尔文提出进化论，排除C项；爱迪生发明灯泡等多项发明，是伟大的发明家，排除D项。故选A项。

18. 明治政府利用国家的资金，创办了一批官营的“模范工厂”，目的是把私人资本引向发展近代工业的道路。这表明明治政府在改革中（ ）

- A. 推行地税改革                              B. 提倡“文明开化”  
C. 注重示范引领                              D. 实行“废藩置县”

【答案】C

【解析】

【详解】题干材料“明治政府利用国家的资金，创办了一批官营的‘模范工厂’”描述的是日本明治维新中经济方面的措施，明治政府在改革中注重示范引领，C项正确；题干材料未涉及地税改革，排除A项；提倡“文

明开化”是社会生活方面的措施，排除 B 项；实行“废藩置县”是政治方面的措施，排除 D 项。故选 C 项。

19. 1972-1979 年，美苏共举行了五次首脑会晤，两国间的经贸关系也随之活跃起来，贸易额从 6.38 亿美元上升至 44.77 亿美元。这反映了（ ）

- A. 多极化趋势已逐步显现
- B. 国际合作改变世界格局
- C. 政治缓和带动经贸发展
- D. 冷战对峙局面不复存在

【答案】 C

【解析】

【详解】 根据题干材料“1972-1979 年，美苏共举行了五次首脑会晤”和所学知识可知，70 年代的美苏缓和，根据题干材料“两国间的经贸关系也随之活跃起来，贸易额从 6.38 亿美元上升至 44.77 亿美元”可得出两国经贸关系发展。所以材料反映了政治缓和带动经贸发展，C 项正确；多极化趋势出现在苏联解体后，排除 A 项；材料未体现世界格局的改变，排除 B 项；冷战结束的时间是 1991 年苏联解体，排除 D 项。故选 C 项。

20. 20 世纪 90 年代以来，电子邮件、即时通信工具、电子图书馆、在线支付等使人的活动超越了许多时空限制。这主要是基于（ ）

- A. 交通工具革新
- B. 互联网的发展
- C. 空间技术兴起
- D. 电子商务普及

【答案】 B

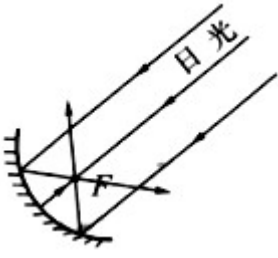
【解析】

【详解】 由材料“20 世纪 90 年代以来，电子邮件、即时通信工具、电子图书馆、在线支付等使人的活动超越了许多时空限制。”这主要是基于互联网的发展。20 世纪 90 年代以来，互联网在全球迅速普及，成为现代社会重要的基础设施，标志着人类开始进入“信息时代”。互联网渗透到政治、经济、文化、娱乐、人际交往等领域，对现代社会生活产生了前所未有的影响，现代社会也因互联网的存在而更加丰富多彩，B 项正确；题干和交通工具革新无关，排除 A 项；题干没有涉及空间技术，排除 C 项；题干和电子商务无关，排除 D 项。故选 B 项。

### 非选择题（共 5 小题，30 分）

21. 阅读下列材料，回答问题。

材料一



阳燧取火示意图

阳燧是中国古代取火用具。利用太阳光取火是运用光的折射和聚焦原理完成的（如左图），故人们称之为阳燧。《周礼》记载周代有专门职学用阳燧取火的组织，叫作“司烜（烜 huǐ：火）氏”。

——摘编自中国国家博物馆《文物夏商周史》

材料二 古埃及人已经知道在石头缝里打入木楔，然后灌上水，就可以利用木头的张力让巨石裂开。他们把大门设计成由4块巨石构成的三角形（见右图），使得重达500万吨的建筑也不能把开口的门压塌。

——摘编自吴军《全球科技通史》



大金字塔三角形入口

- (1) 材料一和材料二所述成就有哪些相似之处？
- (2) 请再举出一例中国古代相似的成就，并说明它的价值。

**【答案】** (1) 都利用了物理学的相关原理；都借助了自然的力量；都是古代人民智慧的结晶。

(2) 筒车，古代灌溉工具，促进了古代农业的发展。（符合题意的其他答案也可）

**【解析】**

**【小问1详解】**

根据材料一“利用太阳光取火是运用光的折射和聚焦原理完成的”，材料二“在石头缝里打入木楔，然后灌上水，就可以利用木头的张力让巨石裂开”可得出都利用了物理学的相关原理；都借助了自然的力量；都是古代人民智慧的结晶。

**【小问2详解】**

依据所学知识可知，筒车利用湍急的水流转动车轮，使装在车轮上的水筒，自动舀水，提上岸来进行灌溉，筒车促进了古代农业的发展。

22. 阅读下列材料，回答问题。

材料一 近代新式学堂（部分）课程开设情况表

学堂	开设课程
京师同文馆	数理启蒙、几何原本、微分积分、万国公法、练习译书等
福州船政学堂	英语、地理、代数、几何、航海天文学、船舶驾驶术等
天津电报学堂	电磁学、电测试、材料学、电报地理学、电报实习等

——摘编自章开沅等《中国近现代史》

材料二 京师同文馆翻译的西书以外交和史地政法类居多，其中有中国人看到的第一本国际公法。福州船政局在解聘了大批洋人后，大部分技术工作由船政学堂的毕业生担任。严复早年就读于福州船政学堂，后致力于翻译事业，甲午战争期间号召救亡图存。新式学堂建立的分年排课、按班级授课等制度，一直沿用至今。

——摘编自郑师渠《中国近代史》

(1) 据材料一并结合所学知识，概括这些学堂课程设置的特点。

(2) 据材料二，说明这些学堂产生的影响。

(3) 综上所述，你获取了关于教育发展的什么启示？

**【答案】** (1) 注重自然科学；兼顾理论与实践；课程比较丰富；以西方为参照。（答出其中任意三点即可，符合题意的其他答案也可）

(2) 培养了新式人才；传播了西方学说；有利于救亡图存；推动了教育变革。（答出其中任意三点即可，符合题意的其他答案也可）

(3) 教育是推动时代发展的重要力量。（其他言之有理的答案也可）

**【解析】**

**【小问1详解】**

依据材料一的表格内容，结合所学知识可知，洋务运动时期，创办了京师同文馆，开设课程涉及到数学，法律，翻译等方面，创办的福州船政学堂开设的课程涉及到航海天文学和实践操作，还有外语，数学等，由此可知，学堂课程设置的特点有注重自然科学；兼顾理论与实践；课程比较丰富；以西方为参照。

**【小问2详解】**

依据材料二“严复早年就读于福州船政学堂，后致力于翻译事业”的信息可知，这些学堂产生的影响是培养了新式人才；传播了西方学说；依据材料二“甲午战争期间号召救亡图存”的信息可知，这些学堂产生的影响是有利于救亡图存；依据材料二“新式学堂建立的分年排课、按班级授课等制度，一直沿用至今”的信息可知，这些学堂产生的影响是推动了教育变革。

【小问3详解】

本题属于开放型试题，学生通过对上述材料的理解，概括启示，观点正确，言之有理即可，例如教育是推动时代发展的重要力量。

23. 阅读下列材料，回答问题。

材料一 第六个五年计划（1981-1985）部分经济数据对比表

国内生产总值			全国居民消费水平年均增长率	
1980年	1985年	年均增长率	1953-1980年	1981-1985年
4588亿元	9099亿元	10.6%	2.6%	8.75%

——摘编自中共中央党史和文献研究院《中国共产党的一百年》

材料二 20世纪80年代，中国城乡社会呈现新的气象。不少人开始告别“铁饭碗”，纷纷“下海”；每年春节前后的务工人员返乡和入城高峰，成为当时中国社会人口流动的独特景观；喇叭裤、红裙子、文化衫、牛仔裤等风靡一时；社会上出现“读书热”和“外语热”，欣赏电影、电视剧、流行歌曲日益成为大众热衷的文化生活方式。

——摘编自《中华人民共和国史》

- (1) 据材料一，概括第六个五年计划时期中国经济发展成就。
- (2) 据材料二，指出中国城乡社会呈现了哪些方面的新气象。
- (3) 从材料一与材料二内容的联系中，你能得到怎样的认识？

【答案】 (1) 国内生产总值大幅增长；居民消费水平迅速提高。（符合题意的其他答案也可）

(2) 就业；人口流动；服饰；文化生活。（符合题意的其他答案也可）

(3) 经济改变生活。（其他言之有理的答案也可）

【解析】

小问1详解】

根据材料一“第六个五年计划（1981-1985）部分经济数据对比表”可知，1980—1985年，国内年均增长率大幅上升；1981—1985年全国居民消费水平年均增长率大幅上升，居民消费水平迅速提高。

【小问2详解】

材料二“不少人开始告别‘铁饭碗’，纷纷‘下海’”反映的是就业方面；“每年春节前后的务工人员返乡和入城高峰”反映的是人口流动；“喇叭裤、红裙子、文化衫、牛仔裤等风靡一时”反映的是服饰方面；“喇叭裤、红裙子、文化衫、牛仔裤等风靡一时；社会上出现‘读书热’和‘外语热’，欣赏电影、电视剧、流行歌曲日益成为

大众热衷的文化生活方式”反映的是文化生活。

【小问3详解】

材料一反映的是20世纪80年代经济的发展，材料二反映的是20世纪80年代中国城乡社会呈现新的气象。两则材料体现了经济改变生活。

24. 阅读下列材料，回答问题。

材料一 新航路开辟后，欧洲人把欧亚大陆的马、鸡等家畜家禽，小麦、燕麦等农作物，橄榄和葡萄等水果引入美洲。这种交流也以相反的方向进行：美洲向欧亚大陆输出本地农作物，如玉米、马铃薯等。

——摘编自王斯德《世界通史》

材料二 马引入美洲后，犁耕开始取代过去的锄耕；原产于非洲东北部的咖啡成为北美日常生活的重要部分，并很快传播开来。玉米进入到亚洲，推动了对边远地区的拓荒；美洲的作物比较容易生长，在一定程度上克服了欧、亚、非的农业歉收问题，使很多地区的人口得到快速增长。

——摘编自帕特里克·曼宁《世界历史上的移民》

(1) 请绘制示意图，呈现材料一中的“交流”。

(2) 据材料一和材料二，说明“交流”带来的影响。

【答案】 (1) 示意图需呈现交流的区域、方向、内容等。符合题意即可)

(2) 提高农业生产效率；丰富人们的饮食；增加农作物的产量；促进人口增长。

(答出其中任意三点即可，符合题意的其他答案也可)

【解析】

【小问1详解】

由材料“新航路开辟后，欧洲人把欧亚大陆的马、鸡等家畜家禽，小麦、燕麦等农作物，橄榄和葡萄等水果引入美洲。”可知，示意图要体现出新航路开辟推动了欧洲和美洲之间的物种交流，方向是欧洲到美洲；由题干“这种交流也以相反的方向进行：美洲向欧亚大陆输出本地农作物，如玉米、马铃薯等。”可知，示意图要体现出美洲和欧亚大陆之间的物种交流，方向是美洲向欧亚大陆。

【小问2详解】

影响：由材料“马引入美洲后，犁耕开始取代过去的锄耕”可知，“交流”提高农业生产效率；由材料“原产于非洲东北部的咖啡成为北美日常生活的重要部分，并很快传播开来。玉米进入到亚洲，推动了对边远地区的拓荒”可知，“交流”丰富人们的饮食；由材料“美洲的作物比较容易生长，在一定程度上克服了欧、亚、非的农业歉收问题，使很多地区的人口得到快速增长。”可知，“交流”增加农作物的产量；促进人口增长。

25. 总结历史的经验或教训，对现实以启示或借鉴是历史学的重要功能。请阅读下面材料，从中提炼一个观点，结合相关史实，写一篇80~120字的小短文。（要求：题目自拟，观点明确；史实正确；条理清晰，

语句通顺，表述完整)

### 材料

▷19世纪，人类开始人工合成对自己有用的化学产品；

▷20世纪，合成的化学制品如杀虫剂、肥料、人工橡胶和合成纺织品等被广泛使用；

▷20世纪80年代，人类认识到主要用于空调和冰箱的氯氟烃（CFCs）正在散发到大气中，破坏着臭氧层；

▷1987年，联合国支持的一项协定敦促全球逐渐停止使用CFCs，之后，人类找到了它们的替代物，全球CFCs的生产几乎下降到零；

▷1992年，在巴西里约热内卢召开的环境与发展问题全球首脑会议，发表了代表人类共识的世界宣言。

——摘编自大卫·克里斯蒂安等《大历史》

**【答案】**发展经济的同时要注意环保

随着全球范围内工业化的推进，环境恶化成为严重的问题。工业革命期间随着蒸汽机的广泛使用，煤炭成为主要的能源被大量的开采和使用。第二次工业革命期间，内燃机的发明推动了石油开采业的发展，加速了石油化工业的产生。人类使用煤炭、石油等矿物燃料，排放了大量的二氧化碳，加剧了温室效应，导致全球气候变暖，冰川融化、海平面上升。大气中的臭氧层遭到破坏，直接威胁到人类的生产。面对这样的问题，需要全世界共同努力，认真应对。也提醒人们，在发展经济的同时要注意保护环境。

**【解析】**

**【详解】**根据题干材料“20世纪，合成的化学制品如杀虫剂、肥料、人工橡胶和合成纺织品等被广泛使用”“20世纪80年代，人类认识到主要用于空调和冰箱的氯氟烃（CFCs）正在散发到大气中，破坏着臭氧层”“1987年，联合国支持的一项协定敦促全球逐渐停止使用CFCs，之后，人类找到了它们的替代物，全球CFCs的生产几乎下降到零”“1992年，在巴西里约热内卢召开的环境与发展问题全球首脑会议，发表了代表人类共识的世界宣言。”可以提炼观点：发展经济的同时要注意环保。论述如下：随着全球范围内工业化的推进，环境恶化成为严重的问题。工业革命期间随着蒸汽机的广泛使用，煤炭成为主要的能源被大量的开采和使用。第二次工业革命期间，内燃机的发明推动了石油开采业的发展，加速了石油化工业的产生。人类使用煤炭、石油等矿物燃料，排放了大量的二氧化碳，加剧了温室效应，导致全球气候变暖，冰川融化、海平面上升。大气中的臭氧层遭到破坏，直接威胁到人类的生产。面对这样的问题，需要全世界共同努力，认真应对，也提醒人们，在发展经济的同时要注意保护环境。