

## 2019年盐城市中考历史试题

一、单项选择题，每小题只有一个选项符合题意，本题共 20 小题，每小题 1 分，计 20 分。

1、“盐城……秦代属东海郡，汉武帝元狩四年建盐渑县，这是盐城置县的开端，”由上述材料可知，古代盐城地区曾实行过（ ）

- A.禅让制      B.分封制      C.郡县制      D.行省制。

2、“公元 26 年，即汉光武帝称帝的第二年，下诏书，令民间释放奴婢”，材料中的“汉光武帝”建立的朝代是（ ）

- A.西周      B.东周      C.西汉      D.东汉

3、南宋时，临安城周围有一批具有卫星城的功能的市镇，如右图，这些市镇各具特色，如湖州是著名的米市，其他还有水市、菜市、柴市等，由此可知当时

- A.文化发达      B.手工业兴旺  
C.商业繁荣      D.海外贸易发达



4、历代中央王朝都十分重视对西藏地区的管理，下列属于对该地区管理的措施有（ ）

- ①设宣政院②设伊犁将军③设行省④设驻藏大臣  
A. ②③      B. ②④      C. ①③      D. ①④。

5、外国船（包括兵船），可以往来于沿海各通商口岸，也可以在长江一带自由通航，上述现象，最早出现于（ ）

- A.《南京条约》签订后      B.《马关条约》签订后  
C.《辛丑条约》签订后      D.《九国公约》签订后

6、“李鸿章坐知有洋务，而不知有国务……”，基于这一认识梁启超主张学习西方的（ ）

- A.政治制度      B.科学技术      C.思想文化      D.生活方式。

7、“日本在万国和会上要求吞并青岛，管理山东一切权利，就要成功了，我们的外交失败了！我们学界今天排队游行……中国存亡，就在此举！”，材料中的“此举”指的是（ ）

- A.五四运动      B.新文化运动      C.北伐战争      D.西安事变。

8.美籍华人学者黄仁宇认为，淞沪之攻防战损失过重，非中国可能负担，但从抗日局势来看，这场会战（ ）

- A. 使抗日战争进入相持阶段，  
B. 打破了日本三个月灭亡中国的迷梦。  
C. 是中国军民与日军的第一次正面交锋  
D. 是抗战以来中国正面战场取得的最大的一次胜仗。

9.4 月 23 日的那一晚，整个南京城的人们恐怕都难以入眠，等待着这个城市的又一次历史交替，国民党的军队和警察都撤了……，与上述情景相关的战役是（ ）

- A.辽沈战役      B.淮海战役      C.平津战役      D.渡江战役。

10. 第二次世界大战即将结束之际，《义勇军进行曲》赫然名列在盟军胜利凯旋的曲目表中，其作者是

( )

- A.田汉
- B.冼星海
- C.聂耳
- D.徐悲鸿。

11.右图是1972年3月6日,美国《时代》周刊的封面,标题是“尼克松的长征”,下列选项最能体现当年中美两国关系的是( )

- A.中美冷战
- B.中美贸易摩擦不断
- C.中美正式建交
- D.中美关系开始走向正常化。



12.庄园可生产本身所需要的一切产品,他是一个农业和手工业相结合的单位,很少需要对外交换,由此可知西欧庄园( )

- A. 是独立的政治单位
- B. 农业,手工业和商业发达。 C.
- 其产品主要是用来对外贸易的
- D.是独立的自给自足的经济单位。

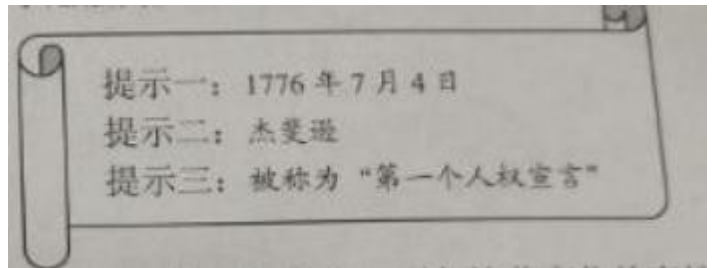
13.当时的探险家、航海家、地理学家、商人的所有做所为都是为了人,而不是为了神,都是为了实现人世而不是为了来世的天堂,以下最能充分体现材料中精神的是( )

- A.《最后的晚餐》 B.
- 《共产党宣言》 C.
- 《汉姆拉比法典》 D.
- 《查士丁尼法典》

14.根据右图内容判断,可以确定的文献是

( )

- A.《权利法案》
- B.《独立宣言》
- C.《人权宣言》
- D.《拿破仑法典》



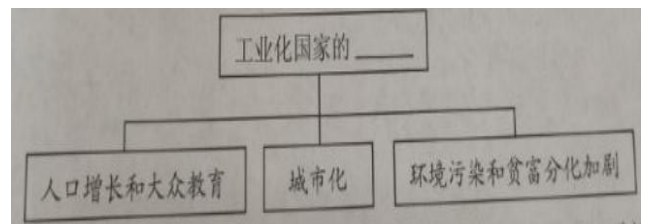
15.下表是1878年、1893年日本不同经济类型所占比重的变化情况,引起这些变化的直接原因是( )

年份 \ 经济类型	资本主义经济	地主经济	个体经济
1878	约20%	约18%	约60%
1893	约35%-40%	约17%	约45%

- A. 废藩置县,加强中央集权
- B. 殖产兴业,大力发展近代经济。
- C. 实行征兵制,建立新式军队
- D. 提倡文明开化,向西方学习

16.建构示意图,是历史学习的重要方法,下图横线处最恰当的内容,应该是( )

- A.社会进步
- B.社会矛盾
- C.社会变化
- D.政治制度



17.对于神学来说,这是一次致命的危机,他不仅仅否定了上帝,造人造万物,而且彻底否定了神学

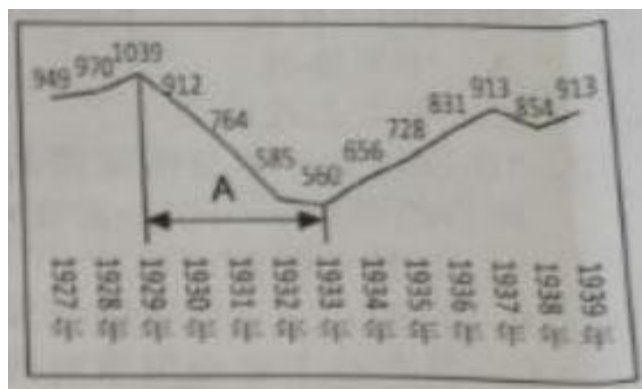
的神圣性，引发上述材料中神学致命危机的理论来自于

A.达尔文 B.牛顿 C.马克思 D.伏尔泰

18.1921 年列宁说，政治形势向我们表明，在许多经济问题上，必须退到国家资本主义上去，因此苏俄开始实施（ ）

A.暂时共产主义政策 B.新经济政策 C.两个五年计划 D.农业集体化

19.右图为 1927-1939 年美国国民生产总值变化图（单位：亿美元）其中影响 A 段国民生产总值变化的事件是（ ）



A.第二次工业革命  
B.经济大危机  
C.第二次世界大战  
D.罗斯福新政

20,戴高乐曾说，为使复兴的欧洲大陆，能有一

个符合我们时代条件的平衡，我们觉得应该在欧洲实现某些集团，下列组织中最能体现这一说法的是（ ）

A.联合国 B.北约 C.世界贸易组织 D.欧盟

二、非选择题：本题共三小题，每小题 10 分，计 30 分

21. 中华文明源远流长，成就辉煌，对人类历史进步做出了重大的贡献，阅读材料回答问题。

材料一 统一是秦汉时代的社会主题，思想学术的统一，也势在必行，以董仲舒为代表的儒家学者，抓住这一历史机遇，不断改造儒术，使儒学更具实用性，这促使统治集团向儒家倾斜，选择以尊儒来统一思想。——滕福海《董仲舒与罢黜百家》

材料二 ……朝鲜、日本用简和帛，印度用白树皮和棕榈叶，埃及用纸草的内皮压成“纸草纸”，欧洲则用羊皮，这些书写材料，有的笨重，有的脆弱，有的昂贵，都不适于大量使用。——部编版《中国历史七年级上册教师教学用书》

材料三 天宝末，扬州僧鉴真，始往倭国，大演释教……——[唐]李肇《唐国史补》卷上

材料四 激发人们创新创造活力，最直接的方法莫过于走入不同文明，发现别人的优长，启发自己的思维。——2019 年 5 月 15 日，习近平在亚洲文明对话大会开幕式上的主旨演讲

(1) 据材料一，结合所学知识指出“统治集团选择以尊儒来统一思想”具体措施，该措施有何深远影响（1 分）

(2) 据材料二分析，“这些书写材料都不适于大量使用”的原因。（1 分）结合所学知识写出改变这种状况的古代技术及其影响。（3 分）

(3) 材料三中的反应的历史事件是什么？（1 分）该事件传播了哪一宗教文化？（1 分），请举一例印证唐与天竺的友好往来。（1 分）

(4) 结合材料四，说说如何才能使中华文明焕发新的生命力？（1 分）

22. 宣传画是反映时代特征的一种形式，请欣赏下列宣传画，回答问题。



宣传画一 斗地主分田地大会 宣传画二 农业合作化生产步步高



宣传画三 猪羊肥大晒黄牛 宣传画四，人民公社天天向上



宣传画五 包干到户庆丰收

(1) 宣传画一中的“大会”的出现与建国后什么历史事件有关？（1分）结合所学知识，从国家发展方面概括这一事件的历史意义？（2分）

(2) 宣传画二中的历史事件完成后，我国农村生产资料所有制形式发生了怎样的变化？（1分）

(3) 宣传画三、四分别反映了什么历史事件？（2分）产生了怎样的严重后果？（1分）

(4) 宣传画五中的场景，得益于什么制度的实施？（1分）

(5) 综合上述材料，你认为农村政策的调整应遵循哪些原则？（2分）

23. 国家间关系错综复杂，影响着世界和平与发展。阅读材料回答问题。

材料一 一战期间，英国失去了 1/4 的对外投资，法国失去了 1/3 的对外投资，德国失去了全部对外投资，英国丧失了世界金融中心的地位，与此形成鲜明对比的是，美国在战后成为世界上最大的债权国和最大的资本输出国。日本利用战争带来的天赐良机，经济获得了极大的发展，几乎独占了中国东北市场……

——张建华《世界现代史（1900-2000）》

材料二 当二战的序幕刚刚揭开，世界反法西斯力量，显然占有绝对的优势，但是分成英法、美国、苏联和世界各国人民几股力量，没有形成拳头。德意日法西斯侵略扩张势力虽处于劣势，却狼狈为奸，先后在东非、东亚和中欧燃起战火。

——摘编自《北京师范大学学报》

材料三 美国应该尽力协助世界恢复至经济健全的常态，没有它，也就没有政治的安定，没有牢固的和平，我们的任务是唤起合理经济的再生，促使政治社会的结构容纳自由制度的存在。

——马歇尔，1947 年 6 月在哈佛大学的演讲

材料四 2015 年 7 月 20 日，联合国安理会一致通过伊朗核协议。

2018 年 5 月 8 日，美国总统特朗普在白宫宣布，美国退出伊核协议。

2019 年 5 月 9 日，伊朗宣布，终止履行伊核协议部分条款，以回击美国退出伊核协议和重启对伊制裁。

- (1) 据材料一概括一战的影响。（2 分）战后美日之间为争夺在中国的势力范围召开了什么会议？（1 分）
  
- (2) 据材料二指出二战初期反法西斯力量没能阻止法西斯侵略的原因。（1 分）之后哪一组织的建立改变了这种状况。（1 分）
  
- (3) 据材料三分析，美国政府“唤起合理经济再生”的措施及目的（2 分）结合所学知识分析，马歇尔演讲的背景。（1 分）
  
- (4) 据材料四分析美国退出伊核协议的实质？（1 分）结合前三则材料，谈一谈你对国家间关系的认识，（1 分）

## 参考答案

### 一、选择题

题号	1	2	3	4	5	6	7	8	9	10
答案	C	D	C	D	B	A	A	B	D	C
题号	11	12	13	14	15	16	17	18	19	20
答案	D	D	A	B	B	C	A	B	B	D

### 二、非选择题：

21. (1) 措施：“罢黜百家，独尊儒术”。影响：使儒家思想成为历代封建王朝的统治思想。(2) 原因：笨重、脆弱、昂贵，不方便。技术：造纸术。影响：便利了典籍的流传，促进了文化的传播与发展。(3) 鉴真东渡；佛教；玄奘西行。(4) 文明互相交流，取长补短。

22. (1) 土地改革。意义：解放了农村生产力，使农业生产获得迅速恢复和发展，为国家的工业化建设准备了条件。(2) 由私有制转变成公有制。(3) “大跃进”和人民公社化运动。后果：导致国民经济比例失调，造成 1959 年到 1961 年我国国民经济发生严重困难。(4) 家庭联产承包责任制。(5) 经济建设必须立足于本国国情，从实际出发，实事求是；必须遵循经济发展的客观规律，不能急于求成；生产关系一定要适应生产力发展水平。

23. (1) 影响：削弱欧洲国家的实力；美国大发战争财；日本经济获得了极大发展。会议：华盛顿会议。(2) 原因：反法西斯力量各自为战。组织：世界反法西斯联盟。(3) 措施：推行马歇尔计划。目的：控制欧洲，遏制苏联。背景：美国出台杜鲁门主义，美苏冷战开始。(4) 实质：为了保证美国的利益。认识：国家之间利益至上。

# 积分超值换

活动时间：2019年4月23日-6月30日

活动对象：中小学一线教师以及教育工作者



扫一扫 换礼啦

积 分 兑 换 更 超 值



# 会员升级服务第一拨 · 清北季



神马，有清华北大学霸方法论课；还有清华学霸向所有的父母亲述自己求学之路；

衡水名校试卷悄悄的上线了；

扫qq领取官网不首发课程，很多人我没告诉他啊！

会员qq专享等你来撩.....