


2020年贵州省黔南州中考历史试题

一、选择题

1.河姆渡人和半坡居民遗址都在大河流域，因

- A. 适宜航行、交通便利
- B. 河流湍急、地势险要，战略地位重要
- C. 环境优美、风景秀丽
- D. 水源丰富、土地肥沃，适宜农业生产

2.公元前 221 年，秦国完成了统一大业。秦统一以后，在全国统一使用 标准货币是



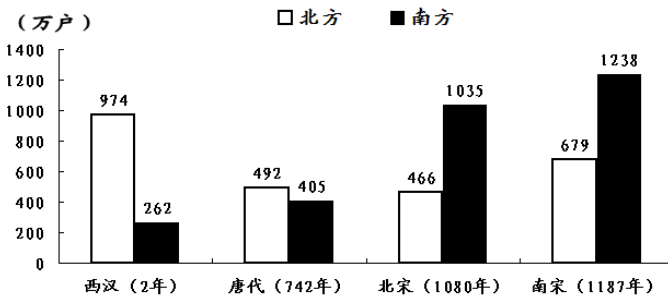
3.三国时代，群雄并起，涌现出许多风云人物。以下历史人物与历史事迹对应正确的是

- A. 曹操——建立魏国
- B. 孙权——派卫温到夷洲
- C. 诸葛亮——发明翻车
- D. 司马懿——灭吴统一全国

4.公元 605 年起，隋朝皇帝征发了几百万民工，开凿大运河。下列关于大运河的描述，正确的是

- A. 运河中心在长安
- B. 运河北抵余杭，南至涿郡
- C. 是隋文帝的政绩
- D. 起着贯通南北交通的作用

5.如图呈现了西汉至南宋北方和南方人口户数的变化情况。这说明



- A. 北方财富增长
- B. 中央集权加强
- C. 经济重心南移
- D. 城市生活繁荣

6.清朝时期，文人大多埋头于古籍，不敢过问社会现实，考据之风大盛，形成为考据而考据的现象。这反

映了清朝

- A. 文化专制加强
- B. 闭关锁国政策实行
- C. 科举制的创立
- D. 儒家学说地位提高

7.2019年11月，流失海外近160年的圆明园“马首”回归祖国。导致其流失的历史事件是

- A. 鸦片战争
- B. 第二次鸦片战争
- C. 甲午中日战争
- D. 八国联军侵华战争

8.电视节目《百战经典·伟大的会议》对下图这样解说：“一座城市，因为一次重要会议与红色结缘；一座小楼，记录着中国革命的伟大转折；一次会议，从此改变了中国革命的历史进程”。解说词中的会议是指

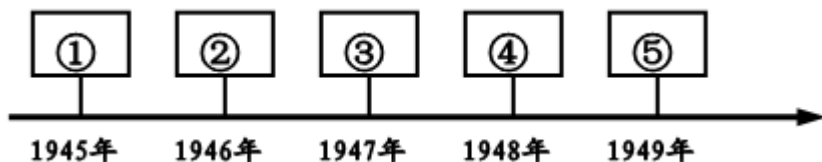


- A. 中共二大
- B. 八七会议
- C. 遵义会议
- D. 中共七大

9.电视剧《亮剑》中的八路军某部指挥员李云龙有句台词：“我们要主动‘关照’日本鬼子，让它尝尝被八路军打的滋味。”台词所指的战役是

- A. 淞沪会战
- B. 台儿庄战役
- C. 武汉会战
- D. 百团大战

10.下列选项与年代尺①处相对应 是



- A. 重庆谈判
- B. 内战爆发
- C. 挺进大别山
- D. 南京解放

11.1949年10月1日，毛泽东在北京天安门城楼上向全世界庄严宣告：“中华人民共和国中央人民政府今天成立了！”这标志着



- A. 彻底摧毁我国两千年的封建土地制度
- B. 中国开始进入了社会主义的初级阶段

C. 新中国真正成为了独立的自主的国家

D. 中国进入社会主义现代化建设新时期

12. 1954年9月，李某作为一名人民代表，到北京参加第一届全国人民代表大会。他亲历的活动应是

A. 确定《义勇军进行曲》为代国歌

B. 编制第一个五年计划

C. 审议《中华人民共和国宪法》

D. 决定人民公社化运动

13. 中共十一届三中全会后，中国迈出了对外开放的步伐。1980年中央决定兴办经济特区。下列成为首批经济特区的是

A. 海南岛

B. 深圳

C. 福州

D. 上海

14. 如下图反映的是一个文明古国存在的一种社会等级制度。这个文明古国是



A. 埃及

B. 巴比伦

C. 印度

D. 希腊

15. 德国的一位法学家说：“罗马曾经三次征服世界：第一次以武力，第二次以宗教，第三次以法律。”材料中的宗教指的是

A. 道教

B. 基督教

C. 佛教

D. 伊斯兰教

16. 有人认为英国“革命前是国王的议会，革命后是议会的国王”，这表明英国资产阶级革命后确立了

A. 君主专制

B. 君主立宪制

C. 总统制

D. 民主共和制

17. 日本明治维新后，在社会上出现了兴建洋房洋楼的热潮，这源于明治维新

A. 加强中央集权，废藩置县

B. 实行征兵制，建立新式军队

C. 发展近代工业，改革地税

D. 提倡文明开化，向西方学习

18. 下面图一和图二分别宣传 20 世纪 30 年代的苏联、美国实施的经济措施，这两项措施的实施



图一—五年计划，四年完成 图二积极劳动，以工代赈

A. 都体现了国家对经济的干预

B. 都暴露了发展重工业的弊端

C. 说明了两国的经济环境相同

D. 都迅速推进本国工业化完成

19. 1941年，罗斯福曾说：“你可以把它（战争）比作一场英式足球赛，我们就好像是预备队，闲坐在旁

的长凳上瞧人家的，俄国（苏联）和中国形成先上场的第一队……在球赛进行到我们的先锋队员快要疲乏的时候，我们就应该参加进去，做最后一击，以决定全局的胜利。”导致美国“参加进去”的事件是

- A. 卢沟桥事变
- B. 日军突然袭击珍珠港
- C. 诺曼底登陆
- D. 《联合国家宣言》签署

20.20世纪以来，世界政治格局发生了多次演变，按其形成的先后顺序排列正确的一组是

- A. 凡尔赛—华盛顿体系→两极格局→多极化趋势
- B. 多极化趋势→凡尔赛—华盛顿体系→两极格局
- C. 两极格局→凡尔赛—华盛顿体系→多极化趋势
- D. 两极格局→多极化趋势→凡尔赛—华盛顿体系

二、列举题

21.根据下列提示，写出相对应的历史人物。

- (1) 公元前1600年，建立商朝的国王是_____。
- (2) 1279年，元朝完成全国统一时在位的皇帝是_____。
- (3) 19世纪中期出版的《物种起源》，其作者是_____。
- (4) 15世纪末，“发现”美洲的航海家是_____。

22.根据下列提示，写出相对应的史实。

- (1) 标志着中国共产党诞生的会议是_____。
- (2) 打响了武装反抗国民党反动统治的第一枪是_____。
- (3) 中共十九大确立的中国共产党的指导思想是_____。
- (4) 1960年，非洲17个国家独立。这年被称为_____。

三、解析与探究题

23.中国历史源远流长，文化辉煌灿烂。完成下列问题。

- (1) 春秋战国时期，学术思想非常活跃，出现了百家争鸣的景象。列举当时两位思想家的名字。
- (2) 唐朝是中国历史上诗歌创作的黄金时期。简述唐诗“黄金时期”的具体表现。
- (3) 经过27年的努力，李时珍编写出规模空前的药物学著作《本草纲目》。请谈谈《本草纲目》的历史地位与现实价值。

24.近代以来，先进 中国人为挽救民族危亡，实现民族独立和国家富强，前赴后继地进行了艰辛的探索。

阅读下列材料，回答问题。

材料一



图一洋务运动 图二谭嗣同殉难 图三辛亥革命 图四《新青年》杂志

材料二 李鸿章认为：“中国文武制度，事事远出西人之上，独火器万不能及……中国欲自强，则莫如学习外国利器。欲学习外国利器，则莫如觅制器之器。师其法而不必尽用其人。”

材料三 中国同盟会的政治纲领：驱除鞑虏，恢复中华，创立民国，平均地权。

- (1) 材料一中图二和图四分别反映的是什么运动？
- (2) 根据材料二、三，分别概括洋务运动与辛亥革命的政治主张。
- (3) 综上，概述近代先进的中国人向西方学习经历了哪些变化？


25. 下列电影镜头中的瞬间，是新中国珍贵的历史记忆，根据镜头画面，回答下列问题。

画面一：1964年10月16日，中国西部的荒漠地带，升腾起“朵巨大的蘑菇云”。

画面二：1971年11月15日，联合国大会上，中国外交部长乔冠华激动的心情难以抑制，开怀大笑。

画面三：1978年12月22日，大会宣布，党和国家工作的重点转移到经济建设上来。

画面四：1997年7月1日0时整，在雄壮的中华人民共和国国歌声中，政权交接仪式正式开始。



(1) 请对应以上历史画面，完成下表序号处的内容。

画面	事件名称	历史作用与意义
画面一	①	打破了帝国主义的核垄断，加强了我国的国防力量，大大提高了我国的国际地位。
画面二	②	是中国外交的重大胜利，有利于中国在国际事务中发挥更大作用。
画面三	③	开启了改革开放和社会主义现代化的伟大征程。
画面四	香港回归祖国	④

(2) 综上所述，我们伟大的祖国能够取得这些成就，应具备哪些条件？

26. 阅读下列材料，回答问题。

材料一



图一



图二

材料二 珍妮纺纱机的发明者哈格里夫斯原是织工，后来做了木匠；骡机的发明者克伦普顿是个纺纱工兼织工……在 19 世纪，自然科学特别是热学、电磁学、化学等方面的新发展，开始与工业生产技术紧密地结合起来，在技术上取得一系列重大的突破……

——摘编自吴于廑、齐世荣主编《世界史·近代史编》

(1) 材料一是第一次工业革命和第二次工业革命时期发明的交通工具，请分别指出这两种交通工具的名称及它们各自运用的动力机名称。

(2) 根据材料二，分别概括第一次工业革命和第二次工业革命的特点。

(3) 在近期的新冠肺炎疫情中，为了防疫需要，学生们都曾在家接受远程教育，这得益于第三次科技革命中的哪项科学技术的应用？

(4) 以上科技发明对人类社会的进步有哪些积极作用？

试卷相关说明

本试卷的题干、答案和解析均由组卷网 (<http://zujian.xkw.com>) 专业教师团队编校出品。登录组卷网可对本试卷进行**单题组卷**、**细目表分析**、**布置作业**、**举一反三**等操作。

试卷地址：[在组卷网浏览本卷](#)

组卷网是学科网旗下的在线题库平台，覆盖小初高全学段全学科、超过 900 万精品解析试题。关注组卷网服务号，可使用移动教学助手功能（布置作业、线上考试、加入错题本、错题训练）。



学科网长期征集全国最新统考试卷、名校试卷、原创题，赢取丰厚稿酬，欢迎合作。
钱老师 QQ : 537008204 曹老师 QQ : 713000635